

تجميع اختبارات نهائية لمادة الدراسات الاجتماعية



تم تحميل هذا الملف من موقع المناهج العمانية

موقع فايلاتي ← المناهج العمانية ← الصف الخامس ← اجتماعيات ← الفصل الثاني ← ملفات متنوعة ← الملف

تاريخ إضافة الملف على موقع المناهج: 2026-06-07 17:43:03

ملفات اكتب للمعلم اكتب للطالب | الاختبارات الالكترونية | اختبارات | حلول | عروض بوربوينت | أوراق عمل
منهج انجليزي | ملخصات وتقارير | مذكرات وبنوك | الامتحان النهائي للمدرس

المزيد من مادة
اجتماعيات:

إعداد: خالد بن سالم الجابري

التواصل الاجتماعي بحسب الصف الخامس



صفحة المناهج
العمانية على
فيسبوك

المزيد من الملفات بحسب الصف الخامس والمادة اجتماعيات في الفصل الثاني

الاختبار القصير الثاني 2023-2024م غير محلول	1
تجميع الاختبار القصير الأول غير محلول	2
مذكرة كراستي تميزي الوحدة الأولى كوكب الأرض والوحدة الثانية (الدولة الإسلامية وعُمان في عهد الرسول ﷺ) والوحدة الثالثة وطني عُمان	3
تجميع الاختبارات القصيرة الثانية 2024-2025م	4
اختبار النظام البيئي والتوازن الطبيعي منطقة الباطنة شمال	5



تجميع إختبارات نهائية

العام الدراسي 2025\2026

مادة الدراسات الاجتماعية (الصف الخامس)



تجميع : خالد بن سالم الجابري

(معلم مادة العلوم 5,6 في تميز أكاديمي)

أستاذ خالد



تميز أكاديمي



أرقام التواصل

76941321 76696447 77144048



امتحان مادة الدراسات الاجتماعية للصف الخامس
الفصل الدراسي: الثاني – الدور الأول - الفترة الصباحية
للعام الدراسي ١٤٤٦ / ١٤٤٧ هـ - ٢٠٢٤ / ٢٠٢٥ م

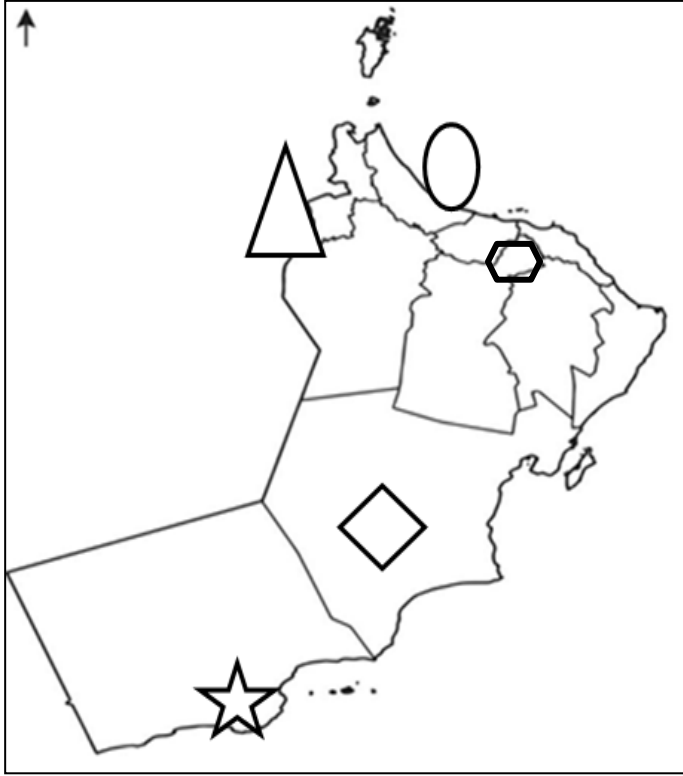
▪ عدد صفحات أسئلة الامتحان: ٨ صفحة	▪ زمن الامتحان: ساعة ونصف
▪ الدرجة الكلية للامتحان: ٤٠ درجة	▪ الإجابة في دفتر الأسئلة نفسه.
	▪ تُكتب الإجابة بالقلم الأزرق أو الأسود.

اسم الطالب: _____ الصف: _____

التوقيع بالاسم		الدرجة		السؤال
اسم المراجع	اسم المصحح	بالحروف	بالأرقام	
				أولاً: الأسئلة الموضوعية (١ - ١٢)
				ثانياً: الأسئلة المقالية ١٣
				١٤
				١٥
				١٦
مراجعة الجمع	جمعه			المجموع
				المجموع الكلي

أولاً: الأسئلة الموضوعية:

ظلل الشكل (■) المقترن بالإجابة الصحيحة لكل مفردة من المفردات الآتية:
١- الرمز الصحيح للمدينة التي ينتمي إليها أول من أسلم من عُمان:



٢- المسار الصحيح الذي سلكه عمرو بن العاص لأبصال رسالة الرسول صلى الله عليه وسلم إلى ملكي عُمان يدعوهم إلى الإسلام.

صحار → المدينة المنورة → اليمامة. → البريمي (تؤام)

صحار → البريمي (تؤام) → اليمامة → المدينة المنورة

المدينة المنورة → اليمامة → البريمي (تؤام) → صحار

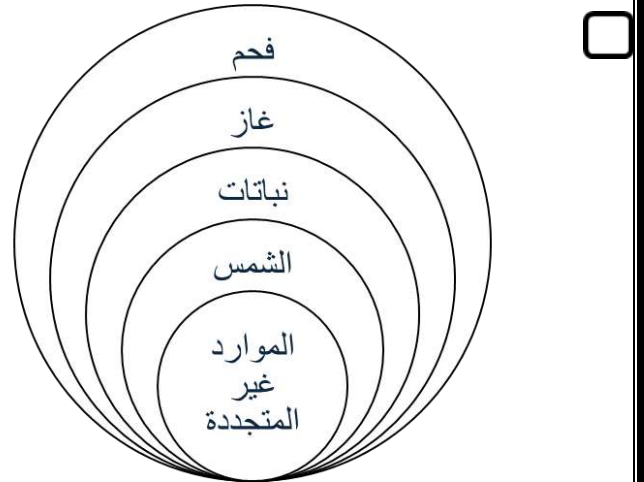
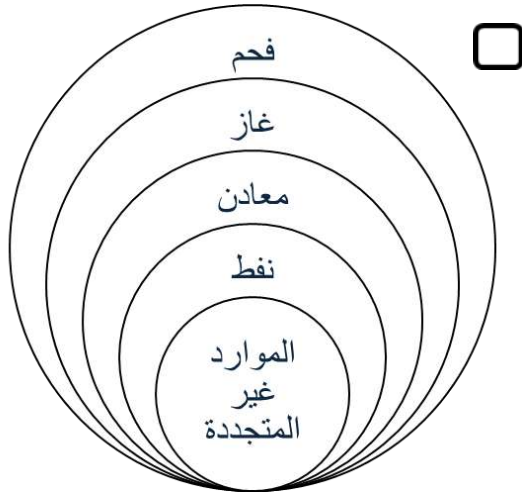
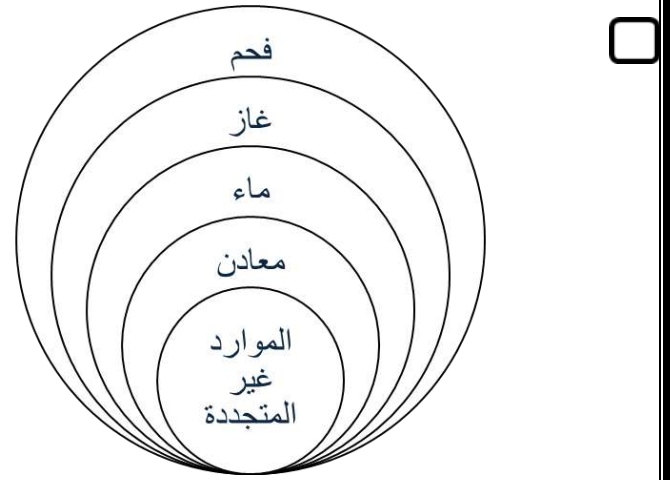
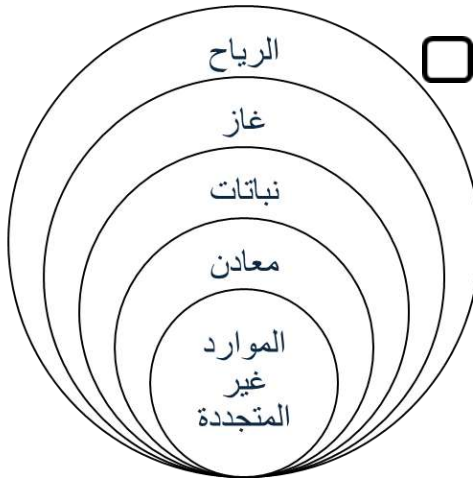
اليمامة → البريمي (تؤام) → صحار → المدينة المنورة

تابع الأسئلة الموضوعية:

٣- الهيئة التي أشرفت على المبادرة الوطنية لزراعة عشرة ملايين شجرة للمحافظة على النباتات البرية :

- الوثائق والمحفوظات. البيئة.
- العمانية للأعمال الخيرية. حماية المستهلك.

٤- الشكل الصحيح الذي يمثل الموارد الطبيعية الغير متجددة :



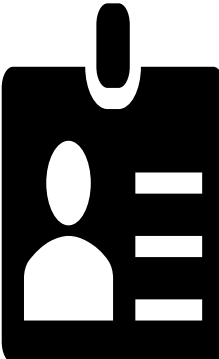
٥- المصطلح الذي يدل على الاستخدام الأمثل والمتوازن للموارد الطبيعية لضمان استمراريتهما :

- استهلاك الموارد. تلوث البيئة. استدامة المورد الطبيعي. الموارد المتجددة.

تابع: الأسئلة الموضوعية:

٦- الشخصية العمانية التي تنطبق عليها البطاقة التعريفية في الشكل المقابل أمامك:

مستشاراً لملي
عمان في عهد
النبي الكريم.



كان يتحدث
الفارسية وقرأت في
الكتب السماوية.

- صحار بن العباس العبدى.
- المهلب بن أبي صفرة..
- الإمام سعيد بن عبد الله الرحيلي.
- كعب بن برشة الطاحي.

٧- الترتيب الصحيح لكوكب الأرض في المجموعة الشمسية.

- الأول.
- الثاني.
- الثالث.
- الرابع.

٨- الحق الذي توضحه الصورة المقابلة ويحصل عليه الفرد من الدولة.



- الرعاية الصحية.
- الأمن والأمان.
- التعليم.
- الشورى.

٩- الرقمان اللذان يمثلان التبخر والتكاثف في الشكل المقابل:



- (٢،١)
- (٣،٢)
- (٣،١)
- (٤،٣)

تابع أولاً: الأسئلة الموضوعية:

١٠- الصورة المقابلة تعبر عن احدي الواجبات التي يؤديها الفرد لمجتمعة:



- احترام العادات والتقاليد.
- مشاركة الأسرة في أعمالها.
- الالتزام بالأخلاق الحسنة.
- الدفاع عن الوطن.

١١- أول عمل قام به الرسول محمد صلى الله عليه وسلم بعد وصوله إلى المدينة المنورة:

- المؤاخاة.
- الصحيفة.
- حماية الدولة.
- بناء المسجد.

١٢- العام الميلادي الذي تأسس فيه المنجز العماني الواضح في الصورة المقابلة:



١٩٩٤ م

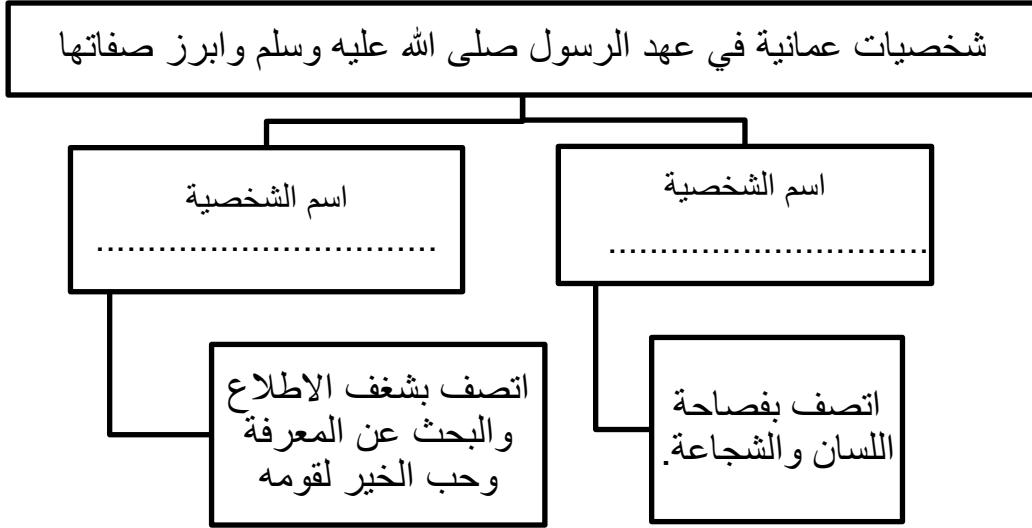
١٩٩٣ م

١٩٩٦ م

١٩٩٥ م

ثانياً الأسئلة المقالية:

١٣- أ) أكمل المخطط التالي.



ب) اذكر نتيجة واحدة لكلا من:

١- استفادة العمانيون من الموارد واستثمار الموقع الاستراتيجي المتميز للمدن العمانية.

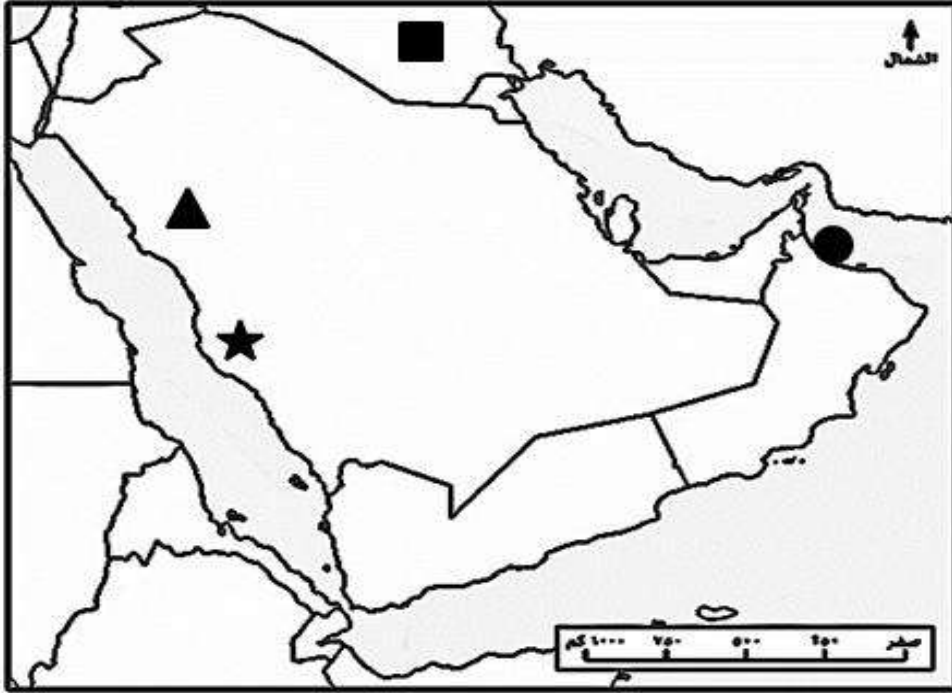
.....

٢- إنشاء المؤسسات الأمنية في الدولة.....

ج) إقرأ العبارات الاتية جيداً، ثم ضع علامة (٧) أمام التصنيف المناسب:

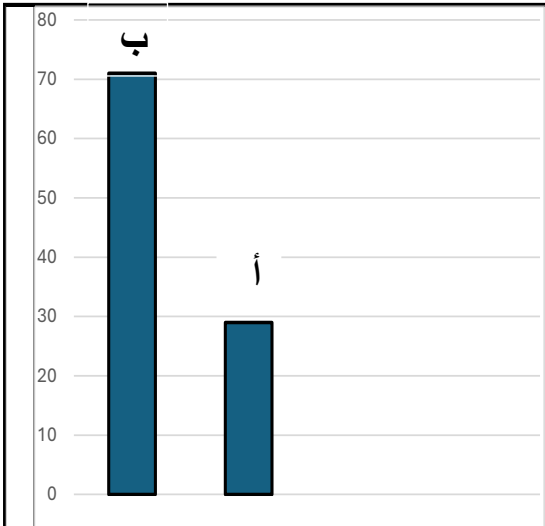
العبارات	ايجابي	سلي
أ- قطف الأطفال للأزهار في الحديقة العامة.		
ب- العناية بالبيئة والحفاظ على مواردها الطبيعية المختلفة.		
ج- الإسراف في استهلاك الفرد للموارد المائية.		

١٤- أ- أمامك خريطة شبة الجزيرة العربية ادرسها جيدا ثم أجب عن الأسئلة التي تليها:



- ١- الرمز الذي يشير الى عاصمة عمان في عهد الرسول صلى الله عليه وسلم.....
- ٢- الرمز الذي يشير الى عاصمة الدولة الإسلامية في عهد الرسول صلى الله عليه وسلم
- ٣- الرمز الذي يشير الى المدينة التي هاجر منها الرسول صلى الله عليه وسلم.....
- ٤- اكتب على الخريطة البحر الأحمر في موقعه الصحيح .

ب) أمامك مخطط بياني يوضح نسبة مساحة اليابسة والماء من سطح الأرض ادرسه جيدا ثم أجب:



- ١- رمز العمود الذي يدل على نسبة اليابس من مساحة سطح الأرض.....
- ٢- رمز العمود الذي يدل على نسبة المياه من مساحة سطح الأرض.....
- ٣- وضح دورك اتجاه الموارد المائية في المكان الذي تعيش فيه.

.....
.....
.....

١٥-أ) كيف يتفاعل الغلاف المائي الواضح في الصورة مع الغلاف الصخري.



.....
.....

ب) ١- علل اهتمام الدولة بتطبيق الحقوق والواجبات في المجتمع؟

.....

٢- وضح جهود سلطنة عمان في الاهتمام بحقوق المرأة؟

.....

ج) أكمل الجدول التالي بتصنيف المنجزات بين القوسين الى سياسية وثقافية:
(نشر الإسلام وتعلم العلوم. - طرد العمانيون للفرس. - بناء مسجد المضمار.
- إقرار الرسول لجيفر وعبد مُلك عمان.)

المنجزات الثقافية	المنجزات السياسية
.....
.....

١٦- إقرأ النص التالي، ثم أجب عن الأسئلة التي تليه:

(إن حماية البيئة والحفاظ على مواردها الطبيعية المختلفة لا يقتصر على دولة معينة، وإنما ينبغي على المجتمع الدولي أن يحرص على توفير الإمكانيات المتاحة للحفاظ على النظام البيئي، وصون موارده الطبيعية، نظراً لظهور الكثير من المشكلات البيئية التي أدت إلى التلوث، وتدهور الغطاء النباتي وغيرها من المشكلات، وإن لسلطنة عمان دوراً بارزاً في مجال العناية بالبيئة محلياً وإقليمياً وحصدت العديد من الجوائز في هذا المجال.)

١- سم الجائزة التي حصلت عليها سلطنة عمان في مجال التوعية البيئية؟

.....

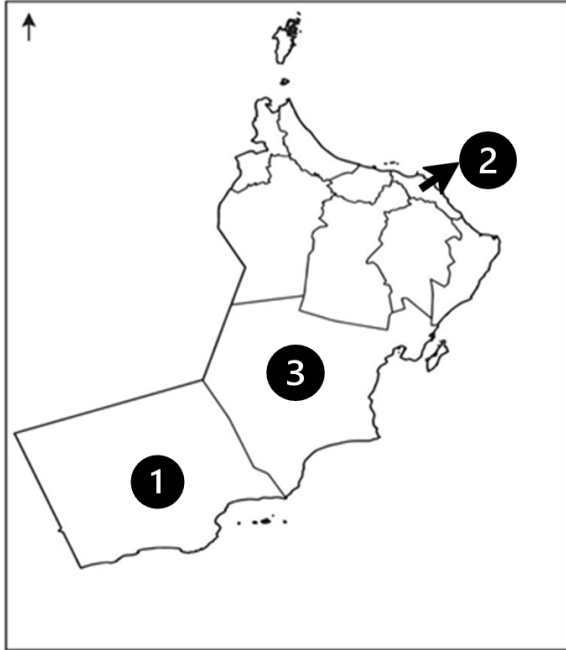
٢- اذكر أمثلة من المشكلات البيئية الناجمة عن الممارسات الخاطئة؟

.....

ب- اكتب المفهوم /المصطلح المناسب أمام كل عبارة.

المفهوم/المصطلح	العبارة
.....	الكتب التي أنزلها الله تعالى على الرسل والأنبياء.
.....	وثيقة رسمية تُعرّف بالدولة ونظام الحكم فيها.

ج- تأمل خريطة سلطنة عمان التي أمامك ثم أجب عن ما يلي:



١- اكتب الرقم الدال على المحافظة العمانية التي يوجد بها مشروع محطة طاقة الرياح

.....

٢- ما الهدف من مشروع محطة طاقة الرياح؟

.....

٣- اكتب الرقم الدال على المحافظة التي يوجد بها سد وادي ضيقة

انتهت الأسئلة مع الدعاء للجميع بالتوفيق والنجاح



نموذج إجابة امتحان الصف الخامس الدور الأول- الفصل الدراسي الثاني (الفترة الصباحية)
للعام الدراسي ١٤٤٦/١٤٤٧هـ - ٢٠٢٤/٢٠٢٥م

المادة: الدراسات الاجتماعية
تنبيهه: نموذج الإجابة في (٥) صفحات.
الدرجة الكلية: (٤٠) درجة.

أولاً: إجابة السؤال الموضوعي:

المفردة	الإجابة	الدرجة	الصفحة	المستوى المعرفي
١		١	٦٥	فهم وتطبيق
٢	صحار → البريمي (نظام) → اليمامة → المدينة المنورة.	١	٦٠	قدرات عليا
٣	البيئة.	١	٣١	معرفة
٤		١	٣٦	فهم وتطبيق
٥	استدامة المورد الطبيعي.	١	٤٠	معرفة
٦	كعب بن برشة الطاحي.	١	٦٨	قدرات عليا
٧	الثالث	١	١٩	فهم وتطبيق
٨	الرعاية الصحية.	١	٨١	فهم وتطبيق
٩	(٢،١)	١	٢٣	معرفة
١٠	احترام العادات والتقاليد.	١	٨٤	فهم وتطبيق
١١	بناء المسجد.	١	٥٢	معرفة
١٢	١٩٩٥م	١	٩٢	معرفة
	المجموع	١٢		

نموذج إجابة امتحان الصف الخامس الدور الأول- الفصل الدراسي الثاني (الفترة الصباحية)
للعام الدراسي ١٤٤٦/١٤٤٧هـ - ٢٠٢٤/٢٠٢٥م

الدرجة الكلية: (٧) درجات			إجابة السؤال المقالي ١٣		
المستوى المعرفي	الصفحة	الدرجة	الإجابة	المفردة	الجزئية
قدرات عليا	٦٩ ٧٠،	٢,١,٠	<p>شخصيات عمانية في عهد الرسول صلى الله عليه وسلم وابرز صفاتها</p> <p>اسم الشخصية سلمة بن عياد الازدي</p> <p>اسم الشخصية ابوصفرة العتكي</p>	١	أ
معرفة	٦٢	١,٠	ازدهرت الأنشطة الاقتصادية مثل الزراعة والتجارة والصناعة/ولمعت أسماء بعض المدن العمانية. (ما يفيد المعنى)	١	ب
معرفة	٩٠	١,٠	يؤدي إلى حفظ الأمن داخل الوطن، وينعم المواطن بالرخاء. وما يفيد المعنى.	٢	ج
فهم وتطبيق	٨٦- ٨٧	١,٠	سلي	٢	
فهم وتطبيق	٣١	١,٠	ايجابي	٣	
فهم وتطبيق	٢٤	١,٠	سلي	٤	

يتبع ٣

نموذج إجابة امتحان الصف الخامس الدور الأول- الفصل الدراسي الثاني (الفترة الصباحية)
للعام الدراسي ١٤٤٦/١٤٤٧هـ - ٢٠٢٤/٢٠٢٥م

الدرجة الكلية: (٧) درجات			إجابة السؤال المقالى ١٤		
المستوى المعرفى	الصفحة	الدرجة	الإجابة	المفردة	الجزئية
فهم وتطبيق	٥٧	١,٠	●	١	أ
	٥٧	١,٠	▲	٢	
	٥٧	١,٠	★	٣	
	٥٧	١,٠	كتابة البحر الأحمر في موقعه الصحيح	٤	
فهم وتطبيق	٥٧	١,٠	أ	١	ب
	٥٧	١,٠	ب	٢	
	٥٧	١,٠	الحفاظ على الموارد المائية / عدم الأسراف في الماء / الاستهلاك من الماء قدر الحاجة / يكتفي بذكر واحدة وبما يفيد المعنى	٣	

يتبع ٤

نموذج إجابة امتحان الصف الخامس الدور الأول- الفصل الدراسي الثاني (الفترة الصباحية)
للعام الدراسي ١٤٤٦/١٤٤٧هـ - ٢٠٢٤/٢٠٢٥م

الدرجة الكلية: (٧) درجات			إجابة السؤال المقالى ١٥			
المستوى المعرفي	الص فحة	الدرجة	الإجابة	المفردة	الجزئية	
قدرات عليا	٢٩	١,٠	يقوم الماء (الغلاف المائي) في أثناء احتكاكه بالصخور (الغلاف الصخري) بتشكيل بعض مظاهر سطح الأرض مثل: الجروف ،الكهوف. (وما يفيد المعنى)	١	أ	
قدرات عليا	٨٦	١,٠	تنظيم العلاقات /تحقيق العدالة والمساواة/توفير الحياة الكريمة/ضمان الوحدة والترابط (يكتفى بذكر واحد)	١	ب	
معرفة	٩٥	١,٠	<u>كفل حقها في التعليم والعمل/وانضمت سلطنة عمان إلى اتفاقية القضاء على جميع أشكال التمييز ضد المرأة(سيداو)</u>	٢		
فهم وتطبيق	٦٢ / ٦٣	٤,٣,٢,١,٠	المنجزات الثقافية	المنجزات السياسية	١	ج
			نشر الإسلام وتعلم العلوم .	طرد العمانيون للفرس.		
			بناء مسجد المضمار.	إقرار الرسول لجيفر وعبد مُلك عمان.		

يتبع ٥

نموذج إجابة امتحان الصف الخامس الدور الأول- الفصل الدراسي الثاني (الفترة الصباحية)
للعام الدراسي ١٤٤٦/١٤٤٧هـ - ٢٠٢٤/٢٠٢٥م

الدرجة الكلية: (٧) درجة			إجابة السؤال المقالي ١٦		
المستوى المعرفي	الصفحة	الدرجة	الإجابة	الفردة	الجزئية
فهم وتطبيق	٣٢	١,٠	جائزة مجلس التعاون الخليجي للبيئة والحياة الفطرية.	١	أ
فهم وتطبيق	٣١	١,٠	تلوث المياه/الأمطار الحمضية/تدهور الغطاء النباتي/الانهيارات الأرضية.(وما يفيد المعنى)	٢	
معرفة	٦٨	١,٠	<u>الكتب السماوية.</u>	١	
معرفة	٨١	١,٠	النظام الأساسي لدولة.	٢	ب
فهم وتطبيق	٤١	١,٠	١	١	ج
	٤١	١,٠	لتوليد الكهرباء	٢	
	٤٢	١,٠	١	٣	

نهاية نموذج الإجابة



امتحان مادة الدراسات الاجتماعية للصف الخامس
الفصل الدراسي: الثاني – الدور الأول (الفترة المسائية)
للعام الدراسي ١٤٤٦ / ١٤٤٧ هـ - ٢٠٢٤ / ٢٠٢٥ م

▪ عدد صفحات أسئلة الامتحان: ٨ صفحات	▪ زمن الامتحان : ساعة ونصف
▪ الدرجة الكلية للامتحان: ٤٠ درجة	▪ الإجابة في دفتر الأسئلة نفسه.
	▪ تُكتب الإجابة بالقلم الأزرق أو الأسود.

اسم الطالب: _____ الصف: _____

التوقيع بالاسم		الدرجة		السؤال
اسم المراجع	اسم المصحح	بالحروف	بالأرقام	
				أولاً: الأسئلة الموضوعية (١ - ١٢)
				ثانياً: الأسئلة المقالية ١٣
				١٤
				١٥
				١٦
مراجعة الجمع	جمعه			المجموع
				المجموع الكلي

أولاً: الأسئلة الموضوعية:

ظلل الشكل () المقترن بالإجابة الصحيحة لكل مفردة من المفردات الآتية:

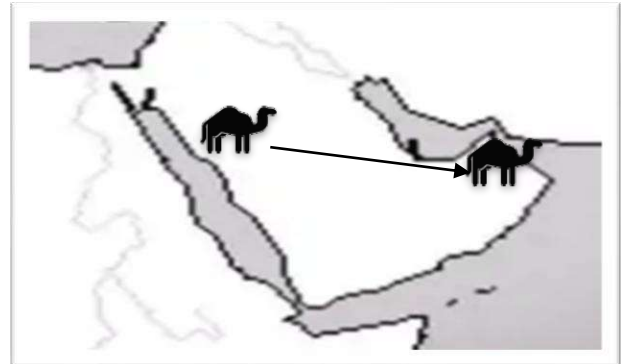

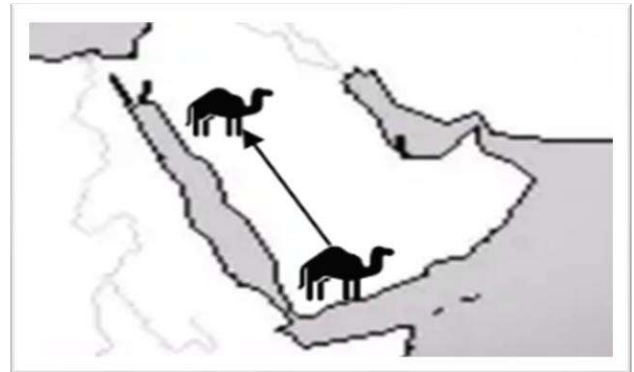
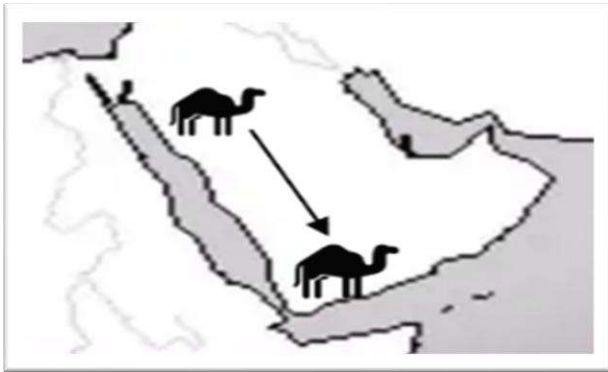


١- العام الميلادي الذي تأسس فيه المنجز العماني
الواضح في الشكل المقابل:

٢٠٠٦ () ٢٠٠٤ ()

٢٠١٠ () ٢٠٠٨ ()

٢- الخريطة الصحيحة التي تمثل خط سير عمرو بن العاص لدعوة ملكي عمان إلى الاسلام:

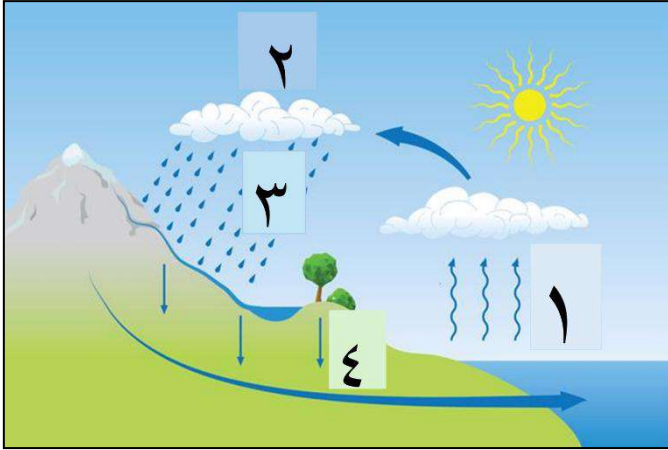


٣- المورد الطبيعي الذي يتجدد خلال فترة زمنية طويلة:

() التربة. () الثروة الحيوانية. () المياه الجوفية. () الثروة السمكية.

تابع أولاً: الأسئلة الموضوعية:

٤- الرقمان اللذان يمثلان التكاثر والتساقط في الشكل المقابل:



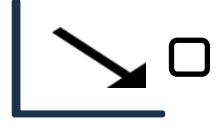
(٣،٢)

(٢،١)

(٤،٣)

(٣،١)

٥- الشكل الذي يمثل العلاقة الصحيحة بين تزايد أعداد السكان مقابل استهلاكهم للموارد الطبيعية:



٦- أكد ناصر لأسرته ما يجب على كل فرد منهم القيام به تجاه الدولة والمجتمع وفقاً للقانون وثقافة المجتمع المفهوم الذي أكدده ناصر:

التعبير عن الرأي.

الأمانة.

الحقوق.

الواجبات.

٧- القبيلتان اللتان اهتم النبي الكريم بالمؤاخاة بينهما لاستقرار مجتمع المدينة المنورة:


الأوس والخزرج.

قريش وذبيان.

الأوس والأزد.

ثقيف وهوازن.

٨- الحق الذي توضحه الصورة المقابلة ويحصل عليه الفرد من الدولة.



التعليم.

الرعاية الصحية.

الشورى.

الأمن والأمان.

تابع الأسئلة الموضوعية.

٩- التاريخ الذي خصصته سلطنة عمان من كل عام للاحتفاء بيوم المرأة العمانية:
 ١٧ سبتمبر ١٧ أكتوبر ١٧ نوفمبر ١٧ ديسمبر



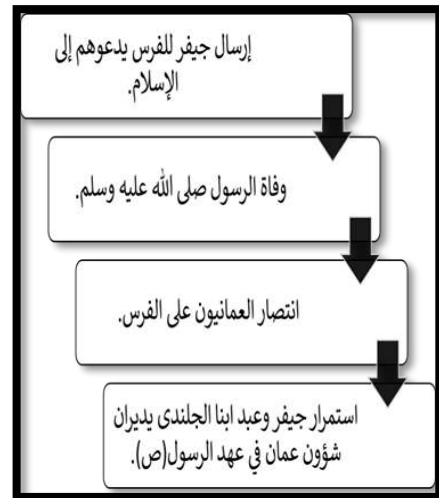
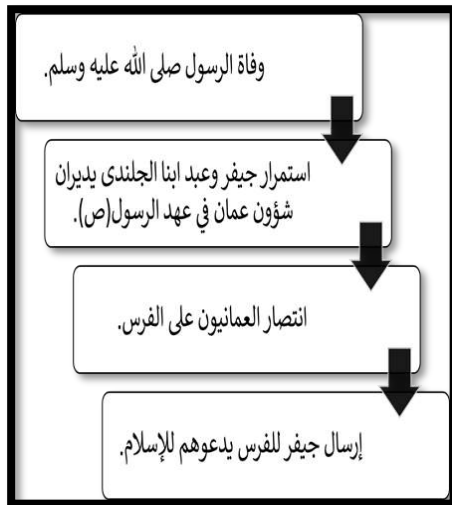
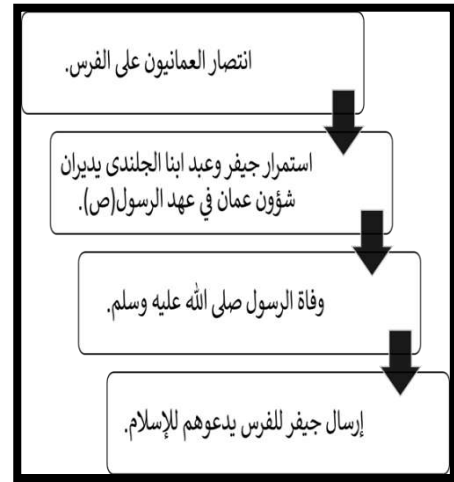
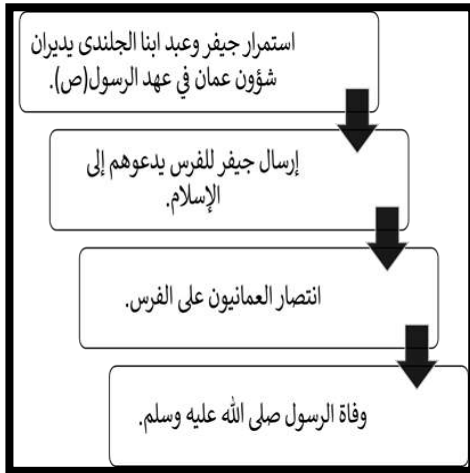
١٠- المحافظة العمانية التي يستخرج منها المورد الطبيعي الواضح في الصورة المقابلة:

الوسطى. مسقط. الباطنة جنوب. الشرقية شمال.

١١- الوثيقة التي وضعها النبي الكريم ووضح فيها الحقوق والواجبات لسكان المدينة المنورة:


بناء المسجد. المعارك. الصحيفة. المؤاخاة.

١٢- المخطط الذي يمثل الترتيب الصحيح للأحداث التاريخية الآتية من الأقدم إلى الأحدث:



ثانيا: الأسئلة المقالية:

(١٣) أ-مستعينا بالشكل الآتي، أجب عن الأسئلة التي تليه:



- ١- الاسم الذي يطلق على المجموعة الواضحة في الصورة.....
- ٢- سم الكوكب المشار إليه بالرمز (أ) في الشكل.....

ب) اذكر اثنان من أدوار المسجد في عهد الرسول محمد صلى الله عليه وسلم:

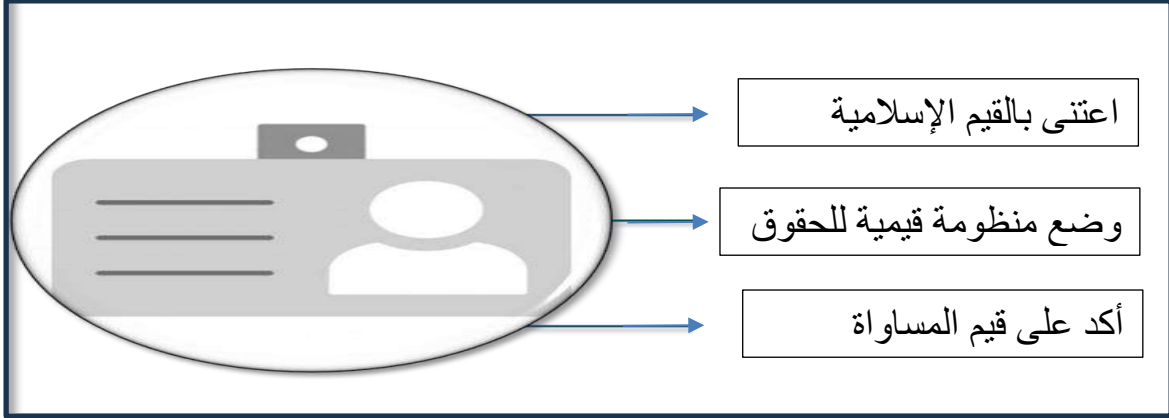
.....
-------	-------

ج) انقل المصطلح من بين القوسين (الكتب السماوية / الغلاف الحيوي / الحقوق) أمام العبارة الدالة عليه في الجدول التالي :

المصطلح	العبارة
.....	البيئة التي تعيش وتنمو وتتكاثر فيها الكائنات الحية.
.....	ما يحصل عليه المواطن من الدولة والمجتمع وفقا للقانون وثقافة المجتمع.
.....	كتب أنزلها الله على الرسل والأنبياء لتكون هداية ورحمة لناس.

تابع ثانيًا: الأسئلة المقالية:

١٤ أ- أمامك بطاقة تعريفية لشخصية عمانية تمعن جيدا ثم أجب:



١) استنتج اسم الإمام العماني الذي قام بالأعمال الواردة في البطاقة التعريفية؟

.....

٢) من اين استمد المنظومة القيمية لحقوق الإنسان؟

.....

ب) أقرأ الاضاءات السلطانية جيدا ثم أجب عن الأسئلة التي تليه:

" إنَّ ممَّا نفخر به ،أنَّ المواطنين والمُقيمين على أرض عُمان العزيرة يعيشونَ بفضلِ الله في ظلِّ دولة القانون والمؤسسات. دولةٌ تقومُ على مبادئِ الحرِّية والمساواة وتكافؤِ الفرصِ، قوامُها العدلُ، كرامةُ الأفرادِ وحقوقُهم وحرِّياتُهم فيها مصانةٌ، بما في ذلكَ حرِّيةُ التعبيرِ التي كفلها النظامُ الأساسيُّ للدولة".

من خطابِ جلالَةِ السُّلطانِ هيثمِ بن طارقٍ

-حفظة الله ورعاهُ - ، ٢٣ فبراير ٢٠٢٠ م.

١- اكتب مثلاً واحداً على الحقوق التي نص عليها النص السابق؟

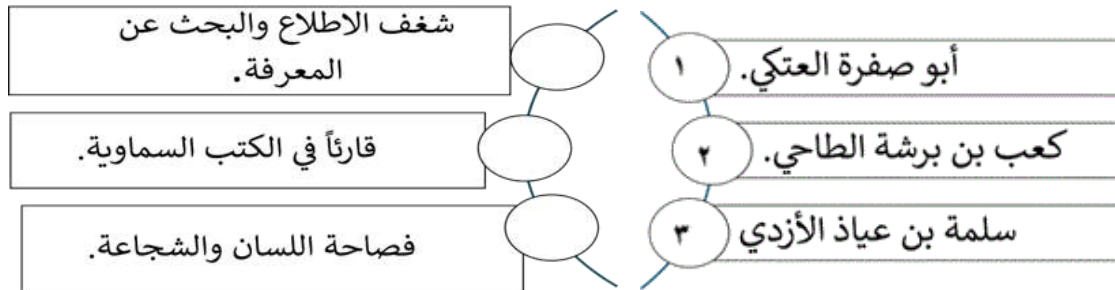
.....

٢- استخرج من النص ما يدل على الوثيقة الرسمية التي تُعرّف بالحقوق والواجبات العامة؟

.....

تابع الأسئلة المقالية ١٤

ج) انقل الرقم الموجود امام كل شخصية عمانية في عهد الرسول صلى الله عليه وسلم في الدائرة المقترنة بالصفة التي تميزت بها .




١٥) أجب عن الأسئلة الآتية:

أ) اكمل الجدول التالي.

اسم المحافظة.	اسم المشروع لاستدامة المورد الطبيعي.	تصنيف الموارد الطبيعية حسب الاستمرارية (متجدد / غير متجدد)
.....	سد وادي ضيقه
.....	ظفار لطاقة الرياح

ب) أكتب نتيجة واحدة تترتب على المشكلة البيئية التي تعبر عنها الصورة؟



.....

.....

ج) علل ما يلي:

١- إنشاء اللجنة العمانية لحقوق الإنسان.

.....
.....

٢- تبني مؤسسات المجتمع المدني زراعة ١٠ ملايين شجرة .

.....
.....

(١٦) أجب عن الأسئلة التالية :



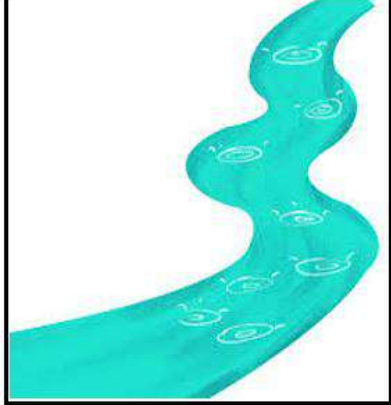
أ) صنف المدن العمانية (صحار، البريمي، سمائل) إلى المجالات التي اشتهرت بها عند ظهور الإسلام في الجدول الآتي .

المدن	المجالات
.....	سميت قديماً بتؤام وهي واحة زراعية تقع على طرق التجارة البرية.
.....	يوجد بها مسجد المضمار وينتمي إليها أول من أسلم من عمان.
.....	كانت عاصمة عمان وهناك وصلت رسالة الرسول صلى الله عليه وسلم.

تابع الأسئلة المقالية ١٦

ب)١-دلل على جهود سلطنة عمان في حفظ حقوق المواطنين من أي اعتداء أو ضرر.
يكتفي بذكر دليل واحد

٢- اكتب أسماء أغلفة كوكب الأرض في المربعات اسفل الاشكال التالية الدالة عليها

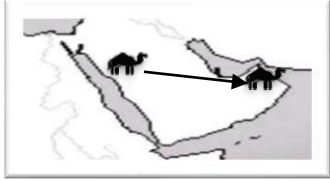


		
<input data-bbox="148 1055 512 1173" type="text"/>	<input data-bbox="592 1055 1003 1173" type="text"/>	<input data-bbox="1086 1055 1458 1173" type="text"/>

انتهت الأسئلة مع الدعاء للجميع بالتوفيق والنجاح



نموذج إجابة امتحان الصف الخامس الدور الأول- الفصل الدراسي الثاني (الفترة المسائية)
للعام الدراسي ١٤٤٦/١٤٤٧هـ - ٢٠٢٤/٢٠٢٥م

المادة: الدراسات الاجتماعية
تنبيه: نموذج الإجابة في (٥) صفحات.
الدرجة الكلية: (٤٠) درجة.

المفردة	الإجابة	الدرجة	الصفحة	المستوى المعرفي
١	٢٠٠٨م	١	٢٠	معرفة
٢		١	٦٠	مهاري/فهم وتطبيق
٣	التربة.	١	٣٧	معرفة
٤	(٣،٢)	١	٢٣	فهم وتطبيق
٥		١	٣٠	قدرات عليا
٦	الواجبات.	١	٨٠	معرفة
٧	الأوس والخزرج.	١	٥٤	معرفة
٨	التعليم.	١	٨١	فهم وتطبيق
٩	١٧ أكتوبر	١	٩٥	معرفة
١٠	الوسطى.	١	٣٨	فهم وتطبيق
١١	الصحيفة.	١	٥٤	معرفة
١٢		١	٦٢	قدرات عليا
المجموع		١٢		

نموذج إجابة امتحان الصف الخامس الدور الأول- الفصل الدراسي الثاني (الفترة المسائية)
للعام الدراسي ١٤٤٦/١٤٤٧هـ - ٢٠٢٤/٢٠٢٥م

الدرجة الكلية: (٧) درجات		إجابة السؤال المقالي ١٣											
المستوى المعرفي	الصفحة	الدرجة	الإجابة	المفردة	الجزئية								
فهم وتطبيق	١٨	١,٠	المجموعة الشمسية	١	أ								
	١٨	١,٠	الأرض	٢									
معرفة	٥٣	١,٠	مكان استقبال الوفود/مقر القيادة/مكان الاجتماعات (يكتفى بذكر اثنان)	١	ب								
معرفة	٩٠	١,٠	<table border="1"> <thead> <tr> <th>المصطلح/المفهوم.</th> <th>العبرة</th> </tr> </thead> <tbody> <tr> <td>الغلاف الحيوي</td> <td>البيئة التي تعيش وتنمو وتتكاثر فيها الكائنات الحية.</td> </tr> <tr> <td>الحقوق.</td> <td>ما يحصل عليه المواطن من الدولة والمجتمع وفقا للقانون وثقافة المجتمع.</td> </tr> <tr> <td>الكتب السماوية.</td> <td>كتب أنزلها الله على الرسل والأنبياء لتكون هداية ورحمة لناس.</td> </tr> </tbody> </table>	المصطلح/المفهوم.	العبرة	الغلاف الحيوي	البيئة التي تعيش وتنمو وتتكاثر فيها الكائنات الحية.	الحقوق.	ما يحصل عليه المواطن من الدولة والمجتمع وفقا للقانون وثقافة المجتمع.	الكتب السماوية.	كتب أنزلها الله على الرسل والأنبياء لتكون هداية ورحمة لناس.	١	ج
المصطلح/المفهوم.	العبرة												
الغلاف الحيوي	البيئة التي تعيش وتنمو وتتكاثر فيها الكائنات الحية.												
الحقوق.	ما يحصل عليه المواطن من الدولة والمجتمع وفقا للقانون وثقافة المجتمع.												
الكتب السماوية.	كتب أنزلها الله على الرسل والأنبياء لتكون هداية ورحمة لناس.												
معرفة	٢٤	٣ درجات لكل درجة ٣,٢,١,٠											
معرفة	٨٠												
معرفة	٦٨												

نموذج إجابة امتحان الصف الخامس الدور الأول- الفصل الدراسي الثاني (الفترة المسائية)
للعام الدراسي ١٤٤٦/١٤٤٧هـ - ٢٠٢٤/٢٠٢٥م


الدرجة الكلية: (٧) درجات		إجابة السؤال المقالي ١٤			
المستوى المعرفي	الصفحة	الدرجة	الإجابة	المفردة	الجزئية
قدرات عليا	٩٢	١,٠	الإمام سعيد بن عبدالله الرحيلي	١	أ
فهم وتطبيق	٩٢	١,٠	مستمدة من وحي الشريعة الإسلامية	٢	
فهم وتطبيق	٨٢	١,٠	الحرية، المساواة، العدل، تكافؤ الفرص، العدل، حرية التعبير. (يكتفى بذكر واحدة)	١	ب
معرفة	٨١	١,٠	النظام الأساسي للدولة	٢	ب
فهم وتطبيق	٦٨,٧ ٠,٦٩	٣ درجات لكل مفردة درجة ١,٠,٢,٣	<div style="border: 1px solid black; padding: 5px; margin-bottom: 5px;">شغف الاطلاع والبحث عن المعرفة.</div> <div style="border: 1px solid black; padding: 5px; margin-bottom: 5px;">قارئاً في الكتب السماوية.</div> <div style="border: 1px solid black; padding: 5px;">فصاحة اللسان والشجاعة.</div> 	١	ج

نموذج إجابة امتحان الصف الخامس الدور الأول- الفصل الدراسي الثاني (الفترة المسائية)
للعام الدراسي ١٤٤٦/١٤٤٧هـ - ٢٠٢٤/٢٠٢٥م

الدرجة الكلية: (٧) درجة		إجابة السؤال المقالي ١٥					
المستوى المعرفي	الصفحة	الدرجة	الإجابة		المفردة	الجزئية	
فهم وتطبيق	٤٢،٤١	٤ درجات لكل جزئية درجة. ٤،٣،٢،١،٠	اسم المحافظة.	اسم المشروع لاستدامة المورد الطبيعي.	تصنيف الموارد الطبيعية حسب الاستمرارية (متجدد / غير متجدد)	١	أ
			محافظة مسقط		متجدد		
			محافظة ظفار		متجدد		
قدرات عليا	٣١	١،٠	أمطار حمضية مما يؤدي إلى تلوث الهواء بمواد كيميائية ومواد سامة. (وما يفيد المعنى)		١	ب	
فهم وتطبيق	٨٣	١،٠	لتقوم بدور رائد في نشر ثقافة حقوق الإنسان.		١	ج	
فهم وتطبيق	٣١	١،٠	للمحافظة على النباتات البرية.		٢		

يتبع ٥

نموذج إجابة امتحان الصف الخامس الدور الأول- الفصل الدراسي الثاني (الفترة المسائية)
للعام الدراسي ١٤٤٦/١٤٤٧هـ - ٢٠٢٤/٢٠٢٥م

الدرجة الكلية: (٧) درجة		إجابة السؤال المقالي ١٦	
المستوى المعرفي	الصفحة	الدرجة	الإجابة
معرفة	٦٥	٣ درجات لكل جزئية درجة ٣,٢,١,٠	المدن
			المجالات
			البريمي
			سميت قديما بتؤام وهي واحة زراعية تقع على طرق التجارة البرية.
			يوجد بها مسجد المضمار وينتمي إليها أول من أسلم من عمان.
			كانت عاصمة عمان وهناك وصلت رسالة الرسول صلى الله عليه وسلم.
قدرات عليا فهم وتطبيق	٩٠	١,٠	إنشاء المؤسسات القضائية.(وما يفيد المعنى)
	٤١	٣,٢,١,٠	

نهاية نموذج الإجابة



امتحان مادة الدراسات الاجتماعية للصف الخامس
الفصل الدراسي: الثاني - الدور الثاني
للعام الدراسي ١٤٤٦ / ١٤٤٧ هـ - ٢٠٢٤ / ٢٠٢٥ م

▪ عدد صفحات أسئلة الامتحان: ٦ صفحات	▪ زمن الامتحان: ساعة ونصف
▪ الدرجة الكلية للامتحان: ٤٠ درجة	▪ الإجابة في دفتر الأسئلة نفسه.
	▪ تُكتب الإجابة بالقلم الأزرق أو الأسود.

اسم الطالب: _____ الصف: _____

التوقيع بالاسم		الدرجة		السؤال
اسم المراجع	اسم المصحح	بالحروف	بالأرقام	
				أولاً: الأسئلة الموضوعية (١ - ١٢)
				ثانياً: الأسئلة المقالية ١٣
				١٤
				١٥
				١٦
مراجعة الجمع	جمعه			المجموع
				المجموع الكلي

أولاً: الأسئلة الموضوعية: اختر الإجابة الصحيحة من بين البدائل المعطاة:

١. عدد الكواكب التي تدور حول الشمس:

- (أ) ٥ (ب) ٦ (ج) ٧ (د) ٨

٢. غلاف من الغازات يحيط بكوكب الأرض احاطة تامة:

- (أ) الحيوي. (ب) الصخري. (ج) الجوي. (د) المائي.

٣. العامان الميلاديان اللذان حصلت فيهما السلطنة على جائزة مجلس التعاون الخليجي للبيئة والحياة الفطرية في مجال التوعية:

- (أ) ٢٠١١ و٢٠١٢ م. (ب) ٢٠١٣ و٢٠١٤ م.

- (ج) ٢٠١٥ و٢٠١٦ م. (د) ٢٠١٧ و٢٠١٨ م.

٤. المحافظة التي توجد فيها المحطة الواضحة في الصورة المقابلة:



(أ) ظفار.

(ب) الظاهرة.

(ج) مسقط.

(د) شمال الباطنة.

٥. الغزوة الأولى التي خاضها المسلمون بقيادة الرسول ﷺ وانتصروا فيها:

- (أ) الخندق. (ب) أحد. (ج) بدر. (د) اليرموك.

٦. عاصمة الدولة الإسلامية في عهد الرسول ﷺ:

- (أ) مكة المكرمة. (ب) المدينة المنورة. (ج) الطائف. (د) اليمامة.

تابع/ أولاً:

٧. الصورة التي تعبر عن احدى المشكلات البيئية التي تؤثر على الغلاف المائي:



(د)



(ج)



(ب)



(أ)

٨. الولاية العمانية التي يقع فيها مسجد الشوانذنة:

(د) مرباط

(ج) البريمي

(ب) نزوى

(أ) صحار

٩. مستشار ملكي عمان (جيفر وعبد ابني الجلندي) الذي يتحدث الفارسية:

(د) كعب بن برشة

(ج) صالح بن المتوكل

(ب) أبو صفرة العتكي

(أ) سلمة بن عياذ

١٠. الحق الذي نص عليه النظام الأساسي للدولة والتمثل في حماية الممتلكات العامة والخاصة:

(د) التعبير عن الرأي

(ج) الرعاية الصحية

(ب) التعليم

(أ) الأمن والأمان

١١. الإمام الذي تُعد وصيته للأسطول العماني المتجه إلى جزيرة سقطرى وثيقة مهمة في حقوق

الإنسان:

(د) سعيد بن سلطان

(ج) أحمد بن سعيد

(ب) الوارث بن كعب

(أ) الصلت بن مالك

١٢. المؤسسات التي تقوم بحفظ حقوق المواطنين من أي اعتداء أو ضرر:

(د) الصحية

(ج) الخدمية

(ب) القضائية

(أ) الاقتصادية

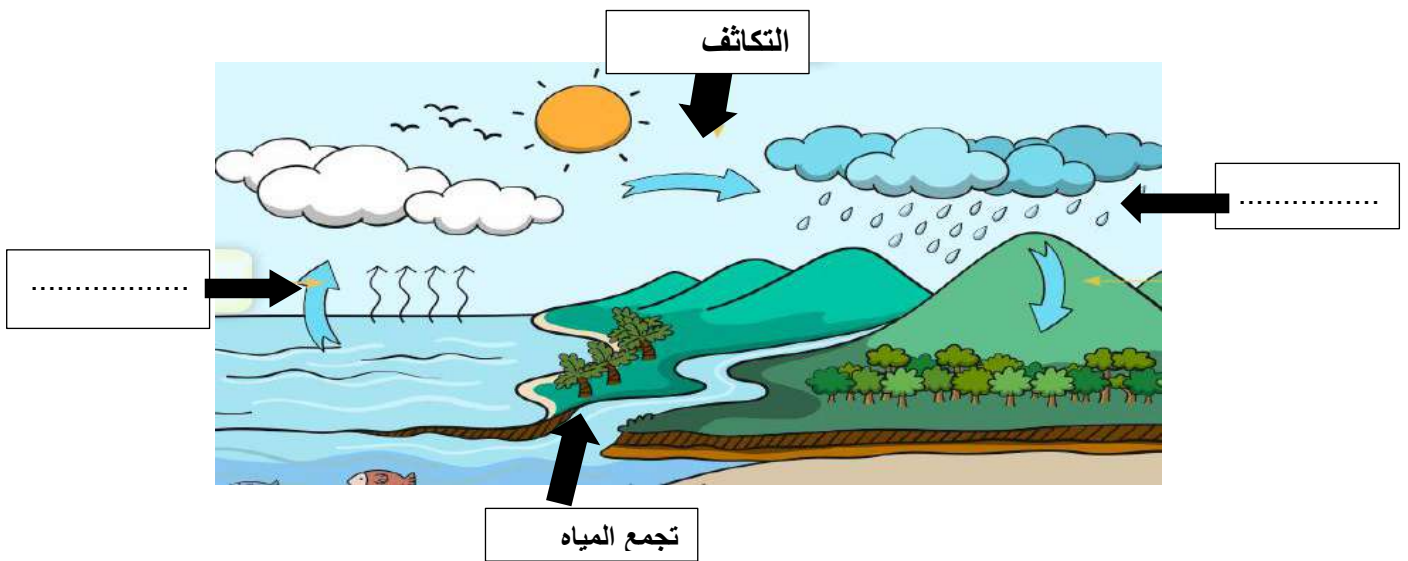
ثانياً: الأسئلة المقالية:

١٣) أ. اختر المصطلح الصحيح وضعه أمام العبارة المناسبة:

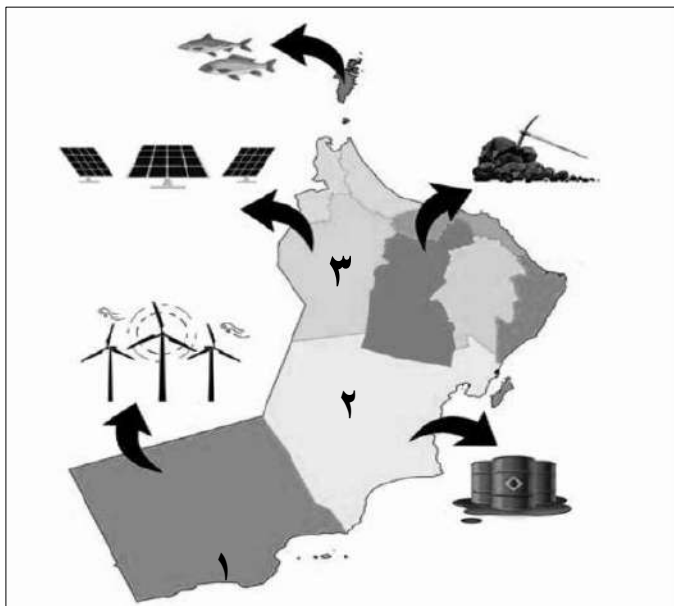
(الموارد الطبيعية - درب التبانة - الغلاف الصخري)

١. (.....) يمثل الطبقة الخارجية للقشرة الأرضية.
٢. (.....) كل ما هو موجود في الطبيعة وتستفيد منه الكائنات الحية.
٣. (.....) تجمع عدد كبير من النجوم والغازات على شكل شريط حلزوني في السماء.

ب. أكمل بيانات دورة الماء في الطبيعة في الشكل التالي:



ج. ادرس خريطة سلطنة عمان للموارد الطبيعية في بعض المحافظات ثم أجب عن الأسئلة التالية:



١. رقم المحافظة التي يوجد بها مشروع

الطاقة الشمسية

٢. نوع مورد الطاقة حسب الاستمرارية الذي

يوجد في المحافظة المشار إليها برقم (٢)

.....

تابع ثانياً: الأسئلة المقالية:

١٤) أ. اذكر اثنين من الأدوار التي قام بها المسجد في عهد الرسول ﷺ

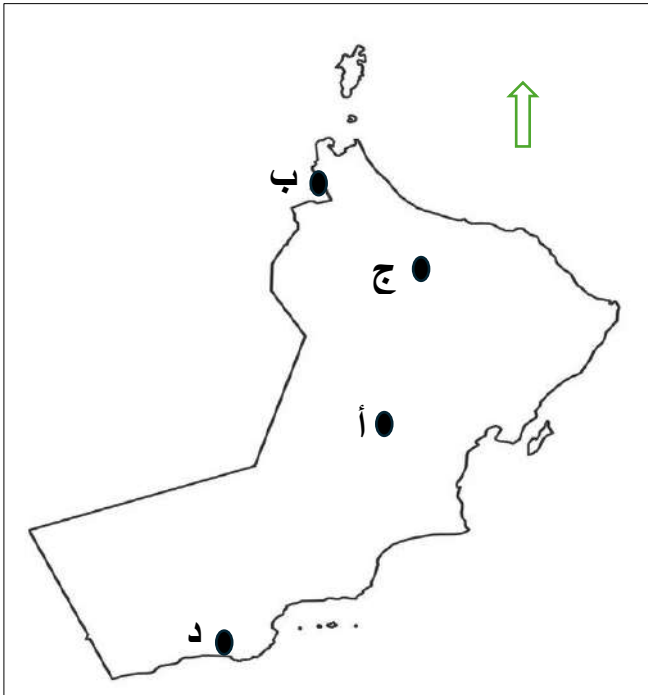
- ١
٢

ب. صنف الشخصيات العمانية التالية حسب الأعمال التي قاموا بها في الجدول الآتي:

(أبو صفرة العتكي- سلمة بن عياذ الأزدي- صالح بن المتوكل)

الأعمال	الشخصية
وفد إلى الرسول ﷺ في جماعة من قومه وأعلن إسلامه
كان في الوفد الذي ذهب إلى المدينة المنورة في عهد أبي بكر الصديق
رافق الصحابي مازن بن غضوبه في رحلته إلى المدينة المنورة

ج. امامك خريطة المدن العمانية في عهد الرسول ﷺ من خلالها استخراج الرموز التي تشير إلى :



١. المدينة التي كانت ميناءً رئيسياً في جنوب عمان

.....

٢. المدينة التي سميت قديماً بتوام

.....

تابع ثانيا: الأسئلة المقالية:

١٥) أ. ما المقصود بالفتوحات الإسلامية:

.....

ب. اذكر اثنين من الأعمال التي قام بها الرسول ﷺ لتأسيس الدولة الإسلامية:

١

٢

ج. صنف الموارد الطبيعية التالية بين القوسين إلى موارد متجددة وغير متجددة في الجدول الآتي:

(الغاز - طاقة الشمس - المعادن - المياه)

الموارد غير المتجددة	الموارد المتجددة
.....
.....

١٦) أ. اكتب المصطلح المناسب أمام العبارات التالية:

١. (.....) هو ما يحصل عليه المواطن من الدولة والمجتمع.

٢. (.....) وثيقة رسمية تُعرّف بالدولة ونظام الحكم فيها.



ب. مستعينا بالشكل المقابل أجب على الأسئلة التالية:

١. اين يوجد المقر الرئيسي للجمعية الواضح شعارها في الشكل المقابل؟

.....

٢. في أي عام تم انشاؤها؟

تابع ثانياً: الأسئلة المقالية

تابع السؤال (١٦)

ج. (خرجت أسرة لقضاء وقت ممتع في إحدى الحدائق العامة في سلطنة عمان، وفي أثناء جلوسهم قام الأطفال بقطف الأزهار).

في ضوء الموقف الذي قرأته:

١. ما رأيك في السلوك الذي قام به الأطفال؟ ولماذا؟

٢. اقترح حلاً للحد من هذه التصرفات.

انتهت الأسئلة

نموذج إجابة امتحان الصف الخامس – الفصل الدراسي الثاني- الدور الثاني
للعام الدراسي ١٤٤٦/١٤٤٧هـ - ٢٠٢٤/٢٠٢٥م

الدرجة الكلية: (٤٠) درجة.

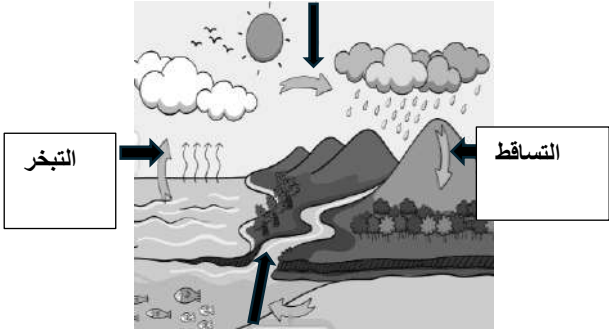
المادة: الدراسات الاجتماعية
 تنبيه: نموذج الإجابة في (٥) صفحات.

أولاً: إجابة السؤال الموضوعي: ١٢ درجة

المستوى المعرفي	الصفحة	الدرجة	الإجابة	المفردة
تذكر	١٨	١	(د) ٨	١
تذكر	٢١	١	(ج) الجوي	٢
فهم	٣٢	١	(ب) ٢٠١٣ و ٢٠١٤م	٣
قدرات عليا	٤١	١	(أ) ظفار	٤
تذكر	٥٦	١	(ج) غزوة بدر	٥
تذكر	٥٢	١	(ب) المدينة المنورة	٦
قدرات عليا	٣١	١	(ب)	٧
				
فهم	٦٣	١	(ب) نزوى	٨
تذكر	٦٨	١	(د) كعب بن برشة	٩
فهم	٨١	١	(أ) الأمن والأمان	١٠
فهم	٨٣	١	(أ) الصلت بن مالك	١١
تذكر	٩٠	١	(ب) القضائية	١٢

يتبع ٢

نموذج إجابة امتحان الصف الخامس – الفصل الدراسي الثاني- الدور الثاني
للعام الدراسي ١٤٤٦/١٤٤٧هـ - ٢٠٢٤/٢٠٢٥م

الدرجة الكلية: (٧) درجة			إجابة السؤال ١٣	
المستوى المعرفي	الصفحة	الدرجة	الإجابة	الجزئية
تذكر	٢٢ ٢٠ ١٨	١٠٠ ١٠٠ ١٠٠	١- الغلاف الصخري ٢- الموارد الطبيعية ٣- درب التبانة	أ
تطبيق	٢٣	درجتان لكل مفردة درجة ٢،١٠٠		ب.
قدرات عليا	٤١ ٣٦	١٠٠ ١٠٠	١- (٣) ٢- غير متجدد	ج

يتبع ٣

نموذج إجابة امتحان الصف الخامس – الفصل الدراسي الثاني- الدور الثاني
للعام الدراسي ١٤٤٦/١٤٤٧ هـ - ٢٠٢٤/٢٠٢٥ م

الدرجة الكلية: (٧) درجة		إجابة السؤال ١٤									
المستوى المعرفي	الصفحة	الدرجة	الإجابة								
تذكر	٥٣	درجتان لكل مفردة درجة ٢،١٠٠	١-مكان استقبال الجنود ٢-مقر القيادة ٣-مكان الاجتماعات (يكتفى باثنين)								
فهم	٧٠ ٦٩ ٧٠	٣ لكل مفردة درجة ٣،٢،١٠٠	<table border="1"> <thead> <tr> <th>الأعمال</th> <th>الشخصية</th> </tr> </thead> <tbody> <tr> <td>وفد إلى الرسول ﷺ في جماعة من قومه وأعلن إسلامه</td> <td>سلمة بن عياذ الأزدي</td> </tr> <tr> <td>كان في الوفد الذي ذهب إلى المدينة المنورة في عهد أبي بكر الصديق</td> <td>أبو صفرة العتكي</td> </tr> <tr> <td>رافق الصحابي مازن بن غضوبة في رحلته إلى المدينة المنورة</td> <td>صالح بن المتوكل</td> </tr> </tbody> </table>	الأعمال	الشخصية	وفد إلى الرسول ﷺ في جماعة من قومه وأعلن إسلامه	سلمة بن عياذ الأزدي	كان في الوفد الذي ذهب إلى المدينة المنورة في عهد أبي بكر الصديق	أبو صفرة العتكي	رافق الصحابي مازن بن غضوبة في رحلته إلى المدينة المنورة	صالح بن المتوكل
الأعمال	الشخصية										
وفد إلى الرسول ﷺ في جماعة من قومه وأعلن إسلامه	سلمة بن عياذ الأزدي										
كان في الوفد الذي ذهب إلى المدينة المنورة في عهد أبي بكر الصديق	أبو صفرة العتكي										
رافق الصحابي مازن بن غضوبة في رحلته إلى المدينة المنورة	صالح بن المتوكل										
قدرات عليا	٦٥	١٠٠ ١٠٠	١-د ٢-ب								

يتبع ٤

نموذج إجابة امتحان الصف الخامس – الفصل الدراسي الثاني- الدور الثاني
للعام الدراسي ١٤٤٦/١٤٤٧هـ - ٢٠٢٤/٢٠٢٥م

الدرجة الكلية: (٧) درجة		إجابة السؤال ١٥	
المستوى المعرفي	الصفحة	الدرجة	الإجابة
تذكر	٥٧	١٠٠	الفتوحات الإسلامية: دخول المناطق غير الإسلامية الإسلام، لتصبح جزءاً من الدولة الإسلامية أو تابعة لها. (أو ما يفيد المعنى)
تذكر	٥٢ إلى ٥٦	درجتان لكل مفردة درجة ٢،١٠٠	١-بناء المسجد ٢-المواخاة ٣-الصحيفة ٤-حماية الدولة يكتفى بذكر اثنين فقط
تطبيق	٣٦	٤ لكل مفردة درجة ٢،١٠٠ ٢،١٠٠	الموارد المتجددة (طاقة الشمس- المياه) الموارد غير المتجددة (الغاز- المعادن)

يتبع ٥

نموذج إجابة امتحان الصف الخامس – الفصل الدراسي الثاني- الدور الثاني
للعام الدراسي ١٤٤٦/١٤٤٧هـ - ٢٠٢٤/٢٠٢٥م

إجابة السؤال ١٦		الدرجة الكلية: (٧) درجة	
الدرجة	الصفحة	المستوى المعرفي	الإجابة
١٠٠	٨٠-	تذكر	١-الحقوق ٢-النظام الأساسي
١٠٠	٨١		
١٠٠	٩٢	تطبيق	١- مسقط ٢- ١٩٩٥م
١٠٠			
٢،١٠٠	٨٧	قدرات عليا	١-سلوك خاطئ / التعليل (أي تعليل يفيد المعنى) ٢-وضع الارشادات -التوعية بأهمية الحفاظ على الممتلكات العامة -فرض عقوبات رمزية على العبث بالممتلكات العامة (أي إجابة تفيد المعنى)
١٠٠			

نهاية نموذج الإجابة-



المديرية العامة للتربية والتعليم بمحافظة ظفار

امتحان مادة: الدراسات الاجتماعية

الصف: الخامس

للعام الدراسي ١٤٤٥ هـ - ٢٠٢٣/٢٠٢٤ م

الدور الأول - الفصل الدراسي الثاني

صباحي

- زمن الامتحان: (ساعة ونصف) ● عدد صفحات أسئلة الامتحان: (٦) صفحات.
- الإجابة في الدفتر نفسه.

			اسم الطالب
الصف			المدرسة

التوقيع بالاسم		الدرجة		السؤال
المصحح الثاني	المصحح الأول	بالحروف	بالأرقام	
				١
				٢
				٣
				٤
				٥
مراجعة الجمع	جمعه			المجموع
				المجموع الكلي

(١)

المادة: الدراسات الاجتماعية - الصف: الخامس - الدور الأول
امتحان نهاية الفصل الدراسي الثاني ١٤٤٥ هـ / ٢٠٢٣م - ٢٠٢٤م
أجب عن جميع الأسئلة الآتية

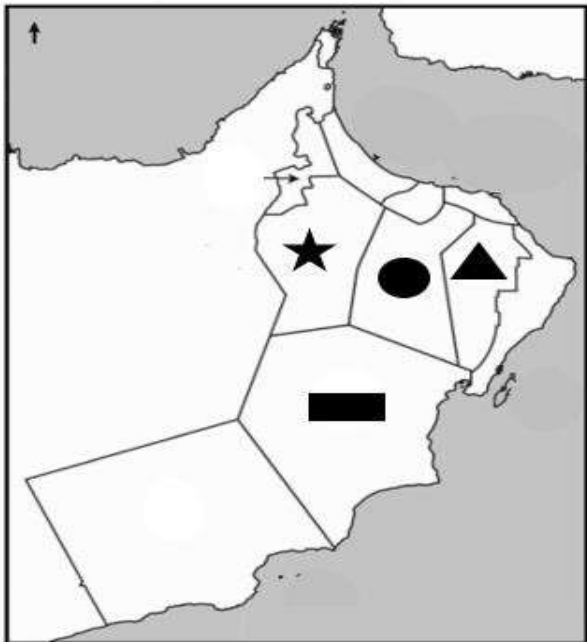
السؤال الأول: ضع دائرة حول رمز الإجابة الصحيحة لكل مفردة من المفردات الآتية: (١٢ درجة)

- ١- أكبر كواكب المجموعة الشمسية حجماً كوكب:
أ - عطارد ب- الزهرة ج - الأرض د- المشترى
- ٢- العام الميلادي الذي تأسست فيه الجمعية الفلكية العمانية:
أ - ٢٠٠٧ ب- ٢٠٠٨ ج - ٢٠٠٩ د- ٢٠١٠



٣- تشير الصورة التي أمامك إلى أحد مشكلات الغلاف:

- أ - الصخري ب- المائي
ج -الجوى د- الحيوي



٤- رمز المحافظة التي تشتهر بإنتاج النفط:

- أ - ▲
ب- ●
ج - ▬
د- ★

٥- من الموارد المتجددة التي تحتاج إلى فترة زمنية طويلة لكي تتجدد:

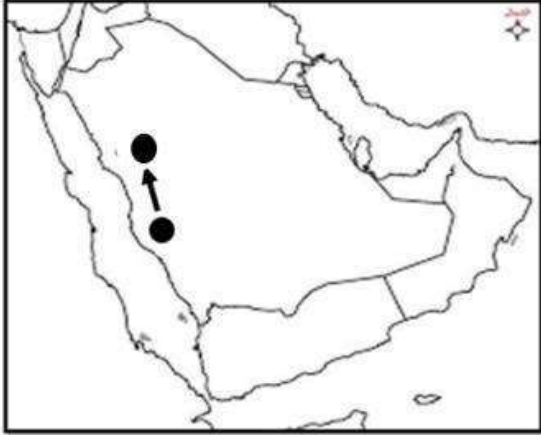
- أ - التربة ب- الثروة الحيوانية ج - المياه الجوفية د- الثروة السمكية

(٢)

المادة: الدراسات الاجتماعية - الصف: الخامس - الدور الأول
امتحان نهاية الفصل الدراسي الثاني ١٤٤٥ هـ / ٢٠٢٣م - ٢٠٢٤م

٦- أول غزوة خاضها المسلمون وانتصروا فيها:
أ - غزوة تبوك ب- غزوة أحد ج - غزوة الخندق د- غزوة بدر

٧- الاتجاه الذي سلكه الرسول ﷺ وأصحابه في هجرتهم من مكة إلى المدينة:



أ - الشمال

ب- الجنوب

ج - الشرق

د- الغرب

٨ - أول مسجد بُني في عُمان:
أ - الشواذنة ب- سعال ج - المضمار د- النصر

٩- تشير الصفات الواردة في النص أمامك إلى أحد الشخصيات العمانية التي عاصرت الرسول ﷺ وهو:

أ - كعب بن برشه الطاحي
ب- أبو صفرة العتكي
ج - سلمة بن عياذ الأزدي
د- صالح بن المتوكل

الأعمال: كَانَ مُسْتَشَارًا لِمَلِكِي عُمَانَ جَيْفَرَ وَعَبْدٍ، وَقَدْ اسْتَشَارَهُ
عِنْدَمَا وَصَلْتَهُمَا رِسَالَةُ الرَّسُولِ عَلَيْهِ السَّلَامُ، فَصَدَّقَ عَلَى نَبْوَةِ
سَيِّدِنَا مُحَمَّدٍ ﷺ، وَأَسْلَمَ عَلَى يَدِ الرَّسُولِ ﷺ.
الصفات: كَانَ يَتَحَدَّثُ الْفَارْسِيَّةَ، وَقَارَأَ فِي الْكُتُبِ السَّمَاوِيَّةِ.

١٠- من حقوق المواطن التي نص عليها النظام الأساسي للدولة:
أ - احترام العادات والتقاليد ب- الرعاية الصحية
ج - الالتزام بالأخلاق الحسنة د- مشاركة الأسرة في أعمالها




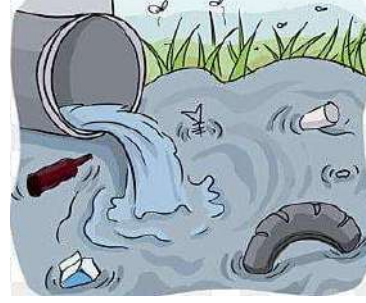

١١ - المقر الرئيسي للجمعية الواضحة أمامك في الصورة:
أ - محافظة الظاهرة ب- محافظة البريمي
ج - محافظة مسقط د- محافظة الداخلية

١٢ - اتفاقية (سيداو) تختص بحقوق:
أ - الطفل ب- المرأة ج - ذوي الإعاقة د) العمال

(٣)

المادة: الدراسات الاجتماعية - الصف: الخامس - الدور الأول
امتحان نهاية الفصل الدراسي الثاني ١٤٤٥ هـ / ٢٠٢٣ م - ٢٠٢٤ م

السؤال الثاني: - أجب عن الأسئلة الآتية (٨ درجات)
أولاً: - أمامك مجموعة من الصور التي توضح بعض المشكلات البيئية الناجمة عن الممارسة الخاطئة للإنسان ، استعن بها ثم أجب عن الأسئلة التي تليها .

الغلاف الحيوي	الغلاف المائي	الغلاف الصخري
		

- ١- المشكلة البيئية الواضحة أمامك في الغلاف الصخري هي
- ٢- المشكلة البيئية الواضحة أمامك في الغلاف الحيوي هي

ثانياً:-

صنف الموارد الطبيعية الآتية حسب استمراريتهما إلى موارد طبيعية متجددة وغير متجددة.
" النفط - طاقة الرياح - طاقة الشمس - الفحم "

موارد طبيعية غير متجددة	موارد طبيعية متجددة
.....



ثالثاً: ادرس الشكل الذي أمامك ثم أجب عما يلي:

١- صف علاقة التفاعل بين الغلاف الحيوي والغلاف الصخري.

.....
.....

٢- اقترح حلاً واحداً للوقاية من الأمطار الحمضية.

.....

(٤)

المادة: الدراسات الاجتماعية - الصف: الخامس - الدور الأول
امتحان نهاية الفصل الدراسي الثاني ١٤٤٥ هـ / ٢٠٢٣م - ٢٠٢٤م

(٨ درجات)

السؤال الثالث :- أجب عن الأسئلة الآتية :

أولاً: " تأمل الصور الآتية و التي توضح الأهمية الاقتصادية للموارد الطبيعية ، ثم اكتب أسفل كل صورة الأهمية التي تمثلها " .

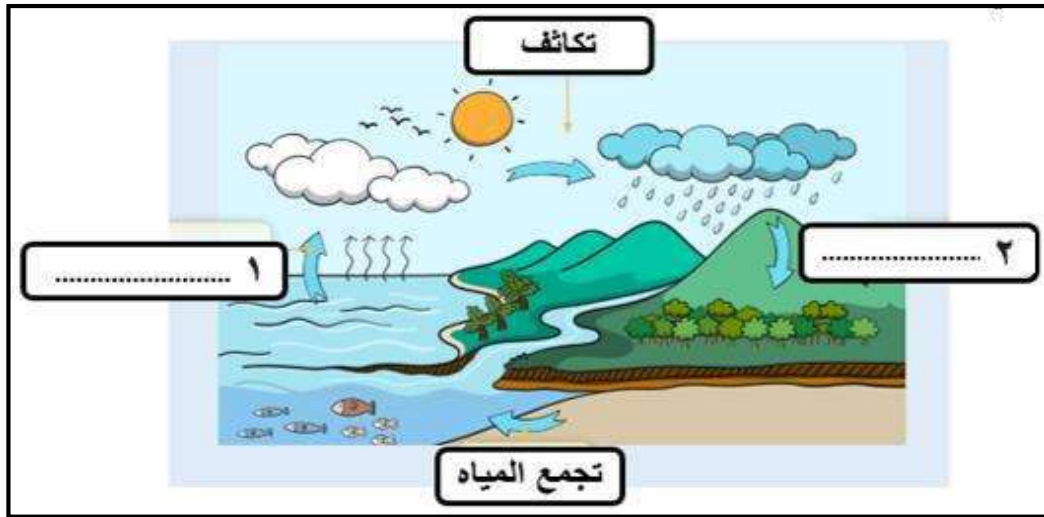


..... (٢)

..... (١)

ثانياً :- (أ)

يوضح الشكل الذي أمامك مراحل دورة المياه في الطبيعة اكتب اسم كل مرحلة في مكانها المناسب:



(ب) علل ما يأتي :-

١- انخفاض درجات الحرارة والبرودة الشديدة على كوكب نبتون .

.....

٢- انضمام سلطنة عمان إلى اتفاقية حقوق الطفل.

.....

ثالثاً: - دلل على:

١- كان للمسجد في عهد الرسول محمد ﷺ أدوار مهمة غير كونه مكاناً للعبادة.

.....

٢- المؤاخاة التي قام بها الرسول محمد ﷺ في المدينة المنورة.

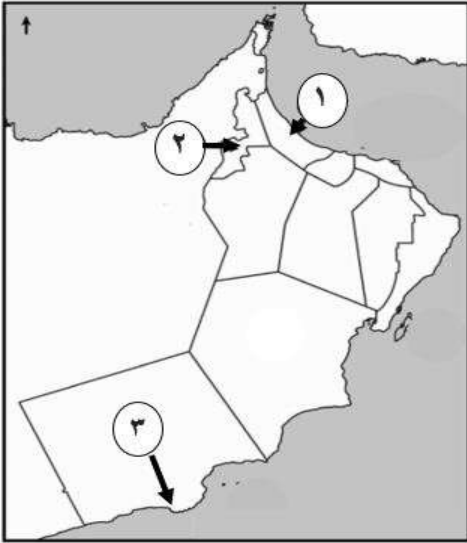
.....

(٥)

المادة: الدراسات الاجتماعية - الصف: الخامس - الدور الأول
امتحان نهاية الفصل الدراسي الثاني ١٤٤٥ هـ / ٢٠٢٣ م - ٢٠٢٤ م

السؤال الرابع: - أجب عن الأسئلة الآتية:
اولاً: - اكتب اسم الشخصية مقابل العبارات في الجدول الآتي :

م	الشخصية	الأعمال
١-	رافق الصحابي مازن بن غضوبة في رحلته إلى المدينة المنورة ، والتقى بالرسول ﷺ وشارك في الفتوحات الاسلامية .
٢-	كان في الوفد الذي ذهب إلى المدينة المنورة في عهد أبي بكر الصديق رضی الله عنه، كما شارك في الفتوحات الاسلامية .



ثانياً :-

ادرس الخريطة التي أمامك، ثم اجب عن الأسئلة التي تليها:

أ- ما اسم المدينة التي كانت عاصمة عُمان، والمشار

اليها بالرقم (١) (.....)

ب - استنتج سبب شهرة المدينة المشار اليها بالرقم (٢)

.....
.....

ثالثاً :- "تقوم اللجنة العمانية لحقوق الانسان بمتابعة أوضاع حقوق الانسان من خلال

عمليات الرصد وتلقى البلاغات "

في ضوء العبارة السابقة، أجب عن الأسئلة الآتية.

١ - استخلص الطرق التي اعتمدت عليها اللجنة في متابعة أوضاع حقوق الانسان.

٢ - دال على اهتمام سلطنة عمان بالإحتفاء وتكريم المرأة العمانية سنوياً.

(٦)

المادة: الدراسات الاجتماعية - الصف: الخامس - الدور الأول
امتحان نهاية الفصل الدراسي الثاني ١٤٤٥ هـ / ٢٠٢٣ م - ٢٠٢٤ م

(٦ درجات)

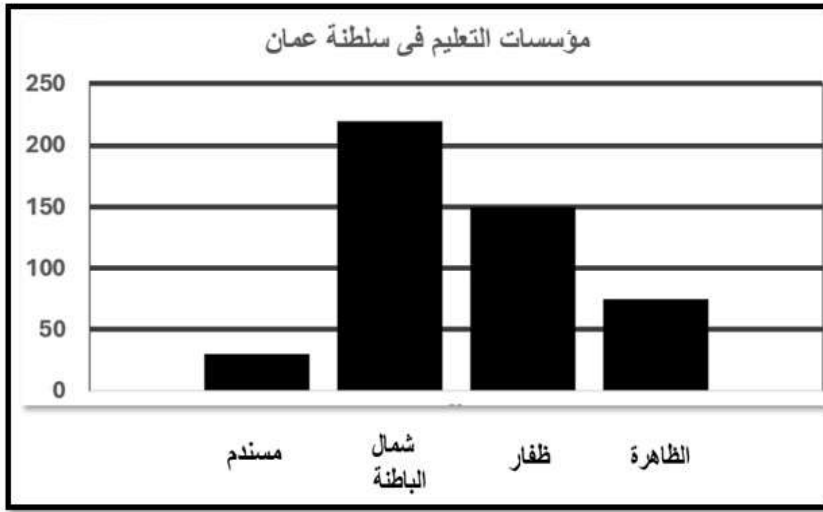
السؤال الخامس: - أجب عن الأسئلة الآتية:

أولاً: -

أ- عرف (الكتب السماوية) .

ب - اذكر اثنين من الأدوار المهمة التي قام بها عدد من الشخصيات العمانية التي عاصرت الرسول ﷺ .

ثانياً: - ادرس الشكل الذي أمامك ثم اجب عما يلي:



أ- يمثل الشكل المقابل: -

واجبات

(اختر الإجابة الصحيحة)

حقوق

ب- اذكر المحافظة العمانية التي يزيد فيها عدد المؤسسات التعليمية عن ٢٠٠ مؤسسة (.....)

ثالثاً :- صنف المؤسسات الوطنية التالية إلى المجال المختصة فيه .
(المؤسسات الأمنية - المؤسسات الخدمية)

المؤسسات	المجال المختصة فيه
١-.....	تقديم الخدمات للمواطنين حسب اختصاصها
٢-.....	حفظ الامن داخل الوطن لينعم المواطن بالرخاء

" انتهت الأسئلة مع الدعاء للجميع بالتوفيق "

المديرية العامة للتربية والتعليم بمحافظة ظفار
 نموذج إجابة امتحان الصف الخامس - لمادة الدراسات الاجتماعية
 للعام الدراسي - ١٤٤٥ هـ / ٢٠٢٣ / ٢٠٢٤ م
 الدور الاول - الفصل الدراسي الثاني " صباحي "

المادة: الدراسات الاجتماعية
 تنبيهه: نموذج الإجابة في (٥) صفحات.
 الدرجة الكلية: (٤٠) درجة.

أولاً: إجابة السؤال الموضوعي:

إجابة السؤال الأول						
المفردة	البديل الصحيح	الإجابة	الدرجة	الوحدة	الصفحة	مستويات التعلم
١	د	المشترى	درجة	الأولى	١٩-١٨	معرفي
٢	ب	٢٠٠٨	درجة	الأولى	٢٠	معرفي
٣	ب	المائي	درجة	الأولى	٣١	فهم وتطبيق
٤	ج		درجة	الأولى	٣٨	فهم وتطبيق
٥	أ	التربة	درجة	الأولى	٣٧	قدرات عليا
٦	د	غزوة بدر	درجة	الثانية	٥٦	معرفي
٧	أ	الشمال	درجة	الثانية	٥٢	فهم وتطبيق
٨	ج	المضمار	درجة	الثانية	٦٣	معرفي
٩	أ	كعب بن برشه الطاحي	درجة	الثانية	٦٨	قدرات عليا
١٠	ب	الرعاية الصحية	درجة	الثالثة	٨١	معرفي
١١	ج	محافظة مسقط	درجة	الثالثة	٩٢	فهم وتطبيق
١٢	ب	المرأة	درجة	الثالثة	٩٥	معرفي
المجموع			١٢ درجة			

(٢)

تابع نموذج إجابة امتحان الصف الخامس
للعام الدراسي ١٤٤٥ هـ / ٢٠٢٣ / ٢٠٢٤ م
الدور الأول- الفصل الدراسي الثاني - المادة: الدراسات الاجتماعية

إجابة السؤال الثاني												
مستويات التعلم	الصفحة	الوحدة	الدرجة	الإجابة	المفردة	الجزئية						
معرفي	٣١	الأولى	درجة	الانهيارات الأرضية	١	أولاً						
معرفي	٣١	الأولى	درجة	- تدهور الغطاء النباتي - قطع الأشجار	٢							
فهم وتطبيق	٣٦	الأولى	٤ درجات لكل مفردة درجة	<table border="1"> <thead> <tr> <th>موارد طبيعية غير متجددة</th> <th>موارد طبيعية متجددة</th> </tr> </thead> <tbody> <tr> <td>النفط</td> <td>طاقة الرياح</td> </tr> <tr> <td>الفحم</td> <td>طاقة الشمس</td> </tr> </tbody> </table>	موارد طبيعية غير متجددة	موارد طبيعية متجددة	النفط	طاقة الرياح	الفحم	طاقة الشمس		ثانياً
موارد طبيعية غير متجددة	موارد طبيعية متجددة											
النفط	طاقة الرياح											
الفحم	طاقة الشمس											
قدرات عليا	٢٩	الأولى	درجة	تمتص جذور النباتات (الغلاف الحيوي) المعادن الموجودة في التربة (الغلاف الصخري) لتساعد على النمو	١	ثالثاً						
قدرات عليا	٣١	الأولى	درجة	- التقليل من الانبعاثات الملوثة للهواء - استخدام الطاقة الشمسية وطاقة الرياح <u>تراعى إجابة الطالب بما يفيد المعنى</u>	٢							
			٨ درجات	المجموع								

(٣)

تابع نموذج إجابة امتحان الصف الخامس

للعام الدراسي ١٤٤٥ هـ / ٢٠٢٣ / ٢٠٢٤ م

الدور الأول- الفصل الدراسي الثاني - المادة: الدراسات الاجتماعية

تابع ثانيا: إجابة الأسئلة المقالية:

إجابة السؤال الثالث						
مستويات التعلم	الصفحة	الوحدة	الدرجة	الإجابة	المفردة	الجزئية
معرفي	٣٩	الأولى	درجة	إنتاج الغذاء	١	أولاً
معرفي	٣٩	الأولى	درجة	مصد للدخل	٢	
فهم وتطبيق	٢٣	الأولى	درجتان لكل مفردة درجة	١- التبخر ٢- التساقط	أ	ثانياً
فهم وتطبيق فهم وتطبيق	١٩	الأولى	درجتان لكل مفردة درجة	١- بسبب المسافة البعيدة بينه وبين الشمس - بسبب بعده عن دفاء وحرارة الشمس حيث تقدر المسافة بمليارات الكيلومترات <u>تراعى إجابة الطالب</u> ٢- لضمان توفير حقوقهم كاملة، وحمائتهم من أي ضرر قد يلحق بهم	ب	
قدرات عليا	٥٣	الثانية	درجة	كان المسجد:- - مكان لاستقبال الوفود - مقر للقيادة - مكان الاجتماعات <u>يكتفى باثنين</u>	١-	ثالثاً
قدرات عليا	٥٤	الثانية	درجة	عمل الرسول صلى الله عليه وسلم على - المؤاخاة بين قبيلتي الأوس والخزرج - المؤاخاة بين المهاجرين والانصار <u>يكتفى بواحدة</u>	٢-	
			٨ درجات	المجموع		

(٤)

تابع نموذج إجابة امتحان الصف الخامس

للعام الدراسي ١٤٤٥ هـ / ٢٠٢٣ / ٢٠٢٤ م

الدور الأول- الفصل الدراسي الثاني - المادة: الدراسات الاجتماعية

تابع ثانيا: إجابة الأسئلة المقالية:

إجابة السؤال الرابع						
مستويات التعلم	الصفحة	الوحدة	الدرجة	الإجابة	المفردة	الجزئية
معرفي	٧٠	الثانية	درجة	صالح المتوكل	-١	أولا
معرفي	٦٩	الثانية	درجة	أبو صفرة العتكي	-٢	
فهم وتطبيق	٦٥	الثانية	درجة	صحار	أ-	ثانيا
فهم وتطبيق	٦٥	الثانية	درجة	سميت قديما بتوام أو توام وهي واحة زراعية تقع على طرق التجارة البرية التي تربط عمان بشبه الجزيرة العربية	ب-	
قدرات عليا	٩٠	الثالثة	درجة	الرصد وتلقى البلاغات	-١	ثالثا
قدرات عليا	٩٥	الثالثة	درجة	خصت سلطنة عمان ١٧ أكتوبر من كل عام يوما للمرأة العمانية للاحتفاء بها.	-٢	
		٦ درجات		المجموع		

(٥)

تابع نموذج إجابة امتحان الصف الخامس

للعام الدراسي ١٤٤٥ هـ / ٢٠٢٣ / ٢٠٢٤ م

الدور الأول- الفصل الدراسي الثاني - المادة: الدراسات الاجتماعية

تابع ثانيا: إجابة الأسئلة المقالية:

إجابة السؤال الخامس						
مستويات التعلم	الصفحة	الوحدة	الدرجة	الإجابة	المفردة	الجزئية
معرفي	٦٨	الثانية	درجة	الكتب التي أنزلها الله على الرسل والأنبياء لتكون هداية ورحمة للناس مثل "التوراة والانجيل والقرآن الكريم"	أ	أولا
معرفي	٦٨	الثانية	درجة	- اسبقيتهم في اعتناق الإسلام - درو العُمانيين في نشر الإسلام - مشاركة العُمانيين في الفتوحات الإسلامية <u>يكتفى بوحدة</u>	ب	
معرفي	٨١	الثالثة	درجة	حقوق	أ	ثانيا
معرفي	٨١	الثالثة	درجة	محافظة شمال الباطنة	ب	
فهم وتطبيق	٩٠	الثالثة	درجة	المؤسسات الخدمية	١-	ثالثا
فهم وتطبيق	٩٠	الثالثة	درجة	المؤسسات الأمنية	٢-	
		٦ درجات		المجموع		

نهاية نموذج الإجابة



امتحان مادة : الدراسات الاجتماعية

للف : الخامس

للعام الدراسي ١٤٤٥هـ - ٢٠٢٣/٢٠٢٤م

الدور الثاني - الفصل الدراسي الثاني

- زمن الامتحان : (ساعة ونصف) ● عدد صفحات أسئلة الامتحان: (٦) صفحات.
- الإجابة في الدفتر نفسه .

		اسم الطالب
الصف		المدرسة

السؤال	الدرجة		التوقيع بالاسم	
	بالأرقام	بالحروف	المصحح الأول	المصحح الثاني
١				
٢				
٣				
٤				
٥				
المجموع			جمعه	مراجعة الجمع
المجموع الكلي				

أجب عن جميع الأسئلة الآتية

السؤال الأول: ضع دائرة حول رمز الإجابة الصحيحة لكل مفردة من المفردات الآتية: (١٢ درجة)

١- تأسست الجمعية الفلكية العمانية عام :

أ - ٢٠٠٧ م ب - ٢٠٠٨ م ج - ٢٠٠٩ م د - ٢٠١٠ م

٢- "حركة الماء من سطح الأرض الى الغلاف الجوي ، ثم عودته مرة أخرى " يقصد به:

أ - الموارد الطبيعية ب - الجريان السطحي ج - دورة الماء في الطبيعة د - التساقط

٣- جميع ما يلي من الموارد الطبيعية في الغلاف الصخري ، ما عدا :

أ - المعادن ب - مصادر الطاقة ج - التربة د - الاكسجين

٤-من الموارد الطبيعية المتجددة التي تحتاج الى فترة زمنية قصيرة لكي تتجدد :

أ -المياه الجوفية ب- التربة ج- أشجار الغابات د - النباتات الطبيعية

٥ - الصورة التي تعبر عن (مواد خام للصناعة) كأحد الموارد الطبيعية ذات الأهمية الاقتصادية :



د



ج



ب

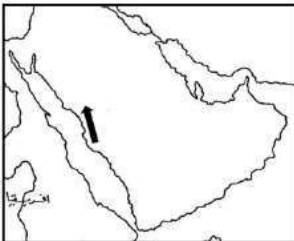


أ

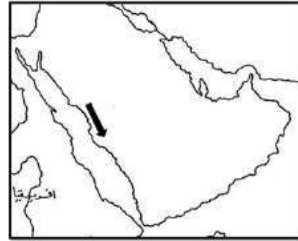
٦ - أول عمل قام به الرسول محمد (صلّ الله عليه وسلم) بعد وصوله الى المدينة المنورة هو بناء :

أ - البيت ب - المسجد ج - الحصن د - سور المدينة

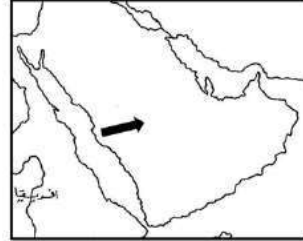
٧- السهم الذي يشير الى الاتجاه الصحيح لهجرة النبي من مكة الى المدينة :



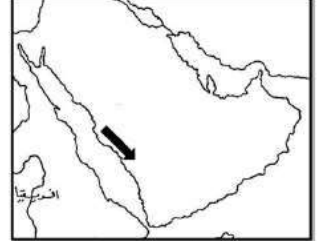
د



ج



ب



أ

تابع السؤال الأول:

٨ - أرسل سيدنا محمد (صَلَّى اللهُ عَلَيْهِ وَسَلَّمَ) رسالته الى ملكي عُمان (جيفر و عبد ابني الجلندي) مع الصحابي :
أ- طلحة بن عبيد الله ب - أسامة بن زيد ج - عمرو بن العاص د - عبدالله بن عمر

٩- الشخصية العمانية التي ذهبت الى المدينة المنورة في بداية عهد الخلافة الراشدة :
أ- كعب بن برشه الطاحي ب - أبو صفرة العتكي

ج - سلمة بن عباد الأزدي د - صالح بن المتوكل

١٠- الشكل الذي يعبر عن شعار اللجنة العُمانية المختصة بنشر ثقافة حقوق الإنسان :




د



ج



ب



أ

١١ - حق المواطن الذي تعبر عنه الصورة المقابلة :



ب - التعليم

أ - التعبير عن الرأي

د - الأمن والأمان

ج - الرعاية الصحية

١٢- الوثيقة الرسمية التي تعرف بالدولة ونظام الحكم فيها كما تبين الحقوق والواجبات العامة ، يقصد بها:

د- النظام الأساسي للدولة

ج - المؤسسات

ب - الواجبات

أ- الحقوق

(٨ درجات)

السؤال الثاني: - أجب عن الأسئلة الآتية :



أولاً : الشكل المقابل يمثل : جذور النباتات تمتص المعادن الموجودة في التربة :

انظر اليه جيدا ثم أجب :

(أ) الغلاف الذي تنتمي اليه جذور النباتات :

(ب) الغلاف الذي تنتمي اليه التربة :

ثانياً: (أ) : أمامك صورة لأبرز مشاريع الطاقة في السلطنة ، انظر اليها ثم أجب عن الأسئلة المقابلة :



١ - المحافظة التي ينتمي لها هذا المشروع :

٢ - أهمية المشروع لسلطنة عمان ؟

.....

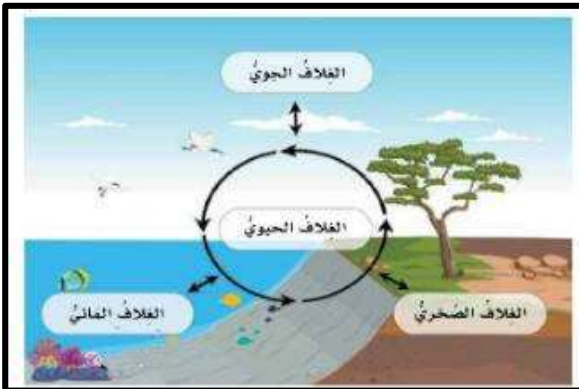
(ب) : " وضعت سلطنة عمان خططاً لإدارة الموارد الطبيعية واستدامتها وذلك ضمن رؤية عمان ٢٠٤٠ ..".

• في ضوء العبارة السابقة ، اكتب اثنين من هذه الخطط :

١ - الخطة الأولى :

٢ - الخطة الثانية :

ثالثاً : أمامك صورة ، ادرسها جيداً ، ثم أجب عن الأسئلة المقابلة :



١ - وضح بأسلوبك : العلاقة بين أغلفة كوكب الأرض ؟

.....

.....

.....


٢- حدد أحد مظاهر سطح الأرض التي تتكون من :

(احتكاك الماء بالصخور)

المظهر هو :

(٨ درجات)

السؤال الثالث : - أجب عن الأسئلة الآتية



أولاً : الصورة التي أمامك توضح سد وادي ضيقة ، انظر إليها ثم أجب :

أ - المحافظة العُمانية التي ينتمي إليها هذا السد :

ب - تعد السدود احدى طرق الاستدامة للموارد الـ :

ثانياً : فسر العبارات الآتية :

أ - الأهمية العظيمة لـ " دورة الماء في الطبيعة " ؟

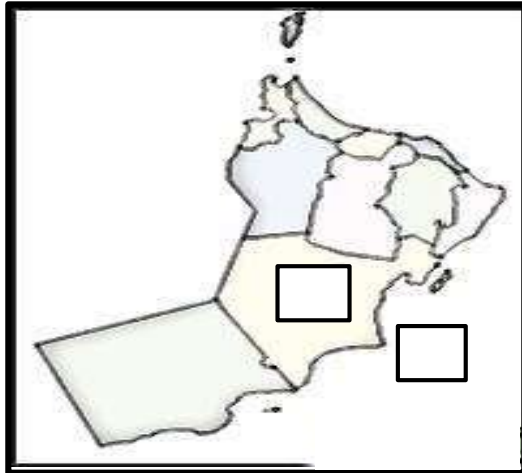
.....

.....

ب - أهمية (المؤسسات الأمنية) ضمن المؤسسات الوطنية التي أنشأتها السلطنة لمواطنيها ؟

.....

.....



ثالثاً :

١ - أمامك خريطة لسلطنة عمان ، انظر إليها جيداً ثم أجب :

أ - ظلل المربع الذي ينتمي جغرافياً الى الغلاف المائي .

ب - فسر : الغلاف الحيوي يمثل البيئة التي تعيش وتنمو وتتكاثر بها الكائنات الحية ؟

.....

٢ - صنف مدن عُمان التالية حسب المجال الذي اشتهرت به عند ظهور الإسلام :
(صحار ، سمائل ، مرباط ، البريمي)

المدينة	المجالات
.....	أ - كانت ميناءً رئيسياً في جنوب عُمان ولها دور مهم في النشاط التجاري
.....	ب - كانت عاصمة عُمان ووصلت إليها رسالة الرسول (صلّ الله عليه وسلم)
.....	ج - سميت قديماً بـ " توّام " وهي واحة زراعية تقع على طرق التجارة البرية
.....	د - ينتمي إليها اول من أسلم من أهل عُمان ولها دوراً في انتشار الإسلام في عمان

السؤال الرابع : - أجب عن الأسئلة الآتية (٦ درجات)

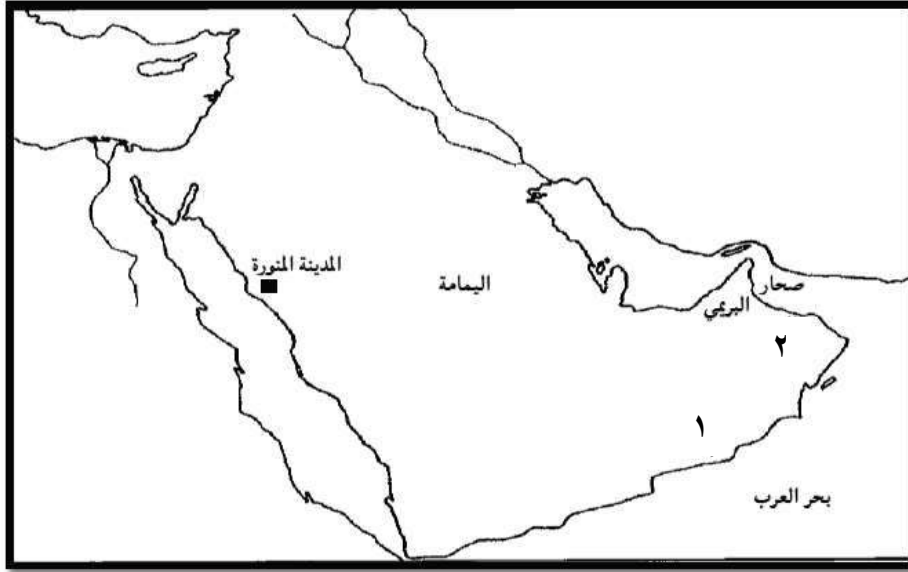
أولاً : اقرأ النص ثم أجب عن الأسئلة التي تليه :

" هي كتب أنزلها الله على الرسل والأنبياء لتكون هداية ورحمة للناس ... "

١- اذكر المصطلح أو المفهوم الذي تشير اليه هذه العبارة :

٢- أعط مثلاً واحداً على هذه الكتب :

ثانياً : امامك خريطة شبه الجزيرة العربية ، ادرسها جيداً ، ثم أجب عن الأسئلة التالية :



١- ارسم خط سير عمرو بن العاص الى عُمان .

٢- حدد الرقم الذي يشير الى الولاية التي بني فيها مسجد المضاير (.....)

ثالثاً : أنسب الإنجازات الآتية الى المجال الذي تنتمي اليه بكتابتها في المكان الصحيح في الجدول الآتي :

إنجازات السلطنة في المجال	المجال
.....	أ - حقوق المرأة
.....	ب - حقوق الطفل

(٦ درجات)

السؤال الخامس : - أجب عن الأسئلة الآتية

أولاً : أجب عن الأسئلة الآتية :

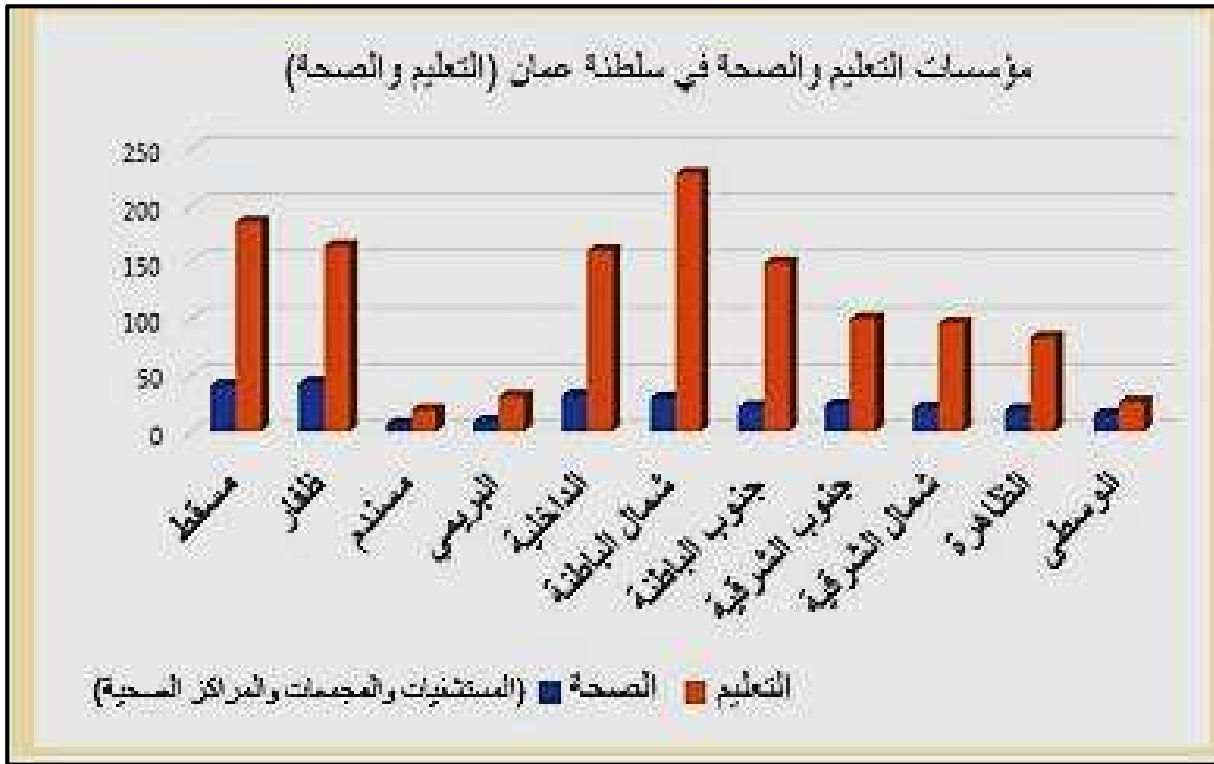
- ١ - من هو القائد العُماني (ابن) الصحابي " أبو صفرة العتكي " :
- ٢ - اذكر صفة واحدة من صفات (أبو صفرة العتكي) .

ثانياً :

١- عرف : " الحقوق " :

٢- ما الدور الذي تقوم به اللجنة الوطنية لحقوق الانسان :

ثالثاً : ادرس الشكل التالي ثم أجب عما يلي :



١ - الخدمة التي يوضحها الشكل السابق :

(اختر الإجابة الصحيحة)

أ - الحقوق ب - الواجبات

٢ - حدد الهدف من إنشاء المؤسسات الوطنية في سلطنة عمان ؟

انتهت الأسئلة مع الدعاء للجميع بالتوفيق والنجاح.

المديرية العامة للتربية والتعليم بمحافظة ظفار
نموذج إجابة امتحان الصف الخامس لمادة الدراسات الاجتماعية
للعام الدراسي - ١٤٤٥هـ - ٢٠٢٣/٢٠٢٤م
الدور الثاني - الفصل الدراسي الثاني

المادة: الدراسات الاجتماعية
تنبيهه: نموذج الإجابة في (٥) صفحات.
الدرجة الكلية: (٤٠) درجة.

أولاً: إجابة السؤال الموضوعي:

إجابة السؤال الأول

المفردة	البديل الصحيح	الإجابة	الدرجة	الوحدة	الصفحة	مستويات التعلم
١	ب	٢٠٠٨ م	درجة	أولى	٢٠	معرفي
٢	ج	دورة الماء في الطبيعة	درجة	أولى	٢٣	معرفي
٣	د	الاكسجين	درجة	أولى	٢٧	فهم وتطبيق
٤	أ	المياه الجوفية	درجة	أولى	٣٧	فهم وتطبيق
٥	د		درجة	أولى	٣٩	قدرات عليا
٦	ب	المسجد	درجة	الثانية	٥٢	معرفي
٧	د		درجة	الثانية	٥٢	فهم وتطبيق
٨	ج	عمرو بن العاص	درجة	الثانية	٦٠	معرفي
٩	ب	أبو صفرة العتكي	درجة	الثانية	٦٩	قدرات عليا
١٠	ج		درجة	الثالثة	٩٠	معرفي
١١	ب	التعليم	درجة	الثالثة	٨١	فهم وتطبيق
١٢	د	النظام الأساسي للدولة	درجة	الثالثة	٨١	معرفي
		المجموع	١٢ درجة			

(٢)

تابع نموذج إجابة امتحان الصف الخامس

للعام الدراسي ١٤٤٥هـ - ٢٠٢٣/٢٠٢٤م

الدور الثاني- الفصل الدراسي الثاني - المادة: الدراسات الاجتماعية

إجابة السؤال الثاني						
مستويات التعلم	الصفحة	الوحدة	الدرجة	الإجابة	المفردة	الجزئية
معرفي	٢٩	الأولى	درجة	الغلاف الحيوي	أ	اولاً
معرفي	٢٩	الأولى	درجة	الغلاف الصخري	ب	
فهم وتطبيق	٤١	الأولى	درجة	محافظة ظفار	١	ثانياً
فهم وتطبيق			درجة	لتوليد الكهرباء في سلطنة عمان		
فهم وتطبيق	٤٠	الأولى	درجتان (لكل خطة درجة واحدة)	الخطط : ١ - الاستفادة من الموارد المتجددة ٢ - تقليل الاعتماد على الموارد غير المتجددة ٣ - وضع القوانين للمحافظة على الموارد الطبيعية والحد من استنزافها (يكتفى بذكر إجابتين)	(ب)	
فهم وتطبيق			درجة			
قدرات عليا	٢٨	الأولى	درجة واحدة	يعد كوكب الأرض نظاماً بيئياً متكاملماً مكوناً من أغلفة عديدة تربط بينها علاقات تفاعلية (ما يفيد المعنى)	١	ثالثاً
	٢٩	الأولى	درجة واحدة	الكهوف (يمكن للطالب أن يذكر أي شكل من أشكال النحت البحري) مثل : مسلة - قوس بحري - جرف	٢	
	٨ درجات			المجموع		


(٣)

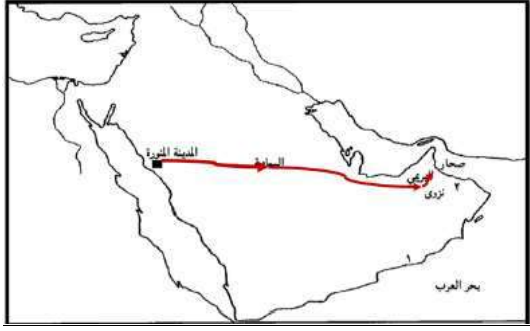
تابع نموذج إجابة امتحان الصف الخامس

للعام الدراسي ١٤٤٥هـ - ٢٠٢٣/٢٠٢٤م

الدور الثاني- الفصل الدراسي الثاني - المادة: الدراسات الاجتماعية

إجابة السؤال الثالث

أبجدية	الإجابة	الدرجة	الوحدة	الصفحة	مستويات التعلم
أولاً	أ مسقط	درجة	الأولى	٤٢	معرفي
	ب الموارد المائية	درجة	الأولى	٤٢	معرفي
ثانياً	أ هي المسؤولة عن حركة المياه واستمراريتها في النظام الأرضي (ما يفيد المعنى)	درجة	الأولى	٢٢	فهم وتطبيق
	ب حفظ الأمن داخل الوطن لينعم المواطن بالرخاء (ما يفيد المعنى)	درجة	الثالثة	٩٠	فهم وتطبيق
ثالثاً	أ 	درجة	الأولى	٢٢	فهم وتطبيق
	ب نظراً لتوفر الظروف الطبيعية الملائمة	درجة	الأولى	٢٤	فهم وتطبيق
٢	أ مرباط	درجتان (لكل مفردة نصف درجة) الثانية	٦٥		قدرات عليا
	ب صحار				
	ج البريمي				
	د سمائل				
المجموع		٨ درجات			

إجابة السؤال الرابع						
مستويات التعلم	الصفحة	الوحدة	الدرجة	الإجابة	المفردة	الجزئية
معرفي	٦٨	الثانية	درجة	الكتب السماوية	أ	
معرفي	٦٨	الثانية	درجة	التوراة - الانجيل - القرآن (يكتفى بذكر كتاباً سماوياً واحداً)	ب	أولاً
فهم تطبيق	٦٠	الثانية	درجة		أ	ثانياً
فهم وتطبيق	٦٣	الثانية	درجة	رقم (٢)	ب	
قدرات عليا	٩٥ - ٩٣	الثالثة	درجتان لكل مجال درجة واحدة	إنجازات السلطنة	المجال	ثالثاً
				كفل لها حقها في التعليم والعمل وفي أي جانب بما لا يتعارض مع طبيعة المرأة وقد انضمت السلطنة الى اتفاقية القضاء على جميع أشكال التمييز ضد المرأة (سيداو) وخصصت السلطنة يوم ١٧ أكتوبر من كل عام يوماً للمرأة العمانية للاحتفاء بها . (ما يفيد تمتع المرأة العمانية بكافة الحقوق داخل المجتمع العماني)	أ - حقوق المرأة	
				انضمام السلطنة الى اتفاقية حقوق الطفل عام ١٩٩٦ م لضمان توفير حقوقهم وحمايتهم من أي ضرر وقد تضمنت : - حماية الطفل من أداء الاعمال الخطرة - تمتع الطفل من ذوي الإعاقة برعاية آمنة وحياة كريمة - حق الطفل في التمتع بمستوى عال من الصحة (ما يفيد فهم الطالب لحقوق يتمتع بها الطفل العماني)	ب - حقوق الطفل	
			٦ درجات	المجموع		

إجابة السؤال الخامس						
مستويات التعلم	الصفحة	الوحدة	الدرجة	الإجابة	المفردة	الجزئية
معرفي	٦٩	الثانية	درجة	القائد العماني (المهلب بن أبي صفرة)	١	أولا
معرفي	٦٩	الثانية	درجة	فصاحة اللسان - الشجاعة (يكتفى بذكر صفة واحدة)	٢	
معرفي	٨٠	الثالثة	درجة	الحقوق : ما يحصل عليه المواطن من الدولة والمجتمع ، وفقاً للقانون وثقافة المجتمع	١	ثانيا
معرفي	٩٠	الثالثة	درجة	متابعة أوضاع حقوق الانسان من خلال عمليتي الرصد وتلقي البلاغات (ما يفيد المعنى)	٢	
فهم	٨٣ ، ٨١	الثالثة	درجة	أ (حقوق)	١	
فهم وتطبيق	٩٠	الثالثة	درجة	لتضمن لهم حقوقهم كاملة دون تقصير ، من أجل رعاية حقوق كل فرد من أفراد هذا الوطن (ما يفيد المعنى)	٢	ثالثا
		٦ درجات		المجموع		

نهاية نموذج الإجابة



سلطنة عُمان
وزارة التربية والتعليم

امتحان مادة الدراسات الاجتماعية
للفيف الخامس الأساسي - الفيفر المسائية
للعام الدراسي 1445هـ - 2023/2024 م
الدور الأول - الفيفر الدراسي الثاني

● عدد صفحات أسئلة الامتحان: (5) صفحات.

● زمن الامتحان: (ساعة ونصف)

● الإجابة في الدففر نفسه.

		اسم الطالب
الصف	المدرسة	

التوقيع بالاسم		الدرجة		السؤال
المصحح الثاني	المصحح الأول	بالحروف	بالأرقام	
				1
				2
				3
				4
				5
مراجعة الجمع	جمعه			المجموع
			40	المجموع الكلي

	التوقيع		المراقب (1)
	التوقيع		المراقب (2)

أجب عن جميع الأسئلة الآتية

12

السؤال الأول:

ضع دائرة حول رمز الإجابة الصحيحة لكل مفردة من المفردات الآتية:

1- الكوكب الذي يحتل المرتبة الأولى في المجموعة الشمسية:

- أ- عطارد ب- الأرض ج- المريخ د- الزهرة

2- إذا علمت أن نسبة اليابس 29% على الكرة الأرضية فإن نسبة الماء تشكل:

- أ- 71% ب- 30% ج- 31% د- 32%

3- جميع ما يلي موارد متجددة ما عدا:

- أ- النبات ب- الرياح ج- الشمس د- النفط

4- آخر غزوة شارك فيها الرسول صلى الله عليه وسلم:

- أ- أحد ب- تبوك ج- الخندق د- بدر

5- المفهوم الذي يطلق على دخول المناطق غير المسلمة الإسلام لتصبح جزءاً من الدولة الإسلامية:

- أ- الغزوة ب- الصحيفة ج- الهجرة د- الفتوحات الإسلامية

6- عدد أغلفة كوكب الأرض:

- أ- 2 ب- 3 ج- 4 د- 5

7- العمل الأول الذي قام به الرسول صلى الله عليه وسلم بعد وصوله إلى المدينة المنورة:

- أ- الصحيفة ب- المؤاخاة ج- بناء المسجد د- حماية الدولة

8- شخصية عمانية كان يتحدث الفارسية وقارئاً في الكتب السماوية:

- أ- أبو صفرة العتكي ب- كعب بن برشه الطاحي ج- سلمة بن عباد الأزدي د- صالح بن المتوكل

9- العام الذي انضمت فيه سلطنة عمان إلى اتفاقية حقوق الطفل:

- أ- 1994 ب- 1995 ج- 1996 د- 1997

تابع السؤال الأول:



- 10- حق الطفل الذي تمثله الصورة المقابلة:
أ- حماية الطفل من أداء الأعمال الخطرة
ب- تمتع الطفل بالمساواة
ج- حق الطفل في التمتع بمستوى صحي عال
د- يحق للطفل التعبير عن رأيه ومشاعره بحرية

11- من المشكلات البيئية في الغلاف الحيوي:

- أ- الأمطار الحمضية ب- تلوث المياه ج- تدهور الغطاء النباتي د- الانهيارات الأرضية

12- المقر الرئيسي للجمعية الفلكية العمانية للأشخاص ذوي الإعاقة:

- أ- مسقط ب- الرستاق ج- نزوى د- صحار

السؤال الثاني:

أولاً: اكتب أمام كل عبارة المصطلح / المفهوم الذي يعبر عنه فيما يلي:

المصطلح / المفهوم	العبارة
أ-	هي الموارد الموجودة بكميات محدودة في الأرض وتنفذ مع استهلاكها
ب-	الكتب التي انزلها الله تعالى على الرسل والانبياء لتكون هداية ورحمة للناس
ج-	ما يحصل عليه المواطن من الدولة والمجتمع وفقاً للقانون وثقافة المجتمع.

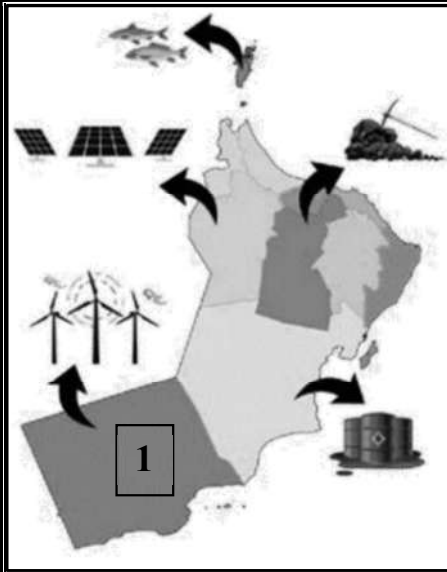
ثانياً: علل لما يأتي:

أ- اضطر المسلمون بقيادة الرسول صلى الله عليه وسلم الى خوض العديد من المعارك.

.....
.....

ب- ارتفاع درجة الحرارة على كوكب عطارد.

.....
.....



ثالثاً: ادرس الصورة المقابلة ثم اجب عما يلي:

أ- ما الطاقة المستخدمة في محطة توليد الكهرباء التي يشير إليها الرقم (1)؟

.....

ب- متى تم افتتاح هذه المحطة؟

.....

ج- في أي محافظة توجد هذه المحطة؟

.....

السؤال الثالث:

أولاً: ادرس الصورة التالية ثم اجب عن الأسئلة:

أ- ما اسم الغلاف الذي تشير إليه الصورة المقابلة؟


.....

ب- ما هو المورد الطبيعي الذي توضحه الصورة؟

.....

ج- نوع المورد الطبيعي:

(متجدد - غير متجدد) اختر الإجابة الصحيحة



ثانياً: تأمل الآية الكريمة ثم اجب عما يلي:

قال الله تعالى "إذن للذين يقاتلون بأنهم ظلموا وإن الله لنصرهم لقدير"

أ- ما الأمر الذي أذن الله تعالى للمسلمين القيام به؟

.....

ب- اذكر الوعد الذي وعده الله تعالى عباده المسلمين؟

.....

ثالثاً: صنف الموارد الطبيعية التالية إلى موارد متجددة وموارد غير متجددة:

(النفط - الحيوانات - الرياح - الغاز الطبيعي - المياه - الفحم)

الموارد غير المتجددة	الموارد المتجددة

السؤال الرابع:

أولاً: ادرس خريطة شبه الجزيرة العربية ثم اجب عما يلي:

6



أ- استخرج من الخريطة:

- 1- سُميت قديماً بتؤام وهي واحة زراعية تقع على طرق التجارة البرية
- 2- كانت عاصمة عمان وهناك وصلت رسالة الرسول صلى الله عليه وسلم
- 3- المدينة التي اتخذها الرسول عاصمة للدولة الإسلامية
- 4- رقم المدينة التي ينتمي إليها أول من أسلم من أهل عمان

ب- اكتب المواقع التالية على الخريطة: (البحر الأحمر - الخليج العربي)

ثانياً: صنف مدن عمان التالية الى المجالات التي اشتهرت بها عند ظهور الإسلام:
(صحار - سمائل - مرباط - نزوى)

المدن	المجالات
	أ-المدينة العمانية التي بني فيها مسجد الشواذنة
	ب-كانت ميناء رئيسي في جنوب عمان ولها دور في النشاط التجاري

ثالثاً: بصفتك "مواطن صالح" اكتب واجبك تجاه ما يلي:

أ- النشيد الوطني

ب- الزي العماني

السؤال الخامس:

6

أولاً: أقرأ النص التالي ثم اجب عما يلي:

"خرجت أسرة لقضاء وقت ممتع في إحدى الحدائق العامة في سلطنة عمان وفي أثناء جلوسهم قام الأطفال بقطف الأزهار"

أ- ما رأيك في السلوك الذي قام به الأطفال؟ ولماذا؟

ب- اكتب نصيحة تقدمها لهؤلاء الأطفال؟

ثانياً: صنف المؤسسات الوطنية التالية إلى المجال المختصة فيه:

(المؤسسات القضائية - المؤسسات الأمنية - المؤسسات الخدمية)

المؤسسات	المجال المختصة فيه
	أ- تقديم الخدمات للمواطنين حسب اختصاصاتها
	ب- حفظ حقوق المواطنين من أي اعتداء أو ضرر

ثالثاً: أمامك صورة لإحدى المشكلات البيئية التي تحدث لأحد أغلفة كوكب الأرض. ادرسها جيداً ثم اجب عما يلي:



أ- ما المشكلة البيئية التي تعبر عنها الصورة؟

ب- سم الغلاف الأرضي التي تحدث فيه هذه المشكلة؟

انتهت الأسئلة مع الدعاء للجميع بالتوفيق والنجاح.



سَلْطَنَةُ عُمَانِ
وَزَارَةُ التَّرْبِيَةِ وَالتَّعْلِيمِ

امتحان مادة الدراسات الاجتماعية
للفيف الخامس الأساسي - الفتره الصباحية
للعام الدراسي 1445هـ - 2024/2023 م
الدور الأول - الفصل الدراسي الثاني

● عدد صفحات أسئلة الامتحان: (5) صفحات.

● زمن الامتحان: (ساعة ونصف)

● الإجابة في الدفتر نفسه.

		اسم الطالب
الصف	المدرسة	

التوقيع بالاسم		الدرجة		السؤال
المصحح الثاني	المصحح الأول	بالحروف	بالأرقام	
				1
				2
				3
				4
				5
مراجعة الجمع	جمعه			المجموع
			40	المجموع الكلي

التوقيع	المراقب (1)
التوقيع	المراقب (2)

أجب عن جميع الأسئلة الآتية

12

السؤال الأول:

ضع دائرة حول رمز الإجابة الصحيحة لكل مفردة من المفردات الآتية:

1- الكوكب الذي يحتل المرتبة الثالثة في المجموعة الشمسية:

- أ- عطارد ب- الأرض ج- المريخ د- الزهرة

2- المقر الرئيسي للجمعية العمانية للأشخاص ذوي الإعاقة:

- أ- مسقط ب- الرستاق ج- نزوى د- صحار

3- من المشكلات البيئية في الغلاف الحيوي:

- أ- الأمطار الحمضية ب- تلوث المياه ج- تدهور الغطاء النباتي د- الانهيارات الأرضية

4- أول غزوة في الإسلام:

- أ- أحد ب- تبوك ج- الخندق د- بدر



5- المحافظة التي يتوافر فيها الأسماك حسب الخريطة المقابلة:


- أ- الوسطى ب- مسندم ج- الظاهرة د- الداخلية

6- يطلق على أتباع الرسول صلى الله عليه وسلم الذين هاجروا من مكة إلى المدينة:

- أ- الأنصار ب- المهاجرين ج- الصحابة د- التابعين

7- عدد كواكب المجموعة الشمسية:

- أ- 5 ب- 6 ج- 7 د- 8



8- الكوكب الذي يمثله الشكل المقابل:

- أ- المريخ ب- الأرض ج- المشتري د- زحل

9- العمل الأول الذي قام به الرسول صلى الله عليه وسلم بعد وصوله إلى المدينة المنورة:

- أ- بناء المسجد ب- المؤاخاة ج- الصحيفة د- حماية الدولة

تابع السؤال الأول:

10- اليوم الذي خصته سلطنة عُمان للاحتفال بيوم المرأة العمانية:

د- 17 ديسمبر

ج-17 نوفمبر

ب- 17 أكتوبر

أ-17 سبتمبر



11- حق الطفل الذي تمثله الصورة المقابلة:

أ- حماية الطفل من أداء الأعمال الخطرة

ب- تمتع الطفل بالمساواة

ج- حق الطفل في التمتع بمستوى صحي عال

د- حق للطفل في التعبير عن رأيه ومشاعره بحرية

12- شخصية عمانية عرف بالإخلاص والشجاعة ورافق مازن بن غضوبه في رحلته للمدينة المنورة:

أ- أبو صفرة العتكي ب- سلمة بن عباد الأزدي ج- صالح بن المتوكل د- كعب بن برشة الطاحي

السؤال الثاني:

أجب عن جميع الأسئلة الآتية: -

8

1- اكتب أمام كل عبارة المصطلح /المفهوم الذي يعبر عنه فيما يلي:

المصطلح / المفهوم	العبارة
أ-	تجمع عدد كبير من النجوم والسحب والغازات على شكل شريط حلزوني مضيء في السماء.
ب-	كتاب أو وثيقة وضعها الرسول صلى الله عليه وسلم وضح فيها الحقوق والواجبات لسكان المدينة المنورة.
ج-	ما يجب على المواطن القيام به تجاه الدولة والمجتمع وفقا لقانون وثقافة المجتمع.

2- علل لما يأتي:

أ-اهتمام الرسول محمد صلى الله عليه وسلم بتطبيق مبدأ المؤاخاة في مجتمع المدينة المنورة.

.....
.....

ب-سبب البرودة الشديدة على كوكب نبتون.

.....
.....

3- ادرس الشعار التالي ثم اجب عما يلي:

أ-ما اسم الجمعية التي يمثلها الشعار المقابل؟


.....

ب-متى تأسست هذه الجمعية؟

.....

ج-اذكر اختصاص هذه الجمعية؟

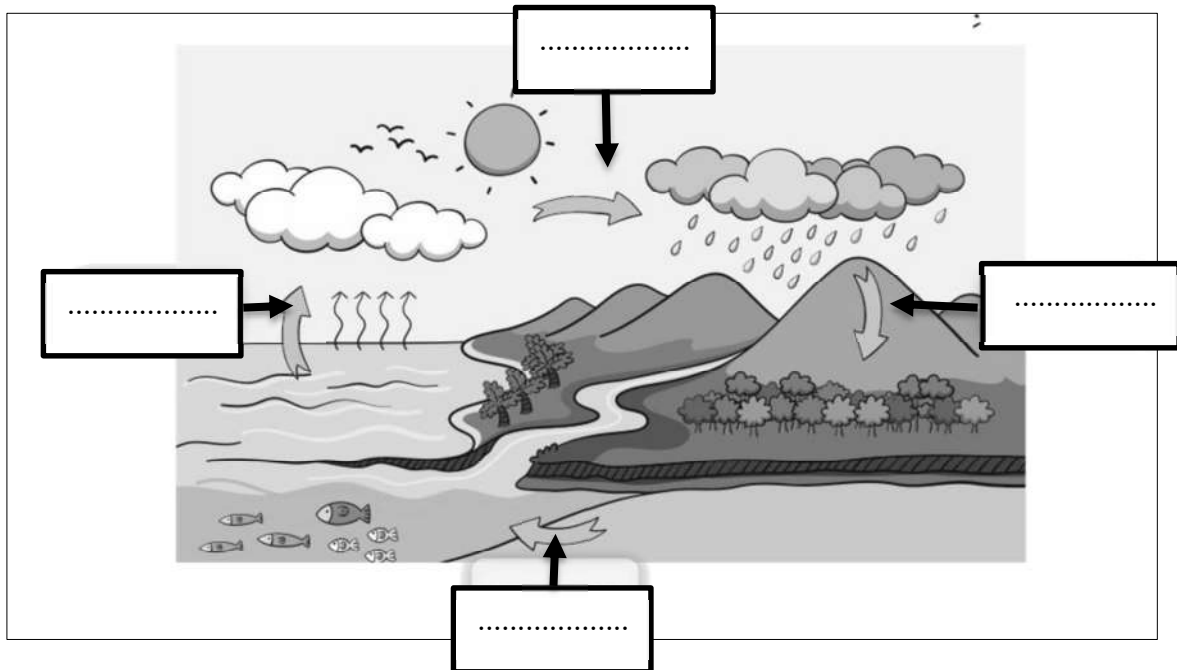
.....



السؤال الثالث:

8

1- يوضح الشكل أدناه مراحل دورة الماء في الطبيعة. أكتب اسم كل مرحلة في مكانها المناسب.



2- اذكر عنصرين لكل مما يلي:

أ- سكان المدينة المنورة في عهد الرسول صلى الله عليه وسلم؟

1-
2-

ب- مكونات الغلاف الحيوي؟

1-
2-

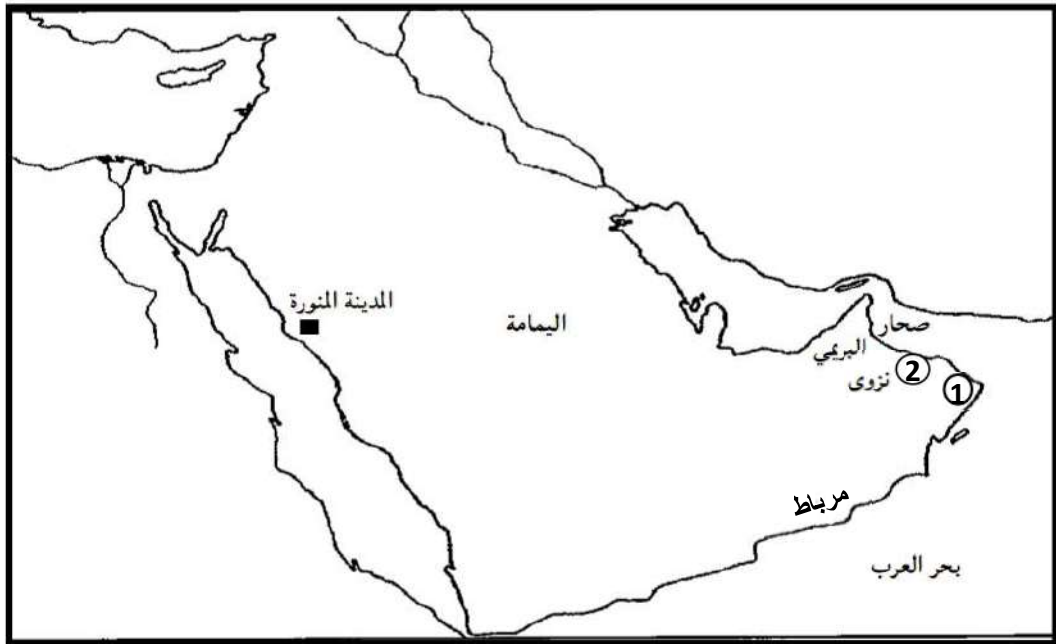
3- صنف العبارات التالية إلى حقوق وواجبات وذلك بوضع إشارة (✓) عند الخيار الصحيح:

العبارات	حقوق	واجبات
أ- إنشاء المدارس والجامعات والمعاهد		
ب- اهتمام الطالب بدروسه والمذاكرة باستمرار		
ج- مشاركة الأسرة في أعمالها		
د- حرية التعبير عن الرأي بما لا يسيء للآخرين		

السؤال الرابع:

1- ادرس خريطة شبه الجزيرة العربية ثم أجب عما يلي:

6



أ- استخرج من الخريطة:

- 1- ميناء رئيسي في جنوب عمان وكان له دور مهم في النشاط التجاري
- 2- رقم المدينة التي ينتمي إليها أول من أسلم من عمان
- 3- المدينة التي اتخذها الرسول عاصمة للدولة الإسلامية
- 4- المدينة العمانية التي بني فيها مسجد الشواذنة

ب- اكتب المواقع التالية على الخريطة: (البحر الأحمر - الخليج العربي)

2- صنف الموارد الطبيعية التالية إلى موارد متجددة وموارد غير متجددة:

(النفط - الحيوانات - الرياح - الغاز الطبيعي - المياه - الفحم)

الموارد غير المتجددة	الموارد المتجددة

6

السؤال الخامس:

1- أمامك صورة رسالة الرسول صلى الله عليه وسلم لمليكي عمان ادرسها جيداً ثم اجب عما يليها:-

أ- من الذي حمل رسالة الرسول صلى الله عليه وسلم إلى مليكي عمان؟

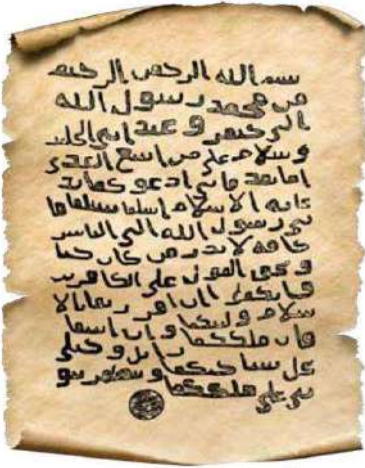
.....

ب- من كان مليكي عمان في تلك الفترة؟

.....

ج- ماهي المدينة العمانية التي حظيت باستقبال رسالة الرسول صلى الله عليه وسلم؟

.....



2- صنف المؤسسات الوطنية التالية إلى المجال المختصة فيه:

(المؤسسات القضائية - المؤسسات الأمنية - المؤسسات الخدمية)

المؤسسات	المجال المختصة فيه
	أ- تقديم الخدمات للمواطنين حسب اختصاصاتها
	ب- حفظ حقوق المواطنين من أي اعتداء أو ضرر
	ج- حفظ الأمن داخل الوطن لينعم المواطن بالرخاء

3- أمامك صورة لأحد المشكلات البيئية التي تحدث لأحد أغلفة كوكب الأرض. ادرسها جيداً ثم اجب عما يلي:

أ- ما المشكلة البيئية التي تعبر عنها الصورة؟


.....

ب- اكتب تعريفاً للمشكلة؟

.....

ج- سم الغلاف الأرضي التي تحدث فيه هذه المشكلة؟

.....



انتهت الأسئلة مع الدعاء للجميع بالتوفيق والنجاح.



سلطنة عُمان
وزارة التربية والتعليم

امتحان مادة الدراسات الاجتماعية
للفيف الخامس الأساسي
للعام الدراسي 1445هـ - 2024/2023 م
الدور الثاني - الفصل الدراسي الثاني

- زمن الامتحان: (ساعة ونصف)
- عدد صفحات أسئلة الامتحان: (5) صفحات.
- الإجابة في الدفتر نفسه.

اسم الطالب	
الصف	المدرسة

التوقيع بالاسم		الدرجة		السؤال
المصحح الثاني	المصحح الأول	بالحروف	بالأرقام	
				1
				2
				3
				4
				5
مراجعة الجمع	جمعه			المجموع
			40	المجموع الكلي

التوقيع	المراقب (1)
التوقيع	المراقب (2)

أجب عن جميع الأسئلة الآتية

السؤال الأول:

ضع دائرة حول رمز الإجابة الصحيحة لكل مفردة من المفردات الآتية:

1- عدد كواكب المجموعة الشمسية:

- أ- 5 ب- 6 ج- 7 د- 8

2- إذا علمت أن نسبة الماء 71% على الكرة الأرضية فإن نسبة اليابس تشكل:

- أ- 29% ب- 30% ج- 31% د- 32%

3- الكوكب الذي يتميز بوجود الحياة عليه:

- أ- المشتري ب- الأرض ج- زحل د- نبتون


4- الغلاف الأرضي الذي تحدث فيه مشكلة الأمطار الحمضية:

- أ- الصخري ب- الجوي ج- المائي د- الحيوي


5- الصورة التي تمثل مورد طبيعي غير متجدد:



د-



ج-



ب-



أ-

6- عاصمة الدولة الإسلامية في عهد الرسول صلى الله عليه وسلم:

- أ- المدينة المنورة ب- مكة المكرمة ج- اليمامة د- تبوك

7- أول غزوة في الإسلام خاضها المسلمون وانتصروا فيها:

- أ- أحد ب- تبوك ج- بدر د- الخندق

8- الصحابي الذي حمل رسالة الرسول صلى الله عليه وسلم إلى ملكي عمان ليدعوها للإسلام كما موضح في

الصورة:



- أ- عمرو بن العاص ب- مازن بن غضوبه
ج- صحرار بن العباس د- المهلب بن أبي صفرة

9- المقر الرئيسي لجمعية الأشخاص ذوي الإعاقة:

- أ- صحرار ب- نزوى ج- الرستاق د- مسقط

تابع السؤال الأول:

9- المقر الرئيسي لجمعية الأشخاص ذوي الإعاقة:

أ- صحار ب- نزوى ج- الرستاق د- مسقط

10- مؤسسة وطنية تعمل على حفظ الأمن داخل الوطن:

أ- القضائية ب- الخدمية ج- الأمنية د- التعليمية

11- شخصية عمانية كان مستشارا ملكي عمان عبد وجيفر:

أ- كعب بن برشه الطاحي ب- أبوصفرة العتكي ج- سلمة بن عباد الازدي د- صالح بن المتوكل



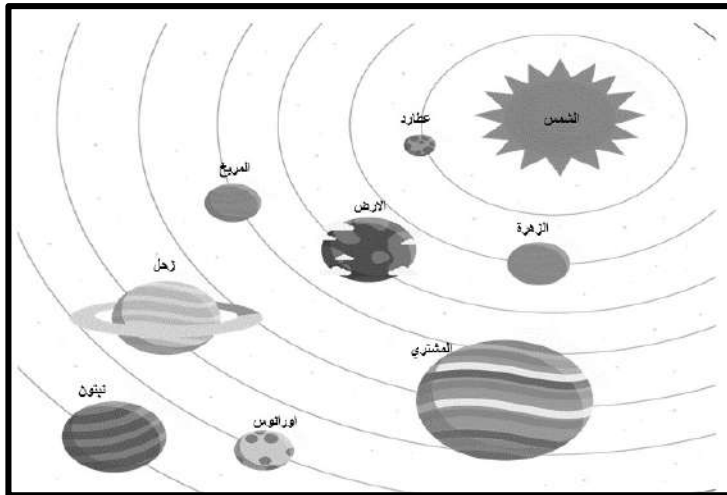
12- حق الطفل الذي تمثله الصورة المقابلة:

- أ- حماية الأطفال من أداء الأعمال الخطرة
ب- تمتع الأشخاص ذوي الإعاقة بحياة كريمة
ج- حق الطفل في التمتع بمستوى صحي عالي
د- يحق للطفل التعبير عن رأيه ومشاعره بحريه

8

السؤال الثاني:

أولاً: ادرس الشكل جيداً ثم أجب عما يلي:



أ- الكوكب الأقرب الى الشمس

(-----)

ب- أكبر كوكب في المجموعة الشمسية

(-----)



ج- الكوكب الذي يتميز بحلقات حوله

(-----)

ثانياً: صنف العبارات التالية الى حقوق وواجبات وذلك بوضع اشارة (✓) عند الخيار الصحيح:

العبارات	حقوق	واجبات
أ- الرعاية الصحية		
ب- احترام العادات والتقاليد		
ج- الالتزام بالأخلاق الحسنة		
د- التعليم		

ثالثاً: أكمل مخطط أدوار المسجد في عهد الرسول صلى الله عليه وسلم:



السؤال الثالث:

أولاً: ادرس الصورة التالية ثم أجب عن الأسئلة:

أ- ما اسم الغلاف الذي تشير إليه الصورة التالية؟

ب- ما هو المورد الطبيعي الذي توضحه الصورة؟

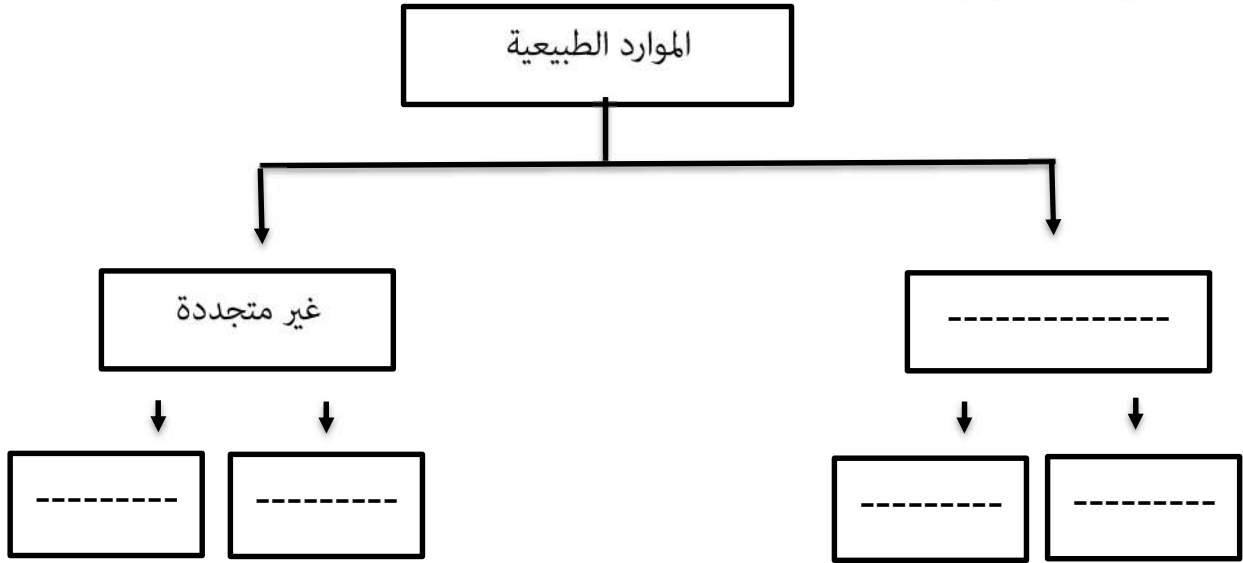
ج- نوع المورد الطبيعي:

(متجدد - غير متجدد) اختر الإجابة الصحيحة



8

ثانياً: أكمل الخريطة المفاهيمية التالية:



ثالثاً: تأمل الآية الكريمة ثم اجب عما يلي:

قال الله تعالى "إذن للذين يقاتلون بأنهم ظلموا وإن الله لنصرهم لتقدير"
أ- ما الأمر الذي أذن الله تعالى للمسلمين القيام به؟

ب- اذكر الوعد الذي وعده الله تعالى عباده المسلمين؟

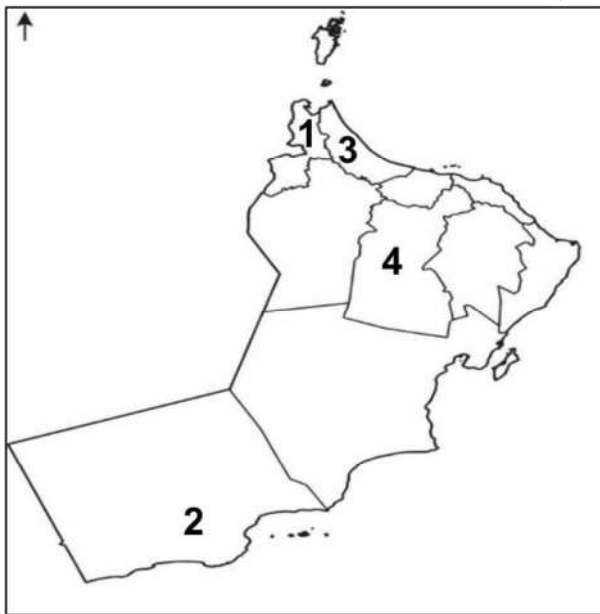
السؤال الرابع:

أولاً: أمامك خريطة سلطنة عمان ادرسها جيداً ثم أجب عن الآتي:

أ- ما اسم الميناء الرئيسي في جنوب عمان
والمشار اليه بالرقم (2)؟

ب- ما اسم المدينة العمانية التي يشير اليها
الرقم (1) والتي سميت قديماً باسم (توأم)؟

ج- اكتب على الخريطة موقع: بحر عمان



6

ثانياً: صف المدين العمانية التالية الى المجالات التي اشتهرت بها عند ظهور الإسلام:
(صحار - سمائل - مرباط - البريمي)

المدين	المجالات
	ا-ينتمي اليها اول من أسلم من اهل عمان ولها دور في انتشار الإسلام في عمان
	ب-كانت عاصمة عمان وهناك وصلت رسالة الرسول صلى الله وعليه وسلم

ثالثاً: بصفتك مواطن صالح اكتب واجبك تجاه ما يلي:
أ-النشيد السلطاني

ب-الممتلكات العامة

السؤال الخامس:

6

أولاً: أقرأ النص التالي ثم اجب عما يلي:

"خرجت أسرة لقضاء وقت ممتع في احدى الشواطئ في سلطنة عمان وفي اثناء جلوسهم قام الأطفال برمي الأوساخ على الأرض"
أ-ما رأيك في السلوك الذي قام به الأطفال ولماذا؟

ب-اكتب نصيحة تقدمها لهؤلاء الأطفال؟

ثانياً: عرف المقصود بكل من:

أ-الموارد الطبيعية

ب-الصحيفة

ثالثاً: عدد اثنين من عناصر الغلاف الحيوي؟

أ-

ب-

انتهت الأسئلة مع الدعاء للجميع بالتوفيق والنجاح.