

شكراً لتحميلك هذا الملف من موقع المناهج العمانية



اختبار قصير أول نموذج ثاني

[موقع المناهج](#) ⇨ [المناهج العمانية](#) ⇨ [الصف الخامس](#) ⇨ [اجتماعيات](#) ⇨ [الفصل الثاني](#) ⇨ [الملف](#)

تاريخ نشر الملف على موقع المناهج: 07:04:37 2024-03-15

التواصل الاجتماعي بحسب الصف الخامس



روابط مواد الصف الخامس على تلغرام

[الرياضيات](#)

[اللغة الانجليزية](#)

[اللغة العربية](#)

[التربية الاسلامية](#)

المزيد من الملفات بحسب الصف الخامس والمادة اجتماعيات في الفصل الثاني

اختبار قصير أول	1
نموذج اختبار قصير أول	2
تحضير درس الموارد الطبيعية	3
مذكرة إثرائية سؤال وجواب في درس أغلفة كوكب الأرض	4
ملخص شامل للمادة	5

**اختبار قصير أول لمادة الدراسات الاجتماعية للصف الخامس للفصل الدراسي الثاني
لعام 2024م**

السؤال الأول: اختاري الاجابه الصحيحه من بين البدائل المعطاه : (5 درجات)



- 1- الصورة المقابله تمثل الغلاف :
 أ. المائي ب. الحيوي ج. الجوي د. الصخري
- 2- جميع ما يلي من مكونات الغلاف الجوي ما عدا :
 أ. المعادن ب. الاكسجين ج. النيتروجين د. بخار الماء
- 3- الكوكب الأقرب الى الشمس :
 أ. المريخ ب. الأرض ج. الزهره د. عطارد
- 4- الحزام الذي يحمي الأرض من الاشعة الضارة :
 أ. الأوزون ب. النيتروجين ج. الاكسجين د. الارجون
- 5- اذا علمت أن نسبة اليابس 29% على الكرة الأرضية ، فان نسبة الماء تشكل :
 أ. 71% ب. 73% ج. 75% د. 77%

السؤال الثاني: (6 درجات)

أولاً: اكتب امام الجمل التاليه ما يناسبها من مصطلحات :

المصطلح	تعريفه
	تجمع عدد كبير جدا من النجوم والسحب والغازات على شكل شريط حلزوني مضئ في السماء
	حركة الماء من سطح الأرض الى الغلاف الجوي ثم عودته مرة أخرى.

ثانيا : ادرس الصورة التالية ثم أجب عن الأسئلة التي تليها :

1- ماذا يطلق على مجموعة الأجرام السماوية التي أمامك ؟

.....

2- ما مركز هذه المجموعة ؟

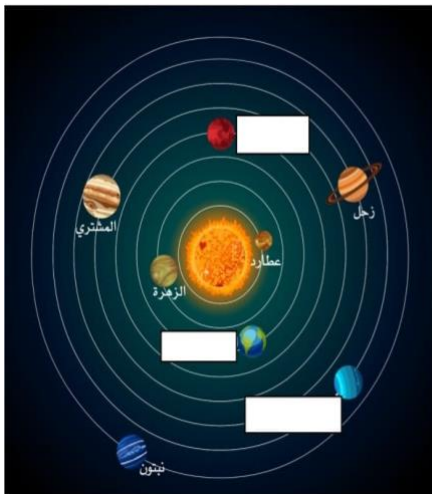
.....

3- سمي المجرة التي تنتمي لها هذه المجموعة ؟

.....

4- تكون درجة الحرارة أعلى في كوكب :

الزهرة نبتون




السؤال الثالث : (4 درجات)

أ. ادرس الشكل المقابل ثم أجب عما يلي :

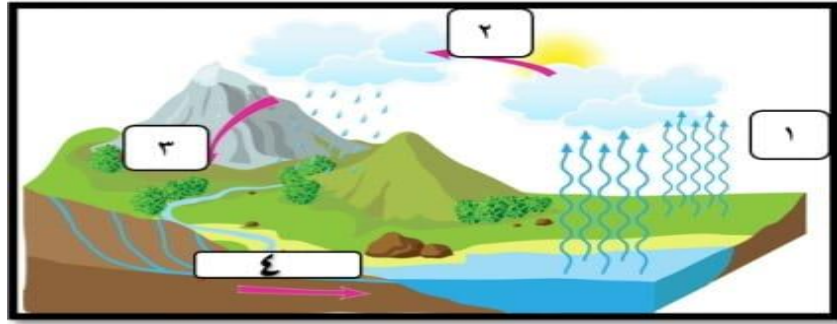
1- ما اسم المنجز العماني الذي تمثله الصورة المقابلة ؟

2- متى تأسست هذه الجمعية ؟

3- اكتب اختصاص هذه الجمعية ؟



ب. الترتيب الصحيح لمراحل دورة الماء في الطبيعة في الشكل المقابل :



4	3	2	1
تجمع المياه	تكاثف	تساقط	تبخر

(أ)

4	3	2	1
تبخر	تكاثف	تجمع المياه	تساقط

(ب)

4	3	2	1
تساقط	تجمع المياه	تبخر	تكاثف

(ج)

4	3	2	1
تجمع المياه	تساقط	تكاثف	تبخر

(د)

مع تمنياتي للجميع بالنجاح والتوفيق

