

الكتيب المساند في الدراسات



تم تحميل هذا الملف من موقع المناهج العمانية

موقع فايلاتي ← المناهج العمانية ← الصف الخامس ← اجتماعيات ← الفصل الثاني ← ملفات متنوعة ← الملف

تاريخ إضافة الملف على موقع المناهج: 2025-03-27 11:24:50

ملفات اكتب للمعلم اكتب للطالب | اختبارات الكترونية | اختبارات | حلول | عروض بوربوينت | أوراق عمل
منهج انجليزي | ملخصات وتقارير | مذكرات وبنوك | الامتحان النهائي | للمدرس

المزيد من مادة
اجتماعيات:

إعداد: خيرية بنت صالح العبرية

التواصل الاجتماعي بحسب الصف الخامس



صفحة المناهج
العمانية على
فيسبوك

الرياضيات

اللغة الانجليزية

اللغة العربية

التربية الاسلامية

المواد على تلغرام

المزيد من الملفات بحسب الصف الخامس والمادة اجتماعيات في الفصل الثاني

مراجعة دروس المنهج من سلسلة ملخصات تميز وتفق

1

بوربوينت ملخص شرح درس أغلفة كوكب الأرض المفهوم والمكونات

2

بوربوينت ملخص شرح درس أغلفة كوكب الأرض

3

بوربوينت ملخص شرح درس الموارد الطبيعية

4

تقرير عن الأمطار الحمضية

5

الكتيب المساند في مادة الدراسات الاجتماعية للصف الخامس

الفصل الدراسي الثاني

إعداد وتصميم المعلمة/
خيرية بنت صالح العبرية

اسم الطالب/ة الصف ٥/...

المقدمة

يسرنا أن نقدم لكم هذا الكتيب الشامل الذي يحتوي على ملخصات دروس مادة الدراسات الاجتماعية للصف الخامس للفصل الدراسي الثاني، بالإضافة إلى مجموعة من الأنشطة المتنوعة ونماذج من أسئلة الاختبارات. يهدف هذا الكتيب إلى أن يكون معينًا للطلبة في المذاكرة والتحضير للاختبارات، كما يساعدهم على فهم الدروس بطريقة أعمق وأكثر تفاعلاً. نأمل أن يكون هذا الكتيب أداة مفيدة لتحقيق التفوق والنجاح.

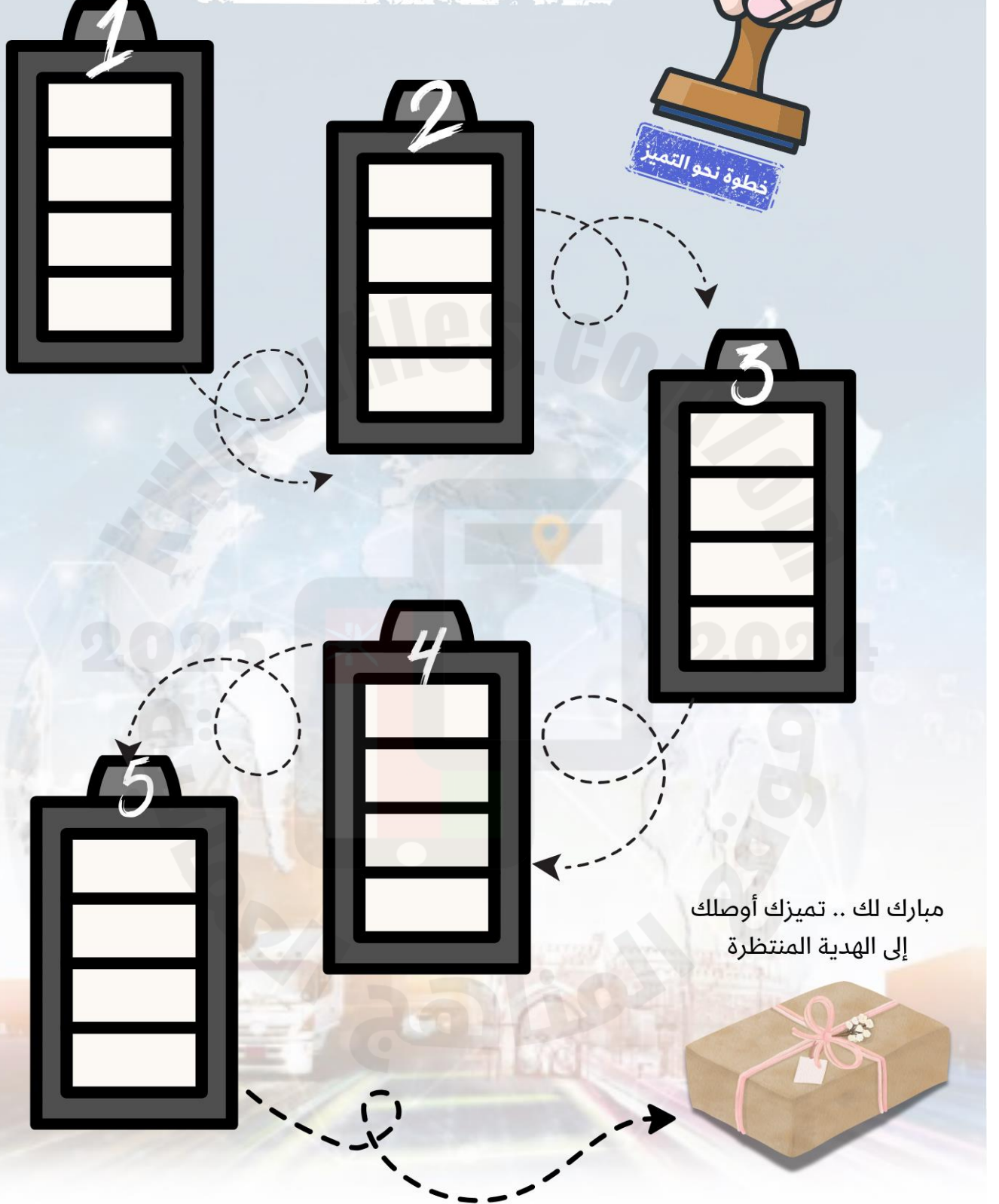
مع أطيب التمنيات بالتوفيق،

خيرية العبرية



التفوق يبدأ بخطوة استمر حتى تصل إلى هدفك ...

اجمع الأختام وتميّر
بخطواتك نحو القمة



١- ما المقصود بمجرة درب التبانة ؟

هي تجمع عدد كبير جدًا من النجوم والسحب والغازات على شكل شريط حلزوني مضيء في السماء.

٢- ما المقصود بالمجموعة الشمسية ؟

هي جزء صغير من مجرة درب التبانة التي تنتمي إلى هذا الفضاء الواسع.



عدد كواكب المجموعة الشمسية	٨ كواكب
مركز المجموعة الشمسية	الشمس
أقرب كوكب إلى الشمس	عطارد
أبعد كوكب إلى الشمس	نبتون
أكبر كوكب في المجموعة الشمسية	المشتري
أصغر كوكب في المجموعة الشمسية	عطارد
الكوكب الذي يسمى بالكوكب المائي	الأرض
الكوكب الذي يتميز بوجود حلقات حوله	زحل
أكثر كوكب برودة بين كواكب المجموعة الشمسية	نبتون



٣- الشكل المقابل يوضح أحد المنجزات العمانية في مجال الفلك :

- اسم المنجز العماني: الجمعية الفلكية العمانية
- العام الذي تأسست فيه: ٢٠٠٨م
- الدور الذي تقوم به: تعد مركزًا للأنشطة الفلكية داخل سلطنة عمان وخارجها

٤- ما المقصود بكل من :

- الموارد الطبيعية : كل ما هو موجود في الطبيعة ويستفيد منه الإنسان والكائنات الحية.
- دورة الماء في الطبيعة: هر حركة الماء من سطح الأرض إلى الغلاف الجوي ثم عودته مرة أخرى.
- علل ما يلي:

- يمثل الغلاف الحيوي البيئة الملائمة للعيش والتكاثر بالنسبة للكائنات الحية .
نظرا لظروف الطبيعة الملائمة .
- تسمية كوكب الأرض بالكوكب المائي.
بسبب نسبة الماء فيه أكبر من نسبة اليابسة.

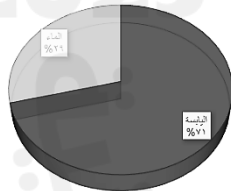
- ٦- أهمية أغلفة كوكب الأرض؟ تحقيق التوازن ودعم الحياة على سطح الأرض.
- ٧- كم عدد أغلفة كوكب الأرض؟ ٤ أغلفة
- ٨- أغلفة كوكب الأرض:

الأغلفة	الغلاف الجوي	الغلاف الصخري	الغلاف المائي	الغلاف الحيوي
المفهوم	الطبقة الغازية التي تحيط بكوكب الأرض إحاطة تامة	الطبقة الخارجية للقشرة الأرضية بما في ذلك القارات وقيعان البحار والمحيطات.	الموارد المائية الموجودة في الكرة الأرضية بحالاتها الثلاث (السائلة والصلبة والغازية)	البيئة التي تعيش وتنمو وتتكاثر فيها الكائنات الحية نظرا لتوافر الظروف الطبيعية الملائمة
المكونات	<ul style="list-style-type: none"> بخار الماء مجموعة من الغازات المختلطة ببعضها (النيتروجين ، الأكسجين) حزام الأوزون (الذي يحمي كوكب الأرض من أشعة الشمس الضارة. 	<ul style="list-style-type: none"> الصخور المعادن التربة 	<ul style="list-style-type: none"> الموارد المائية بجميع الحالات الثلاث سواء كانت عذبة أو مالحة 	<ul style="list-style-type: none"> الكائنات الدقيقة الإنسان الحيوان النبات

٩- ما المقصود بدورة الماء في الطبيعة ؟

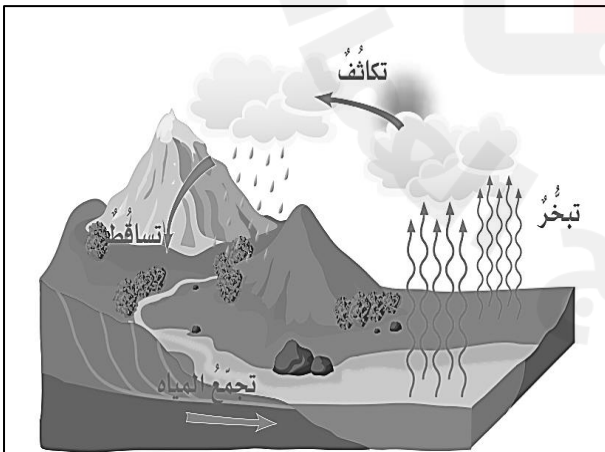
هي حركة الماء من سطح الأرض إلى الغلاف الجوي ثم عودته مرة أخرى .

١٠- نسب توزيع اليابسة والماء على سطح الأرض.



اليابسة	المياه
٢٩%	٧١%

١١- كيف تحدث دورة الماء في الطبيعة ؟



- ١- التبخر : بفعل تسخين الشمس لمياه البحار والمحيطات يتصاعد بخار الماء إلى أعلى.
- ٢- التكثف: يبرد بخار الماء في الغلاف الجوي ويتحول الى قطرات صغيرة تشكل السحب.
- ٣- التساقط: عندما تزداد كثافة السحب تسقط الماء على شكل مطر أو برد أو ثلج وتعود الى الأرض مرة أخرى لتبدأ من جديد.


١٢- ما أهمية دورة الماء في الطبيعة؟ هي المسؤولة عن حركة المياه واستمراريتها في النظام الأرضي.

السؤال الأول: ضع دائرة حوال الرمز الدال على الإجابة الصحيحة من بين البدائل المعطاة:

- ١- الترتيب الذي يحتله كوكب الأرض من المجموعة الشمسية :
 أ- الأول ب- الثاني ج- الثالث د- الرابع ج- الخامس
 ٢- الترتيب الصحيح لكواكب المجموعة الشمسية حسب قربها من الشمس:

المريخ	د	عطارد	ج	عطارد	د	الأرض
عطارد		الأرض		الأرض		عطارد
زحل		زحل		المريخ		الأرض
الأرض		المريخ		زحل		زحل

- ٣- الكوكب الذي يوضحه الشكل المقابل:



أ- الأرض

ب- عطارد

ج- الزهرة

د- زحل

- ٤- عدد كواكب المجموعة الشمسية :

د- ٩

ج- ٨

ب- ٧

أ- ٦

- ٥- العام الميلادي الذي تأسست فيه الجمعية الفلكية العمانية :

د- ٢٠٠٨

ج- ٢٠٠٧

ب- ٢٠٠٦

أ- ٢٠٠٥

- ٦- المصطلح الذي يقصد به تجمع عدد كبير من النجوم والسحب والغازات على شكل شريط

حلزوني مضئ في السماء:

- أ- مجرة درب التبانة ب- النظام الشمسي د- المجموعة الشمسية د- النجوم

- ٧- الكوكب الذي يسمى بالكوكب المائي:

د- زحل

ج- الأرض

ب- المريخ

أ- الزهرة

- ٨- الكوكب الأكبر في المجموعة الشمسية :

د- عطارد

ج- الأرض

ب- المشتري

أ- زحل

- ٩- الغلاف الذي يتمثل في الطبقة الغازية التي تحيط بكوكب الأرض إحاطة تامة :


د- الصخري

ج- الجوي

ب- الصخري

أ- المائي

- ١٠- الغلاف الذي تمثله الصورة المقابلة :



أ- المائي

ب- الصخري

ج- الجوي

د- الصخري

- ١١- الغلاف الذي يرتبط ارتباط وثيق بالظواهر الطبيعية المختلفة كالبراكين والزلازل:

د- الحيوي

ج- الصخري

ب- المائي

أ- الجوي

١٢- النسبة المئوية التي تمثلها المياه من مساحة سطح الأرض:

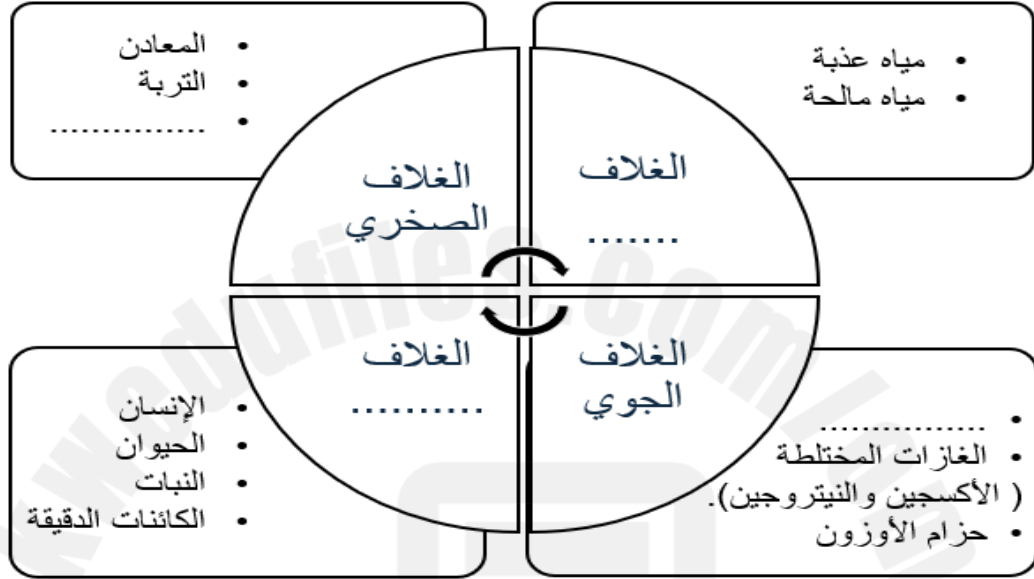
أ- ٦١٪ ب- ٧١٪ ج- ٨١٪ د- ٩١٪

١٣- الغلاف الذي يحتوي على حزام الأوزون :

أ- الجوي ب- المائي ج- الصخري د- الحيوي

الأسئلة المقالية :

١- أكمل المخطط الآتي :



٢- ادرس الشعار الذي يوضح احد المنجزات العمانية في مجال الفلك ثم أجب عن الأسئلة التي تليها:



أ- ما اسم المنجز العماني الذي يوضحه الشعار المقابل؟

ب- ما العام الميلادي الذي تأسست فيه؟

ج- ما الدور الذي تقوم به؟

٣- علل: يمثل الغلاف الحيوي البيئة الملائمة للعيش والتكاثر بالنسبة للكائنات الحية.

٤- أذكر أهمية واحدة لكل من:

أ- أغلفة كوكب الأرض.

ب- حزام الأوزون.

٥- اكتب تحت الصور الآتية اسم الغلاف الذي تنتمي إليه:

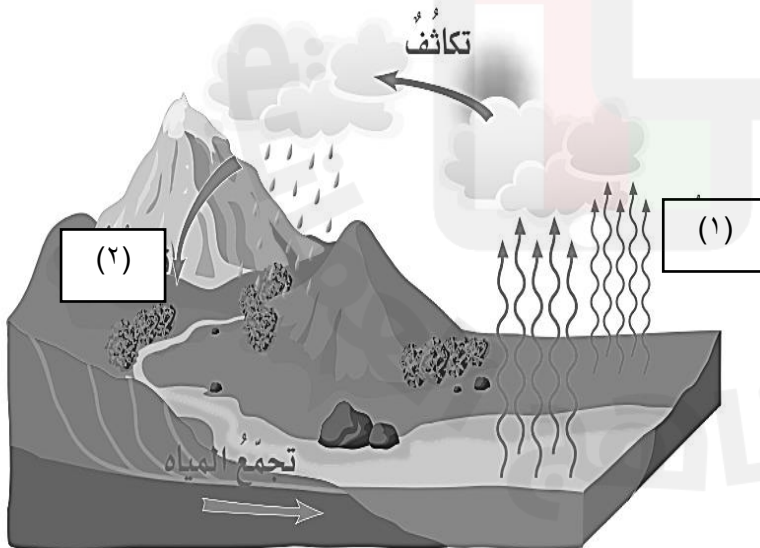


(.....) (.....) (.....)

٦- أكتب المصطلح الدال على العبارات الآتية:

- ١- (.....) الطبقة الغازية التي تحيط بكوكب الأرض إحاطة تامة.
- ٢- (.....) جزء صغير من مجرة درب التبانة التي تنتمي إلى هذا الفضاء الواسع.
- ٣- (.....) تجمع عدد كبير جداً من النجوم والسحب والغازات على شكل شريط حلزوني مضيء في السماء.
- ٤- (.....) الطبقة الخارجية للقشرة الأرضية بما في ذلك القارات وقيعان البحار والمحيطات.
- ٥- (.....) حركة الماء من سطح الأرض إلى الغلاف الجوي ثم عودته مرة أخرى

٧- أدرس الشكل الذي يوضح (دورة الماء في الطبيعة) ثم أجب عن الأسئلة التي تليها:



أ- أكتب اسم العملية حسب المشار إليها بالأرقام في الشكل المقابل.

- (١)
- (٢)

ب- ما أهمية دورة الماء في الطبيعة ؟

.....

ج- ما اسم الغلاف الذي تحدث فيه عملية التكاثف في الشكل ؟

.....

٨- قارن بين الغلاف الصخري والغلاف الحيوي من خلال الجدول الآتي:

وجه المقارنة	الغلاف الصخري	الغلاف الحيوي
التعريف		
المكونات		

٩- اذكر الحالات الثلاث التي يوجد بها الماء في الكرة الأرضية.

.....

١٠- ادرس الشكل الذي يوضح المجموعة الشمسية ثم أجب عن الأسئلة التي تليها:



أ- ما عدد كواكب المجموعة الشمسية؟

ب- ما ترتيب كوكب الأرض؟

ج- أكتب أسماء الكواكب حسب الأرقام المشار إليها في الشكل السابق.

(١)

(٢)

د- ما أكبر كوكب في المجموعة الشمسية؟

د- علل ما يلي:

أ- تسمية كوكب الأرض بالكوكب المائي.

.....

ب- انخفاض درجات الحرارة في كوكب نبتون.

.....

١- أهمية أغلفة كوكب الأرض:

مصدر للمعادن والطاقة	الغلاف الصخري
مصدر للأكسجين وتحدث فيه مظاهر الطقس	الغلاف الجوي
مصدر للمياه العذبة والمالحة	الغلاف الحيوي
مصدر للثروة الحيوانية والنباتية.	الغلاف المائي

٢- نوع العلاقة التي تربط بين أغلفة كوكب الأرض.

علاقات تفاعلية



٣- العلاقة التفاعلية التي تربط الغلاف المائي بالغلاف الصخري حسب الصورة الواضحة.

يقوم الماء أثناء احتكاكه بـ الصخور بتشكيل مظاهر سطح الأرض مثل الكهوف

٤- العلاقة التفاعلية التي تربط الغلاف الحيوي بالغلاف الصخري حسب الصورة الموضحة أمامك.



تمتص جذور النباتات المعادن الموجودة في التربة لتساعدها على النمو.

٥- علل: تفاعل الانسان مع أغلفة كوكب الأرض من خلال استثماره للموارد الطبيعية. لتلبية احتياجاته من الغذاء والطاقة وتصنيع المنتجات .

٦- ما النتيجة المترتبة على تزايد عدد السكان في كوكب الأرض. زيادة استهلاك الموارد الطبيعية وظهور المشكلات البيئية الناجمة عن الممارسات الخاطئة.

٧- المشكلات البيئية الناجمة عن الممارسات الخاطئة .

المشكلة	الغلاف
الانهيارات الأرضية	الصخري
تدهور الغطاء النباتي	الحيوي
تلوث المياه	المائي
الغلاف الجوي	الجوي

٨- ما المقصود بالأمطار الحمضية؟

هي الأمطار التي تحتوي على نسبة عالية من الأحماض وتحدث نتيجة تلوث الهواء مواد كيميائية وغازات سامة.

٩- ما اسم الهيئة المشرفة على مبادرة زراعة ١٠ ملايين شجرة.
هيئة البيئة.

١٠- علل : تبني مؤسسات المجتمع في سلطنة عمان مبادرة زراعة ١٠ ملايين شجرة .
للمحافظة على النباتات البرية.

١١- العمان الميلايان اللذان حصلت فيهما السلطنة على جائزة مجلس التعاون الخليجي للبيئة والحياة الفطرية في مجال التوعية البيئية .
(٢٠١٣-٢٠١٤)م

السؤال الأول: ضع دائرة حوال الرمز الدال على الإجابة الصحيحة من بين البدائل المعطاة:

١- الغلاف الذي يعد مصدر للثروة الحيوانية والنباتية:

- أ- المائي ب- الحيوي ج- الصخري د- الجوي

٢- الغلاف الذي يعد مصدر للمعادن والطاقة :

- أ- المائي ب- الحيوي ج- الصخري د- الجوي

٣- المشكلة البيئية التي تحدث في الغلاف الصخري:

- أ- تدهور الغطاء النباتي ب- تلوث المياه

ج- الأمطار الحمضية د- الانهيارات الأرضية

٤- الهيئة العمانية المشرفة على مبادرة زراعة ١٠ ملايين شجرة:

- أ- هيئة النقل البري ب- هيئة تقنية المعلومات
ج- هيئة البيئة د- الهيئة العامة للتأمينات الاجتماعية

٥- الغلاف الأرضي الذي تحدث فيها مشكلة تدهور الغطاء النباتي:

- أ- المائي ب- الحيوي ج- الصخري د- الجوي

٦- الغلاف الذي تحدث فيه المشكلة البيئة الواضحة في الصورة المقابلة:



أ- المائي

ب- الحيوي

ج- الصخري

د- الجوي

٧- الأغلفة التي تفاعلت في الصورة المقابلة والتي توضح امتصاص جذور النباتات للمعادن الموجودة في التربة :



- أ- المائي والحيوي
- ب- الصخري والحيوي
- ج- الصخري والمائي
- د- الصخري والجوي

٨- الغلاف الذي تفاعل مع الغلاف الصخري ونتج عنه تشكيل الكهوف الواضحة في الصورة المقابلة:



- أ- الحيوي
- ب- الصخري
- ج- المائي
- د- الجوي

٩- المجال الذي حصلته فيه السلطنة على جائزة مجلس التعاون الخليجي للبيئة والحياة الفطرية لعامي ٢٠١٣ و٢٠١٤م:

- أ- التوعية البيئية
- ب- الحياة الفطرية
- ب- التوعية الإعلامية
- د- العلمي والبحثي

١٠- الجدول الصحيح الذي يوضح توزيع الموارد الطبيعية على أغلفة كوكب الأرض:

الغلاف الحيوي	الغلاف الجوي
النباتات	الأكسجين

ب-

الغلاف الصخري	الغلاف المائي
الأكسجين	المياه العذبة

أ-

الغلاف الصخري	الغلاف الحيوي
المعادن	الطاقة

د-

الغلاف الحيوي	الغلاف الجوي
النباتات	المياه العذبة

ج-

الأسئلة المقالية:

١. صنف الموارد الطبيعية الآتية حسب الغلاف الموجودة فيه من خلال الجدول التالي:
- (مصدر للمياه العذبة - مصدر للأكسجين - مصدر للثروة الحيوانية - مصدر للمعادن)

الغلاف الحيوي	الغلاف الصخري	الغلاف المائي	الغلاف الجوي

٢. ما المقصود بالأمطار الحمضية ؟

٣. ادرس الشكل الذي أمامك ثم أجب عن الأسئلة الآتية:



أ- اسم المشكلة البيئية الظاهرة في الشكل المقابل.

ب- الغلاف الأرضي الذي تحدث فيه هذه المشكلة .

ج- اقترح حل لهذه المشكلة البيئية.

٤. " إن العناية بالبيئة ومقدراتها مسؤولية عالمية لا تحدها الحدود السياسية للدول " في ضوء

العبارة السابقة أجب عن ما يلي:

أ- من قائل العبارة؟

ب- ما المناسبة التي ذكرت فيها هذه العبارة؟

ج- ما الرسالة التي أرد القائل إيصالها من خلال العبارة السابقة؟

٥. علل ما يلي:

أ- تفاعل الانسان مع أغلفة كوكب الأرض من خلال استثماره للموارد الطبيعية.

٦. وضح العلاقة التفاعلية بين الغلاف المائي والغلاف الصخري في الصورة المقابلة.



.....

.....

.....

.....

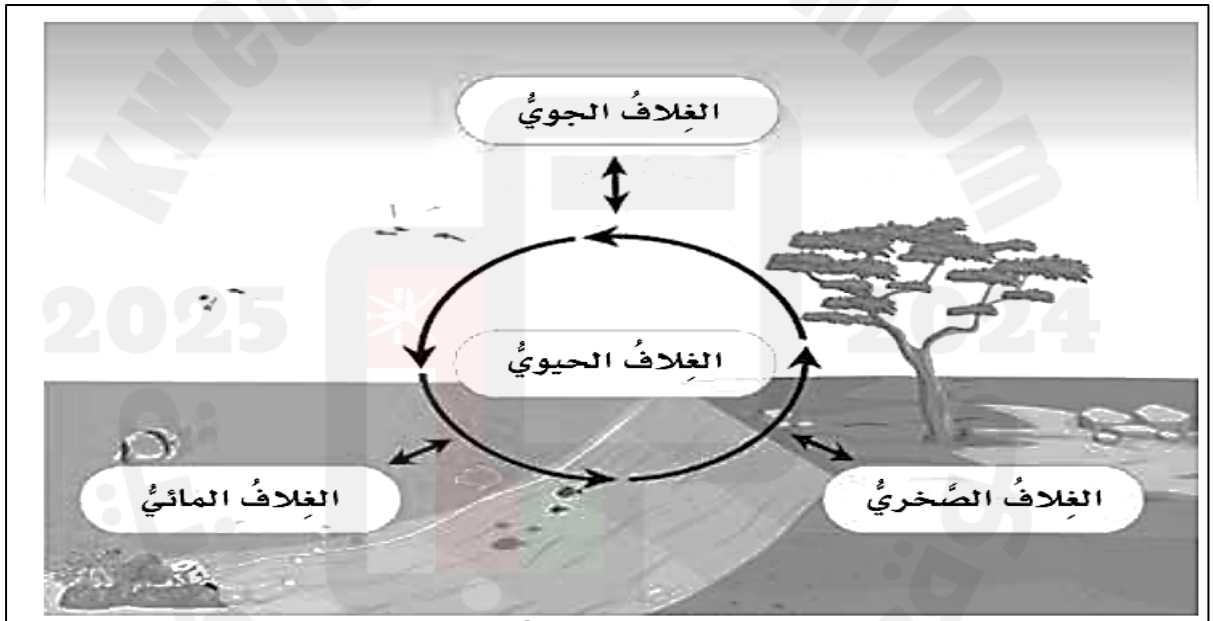
.....

٧. ما النتيجة المترتبة على تزايد عدد السكان في كوكب الأرض.

.....

..

٨. ادرس الشكل الآتي ثم أجب عن الأسئلة التي تليه:



ا- ما نوع العلاقات التي تربط بين أغلفة كوكب الأرض.

ب- وضح التفاعل بين الغلاف الصخري والغلاف الحيوي كما يوضحه الشكل السابق.

ج- ما الأغلفة التي تتفاعل في حالة امتصاص النبات لثاني أكسيد الكربون لصنع غذائها.

١- أنواع الموارد الطبيعية .

وجه المقارنة	الموارد المتجددة	الموارد غير المتجددة
المفهوم	هي التي تتوفر باستمرار من خلال العمليات التي تحدث في أغلفة كوكب الأرض	هي الموجودة بكميات محدودة في الأرض وتنفد مع استهلاكها.
أمثلة عليها	المياه- طاقة الرياح- طاقة الشمس - النباتات الطبيعية - الحيوانات.	الفحم- النفط- الغاز - المعادن.
أنواعها	يتجدد في فترة زمنية قصيرة	يتجدد في فترة زمنية طويلة
أمثلة عليها	المياه الجوفية - الثروة الحيوانية والسمكية	التربة - أشجار الغابات المقطوعة

٢- الأهمية الاقتصادية للموارد الطبيعية .

- إنتاج الطاقة
- الغذاء
- مواد خام للصناعة
- مصدر للدخل

٣- ما المقصود باستدامة الموارد الطبيعية ؟

هي استعمال الموارد الطبيعية بشكل متوازن للحفاظ عليها، وضمان استمرارية الحياة.

٤- جهود سلطنة عمان في استدامة الموارد الطبيعية والتي ركزت عليها رؤية عمان ٢٠٤٠ م .

- الاستفادة من الموارد المتجددة.
- تقليل الاعتماد على الموارد غير المتجددة.
- وضع القوانين للمحافظة على الموارد الطبيعية والحد من استنزافها.
-

٥- أبرز مشاريع الطاقة المتجددة في سلطنة عمان والتي تحقق استدامة المواد الطبيعية.

اسم المشروع	محطة ظفار لطاقة الرياح
سنة افتتاحه	٢٠١٩ م
أهميته	توليد الطاقة الكهربائية

اسم المشروع	محطة عبري للطاقة الشمسية	سد وادي ضيقة
المحافظة	الظاهرة	مسقط
الولاية	عبري	قريات




٦- خريطة سلطنة عمان والتي توضح توزيع الموارد الطبيعية في بعض المحافظات :



المحافظة	اسم المورد	نوعه (متجدد/ غير متجدد)
مسندم	الأسماك	متجدد
الداخلية	المعادن	غير متجدد
الوسطى	النفط	غير متجدد
الظاهرة	الطاقة الشمسية	متجدد
ظفار	طاقة الرياح	متجدد

السؤال الأول: ضع دائرة حوال الرمز الدال على الإجابة الصحيحة من بين البدائل المعطاة:

١- الصورة التي تمثل مورد غير متجدد:



أ-

ب-

ج-

د-

٢- من الموارد المتجددة التي يحتاج فترة زمنية طويلة لكي يتحدد:

د- الأسماك

ج- الحيوانات

ب- النباتات

أ- التربة

٣- من الموارد غير المتجددة في الطبيعة:

د- المعادن

ج- الشمس

ب- الرياح

أ- المياه

٤- العام الميلادي الذي تم فيه افتتاح محطة ظفار لطاقة الرياح:

د- ٢٠٢١

ج- ٢٠٢٠

ب- ٢٠١٩

أ- ٢٠١٨

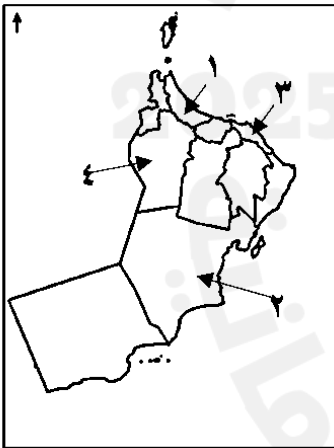
٥- رقم المحافظة العمانية التي يوجد بها سد وادي ضيقة :

أ- (١)


ب- (٢)

ج- (٣)

د- (٤)



٦- الولاية العمانية التي يقع فيها السد في الصورة المقابلة :



أ- السيب

ب- مسقط

ج- قريات

د- العامرات

ثانياً: الأسئلة المقالية :

١- قارن بين الموارد المتجددة وغير المتجددة من خلال الجدول الآتي:

وجه المقارنة	الموارد المتجددة	الموارد غير المتجددة
التعريف		
مثال واحد عليها		

٢- عدد اثنين من الأهمية الاقتصادية للموارد الطبيعية.

.....

٣- " سنعمل على..... توزيع عادل لمقدرات التنمية بين المحافظات ، وحماية مواردنا الطبيعية وبيئتنا المتفردة" . من خلال كلمة جلالة السلطان هيثم بن طارق -حفظه الله ورعاه- أجب عن ما يلي:

١- ما المفهوم الذي يوضحه جلالة السلطان هيثم في المقولة السابقة.

.....

٢- عدد اثنين من الخطط التي ركزت عليها رؤية عمان ٢٠٤٠م في هذا المجال.

.....

٣- ادرس الصورة المقابلة -التي توضح أحد المنجزات العمانية في مجال استغلال الطاقة

المتجددة لتوليد الكهرباء - ثم أكمل الجدول

الآتي:



اسم المشروع	
المحافظة	
سنة افتتاحه	

٤- صنف الموارد المتجددة التالية إلى موارد تتجدد في فترة قصيرة وموارد تتجدد في فترة زمنية طويلة :

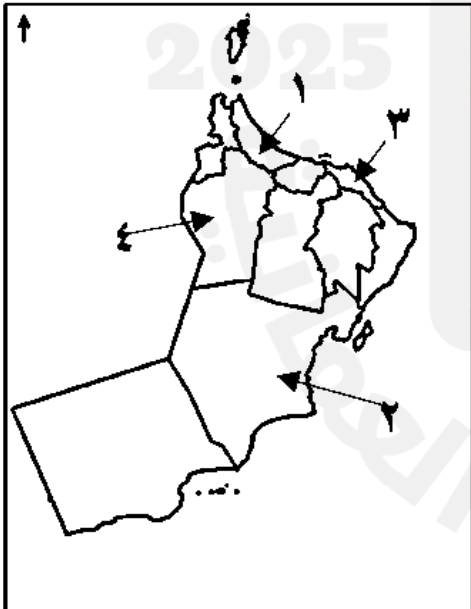
(التربة- المياه الجوفية – أشجار الغابات المقطوعة – الثروة السمكية)

موارد تتجدد في فترة زمنية قصيرة	موارد تتجدد في فترة زمنية طويلة

٥- اكتب المصطلح الدال على العبارات الآتية:

المفهوم	العبارة
.....	هي الموجودة بكميات محدودة في الأرض وتنفذ مع استهلاكها.
.....	هي التي تتوفر باستمرار من خلال العمليات التي تحدث في أغلفة كوكب الأرض.
.....	ج- هي استعمال الموارد الطبيعية بشكل متوازن للحفاظ عليها وضمان استمرارية الحياة.

٦- أدرس خريطة سلطنة عمان المقابلة ثم أجب عن الأسئلة التالية :



١- أنقل الرقم الدال من الخريطة على العبارات الآتية:

- المحافظة التي يوجد بها مشروع الطاقة الشمسية (.....).
- المحافظة التي يوجد بها سد وادي ضيقة (.....).

٢- ظل المحافظة التي يوجد بها مشروع استغلال طاقة الرياح لتوليد الكهرباء.

٣- أذكر المورد الغير متجدد الذي تتميز به المحافظة رقم ٢.

.....

١- الأعمال التي قام بها الرسول ﷺ لتأسيس الدولة الإسلامية .



- بناء المسجد
- المؤاخاة
- الصحيفة
- حماية الدولة

٢- الأدوار التي كان يقوم بها المسجد في تنظيم الدولة الإسلامية.

- مكان استقبال الوفود
- مقر القيادة
- مكان الاجتماع

مسار هجرة الرسول ﷺ من مكة المكرمة إلى المدينة

٣- من هم المهاجرين والأنصار؟

المهاجرين	هم اتباع الرسول ﷺ الذين هاجروا معه من مكة المكرمة إلى المدينة المنورة.
الأنصار	هم أهل المدينة المنورة من قبيلتي (الأوس والخزرج) نصروا الرسول محمد ﷺ وأصحابه المهاجرين.

٤- ما المقصود بالصحيفة؟

كتاب أو وثيقة وضعها الرسول ﷺ ووضح فيها الحقوق والواجبات لسكان المدينة المنورة.

٥- أهم القواعد التي تضمنتها الصحيفة .

تحقيق المساواة بين الجميع في الحقوق والواجبات
تحديد المدينة المنورة وطنًا ينتمون إليه وعليهم الدفاع عنه.

٦- أهمية الصحيفة التي وضعها الرسول ﷺ.

تنظيم حياة المجتمع في المدينة المنورة.

٧- علل: اضطر المسلمون بقيادة الرسول ﷺ إلى خوض العديد من المعارك.

لحماية الدولة الإسلامية والمحافظة على أمنها واستقرارها ومعاقبة المعتدين على المسلمين.

٨- علل: اهتمام الرسول ﷺ بتطبيق مبدأ المؤاخاة في مجتمع المدينة المنورة.

لضمان الاستقرار في مجتمع المدينة المنورة.

٩- الفئات السكانية التي تكون منها مجتمع المدينة المنورة في عهد الرسول ﷺ.

- ١- الأنصار
- ٢- المهاجرون
- ٣- اليهود

١٠- بعض الغزوات التي شارك بها الرسول ﷺ .

اسم الغزوة	غزوة بدر (أول غزوة)	غزوة تبوك (آخر غزوة)
سنة حدوثها	٢ هـ	٩ هـ

١١- علل: ارسال الرسول ﷺ الرسائل إلى ملوك الدول المجاورة.

لنشر الدعوة الإسلامية

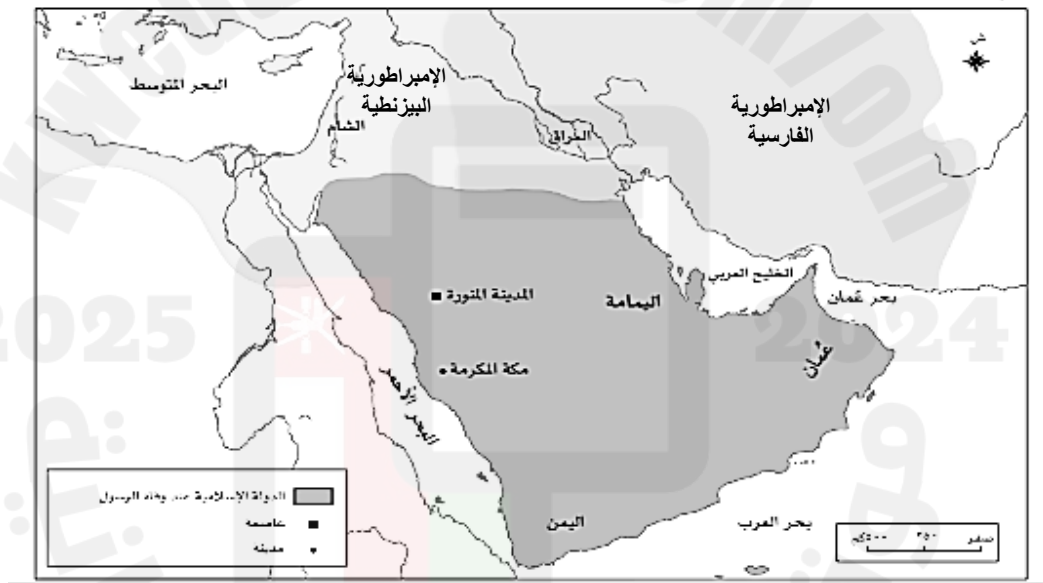
١٢- الطرق التي اتبعها الرسول ﷺ لنشر الإسلام وتوسيع الدولة الإسلامية؟

- ارسال الرسائل لملوك الدول المجاورة
- الفتوحات الإسلامية

١٣- ما المقصود بالفتوحات الإسلامية ؟

دخول المناطق غير المسلمة الإسلام لتصبح جزءا من الدولة الإسلامية أو تابعة لها.

١٤- امتداد الدولة الإسلامية في عهد الرسول ﷺ



أ- عاصمة الدولة الإسلامية في عهد الرسول محمد ﷺ .

المدينة المنورة

ب- المناطق التي شملتها الدولة الإسلامية في عهد الرسول ﷺ.

مناطق شبه الجزيرة العربية مثل (عمان واليمن واليمامة ومكة المكرمة والمدينة).

ت- الدول التي لم تشملها الدولة الإسلامية في عهد الرسول ﷺ .

الإمبراطورية الفارسية والإمبراطورية البيزنطية .

ج- المسطح المائي الذي يحد الدولة الإسلامية من جهة الغرب.

البحر الأحمر

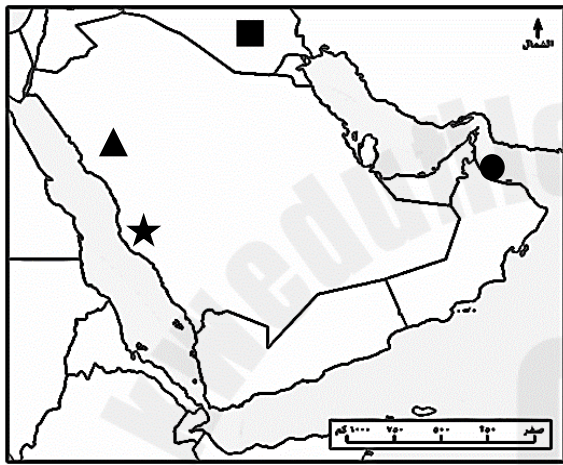
السؤال الأول: ضع دائرة حوال الرمز الدال على الإجابة الصحيحة من بين البدائل المعطاة:

- ١- عاصمة الدولة الإسلامية في عهد الرسول ﷺ :
 أ- المدينة المنورة ب- مكة المكرمة ج- الطائف د- اليمامة

- ٢- أول الأعمال التي قام بها الرسول ﷺ بعد وصوله للمدينة المنورة :
 أ- الصحيفة ب- المؤاخاة ج- بناء المسجد د- حماية الدولة

- ٣- المصطلح الذي أطلق على اتباع الرسول ﷺ الذين هاجروا معه من مكة المكرمة إلى المدينة المنورة :
 أ- الأنصار ب- المهاجرون ج- الصحابة د- التابعين

- ١- الرمز الذي يشير في الخريطة إلى عاصمة الدولة الإسلامية في عهد الخلفاء الراشدين :



- أ- ★
 ب- ●
 ج- ▲
 د- ■

- ٥- العام الهجري الذي حدثت فيه معركة تبوك:
 أ- ٧ ب- ٨ ج- ٩ د- ١٠
 ٦- أول غزوة خاضها المسلمون وانتصروا فيها :
 أ- أحد ب- بدر ج- تبوك د- الخندق

- ٧- آخر الغزوات التي شارك فيها الرسول ﷺ :
 أ- أحد ب- بدر ج- تبوك د- الخندق

- ٨- الاسم الذي أطلق على قبائل الأوس والخزرج بعد المؤاخاة :
 أ- الأنصار ب- المهاجرون ج- الصحابة د- التابعين

- ٩- الاسم الذي يطلق على الوثيقة التي وضعها الرسول ﷺ لسكان المدينة المنورة موضح فيها حقوقهم وواجباتهم:
 أ- العهد ب- الصحيفة ج- القواعد د- الكتاب

- ١٠- السنة الهجرية التي حدثت فيها غزوة بدر:
 أ- ١ ب- ٢ ج- ٣ د- ٤

الأسئلة المقالية:

١- " وضع الرسول محمد ﷺ القواعد التي نظمت العلاقة بين الأطراف الثلاثة التي تعيش في المدينة المنورة وهم : الأنصار والمهاجرون واليهود ، حيث ساوى بين الجميع في الحقوق والواجبات .

في ضوء العبارة السابقة أجب عن ما يلي:

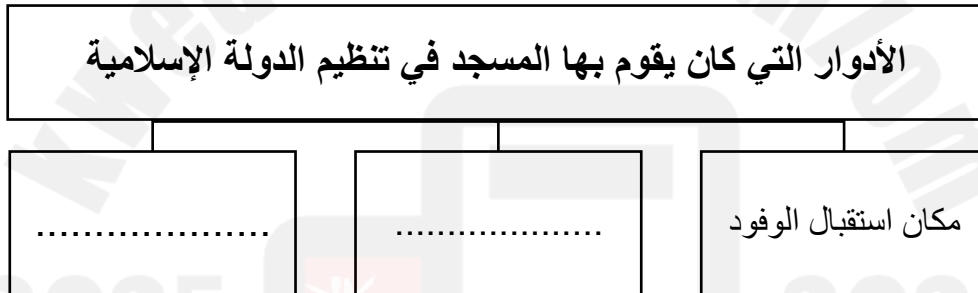
أ- من هم الأطراف الثلاثة التي نظمت العلاقة بينهم وثيقة المدينة المنورة ؟

ب- ما اسم الوثيقة التي كتبها الرسول ﷺ لتنظيم العلاقات في المدينة؟

ج- ما رأيك في مساواة الرسول ﷺ بين المهاجرين والأنصار واليهود في الحقوق والواجبات ؟

٢- أذكر الأعمال التي قام بها الرسول ﷺ لتأسيس الدولة الإسلامية؟

٣- أكمل المخطط الآتي:



٤- أكتب المصطلح / المفهوم الدال على العبارات الآتية :
(الفتوحات الإسلامية - المهاجرون - الأنصار - الصحيفة)

أ-	كتاب أو وثيقة وضعها الرسول ﷺ ووضح فيها الحقوق والواجبات لسكان المدينة المنورة.
ب-	دخول المناطق غير المسلمة للإسلام لتصبح جزءا من الدولة الإسلامية أو تابعة لها.
ج-	اتباع الرسول ﷺ الذين هاجروا معه من مكة المكرمة إلى المدينة المنورة.
د-	أهل المدينة المنورة من قبيلتي (الأوس والخزرج) نصرُوا الرسول محمد ﷺ وأصحابه المهاجرين.

٥- أذكر القواعد التي تضمنتها الصحيفة التي وضعها الرسول ﷺ لتنظيم مجتمع المدينة.

٦- أدرس الخريطة الت أمامك التي توضح امتداد الدولة الإسلامية في عهد الرسول ﷺ ثم أجب عن الأسئلة التي تليها:



١- ضع دائرة في الخريطة حول عاصمة الدولة الإسلامية في عهد الرسول ﷺ.

٢- أذكر اثنين من المناطق التي كانت تشملها الدولة الإسلامية عند وفاة الرسول ﷺ.

.....

٣- ما المصطلح الذي كان يطلق على دخول المناطق غير المسلمة الإسلام لتصبح تابعة لها.

.....

٤- الجهة التي تقع فيها المدينة المنورة بالنسبة لمكة المكرمة.

.....

٥- المسطح المائي الذي يحد الدولة الإسلامية من جهة الغرب.

.....

٦- الدولة غير الإسلامية التي تحد الدولة الإسلامية من جهة الشمال الشرقي .

.....

٧- علل ما يلي:

أ- اضطر المسلمون بقيادة الرسول ﷺ إلى خوض العديد من المعارك.

.....

ب- اهتمام الرسول ﷺ بتطبيق مبدأ المؤاخاة في مجتمع المدينة المنورة.

.....

ج- ارسال الرسول ﷺ الرسائل إلى ملوك الدول المجاورة.

.....

١- اسم الصنم الذي كان يعبد مازن بن غضوبة قبل الإسلام؟
باجر

٢- ما أثر لقاء بعض العمانيين بالرسول ﷺ على دخول أهل عُمان في الإسلام؟
أدى إلى اعتناق عدد من أهل عُمان الإسلام.

٣- الصحابي الذي أرسله الرسول ﷺ حاملاً رسالته إلى ملكي عُمان.
عمرو بن العاص .

٤- ما اسم ملكي عمان في فترة ظهور الإسلام؟
عبد وجيفر أبني الجلندي

٥- ما مضمون الرسالة التي أرسلها النبي ﷺ إلى جيفر وعبد ابني الجلندي؟
دعوتهم إلى اعتناق الإسلام.

٦- ما موقف ملكي عُمان من رسالة الرسول ﷺ ؟
اعتنقوا الإسلام طوعاً.

٧- علل: يعتبر اعتناق جيفر وعبد ملكي عمان للإسلام نقطة تحول في تاريخ عُمان.
لأنه أدى إلى انتشار الإسلام في عُمان وتحولها إلى دولة إسلامية.

٨- خط سير عمرو بن العاص إلى عُمان.

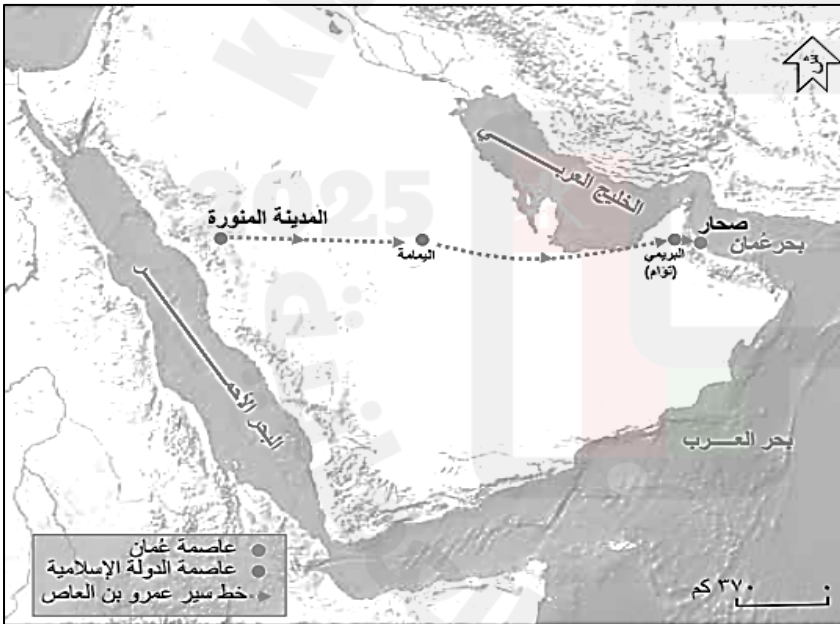
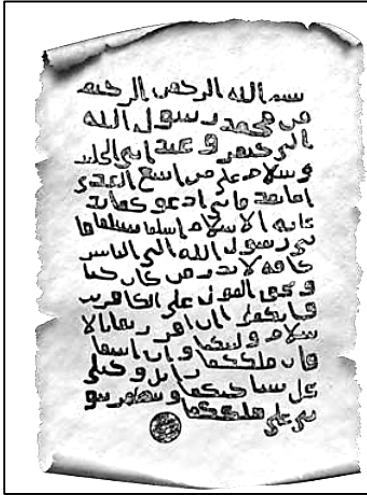
صحار - البريمي (توام) - اليمامة - المدينة المنورة .

٩- عاصمة عُمان في عهد الرسول ﷺ . صحار (شمال الباطنة) .

١٠ - عاصمة الدولة الإسلامية في عهد الرسول ﷺ .
المدينة المنورة .

١١- مثال على الوفود العمانية التي ذهبت لرؤية الرسول محمد ﷺ؟
الوفد الذي ترأسه الصحابي مسلية بن هزان الحداني.

١٢- ما سبب إقرار الرسول ﷺ لجيفر وعبد على ملك عمان.
بسبب اعتناقهم الإسلام طواعية .



١٣- ملامح من الحياة السياسية والاقتصادية والثقافية.

الثقافية	الاقتصادية	السياسية
<ul style="list-style-type: none"> • نشر الإسلام • تعلم العلوم مثل (الشرعية الإسلامية واللغة). • بناء المساجد مثل (المضمار والشواذنة). 	<ul style="list-style-type: none"> • نجاح العمانيون في استثمار الموقع الاستراتيجي المتميز للمدن العمانية. • الاستفادة من الموارد المتوفرة في تنمية الأنشطة الاقتصادية. • ازدهار الأنشطة الاقتصادية مثل الزراعة والصناعة والتجارة. • شهرة بعض المدن العمانية لأهميتها الاقتصادية. 	<ul style="list-style-type: none"> • استمرار جيفر وعبد ابنا الجلندي في حكم عمان بعد إقرار النبي لهما. • انتصار العمانيون على الفرس وطردهم من صحار بعد رفضهم للإسلام. • بقاء عُمان آمنة ومستقرة تحت حكم أبناء الجلندي حتى بعد وفاة الرسول ﷺ .

١٤- علل ما يلي:

- أ- طرد الفرس من صحار بعد دخول أهل عُمان في الإسلام.
بسبب رفض دعوة أهل عمان لهم للإسلام.
- ب- ازدهار الأنشطة الاقتصادية في عُمان في عهد الرسول ﷺ.
بسبب استثمار العمانيون للموقع الاستراتيجي للمدن العمانية والاستفادة من الموارد المتوفرة فيها.
- ج- شهرة بعض المدن العمانية في عهد الرسول ﷺ.
لأهميتها الاقتصادية لوقوعها في مناطق خصبة أو واحات أو طرق القوافل البرية والموانئ التجارية.



١٥- أهم العلوم التي نبغ فيها العمانيون في عهد الرسول محمد ﷺ.

- علوم الشريعة الإسلامية
- علوم اللغة (الخطابة ، الشعر).

١٦- الشخصية العمانية الذي روى أحاديث عن الرسول ﷺ وكان خطيبا مشهورا.

صحار بن العباس العبدى.

١٧- أبرز المساجد التي بنيت في عُمان في عهد الرسول ﷺ.

مسجد الشواذنة	مسجد المضمار (أول المساجد في عُمان)	الصورة
		
الداخلية	الداخلية	المحافظة
نزوى	سمائل	الولاية

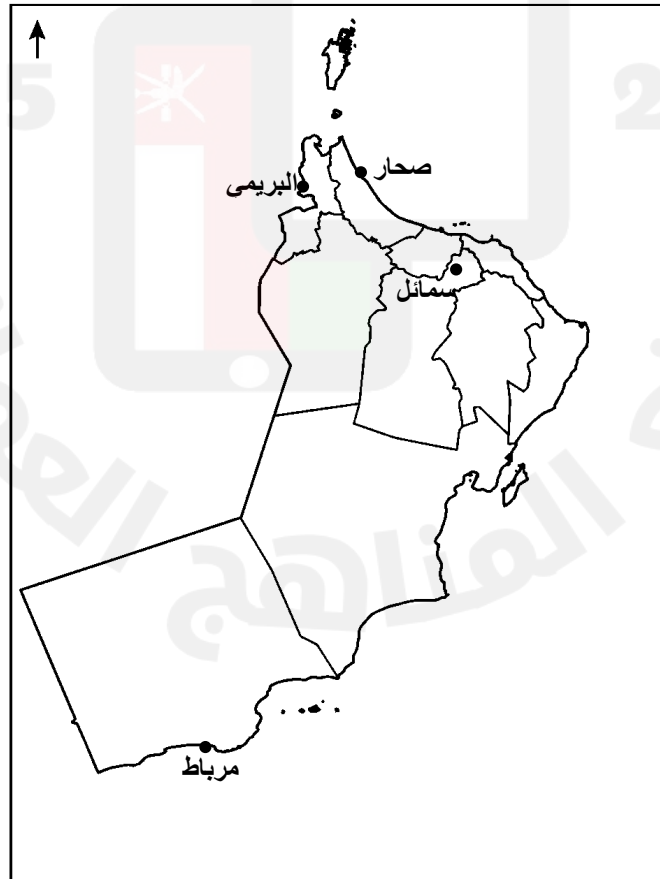
١٨- من قائل البيت الشعري:

إليك رسول الله خبت مطيتي تجوب الفيافي من عُمان إلى العرج
لتشفع لي يا خير من وطئ الحصى فيغفر لي ربي فأرجع بالفالج

الصحابي مازن بن غضوبة

١٩- المدن العمانية التي اشتهرت في عهد الرسول ﷺ.

المدن	الموقع	المحافظة	الأهمية
البريمي قديما (توأم أو توام)	داخلية	البريمي	- واحة زراعية - تقع على طرق التجارة البرية التي تربط عُمان بشبة الجزيرة العربية. (اقتصادية)
صحار	ساحلية	شمال الباطنة	عاصمة عُمان وهناك وصلت رسالة الرسول ﷺ (سياسية)
سمائل	داخلية	الداخلية	- ينتمي إليها أول من أسلم من عمان. - لها دور في انتشار الإسلام في عُمان. (ثقافية)
مرباط	ساحلية	ظفار	- ميناء رئيسي في جنوب عُمان. - لها دور مهم في النشاط التجاري. (اقتصادية)



السؤال الأول: ضع دائرة حوال الرمز الدال على الإجابة الصحيحة من بين البدائل المعطاة:

١- الصحابي الذي حمل رسالة الرسول ﷺ لأهل عُمان:

- أ- مازن بن غضوبة
ب- عمرو بن العاص
ج- زيد بن حارثة
د- كعب بن سور

٢- أول مسجد بني في عُمان :

- أ- المضمار
ب- الشوانذة
ج- الجامع
د- البياضة

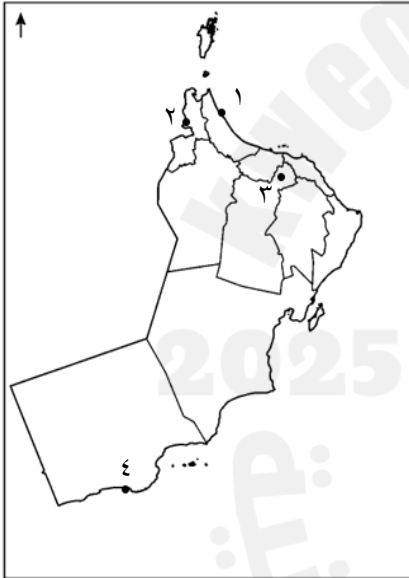
٣- الشخصية العمانية التي قالت الأبيات الشعرية في الشكل المقابل:

إليك رسول الله خبت مطيتي
تجوب الفياقي من عُمان إلى العرج
لتشفع لي يا خير من وطئ الحصى
فيغفر لي ربي فأرجع بالفلج

- أ- أحمد بن ماجد
ب- صحرار بن العباس
ج- مازن بن غضوبة
د- كعب بن سور

٤- الرقم الذي يشير إلى موقع المدينة التي ينتمي إليها أول من أسلم من أهل عمان في الخريطة المقابلة :

- أ- ١
ب- ٢



- ج- ٣
د- ٤

٥- الرقم الذي يشير إلى المدينة العمانية التي لعبت دورا مهما في النشاط التجاري في جنوب عمان:

- أ- ١
ب- ٢
ج- ٣
د- ٤

٦- الولاية العمانية التي يوجد بها مسجد الشوانذة :

- أ- سمائل
ب- نزوى
ج- صحرار
د- مرباط

٧- المحافظة العمانية التي توجد بها عاصمة عمان في عهد الرسول ﷺ:

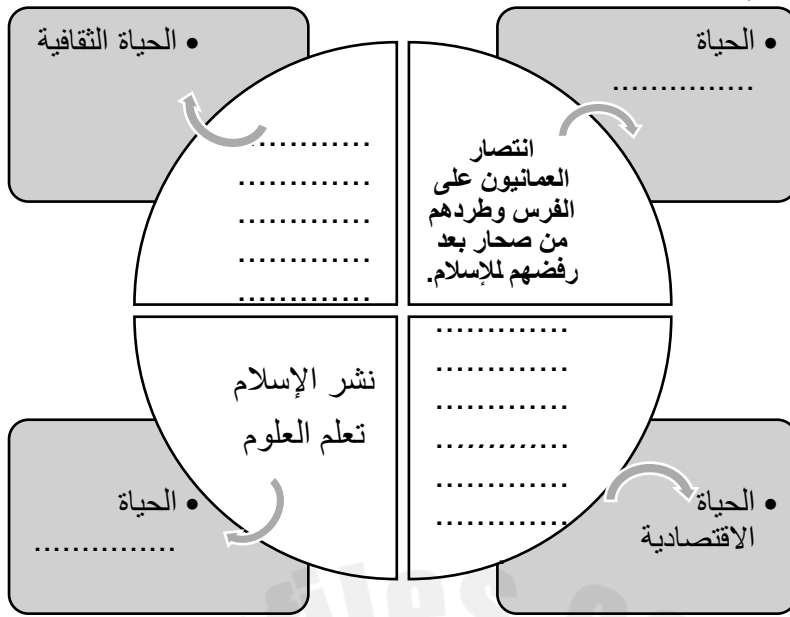
- أ- جنوب الباطنة
ب- مسقط
ج- ظفار
د- شمال الباطنة

٨- المدينة العمانية التي سميت قديما بتؤام :

- أ- البريمي
ب- صحرار
ج- سمائل
د- نزوى

الأسئلة المقالية : أجب عن الأسئلة الآتية:

١- أكمل المخطط الآتي:



٢- عدد اثنين من كل ما يلي:

أ- العلوم التي حرص العمانيون على تعلمها في عهد الرسول ﷺ.

ب- الأنشطة الاقتصادية التي ازدهرت في عمان في عهد الرسول ﷺ.

٣- علل ما يلي:

أ- طرد الفرس من صحار بعد دخول أهل عُمان في الإسلام.

ب- ازدهار الأنشطة الاقتصادية في عُمان في عهد الرسول ﷺ.

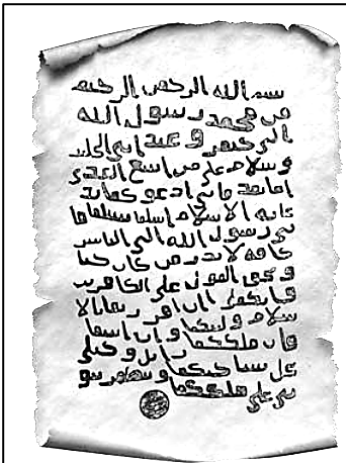
ج- شهرة بعض المدن العمانية في عهد الرسول ﷺ.

٤- أمامك صورة رسالة الرسول ﷺ لملي عمان أدرسها جيدا ثم أجب عما يليها:

أ- اسم الصحابي الذي حمل رسالة الرسول ﷺ إلى ملي عمان.

ب- ما اسم ملي عمان في تلك الفترة ؟

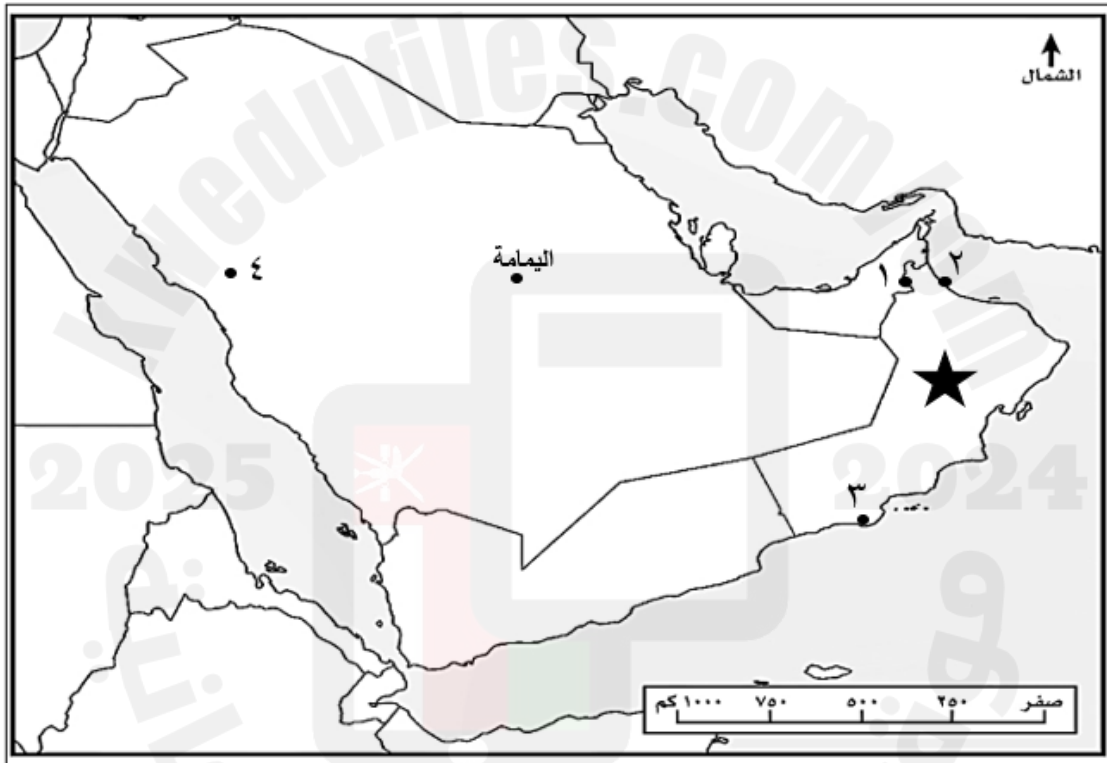
ج- ما المدينة العمانية التي حظيت باستقبال رسالة الرسول ﷺ ؟



- ٥- صنف ملامح من حياة العمانيين في عهد الرسول محمد صلى الله عليه وسلم حسب الجدول الآتي:
- (نشر الإسلام وتعلم العلوم - طرد الفرس من صحار - ازدهار الزراعة - بناء المساجد - استمرار حكم عبد وجيفر لعُمان - ازدهار الصناعة)

الحياة السياسية	الحياة الاقتصادية	الحياة الثقافية

٦- ادرس خريطة شبه الجزيرة العربية ثم أجب عن الأسئلة التي تليها:



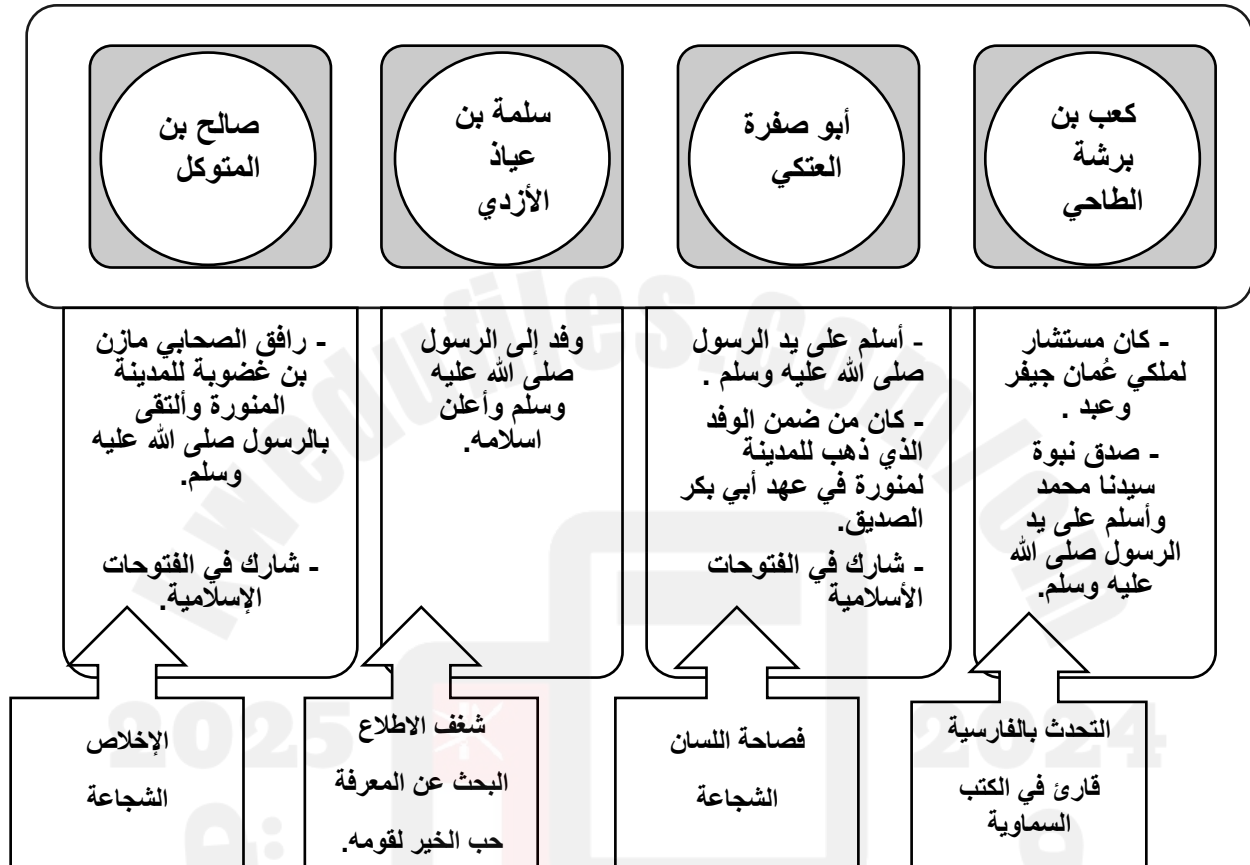
- ١- الرقم الذي يشير إلى عاصمة عُمان في عهد الرسول محمد ﷺ. (.....)
- ٢- ما الدور الاقتصادي الذي لعبته المدينة العمانية في عهد الرسول ﷺ والمشار إليها بالخريطة بالرقم (٣)؟

- ٣- أكتب البحر الأحمر في موقع الصحيح في الخريطة.
- ٤- اسم ملكي الدولة المشار إليها في الخريطة بالرمز ★ في عهد الرسول ﷺ.

- ٥- ارسم في الخريطة خط سير عمرو بن العاص لدعوة أهل عمان إلى الإسلام.

١- " برزت عدد من الشخصيات العمانية في عهد الرسول ﷺ وكان لها دور مهم في التاريخ العماني والإسلامي " وضح ذلك الدور؟
أسبقيتهم في اعتناق الإسلام – دورهم في نشر الإسلام- المشاركة في الفتوحات الإسلامية.

٢- الشخصيات العمانية التي عاصرت الرسول ﷺ :



٣- ما المقصود بالكتب السماوية ؟

الكتب التي أنزلها الله على الرسل والأنبياء لتكون هداية ورحمة للناس.

٤- أمثلة على الكتب السماوية :

التوراة ، الإنجيل، القرآن الكريم.

٥- علل: استشارة ملكي عمان كعب بن برشة في نبوة الرسول محمد ﷺ.

لأنه قارئ في الكتب السماوية ، وقد ورد فيها وصف الرسول ﷺ وأيضاً التقى بالرسول ﷺ وتعرف إليه وأسلم على يده.

٦- القائد العماني الذي كان مشهوراً في الدولة الإسلامية وهو أبن أبو صفرة العتكي.
المهلب بن أبي صفرة.

السؤال الأول: ضع دائرة حوال الرمز الدال على الإجابة الصحيحة من بين البدائل المعطاة:

١- الشخصية العمانية التي رافقت الصحابي مازن بن غصوبة في رحلته للمدينة المنورة:

- أ- سلمة بن عياذ الأزدي
ب- صالح بن المتوكل
ج- أبو صفرة العتكي
د- كعب بن برشة الطاحي

٢- البطاقة التعريفية الصحيحة للشخصية العمانية كعب بن برشة الطاحي:

أعماله	شارك في الفتوحات الإسلامية
صفاته	التحدث بالفارسية

أ-

أعماله	مستشار لملكي عمان جيفر وعبد.
صفاته	فصاحة اللسان والشجاعة

ب-

أعماله	مستشار لملكي عمان جيفر وعبد.
صفاته	التحدث بالفارسية

د-

أعماله	شارك في الفتوحات الإسلامية
صفاته	الإخلاص والشجاعة

ج-

٣- الشخصية العمانية المقصودة في النص في الشكل المقابل :

أ- سلمة بن عياذ الأزدي

ب- صالح بن المتوكل

ج- أبي صفرة العتكي

د- كعب بن برشة الطاحي

"قدم إلى الرسول ﷺ في ناس من قومه، فسأل النبي الكريم عما يعبد وما يدعو إليه، فأخبره رسول الله ﷺ، فقال ادعُ الله أن يجمع كلمتنا وألفتنا ، فدعا لهم، فأسلم هو ومن معه".

٤- من الصفات التي تميز بها الصحابي سلمة بن عياذ الأزدي:

أ- فصاحة اللسان
ب- التحدث بالفارس

ج- قارئ الكتب السماوية
د- البحث عن المعرفة

٥- الشخصية العمانية الذي اتصف بفصاحة لسانه وكان من ضمن الوفد العماني الذي ذهب إلى المدينة المنورة في عهد أبو بكر الصديق:

أ- سلمة بن عياذ الأزدي
ب- صالح بن المتوكل

ج- أبو صفرة العتكي
د- كعب بن برشة الطاحي

الأسئلة المقالية :

١- صنف الشخصيات الآتية حسب ما يناسبها من العبارات في المخطط الآتي:
(سلمة بن عياذ الأزدي- أبو صفرة العتكي- صالح بن المتوكل- كعب بن برشة الطاحي)

.....
<ul style="list-style-type: none"> • أسلم على يد الرسول صلى الله عليه وسلم. وشارك في الفتوحات الإسلامية وعاتصف بالشجاعة وفصاحة اللسان. 	<ul style="list-style-type: none"> • رافق الصحابي مازن بن غضوبة للمدينة المنورة وألتقى بالرسول صلى الله عليه وسلم. اتصف بالإخلاص والشجاعة. 	<ul style="list-style-type: none"> • صدق نبوة سيدنا محمد وأسلم على يد الرسول صلى الله عليه وسلم وكان قارئ للكتب السماوية 	<ul style="list-style-type: none"> • وفد إلى الرسول صلى الله عليه وسلم وأعلن إسلامه، اتصف بحب الخير لقومه وشغفه بالإطلاع

٢- أقرأ النص ثم أجب عما يلي:

" برزت عدد من الشخصيات العمانية التي عاصرت الرسول ﷺ حيث كان لهم دور مهم في التاريخ العماني والإسلامي ، ومن هذه الشخصيات كعب بن برشة الطاحي الذي استشاره ملكي عمان عندما وصلتهما رسالة الرسول عليه السلام فصدق على نبوة سيدنا محمد ﷺ وأسلم على يده ، حيث اتصف بأنه كان قارئاً للكتب السماوية .

١- ما الدور الذي لعبه العمانيون عبر التاريخ في عهد الرسول ﷺ؟

ب- ما المقصود بالكتب السماوية؟

ج- سبب استشارة ملكي عمان للصحابي كعب بن برشة في نبوة الرسول محمد ﷺ.

٢- أذكر اثنين مما يلي:

أ- الكتب السماوية التي أنزلها الله على الرسل والأنبياء..

ب- الشخصيات العمانية التي عاصرت الرسول ﷺ.

١- مفهوم الحقوق والواجبات وأمثلة عليها :

المفهوم	الحقوق	الواجبات
نماذج منها	التعليم- الرعاية الصحية - الأمن والأمان- التعبير عن الرأي	احترام العادات والتقاليد مشاركة الأسرة في أعمالها الالتزام بالأخلاق الحسنة
	ما يحصل عليه المواطن من الدولة والمجتمع وفقا للقانون وثقافة المجتمع.	ما يجب على المواطن القيام به تجاه الدولة والمجتمع وفقا للقانون وثقافة المجتمع.



٢- ما المقصود بالنظام الأساسي للدولة؟

وثيقة رسمية تعرف بالدولة ونظام الحكم فيها ، كما تبين الحقوق والواجبات العامة.

٣- ما أهمية النظام الأساسي للدولة ؟

تحقيق الحياة الكريمة والعدالة والمساواة للمواطن .

٤- ما أهمية المساواة في الحقوق والواجبات العامة بين المواطنين.

شعور المواطن بالارتياح ودفعه إلى بذل الجهد من أجل أداء واجباته اتجاه الوطن.

٥- أبرز المنجزات العمانية في مجال حقوق الإنسان:



المنجز	اسم
أهدافه	نشر ثقافة حقوق الإنسان
	اللجنة العمانية لحقوق الإنسان

٦- الامام العماني الذي جسد مبادئ حقوق الانسان من خلال وصيته لأسطوله المتجه إلى جزيرة

سقطرى.

الصلت بن مالك الخروصي.

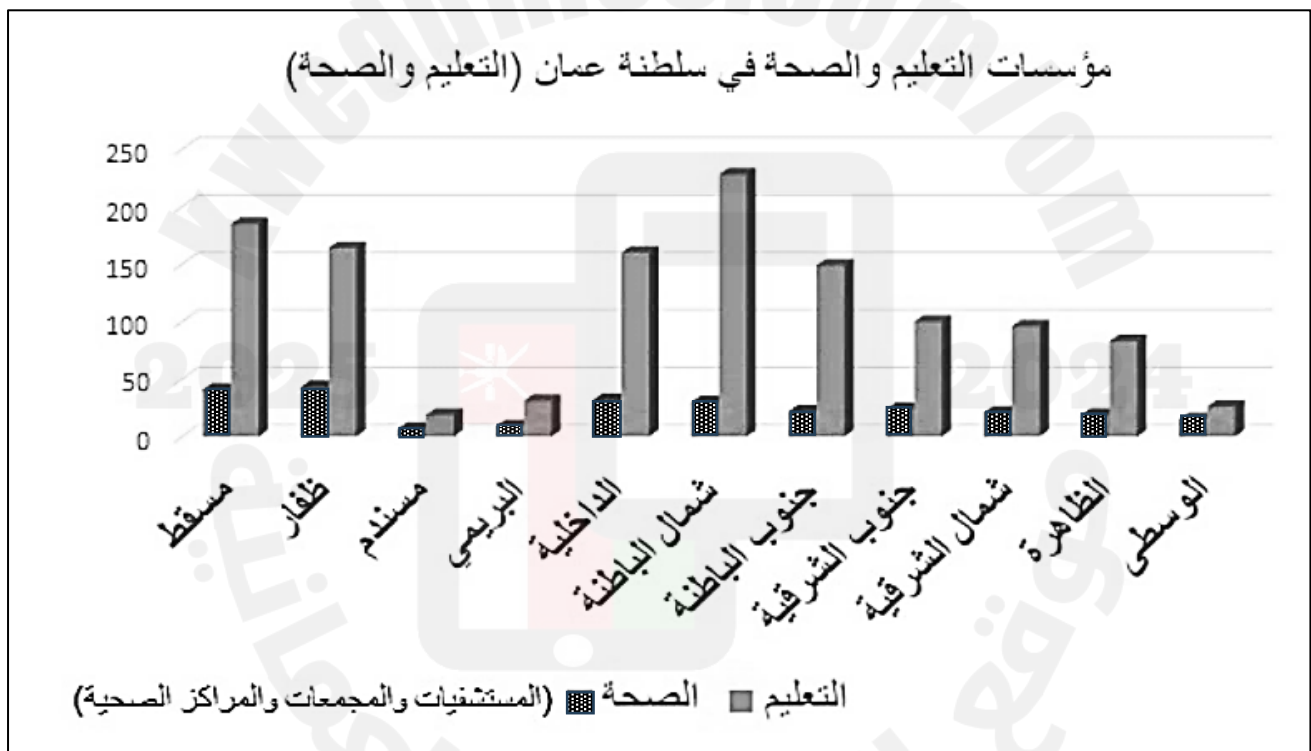
٧- أهمية الحقوق والواجبات .

- تنظيم العلاقات
- تحقيق العدالة والمساواة
- توفير الحياة الكريمة
- ضمان الوحدة والترابط.

٨- علل: يعد تطبيق الحقوق والواجبات أمر أساسي لبناء مجتمع متوازن.
لأنه يساهم في تحقيق العدالة بين الأفراد من خلال احترام حقوق الآخرين والالتزام بأداء الواجبات.

٩- ما العنصر الأساسي الذي يضمن الحفاظ على الأمن والوحدة الوطنية والمنجزات؟
الالتزام بالأنظمة والقوانين.

١٠- الشكل البياني الذي يوضح عدد مؤسسات التعليم والصحة في سلطنة عمان لعام ٢٠٢٢م:



أ- الحقوق التي تقدمها الدولة للمواطن كما يظهر في الشكل السابق.
التعليم - الصحة

ب- علل : تباين أعداد المؤسسات الحكومية من محافظة لأخرى .
بسبب اختلاف أعداد السكان من محافظة لأخرى.

ج- المحافظة العمانية التي تحتل المرتبة الأولى من حيث عدد المؤسسات التعليمية:
محافظة شمال الباطنة.

السؤال الأول: ضع دائرة حوال الرمز الدال على الإجابة الصحيحة من بين البدائل المعطاة:



١- الصورة المقابلة تعبر عن واحدة من واجبات المواطن

أ- احترام العادات والتقاليد

ب- مشاركة الأسرة في أعمالها

ج- الالتزام بالأخلاق الحسنة .

د- احترام الآخرين في القول والعمل.

٢- من أهمية الحقوق والواجبات في المجتمع:

أ- إهمال القوانين

ب- نشر الفوضى

ج- تنظيم العلاقات

د- زيادة الخلافات

٣- الجزيرة التي أوصى الإمام الصلت بن مالك قادة الأسطول البحري العماني بحماية حقوق

المسلمين فيها:

أ- الحلايبات

ب- مصيرة

ج- سقطرى

د- الديمانيات

٤- الجدول الصحيح الذي يوضح حقوق واجبات المواطن العماني:

الواجبات	الحقوق
الالتزام بالزي العماني	الأمن والأمان

ب-

الواجبات	الحقوق
الرعاية الصحية	التعليم

أ-

الواجبات	الحقوق
احترام الآخرين	احترام العادات

د-

الواجبات	الحقوق
إنشاء المدارس	الرعاية الصحية

ج-

٥- الامام العماني الذي جسد مبادئ حقوق الانسان من خلال وصيته لأسطوله المتجه إلى جزيرة

سقطرى.

ب- راشد بن سعيد اليمحمدي

أ- الصلت بن مالك الخروصي

د- الخليل بن عبدالله الخروصي

ج- محمد بن غسان الخروصي

٦- الصورة التي تعبر عن الحقوق التي يتمتع بها المواطن العماني:




د-



ج-



ب-



أ-

الأسئلة المقالية:

١- صنف العبارات التالية إلى حقوق أو واجبات وذلك بوضع إشارة (√) عند الخيار الصحيح:

حقوق	واجبات
أ- حرية التعبير عن الرأي	
ب- الالتزام بالزي العماني.	
ج- احترام الآخرين في القول والعمل.	
د- انشاء المستشفيات والمراكز الصحية	

٢- أقرأ النص التالي، ثم أجب عن الأسئلة التي تليه:

"إنَّ ممَّا نفخر به، أن المواطنين والمقيمين على أرض عُمان العزيزة يعيشون بفضل الله في ظل دولة القانون والمؤسسات. دولة تقوم على مبادئ الحرية والمساواة وتكافؤ الفرص قوامها العدل، كرامة الأفراد وحقوقهم وموقعهم وحياتهم فيها مصانة، بما في ذلك حرية التعبير التي كفلها النظام الأساسي للدولة..

أ- من قائل هذا النص؟

ب- استخرج من النص اثنتين من الحقوق التي يتمتع بها المواطن العماني.

ج- المصطلح الذي ورد في النص ويقصد به " وثيقة رسمية تعرف بالدولة ونظام الحكم فيها."

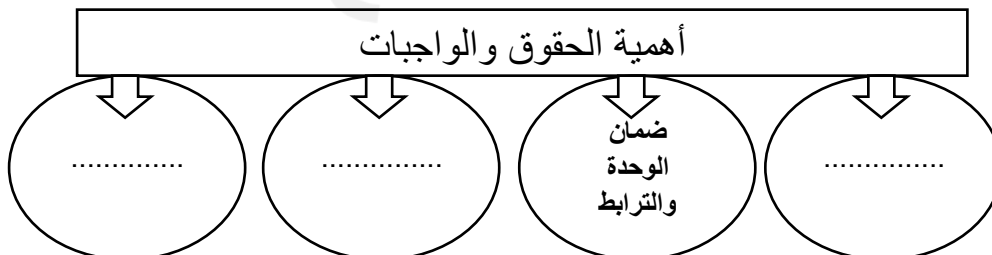
٣- أدرس الشكل المقابل ثم أجب عن الأسئلة الآتية:



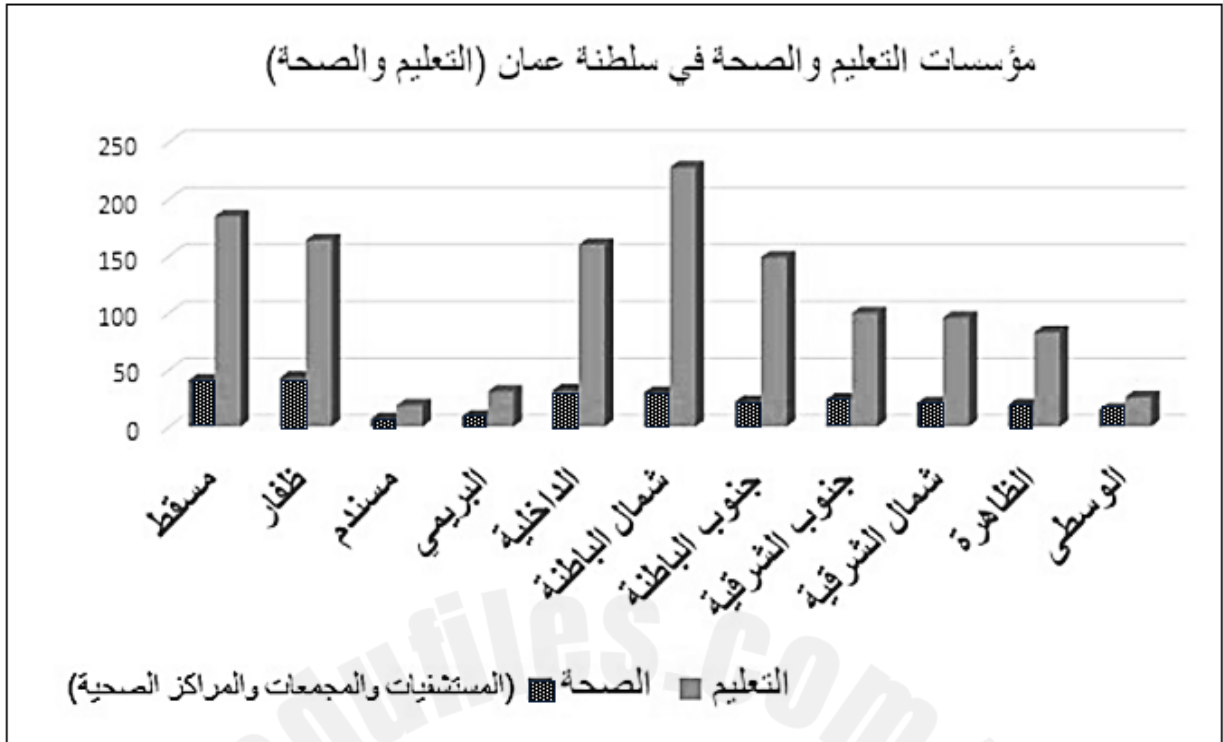
اسم اللجنة:

دورها:

٤- أكمل المخطط الآتي والذي يوضح أهمية الحقوق والواجبات :



٥- ادرس الشكل البياني الذي أمامك ثم أجب عن الأسئلة التي تليه:



أ- المحافظة التي تحتل المرتبة الثانية من حيث عدد مؤسسات التعليم ؟

.....

ب- يبلغ عدد مؤسسات التعليم في محافظة الداخلية ؟

ج- الحقوق التي تقدمها الدولة للمواطن كما يظهر في الشكل السابق.

.....

د- فسر/ انخفاض مؤسسات التعليم في محافظة مسندم.

.....

٦- علل: يعد تطبيق الحقوق والواجبات أمر أساسي لبناء مجتمع متوازن.

.....

٧- أثناء الاستراحة ، قام احد الطلبة بكسر احد مقاعد الفصل ورسم على الجدران، دون الاهتمام

بنظافة المدرسة أو المحافظة على المرافق العامة".

أ- ما رأيك في هذا السلوك؟

.....

ب- اقترح حلا للحد من هذه التصرفات السلبية .

.....

٨- استنتج من خلال الصور الحقوق التي يتمتع بها المواطن العماني:



(.....) (.....) (.....) (.....).

٩- قارن بين الحقوق والواجبات من حيث المفهوم في الجدول الآتي :

الواجبات	الحقوق
.....
.....

١٠- أقرأ النص التالي، ثم أجب عن الأسئلة التي تليه:

" تأسست عمان وترسخ وجودها الحضاري بتضحيات أبنائها، وبذلهم الغالي والنفيس من أجل الحفاظ على عزتها ومنعتها، وبإخلاصهم في أداء واجباتهم الوطنية".

أ- من قائل النص؟

.....

ب- ما الذي قدمه أبناء عمان للحفاظ على عزتها ومنعتها ؟

.....

ج- ما واجبك نحو وطنك؟

2025

١١- قم بكتابة رقم العبارة المناسبة أسفل كل صورة من الصور الآتية والتي توضح واجبات

المواطن:

١- الالتزام بالأخلاق الحسنة

٢- احترام العادات والتقاليد

٣- مشاركة الأسرة في أعمالها.






(.....)


(.....)

(.....)

٧- المؤسسات الوطنية التي تضمن حقوق المواطن في سلطنة عمان:

		
المؤسسات الخدمية	المؤسسات الأمنية	المؤسسات القضائية
تقديم الخدمات للمواطنين حسب اختصاصها مثل الصحة والرعاية الاجتماعية	حفظ الأمن داخل الوطن لينعم المواطن بالرخاء	حفظ حقوق المواطنين من أي اعتداء أو ضرر

٨- اللجنة العمانية التي تختص بحقوق الإنسان :

	اللجنة العمانية لحقوق الإنسان	اللجنة
	نشر ثقافة حقوق الإنسان ومتابعتهم من خلال عمليات الرصد وتلقي البلاغات	دورها

٩- الاتفاقيات الدولية التي صادقت عليها سلطنة عمان :

حقوق المرأة	حقوق الطفل	حقوق الانسان
<ul style="list-style-type: none"> • اتفاقية سيداو(القضاء على جميع أشكال التمييز ضد المرأة • تخصيص ١٧ أكتوبر من كل عام يوم للمرأة العمانية احتفاء بها. 	<ul style="list-style-type: none"> • اتفاقية حقوق الطفل • انضمت لها السلطنة عام (١٩٩٦م). وتشمل البنود الآتية: • حماية الطفل من أداء الأعمال الخطيرة • تمتع الطفل من ذوي الاعاقة برعاية آمنة وحياة كريمة • التمتع بمستوى صحي عال. 	<ul style="list-style-type: none"> • اتفاقية حقوق الأشخاص ذوي الإعاقة • تم انشاء الجمعية العمانية للأشخاص ذوي الاعاقة عام (١٩٩٥م) في مسقط.

١٠- المؤسسة العمانية التي تهتم بالأشخاص ذوي الإعاقة :



اسم المؤسسة	الجمعية العمانية للأشخاص ذوي الإعاقة
تاريخ انشائها	١٩٩٥ م
مقرها	مسقط
الفئة التي تهتم بها	الأشخاص ذوي الإعاقة

١١- علل: انضمام سلطنة عمان إلى الاتفاقيات الدولية المتعلقة بحقوق الإنسان.

لحفظ كرامة الانسان واحترام الآخرين.

١٢- علل: انضمام سلطنة عمان إلى اتفاقية حقوق الطفل عام ١٩٩٦.

لضمان توفير حقوقهم كاملة وحمايتهم من أي ضرر.

١٣- أهم البنود التي تضمنتها اتفاقية حقوق الطفل .



التمتع بمستوى صحي عال.

تمتع الطفل من ذوي الإعاقة برعاية آمنة وحياة كريمة

١- حماية الطفل من أداء الأعمال الخطيرة

١٤- الشخصية العمانية الذي وضع منظومة قيمية لحقوق الإنسان مستمدة كم وحي الشريعة الإسلامية .

الإمام سعيد بن عبدالله الرحيلي.

١٥- الحقوق التي وضعها الامام سعيد بن عبدالله الرحيلي في منظومته .

• حق المساواة بين الرعية

• حق الحرية

• حق المشاركة والشورى.

١٦-دلل على اهتمام سلطنة عمان بحقوق المرأة في المجتمع العماني.

• كفل حقها في التعليم والعمل .

• الانضمام لاتفاقية سيداو.

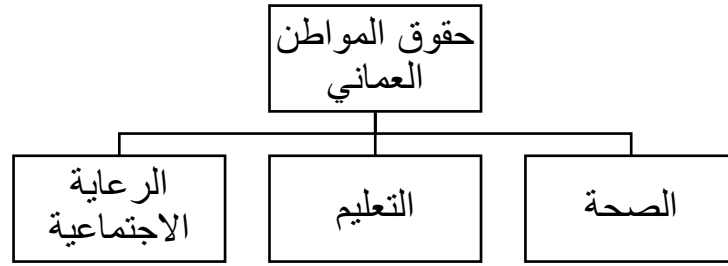
• تخصيص يوم للاحتفاء بها من كل عام وهو ١٧ أكتوبر

١٧- ما أهمية العناية بحق المرأة في المجتمع العماني .

لكونها شريكة الرجل في بناء المجتمع.

السؤال الأول: ضع دائرة حوال الرمز الدال على الإجابة الصحيحة من بين البدائل المعطاة:

٩- المؤسسات التي تقدم للمواطن العماني الحقوق الموضحة في الشكل الآتي:



أ- الخدمية ب- الأمنية ج- القضائية د- العسكرية



١٠- حق الطفل الذي تمثله الصورة المقابلة :

- أ- التعبير عن الرأي
ب- حماية الطفل من أداء الأعمال الخطرة
ج- التمتع بمستوى صحي عال
د- الحصول على التعليم الأساسي

١١- العام الميلادي الذي انضمت فيه السلطنة إلى اتفاقية حقوق الطفل:

أ- ١٩٩٣ ب- ١٩٩٤ ج- ١٩٩٥ د- ١٩٩٦

١٢- الشخصية العمانية الذي وضع منظومة قيمية لحقوق الإنسان مستمدة من وحي الشريعة الإسلامية :

- أ- سعيد بن عبدالله الرحيلي.
ج- الخليل بن أحمد الفراهيدي
ب- نور الدين السالمي
د- احمد بن ماجد

١٣- اليوم الذي خصص من كل عام للاحتفاء بالمرأة العمانية :

أ- ١٧ سبتمبر ب- ١٧ أكتوبر ج- ١٧ نوفمبر د- ١٧ ديسمبر

١٤- الصورة التي تعبر عن المؤسسات الأمنية في السلطنة :



د-



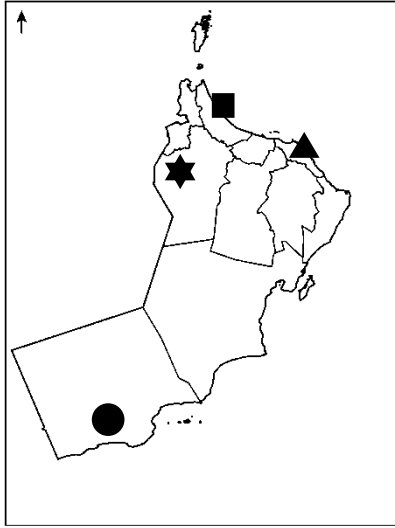
ج-



ب-



أ-



١٥- الرمز الذي يشير في الخريطة إلى المقر الرئيسي للجمعية العمانية للأشخاص ذوي الإعاقة:



١٦- العام الميلادي الذي أنشئت فيه الجمعية الموضح شعارها في الصورة المقابلة:
أ- ١٩٩٥



ب- ١٩٩٦

ج- ١٩٩٧

د- ١٩٩٨

١٧- اختصاص المؤسسات القضائية في سلطنة عمان:

أ- حفظ الأمان داخل الوطن

ب- حفظ حقوق المواطن من أي اعتداء

ج- تقديم الرعاية الاجتماعية

د- تقديم الرعاية الصحية

الأسئلة المقالية:

١- صنف المؤسسات الوطنية التالية حسب اختصاصها في الجدول الآتي:

(مراكز شرطة عمان السلطانية - وزارة التنمية الاجتماعية - المحكمة العليا)

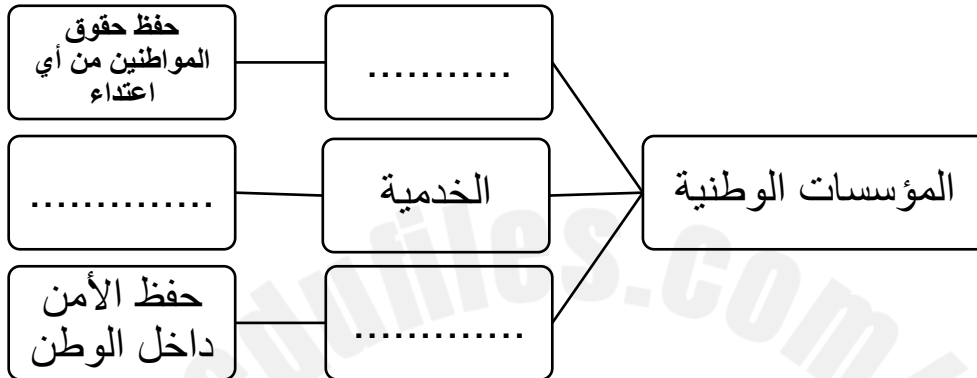
المؤسسات	اختصاصها
	تقديم الرعاية الاجتماعية
	حفظ الأمن داخل الوطن
	حفظ حقوق المواطنين من أي اعتداء

٢- أقرأ النص التالي، ثم أجب عن الأسئلة التي تليه:

" فدعنا للقضاء واستقلاليتة واجب التزامنا به، واحترام قراراته بلا محاباة أمر مفروغ منه فالكل سواسية أمام القانون".
أ- من قائل النص؟

ب- علام تدل عبارة " الكل سواسية أمام القانون"؟

٣- أكمل المخطط الآتي يوضح المؤسسات الوطنية في سلطنة عمان:



٤- علل ما يلي:

أ- انضمام سلطنة عمان إلى الاتفاقيات الدولية المتعلقة بحقوق الإنسان.

ب- انضمام سلطنة عمان إلى اتفاقية حقوق الطفل عام ١٩٩٦.

٥- أذكر اثنين مما يلي:

أ- أمثلة على الحقوق التي وضعها الامام سعيد بن عبدالله الرحيلي في منظومته .

ب- البنود التي تضمنتها اتفاقية حقوق الطفل .

٦- صنف الاتفاقيات الدولية الآتية في الجدول الذي يليها بما يناسبه:

- اتفاقية حقوق الأشخاص ذوي الإعاقة
- اتفاقية حقوق الطفل
- اتفاقية سيداو

حقوق المرأة	حقوق الانسان	حقوق الطفل

خريطة صماء لسلطنة عمان



خريطة صماء لشبة الجزيرة العربية

