

تم تحميل هذا الملف من موقع المناهج العُمانية



* للحصول على أوراق عمل لجميع الصفوف وجميع المواد اضغط هنا

<https://almanahj.com/om>

* للحصول على أوراق عمل لجميع مواد الصف الخامس اضغط هنا

<https://almanahj.com/om/5>

* للحصول على جميع أوراق الصف الخامس في مادة رياضيات ولجميع الفصول, اضغط هنا

<https://almanahj.com/om/5math>

* للحصول على أوراق عمل لجميع مواد الصف الخامس في مادة رياضيات الخاصة بـ الفصل الأول اضغط هنا

<https://almanahj.com/om/5math1>

* لتحميل كتب جميع المواد في جميع الفصول للـ الصف الخامس اضغط هنا

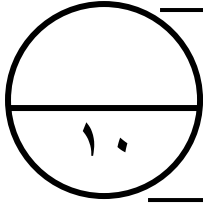
<https://almanahj.com/om/grade5>

للتحدث إلى بوت على تلغرام: اضغط هنا

https://t.me/omcourse_bot

مدرسة

اختبار قصير (١) للفصل الدراسي الأول للصف الخامس في مادة الرياضيات
الاسم: الفصل:



الزمن: ٢٠ دقيقة
يمنع استخدام الآلة الحاسبة.
أجب عن جميع الأسئلة التالية في المكان المخصص للإجابة:

(١) ما العدد المفقود : [١]

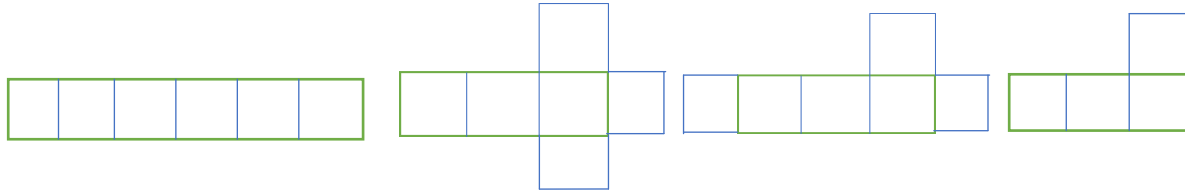
$$١٦٠ \div \dots = ١٦$$

(٢) الحد السابع في المتتالية : ٣ ، ٦ ، ٩ ، [١]

(٣) حوط الأعداد التي تمثل عوامل للعدد ١٨ : [١]

٣ ، ٦ ، ٨ ، ٩ ، ١٢

(٤) أي الشبكات التالية تمثل مكعباً : [١]



[٢]

	٥	×
		٢
١٠٠	٥٠	

(٥) أكمل المربعات

(٦) حوط العدد الذي يقبل القسمة على ٢ ، ٥ معاً [١]

١٠٥ ، ٥٠١ ، ٥١٠ ، ٥٥٥

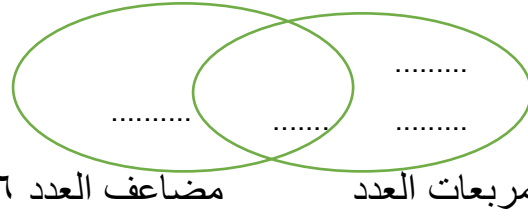
(٧) حوط الحروف التي بها خطوط متوازية

[١]

H W Z A M

٨) ضع العدد في مكانه الصحيح في المخطط

[٢]



٩ ، ١٥ ، ١٦ ، ٣٦ ، ٤٢

انتهت أسئلة الاختبار