

تم تحميل هذا الملف من موقع المناهج العُمانية



* للحصول على أوراق عمل لجميع الصفوف وجميع المواد اضغط هنا

<https://almanahj.com/om>

* للحصول على أوراق عمل لجميع مواد الصف الخامس اضغط هنا

<https://almanahj.com/om/5>

* للحصول على جميع أوراق الصف الخامس في مادة اجتماعيات ولجميع الفصول, اضغط هنا

<https://almanahj.com/om/5social>

* للحصول على أوراق عمل لجميع مواد الصف الخامس في مادة اجتماعيات الخاصة بـ الفصل الثاني اضغط هنا

<https://almanahj.com/om/5social2>

* لتحميل كتب جميع المواد في جميع الفصول للـ الصف الخامس اضغط هنا

<https://almanahj.com/om/grade5>

* لتحميل جميع ملفات المدرس إيمان المعمري اضغط هنا

للتحدث إلى بوت على تلغرام: اضغط هنا

https://t.me/omcourse_bot

عالمي

في الصف
الخامس

مراجعة و أنشطة الصف الخامس في مادة

الدراسات الإجتماعية (الفصل الثاني)

اعداد : أ. إيمان المعمرى

مدرسة الباطنة للتعليم الأساسي

الوحدة الرابعة : الدرس الأول : السكان في الوطن

١- عدد أهم الخصائص السكانية التي تدرسها جغرافية السكان .

- نمو السكان ، التوزيع الجغرافي ، المشكلات السكانية

٢- اقرأ الفقرة ثم اجب على التالي :

(تسعى سلطنة عمان لجمع البيانات عن السكان بصفة دورية بعدة طرق مختلفة و تعتبر السلطنة من الدول العربية التي يزداد فيها نمو عدد السكان من سنة إلى أخرى ، فقد كان عدد السكان في السلطنة ٢.٥ مليون نسمة و زاد السكان حاليا ليبلغ الضعف ، و يتركز السكان في مناطق مختلفة منها السواحل حيث المناخ اللطيف و في المناطق التي تتركز الخدمات و فرص العمل مما يترتب عليه الكثير من المشكلات السكانية) .

أ- علل تسعى السلطنة و كافة الدول لجمع البيانات السكانية .

- لتوفير الخدمات للسكان وفق خطط مدروسة و منظمة

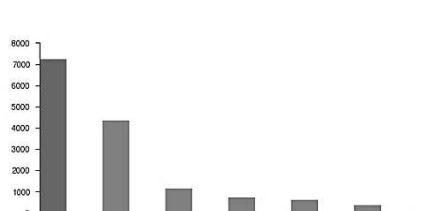
ب- أكمل : من مصادر البيانات السكانية :




ج- متى تم اجراء أول تعداد سكاني في السلطنة ؟

د- كم بلغ عدد سكان السلطنة في عام ٢٠١٧ م ؟

هـ - أي من الأشكال البيانية الآتية توضح النمو السكاني في السلطنة و الوطن العربي ؟



(ج)



(ب)



(أ)

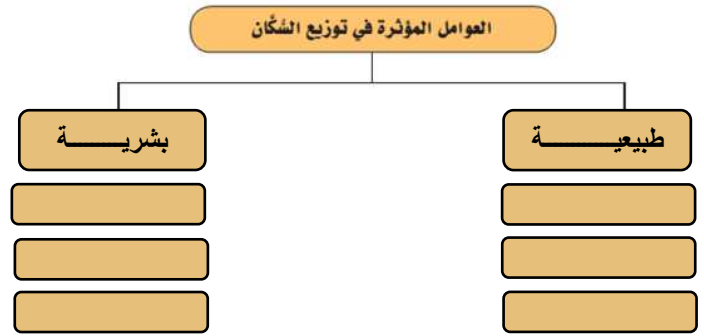
و- اكمل : العوامل المؤثرة في النمو السكاني :



ز- ورد في الفقرة عوامل مؤثرة في التوزيع السكانية ، اذكر اثنين منها .

ح- صنف العوامل المؤثرة في توزيع السكان إلى عوامل طبيعية و بشرية :

(النشاط الإقتصادي ، الموارد الطبيعية ، المناخ ، الأوضاع السياسية ، أشكال السطح ، توفر الخدمات) .



ط - علل : تركيز السكان في مسقط و قلتهم في الوسطى .

- يتركز السكان في مسقط بسبب تركيز الخدمات و فرص العمل ، قلتهم في الوسطى بسبب قلة الموارد الطبيعية و المناخ الصحراوي و قلة الخدمات .

ي- بم تفسر تركيز السكان على ضفاف الأنهار الكبرى كالنيل و دجلة و الفرات ؟

-

ك - عدد أهم المشكلات السكانية في الوطن العربي .

-

ل - اذكر أهم التغيرات السكانية التي يمر بها الوطن العربي .

- ارتفاع معدل المواليد ، انخفاض الوفيات ، الهجرة إلى المدن .

ثانيا: أكمل بالمفهوم المناسب في الفراغ :

١- زيادة عدد السكان من سنة إلى أخرى

٢- عملية جمع و اعداد المعلومات السكانية و الاقتصادية و الاجتماعية لجميع الافراد في دولة و فترة معينة

٣- الزيادة الناتجة عن الفرق بين المواليد و الوفيات تعرف بـ

٤- انتشار السكان في منطقة معينة

٥- المصدر الرئيسي لبيانات السكان في السلطنة هو

٦- اكثر المحافظات في عدد السكان هي محافظة

مراجعة الدرس الثاني : مصادر الطاقة في الوطن العربي

١- وضح أهمية الطاقة .

- الطاقة عنصر مهم في احداث التقدم الحضاري و النمو العمراني و الاقتصادي .

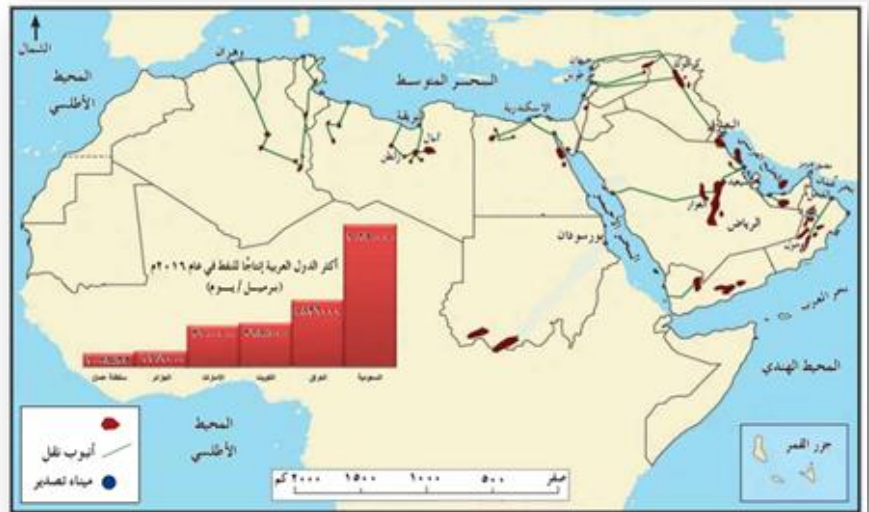
٢- اكتب على الأشكال مصادر الطاقة :



٢ - قارن بين الطاقة المتجددة والطاقة غير المتجددة كما في الجدول التالي :

التعريف	الطاقة المتجددة	الطاقة غير المتجددة
.....
.....
مثالا لكل منهما

٤- امامك خريطة انتاج النفط و بعض الحقول و الموانئ النفطية في الوطن العربي ادرسها جيدا ثم اجب على الآتي :



أ- عدد أهم الحقول النفطية في السلطنة و موانئ التصدير فيها .

ب- استخلص اعلى دولة في انتاج النفط .

ج- كم بلغ انتاج السلطنة من النفط عام ٢٠١٦ م ؟


د- وقع على الخريطة ميناء ينبع .

هـ- اكمل : يقع ميناء وهران في دولة من جهة لها .

و- صل خط انبوب نقل النفط بالميناء في السودان .

٥- علل ما يأتي :

- أ- يعد الغاز الطبيعي من مصادر الطاقة المهمة .
- ج أ – نظرا لتوفره بكميات كبيرة و تعدد استخداماته .
- ب- أهمية مشروع حقل خزان للسلطنة .
- ج ب – لانه يعد أكبر مشاريع انتاج الغاز الطبيعي في السلطنة .
- ٦- أكمل الخريطة الذهنية لإستخدامات الغاز الطبيعي .

٧- اذكر مشاريع الاستفادة من الطاقة المتجددة بالإستعانة بالصور التالية :



دلل على ما يأتي :

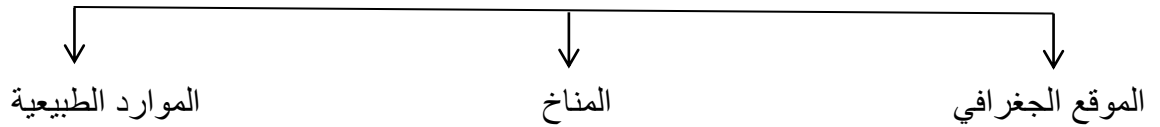
- أ- اهتمام السلطنة بالغاز الطبيعي .
- ج أ- انشأت مصانع تسييل الغاز الطبيعي و تصديره ، منها مشروع خزان في الظاهرة و هو أكبر مشروع لإنتاج الغاز.
- ب- اهتمام وزارة التربية و التعليم بالطاقة المتجددة .
- ج ب – نفذت الوزارة بالتعاون مع شركة شل للتنمية مشروع للاستفادة من الطاقة الشمسية في عدد من المدارس .

مراجعة الدرس الثالث : الأنشطة الاقتصادية في الوطن العربي

١- عدد أهم الأنشطة الاقتصادية في الوطن العربي .

- الزراعة ، الصناعة ، السياحة

٢- ارسم خريطة ذهنية بالعوامل المسهمة في تنوع الأنشطة الاقتصادية في الوطن العربي .



٣- قارن بين الأنشطة الاقتصادية في الوطن العربي من حيث كلا من :

النشاط الاقتصادي	الزراعة	الصناعة	السياحة
المفهوم	-	تغيير شكل و طبيعة المواد الخام إلى شكل آخر تلبية لحاجات الإنسان .	حركة الافراد و الجماعات من أماكن اقامتهم إلى أماكن اخرى بغرض أداء مهمة معينة أو زيارة مكان أو ترفيه .
الأهمية	١- مصدر للغذاء ٢ مصدر للدخل الوطني ٣- توفر فرص عمل ٤- توفر مواد خام للصناعة	١- مصدر للدخل ٢- يوفر فرص عمل	١- مصدر للدخل ٢- يوفر فرص عمل ٣- تنمي العلاقات و التبادل الثقافي بين الشعوب
أمثلة	الحبوب ، الخضروات ، الفواكة ، البتمور ، البذور الزيتية	صناعات استخراجية و تحويلية	تنوع المناخ ، المحميات الخدمات السياحية ، المواقع الأثرية
دور السلطنة في دعم النشاط	اعلان عام ١٩٨٨ عاما للزراعة - تنفيذ مشروع المليون نخلة عام ٢٠٠٩ م .	انشأت السلطنة عددا من المناطق الصناعية مثل منطقة صحار الصناعية	انشاء الخدمات السياحية و تطويرها (توفير وسائل النقل ، الفنادق ، المطاعم ، المنتجعات ، المهرجانات ، المعارض)

٤) أمامك شكل يوضح الانتاج الزراعي للوطن العربي عام ٢٠١٤ ادرسه جيدا و اجيب على الآتي:



أ- عدد أهم المحاصيل في الوطن العربي .

.....

ب- ما أكثر أنواع المحاصيل انتاجا في الوطن العربي ؟

.....

٢- رتب المحاصيل ترتيبا تنازليا من حيث كمية الانتاج .

..... ، ، ،

.....

٥) ادرس جدول انتاج بعض المحاصيل الزراعية في عمان و تونس و اجب :

الإنتاج بالآلف طن (عام ٢٠١٤م)					الدولة
الليمون	التمور	الطماطم	البطاطس	القمح	
٦	٣١٧	٧٥	٥	٣	سلطنة عُمان
٤٤	١٩٥	١٢٠٠	٣٨٥	١٥١٣	تونس

أ) ما أكثر المحاصيل انتاجا في عمان و تونس و ما أقلها ؟

الدولة	عمان	تونس
الأكثر	التمور	القمح
الأقل	القمح	الليمون

ب) كم بلغ اجمالي انتاج المحاصيل المدرجة في الجدول في السلطنة في عام ٢٠١٤ م ؟
- ٤٠٦ آلاف طن .

ب) برأيك ما أسباب تنوع المحاصيل في الوطن العربي ؟

- تنوع المناخ و الموارد الطبيعية و الموقع

٦) علل كلا من :

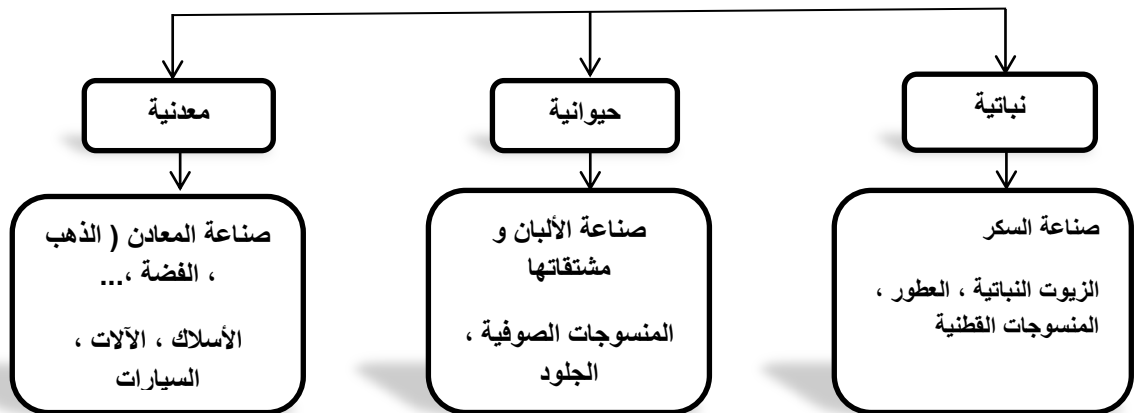
أ) اعلان عام ١٩٨٨م عاما للزراعة .

- لتطوير قطاع الزراعة و الاهتمام بها و الاهتمام بالمحاصيل التقليدية و المحاصيل الاخرى في عمان لتساعد على تحقيق الاكتفاء الذاتي .

ب) تنفيذ مشروع المليون نخلة .

- للتأكيد على أهمية الزراعة .

٧- ارسم خريطة ذهنية بأنواع المواد الخام و أمثلة عليها :



٨- عدد أهم الصناعات التي اهتمت دول الوطن العربي بتطويرها .

- الصناعات الغذائية (الألبان و مشتقاتها ، تكرير السكر ، تعليب الخضروات و الفواكة ، استخراج الزيوت النباتية ، تغليف التمور .

٩- صنف الصناعات الآتية إلى صناعات تحويلية و استخراجية بوضع علامة ✓ :

الصناعات	استخراجية	تحويلية
صيد الأسماك		
صناعة البلاستيك		
استخراج النفط و الغاز		
صناعة الزجاج		
التنقيب عن المعادن		
تعليب الخضروات و الفواكة		
استخراج اللؤلؤ		

١٠- استنتج عوامل الجذب السياحي في الوطن العربي من خلال الصور :

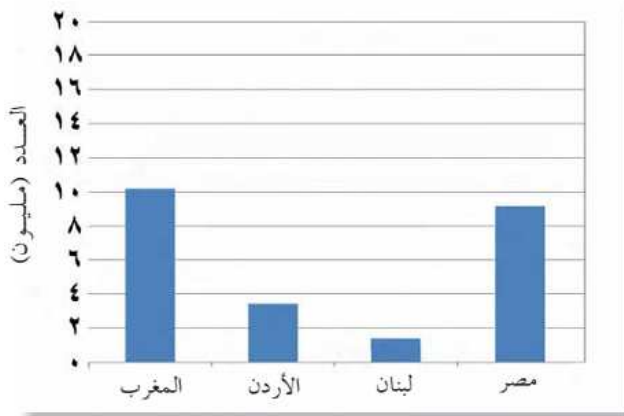


١١- دلل على اهتمام الدول العربية بالسياحة .

١٢- استنتج من خلال الشكل الدولة الأكثر جذبا للسياح ، و لماذا برأيك تتمتع بعامل جذب سياحي .

- المغرب ، تتنوع فيها الخدمات السياحية و المواقع الأثرية و الشواطئ ..

١٣- ما مقترحاتك لتصبح عمان متصدرة للجذب السياحي في الوطن العربي ؟



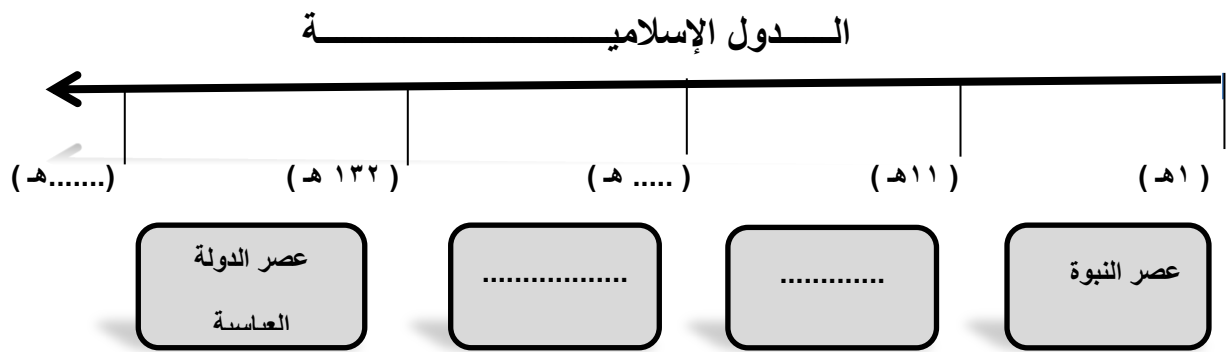
- زيادة الخدمات السياحية و تطويرها ، استغلال الموارد الطبيعية و تنميتها ..

١٤- عدد المقومات السياحية في السلطنة .

- تنوع المناخ ، البيئات الطبيعية كالجبال ، الصحاري ، الشواطئ الكهوف ، الأودية ، و القلاع و الحصون و الأسواق .

الوحدة الخامسة : الدرس الأول : الدولتان الأموية و العباسية

١ - أكمل المسطرة الزمنية التالية لإمتداد الدول الإسلامية و تعاقبها :



(ب) - كم سنة دام عصر الدولة الأموية ؟

(ج) حدد الفترة الزمنية التي قام فيها عصر الخلافة الراشدة .

(د) رتب العصور التاريخية التالية تصاعديا بوضع الأرقام :

() الخلافة الأموية

() الخلفاء الراشدين

() الخلافة العباسية

() عصر النبوة

هـ - احسب فترة امتداد الخلافة العباسية .

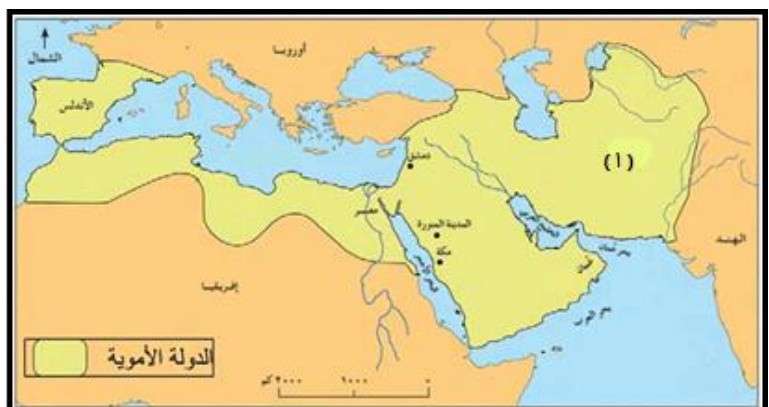
.....

٢ - اكمل / المدينة التي اتخذها معاوية بن أبي سفيان عاصمة لدولته

- بلغ عدد خلفاء الدولة الأموية

٣ - الخليفة العباسي الذي انشأ مكتبة بيت الحكمة

٤ - امامك خريطة الدولة الأموية في أقصى اتساعها ادرسها جيدا ثم أجب :



(أ) ضع دائرة على عاصمة الدولة الأموية .

(ب) اذكر اسم المدينة التي ضمتها الدولة الأموية و المشار لها بالرقم ١ .

ج) اكتب اسم البحر المتوسط في مكانه الصحيح .

د) سم القائد الذي ساهم في توسع الدولة إلى بلاد المغرب و الأندلس .

هـ) علل : انتشار الاسلام في جميع هذه المناطق .

٤- قارن بين الدولة الأموية و الدولة العباسية :

الخلفاء	الأموية	العباسية
العاصمة	دمشق	بغداد
سنة القيام	٤١ هـ	١٣٢ هـ
سبب التسمية	نسبة إلى جدهم أمية بن عبد شمس	نسبة إلى العباس عم الرسول
أبرز المنجزات	<p>١- تعريب النظام الإداري:</p> <p>السجلات النقود</p> <p>٢- العمارة الإسلامية</p> <p>المساجد القصور المدن</p>	<p>إدارية عمرانية فكرية</p>
اسباب نهاية الدولة و سقوطها	<p>صعوبة ادارة الدولة للأسباب :</p> <p>١- اتساع الدولة</p> <p>٢- صعوبة الإتصال بين اجزائها</p> <p>٣- تزايد المعارضة ضد الحكم الأموي وبالتالي سقوطها سنة ١٣٢ هـ .</p>	<p>ضعفت الدولة للأسباب :</p> <p>١- التنافس على الحكم</p> <p>٢- تدهور اقتصاد الدولة</p> <p>٣- دخول المغول العاصمة بغداد و اسقاطهم للخلافة العباسية سنة ٦٥٦ هـ .</p>

٥- تميز العصر الأموي بالمعالم العمرانية ، صنف هذه المعالم حسب الدولة الموجودة فيها :

المعلم	الدولة
مسجد قبة الصخرة	
قصر عمرة	
مدينة القيروان	



٦- أمامك نموذج للنقود التي نقشت باللغة العربية، إلى أي عصر تنتمي ؟

- من الخليفة الذي نقشت في عهده ؟

٧- برهن على وجود شواهد دالة على العمارة الأموية حتى وقتنا الحاضر .

- مسجد قبة الصخرة ، قصر عمرة

٨- ما شعورك و انت ترى هذه الشواهد الجميلة الدالة على العمارة الأموية باقية .

-

٩- أمامك مخطط لإحدى المدن العربية في العصر العباسي ، ادرسه جيدا ثم أجب عن الأسئلة الآتية :



(أ)- ما المدينة التي يوضحها الشكل ؟

(ب)- ما الشكل الهندسي الذي تمثله ؟

(ج)- الجهة التي يقع فيها باب خراسان :

☐ شمال شرق ☐ شمال غرب (اختر الصحيح)

(د)- سم النهر في الرقم ١ الذي تطل عليه المدينة .

(هـ) - باستخدام الرمز  حدد موقع قصر الخلافة .

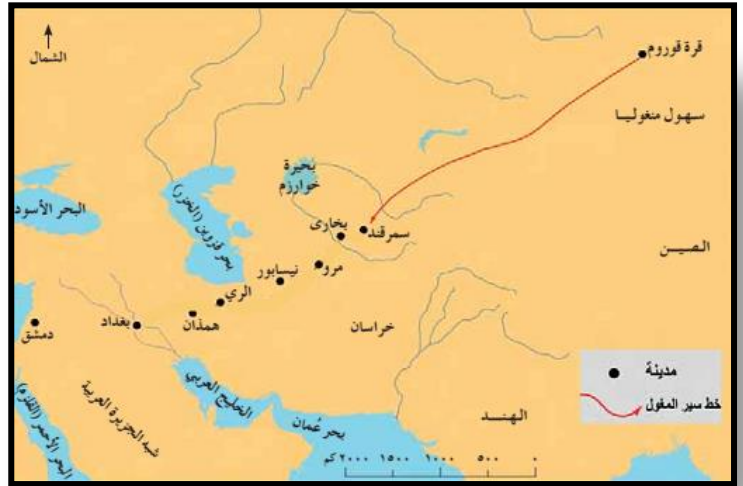
٩- علل : دخول أهل سمرقند في الاسلام .

.....

١٠ (دلل على عبقرية اطباء الدولة العباسية .

.....

١١- أمامك خريطة سير المغول إلى بغداد ، ادرسها جيدا ثم أجب :



(أ) اكمل خط سير المغول لبغداد .

في أي جهة تقع بغداد بالنسبة لعاصمة الدولة الأموية .

(ج) اذكر النتيجة المترتبة على دخول المغول لبغداد .

١٢- رتب الاحداث التاريخية من الأقدم إلى الأحدث بكتابة رقم الترتيب الصحيح بين القوسين :

أ- () بناء مدينة بغداد

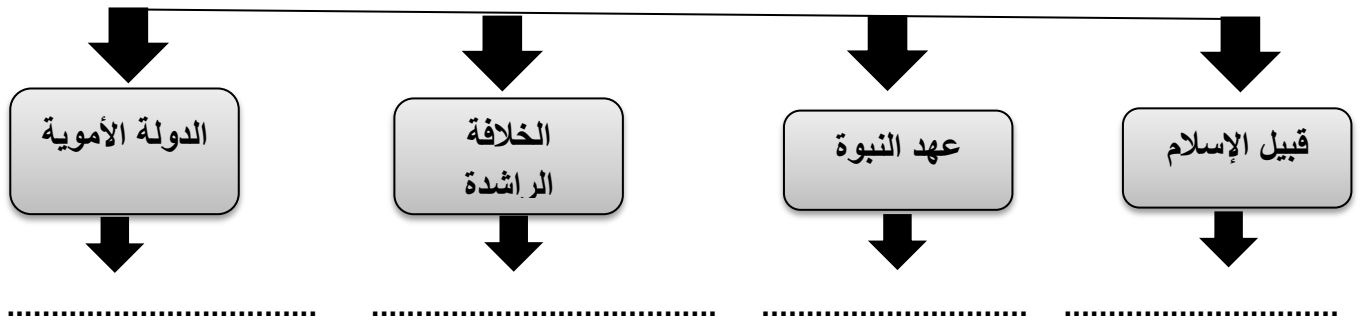
ب- () تعريب النظام الإداري

ج- () دخول المغول لبغداد

د- () اتخاذ معاوية بن ابي سفيان دمشق عاصمة له .

الوحدة الخامسة : الدرس الثاني : عمان في العصر الأموي

١- أكمل المخطط بذكر حكام عمان خلال العصور المختلفة :



٢- علل كلا من :

(أ) تعيين مبعوث من الدولة الإسلامية على عمان في عهد النبوة و عهد الخلافة الراشدة .

(ب) سعي الدولة الأموية للسيطرة على عمان و ضمها للدولة .

٣- امامك خريطة الطرق التجارية في العصر الأموي ، ادرسها جيدا ثم أجب :



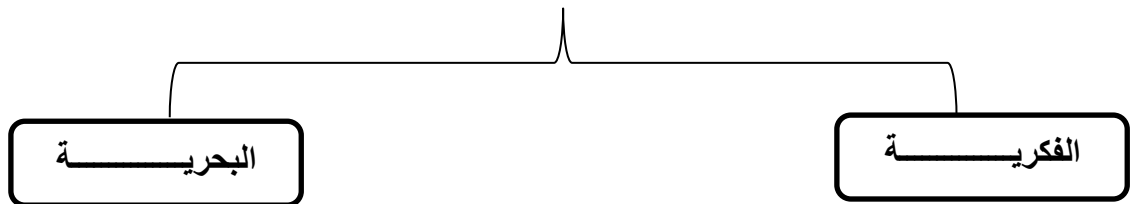
(أ) سم الميناء المشار له بالرقم ١ .

(ب) أكمل مسار الطريق التجاري الذي يربط صحار بباقي اجزاء الدولة الأموية .

(ج) حدد موقع عمان بالنسبة لعاصمة الدولة الأموية .

(د) ضع دائرة على الدولة التي ترتبط بعمان من ناحية الشرق .

٤- ارسم خريطة ذهنية بالمنجزات الحضارية العمانية .



٥- دلل على نشاط الحركة الثقافية بعمان في العصر الأموي .

- من أهم العلوم التي نشطت في تلك الفترة هي علوم الشريعة الإسلامية

- يعد جابر بن زيد من أوائل الذين ألفوا في علم الفقه

اعداد : أ . إيمان المعمرى مدرسة الباطنة للتعليم الأساسي

- هاجر الكثير من العمانيين إلى البصرة لطلب العلم و نشره .
- يعد كعب بن معدان الأزدي شاعرا و خطيبا مشهورا في تلك الفترة .

٦- من خلال الأبيات التالية ، أجب عن الآتي :

والأزْدُ قَوْمِي خِيَارُ الْقَوْمِ قَدْ عَلمُوا إِذَا قُرِئَتْ لَهُمْ^(١) يَوْمَ الْوَعْيِ خَطَرُوا
فِيهِمْ مَعَايِلُ مِنْ عَزْ يُلَاذُّ بِهَا يَوْمًا إِذَا شَمَرَتْ حَزْبٌ لَهَا دُرُرُ
حَيٍّ بِأَسْيَافِهِمْ يَتَغَوَّنُ مَجْدُهُمْ إِنَّ الْمَكَارِمَ فِي الْمَكْرُوهِ تَبْتَدِرُ^(٢)

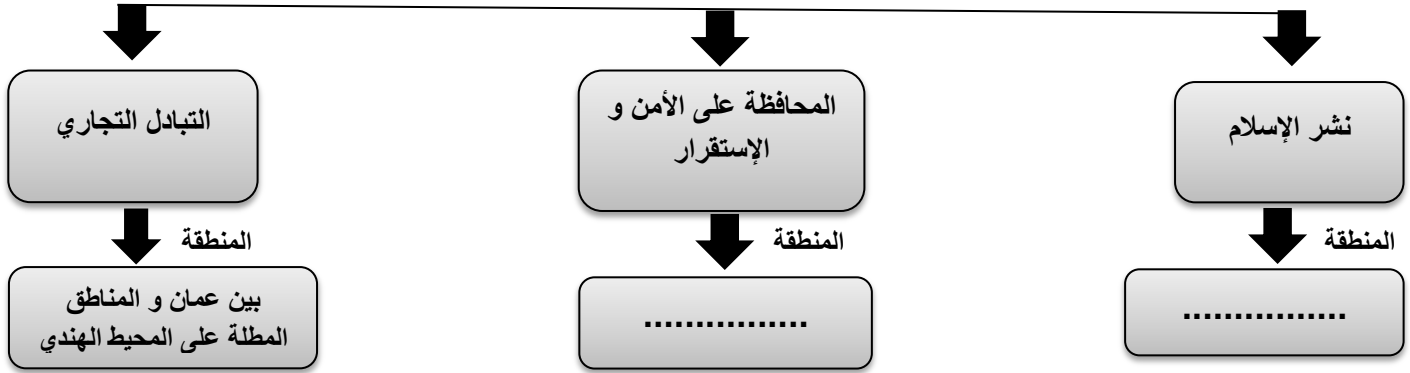
(أ) من قائل البيت ؟

(ب) ما الغرض الشعري من الأبيات ؟

٧- علل : ازدهار النشاط البحري العماني في العهد الأموي :

- تحققت المنجزات بفعل الأسطول العماني الذي حقق العديد من المنجزات في نشر الإسلام ، و المحافظة على أمن و الاستقرار و التبادل التجاري .

٨- ارسم خريطة ذهنية بالمنجزات العمانية البحرية :



الوحدة الخامسة : الدرس الثالث : عمان في العصر العباسي

١- فسر : حافظ العمانيون على حكم بلادهم مع بداية العصر العباسي .

* بمبايعة الامام الجندي بن مسعود عام ١٣٢ هـ

٢- صل بين الفترة الزمنية و الحملة العباسية على عمان :

- حملة بقيادة خازم بن خزيمة ٢٨٠ هـ

- حملة محمد بن نور ١٨٩ هـ

- حملة عيسى بن جعفر ١٣٤ هـ

٣- ادرس الخريطة التي أمامك ثم أجب :



أ- استنتج اسم قائد الحملة التي يتضح مسارها في الخريطة مع ذكر العام الذي انطلقت فيه .

ب- تتبع مسار حملة خازم بن خزيمة إلى عمان .

ج- اذكر النتيجة المترتبة على حملة عيسى بن جعفر على عمان .

٤- علل كلا من :

أ- هجرة العمانيين إلى مناطق كثيرة مثل العراق و الأندلس في العصر العباسي .

- لطلب العلم و نشره .

ب- سميت نزوى ببيضة الإسلام .

- لكثرة العلماء فيها .

٥- صل بين الكتاب و مؤلفه من العلماء العمانيين في العصر العباسي :



(٣) أبو العباس المبرد

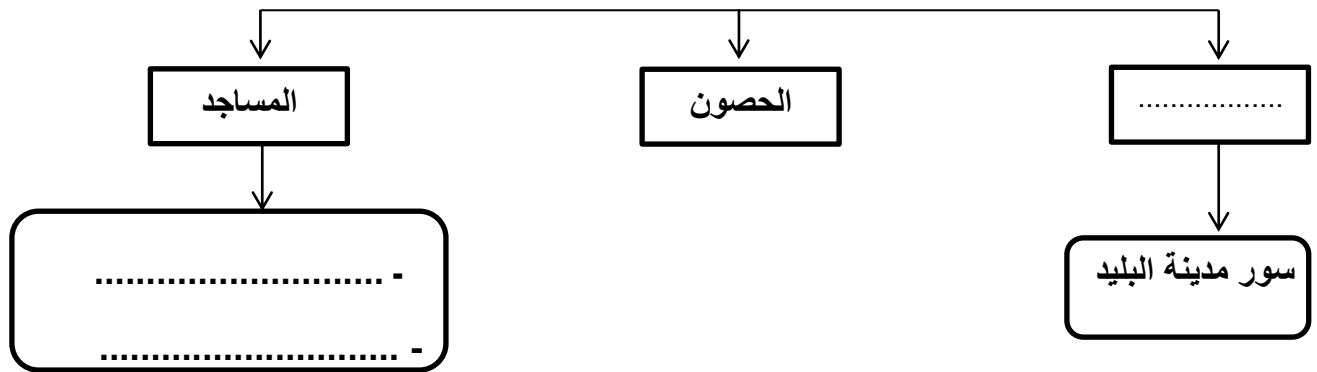


(٢) ابن الذهبي




(١) محمد بن جعفر الأزكوي

٦- اكمل الخريطة الذهنية لمعالم التطور العمراني عند العمانيين في العصر العباسي :



٧- سم المعالم العمرانية الواضحة في الصورتين :



أ-
ب-

٨ - اكمل العبارات التالية :

- أ- أهم الأنشطة الاقتصادية بعمان في العصر العباسي ، ،
 ب- من البضائع التي تاجر بها العمانيون و
 ج- من أهم المراكز التجارية العمانية في العصر العباسي ، ميناء في صلالة و ميناء في السيب.
 د- من أهم المدن التي اشتهرت بصناعة السفن في العصر العباسي
 هـ- من أهم المحاصيل الزراعية التي تاجرت بها عمان في العصر العباسي ، ،
 و- من أهم الصناعات التي برع فيها العمانيون ، ،
 ز- كونت عمان علاقات تجارية مع عدد من الدول منها ، ،
 ح- الصناعة التي اشتهرت بها نزوى

٨- عدد أهم الأدوار التي قام بها الاسطول العماني في العصر العباسي .

- حفظ إستقرار البلاد .

- حماية خطوط الملاحة من القراصنة

- التجارة

- نشر الإسلام

٩- اذكر اسم الشخصية العمانية الدالة عليها العبارات التالية:

- تمت مبايعته اماما على عمان عام ١٣٢ هـ

- ارسل اسطولا عمانيا لتحرير جزيرة سقطرى

- تاجر عماني لقب بجنرال الأخلاق الطيبة

الوحدة السادسة : الدرس الأول : عوامل التكامل العربي

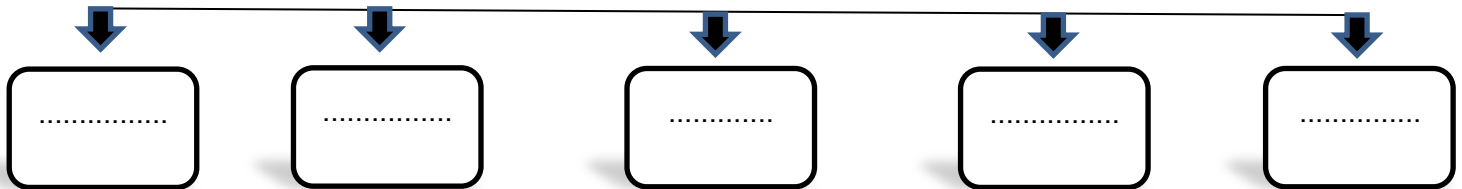
١- عرف التكامل .

- التبادل القائم بين الدول لتحقيق أهداف مشتركة .

٢- عدد أمثلة على التكامل بين الدول .

- تبادل المنتجات الزراعية و الصناعة .

٣- أرسم خريطة ذهنية لعوامل التكامل العربي :



٤- فسر: للوطن العربي موقع مهم بالنسبة للعالم .

- لأنه يقع على ملتقى ٣ قارات و يشرف على عدد من المسطحات و القنوات المائية و المضائق المهمة .

٥- اذكر النتيجة المترتبة على كلا من :

أ- تميز الوطن العربي بسهولة الاتصال بين أجزائه .

- ساعد على التنقل بين أراضيه منذ القدم .

ب- امتداد الوطن العربي على مساحات واسعة .

- تنوع التضاريس و المناخ في دوله .

٦- تخيل أنك سافرت في رحلة بحرية إلى مدينة القاهرة في مصر ، في ضوء ذلك و بالاستعانة بالخريطة التالية أجب

عن الآتي :



أ- أرسم على الخريطة خط سير رحلتك .

ب- اكتب أهم المسطحات و الممرات التي مررت بها في رحلتك حسب الجدول الآتي :

الدول التي مررت بها	
المسطحات المائية	
المضائق	
القنوات	

٧- استنتج من الآية أهمية الدين الإسلامي للأمة العربية من الآية الكريمة .

﴿وَأَعِصُوا بِحَبْلِ اللَّهِ جَمِيعًا وَلَا تَفَرَّقُوا ۚ وَادْكُرُوا نِعْمَتَ اللَّهِ عَلَيْكُمْ إِذْ كُنْتُمْ أَعْدَاءً فَأَلَّفَ بَيْنَ قُلُوبِكُمْ فَأَصْبَحْتُمْ بِنِعْمَتِهِ إِخْوَانًا﴾ سورة آل عمران، الآية (١٠٣)

- نظم حياتهم و وحد عبادتهم و نهى عن الفرقة و دعا إلى التعاون و المحبة و السلام .

٨- وضح أهمية اللغة العربية للوطن العربي .

- لغة القرآن ، اسهمت في توحيد العرب ثقافيا منذ القدم ، تعد اليوم من اللغات المهمة في العالم .

٩- برهن على أهمية اللغة العربية عالميا .

- خصصت منظمة الأمم المتحدة يوم ١٨ ديسمبر من كل عام يوما عالميا للغة العربية .

١٠- " للعرب تاريخ مشترك " فسر هذه العبارة .

- مر الوطن العربي بأحداث متشابهة اسهمت في توحيد اهداف الشعوب .

- قامت على ارضه حضارات عريقة .

- حكمته عدد من الدول الإسلامية اسهمت في تطوره .

١١- عدد أهم الحضارات التي قامت في الوطن العربي .

- مجان في عمان ، الحضارة الفرعونية في مصر .

١٢- عددي أهم العادات و التقاليد المتشابهة في الدول العربية .

- الأخلاق و الصفات الحميدة (الكرم التعاون ، الاحتفاء بالمناسبات الاجتماعية) .

١٣- وضح نظرة الإسلام للعادات .

- دعا الاسلام للتمسك بالعادات و الأخلاق الحميدة و نبذ العادات السيئة .



١٤- عرف بالفن التقليدي الواضح في الصورة و اذكر متى تم ادراجه في قائمة التراث العالمي .

الوحدة السادسة : الدرس الثاني : عمان .. علاقات طيبة و تعاون دائم


١- وضح مجالات تعاون السلطنة مع دول الوطن العربي :

المجال	المجال السياسي	المجال الاقتصادي	المجال الثقافي و الرياضي
دور السلطنة	- انضمت السلطنة عام ١٩٧١م إلى جامعة الدول العربية و تشارك في اجتماعاتها بفعالية . - تحرص السلطنة على توثيق علاقاتها بالدول العربية من خلال التشاور و حل مشكلات الدول العربية .	- تسعى السلطنة إلى تحقيق التكامل الإقتصادي من خلال تبادل البضائع و السلع ، - المشاركة في العديد من المشاريع و الفعاليات الإقتصادية العربية .	- المشاركة في المؤتمرات و الفعاليات الثقافية و الرياضية . - تبادل الخبرات التربوية و الإعلامية - تستضيف العديد من الأنشطة الرياضية و الثقافية .
أمثلة	- الزيارات الأخوية مع رؤساء و ممثلي الدول العربية .	- المشاركة في معرض للمنتجات العمانية في الجزائر .	- مشاركة السلطنة في المسابقة العربية للبرمجة ٢٠١٧ م - استضافة السلطنة لبطولة كأس العرب لكرة الطاولة ٢٠١٧ م - استضافة السلطنة للمؤتمر العربي الكشفي في نوفمبر ٢٠١٦ م

٢- صنف مجالات التعاون العربي إلى (سياسي ، اقتصادي ، ثقافي و رياضي) من خلال الصور التالية :



٣- اكمل البطاقة التعريفية التالية :



اسم المنظمة : جامعة الدول العربية

سنة الإنشاء :

الهدف من الإنشاء :

المقر :

سنة انضمام السلطنة لها :