

تم تحميل هذا الملف من موقع المناهج العمانية



\*للحصول على أوراق عمل لجميع الصفوف وجميع المواد اضغط هنا

<https://almanahj.com/om>

\* للحصول على أوراق عمل لجميع مواد الصف الخامس اضغط هنا

<https://almanahj.com/om/5>

\* للحصول على جميع أوراق الصف الخامس في مادة رياضيات ولجميع الفصول, اضغط هنا

<https://almanahj.com/om/5math>

\* للحصول على أوراق عمل لجميع مواد الصف الخامس في مادة رياضيات الخاصة بـ الفصل الأول اضغط هنا

<https://almanahj.com/om/5math1>

\* لتحميل كتب جميع المواد في جميع الفصول للـ الصف الخامس اضغط هنا

<https://almanahj.com/om/grade5>

\* لتحميل جميع ملفات المدرس عائشة النعيمي اضغط هنا

للتحدث إلى بوت على تلغرام: اضغط هنا

[https://t.me/omcourse\\_bot](https://t.me/omcourse_bot)



أ. عائشة النعيمية



الخامس  
الأساسي



المديرية العامة للتربية والتعليم  
شمال الباطنة

جمع المنزلة  
من الأعداد

الفصل  
الأول

مدرسة أمية بنت قيس  
للتعليم الأساسي (٥-٩)



أستطيع أن أتحقق من  
إجاباتي لعمليات الجمع  
وشرح الاستراتيجيات  
التي اتبعتها للتحقق .




أستطيع أن استخدم  
طريقة كتابية لجمع أكثر  
من ثلاثة أعداد مكون كل  
منا من ثلاثة أرقام .


almanahj.com/lom

١) تجمع مها وماجدة وفريدة الأموال بأداء مهام روتينية لمدة أربعة شهور.  
تعرض هذه الرسوم البيانية الأموال التي تمّ تجميعها كلّ شهر.

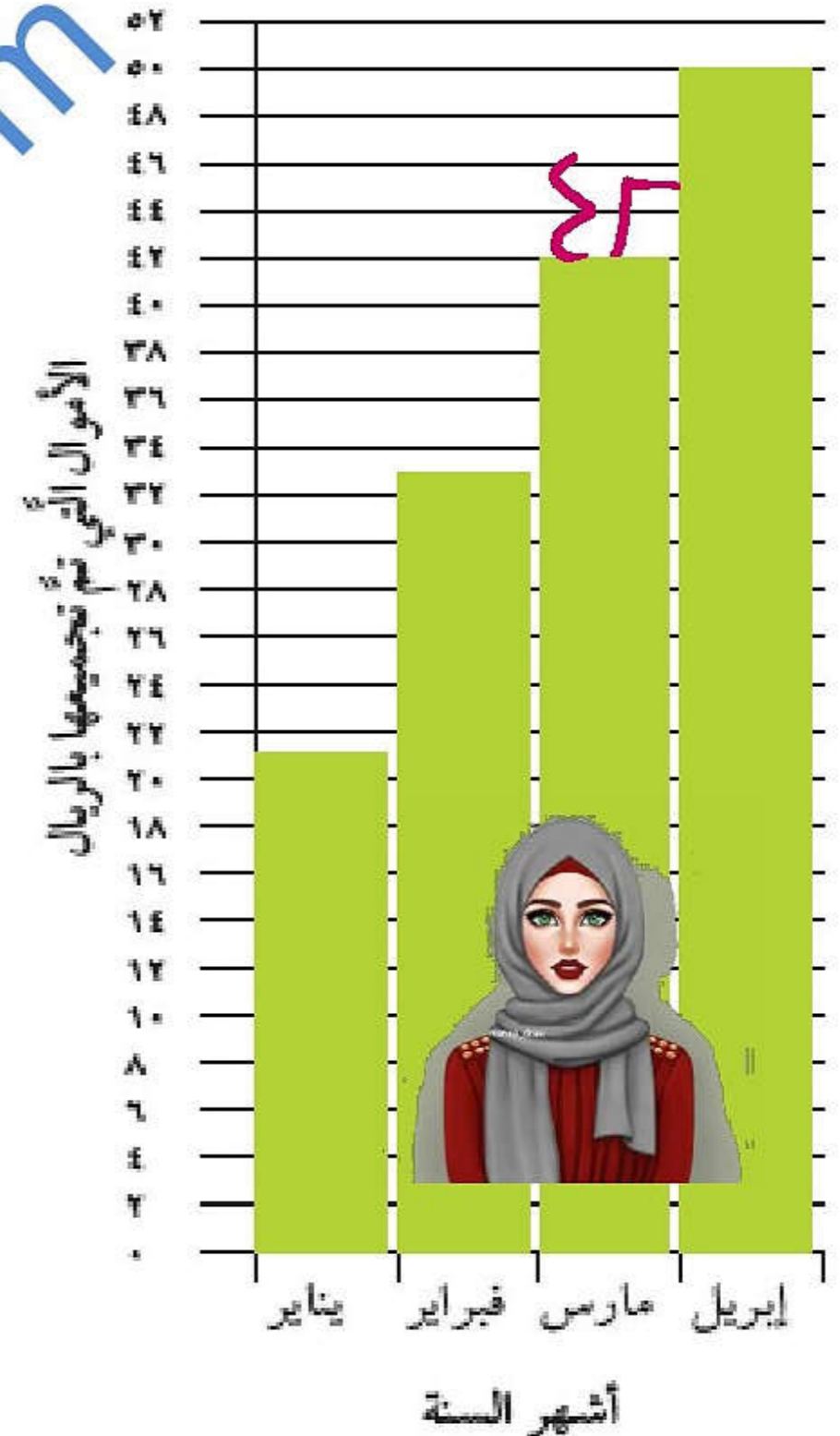
أرباح فريدة



أرباح ماجدة



أرباح مها

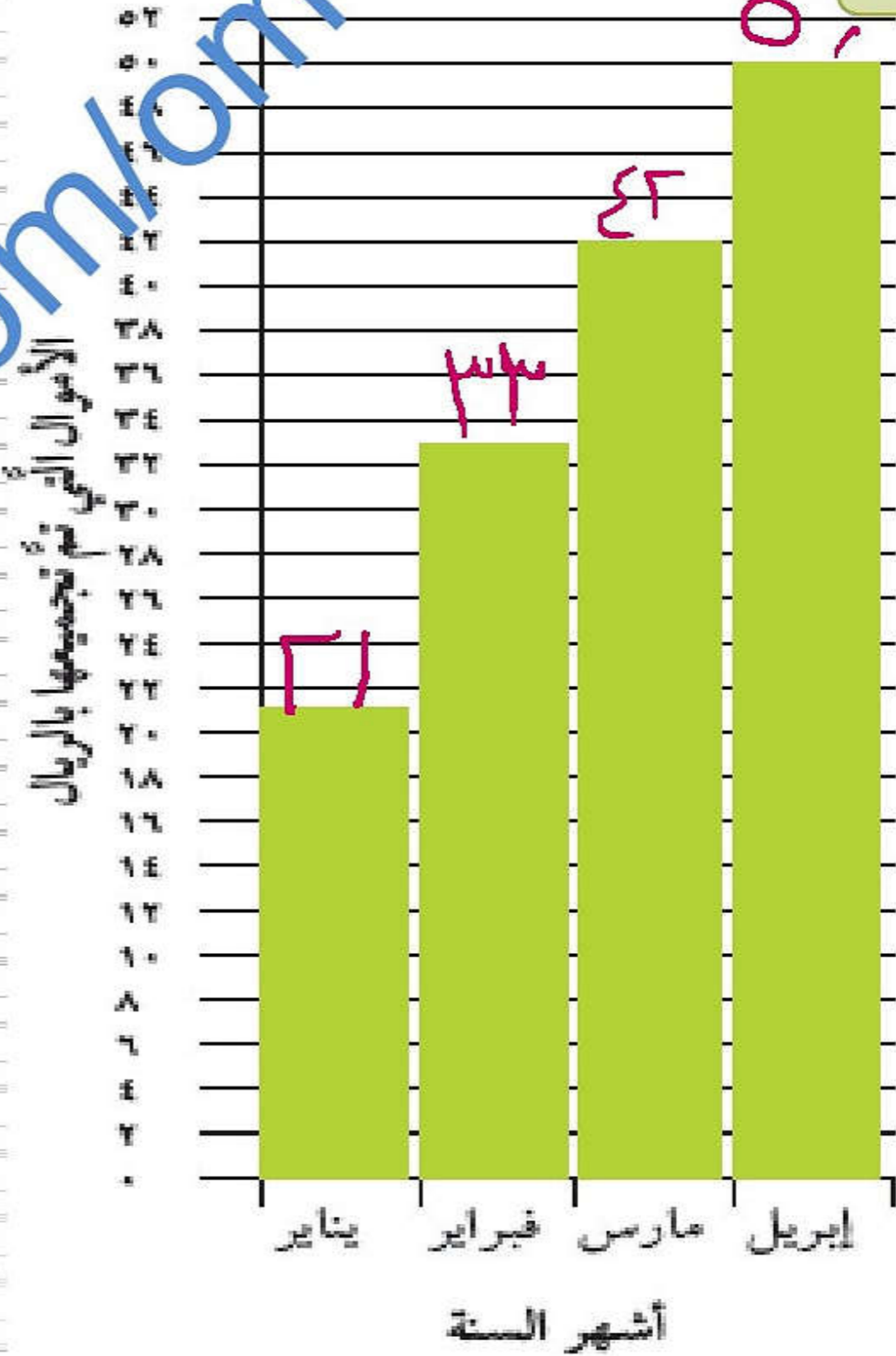


( أ ) أرادت مها أن تجمع ١٤٠ ريالاً أعلى الأقل.  
هل حققت ما كانت تريد؟



مها

أرباح مها



الكل :-

مجموع الأرباح =

$$= 27 + 33 + 43 + 51$$

$$= (27 + 33 + 43 + 51)$$

$$= 154$$

$$154 = 140$$

نعم حققت ما تريد لأن


$$154 > 140$$

أرباح فريدة



فريدة

الأموال التي تم تجميعها بالريال



(ب) تقول فريدة أنا جمعت أكثر من مها بمقدار ٦ ريالاً .. فهل كلام فريدة صحيح ؟

مجموع مدخرات فريدة =

$$33 + 27 + 45 + 38 =$$

$$= (33 + 27 + 45 + 38)$$

$$= (30 + 20 + 40 + 30)$$

المجموع = ١٤٣ ريالاً

كلام فريدة خاطئ

لأن ١٤٦ - ١٤٣ = ٣ ريالاً.

(ج) ما مجموع ادخار مها وماجدة وفريدة خلال شهر مارس؟

كتاب الطالب ص ٢٠



مها



ماجدة



فريدة

٤٢ ريال

٣٤ ريال

٥٤ ريال

مجموع الإدخار:

$$٤٢ + ٣٤ + ٥٤$$

$$\begin{array}{r} ٤٢ \\ + ٣٤ \\ \hline ٧٦ \end{array}$$

$$\begin{array}{r} ٧٦ \\ + ٥٤ \\ \hline ١٣٠ \end{array}$$

$$١٣٠$$

١٣٠ ريال

# تعاريف فرديّة

almanahi.com/lom





تمرين  
فردى

٤٦) اشترى أحمد فرن وغسالة وتلفاز حسب العرض الموضح.

احسب اجمالي ما دفعه أحمد (موضحا خطوات الحل) (نهائى خامس ٢٠٢٠م)

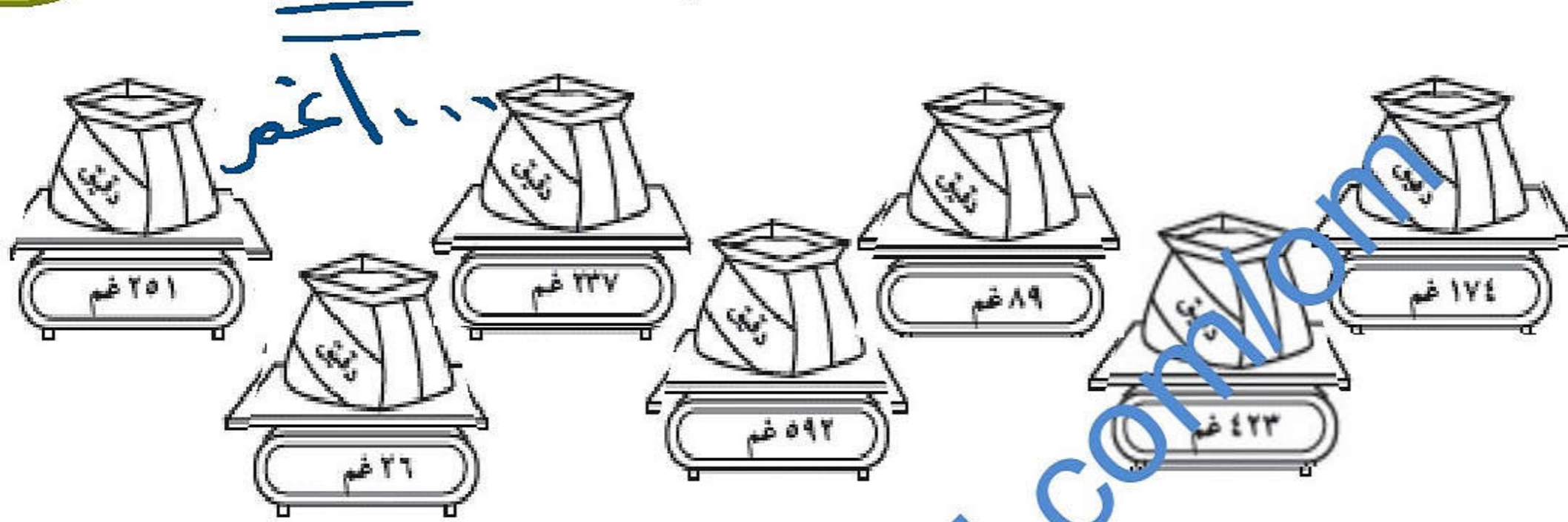


الإجمالي = ١٧٠ + ٩٧ + ٧٣

$$\begin{array}{r} 97 \\ + 73 \\ \hline 170 \end{array}$$

ريال

أوجد المجموعة المكوّنة من أربعة أكياس الدقيق التي يكون مجموعها ١ كغم تمامًا.



نشط  
عقلك

كتاب  
النشاط

ص ٢٤

١ ٦ ٧ ٩ ٤ ٤

$$371 + 67 = 438$$

$$313 + 177 = 490$$

$$101 + 69 = 170$$

المجموع غم



# الى اللقاي

almanah.com/om

