

شكراً لتحميلك هذا الملف من موقع المناهج العمانية



نشاط صفي لدرس استقصاء أطوال الظل

موقع المناهج ← المناهج العمانية ← الصف الخامس ← علوم ← الفصل الثاني ← الملف

التواصل الاجتماعي بحسب الصف الخامس



روابط مواد الصف الخامس على تلغرام

[الرياضيات](#)

[اللغة الانجليزية](#)

[اللغة العربية](#)

[التربية الاسلامية](#)

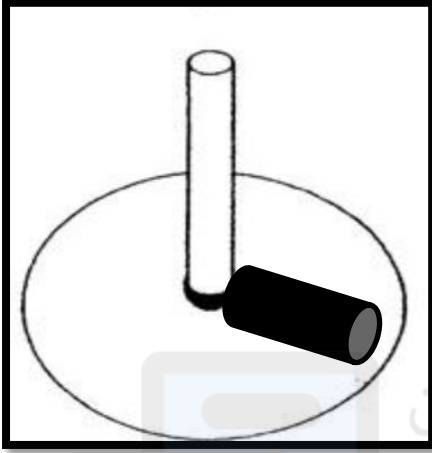
المزيد من الملفات بحسب الصف الخامس والمادة علوم في الفصل الثاني

الاختبار النهائي الرسمي في محافظة جنوب الشرقية	1
نموذج إجابة الاختبار النهائي الرسمي في محافظة الظاهرة	2
نموذج إجابة الاختبار النهائي الرسمي في محافظة مسقط	3
الاختبار النهائي الرسمي في محافظة ظفار	4
الاختبار النهائي الرسمي في محافظة شمال الباطنة	5

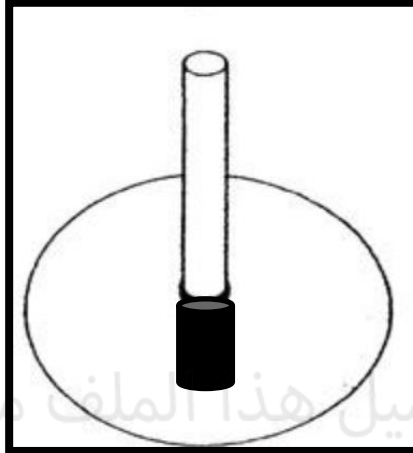
نشاط صفى لعباقرة العلوم (استقصاء أطوال الظل؟)

الاسم: الصف: ٥ / مدة النشاط: ٥ دقائق

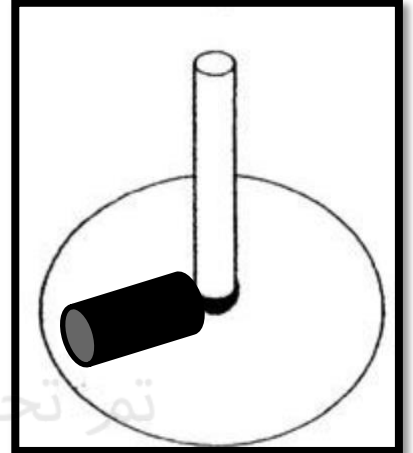
- الاشكال التالية عبارة ساعات شمسية (المزولة) .. ادرس الاشكال وأجب عن الاتي :



الشكل ٣



الشكل ٢



الشكل ١

أ- الشكل الذي يمثل الساعة ١٢ مساءً .. (ظل الاجابة الصحيحة)

١ ○ ٢ ○ ٣ ○

فسر اجابتك:


ب- في اعتقادك ما سبب تقارب طول الظل في الشكل (١) والشكل (٣)؟

.....

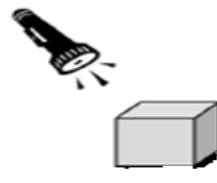
- تدرس عيبر العلاقة بين طول الظل وموقع مصدر الضوء.. ادرس الشكل واجب عن الاتي :



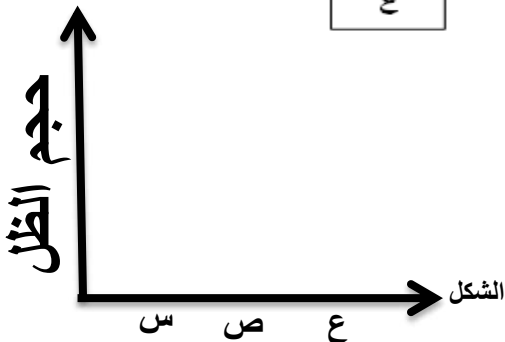
ع



ص



س



أ- مثل حجم الظل بيانياً..

ب- الساعة ٧ صباحاً يمثلها الشكل.....