

## شكراً لتحميلك هذا الملف من موقع المناهج العمانية



## الامتحان النهائي الدور الأول الفترة المسائية لمحافظة شمال الباطنة

[موقع المناهج](#) ← [المناهج العمانية](#) ← [الصف الخامس](#) ← [اجتماعيات](#) ← [الفصل الأول](#) ← [الملف](#)

تاريخ نشر الملف على موقع المناهج: 10:30:48 2024-01-04

## التواصل الاجتماعي بحسب الصف الخامس



## روابط مواد الصف الخامس على تلغرام

[الرياضيات](#)

[اللغة الانجليزية](#)

[اللغة العربية](#)

[التربية الاسلامية](#)

## المزيد من الملفات بحسب الصف الخامس والمادة اجتماعيات في الفصل الأول

[الامتحان النهائي الدور الأول الفترة المسائية لمحافظة مسقط والداخلية](#)

1

[اختبار نهائي رسمي في محافظة الظاهرة](#)

2

[اختبار نهائي رسمي في محافظة شمال الشرقية](#)

3

[اختبار نهائي رسمي في محافظة مسقط والداخلية](#)

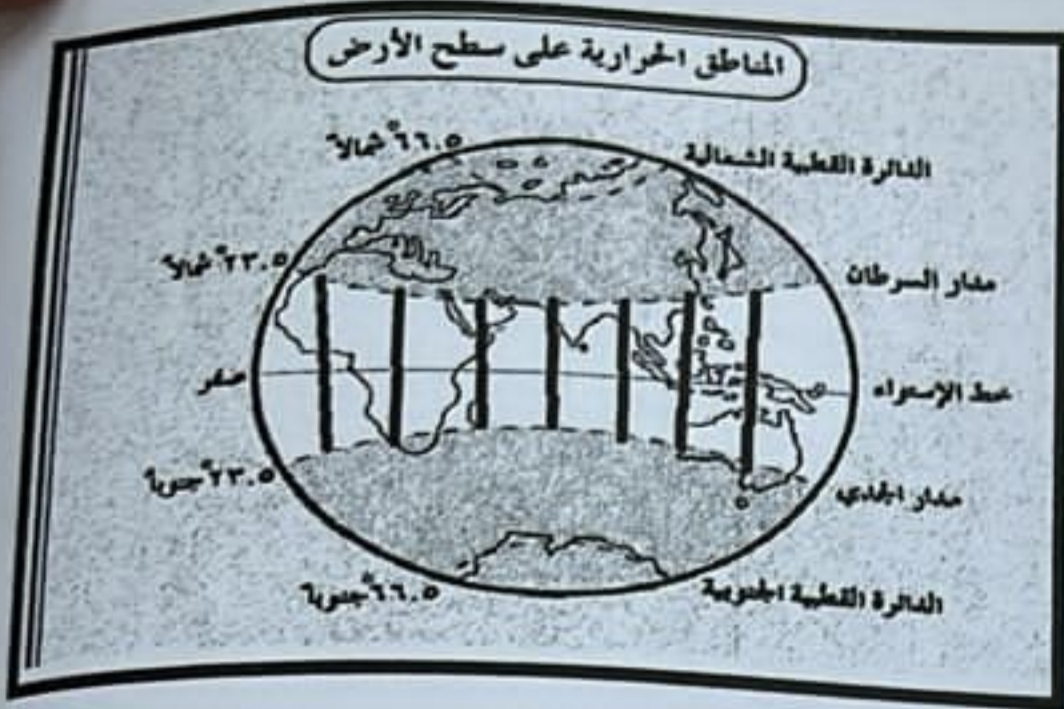
4

[الامتحان النهائي الدور الأول الفترة الصباحية لمحافظة جنوب الباطنة](#)

5

## أجب عن جميع الأسئلة الآتية

السؤال الأول: ضع دائرة حول رمز الإجابة الصحيحة لكل مفردة من المفردات الآتية:



١- المنطقة الحرارية المظلمة في الشكل أمامك :

أ- المعتدلة

ب- الباردة

ج- الحارة

د- القطبية

٢- المحافظة العمانية التي يقع فيها سوق الشحر:

ب- ظفار

أ- الداخلية

د- الوسطى

ج- الظاهرة

٣- العام الميلادي الذي أطلقت فيه وزارة الدفاع الأمريكية نظام تحديد المواقع العالمي:

د- ١٩٧٣

ج- ١٩٧٢

ب- ١٩٧١

أ- ١٩٧٠

٤- المخطط الصحيح لخصائص الخرائط عند الجغرافيين المسلمين :

رسم الخطوط
رسم الأشكال الهندسية
الدقة

أ-	استخدام الألوان
	رسم الحيوانات
	رسم الأشكال الهندسية

ج	الدقة
	رسم الأشكال الهندسية
	رسم الحيوانات

العشوائية
رسم الحيوانات
رسم الأشكال الهندسية

٥- الترتيب الصحيح للدول من الأكبر مساحة إلى الأقل:

أ- السعودية - اليمن - سلطنة عمان

ج- اليمن - السعودية - سلطنة عمان

ب- السعودية - سلطنة عمان - اليمن

د- سلطنة عمان - السعودية - اليمن

تابع السؤال الأول:



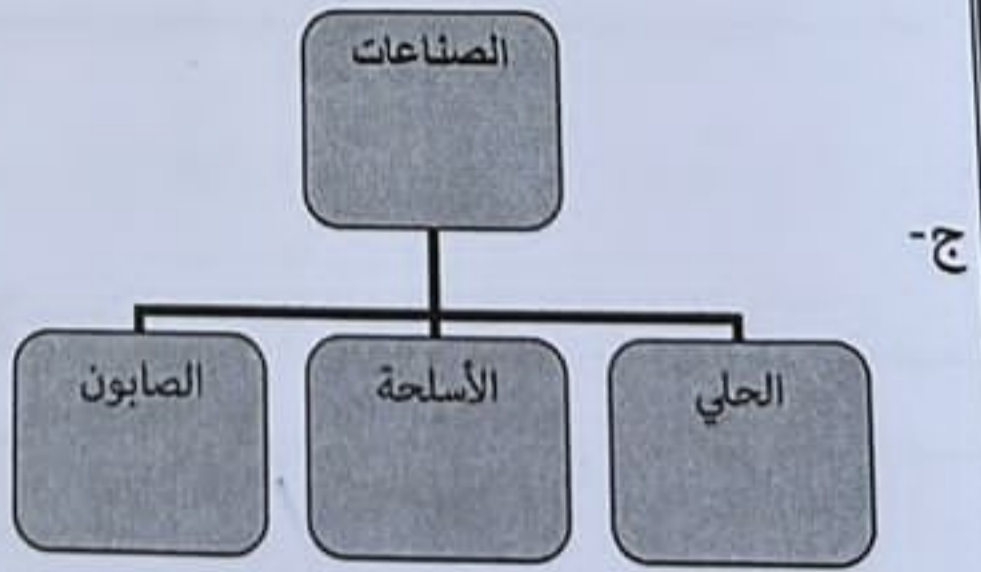
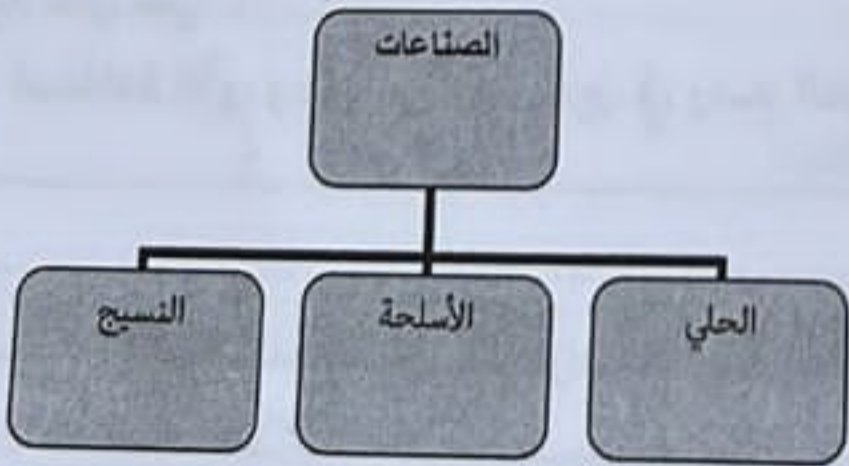
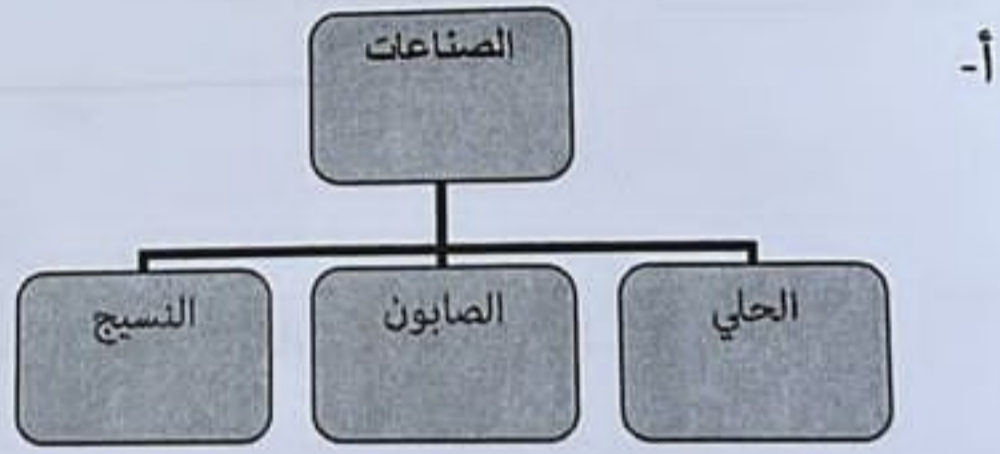
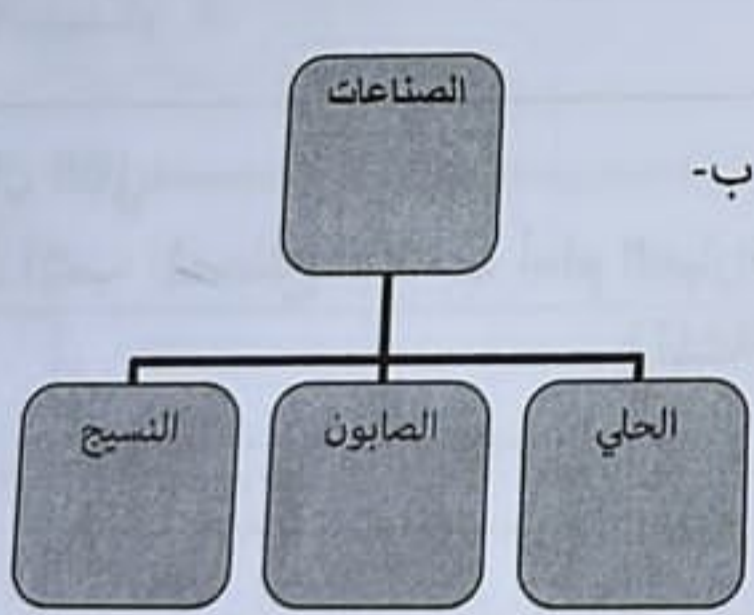
- ٦- مظهر الانتماء للوطن التي تعبر عنه الصورة المقابلة :  
أ- المشاركة في الأعمال التطوعية  
ب- الاهتمام بمنجزات الوطن  
ج- الالتزام بالقوانين  
د- الدفاع عن الوطن

٧- عاصمة عمان في عهد مالك بن فهم :  
أ- منح  
ب- قلهاث

د- نزوى

ج- صحار

٨- التصنيف الصحيح للصناعات التي اشتهر بها السكان في شبه الجزيرة العربية:



ب- جواس بن حيان  
د- عمان بن سبأ

٩- يعد من أطباء العرب المعروفين :  
أ- مصقلة بن رقية  
ج - ابن حذيم

تابع السؤال الأول :

١٠- الاعصار المداري الذي تعرضت له بعض ولايات شمال عمان في شهر اكتوبر ٢٠٢١م يعرف بـ:  
أ- تيج  
ج- مكنو  
ب- شاهين  
د- فيت

١١- التوقيت الصحيح لمدينة القاهرة الواقعة على خط طول ٣٠ شرق خط جرينتش إذا علمت أن الساعة هي الثالثة مساءً في مدينة جرينتش:

أ- ٥ صباحاً  
ج- ٥ مساءً

ب- ١٢ صباحاً  
د- ١٢ مساءً

١٢- المنظمة الدولية التي يتم فيها ادراج الشخصيات المؤثرة عالمياً :

أ- اليونسيف  
ج- الايسيسكو

ب- اليونسكو  
د- الألسكو

١٢

السؤال الثاني:

أولاً: اكتب المصطلح المناسب أمام العبارات التالية:

المشاركة في اختيار الشخص المناسب لخدمة بلد ما.	١
موقع المكان بالنسبة إلى دوائر العرض وخطوط الطول.	٢

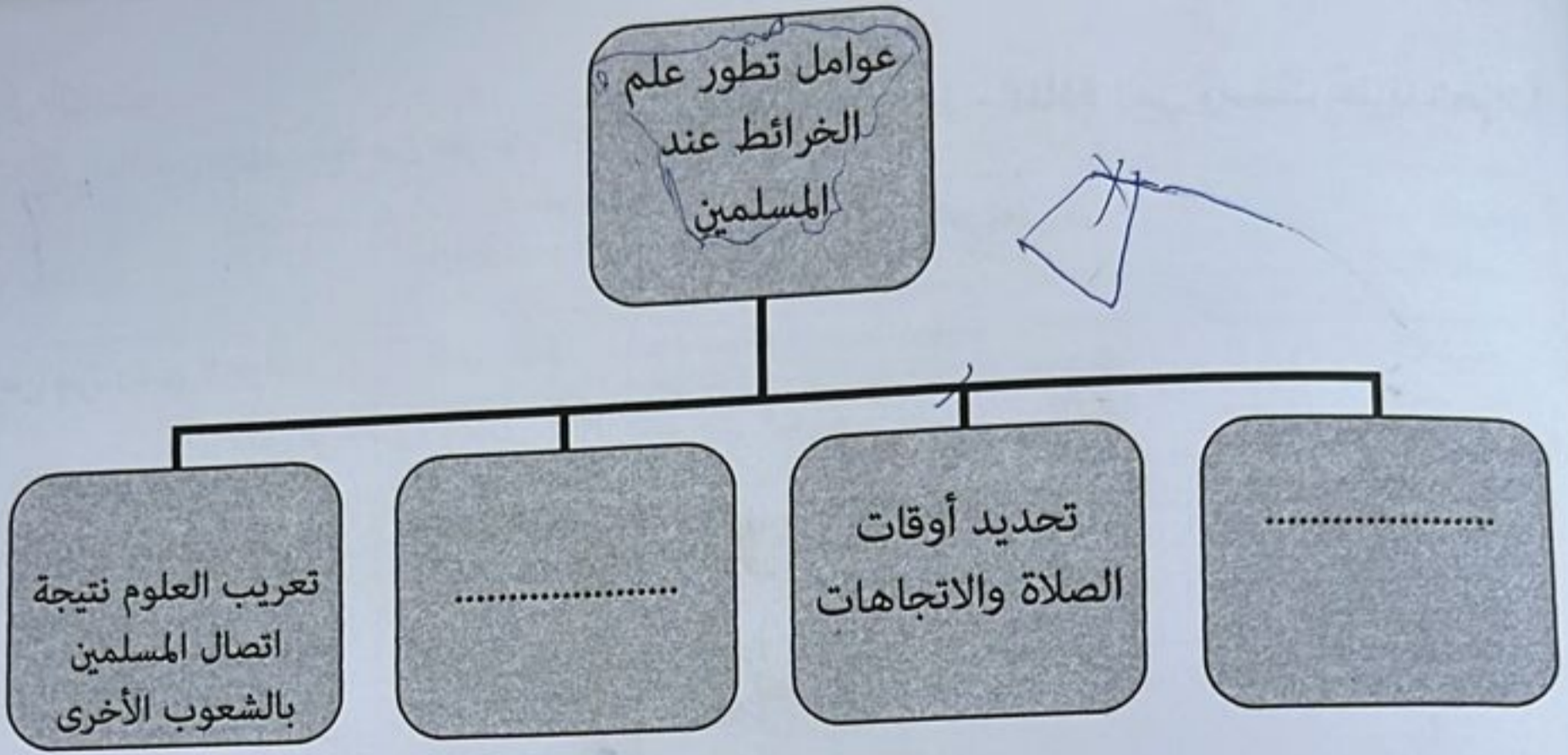
ثانياً: دلل على :

١- استفادة الأوروبيين من المسلمين في رسم الخرائط.

٢- تأسيس الأجداد للكثير من المنجزات الحضارية لوطنهم عمان.

يتبع/٤

تابع السؤال الثاني:  
الثالث: اكمل بناء خريطة المفاهيم التالية :



٨

السؤال الثالث: أجب عن الأسئلة التالية:

أولاً: فسر ما يلي:

١- هجرة بعض القبائل العربية من وسط وجنوب شبه الجزيرة العربية إلى عمان.

الصدفة

٢- تعد المنجزات ثروة وطنية تجسد الجهود في كل المجالات.

عنتهم الهتة ظلاً والتهتبا ع

تابع السؤال الثالث:

ثانياً: قارن بين البابليين والمصريين من حيث : الغرض من رسم الخرائط - المادة التي رسمت عليها الخرائط

وجه المقارنة	البابليون	المصريون
الغرض من رسم الخرائط	.....	.....
المادة التي رسمت عليها	.....	.....

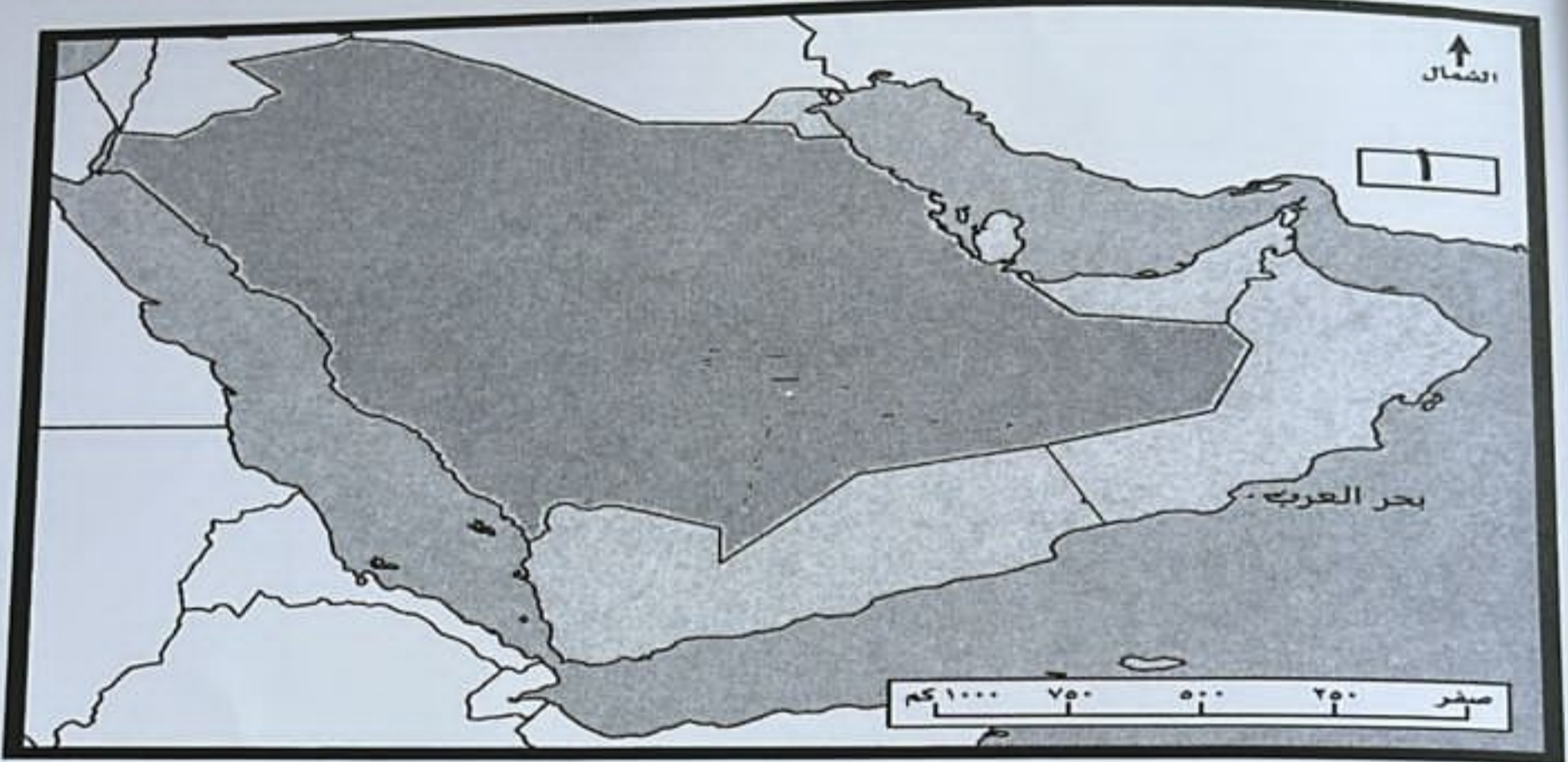
ثالثاً- اكتب أمام كل بطاقة تعريفية اسم الشخصية التاريخية المناسبة:

الشخصية	الأعمال
١	خطيب عاش قبل الإسلام، كان مشهوراً بالفصاحة والبلاغة
٢	أحد قادة معركة سلوت تولى الحكم بعد أبيه .
٣	حكم عمان بعد حكم مالك بن فهم وأبنائه.

٨

يتبع ٦/

السؤال الرابع: أمامك خريطة شبه الجزيرة العربية ادرسها جيداً ثم أجب عن التالي:



- ١- ارسم خط سير هجرة قبيلة الأزد إلى عمان .
- ٢- حدد الولاية التي شق فيها مالك بن فهم (فلج مالك) بوضع الرمز (\* ) على الخريطة .
- ٣- في أي جهة يقع بحر العرب بالنسبة لسلطنة عمان .
- ٤- اشرح دور أحد قادة الدولة المشار إليها بالرقم (١) في الحرب مع الأزد في صحار.

هجرة

تابع السؤال الرابع:

ثانياً: تأمل الصور التالية ثم اكتب أسفلها الإجابة المناسبة:



الصورة ٢ (..... القبيل)



الصورة ١ (.....)

٦

يتبع ٧/

السؤال الخامس:

أولاً: ١- صنف مظاهر الحياة التالية بحسب المظاهر الواردة في الجدول الآتي:

قيام العديد من الدول والممالك-الاهتمام بالشعر والنثر والعلوم المختلفة -استقرار الناس في المدن والقرى والواحات- انتشار الزراعة في بعض مناطق عمان واليمن-البراعة في النقش والرسومات الصخرية

المظهر الاقتصادي	المظهر السياسي	المظهر الثقافي	المظهر الاجتماعي
.....	.....	.....	.....
.....	.....	.....	.....

ثانياً: اقرأ النص التالي ثم أجب عن الآتي:


( متحف عمان عبر الزمان ... صرح شامخ يهدف إلى تعزيز الانتماء والاعتزاز الوطني في نفوس المواطنين) في ضوء هذه العبارة اجب عن الأسئلة التالية:  
١- في أي عام تم افتتاح متحف عمان عبر الزمان؟

٢- استخرج من النص الغرض من إنشاء هذا المتحف.

ثالثاً: أ- ظلل الشكل  المقترن بالإجابة الصحيحة :

ب- تتمثل أهمية خطوط الطول في حياتنا اليومية في :

تحديد التوقيت الزمني في دول العالم.

معرفة المناخ في العالم. 

ج- أكتب أهمية أخرى لخطوط الطول.

انتهت الأسئلة مع الدعاء للجميع بالتوفيق والنجاح.