

## شكراً لتحميلك هذا الملف من موقع المناهج العمانية



## أسئلة الاختبار الرسمي الظاهرة

[موقع المناهج](#) ⇨ [المناهج العمانية](#) ⇨ [الصف الخامس](#) ⇨ [اجتماعيات](#) ⇨ [الفصل الأول](#) ⇨ [الملف](#)

تاريخ نشر الملف على موقع المناهج: 06:45:15 2023-01-09

## التواصل الاجتماعي بحسب الصف الخامس



## روابط مواد الصف الخامس على تلغرام

[الرياضيات](#)

[اللغة الانجليزية](#)

[اللغة العربية](#)

[التربية الاسلامية](#)

## المزيد من الملفات بحسب الصف الخامس والمادة اجتماعيات في الفصل الأول

[ملخص شامل للمادة من مذكرة المتميز](#)

1

[ملخص شرح درس ملامح من حياة العمانيين قبل الإسلام](#)

2

[ملخص درس الموقع الفلكي مع الحل](#)

3

[اختبار قصير أول نموذج ثالث](#)

4

[اختبار قصير أول نموذج ثاني](#)

5

(١)

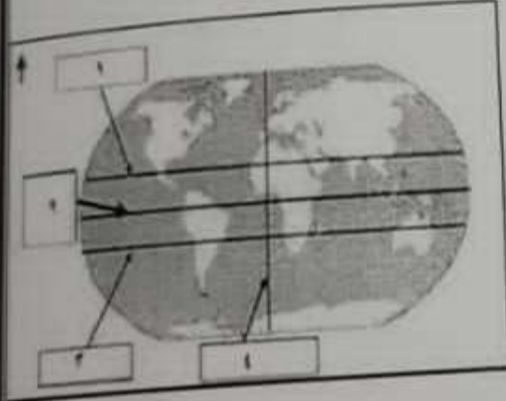
المادة: الدراسات الاجتماعية-الصف: الخامس-الدور الأول-الفصل الدراسي الأول-العام الدراسي ٢٠٢٢/٢٠٢٣ م

أجب عن جميع الأسئلة الآتية  
السؤال الأول: (١٢ درجة) ضع دائرة حول رمز الإجابة الصحيحة لكل مفردة من المفردات الآتية:

١- من أسواق العرب قديماً يتم فيه تبادل البضائع والسلع وتقام فيه الملتقيات الأدبية كالشعر والخطابة قرب مكة المكرمة:

- أ- سوق شحر      ب- سوق توأم      ج- سوق دبا      د- سوق عكاظ

٢- الرقم الذي يشير إلى دائرة الاستواء في الشكل الذي أمامك هو :



أ- (١)      ب- (٢)

ج- (٣)      د- (٤)

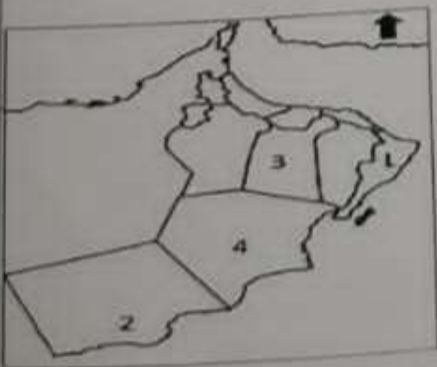
٣- تعد من الأشجار الضارة بالبيئة العمانية:

- أ- السدر      ب- المسكيت      ج- السمر      د- الغاف

٤- الجهة المسؤولة التي تتبعها المديرية العامة للأرصاد الجوية:

- أ- وزارة البيئة      ب- الطيران المدني      ج- الدفاع المدني      د- هيئة الزراعة

٥- الرقم الذي يدل على موقع المحافظة التي أطلق عليها شجر عمان هو:



أ- (١)      ب- (٢)

ج- (٣)      د- (٤)

٦- مناخ يتميز به الجبل الأخضر في سلطنة عمان هو المناخ:

- أ- الصحراوي      ب- الإستوائي      ج- البحر المتوسط      د- الموسمي

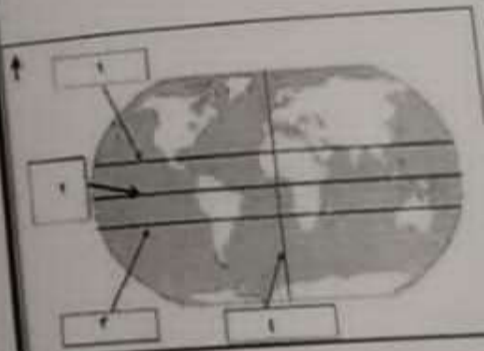
٧- الوزارة المسؤولة عن العمل الاجتماعي في السلطنة:

- أ- التربية والتعليم      ب- التنمية الاجتماعية      ج- الصحة      د- الأوقاف

الصحيحة لكل مفردة من

فيه الملتقيات الأدبية كالشعر

دبا  
د- سوق عكاظ



د- الغاف

د- هيئة الزراعة



د- الموسمي

د- الأوقاف

يتبع ٢/

تابع السؤال الأول:

٨- تقديم الخدمات للآخرين بصورة فردية أو من خلال جماعة منظمة حكومية أو أهلية:

أ- العمل التعاوني      ب- العمل التطوعي      ج- العمل الإجتماعي      د- التكافل الاجتماعي



٩- نوع السهل الذي يوجد في المحافظة المشار إليها برقم (٣) هو:

أ- ساحلي      ب- داخلي

ج- رسوبي      د- فيضي

١٠- خطيب وشاعر عماني عاش قبيل الإسلام اشتهر بالفصاحة والبلاغة:

أ- كعب بن سور      ب- كعب بن برشة      ج- زهير بن قرضم      د- مصقلة بن رقة



١١- مظهر السطح الذي يشير اليه السهم في الخريطة المقابلة:

أ- الجبال      ب- الهضاب      ج- الدلتا      د- المضيق

١٢- المحصول الذي يرتبط حصاده بما يسمى الجداد:

أ- التمور      ب- الورد      ج- الليمون      د- المانجو

السؤال الثاني: (٨ درجات)

أولاً: - اكتب المفهوم أو المصطلح الدال على العبارات الآتية:-

م	التعريف	المصطلح
١	هو الفرد الذي يشعر بانتمائه لوطنه ويسهم في خدمته.	المواطن النشيط
٢	شكل سطح الأرض من حيث الارتفاع والانخفاض	التضاريس

## تابع السؤال الثاني:

ثانياً:

١- صنف النباتات الطبيعية التالية على حسب البيئة التي تنتمي إليها في الجدوال التالي:

( السنديان )	- السدر	- الصمغ العربي )
النباتات الصحراوية	نباتات البحر المتوسط	النباتات المدارية

٢- علل: توافد الزوار على محافظة ظفار في فصل الصيف.



ثالثاً: انظر إلى الصورة المقابلة ثم أجب عما يلي:

أ- أي شكل من اشكال العمل الاجتماعي تبين الصورة؟

ب- وضح أهمية هذا العمل؟

## السؤال الثالث: (٨ درجات)

أولاً:

١- رتب مستويات التعاون ترتيباً صحيحاً من الأقرب إلى الأبعد بوضع الرقم من (١) إلى (٤):

- (٣) التعاون بين الأمة الإسلامية

- (٢) التعاون بين الجيران

- (٤) التعاون بين دول وشعوب العالم

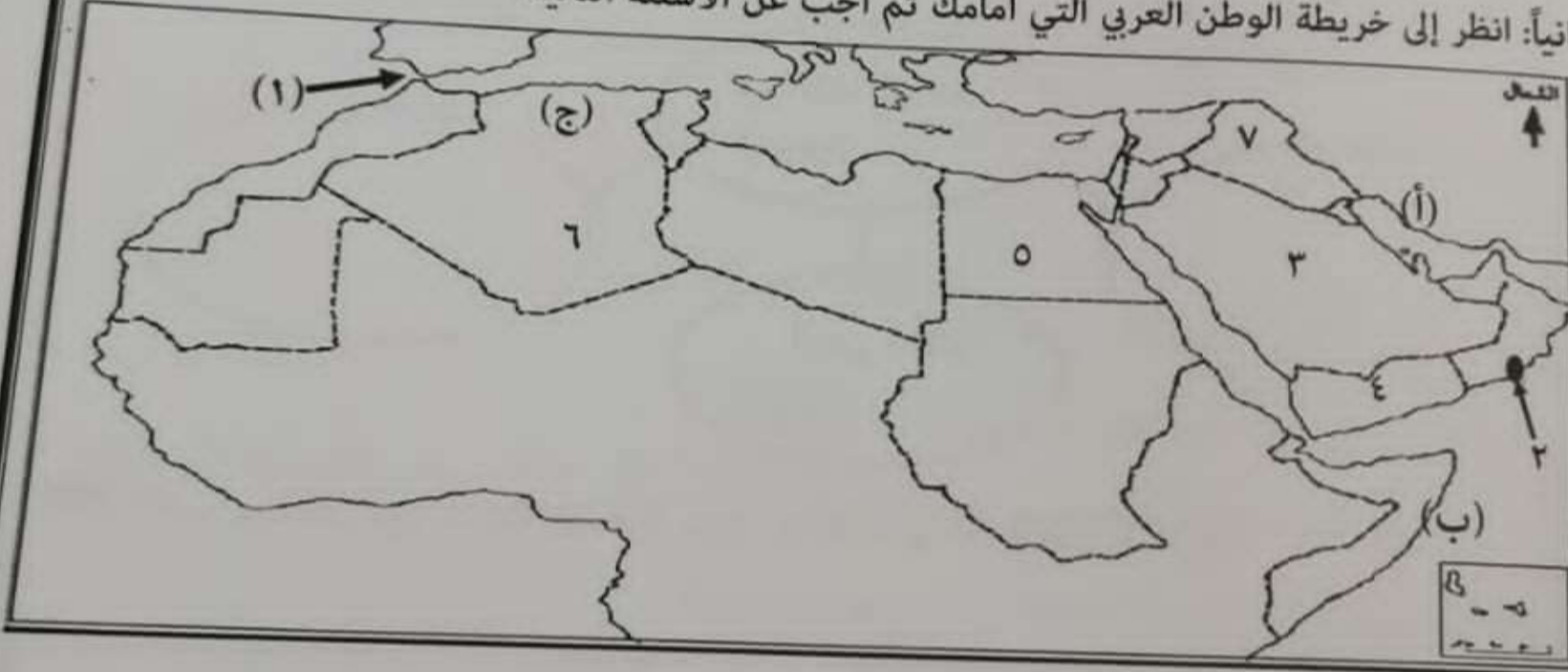
- (١) التعاون بين أفراد الأسرة والأقارب

تابع السؤال الثالث:

٢- يعاني الوطن العربي من مشكلة نقص المياه) في ضوء هذه العبارة اقترح حلا واحدا لمعالجة تلك المشكلة.

حل: بناء السدود - استصلاح التربة

ثانياً: انظر إلى خريطة الوطن العربي التي أمامك ثم اجب عن الأسئلة التالية:



١- استخراج من الخريطة ما يلي:

أ- نوع المناخ في المنطقة المشار إليها بالرمز (ج).....  
بحر المتوسط

ب- الرقم الذي يشير إلى احد موالي شبه الجزيرة العربية قبيل الإسلام:.....  
٣

ج- الرقم الذي يشير إلى الدولة التي تقع بها مملكة حمير.....  
٢

٢- قام أحمد في برحلة بحرية من المنطقة (أ) إلى المنطقة (ب) :

\*سم المضيق الذي سيمر به أحمد أثناء رحلته؟.....  
هرمز

٣- اكتب على الخريطة المسطحات المائية التي يربطها المضيق المشار إليه بالرقم (١):  
البحر الأحمر

(5)

المادة: الدراسات الاجتماعية-الصف: الخامس الدور الأول - الفصل الدراسي الأول العام الدراسي ٢٠٢٢/٢٠٢٣ م

السؤال الرابع: (٦ درجات)

أولاً:

١- أكمل / عاصمة عمان في فترة ظهور الإسلام هي .....

٢- فسر: تركز سكان الوطن العربي على ضفاف الأنهار ومناطق الدلتا.

ثانياً: ١- أكمل الشكل التالي:



ثالثاً: اكتب بين القوسين المدينة العمانية بجوار ما ينادي سبها من العبارات التالية:

١- (.....) <sup>البيهي</sup> تعد بوابة عمان الشمالية وهي واحة زراعية خصبة تقع على طرق التجارة البرية التي كانت تربط عمان بشبه الجزيرة العربية.

٢- (.....) <sup>دا</sup> من أوائل المدن العمانية التي دخل أهلها في الإسلام ومنها القائد المهلب بن أبي صفرة.

السؤال الخامس: (٦ درجات)

أولاً:

١- وضح دور المدرسة في تعزيز العمل الاجتماعي؟

٢- اذكر أهم السلع التي كانت تتاجرها مرباط في فترة ظهور الإسلام.

## تابع السؤال الخامس:

ثانياً:

١- الجدول التالي يوضح متوسط درجات الحرارة والأمطار الشهرية في فهود محافظة الظاهرة ادرس الجدول جيداً ثم أجب عن الأسئلة التالية؟

الشهر	يناير	فبراير	مارس	أبريل	مايو	يونيو	يوليو	أغسطس	سبتمبر	أكتوبر	نوفمبر	ديسمبر
متوسط درجات الحرارة (س)	٢٥	٢٦	٢٩,٥	٣٤,٧	٣٩,٦	٤٠	٣٨	٣٥,٦	٣٥,٦	٣٤,٦	٣٠,٣	٢٦,٨
الأمطار (مليمترات)	١٣,٢	١٤	١٦,٤	١١,٣	٠	١٠,٩	٣,٤	١,٦	٠	٠,٨	١,٦	١٦,٥

١	ما الشهر الذي سجل أدنى درجة حرارة؟	يناير
٢	أي الشهور سجل فيه أعلى كمية في سقوط الأمطار؟	مارس - ديسمبر
٣	كم بلغ كمية سقوط الأمطار في شهر أكتوبر؟	٠,٨
٤	أي الشهور بلغت درجة الحرارة ٣٠,٣ درجة سيليزية؟	نوفمبر

ثالثاً - ادرس الشكل المقابل وأجب عما يأتي:

١- ماذا تعني هذه الإشارة؟

إشارة للإعاقه



٢- ما واجبي تجاه الأشخاص الذين تخدمهم هذه الإشارة؟

مساعدتهم في كل ما يحتاجون له

انتهت الأسئلة مع الدعاء للجميع بالتوفيق والنجاح