

تم تحميل هذا الملف من موقع المناهج العُمانية



*للحصول على أوراق عمل لجميع الصفوف وجميع المواد اضغط هنا

<https://almanahj.com/om>

* للحصول على أوراق عمل لجميع مواد الصف الخامس اضغط هنا

<https://almanahj.com/om/5>

* للحصول على جميع أوراق الصف الخامس في مادة اجتماعيات ولجميع الفصول, اضغط هنا

<https://almanahj.com/om/5social>

* للحصول على أوراق عمل لجميع مواد الصف الخامس في مادة اجتماعيات الخاصة بـ الفصل الأول اضغط هنا

<https://almanahj.com/om/5social1>


* لتحميل كتب جميع المواد في جميع الفصول للـ الصف الخامس اضغط هنا

<https://almanahj.com/om/grade5>

* لتحميل جميع ملفات المدرس علي بن محمد الحسان اضغط هنا

للتحدث إلى بوت على تلغرام: اضغط هنا

https://t.me/omcourse_bot



مذكرة إثرائية لمادة

الدراسات الاجتماعية

2020-2021

الصف الخامس

الفصل الدراسي الأول

الوحدة الأولى

سؤال وجواب

إعداد :

علي بن محمد الحسان

للتواصل :

99493923

Ali 47536@moe.om

درس : موقع للوطن العربي**السؤال الأول : ضع علامة (✓) أو (X) أمام العبارة المناسبة مع تصحيح ما تحته خط إذا كانت العبارة خطأ .**

- ١- (X) دوائر العرض وخطوط الطول هي خطوط حقيقية على الكره الأرضية . " وهمية "
- ٢- (X) تقع سلطنة عمان من الوطن العربي في أقصى الشمال . الشرق
- ٣- (X) تشرف سلطنة عمان على مدخل الخليج العربي عبر مضيق باب المنذب . " هرمز "
- ٤- (✓) يمر بسلطنة عمان مدار السرطان .

السؤال الثاني : ضع دائرة حول الإجابة الصحيحة من بين البدائل المعطاه .

- ١- تقدر مساحة الوطن العربي حوالى
(١٣,٥ - ١٤,٥ - ١٥,٥) مليون كم ٢
- ٢- يضم الوطن العربي دولة عربية .
(٢٠ - ٢١ - ٢٢)
- ٣- دوائر العرض هي دوائر مكتملة يبلغ عددها
(١٨٠ - ١٦٠ - ١٤٠)
- ٤- خطوط الطول عبارة عن أنصاف دوائر يبلغ عددها
(٣٨٠ - ٣٦٠ - ٣٤٠)
- ٥- درجة دائرة الإستواء وخط غرينتش هو
(صفر - ١٠ - ٢٠)

السؤال الثالث : أكمل الجدول التالي بعمل مقارنه بين خطوط الطول ودوائر العرض في المجالات التالية :

دوائر العرض	خطوط الطول	مجال المقارنة
دوائر مكتملة	انصاف دوائر	شكلها
١٨٠	٣٦٠	عددها
دائرة الإستواء	خط غرينتش	الدائره الرئيسية
صفر	صفر	درجة الحرارة
شمالي وجنوبي	شرقي وغربي	الاتجاه
معرفة المناخ	تحديد الوقت	فانده

السؤال الرابع : أكمل مايلي بعبارات مناسبة من عندك .

- ١- يعيش العرب على مساحة واسعة من الأرض تعرف بـ الوطن العربي .
- ٢- من الخصائص والسمات المشتركة بين أبناء الوطن العربي الدين الإسلامي واللغة العربية والتاريخ المشترك .
- ٣- المحيطان اللذان يطل عليهما الوطن العربي هما المحيط الأطلسي والمحيط الهندي .
- ٤- البحار التي يطل عليها الوطن العربي بحر عمان وبحر العرب والبحر الأحمر والبحر المتوسط .
- ٥ - المضائق والممرات التي يشرف عليها الوطن العربي مضيق هرمز ومضيق باب المنديب ومضيق جبل طارق .

السؤال الخامس : (لموقع الوطن العربي أهمية كبيرة) : أكمل الجدول بأهميته في المجالات التالية :

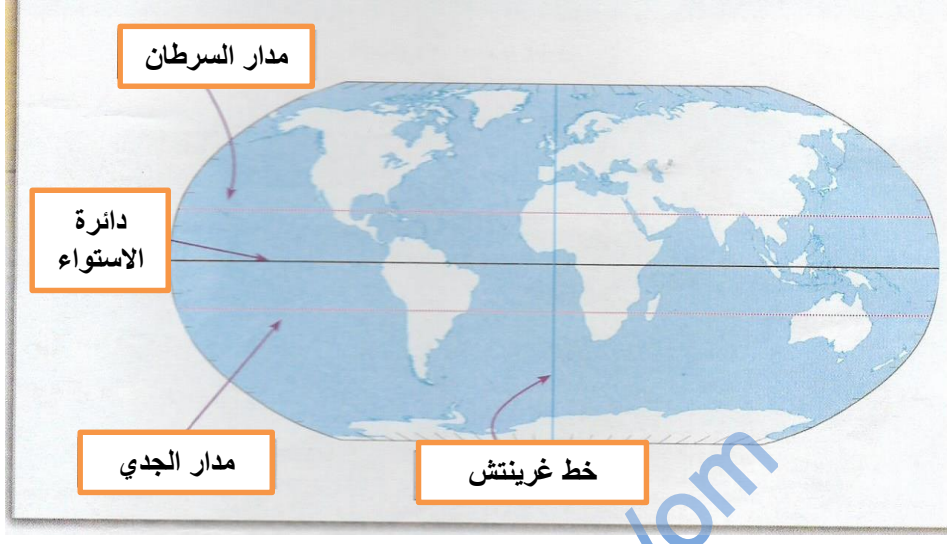
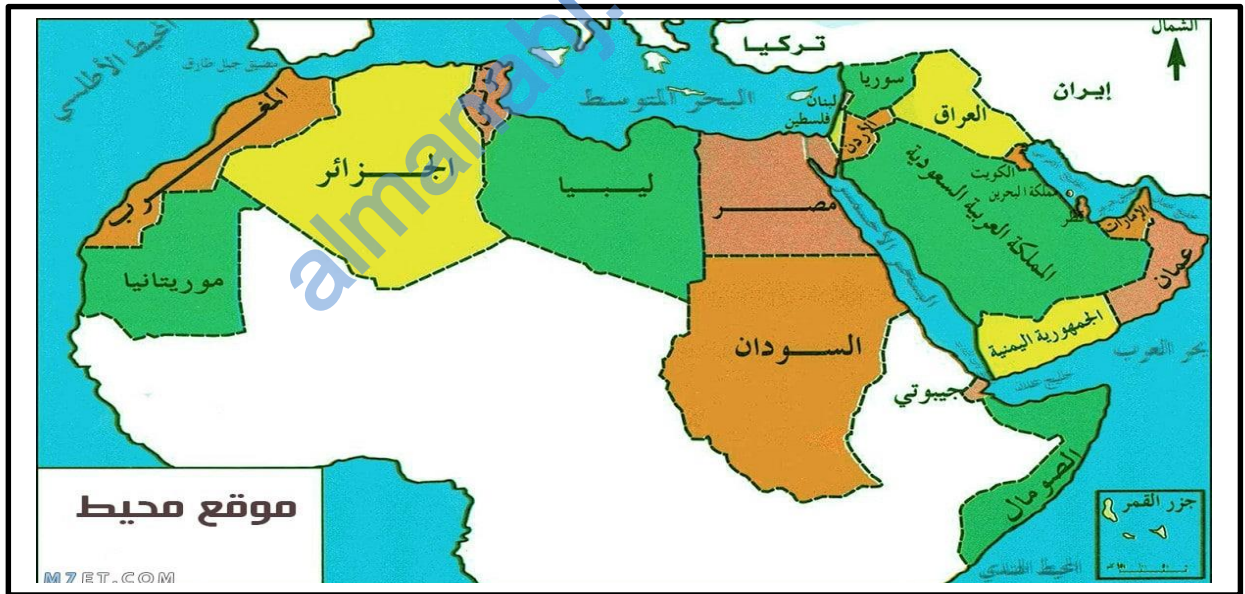
جغرافيا	اقتصاديا	حضاريا
يعتبر الوطن العربي حلقة وصل بين قارات آسيا وأوروبا وإفريقيا	ساعد موقع الوطن العربي على إقامة العلاقات التجارية مع العالم	سهل موقع الوطن العربي التواصل بين حضارات الوطن العربي والحضارات الأخرى في العالم

السؤال السادس : اجب عن الأسئلة التالية :

- س ١ : ماذا يقصد بالموقع الجغرافي ؟
ج ١ : يقصد به موقع المكان بالنسبة لليابس والماء .
- س ٢ : ماذا يقصد بالموقع الفلكي ؟
ج ٢ : يقصد به موقع المكان بالنسبة لخطوط الطول ودوائر العرض .
- س ٣ : " يعتبر الوطن العربي حلقة وصل بين ثلاث قارات " ماهي ؟
ج ٣ : آسيا وأوروبا وإفريقيا
- س ٤ : " تطل سلطنة عمان على ثلاثة مسطحات مائية " ماهي ؟
ج ٤ : بحر العرب وبحر عمان والمحيط الهندي

السؤال السابع : من خلال الخريطة التي أمامك ضع البيانات التالية في أماكنها الصحيحة

(دائرة الإستواء - مدار السرطان - مدار الجدي - خط غرينتش)

**السؤال الثامن : من خلال الخريطة التي أمامك أكمل العبارات التالية :**

- ١ : يقع الوطن العربي في قارتي آسيا وأفريقيا .
- ٢ : عدد الدول العربية في قارة آسيا ١٣ دولة وفي قارة أفريقيا ٩ دول .
- ٣ : تقع سلطنة عمان وفلسطين في قارة آسيا أما مصر والمغرب فتقع في قارة أفريقيا .
- ٤ : أكبر مساحة للوطن العربي تقع في قارة أفريقيا .

درس : تضاريس الوطن العربي**السؤال الأول : ضع علامة (✓) أو (X) أمام العبارة المناسبة مع تصحيح ما تحته خط إذا كانت العبارة خطأ.**

- ١- (X) تغطي الصحاري مساحات متوسطة من أراضي الوطن العربي . كبيرة
- ٢- (✓) تشكل الكثبان الرملية خطراً على القرى والمزارع والطرق .
- ٣- (X) يستخرج النفط في الوقت الحاضر في سلطنة عمان من هضاب محافظة مسقط . الوسطى
- ٤- (✓) يختلف نمط حياة السكان في المناطق الجبلية عنه في المناطق السهلية أو المنخفضة .
- ٥- (✓) بعض الجبال يزيد ارتفاعها عن ٤٠٠٠ متر مثل جبل طبقال في المغرب .

السؤال الثاني : ضع دائرة حول الإجابة الصحيحة من بين البدائل المعطاه

- ١- من أشهر السهول الساحلية في سلطنة عمان سهل
(الباطنة - جريب - مسقط)
- ٢- تستغل السهول الساحلية منذ القدم في
(الصناعة - الزراعة - التجارة)
- ٣- الأراضي المنبسطة الواسعة المساحة وقليلة الانحدار يطلق عليها
(السهول - الهضاب - الجبال)
- ٤- من أبرز أنواع الصحاري إنتشاراً في الوطن العربي مايسمى بالصحاري
(الحجرية - الحصوية - الرملية)
- ٥- الذي يؤثر في شكل الكثبان الرملية وأحجامها هي
(الامطار - الانهار - الرياح)

السؤال الثالث : أكمل الفراغ بالكلمات المناسبة لها من بين القوسين :

(الواحات الزراعية - النفط - الزراعة والرعي)

من الهضاب في الوطن العربي هضبة حضرموت التي يمارس السكان فيها الزراعة والرعي وهضبة نجد وتنتشر فيها الواحات الزراعية وهضاب محافظة الوسطى في سلطنة عمان التي يستخرج منها النفط .

السؤال الرابع : أكمل الفقرة التالية بكلمات مناسبة .

يمتلك الوطن العربي بيئة جغرافية متنوعة التضاريس فقد حباها الله عز وجل بالسهول الخصبة والصحاري الواسعة والجبال الشاهقة والهضاب المنبسطة .

السؤال الخامس : على ماذا تدل الألوان التالية في الخريطة

- ١- اللون الأخضر السهول .
- ٢- اللون البنّي الجبال .
- ٣- اللون الأصفر الصحاري .

السؤال السادس : أكتب بين القوسين المصطلح الدال على العبارات التالية .

- ١- (الهضاب) أراضي منبسطة " قليلة الإندثار " ترتفع عما يجاورها من أراضي .
- ٢- (الدلتا) عبارة عن تكوينات فيضية تترسب عند مصبات الأنهار .

السؤال السابع : أكمل مايلي بكلمات مناسبة من عندك

- ١- تتنوع التضاريس في الوطن العربي لأسباب عدة منها موقعه الجغرافي وإتساع مساحته .
- ٢- من أشهر الدلتا في الوطن العربي دلتا نهر النيل على ساحل البحر المتوسط ودلتا نهرى دجلة والفرات على ساحل الخليج العربي .
- ٣- من أشهر السهول الداخلية في سلطنة عمان توجد في محافظتي الظاهرة والداخلية .
- ٤- من أبرز أنواع الصحاري إنتشاراً في الوطن العربي صحراء الربع الخالي في شبه الجزيرة العربية والصحراء الكبرى في شمالي إفريقيا .
- ٥- تنتشر الصحاري الرملية في أنحاء مختلفة من سلطنة عمان أهمها الربع الخالي ورمال الشرقية .
- ٦- من أهم الأشكال الرملية التي تظهر في الصحاري العربية الكثبان الهلالية والكثبان الطولية .
- ٧- يمارس السكان في هضبة اليمن الزراعة والرعي .
- ٨- من أشهر السلاسل الجبلية في سلطنة عمان سلسلة جبال ظفار وجبال الحجر .
- ٩- استخدم سكان المناطق الجبلية المدرجات الزراعية مثل المدرجات الزراعية في اليمن ومدرجات الجبل الأخضر في سلطنة عمان .

السؤال الثامن : علل " أذكر السبب "

س ١ : " استغلت السهول الساحلية منذ القدم في الزراعة " ؟

ج ١ : بسبب خصوبة التربة ووفرة المياه .

س ٢ : تعتبر السهول الرسوبية من أهم المناطق الزراعية ؟

ج ٢ : بسبب خصوبة تربتها ووفرة المياه فيها .

س ٣ : تركز السكان في الوطن العربي على ضفاف الأنهار ومناطق الدلتا

ج ٣ : بسبب خصوبة التربة ووفرة المياه

س ٤ : تتميز السهول الداخلية عموماً بانخفاض عدد السكان

ج ٤ : بسبب الجفاف وقلة الأمطار

س ٥ : استغلت بعض الجبال في الوطن العربي في السياحة .

ج ٥ : بسبب مناخها المعتدل ومناظرها الخلابة .

السؤال التاسع : اجب عن الأسئلة التالية :

س ١ : ما هي أشكال التضاريس الرئيسية في الوطن العربي ؟

ج ١ : السهول - الجبال - الصحاري - الهضاب - الأنهار

س ٢ : " يوجد في الوطن العربي عدة أنواع من السهول " أذكر أهم ثلاثة سهول ؟

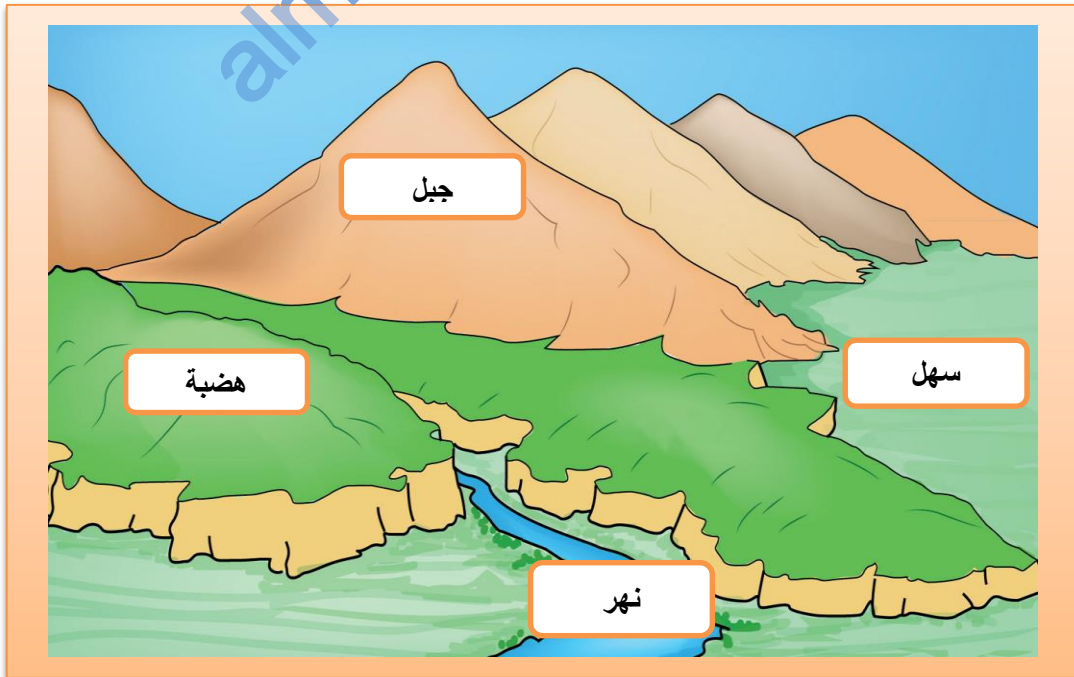
ج ٢ : ١- السهول الساحلية ٢- السهول الرسوبية (الفيضية) ٣- السهول الداخلية

س ٣ : مم تتكون السهول الساحلية في الوطن العربي ؟

ج ٣ : تتكون أما من مواد حصوية أو رملية أو طينية ترسبها البحار والأودية والأنهار الكبرى .

السؤال العاشر : ماذا تمثل لك الصور التالية :**السؤال الحادي عشر : من خلال الرسمة التي أمامك ضع الأسماء التالية في أماكنها الصحيحة :**

(سهل - جبل - هضبة - نهر)



درس : " مناخ الوطن العربي "**السؤال الأول : ضع علامة (✓) أو (X) أمام العبارة المناسبة مع تصحيح ما تحته خط إذا كانت العبارة خطأ.**

- ١- (✓) تعد المديرية العامة للأرصاد الجوية بالهيئة العامة للطيران المدني هي المسؤولة عن متابعة حالة الجو في السلطنة.
- ٢- (✓) يعد الجبل الأخضر في سلطنة عمان مثلاً واضحاً لمناخ البحر المتوسط .
- ٣- (X) عند سقوط الأمطار في المناطق الصحراوية تكون غزيرة ولمدة طويلة من الزمن . قصيرة
- ٤- (X) تسقط الأمطار في المناطق الموسمية في فصل الشتاء . الصيف
- ٥- (X) يسمى موسم هطول الأمطار صيفاً على جبال محافظة ظفار محلياً باسم الربيع . الخريف
- ٦- (✓) تتميز المناطق الجبلية بأنها أقل حرارة من المناطق السهلية .
- ٧- (X) حالة الجو لفترة زمنية قصيرة لا تتجاوز عدة أيام فقط يقصد به المناخ . الطقس

السؤال الثاني : ضع دائرة حول الإجابة الصحيحة من بين البدائل المعطاه :

- ١- متوسط حالة الجو لفترة زمنية طويلة قد تكون شهراً أو فصلاً أو سنةً أو أكثر (الطقس - المناخ)
- ٢- تقع المساحة الكبرى من الوطن العربي في المنطقة (الحارة - المعتدلة)
- ٣- تقع سلطنة عمان في المنطقة (الحارة - المعتدلة) من العالم .
- ٤- تتميز المناطق الساحلية صيفاً بأنها (أقل - أكثر) حرارة من المناطق الداخلية .
- ٥- تعتبر الدول المطلة على البحر المتوسط مناطق (طرْد - جذب) سيّاحي في فصل الصيف
- ٦- يغطي المناخ الصحراوي مساحات (كبيرة - صغيرة) من أراضي الوطن العربي .
- ٧- أكثر المناطق الجبلية مطراً في فصل الصيف في سلطنة عمان (الجبل الأخضر - جبال ظفار)

السؤال الثالث : أكمل مايلي بكلمات مناسبة من عندك :

- ١- يساعد القرب من المسطحات المائية على تلطيف درجة حرارة الجو في المناطق الساحلية صيفاً .
- ٢- المناطق المرتفعة تتميز بـاعتدال درجات الحرارة في فصل الصيف .
- ٣- تتميز المناطق البعيدة عن البحر بـارتفاع درجة الحرارة .
- ٤- يتميز مناخ البحر المتوسط بأنه حار وجاف صيفاً ومعتدل ممطر شتاءً .
- ٥- يتركز المناخ الصحراوي في الوطن العربي حول مدار السرطان .
- ٦- يتميز المناخ الصحراوي بارتفاع درجات الحرارة ومعدلات التبخر في فصل الصيف .
- ٧- ينتج من سقوط الأمطار الفجائية في الصحراء تكون أودية جارفة وفيضانات مدمرة .
- ٨- تسقط الأمطار في المناطق الموسمية بين شهري يوليو و أغسطس .
- ٩- يوجد المناخ الموسمي في سلطنة عمان في جبال ظفار .





السؤال الرابع : علل " اذكر السبب " :

- س ١ : تتباين درجة الحرارة والأمطار من مكان إلى آخر في الوطن العربي .
- ج ١ : بسبب وقوع الوطن العربي بين دائرتي عرض ٢ جنوبا و ٣٧ ونصف شمالا فمعظمه في المنطقة الحارة ماعدا الأطراف الشمالية في المنطقة المعتدلة وكلاهما يختلف حرارة ومطر .
- س ٢ : تنشط السياحة في دول البحر المتوسط في فصل الصيف .
- ج ٢ : نتيجة لأعتدال درجات الحرارة ومناخها اللطيف .
- س ٣ : يتميز المناخ الموسمي بحرارته المعتدلة نسبيا صيفا مع ارتفاع معدلات سقوط الامطار بين شهري يوليو وأغسطس .
- ج ٣ : بسبب تأثير الرياح الموسمية .

السؤال الخامس : اجب عن الأسئلة التالية :

- س ١ : " يمكن متابعة حالة الطقس عن طريق عدة وسائل " أذكر ثلاث من هذه الوسائل ؟
- ج ١ : ١- وسائل الإعلام ٢ - وسائل التواصل الاجتماعي ٣- بعض تطبيقات التواصل الاجتماعي .
- س ٢ : ماهي العوامل التي يتأثر بها المناخ في الوطن العربي .
- ج ٢ : الموقع الفلكي - توزيع اليابس والماء - التضاريس
- س ٣ : " يظهر المناخ الموسمي في مناطق محدودة من الوطن العربي " أذكر هذه المناطق ؟
- ج ٣ : جبال ظفار في سلطنة عمان - هضبة اليمن - جبال عسير بالسعودية

السؤال السادس : صل بخط بين الكلمة والصورة المناسبة لها :

الصورة	الكلمة
	صحو
	غائم كليا
	ممطر
	غائم جزئيا

:

السؤال السابع : أكتب في المربع في الشكل التالي نوع المناخ السائد في الوطن العربي

المناخ الموسمي

المناخ الصحراوي

مناخ البحر المتوسط

