

شكراً لتحميلك هذا الملف من موقع المناهج العمانية



سؤال قصير ثاني

[موقع المناهج](#) ⇨ [المناهج العمانية](#) ⇨ [الصف الخامس](#) ⇨ [رياضيات](#) ⇨ [الفصل الثاني](#) ⇨ [الملف](#)

تاريخ نشر الملف على موقع المناهج: 2023-04-24 04:06:24

التواصل الاجتماعي بحسب الصف الخامس



روابط مواد الصف الخامس على تلغرام

[الرياضيات](#)

[اللغة الانجليزية](#)

[اللغة العربية](#)

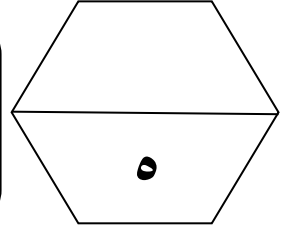
[التربية الاسلامية](#)

المزيد من الملفات بحسب الصف الخامس والمادة رياضيات في الفصل الثاني

الاختبار النهائي الرسمي في محافظة شمال الباطنة مسائي	1
نموذج إجابة الامتحان النهائي الرسمي بمحافظة جنوب الباطنة	2
نموذج إجابة الامتحان الرسمي النهائي الفترة الصباحية	3
الاختبار النهائي الرسمي في محافظة شمال الشرقية	4
الاختبار النهائي الرسمي في محافظة مسقط	5

سؤال قصير (٢) في مادة الرياضيات للصف الخامس

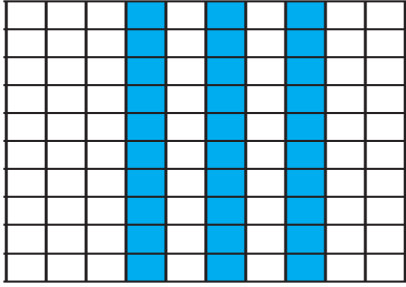
الفصل الدراسي الثاني ٢٠٢١/٢٠٢٢ م



اسم الطالب :

١

١) حوِّط على النسبة المئوية التي تمثل الجزء المظلل في الشكل المقابل :



٢٠% ٣٠% ٥٠% ٧٥%

٢) اكمل الكسر المتكافئ الآتي :

$$\frac{10}{\square} = \frac{2}{3}$$


$5 \times$

١

٣) ضع الكسور و الأعداد العشرية التالية في مكانها الصحيحة على خط الأعداد :

١

$\frac{1}{2}$ ، ٠,٣



٢

٤) اكتب الكسر غير الاعتيادي و العدد الكسري للمخطط التالي :

الكسر غير الاعتيادي هو : —

١	١
٧	٧

العدد الكسري هو : —

١	١	١	١	١	١	١
٧	٧	٧	٧	٧	٧	٧

(انتهت الأسئلة)