

تم تحميل هذا الملف من موقع المناهج العمانية



الملف اختبار تجريبي للاختبار النهائي نموذج ثان

[موقع المناهج](#) ← [المناهج العمانية](#) ← [الصف الخامس](#) ← [اجتماعيات](#) ← [الفصل الأول](#)

روابط مواقع التواصل الاجتماعي بحسب الصف الخامس



روابط مواد الصف الخامس على تلغرام

[الرياضيات](#)

[اللغة الانجليزية](#)

[اللغة العربية](#)

[التربية الاسلامية](#)

المزيد من الملفات بحسب الصف الخامس والمادة اجتماعيات في الفصل الأول

امتحان وإجابة الأسئلة الرسمية للفصل الدراسي الأول الدور الأول 2017/2016	1
امتحان وإجابة الأسئلة التدريبية في محافظة شمال الباطنة للفصل الدراسي الأول الدور الأول 2017/2016	2
امتحان وإجابة الأسئلة الرسمية في محافظة الظاهرة للفصل الدراسي الأول الدور الثاني 2015/2016	3
امتحان وإجابة الأسئلة الرسمية في محافظة جنوب الشرقية للفصل الدراسي الأول الدور الثاني 2015/2016	4
امتحان وإجابة الأسئلة الرسمية في محافظة شمال الباطنة للفصل الدراسي الأول الدور الأول 2015/2016	5



المديرية العامة للتربية والتعليم بمحافظة جنوب الباطنة

دائرة التقويم التربوي

(قسم مراقبة وتقويم التحصيل الدراسي)

الاختبار التجريبي لمادة الدراسات الاجتماعية للصف الخامس

للعام الدراسي ١٤٣٨/١٤٣٩ هـ - ٢٠١٧ / ٢٠١٨ م. الفصل الدراسي الاول

اسم الطالب :

الشعبة :

أجب عن جميع الأسئلة الآتية :

السؤال الأول : ضع دائرة حول رمز الإجابة الصحيحة لكل مفردة من المفردات الآتية : (درجتان لكل مفردة)

١ (الدول العربية التي تقع في قارة آسيا :

أ- الجزائر ، سوريا ، البحرين

ب- السعودية ، اليمن ، المغرب

ج- الإمارات ، الأردن ، فلسطين

د- لبنان ، مصر ، ليبيا

٢) أسلم أهل عمان في فترة حكم :

أ- النبي محمد عليه السلام

ب- أبي بكر الصديق

ج- عمر بن الخطاب

د- علي بن أبي طالب

٣) المدينة العمانية التي ينتمي إليه القائد المهلب بن أبي صفرة :

أ- البريمي

ب- دبا

ج- صحار

د- مرباط

٤) خصائص التربة في المنطقة المشار لها بالرقم (١) في الصورة المقابلة

أ- حبيباتها صغيرة ومفككة

ب- تفتقر للعناصر الغذائية

ج- ترتفع بها نسبة الأملاح

د- غنية بالمواد العضوية والمعدنية



٥) القيمة التي تحثنا عليها الآية الكريمة (وتعاونوا على البر والتقوى و لا تعاونوا على الإثم والعدوان) :

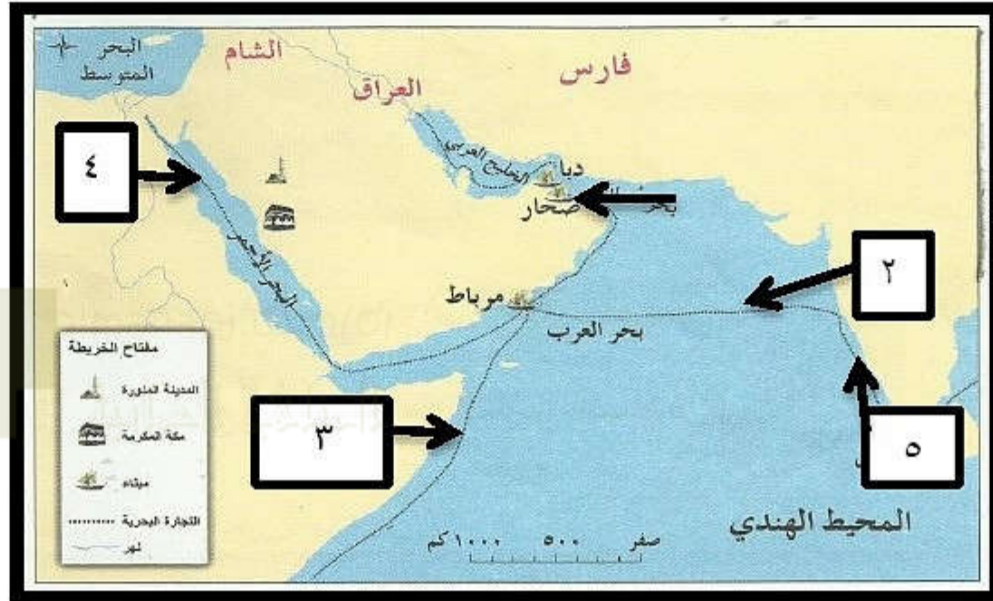
أ- الصدق

ب- التعاون

ج- الكرم

د- الأمانة

٦- المسار الصحيح الذي ستتلكه السفينة التجارية المتجهة إلى شرقي أفريقيا بعد خروجها من الميناء المشار إليه بالسهم في الخريطة المقابلة :



أ- ٢

ب- ٣

د- ٥

ج- ٤

٧- جميع ما يأتي يعد عملاً اجتماعياً يمارسه أفراد المجتمع العماني بشكل جماعي ما عدا :

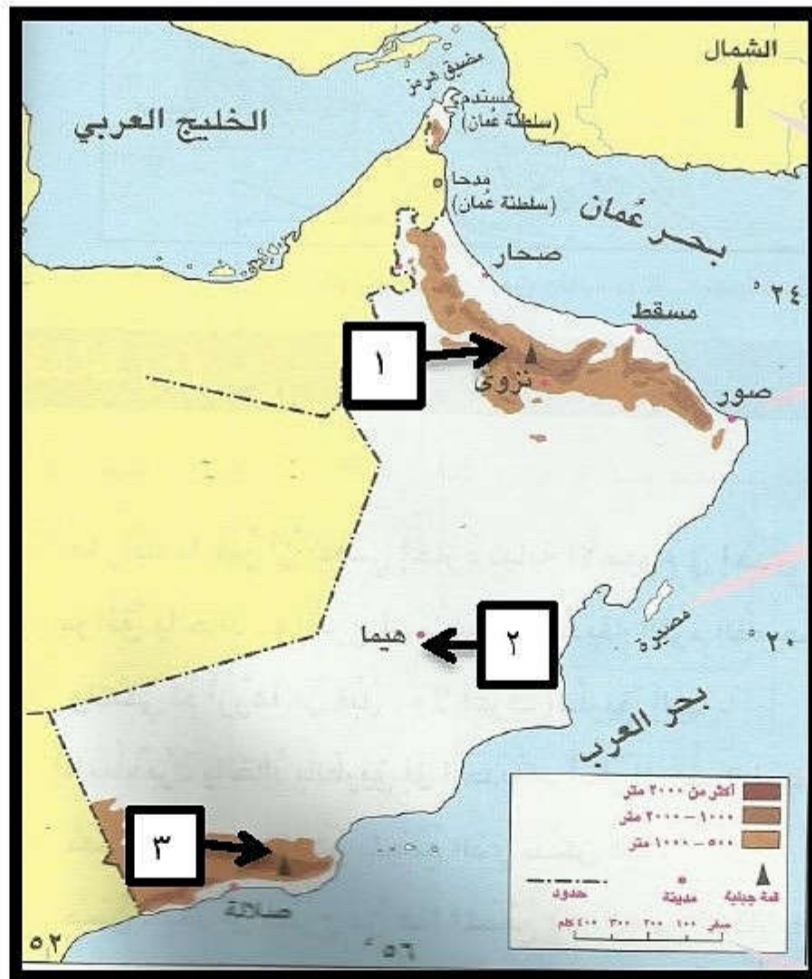
أ- قطاف الورد في الجبل الأخضر

ب- المشاركة في حفلات الزفاف

ج- غرس شجرة مانجو في المنزل

د- جمع وتجفيف التمور في موسم الجداد

٨- الجدول الصحيح الذي يمثل الأقاليم المناخية في سلطنة عمان والموضح مواقعها في الخريطة المقابلة :



الموقع	الإقليم
١	الصحراوي
٢	الموسمي
٣	البحر المتوسط

(ب)

الموقع	الإقليم
١	البحر المتوسط
٢	الصحراوي
٣	الموسمي

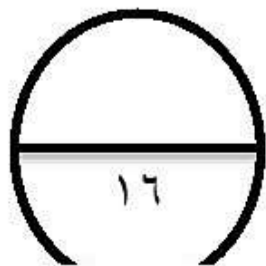
(أ)

الموقع	الإقليم
١	الموسمي
٢	البحر المتوسط
٣	الصحراوي

(د)

الموقع	الإقليم
١	الموسمي
٢	الصحراوي
٣	البحر المتوسط

(ج)

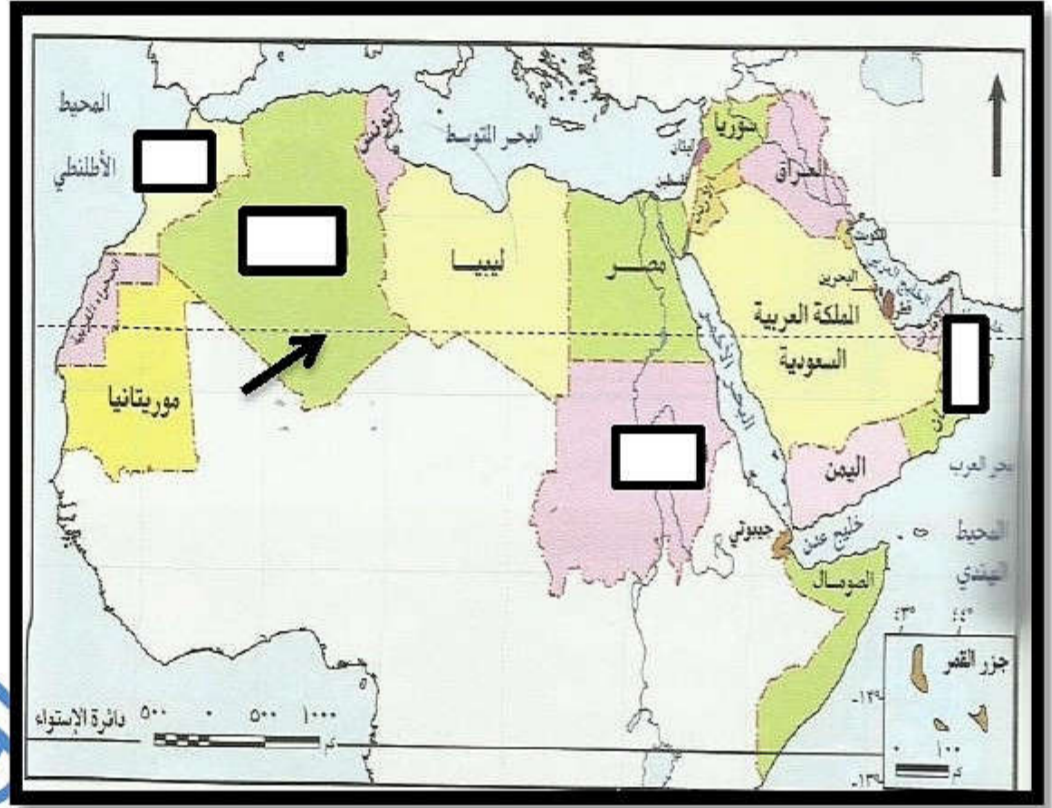
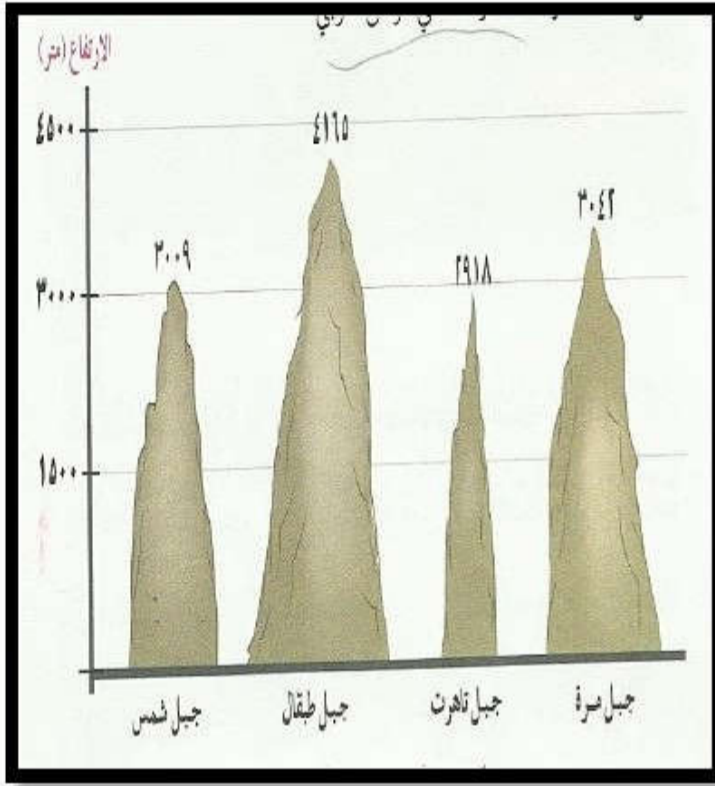


السؤال الثاني : أجب عن الأسئلة الآتية :

أولا / اكتب اسم المصطلح الصحيح أمام كل عبارة من العبارات في الجدول الآتي :

.....	١ النباتات التي تتميز بقلتها وتقتصر على الأعشاب القصيرة والنباتات الشوكية و الشجيرات المبعثرة
.....	٢ الفرد الذي يشعر بانتمائه لوطنه و يسهم في خدمته

ثانيا / ادرس خريطة الوطن العربي والتمثيل البياني الآتي ثم أجب عن الأسئلة الآتية:



١-رتب الجبال الواردة في التمثيل البياني من حيث الارتفاع ترتيبا تنازليا بكتابة الأرقام في المربعات على الخريطة .

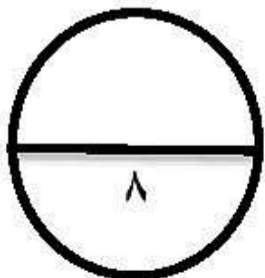
٢- ما اسم دائرة العرض المشار إليها بالسهم في الخريطة ؟

٣- تخيل نفسك في رحلة بحرية من الصومال إلى مصر ، فما الممرات المائية التي ستعبرها؟

ثالثا / انسب الصفات التالية للشخصيات العمانية الواردة بين القوسين في الجدول الآتي :

(كعب بن برشه الطاحي - زهير بن قرضم المهري - كعب بن سور الأزدي - مصقلة بن رغبة)

م	الصفة	اسم الشخصية
١	متحدث باللغة الفارسية	
٢	اشتهر بالخطابة والفصاحة والبلاغة	
٣	حب الاستطلاع والبحث عن المعرفة	
٤	اشتهر بالشجاعة والعدل والدعوة إلى السلم	



السؤال الثالث

أولا / ادرس خريطة شبه الجزيرة العربية التي أمامك ثم أجب عن الأسئلة الآتية :



١- اكتب على الخريطة الأسماء الجغرافية الآتية:

أ- عاصمة عمان في فترة حكم آل الجلندي .

ب- البحر الذي يحد مدينة لبأ من ناحية الشرق.

٢- اذكر كلا من :

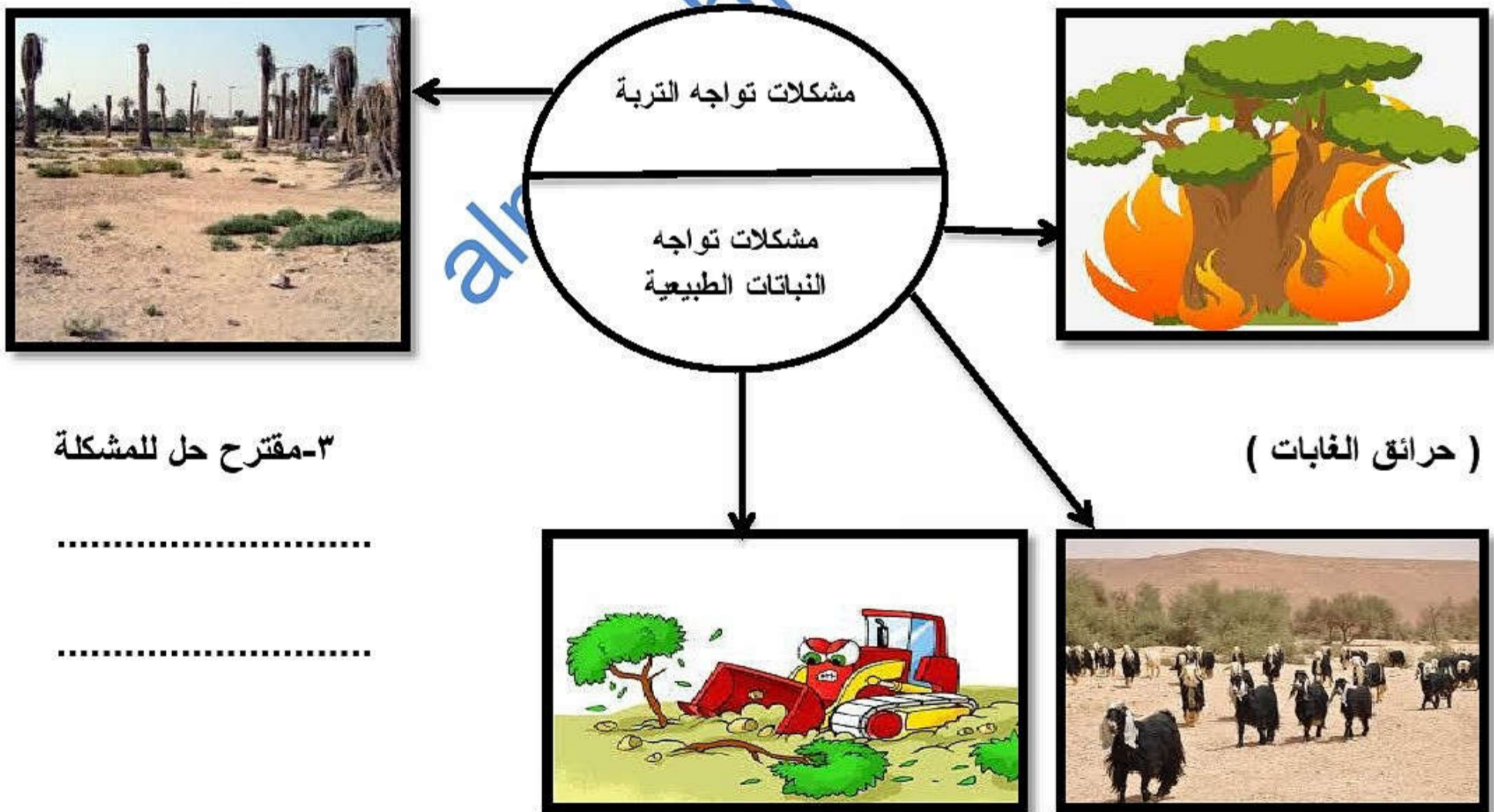
أ- سلعة اقتصادية اشتهرت بتصديرها من الميناء

المشار له بالرقم (١)

ب- نظام الحكم في المدينة المشار لها بالرقم (٢)

قبيل ظهور الاسلام ؟

ثانيا / ادرس الخريطة الذهنية التي تمثل بعض المشكلات البيئية ثم أكمل بيانات الخريطة :



٣- مقترح حل للمشكلة



.....
.....

٢- اسم المشكلة :

١- اسم المشكلة :

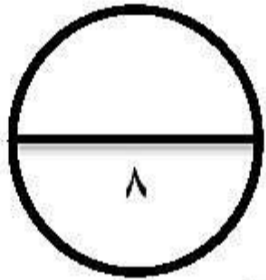
تابع السؤال الثالث

ثالثاً / قارن بين الصورة رقم (١) والصورة رقم (٢) في الجدول الآتي :

وجه المقارنة	صورة (١)	صورة (٢)
١- نمط الحياة الاجتماعية		
٢- الأنشطة الاقتصادية الممارسة

السؤال الرابع

أولاً / ادرس الصورتين التي أمامك ثم أجب عن الأسئلة :



الصورة (٢)

الصورة (١)

١- استنتج أشكال العمل الاجتماعي في الصورتين ١ و ٢ :

الصورة (١) الصورة (٢)

٢- اذكر احد مؤسسات المجتمع المدني الراعية للعمل التطوعي في سلطنة عمان ؟

ثانيا / اقرأ الجدول الذي أمامك والذي يمثل متوسط درجات الحرارة . ثم أجب على الأسئلة الآتية :

المنطقة	يناير	فبراير	مارس	يونيو	يوليو	اغسطس
قيرون حيريتي	٢٠,٥	٢٢,٥	٢٤,٧	٢٨,٥	٢٢,٨	٢١,١
عين صالح	١٣,٢	١٥,٩	١٩,٨	٣٤,٨	٣٦,٥	٣٥,٨

١- قارن في الجدول الآتي بين درجة الحرارة في كل من قيرون حيريتي و عين صالح .

وجه المقارنة	قيرون حيريتي	عين صالح
الشهر الذي سجل أعلى درجة حرارة		
الشهر الذي سجل أقل درجة حرارة		

٢- استنتج من خلال درجات الحرارة الواردة في الجدول السابق، الأقاليم المناخية التي تنتمي إليها المناطق الواردة في الجدول :

أ- قيرون حيريتي :
ب- عين صالح :

ثالثا / ادرس الصورتين أمامك ثم أجب على الأسئلة الآتية :



صورة (٢)



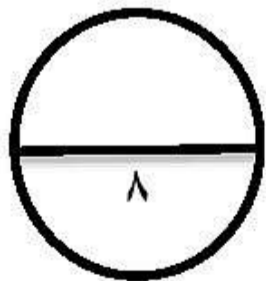
صورة (١)

١- ما واجبك تجاه الفئة الواضحة في الصورة رقم (١) ؟

.....

٢- ما الهدف من الجائزة الواضح شعارها في الصورة رقم (٢) ؟

.....



انتهت الأسئلة مع تمنياتنا لكم بالتوفيق والنجاح



نموذج إجابة الاختبار التجريبي للصف الخامس
للعام الدراسي ١٤٣٨/١٤٣٩ هـ - ٢٠١٧/٢٠١٨ م
الفصل الدراسي الأول

المادة: الدراسات الاجتماعية الدرجة الكلية: (٤٠) درجة

أولاً: إجابة السؤال الموضوعي:

الدرجة: (١٦) درجة		إجابة السؤال الأول										
الصفحة	الدرجة	الإجابة	البديل الصحيح	المفردة								
١٥	٢	الامارات ، الأردن ، فلسطين	ج	١								
٦٦	٢	النبي محمد عليه السلام	أ	٢								
٦٩	٢	دبل	ب	٣								
٤٩	٢	غنية بالمواد العضوية والمعدنية	د	٤								
٨٠	٢	التعاون	ب	٥								
٦٦	٢	٣	ب	٦								
٨٨	٢	غرس شجرة مانجو في المنزل	ج	٧								
٤٠ ٣٨ ٣٧	٢	<table border="1"> <thead> <tr> <th>الموقع</th> <th>الإقليم</th> </tr> </thead> <tbody> <tr> <td>١</td> <td>البحر المتوسط</td> </tr> <tr> <td>٢</td> <td>الصحراوي</td> </tr> <tr> <td>٣</td> <td>الموسمي</td> </tr> </tbody> </table>	الموقع	الإقليم	١	البحر المتوسط	٢	الصحراوي	٣	الموسمي	أ	٨
الموقع	الإقليم											
١	البحر المتوسط											
٢	الصحراوي											
٣	الموسمي											

ثانياً: إجابة الأسئلة المقالية:

الدرجة الكلية : ٨ درجات		اجابة السؤال الثاني		
الصفحة	الدرجة	الاجابة الصحيحة	المفردة	الجزئية
٥٢	١	النباتات الصحراوية	١	أولاً
٨٢	١	المواطن الإيجابي	٢	
٢٨	درجتان لكل مفردة نصف درجة	الترتيب الصحيحة هو ١ - جبل طبقال بالمغرب ٢ - جبل مرة بالسودان ٣ - جبل شمس في سلطنة عمان ٤ - جبل تاهرت بالجزائر	١	ثانياً
١٣	١	مدار السرطان	٢	
١٩	١	خليج عدن - البحر الاحمر	٣	
٧٢	درجتان لكل مفردة نصف درجة	كعب بن برشة الطاحي	١	ثالثاً
٦٤		مصقلة بن رقبة	٢	
٧٣		زهير بن قرضم المهري	٣	
		كعب بن سور الأزدي	٤	

تابع / نموذج إجابة الاختبار التجريبي لمادة الدراسات الاجتماعية للصف الخامس . الفصل الدراسي الأول
للعام الدراسي ٢٠١٧ / ٢٠١٨

الدرجة الكلية : ٨

إجابة السؤال الثالث

الصفحة	الدرجة	الإجابة الصحيحة	المفردة	الجزئية
٥٨	درجة لكل	صحار	١ - أ	أولا
٥٩	مفردة نصف درجة	بحر عمان	١ - ب	
٦٨	١	اللبان والخيول (يكتفي بذكر واحدة)	٢	
٥٨	١	نظام القبيلة	٣	
٥٤	١	الرعي الجائر	١	ثانيا
٥٤	١	قطع الأشجار	٢	
٥١	١	عدم استخدام المبيدات الكيميائية والحشرية التقليل من استخدامها في الزراعة (أي إجابة تفيد المعنى)	٣	
٦٢	درجتان لكل مفردة نصف درجة	صورة (١) حياة بدوية صورة (٢) حياة زراعية / حياة حضرية	١	ثالثا
٦٢ ٦٦	نصف درجة	صورة (١) الرعي صورة (٢) الزراعة التجارة الصناعة	-٢	

تابع / نموذج إجابة الاختبار التجريبي لمادة الدراسات الاجتماعية للصف الخامس - الفصل الدراسي الأول
للعام الدراسي ٢٠١٧ / ٢٠١٨

الدرجة الكلية : ٨

اجابة السؤال الرابع

الصفحة	الدرجة	العبارة الصحيحة	المفردة	الجزئية									
٨٧	درجة لكل مفردة نصف درجة	الصورة (١) التكافل الاجتماعي الصورة (٢) التعاون	١	أولاً									
١٠٢	درجة (يكتفي بذكر واحدة)	جمعية البيئة العمانية - جمعية الأطفال أولاً الجمعية العمانية للسرطان جمعية رعاية الأطفال المعاقين	٢										
	درجتان لكل مفردة نصف درجة	<table border="1"> <tr> <td>وجه المقارنة</td> <td>قيرون حيريتي</td> <td>عين صالح</td> </tr> <tr> <td>الشهر الذي سجل أعلى درجة حرارة</td> <td>يونيو</td> <td>يوليو</td> </tr> <tr> <td>السجل الذي سجل أقل درجة حرارة</td> <td>يناير</td> <td>يناير</td> </tr> </table>	وجه المقارنة	قيرون حيريتي	عين صالح	الشهر الذي سجل أعلى درجة حرارة	يونيو	يوليو	السجل الذي سجل أقل درجة حرارة	يناير	يناير	١	ثانياً
وجه المقارنة	قيرون حيريتي	عين صالح											
الشهر الذي سجل أعلى درجة حرارة	يونيو	يوليو											
السجل الذي سجل أقل درجة حرارة	يناير	يناير											
٤٢	درجة	المناخ الموسمي	٢ - أ										
٣٩	درجة	المناخ الصحراوي	٢ - ب										
٩٨	درجة	احترامهم ومساعدتهم والإحسان إليهم عدم الوقوف في المواقف المخصصة لهم (اي اجابة تفيد المعنى)	١	ثالثاً									
١٠٢	درجة (يكتفي بذكر واحدة)	نشر ثقافة العمل التطوعي في السلطنة ابراز دور مؤسسات المجتمع المدني والأفراد في مجال العمل التطوعي	٢										

نهاية نموذج الإجابة