

## تجميع اختبارات قصيرة أولى



### تم تحميل هذا الملف من موقع المناهج العمانية

موقع فايلاتي ← المناهج العمانية ← الصف الخامس ← اجتماعيات ← الفصل الثاني ← ملفات متنوعة ← الملف

تاريخ إضافة الملف على موقع المناهج: 14:19:47 2025-04-01

ملفات اكتب للمعلم اكتب للطالب ا اختبارات الكترونية ا اختبارات ا حلول ا عروض بوربوينت ا أوراق عمل  
منهج انجليزي ا ملخصات وتقارير ا مذكرات وبنوك ا الامتحان النهائي ا للمدرس

المزيد من مادة  
اجتماعيات:

### التواصل الاجتماعي بحسب الصف الخامس



صفحة المناهج  
العمانية على  
فيسبوك

الرياضيات

اللغة الانجليزية

اللغة العربية

التربية الاسلامية

المواد على تلغرام

### المزيد من الملفات بحسب الصف الخامس والمادة اجتماعيات في الفصل الثاني

الكتيب المساند في الدراسات

1

مراجعة دروس المنهج من سلسلة ملخصات تميز وتفوق

2

بوربوينت ملخص شرح درس أغلفة كوكب الأرض المفهوم والمكونات

3

بوربوينت ملخص شرح درس أغلفة كوكب الأرض

4

بوربوينت ملخص شرح درس الموارد الطبيعية

5

الاختبار

القصير الأول

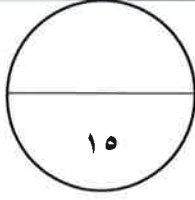
لمادة الدراسات

الفصل الثاني

للمصف الخامس

المجموعة الأولى

تجميع / أبو الياس الوضاحي



سلطنة عمان

وزارة التربية والتعليم

المديرية العامة للتربية والتعليم بمحافظة الباطنة شمال

مدرسة الضياء للتعليم الأساسي ح ٢

الاختبار القصير (١) لمادة الدراسات الاجتماعية الصف الخامس الفصل الدراسي الثاني للعام الدراسي

الاسم: ..... الصف : الخامس /

**السؤال الأول: اختاري الاجابه الصحيحه من بين البدائل المعطاه : ( ٥ درجات )**




١- الصورة المقابله تمثل الغلاف :

أ. المائي      ب. الحيوي      ج. الجوي      د. الصخري

٢- جميع ما يلي من مكونات الغلاف الجوي ما عدا :

أ. المعادن      ب. الاكسجين      ج. النيتروجين      د. بخار الماء



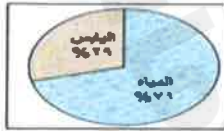
٣- الكوكب الأقرب الى الشمس :

أ. المريخ      ب. الأرض


ج. الزهره      د. عطارد

٤- اختاري الشكل الصحيح الذي يمثل النسبة الصحيحة للماء واليابسة على سطح

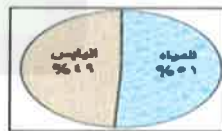
الأرض :



د.



ج.



ب.



أ.



٥- تمثل الصورة التالية مشكلة وهي :

أ\_ الامطار الحمضية      ب- الانهيارات الأرضية

ج- تلوث المياه      د - تدهور الغطاء النباتي

## السؤال الثاني: ( ٦ درجات )

أولاً: اكتب امام الجمل التاليه ما يناسبها من مصطلحات :

| المصطلح | تعريفه  |
|---------|---|
| .....   | تجمع عدد كبير جدا من النجوم والسحب والغازات على شكل شريط حلزوني مضئ في السماء |
| .....   | هو كل ما موجود في الطبيعة ويستفيد منه الانسان والكاننات الحية الأخرى          |

٢- صفني الموارد الطبيعية التالية في أغلفة كوكب الأرض في الجدول التالي:

( المعادن \_ الحيوانات \_ الاكسجين \_ المياه العذبة )

| الغلاف  | الجوي | الصخري | المائي | الحيوي |
|---------|-------|--------|--------|--------|
| الموارد |       |        |        |        |



٣- ادرس الشكل المقابل ثم اجيبي عما يلي :

أ-ما اسم المنجز العماني الذي تمثله الصورة التالية .....

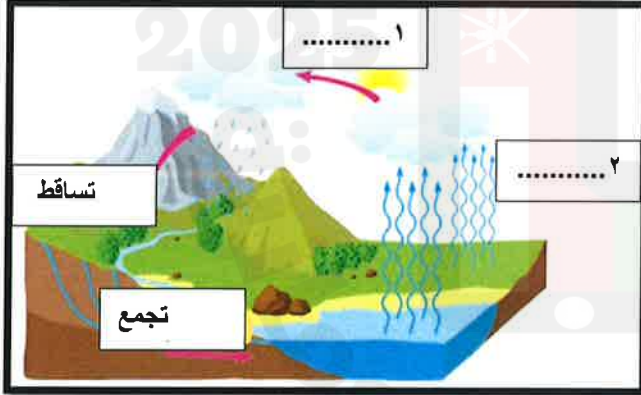
ب-متى تأسست هذه الجمعية .....

## السؤال الثالث : ( ٤ درجات )

١- ادرس الشكل الذي امامك (دورة الماء في الطبيعة )

ثم اجيبي عما يلي :

أ-أكملي البيانات الناقصة في الصورة التالية التي تمثل دورة الماء في الطبيعة



٢ من خلال الشكل الذي امامك اجيب عما يلي :

أ \_ استنتجي العلاقة بين الغلاف المائي والغلاف الصخري

.....

ب \_ الشكل الناتج بعد العلاقة .....



انتهت الأسئلة مع تمنياتي للجميع بالنجاح

**اختبار قصير أول لمادة الدراسات الاجتماعية للصف الخامس للفصل الدراسي الثاني**  
**لعام 2024م**

**السؤال الأول: اختاري الاجابه الصحيحه من بين البدائل المعطاه : (5 درجات )**




- 1- الصورة المقابله تمثل الغلاف :  
 1. المائي      ب. الحيوي      ج. الجوي      د. الصخري
- 2- جميع ما يلي من مكونات الغلاف الجوي ما عدا :  
 1. المعادن      ب. الاكسجين      ج. النيتروجين      د. بخار الماء
- 3- الكوكب الأقرب الى الشمس :  
 1. المريخ      ب. الأرض      ج. الزهره      د. عطارد
- 4- الحزام الذي يحمي الأرض من الاشعة الضارة :  
 1. الأوزون      ب. النيتروجين      ج. الاكسجين      د. الارجون
- 5- اذا علمت أن نسبة اليابس 29% على الكرة الأرضية ، فان نسبة الماء تشكل :  
 1. 71%      ب. 73%      ج. 75%      د. 77%

**السؤال الثاني: (6 درجات )**

**أولاً: اكتب امام الجمل التاليه ما يناسبها من مصطلحات :**

| المصطلح | تعريفه  |
|---------|---|
|         | تجمع عدد كبير جدا من النجوم والسحب والغازات على شكل شريط حلزوني مضئ في السماء |
|         | حركة الماء من سطح الأرض الى الغلاف الجوي ثم عودته مرة أخرى.                   |

**ثانيا : ادرس الصورة التالية ثم أجب عن الأسئلة التي تليها :**



- 1- ماذا يطلق على مجموعة الأجرام السماوية التي أمامك ؟  
 .....
- 2- ما مركز هذه المجموعة ؟  
 .....
- 3- سمي المجرة التي تنتمي لها هذه المجموعة ؟  
 .....
- 4- تكون درجة الحرارة أعلى في كوكب :  
 .....



الزهرة ☐ نبتون ☐

### السؤال الثالث : (4 درجات)

1. ادرس الشكل المقابل ثم أجب عما يلي :

1- ما اسم المنجز العماني الذي تمثله الصورة المقابلة ؟


.....

2- متى تأسست هذه الجمعية ؟

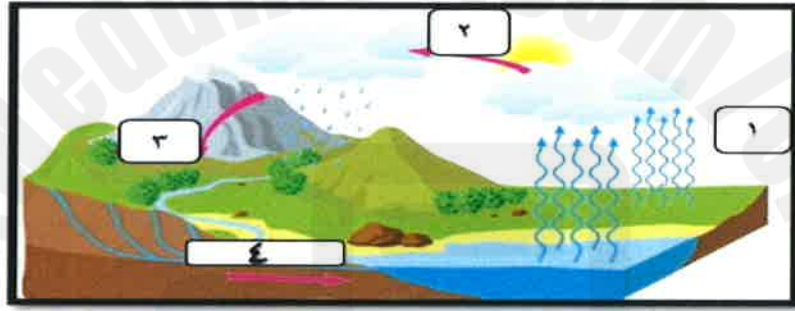
.....

3- اكتب اختصاص هذه الجمعية ؟

.....



2. الترتيب الصحيح لمراحل دورة الماء في الطبيعة في الشكل المقابل :



|             |       |             |       |
|-------------|-------|-------------|-------|
| 4           | 3     | 2           | 1     |
| تجمع المياه | تكاثف | تساقط       | تبخر  |
| تبخر        | تكاثف | تجمع المياه | تساقط |

(أ)

(ب)

|       |             |      |       |
|-------|-------------|------|-------|
| 4     | 3           | 2    | 1     |
| تساقط | تجمع المياه | تبخر | تكاثف |

(ج)

|             |       |       |      |
|-------------|-------|-------|------|
| 4           | 3     | 2     | 1    |
| تجمع المياه | تساقط | تكاثف | تبخر |

(د)

اسم الطالبة المتألقة:  
الصف:

سلطنة عمان  
وزارة التربية و التعليم  
المديرية العامة للتربية و التعليم بمحافظة الظاهرة  
مدرسة أمجاد عُمان للتعليم الأساسي (٨-١)

### الاختبار القصير الأول في مادة الدراسات الاجتماعية للصف الخامس

السؤال الأول: اختاري الإجابة الصحيحة من بين البدائل المعطاة فيما يلي:

- ١- كل ما هو موجود في الطبيعة و يستفيد منه الإنسان و الكائنات الحية الأخرى يمثل مفهوم:  
( أ ) الموارد غير الطبيعية ( ب ) الموارد المتجددة ( ج ) الموارد غير المتجددة ( د ) الموارد الطبيعية
- ٢- إحدى العبارات التالية تنتمي لعناصر الغلاف الجوي :  
( أ ) يرتبط بالظواهر الطبيعية كالزلازل ( ب ) يشمل المياه العذبة و المالحة  
( ج ) يحتوي على حزام الأوزون ( د ) يمثل البيئة التي تعيش فيها الكائنات الحية
- ٣- اذا كانت اليابسة تغطي حوالي ٢٩ % من مساحة سطح الأرض، فإن المياه تغطي حوالي :  
( أ ) ٧١ ( ب ) ٧٢ ( ج ) ٧٣ ( د ) ٧٤ %
- ٤- الجهة المسؤولة عن الأنشطة الفلكية في عمان:  
( أ ) هيئة الطيران المدني ( ب ) مركز مستوطنة الفضاء  
( ج ) الجمعية الفلكية العمانية ( د ) الشركة العالمية للفضاء
- ٥- العامان الميلاديان اللذان حصلت السلطنة فيهما على جائزة مجلس التعاون الخليجي للبيئة و الحياة الفطرية :  
( أ ) ٢٠١١ و ٢٠١٢ ( ب ) ٢٠١٢ و ٢٠١٣  
( ج ) ٢٠١٣ و ٢٠١٤ ( د ) ٢٠١٤ و ٢٠١٥

السؤال الثاني: أجبي عما يلي:

( ١ ) اقرأي النص التالي جيداً ( من أقوال جلالة السلطان هيثم حفظه الله ) ثم أجبي عما بعده من أسئلة:

« إِنَّ الْعَنَاءَ بِالْبَيْئَةِ وَمَقْدَرَاتِهَا مَسْئُولِيَّةٌ  
عَالَمِيَّةٌ لَا تَحُدُّهَا الْحُدُودُ السِّيَاسِيَّةُ لِلدُّوَلِ ».

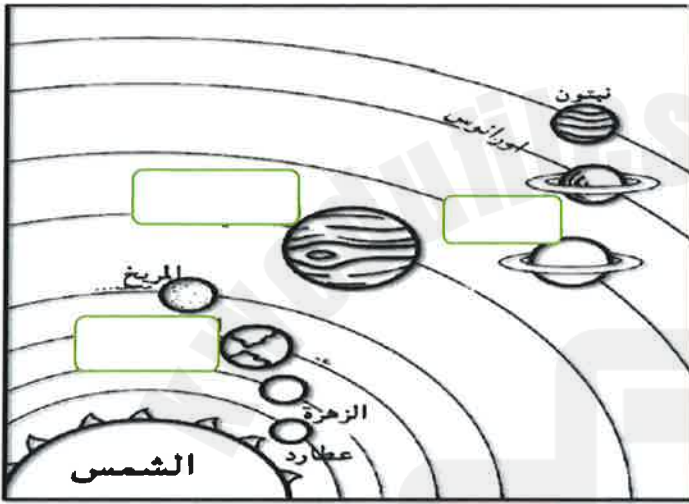
• استنتجي الفكرة التي ركزت عليها كلمة جلالة السلطان هيثم بن طارق حفظه الله و رعااه.

• وضح دورك في المحافظة على البيئة من حولك:

( ٢ ) صنفى المشكلات البيئية التالية إلى الغلاف الأرضي الذي ظهرت فيه كلاً منها:

( الأمطار الحمضية – الانهيارات الأرضية – تلوث المياه – تدهور الغطاء النباتي )

| اسم المشكلة البيئية: | الغلاف الأرضي الذي ظهرت فيه: |
|----------------------|------------------------------|
|                      | الغلاف الصخري                |
|                      | الغلاف الحيوي                |
|                      | الغلاف الجوي                 |
|                      | الغلاف المائي                |

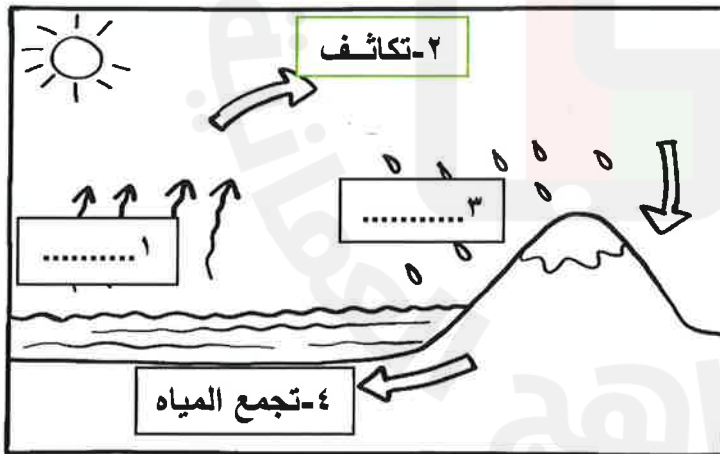


( ٣ ) تأمل الشكل التالي جيداً ( النظام الشمسي )

ثم أجبني عما يلي:

- ظللي بقلم الرصاص مركز هذا النظام.
- اكتب في الفراغات على الشكل أسماء كواكب المجموعة الشمسية.

السؤال الثالث: ادرسي الشكل التالي جيداً ( دورة المياه في الطبيعة ) ثم أجبني عن الأسئلة التي بعدها:



أولاً: ١- اكتب في الفراغ اسم المرحلة من مراحل دورة المياه في الطبيعة.

٢- ارسمي الجزء الناقص الذي يتكون في المرحلة الثانية.

٣- ضعي دائرة على أحد مكونات الغلاف الصخري الذي يظهر في الصورة.

ثانياً: عرفي دورة المياه في الطبيعة:





الاختبار القصير الأول للصف الخامس الفصل الدراسي الثاني للعام الدراسي ٢٠٢٣ / ٢٠٢٤ م

اسم الطالبة : ..... المقيدة بالصف : خامس ( )

( ٥ درجات )

السؤال الأول: اختار الإجابة الصحيحة من بين البدائل المعطاة لك :

١- عدد أغلفة كوكب الأرض:

أ) ٢

ب) ٤

ج) ٦

د) ٨

٢- مظهر السطح في الصورة المقابلة ناتج عن تفاعل الغلاف الصخري مع الغلاف :

أ) الجوي

ب) الحيوي

ج) المائي

د) الغازي

٣- العام الميلادي الذي تأسست فيه الجمعية الفلكية العمانية:

أ) ٢٠٠٤ م

ب) ٢٠٠٦ م

ج) ٢٠٠٨ م

د) ٢٠١٠ م

٤- تبنّت مؤسسات المجتمع في سلطنة عمان بإشراف من هيئة البيئة مبادرة زراعة :

أ) ٤ مليون شجرة

ب) ٦ مليون شجرة

ج) ٨ مليون شجرة

د) ١٠ مليون شجرة

٥- الصورة التي تمثل أحد مكونات الغلاف الحيوي :

أ)



ب)



ج)



د)



( ٦ درجات )

السؤال الثاني : اجب عن الأسئلة الآتية:

١- اكتب أمام كل عبارة المفهوم / المصطلح الذي يعبر عنه فيما يلي :

| المفهوم / المصطلح | العبارة  |
|-------------------|--|
|                   | تجمع عدد كبير من النجوم والسحب والغازات على شكل شريط حلزوني مضيء في السماء                         |
|                   | هي الأمطار التي تحتوي على نسبة عالية من الأحماض وتحدث نتيجة تلوث الهواء بمواد كيميائية وغازات سامة |

١- اشرح التفاعل الحاصل بين أغلفة كوكب الأرض في الصورة المقابلة؟



.....  
.....  
.....

٣- صنف المشكلات البيئية الآتية على حسب الغلاف الأرضي الذي توجد فيه في الجدول الآتي :

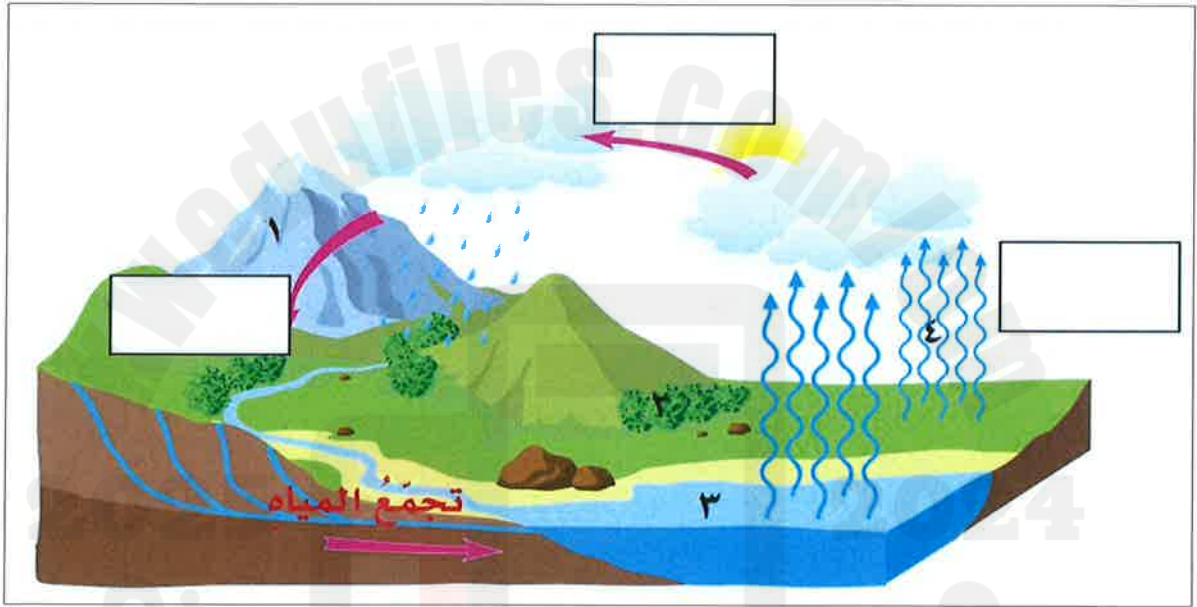
( الانهيارات الأرضية - تلوث الماء - الأمطار الحمضية - تدهور الغطاء النباتي )

| الغلاف الأرضي   | الجوي | المائي | الحيوي | الصخري |
|-----------------|-------|--------|--------|--------|
| المشكلة البيئية | ..... | .....  | .....  | .....  |

السؤال الثالث: اجب عن الأسئلة الآتية:

( ٤ درجات )

١- ادرس الشكل التوضيحي التالي ثم اجب عما يلي:



١- ما الذي يمثله الشكل السابق؟ .....

٢- أكمل المراحل الناقصة في الشكل .

٣- اكتب أمام كل رقم نوع الغلاف الأرضي الذي يمثله:

( ١ ) ..... ( ٢ ) .....

( ٣ ) ..... ( ٤ ) .....

انتهت الأسئلة . بالتوفيق للجميع