

## شكراً لتحميلك هذا الملف من موقع المناهج العمانية



## أسئلة الاختبار الرسمي مسقط

موقع المناهج ← المناهج العمانية ← الصف الخامس ← اجتماعيات ← الفصل الأول ← الملف

تاريخ نشر الملف على موقع المناهج: 06:55:29 2023-01-11

## التواصل الاجتماعي بحسب الصف الخامس



## روابط مواد الصف الخامس على تلغرام

[الرياضيات](#)

[اللغة الانجليزية](#)

[اللغة العربية](#)

[التربية الاسلامية](#)

## المزيد من الملفات بحسب الصف الخامس والمادة اجتماعيات في الفصل الأول

<a href="#">ملخص شامل للمادة من مذكرة المتميز</a>	1
<a href="#">ملخص شرح درس ملامح من حياة العمانيين قبل الإسلام</a>	2
<a href="#">ملخص درس الموقع الفلكي مع الحل</a>	3
<a href="#">اختبار قصير أول نموذج ثالث</a>	4
<a href="#">اختبار قصير أول نموذج ثاني</a>	5

(4)

السؤال الثالث :

أولاً : (أ) انسب الأعمال التالية للشخصيات العمانية الواردة بين القوسين في الجدول الآتي:  
( كعب بن سور الأزدي - المهلب بن أبي صفرة )

م	اسم الشخصية	العمل الذي قام به
1		ساهم في نشر الإسلام في وسط آسيا
2		تولى قضاء البصرة في عهد الخليفة عمر بن الخطاب



( ب ) تأمل الصورة المقابلة وأجب عن الأسئلة التالية :

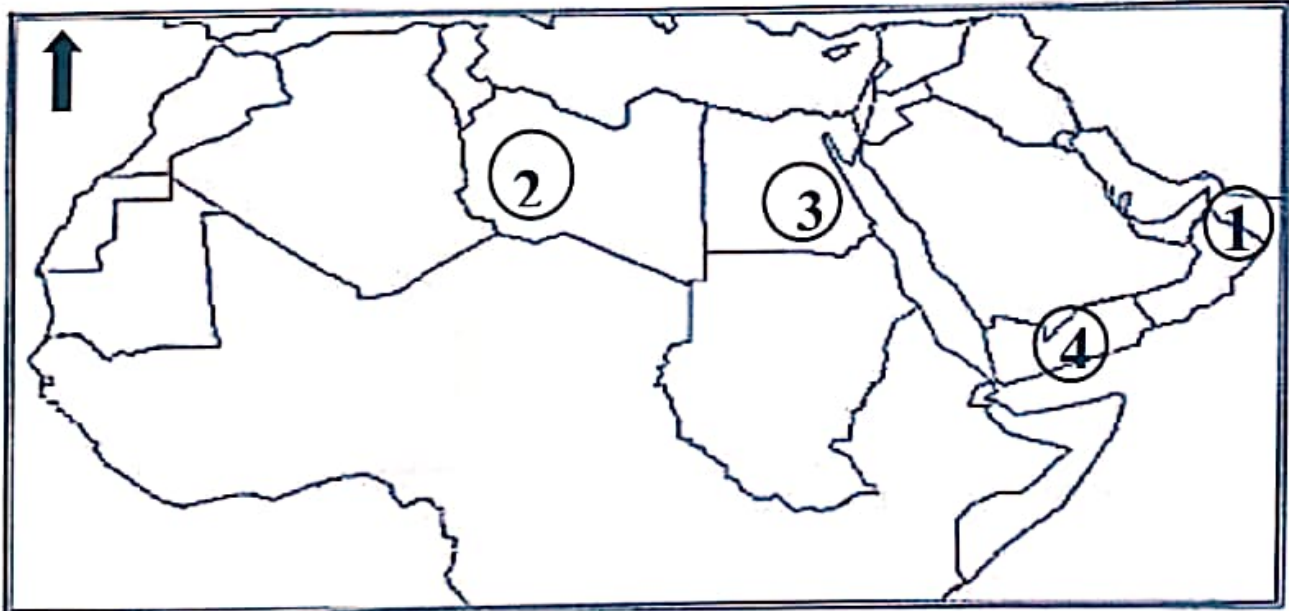
1- ما الفنة التي تمثلها الصورة المقابلة ؟

.....

2- ما واجبك تجاه هذه الفنة ؟

.....  
.....

ثانياً : أمامك خريطة الوطن العربي صماء ، ادرسها ثم أجب عن الأسئلة التالية :



1- استنتج نوع السهل المشار إليه بالرقم ( 1 ) ؟ اختر الإجابة  ساحلي  رسوبي

2- ما الرقم الذي يشير إلى الصحراء الكبرى ؟

.....

3- وقع على الخريطة اسم المسطح المائي الذي يطل عليه الوطن العربي من جهة الغرب ؟

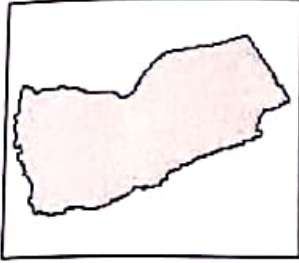
4- اعط سبباً واحداً لإنشاء السد في الدولة المشار إليها بالرقم ( 3 ) ؟

.....

٨

أجب عن جميع الأسئلة الآتية

السؤال الأول: ضع دائرة حول رمز الإجابة الصحيحة من بين البدائل المعطاة:

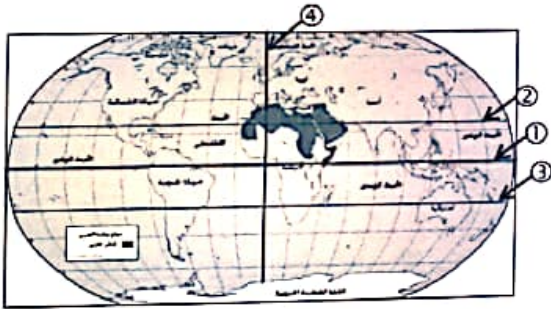


1- الدولة العربية التي تمثلها الخريطة المقابلة :

- أ - سلطنة عمان  
ب - اليمن  
ج - المملكة العربية السعودية  
د - مصر

2- المدن التي ينتمي إليها الصحابييان كعب بن برشة وزهير بن قرضم:

كعب	صحار	-د-	كعب	صحار	-ج-	كعب	مرباط	-ب-	كعب	صحار
زهير	مرباط		زهير	مرباط		زهير	صحار		زهير	صور

3- الدائرة العرضية المشار إليها بالرقم ( 2 ) :  
أ- مدار الجدي  
ب- مدار السرطانج- دائرة الاستواء  
د- الدائرة القطبية الشمالية

4- المجال الذي يرمز له شعار جائزة السلطان قابوس في الصورة المقابلة :



- أ- العمل التطوعي  
ب- الثقافة والعلوم  
ج- حماية البيئة  
د- الإجابة الحرفية

5- الوصف المناسب للمناخ الموسمي الذي تتأثر به جبال ظفار في سلطنة عمان :

تعتدل درجة الحرارة شتاء وتسقط الامطار بين مايو ويونيو	أ
ترتفع درجة الحرارة شتاء وتسقط الامطار بين يوليو وأغسطس	ب
تعتدل درجة الحرارة صيفا وتسقط امطاره بين يوليو وأغسطس	ج
ترتفع درجة الحرارة صيفا وتسقط أمطاره بين مايو ويونيو	د

## تابع- السؤال الأول:

6- الخليفة الراشدي الذي حكم في الفترة من ( 23-35 هـ ):-

- أ-أبو بكر الصديق      ب- علي بن أبي طالب      ج- عمر بن الخطاب      د- عثمان بن عفان

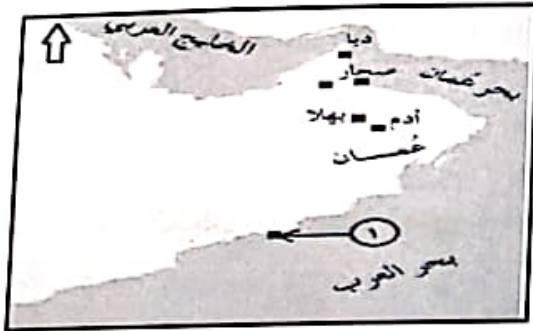
7- الدولة العربية التي تقع فيها جبال تاهرت :

- أ-الجزائر      ب-تونس      ج-المغرب      د-السودان

8- من أمثلة النباتات المدارية:-

- أ-الصنوبر      ب- السمر      ج- الصمغ العربي      د- الغاف

9- التجارة التي نشطت في فترة قبيل الإسلام في الميناء المشار اليه بالرقم ( 1 ) في الخريطة المقابلة:



أ-اللبان

ب-العاج

ج- الأخشاب

د- النحاس

10- المفهوم الدال على الأراضي المنبسطة قليلة الانحدار :

- أ- الجبال      ب- الهضاب      ج- السهول      د- الصحاري

11- الولاية العمانية التي تشتهر بقطاف المحصول الواضح في الصورة المقابلة :



أ-بها

ب-أدم

ج- بها

د- الجبل الأخضر

12- العام الميلادي الذي تعرضت فيه سلطنة عمان لإعصار جونو:

- أ- 2007      ب- 2009      ج- 2011      د- 2013

السؤال الخامس :

أولاً : أمامك خريطة شبة الجزيرة العربية ، ادرسها جيداً ثم أجب عن الأسئلة التالية :



- 1- ضع دائرة حول المدينة التي كان يقام بالقرب منها سوق الشحر.
- 2- ما اسم المسطح المائي المشار إليه بالرقم ( 1 )
- 3- اكتب اسم المدينة التي تعتبر البوابة الشمالية لعمان في المستطيل المناسب
- 4- علل : كانت القبائل العربية قبيل الإسلام تحج إلى المنطقة المشار إليها بالرمز ؟

ثانياً : أكمل المخطط التالي الذي يوضح المؤسسات الحكومية والخدمات التي تقدمها للأفراد في سلطنة عمان ؟

المؤسسات الحكومية التي تقدم خدمات الرعاية والتنمية للأفراد في سلطنة عمان

1-.....

الخدمات التي تقدمها

معهد عمر بن الخطاب

الخدمات التي يقدمها

خدمات التدريب والتأهيل والترفيه

2-.....  
.....  
.....

السؤال الرابع : أجب عن الأسئلة الآتية :

أولاً: أ) اكتب مثالا واحدا على المحاصيل التي يتعاون أفراد المجتمع العماني في حصادها ؟

.....

ب) فسر العبارة الآتية " تقوم المدرسة بدور مهم في تعزيز العمل الاجتماعي " ؟

.....

.....

ثانياً : أ) قارن بين السهول الرسوبية والسهول الداخلية من حيث : الموقع - مثال عليها ؟

وجه المقارنة	السهول الرسوبية	السهول الداخلية
الموقع		
المثال		

ب) اكتب أسفل كل صورة نوع المشكلة التي تواجه النباتات الطبيعية في الوطن العربي ؟



.....-2



.....-1

السؤال الثاني: أجب عما يأتي:

أولاً: عرف المفاهيم الآتية :

أ- الدلتا:

ب- مؤسسات المجتمع المدني:

ثانياً: أ) صنف العبارات الآتية في الجدول التالي الذي يمثل أنواع التربة في الوطن العربي :  
(تنتشر على منحدرات الجبال - تتركز على ضفاف الأنهار- بلاد الشام - نهر النيل)

تربة البحر المتوسط	التربة الفيضية



ب- ادرس الصورة المقابلة ثم أجب عن الأسئلة التالية:

1 - ما المشكلة التي توضحها الصورة ؟

2- أكتب اثنين من النتائج المترتبة على هذه المشكلة ؟

3- اقترح بعض الأساليب التي يمكن استخدامها لمواجهة هذه المشكلة ؟ ( يكتفى بواحد )

