

تم تحميل هذا الملف من موقع المناهج العُمانية



* للحصول على أوراق عمل لجميع الصفوف وجميع المواد اضغط هنا

<https://almanahj.com/om>

* للحصول على أوراق عمل لجميع مواد الصف الخامس اضغط هنا

<https://almanahj.com/om/5>

* للحصول على جميع أوراق الصف الخامس في مادة رياضيات ولجميع الفصول, اضغط هنا

<https://almanahj.com/om/5math>

* للحصول على أوراق عمل لجميع مواد الصف الخامس في مادة رياضيات الخاصة بالفصل الثاني اضغط هنا

<https://almanahj.com/om/5math2>

* لتحميل كتب جميع المواد في جميع الفصول للصف الخامس اضغط هنا

<https://almanahj.com/om/grade5>

* لتحميل جميع ملفات المدرس نادية المعمرية و زينب العجمية اضغط هنا

للتحدث إلى بوت على تلغرام: اضغط هنا

https://t.me/omcourse_bot

الاسم:.....

الصف:.....



سلطنة عمان

وزارة التربية والتعليم

المديرية العامة لمحافظة شمال الباطنة

اختبار قصير (٢) للفصل الدراسي الثاني للصف الخامس في مادة الرياضيات



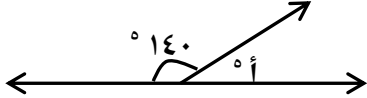
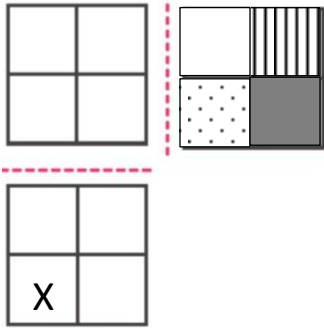

١٠

يمنع استخدام الآلة الحاسبة

الزمن: ٢٠ دقيقة

أجب عن جميع الأسئلة في المكان المخصص للإجابة.

الدرجة	المفردة	رقم المفردة									
	<p>أكمل الجدول التالي:</p> <table border="1"> <thead> <tr> <th>الفرق</th> <th>الجمع</th> <th>الأعداد</th> </tr> </thead> <tbody> <tr> <td></td> <td></td> <td>٧٥٩٢</td> </tr> <tr> <td></td> <td></td> <td>٣١٢٠</td> </tr> </tbody> </table>	الفرق	الجمع	الأعداد			٧٥٩٢			٣١٢٠	١
الفرق	الجمع	الأعداد									
		٧٥٩٢									
		٣١٢٠									
[٢]											
	<p>تفكر ميار في ناتج العملية الحسابية.</p> <p>ناتج العملية الحسابية التي تفكر فيها ميار هو [١]</p>	٢									
	<p>يستخدم باسم ٥ خرزات صفراء و ٣ خرزات بنفسجية لصناعة عقد فكم عدد الخرزات الصفراء التي يلزمه استخدامها لصناعة ٧ عقود؟</p> <p>• عدد الخرزات الصفراء ل ٧ عقود = خرزة [١]</p>	٣									
	<p>بمناسبة العيد الوطني لسلطنة عمان قامت إحدى المدارس برفع علم بلغ طوله ١٦متر وعرضه ٣ أمتار . فما مساحته؟</p> <p>مساحة العلم تساوي مترا مربع [١]</p>	٤									

	 <p>تبرع علي ب ١٥ صندوقا من العصير للمدرسة فإذا كان $\frac{3}{5}$ الصناديق بنكهة المانجو فكم صندوقا بنكهة المانجو تبرع بها علي؟</p> <p>عدد الصناديق = صندوقا [١]</p>	٥
	<p>تقويم شهر ديسمبر 2019 ميلادي</p>  <p>من التقويم المقابل أجب عن الأسئلة التالية.</p> <p>١. ما يوم الأسبوع الذي سيوافق الأول من يناير ٢٠٢٠؟ يوم</p> <p>٢. ما الفترة الزمنية بين ٢ ديسمبر إلى ١٩ ديسمبرأسبوعا وأيام</p> <p>[٢]</p>	٦
	<p>أوجد قيمة الزاوية أ في الشكل التالي:</p>  <p>قياس الزاوية أ يساوي.....</p> <p>[١]</p>	٧
	<p>سيتم عكس نمط البلاطة في خطوط المرآة.</p> <p>خط المرآة -----</p>  <p>حوط على شكل المربع الموضوع عليه علامة "X"</p>  <p>[١]</p>	٨

انتهت الأسئلة مع تمنياتنا لكم بالتوفيق والنجاح

مدرسة أمية بنت قيس

أ/ زينب العجمية

أ/ نادية المعمرية