

تم تحميل هذا الملف من موقع المناهج العمانية



*للحصول على أوراق عمل لجميع الصفوف وجميع المواد اضغط هنا

<https://almanahj.com/om>

* للحصول على أوراق عمل لجميع مواد الصف الخامس اضغط هنا

<https://almanahj.com/om/5>

* للحصول على جميع أوراق الصف الخامس في مادة رياضيات ولجميع الفصول, اضغط هنا

<https://almanahj.com/om/5math>

* للحصول على أوراق عمل لجميع مواد الصف الخامس في مادة رياضيات الخاصة بـ الفصل الأول اضغط هنا

<https://almanahj.com/om/5math1>

* لتحميل كتب جميع المواد في جميع الفصول للـ الصف الخامس اضغط هنا

<https://almanahj.com/om/grade5>

* لتحميل جميع ملفات المدرس عائشة النعيمي اضغط هنا

للتحدث إلى بوت على تلغرام: اضغط هنا

https://t.me/omcourse_bot

حقائق الأعداد العشرية

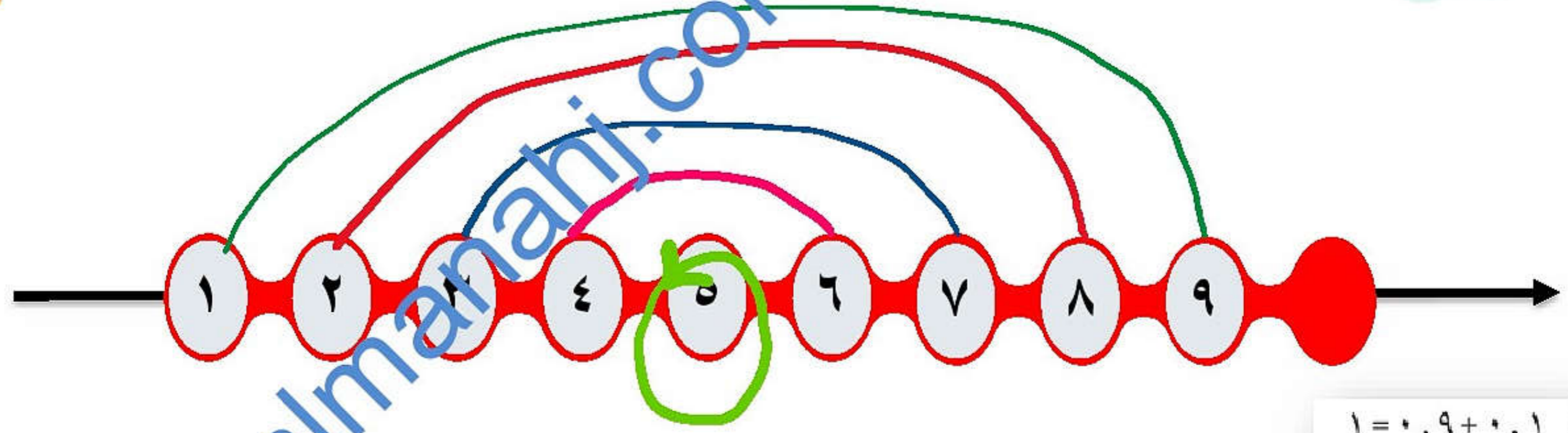
almanahj.com

ابدأ





هل تذكر أطراف العدد ١٠ ؟



$$10 = 9 + 1$$

$$10 = 8 + 2$$

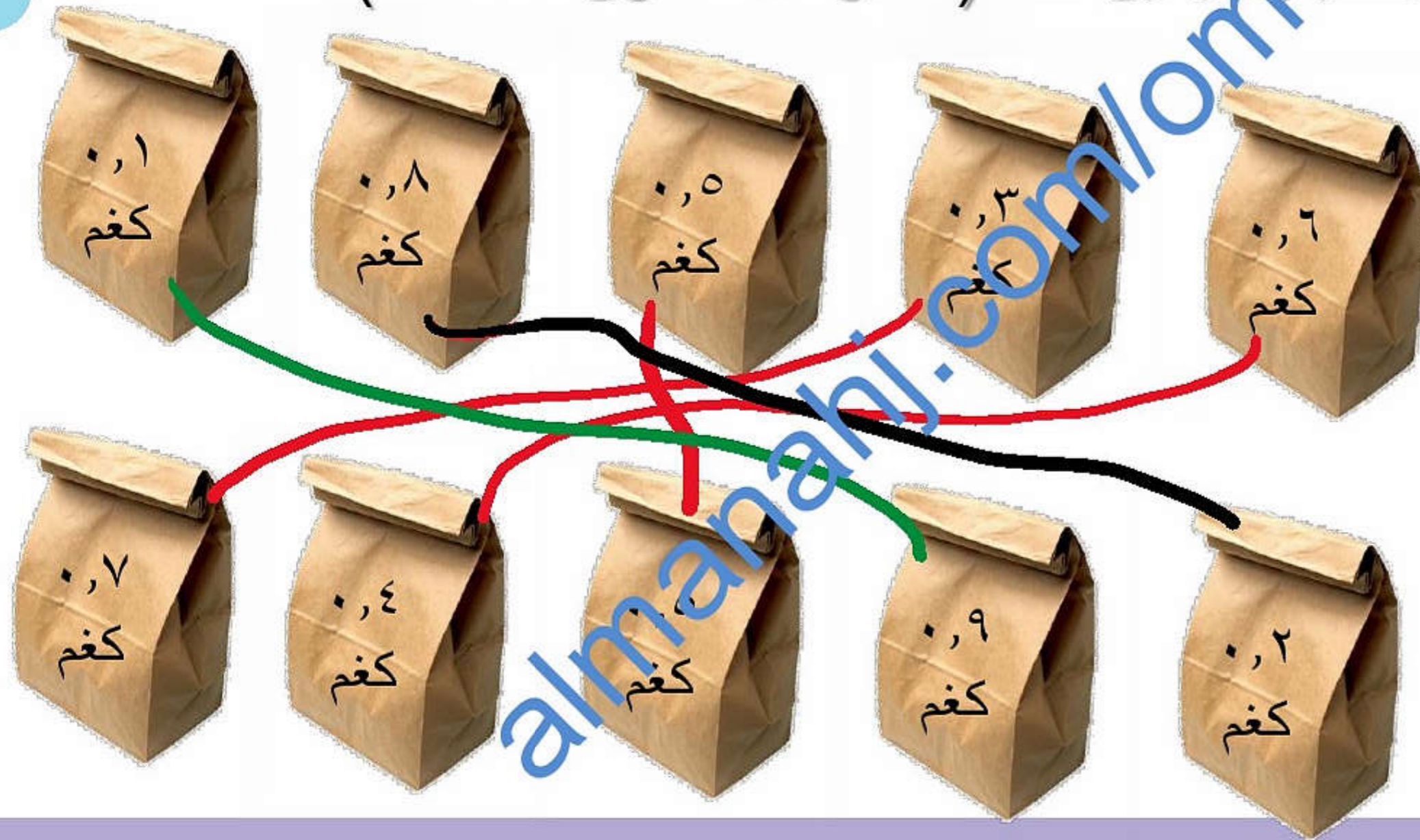
$$10 = 7 + 3$$

$$10 = 6 + 4$$

$$10 = 5 + 5$$

- $10 = 9 + 1$
- $10 = 8 + 2$
- $10 = 7 + 3$
- $10 = 6 + 4$
- $10 = 5 + 5$

ساعدني الطباخ في الحصول على كمية ١ كغم من الطحين
باختيار كيسين فقط (اذكر كل الطرق الممكنة)

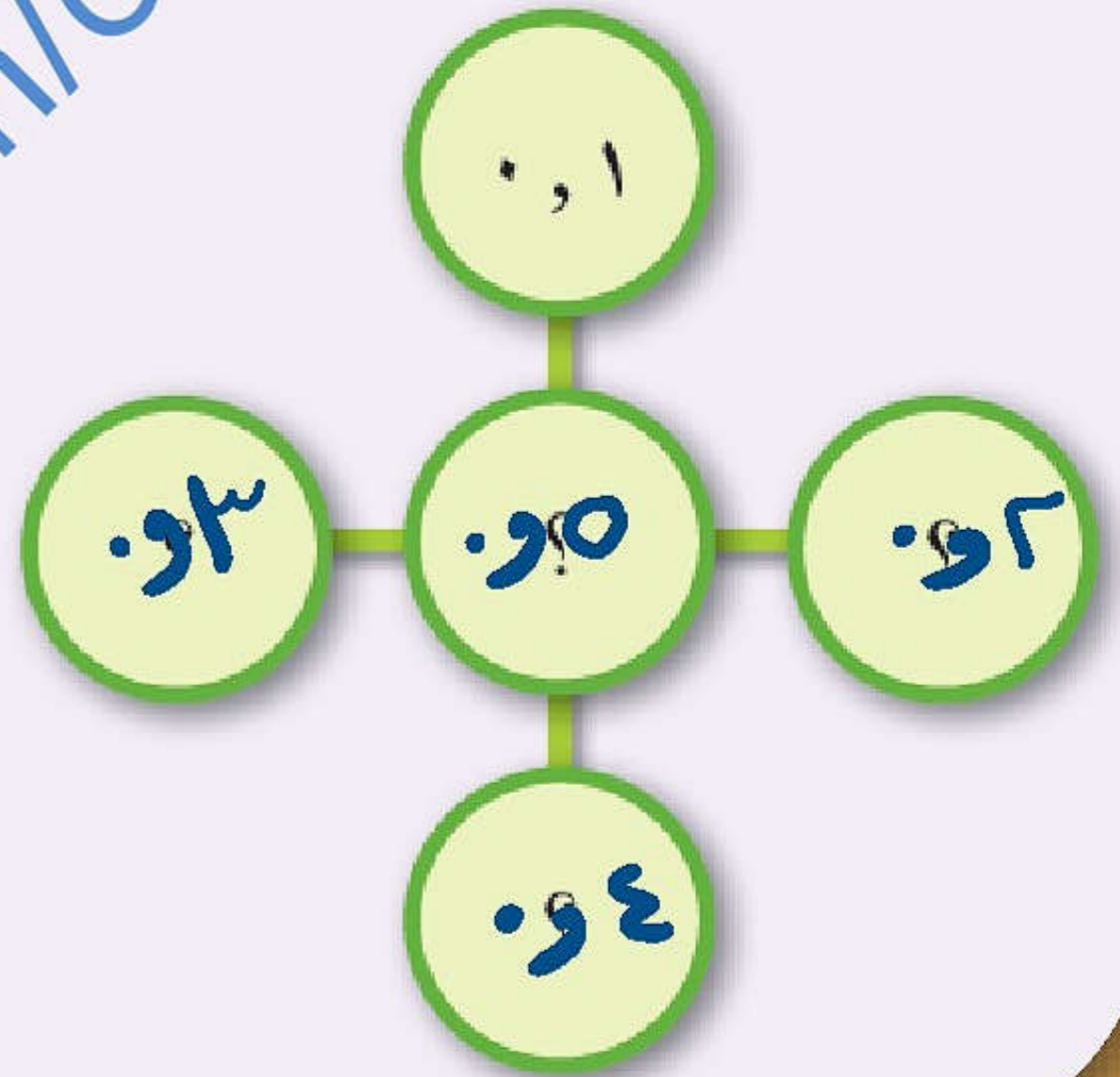


لنتكشف

انسخ المخطط الموضَّح أدناه:

ضع الأعداد ٢, ٣, ٤, ٥, ٥, ٥ في
الدوائر بحيث يكون مجموع الأعداد أفقيًا
ورأسيًا يساوي ١٠.

$$\begin{aligned} 10 &= 2 + 5 + 3 \\ 10 &= 3 + 5 + 2 \end{aligned}$$



تذكروا أن

almanahi.com/om

ساعدي الطباخ في الحصول على كمية ١٠ مل من الزيت
باختيار قنينتين فقط (اشرح كيف تفكر؟)



(١) أكمل الأعداد الناقصة:

$$١ = \boxed{?} + ٠,٧$$

٣,٠

(٢) أكمل الأعداد الناقصة:

$$١٠ = \boxed{?} + ٥,٣$$

٧,٤

$$١ = \boxed{?} + ٠,١$$

١,٠

$$١٠ = ٠,٧ + \boxed{?}$$

٩,٠

$$٠,٣ = \boxed{?} - ١$$

٠,٧

$$٣,٩ = \boxed{?} - ١٠$$

١,٠٦



(٤) (أ) ما مجموع ٦,٠ و ٤,٠؟ $٠,٦ + ٠,٤ = ١$

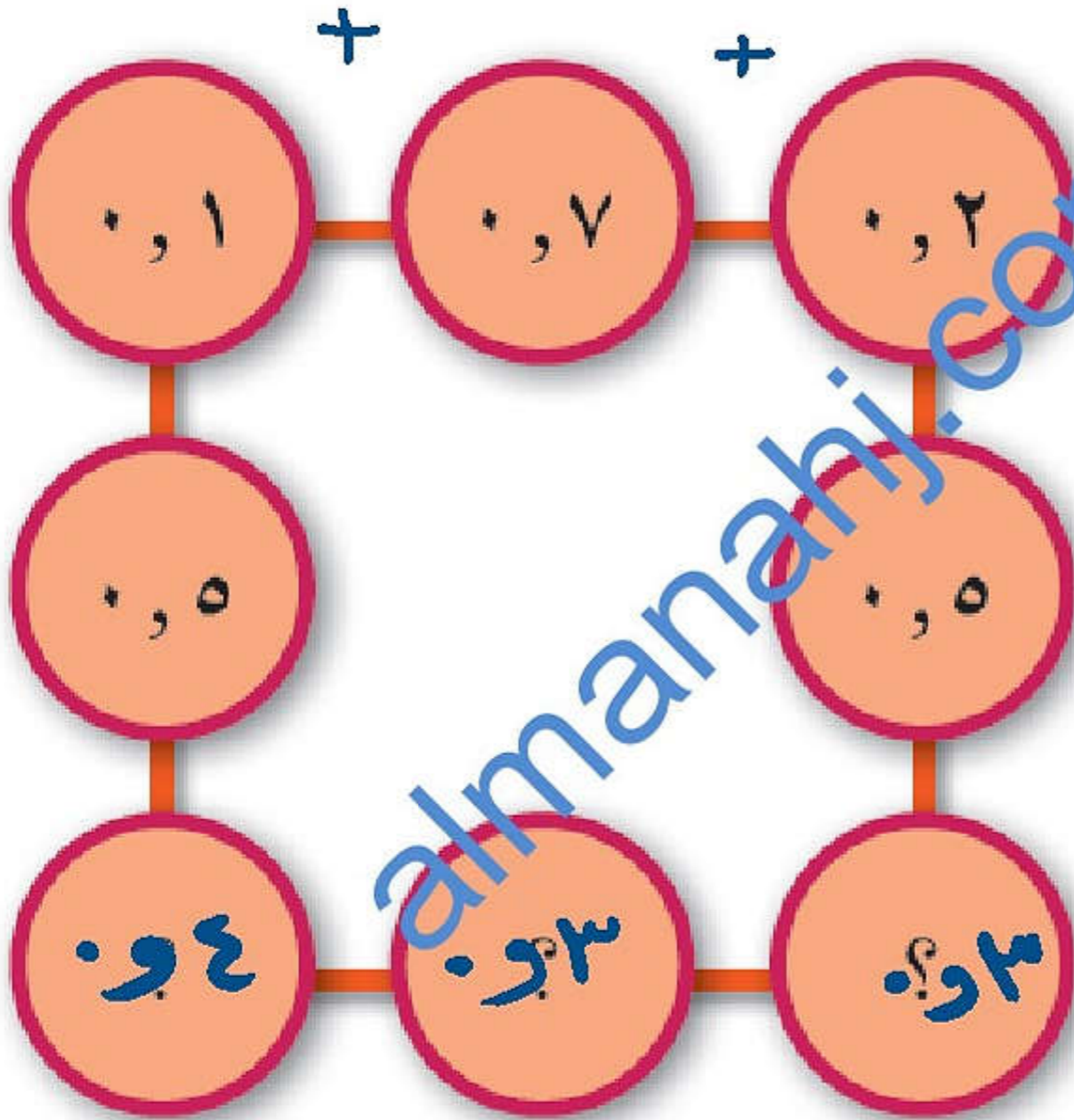
(ب) ما الفرق بين ١ و ٠,٩؟ $١ - ٠,٩ = ٠,١$

(ج) أوجد مجموع ٤,٥ و ٥,٥ $٤,٥ + ٥,٥ = ١٠$

(د) اطرح ٦,٥ من ١٠ $١٠ - ٦,٥ = ٣,٥$



٥) انسخ المخطط. اكتب عددًا في كل دائرة بحيث يكون مجموع كل صف أو عمود متساوي. **١٠**



ضع ثلاثة أعداد بحيث يكون مجموعها ١٠.

أو ١٠ أو ٦ أو ٣ + + ٥٣٠

$$١٠ + ٥ + ٤$$


وهناك حلول كثيرة

ضع ثلاثة أعداد بحيث يكون مجموعها ١٠.

$$٥ + ٤ + ١$$

٤ و ٦٣ + ٣ و ٦٥ + ٤ و ١٤

وهناك حلول كثيرة أخرى



(٣) (أ) ضع ثلاثة أعداد بحيث يكون مجموعها ١ .

$$١ = \boxed{?} , \boxed{?} + \boxed{?} , \boxed{?} + \boxed{?} , \boxed{?}$$

٢ و ٠ ، ١ و ٠ ، ٠ و ١


وهناك حلول كثيرة .

(ب) ضع ثلاثة أعداد بحيث يكون مجموعها ١٠ .

$$١٠ = \boxed{?} , \boxed{?} + \boxed{?} , \boxed{?} + \boxed{?} , \boxed{?}$$

١ و ٩ ، ٢ و ٨ ، ٣ و ٧ ، ٤ و ٦

وهناك حلول كثيرة .



(٣) ارسم خطوط لربط أزواج الأعداد التي يكون مجموعها ١٠.

٨, ٤٨	٤, ٣	٥, ٢٥	٩, ٣	٢, ٠٥
٠, ٠٦	٣, ٨٣	٦, ٣٨	٥, ٧	٦, ١٧
٦, ٧	٠, ٧	٧, ٩٥	٠, ٢٢	٣, ٣
٩, ٩٤	٧, ٥٩	١, ٨٨	١, ٥٢	٣, ٦٢
٤, ٧٥	٢, ٢٢	٢, ٤١	٣, ٧٣	٧, ٧٨

حرفاً العدد

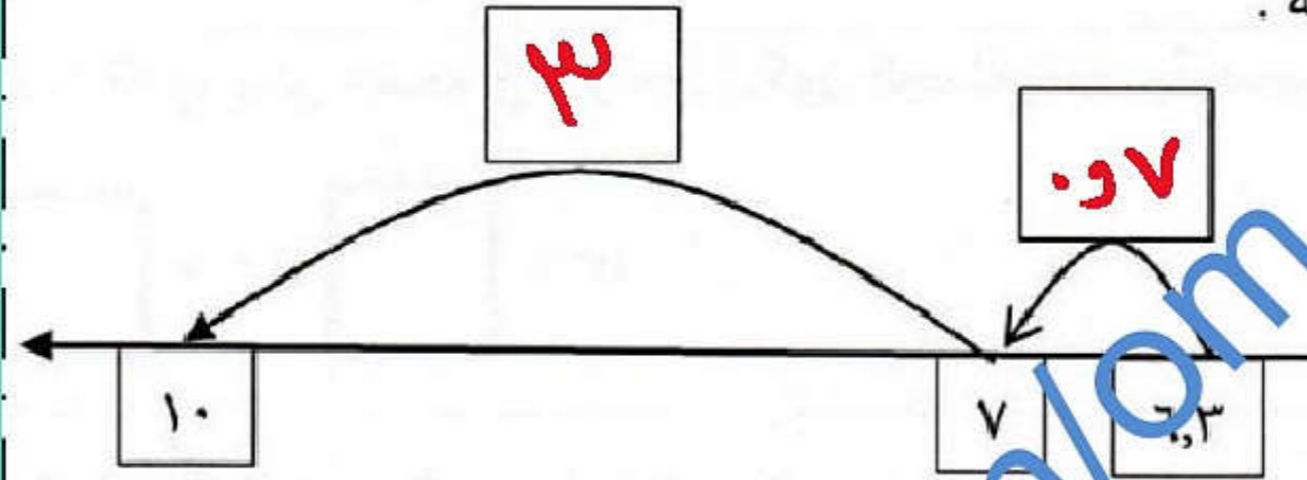
$$\begin{array}{r} \textcircled{1} \quad \textcircled{1} \\ ٨ \text{ و } ٨٨ \\ ٨ \text{ و } ٨٨ + \\ \hline ١٧ \text{ و } ٧٦ \end{array}$$

النظم الانتخابية
الانتخابية

almanabji.com/om

٢٣٣) اكتب الاعداد المناسبة في المربعات الفارغة .

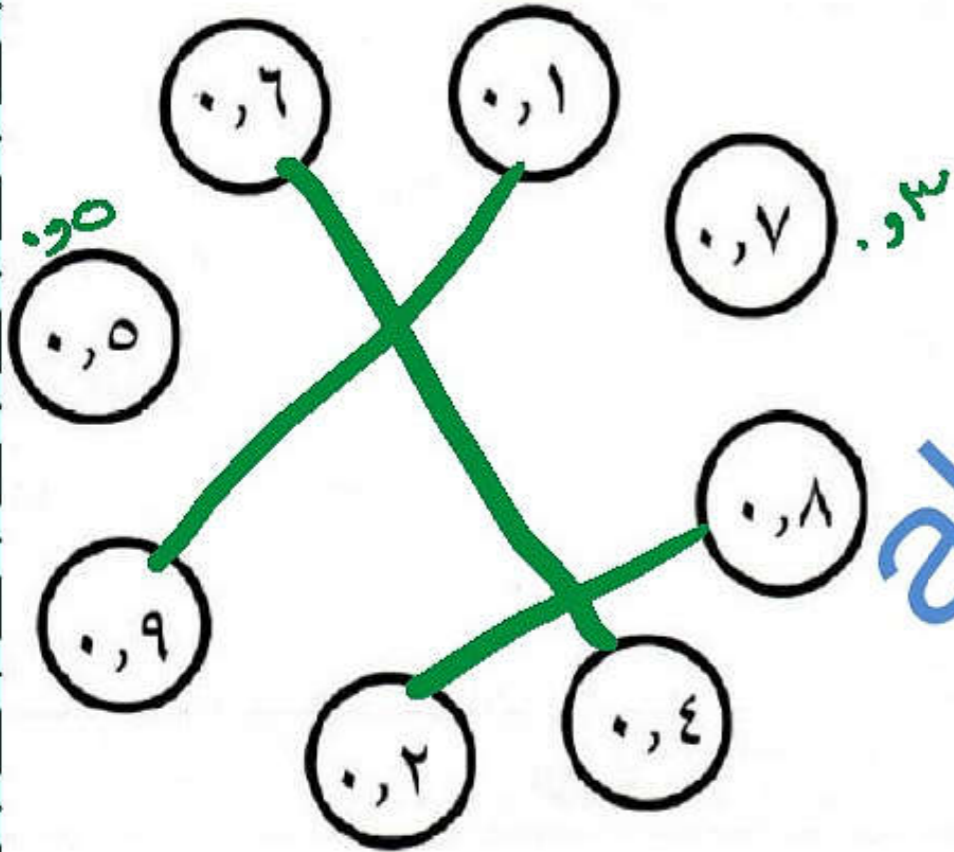
(نهائي سادس ٢٠٢٠م)



$$10 = \boxed{7.3} + 6.3$$

٢٣٤) صل بخط بين كل عددين مجموعهما يساوي ١٠

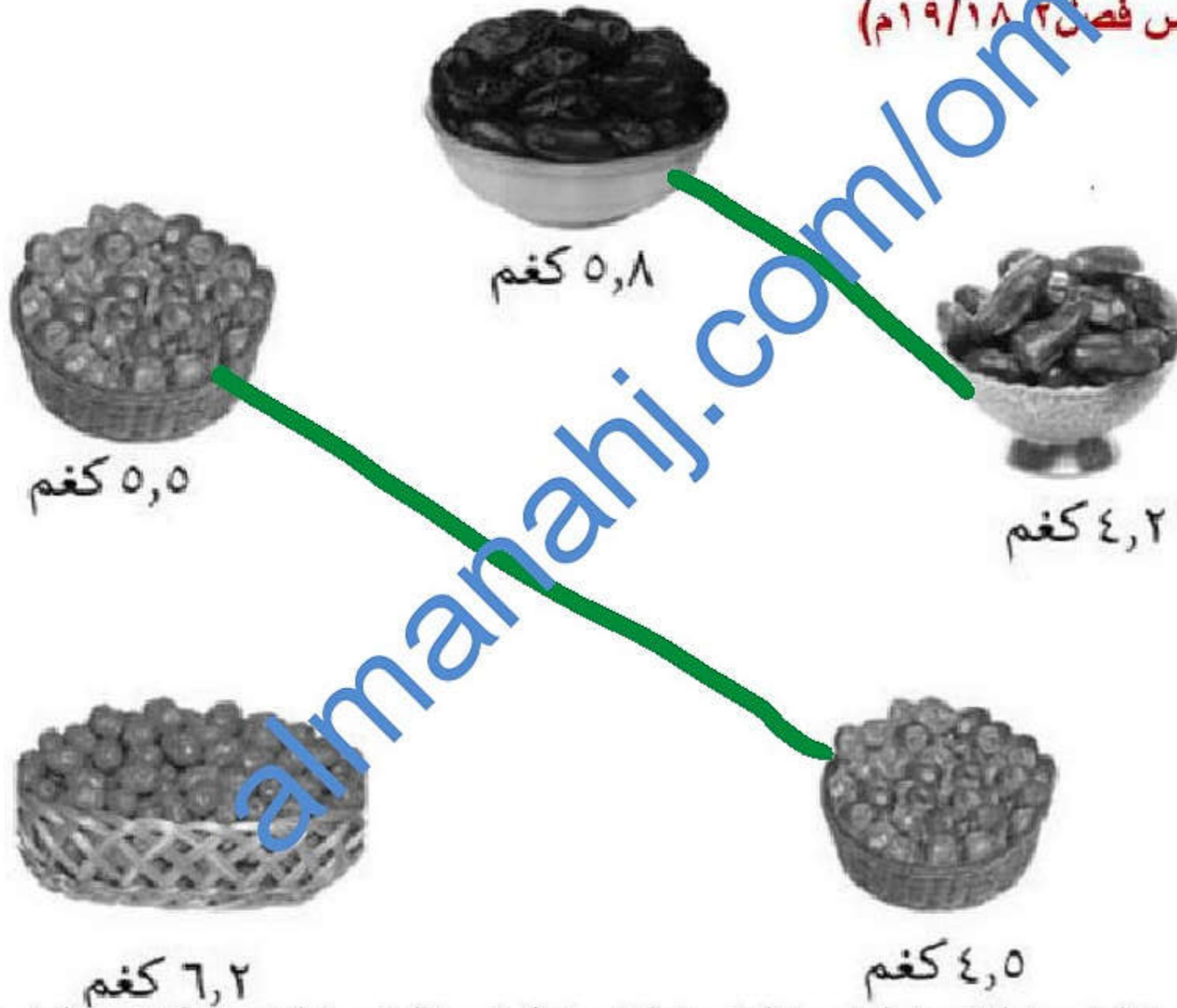
(نهائي سادس ٢٠٢٠م)



الإجابات

٢٣٥) صل بين سلال التمر التي يكون مجموعها ١٠ كغم.

(نهائي خامس فصل ٢٠١٨/١٩م)



٨ و ٢



almanahj.com/om

