

شكراً لتحميلك هذا الملف من موقع المناهج العمانية



ملخص شامل للمادة من مذكرة المتميز

[موقع المناهج](#) ← [المناهج العمانية](#) ← [الصف الخامس](#) ← [اجتماعيات](#) ← [الفصل الأول](#) ← [الملف](#)

تاريخ نشر الملف على موقع المناهج: 2023-11-13 08:45:49 | اسم المدرس: مريم السيد الشحي وأمنة المقبالي

التواصل الاجتماعي بحسب الصف الخامس



روابط مواد الصف الخامس على تلغرام

[الرياضيات](#)

[اللغة الانجليزية](#)

[اللغة العربية](#)

[التربية الاسلامية](#)

المزيد من الملفات بحسب الصف الخامس والمادة اجتماعيات في الفصل الأول

ملخص شرح درس ملامح من حياة العمانيين قبل الإسلام	1
ملخص درس الموقع الفلكي مع الحل	2
اختبار قصير أول نموذج ثالث	3
اختبار قصير أول نموذج ثاني	4
اختبار قصير أول نموذج حديث	5



التميز للصف الخامس في



الاسم:

الصف:

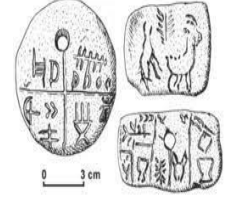
المادة:

الوحدة
الأولى



عِلْمُ الْخَرَائِطِ..
التَّطَوُّرُ التَّارِيخِيُّ
وَإِحْدَاثِيَّاتُ الْمَوْقِعِ

الأنشطة الصفية



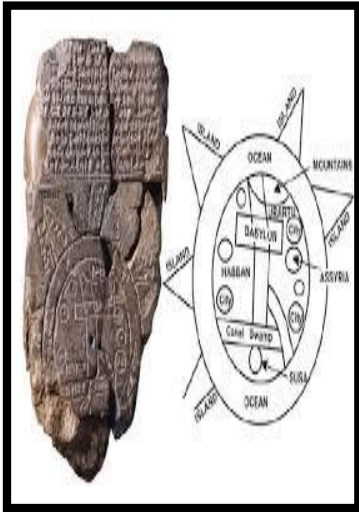
١- أمامك مجموعة من الصور تمثل خرائط مختلفة تعود الى فترات تاريخية مختلفة ، ادرسيها جيدا ومن ثم اجيبي على الأسئلة التالية :

أ/ اكتبي اسفل كل شكل المادة التي رسمت بها ؟

ب/ استنتجي كيف كانت الشعوب تستخدم الخرائط قديما ؟

ج/ يطلق على العلم الذي يهتم برسم الخرائط وصناعاتها ب

٢- اكمل بيانات الجدول المتعلقة بالشكل المقابل :



	اسم الحضارة التي رسمت الخريطة
	نوع الخرائط المرسومة
	الهدف من رسمها
	المادة التي رسمت بها

عنوان الدرس: التاريخ:\.....\.....

المفاهيم:

الضرائب اوراق البردى

العناصر

- ١- ما هي أغراض رسم الخرائط عند المصريين؟
- ٢- عددي الأدوات التي رسمت عليها الخرائط عند المصريين.
- ٣- حللي النص الوارد في الكتاب المدرسي بعد قراءته قراءه جهريه.
- ٤- ماذا تعرفين عن الخرائط الاغريقية؟

الواجب المنزلي

.....

.....

.....

.....

.....

.....

.....

.....


.....

.....

.....

الانشطة الصفية

١- ضعي دائرة على الدولة التي قامت بها الحضارة الفرعونية؟



٢- ما نوع الورق الذي كان يرسم عليه
المصريون القدماء خرائطهم كما هو
واضح بالشكل المقابل؟

.....

٣- علي / لم يتم العثور على خرائط العالم
التي رسمها المصريون قديما؟

.....

.....

عنوان الدرس: التاريخ:\.....\.....

المفاهيم:

تعريب العلوم المسعودي الادريسي

العناصر

- ١-صممي مخطط مفاهيمي للعوامل التي أسهمت في تطور علم الخرائط عند المسلمين.
- ٢-اذكري أمثله على الجغرافيون المسلمون الذين اسهموا في تطور علم الخرائط.
- ٣-ما هي مميزات خرائط المسلمين؟
- ٤-وضحي مدى اهتمام السلطنة بخريطة الادريسي .

الواجب المنزلي

.....

.....

.....

.....

.....

.....

.....

.....

.....

.....

.....

الانشطة الصفية

١- أمامك خريطة تمثل العالم القديم ، ادرسيها جيدا ومن ثم اجيبي على الأسئلة التالية :



(أ) ما اسم العالم الذي قام برسم الخريطة ؟

.....

(ب) وقعي على الخريطة الاتجاهات الأربعة كما رسمها العالم قديما ؟

.....

(ج) عددي أهم القارات الواضحة بالخريطة؟

.....

٢- عددي العوامل التي أسهمت في تطور علم الخرائط عند المسلمين ؟

..... •

..... •

عنوان الدرس: التاريخ:\.....\.....

المفاهيم:

الاوربيون \ التقنيات الحديثه

العناصر

١- وضح جهود الاوربيون في رسم الخرائط.

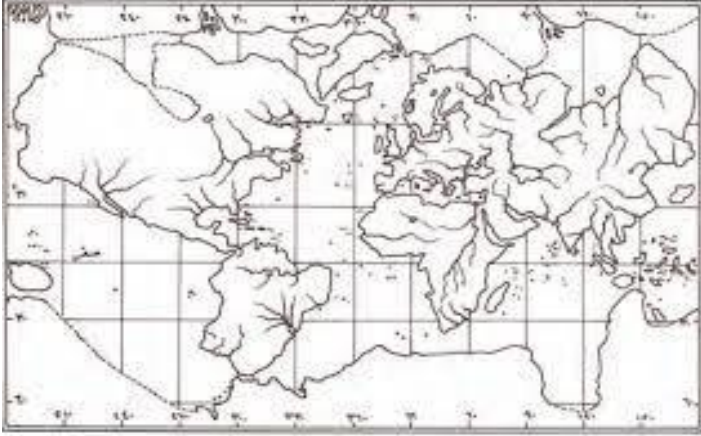
٢- بماذا تتميز خرائط الاوربيون ؟

٣- ما هي العوامل التي أسهمت في تطور علم الخرائط في الوقت الراهن؟

الواجب المنزلي

.....
.....
.....
.....
.....
.....
.....
.....
.....
.....
.....

الانشطه الصفيه



١- أكمل العبارات التالية بما يناسبها :
(أ) استفاد الأوروبيين من الفكر

.....

(ب) تميزت الخرائط الأوروبية

ب.....

(٢) اربطي بين السبب والنتيجة من خلال المعطيات التالية :

تطور علم الخرائط - نظام تحديد المواقع العالمي - تمثيل الظواهر الطبيعية والبشرية رقميا - ظهور التقنيات الحديثة .

السبب	النتيجة

ملخص الدرس ١

- الخريطة : علم يهتم بفن رسم الخرائط وصناعتها .
- المواد التي رسمت عليها : الرمال - الجلود - الحجارة - الصلصال .
- سبب رسمها : لتوضيح الطرق والاتجاهات التي يسلكونها .

التطور التاريخي لعلم الخرائط

البابليون	المصريون	الاعريق	المسلمون	الاوروبيون
<ul style="list-style-type: none"> • من أوائل الشعوب التي رسمت خرائط تفصيلية لسهل العراق . • نقشوا خرائطهم على الصلصال المحروق . • الهدف من الرسم تقديرا للظرائب على الأراضي الزراعية . 	<ul style="list-style-type: none"> • رسم المصريون الخرائط الزراعية لتوضيح المساحات التفصيلية . • رسموا خرائطهم على ورق البردي . • وضحوا في خرائطهم مواضع المناجم والطرق المؤدية لها وأهم المعادن . • لم يتم العثور على خرائط مصرية لأنها رسمت على ورق البردي وهي مادة سريعة التلف . 	<ul style="list-style-type: none"> • اشتملت الخرائط الاغريقية على قارات العالم . • وضع الرومان على خرائطهم خطوط الطول ودوائر العرض . 	<ul style="list-style-type: none"> • ساهمت عوامل عديدة في تطور الخرائط عند المسلمين منها: (أ) ارتباط العديد من العبادات بتحديد الوقت والاتجاهات . • (ب) ازدهار النشاط التجاري . • (ت) اتساع مساحة الدولة الإسلامية . • (ث) تعريب العلوم . • اهم العلماء المسلمين : الادريسي والمسعودي . • تميزت خرائطهم بالدقة والألوان والخطوط والأشكال الهندسية . 	<ul style="list-style-type: none"> • استفاد الأوروبيين من الفكر الإسلامي . • تميزت خرائطهم بالدقة في الاتجاهات .

عنوان الدرس: التاريخ:\.....\.....

المفاهيم:

خطوط الطول ودوائر العرض

العناصر

- ١- عرفي المقصود بخطوط الطول .
- ٢- ارسمي شكلا توضيحيا في دفترك لخطوط الطول.
- ٣- ما المقصود بدوائر العرض؟
- ٤- ما الفرق بين خطوط الطول ودوائر العرض من خلال الرسم امامك.

الواجب المنزلي

.....

.....

.....

.....

.....

.....

.....

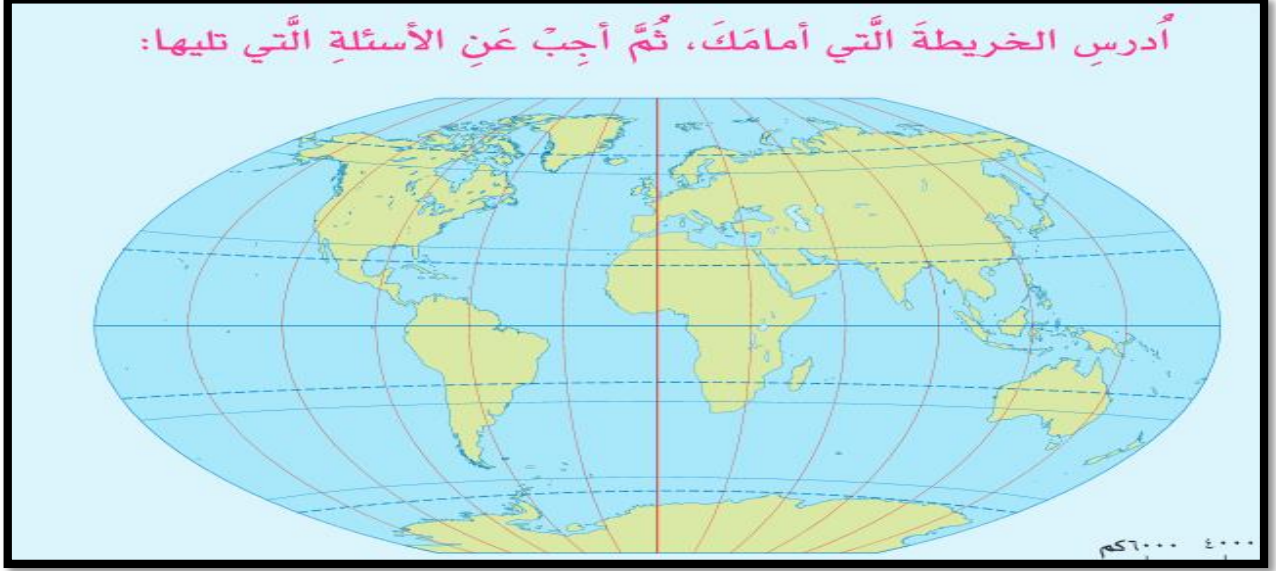
.....

.....

.....

الأنشطة الصفية

أدرِسِ الخَريطَةَ الَّتِي أَمَامَكَ، ثُمَّ أَجِبْ عَنِ الأَسئَلَةِ الَّتِي تَلِيهَا:



١- اكتبِي على الخَريطَه كَلا من :

-خط الطول الرئيسي

-دائرة العرض الرئيسي

٢- ما المقصود بكلا من :

- خطوط الطول

.....

.....

- دوائر العرض

.....

.....

٣- يقسم خط الطول الرئيسي الكرة الأرضية إلى قسمين هما القسم والقسم
بينما تقسم دائرة العرض الرئيسية الكرة الأرضية إلى هما القسم
والقسم.....

عنوان الدرس: التاريخ:\.....\.....

المفاهيم:

خطوط الطول ودوائر العرض

العناصر

- ١- اذكر خصائص خطوط الطول.
- ٢- صمم مخطط مفاهيمي لخصائص دوائر العرض.
- ٣- فسري تسمية خطوط الطول ودوائر العرض بهذا الاسم.

الواجب المنزلي

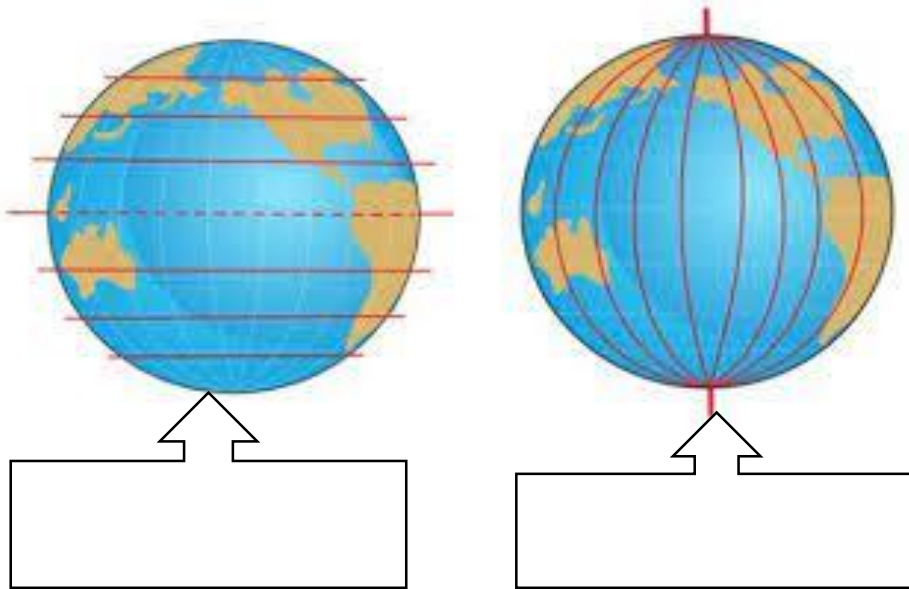
.....
.....
.....
.....
.....
.....
.....
.....
.....
.....
.....

الأنشطة الصفية

١- صفي العبارات التالية والتي تمثل خصائص خطوط الطول ودوائر العرض في مواقعها الصحيحة:
الخط الرئيسي يسمى خط جرينيتش - الدائرة الرئيسية تسمى دائرة الاستواء - عددها ٣٦٠ خطا
- عددها ١٨٠ دائرة .

دوائر العرض	خطوط الطول

٢- اكتب أسفل الشكل ايهما يمثل خطوط الطول ودوائر العرض ؟



عنوان الدرس: التاريخ:\.....\.....

المفاهيم:

التوقيت الزمني \ المواقع \ المناطق الحرارية

العناصر

- ١- وضح أهمية خطوط الطول ودوائر العرض.
- ٢- اذكر كم يبلغ الفرق بين كل خط طول والذي يليه
- ٣- إذا كانت الساعة ال ٦ صباحا على خط غرينتش فكم الساعة في مسقط والتي تبعد ٦٠ خطا شرق خط غرينتش وفي مدينة برازيليا الواقعة على خط ٥٤ غرب خط غرينتش.
- ٤- ماذا تعرفين عن الملاح احمد بن ماجد ؟

الواجب المنزلي

.....

.....

.....

.....

.....

.....

.....


.....

.....

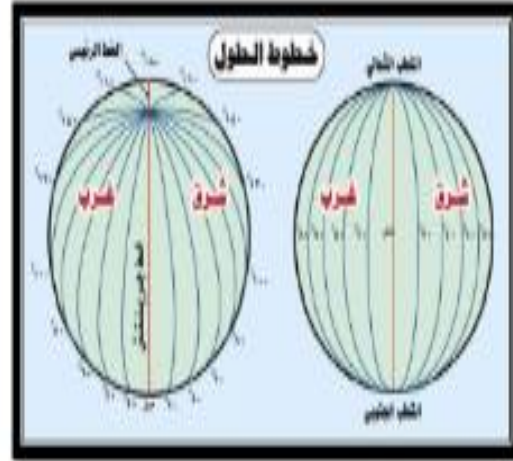
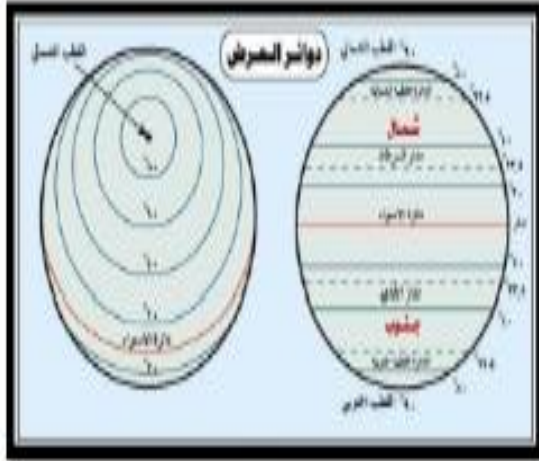
.....

الأنشطة الصفية

- ١- ارسمي على شكل الكرة الأرضية خطوط الطول دوائر العرض الرئيسية ، ثم اكتبى البيانات التالية :
(الغرب - الشرق - مدار السرطان - مدار الجدي - خط جرينيتش - دائرة الاستواء)



ملخص الدرس ٢



وجه المقارنة	خطوط الطول	دوائر العرض
المفهوم	عبارة عن خطوط وهمية على شكل أنصاف دوائر تتلاقى جميعها عند نقطتي القطبين، وهي متساوية في أطوالها وغير متوازية.	عبارة عن خطوط وهمية ترسم على نموذج الكرة الأرضية، تبدو على شكل (دوائر تامة الاستدارة)
الخط الرئيسي	خط الطول الأساسي هو (خط جرينتش) وهو يمر بضامية جرينتش قرب لندن، ودرجته صفر. ينطبق خطاً طول 180 شرقاً وغرباً ليكون خطاً واحد يعرف باسم (خط التاريخ الدولي).	خط العرض الأساسي هو (خط الاستواء) ودرجته صفر
العدد	✓ عددها 360 خط طول. خطوط الطول إلى 180 خطاً شرقي جرينتش و 180 خطاً غرب جرينتش.	✓ عددها 180 دائرة. سها 90 دائرة في شمال خط الاستواء، و 90 دائرة في جنوبه.
ملاحظة	✓ تحديد المواقع بالنسبة لشرق وغرب خط جرينتش. ✓ تحديد الزمن وتحديد فروق الوقت بين الأماكن.	✓ تحديد المواقع بالنسبة لجنوب أو شمال خط الاستواء. ✓ تقيد في التعرف على المناخ وأنواعه.

عنوان الدرس: التاريخ:\.....\.....

المفاهيم:

الموقع الفلكي | الاحداثيات الجغرافيه

العناصر

١- عرفي الموقع الفلكي

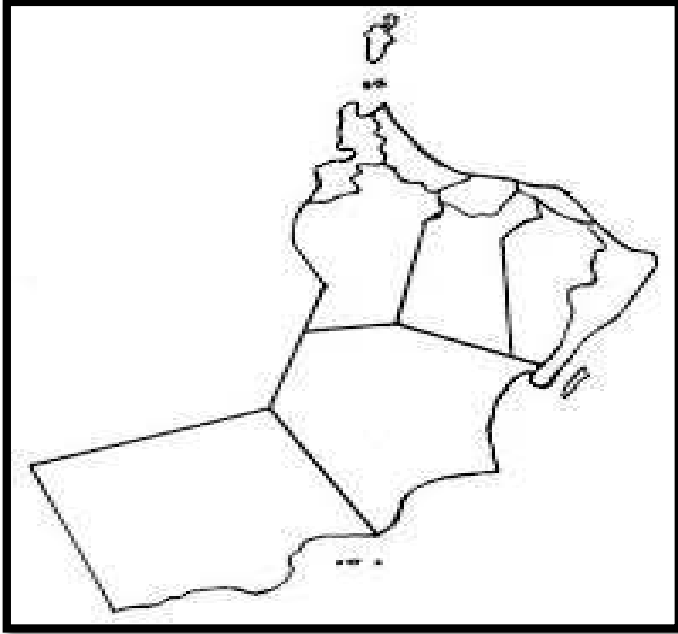
٢- كيف يمكن تحديد المواقع على الأرض بدقه عاليه.

٣- عددي صيغ كتابة الاحداثيات الجغرافيه؟

الواجب المنزلي

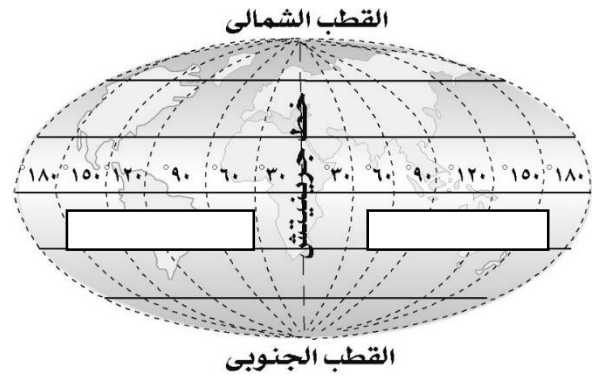
.....
.....
.....
.....
.....
.....
.....
.....
.....
.....

الأنشطة الصفية



١- أمامك خريطة صماء لسلطنة عمان ،
وقعي عليها الاتجاهات الأربعة ؟

٢- ضعي الجهات التالية في مكانها الصحيح على الرسم الذي أمامك:
(غرب - شمال - شرق - جنوب)



عنوان الدرس: التاريخ:\.....\.....

المفاهيم:

الموقع الفلكي

العناصر

- ١- حددي موقع سلطنة عمان على خريطة شبه الجزيرة العربية
- ٢- رتبي دول شبه الجزيرة العربية من حيث المساحة.
- ٣- استخرجي من خريطة سلطنة عمان الامتداد الفلكي لسلطنته.
- ٤- فسري أهمية معرفة الموقع الفلكي لاي دولة في العالم .

الواجب المنزلي

.....
.....
.....
.....
.....
.....
.....
.....
.....
.....

الأنشطة الصفية

١- امامك خريطة لشبه الجزيرة العربية ، ادرسيها جيدا ومن ثم اجيبي على الأسئلة التي تليها :



- ضعي دائرة على ثالث أكبر دولة في شبه الجزيرة العربية من حيث المساحة ؟
- استخرجي من الخريطة الدولة التي تحتل المركز الأول من حيث المساحة ؟.....
- اشيري بسهم الى الدولة التي تتل المركز الثاني من حيث المساحة في شبه الجزيرة العربية.

عنوان الدرس: التاريخ:\.....\.....

المفاهيم:

جهاز تحديد المواقع العالمي

العناصر

١- ما هي الدولة التي بدأت في استخدام جهاز تحديد المواقع العالمي؟

٢- عرفي المقصود بجهاز تحديد المواقع العالمي.

٣- استنتجي العوامل المؤثرة في عمل جهاز تحديد المواقع العالمي.

٤- كيف استطاع الانسان قديما معرفة المواقع والاتجاهات؟

الواجب المنزلي

.....
.....
.....
.....
.....
.....
.....
.....
.....
.....

الأنشطة الصفية

١- أمامك شكلا يوضح أحد الأجهزة التي تعمل وفق نظام عالمي ، ادرسيه جيدا ومن ثم اجيبي على الأسئلة التي تليه :

• ما اسم الجهاز ؟

.....

• عددي أهم استخداماته ؟

.....

• اذكرى اهم العوامل التي تؤثر على دقة رصد الجهاز ؟

..... (أ)

.....(ب)

.....(ج)



ملخص الدرس ٣

الموقع الجغرافي

الموقع بالنسبة للبحار والدول المجاورة لها

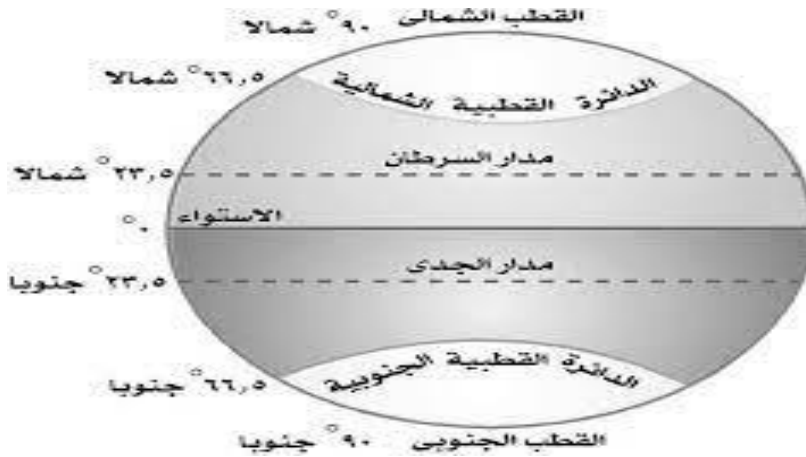
الموقع الفلكي

الموقع بالنسبة لخطوط الطول ودوائر العرض

- ترتيب الدول من حيث المساحة :
الأول : السعودية
الثاني : اليمن
الثالث : سلطنة عمان

- نظام (GPS): هو اختصار لعبارة (Global Positioning System) والتي تعني نظام تحديد الموقع العالمي، ونظام تحديد المواقع هو نظام ملاحية عبر الأقمار الصناعية يُستخدم لتحديد مواقع الأجسام على الأرض. وأول من استخدم هذه التقنية هي وزارة الدفاع الأمريكية في فترة الستينيات لأغراض عسكرية ثم ما لبثت أن استُخدمت في المجالات المدنية خلال العقود القليلة التالية.

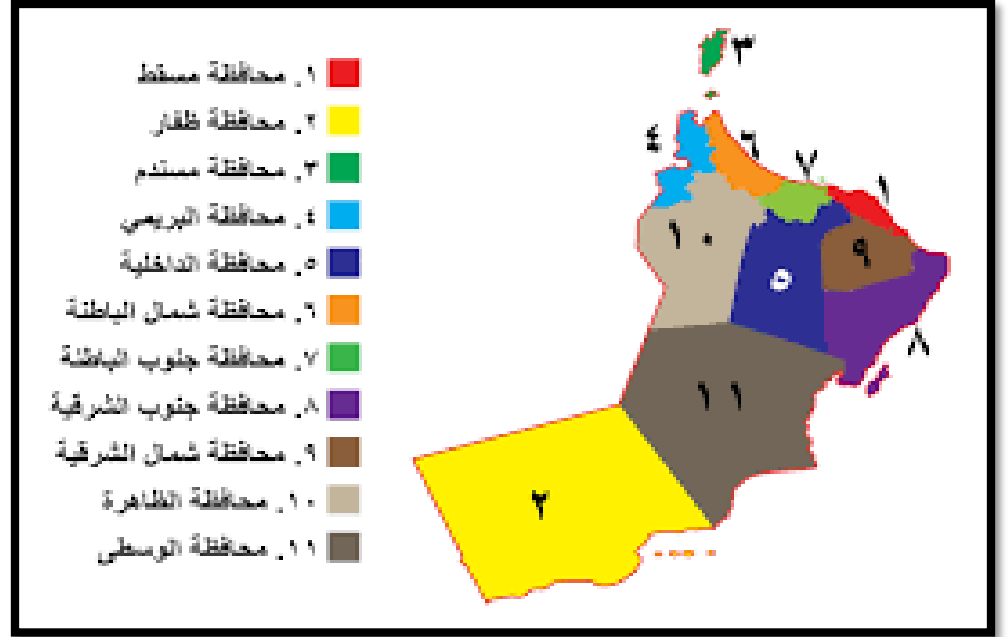
- العوامل المؤثرة في دقة رصد الجهاز :
أ) المباني العالية
ب) الأشجار
ت) الجبال
• أهم الدوائر العرضية :



إعداد: ذ. مريم السيد الشحي ١ ذ. آمنه المقبالي



• تمثل الخريطة التي أمامك التقسيم الإداري لسلطنة عمان ، تعرفي عليها ومن ثم وقي على الخريطة الصماء الألوان الخاصة بكل محافظة



الوَحْدَةُ
الثَّانِيَّةُ



شِبْهُ الْجَزِيرَةِ
العَرَبِيَّةِ وَعُمَانُ
قَبْلَ الْإِسْلَامِ

عنوان الدرس: التاريخ:\.....\.....

المفاهيم:

الحياه السياسيه | ممالك | القبيله

العناصر

- ١- حددي على الخريطه موقع كلا من عمان واليمن .
- ٢- ما هي أنظمة الحكم السائده في شبه الجزيره العربيه قبل الإسلام؟.
- ٣- صفي العلاقات بين مناطق شبه الجزيره العربيه قبل الإسلام.
- ٤- ماذا تعرفين عن عز بن معولہ بن شمس؟

الواجب المنزلي

.....

.....

.....

.....

.....

.....

.....

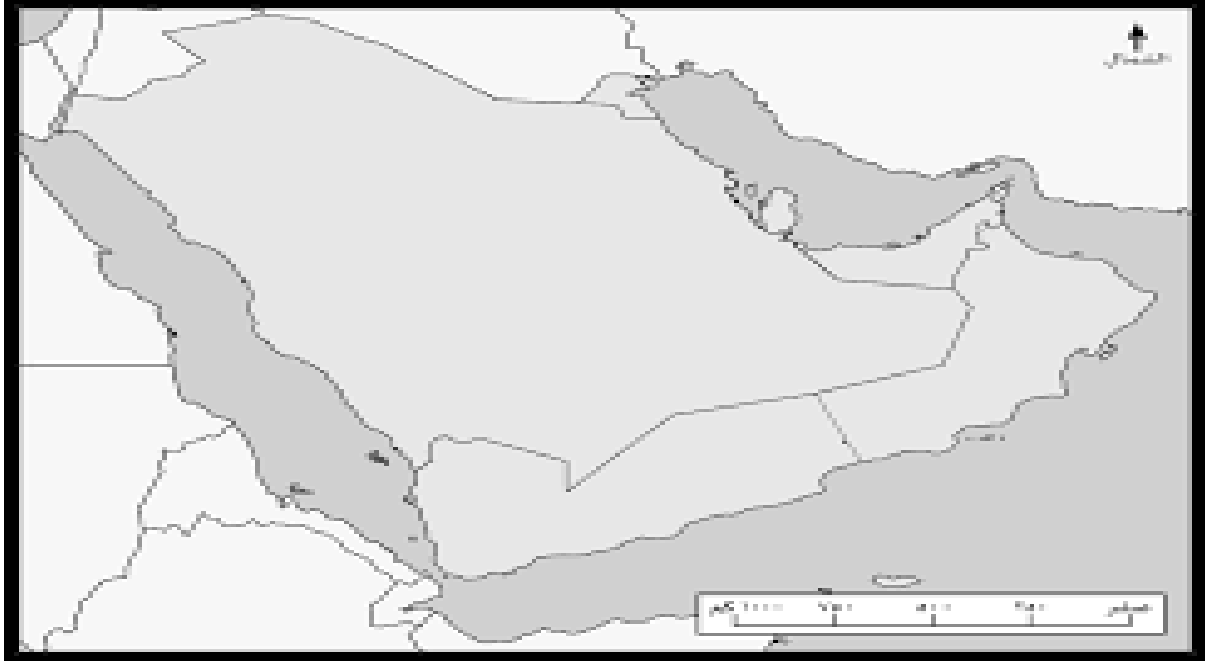
.....

.....

.....

الأنشطة الصفية

١- من خلال دراستك لاحوال العرب قبل الإسلام في شبه الجزيرة العربية ، ادرسي الخريطة التالية ومن ثم وقي عليها كلا من :



- (أ) اليمن
- (ب) عمان
- (ت) موقع حكم قبيلة قريش

عنوان الدرس: التاريخ:\.....\.....

المفاهيم:

التجاره | الواحات الرعي النسيج

العناصر

- ١- صممي مخطط مفاهيمي للانشطه الاقتصاديه في شبه الجزيره العربيه قبل الإسلام.
- ٢- حددي على الخريطه المناطق التي تم فيها ممارسة نشاط الزراعه في شبه الجزيره العربيه قبل الاسلام.
- ٣- عددي بعض الصناعات القديمه عند العرب قبل الإسلام .
- ٤- فسري تنوع الانشطه الاقتصاديه في شبه الجزيره العربيه قبل الإسلام.

الواجب المنزلي

.....

.....

.....

.....

.....

.....

.....

.....

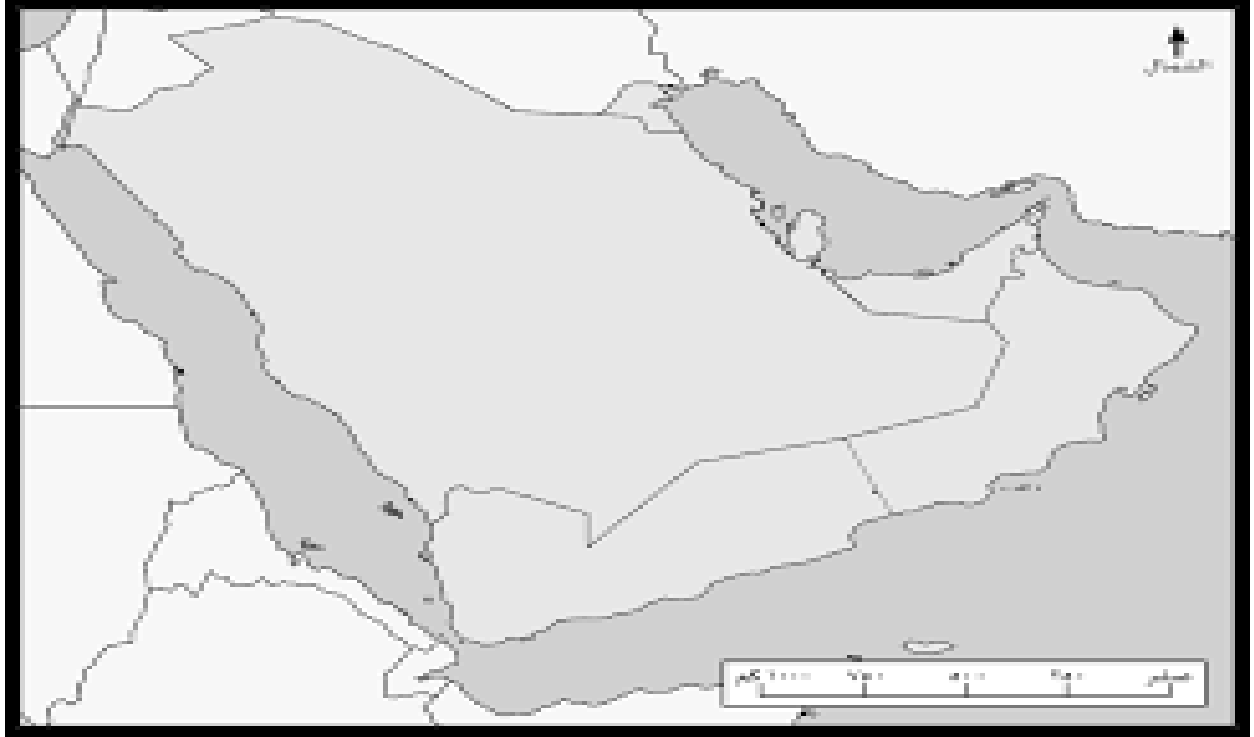
.....

.....

الأنشطة الصفية

- ١- أكمل العبارات التالية بما يناسبها :
- مارس سكان شبه الجزيرة العربية التجارة وهي تنقسم الىو.....
 - دلي على استخدام العرب مواد البينة في الصناعة قديما .
-

- ٢- وقعي على الخريطة أهم المناطق التي مارست حرفة الزراعة قبل الإسلام ؟



عنوان الدرس: التاريخ:\.....\.....

المفاهيم:

الأوثان | القرابين | اليهوديه | النصرانيه

العناصر

- ١- صممي مخطط مفاهيمي للعبادات الموجوده في شبه الجزيره العربيه قبل الاسلام.
- ٢- اذكر مميزات العرب الفكريه.
- ٣- ما هي العلول التي برع فيها العرب قبل الإسلام؟
- ٤- من هي الشخصيه العمانيه التي اشتهرت بالفصاحه والبلاغه قبل الإسلام؟

الواجب المنزلي

.....
.....
.....
.....
.....
.....
.....
.....
.....
.....
.....

الأنشطة الصفية

١- اختاري الإجابة الصحيحة من بين البدائل المعطاه :

١- تميز العرب قديما بالفصاحة وبلاغة اللسان فعرفوا :

أ-الرسم ب- الشعر ج-الطبخ د- الرياضة

٢- شخصية مشهورة يضرب بها المثل بالطب قديما :

أ-الادريسي ب-المسعودي ج-الاصطخري د- ابن حذيم

٣- خطيب عاش قبل الإسلام وكان مشهورا بالفصاحة :

أ-ابن حذيم ب- ابن بطوطة ج-ابن ثعلبة د- مصقلة بن رقية



٢- من خلال الشكل الذي امامك ،
فسري وجود الاصنام حول الكعبة ؟

.....
.....
.....

عنوان الدرس: التاريخ:\.....\.....

المفاهيم:

البدو | الحضرة | الواحات | المدن | القرى

العناصر

- ١- صممي مخطط مفاهيمي لانماط الحياه الاجتماعيه في شبه الجزيره العربيه قبل الاسلام.
- ٢- عددي اهم الدول والممالك التي كانت موجوده في شبه الجزيره العربيه قبل الاسلام.
- ٣- حددي على الخريطه اهم الدول التي جاورت شبه الجزيره العربيه.

الواجب المنزلي

.....

.....

.....

.....

.....

.....

.....

.....

.....

.....

الأنشطة الصفية

١ - قارني بين نمط البداوة والنمط الحضري من حيث :

الحياة الحضرية	الحياة البدوية	
		
		المفهوم
		نوع المسكن
		النشاط الاقتصادي



- أمامك خريطة للحضارات في شبه الجزيرة العربية ، ادرسيها جيدا ومن ثم اجيبي على الأسئلة التي تليها

- عددي أهم الممالك التي قامت في اليمن ؟
- ضعي دائرة على بلاد فارس ؟ وبماذا تسمى حاليا ؟
- ما هي الدولة التي كان يحكمها مالك بن فهم وأولاده ؟

ملخص الدرس ١

● أحوال العرب قبل الإسلام

الحياة الاجتماعية			الحياة الدينية والفكرية	الحياة الاقتصادية	الحياة السياسية
الحياة الحضرية	الحياة البدوية		<ul style="list-style-type: none"> ● عرف سكان شبه الجزيرة قبيل الإسلام عبادة الاوثان . ● كان هناك أصنام حول الكعبة يتوافد اليها الناس للحج والعبادة . ● تميز العرب بالفصاحة فنبغوا بالشعر والنثر والبلاغة مثل مصقلة بن رقبة . ● برعوا بالطب مثل ابن حذيم . 	<ul style="list-style-type: none"> ● مارس السكان نشاط التجارة وينقسم الى بري وبحري . ● عرفت الزراعة في اليمن وعمان . ● انتشر الرعي في معظم شبه الجزيرة العربية . ● استخدم مواد البيئة في الصناعة لتلبي احتياجاتهم كالأسلحة والايواني والحلي والنسيج . 	<ul style="list-style-type: none"> ● من أنظمة الحكم القبلي حكم قبيلة قريش لمكة . ● كان يحكم عمان قبل الإسلام ال جلندي . ● تعتبر القبيلة أحد أنظمة الحكم والإدارة في شبه الجزيرة العربية .
استقرار الانسان بين القرى والمدن .	انتقال الانسان من مكان لآخر	المفهوم			
المنازل المصنوعة من الطوب	الخيام	نوع المسكن			
الزراعة والصناعة	الرعي	النشاط الاقتصادي			

عنوان الدرس: التاريخ: | |

المفاهيم:

العماليق | اطم | العرب البانده | القحطانيون | العدنانيون |

العناصر

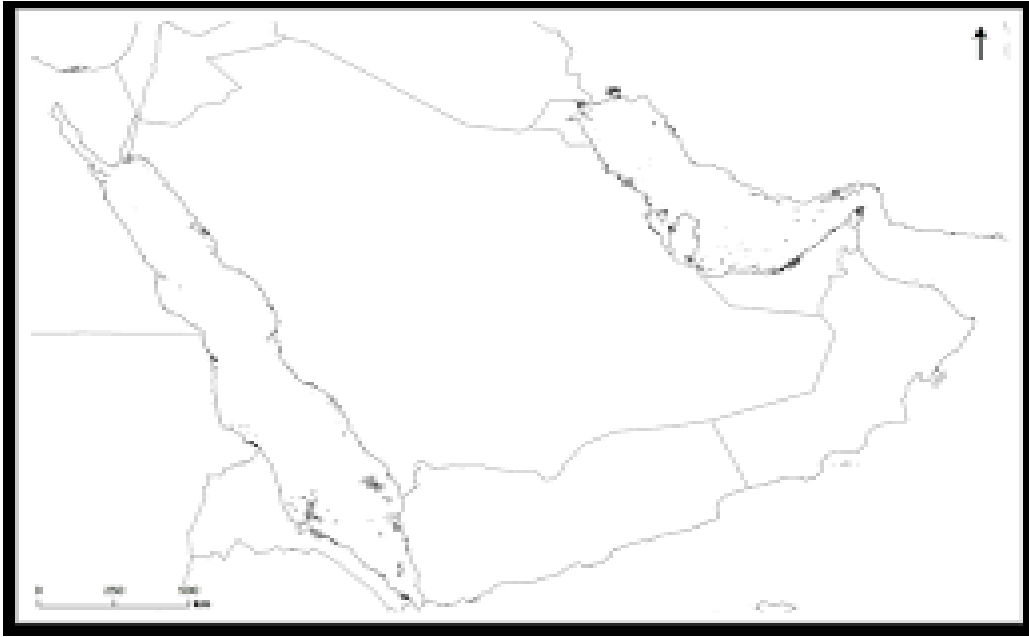
- 1- صممي مخطط مفاهيمي لاقسام العرب قبل الإسلام في شبه الجزيرة العربية.
- 2- فسري تسمية عمان بهذا الاسم .
- 3- ما المقصود بالعرب البانده؟

الواجب المنزلي

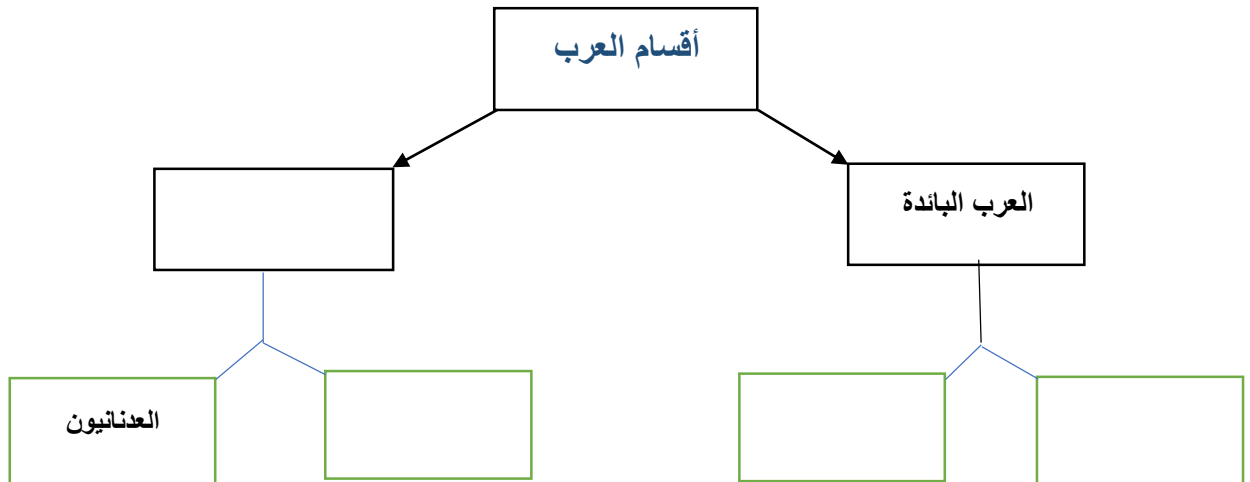
.....
.....
.....
.....
.....
.....
.....
.....
.....
.....

الأنشطة الصفية

١- أمامك خريطة لشبه الجزيرة العربية ، ادرسيها جيدا ومن ثم حددي عليها موقع سلطنة عمان باللون الأخضر :



٢- أكملّي الشكل التالي :



عنوان الدرس: التاريخ:\.....\.....

المفاهيم:

الأزد ١ مالك بن فهم

العناصر

- ١- فسري هجرة القبائل من أواسط شبه الجزيرة العربية الى عمان .
- ٢- تتبعي على الخريطة هجرة مالك بن فهم وقومه الى عمان .
- ٣- دلي على استقرار مالك بن فهم في عمان .

الواجب المنزلي

.....

.....

.....

.....

.....

.....

.....

.....

.....

.....

الأنشطة الصفية

١- ارسمي مسار هجرة قبائل الازد الى عمان ؟



٢- ضعي علامة (√) امام الإجابة الصحيحة وعلامة (✘) امام العبارة الخاطئة :

- عرف الازد المهاجرون الى عمان بأزد العرب () .
- هاجرت القبائل العربية من وسط وجنوب شبه الجزيرة الى عمان () .

عنوان الدرس: التاريخ:\.....\.....

المفاهيم:

الفرس | قلعات

العناصر

- ١- فسري طمع القوى الخارجيه في السيطرةه على عمان.
- ٢- حددي على الخريطه موقع مدينه صحار وموقع الفرس.
- ٣- تتبعي جهود مالك بن فهم في تحرير عمان من أطماع الفرس .
- ٤- دلي على قوة العمانيين في مواجهة الفرس.
- ٥- ما الدور الذي لعبه هناءه بن مالك بن فهم في تحرير عمان من سيطرة الفرس.

الواجب المنزلي

.....

.....

.....

.....

.....

.....

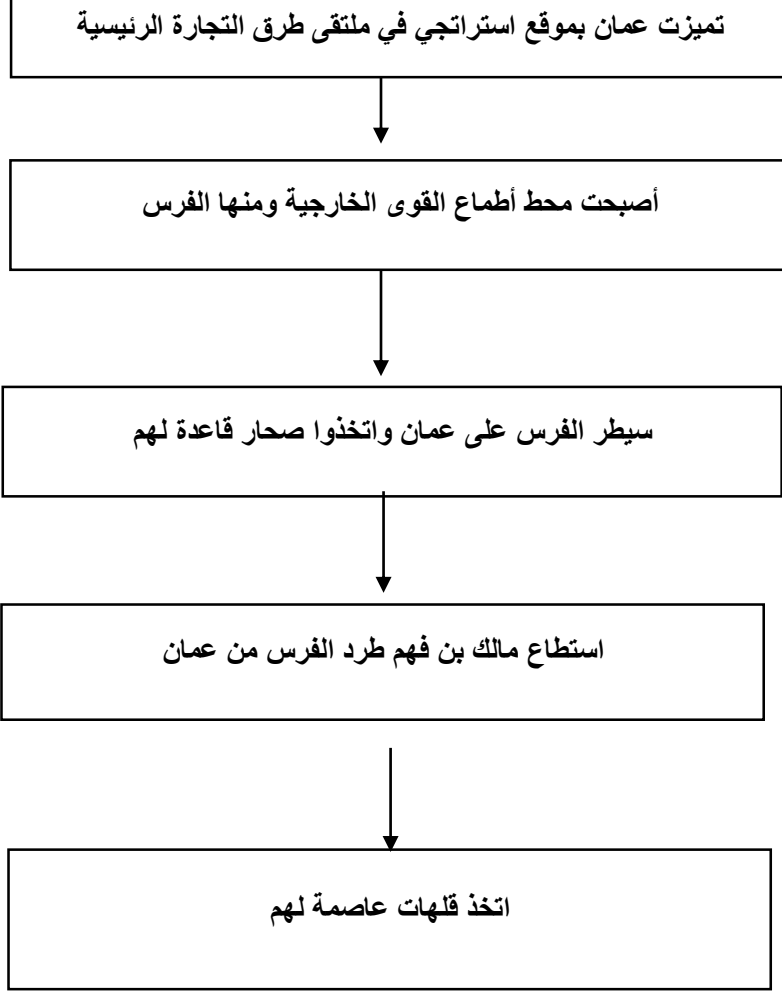
.....

.....

.....

.....

الأنشطة الصفية



١- أمامك مخطط يوضح مراحل طرد الفرس من عمان ، ادرسيه جيدا ومن ثم اجيبي على الأسئلة التي تليه :

أ- عللي / أصبحت عمان محط أطماع القوى الخارجية ؟

.....
.....
.....

ب- من هو الملك الذي طرد الفرس من عمان ؟

.....
.....

ج- المدينة التي اتخذها الفرس مقرا للسيطره على عمان

.....

د- عاصمة عمان بعد طرد الفرس منها

ملخص الدرس ال ٢

- ينقسم العرب الى :

العرب الباقية وهم العدنانيون والقحطانيون

العرب البائدة وهم العماليق وطسم

- سميت عمان بهذا الاسم نسبة الى عمان بن سبا ويقال كذلك نسبة الى واد في اليمن يقال له عمان .
- هاجرت القبائل العربية من وسط وجنوب شبه الجزيرة العربية الى عمان لاسباب منها :

التنافس على الموارد الاقتصادية

الصراعات والحروب

- عرف الازد المهاجرون بأزد عمان وقاندهم مالك بن فهم

- مراحل طرد الفرس من عمان :

تميزت عمان بموقع استراتيجي في ملتقى طرق التجارة الرئيسية

أصبحت محط أطماع القوى الخارجية ومنها الفرس

سيطر الفرس على عمان واتخذوا صحار قاعدة لهم

استطاع مالك بن فهم طرد الفرس من عمان

اتخذ قلهاة عاصمة لهم

عنوان الدرس: التاريخ:\.....\.....

المفاهيم:

إقليم | ازد عمان

العناصر

- ١- صفي عمان في عهد حكام الأزدي.
- ٢- ارسمي مخطط مفاهيمي لأهم حكام عمان من قبيلة الأزدي قبل الاسلام.
- ٣- حددي على الخريطة المناطق التي امتد اليها حكم العمانيين .
- ٤- لخصي ما تعرفيه عن الملك الجلندي .

الواجب المنزلي

.....

.....

.....

.....

.....

.....

.....

.....

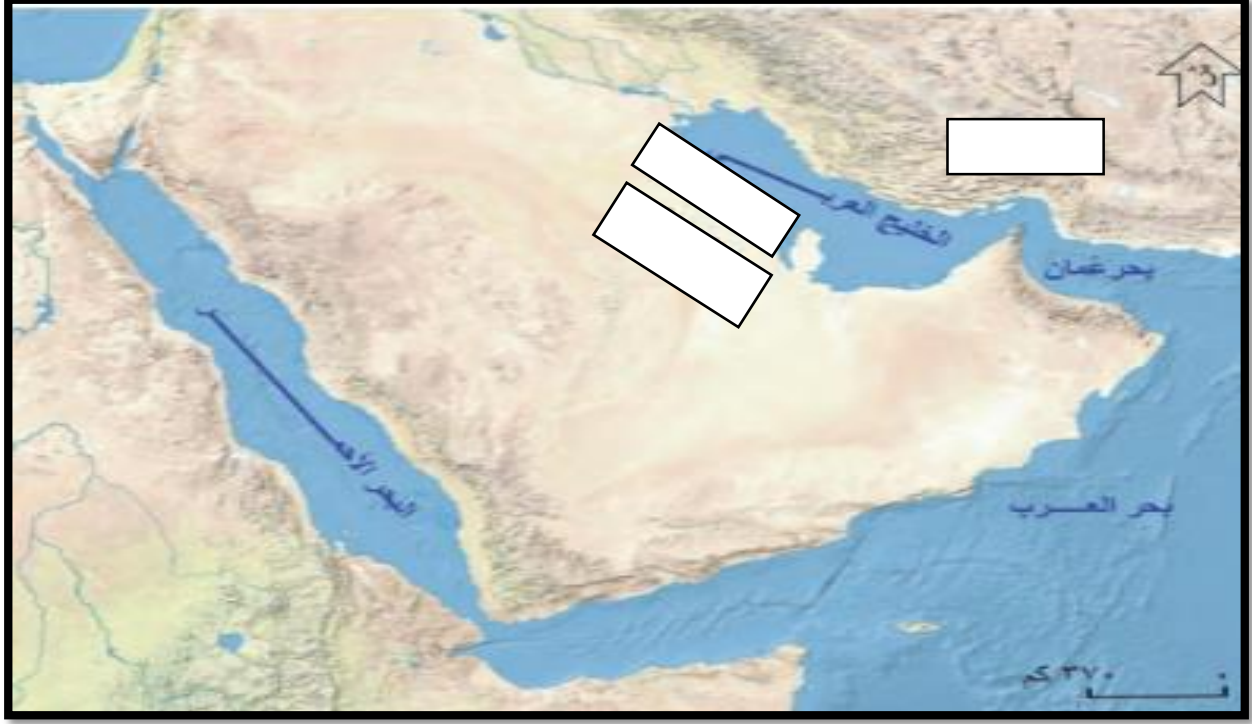
.....

.....

.....

الأنشطة الصفية

١- امامك خريطة لشبه الجزيرة العربية ، ادرسيها جيدا ومن ثم اجيبي على الأسئلة التالية :



١- اكتبی المناطق التاليه في موقعها الصحيح على الخريطة:

(أ) كرمان

(ب) البحرين

(ت) اليمامة

٢- وضحی جهود هناعه بن مالك في مساعده أخيه سليمه في كرمان.

.....
.....
.....

عنوان الدرس: التاريخ:\.....\.....

المفاهيم:

السلع | الموانئ

العناصر

- ١- فسري ازدهار التجاره عند العمانيون منذ القدم.
- ٢- حددي على الخريطه اهم الموانئ العمانيه التي ازدهرت قبل الإسلام.
- ٣- عددي اهم المنتجات الزراعيه التي اشتهرت بها عمان قبل الإسلام .
- ٤- ما اهم الصناعات العمانيه قبل الاسلام

الواجب المنزلي

.....

.....

.....

.....

.....

.....

.....

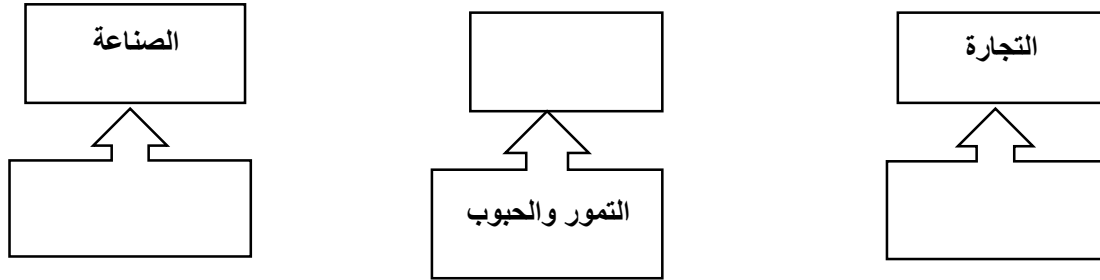
.....

.....

.....

الأنشطة الصفيه

١- ينقسم النشاط الاقتصادي عند العمانيين الى :



٢- ظللي على الخريطة المحافظة التي يوجد بها ميناء سمهرم ؟



عنوان الدرس: التاريخ:\.....\.....

المفاهيم:

التنوع الثقافي الوثنيه البعث

العناصر

- ١- ارسمي مخطط مفاهيمي للعوامل التي ساعدت على التنوع الثقافي في عمان قبل الاسلام.
- ٢- عددي أهم الديانات التي كانت منتشرة في عمان قبل الإسلام.
- ٣- دلي على قدرة العمانيون على التعبير عن أفكارهم قبل الإسلام.
- ٤- وضح أهمية الأسواق التجارية في ازدهار الحياه الادبيه .
- ٥- اذكر أمثله على الأسواق الادبيه في عمان قبل لاسلام .
- ٦- دلي على ازدهار الشعر عند العمانيين قبل الإسلام.

الواجب المنزلي

.....
.....
.....
.....
.....
.....
.....
.....
.....
.....
.....

الأنشطة الصفية

١- اكمل العبارات التالية :

- المعتقدات الدينية الأكثر شيوعا في عمان وشبه الجزيرة العربية
- من العوامل التي ساعدت على التنوع الثقافي في عمان قبل الإسلام
- اشتهرت عمان بالأسواق الأدبية منها سوق



-١

٢-ضعي الأسواق التالية في مكانها الصحيح على الخريطة.

- سوق دبا
- سوق صحار
- سوق الشحر

ملخص الدرس ٣

• حياة العمانيين قبل الإسلام من النواحي :

الحياة الثقافية	الحياة الاقتصادية	الحياة السياسية
<ul style="list-style-type: none">• العوامل التي ساعدت على التنوع الثقافي في عمان :١- التواصل التجاري مع المناطق الأخرى .٢- استقرار بعض التجار في عمان .٣- الهجرات العربية .• الوثنية هي الأكثر شيوعا في عمان وشبه الجزيرة العربية .• من أهم الأسواق الأدبية في عمان قديما :١- سوق دبا٢- سوق صحار٣- سوق الشحر	<ul style="list-style-type: none">• عمل العمانيون بالتجارة مثل تجارة اللؤلؤ والاسماك واللبن .• اشتهروا بالزراعة مثل الحبوب والتمور .• عرفوا الصناعة مثل صناعة الفخار والسفن .• يعتبر ميناء سمهرم من الموانئ الشهيرة قديما في محافظة ظفار .	<ul style="list-style-type: none">• اشتهر ملوك عمان قبل الإسلام بالقوة والشدة .• ارسل هناءة بن مالك جيشا لمساعدة أخيه سليمة الذي حكم كرمان .• توسع حكم العمانيين ووصل الى البحرين واليمامة

إعداد: ذ. مريم السيد الشحي ١ ذ. آمنه المقبالي

- أمامك خريطة لشبه الجزيرة العربية، لتتعرف عليها ونضع دائرة على الخطأ الموجود ونقوم بتصحيحه؟



- استخدم الوانك الجميلة لتظهر خريطة شبه الجزيرة العربية بشكل رائع



الوَحْدَةُ
الثَّلَاثَةُ



وَطَنِي عُمانٌ...
انتماءً وولاءً

عنوان الدرس: التاريخ:\.....\.....

المفاهيم:

الانتماء والولاء للوطن

العناصر

- ١- ما هي الفئات التي يرتبط بها الفرد فطريا؟
- ٢- عددي العوامل التي تعزز الشعور بالانتماء.
- ٣- عرفني الانتماء والولاء للوطن .
- ٤- ما هو واجبك تجاه وطنك ؟
- ٥- من هو قائد عمان في الوقت الراهن؟

الواجب المنزلي

.....

.....

.....

.....

.....

.....

.....

.....

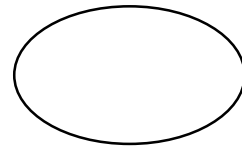
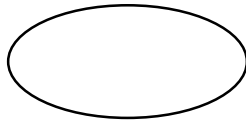
.....

.....

.....

الأنشطة الصفية

١- أكتبي اسفل الصورة مصدر الشعور بالانتماء والولاء للوطن؟



٢- ما المقصود بالانتماء والولاء للوطن؟

.....
.....
.....

عنوان الدرس: التاريخ:\.....\.....

المفاهيم:

الانتماء للوطن التلاحم بين أبناء الوطن الامان

العناصر

- ١-صممي مخطط لأهمية الانتماء والولاء للوطن .
- ٢-كيف تستطيع ان تحافظ على الثقافه والحضاره العمانيه؟
- ٣-دليلي على اهتمام عمان بالثقافه العمانيه.
- ٤- اذكرني هدف من اهداف رؤية عمان ٢٠٤٠م.

الواجب المنزلي

.....
.....
.....
.....
.....
.....
.....
.....
.....
.....

الأنشطة الصفية

١- ارسمي مخطط مفاهيمي من ابتكارك لمكاسب الانتماء للوطن.

٢- ادرسي الشكل التالي ومن ثم اجيبي على الأسئلة التالية :



• الى ماذا تشير الصور الموضحة ادناه ؟

.....

• اذكرى أهم الأهداف التي تسعى السلطنة الى تحقيقها من خلال ما تشير اليه الصورة السابقة ؟

.....

.....

ملخص الدرس ١

- ١- يتمثل الشعور بالولاء والانتماء للوطن من خلال : الاسرة والمدرسة .
- ٢- الشعور بالولاء والانتماء للوطن يشمل (الوطن والسلطان وأفراد المجتمع) .
- ٣- أهمية الانتماء والولاء للوطن لها مكاسب عديدة منها :
 - المحافظة على الثقافة والحضارة العمانية .
 - التلاحم بين أبناء الوطن .
 - الأمان والاستقرار .
- ٤- رؤية سلطنة عمان ٢٠٤٠م تتطلع الى ان يكون المجتمع العماني قويا ومتماسكا .



عنوان الدرس: التاريخ:١.....١.....

المفاهيم:

الجندي ١ مؤسسة عهد

العناصر

- ١- عددي مظاهر الانتماء والولاء للوطن .
- ٢ ما هو واجبك تجاه وطنك في حال تعرض لعدوان واعتداءات خارجيه؟
- ٣- دال على اهتمام السلطنه بالمشاركه في الاعمال التطوعيه

الواجب المنزلي

.....

.....

.....

.....

.....

.....

.....

.....

.....

.....

.....

الأنشطة الصفية

١- تمثل الصورة مظهرا من مظاهر الولاء والانتماء للوطن ، اكتبها اسفل الصورة؟



٢- عبري بأسلوبك كيف يكون الدفاع عن الوطن من مظاهر الولاء للوطن ؟

.....

٣- من خلال الصورة ، اجبني على الأسئلة التالية :



• ما اسم المؤسسة؟

• عددي أهم أهدافها؟

• تمثل الصورة السابقة مظهرا من مظاهر الانتماء والولاء للوطن ، وهو

عنوان الدرس: التاريخ:\.....\.....

المفاهيم:

التحضير

العناصر

- ١- ما هي النتائج المترتبة على الاجتهاد في طلب العلم ؟
- ٢- ما هو واجبك تجاه المنجزات الوطنية ؟
- ٣- اذكر امثله على المنجزات الوطنية .
- ٤- دلي على أهمية الالتزام بالانظمة والقوانين .

الواجب المنزلي

.....

.....

.....

.....

.....

.....

.....

.....

.....

.....

الأنشطة الصفية

١- أكتبي أسفل كل صورة ما تمثله من مظاهر الولاء والانتماء للوطن ؟



ملخص الدرس ٢

مظاهر الانتماء والولاء للوطن

الاهتمام
بمنجزات
الوطن

الاجتهاد
في طلب
العلم

الدفاع
عن
الوطن


المشاركة
في
الاعمال
التطوعية

الالتزام
بالانظمة
والقوانين

إعداد: ذ. مريم السيد الشحي ١ ذ. آمنه المقبالي



-لوني علم بلادك (عمان) بألوان زاهيه جميله.

	
	Oman