

شكراً لتحميلك هذا الملف من موقع المناهج العمانية



مذكرة إثرائية سؤال وجواب في درس أغلفة كوكب الأرض

[موقع المناهج](#) ⇨ [المناهج العمانية](#) ⇨ [الصف الخامس](#) ⇨ [اجتماعيات](#) ⇨ [الفصل الثاني](#) ⇨ [الملف](#)

تاريخ نشر الملف على موقع المناهج: 2024-02-18 05:34:25 | اسم المدرس: علي بن محمد الحسان

التواصل الاجتماعي بحسب الصف الخامس



روابط مواد الصف الخامس على تلغرام

[الرياضيات](#)

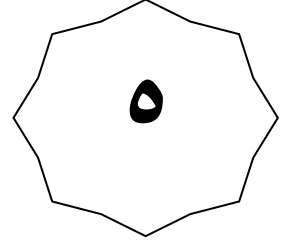
[اللغة الانجليزية](#)

[اللغة العربية](#)

[التربية الاسلامية](#)

المزيد من الملفات بحسب الصف الخامس والمادة اجتماعيات في الفصل الثاني

| | |
|---------------------------------------|---|
| ملخص شامل للمادة | 1 |
| الخطة الفصلية للمادة | 2 |
| الكتيب المساند للمادة | 3 |
| كراسة أنشطة المادة | 4 |
| كتيب أنشطة المادة | 5 |



الفصل الدراسي الثاني

الوحدة الأولى

درس : اغلفة كومب الارض " المفهوم والمكونات "
(أجوبة)

٢٠٢٣-٢٠٢٤

٩٩٤٩٣٩٢٣

علي بن محمد الحسان

درس : اغلفة كوكب الأرض " المفهوم والمكونات "**السؤال الأول : ضع علامة (✓) أو (X) أمام العبارة المناسبة مع تصحيح ما تحته خط إذا كانت العبارة خطأ .**

- ١- (X) كوكب الأرض من كواكب النظام الشمسي ويتميز بعدم وجود حياة عليه . بوجود
- ٢- (X) خلق الله تعالى الأرض وهياً للإنسان العيش عليها فوهبها بخمسة اغلفة . اربعة
- ٣- (✓) على الانسان المحافظة على المياه ولا نسرف في استخدامها .

السؤال الثاني : أكمل العبارات التالية بكلمات مناسبة من عندك .

- ١- تعد المجموعة الشمسية جزءا صغيرا من مجرة درب التبانة .
- ٢- تعتبر الشمس هي مركز المجموعة الشمسية .
- ٣- يتكون الغلاف الجوي من مجموعة من الغازات المختلطة ببعضها أهمها النيروجين والاكسجين .

السؤال الثالث : ضع دائرة حول الإجابة الصحيحة من بين البدائل المعطاة

- ١- يحتوي الغلاف الجوي على حزام (الأوزون - الامازون) الذي يحمي كوكب الأرض من الاشعة الضارة .
- ٢- تعد دورة (الهواء - الماء) في الطبيعة هي المسؤولة عن حركة المياه واستمرارها في النظام الأرضي .
- ٣- تغطي اليابسة حوالي (٢٩٪ - ٣٩٪) من مساحة سطح الأرض .

السؤال الرابع : اكتب امام العبارات التالية المصطلح الدال عليها .

- ١- (مجرة درب التبانة) تجمع عدد كبير جدا من النجوم والسحب والغازات على شكل شريط حلزوني مضيء في السماء .
- ٢- (الموارد الطبيعية) كل ما هو موجود في الطبيعة ويستفيد منه الانسان والكائنات الحية الأخرى .
- ٣- (دور الماء في الطبيعة) حركة الماء من سطح الأرض الى الغلاف الجوي ثم عودته مرة أخرى .

السؤال الخامس : اكمل الشكل بكتابة اهم مكونات القشرة الأرضية :

السؤال السادس : ظلل الإجابة الصحيحة من بين البدائل المعطاة .

١- تدور حول الشمس ... كواكب منها كوكب الأرض

- أربعة ستة ثمانية

٢- تأسست الجمعية الفلكية العمانية عام

- ٢٠٠٨ ٢٠٠٩ ٢٠١٠

٣- تغطي المياه حوالي ... من مساحة سطح الأرض .

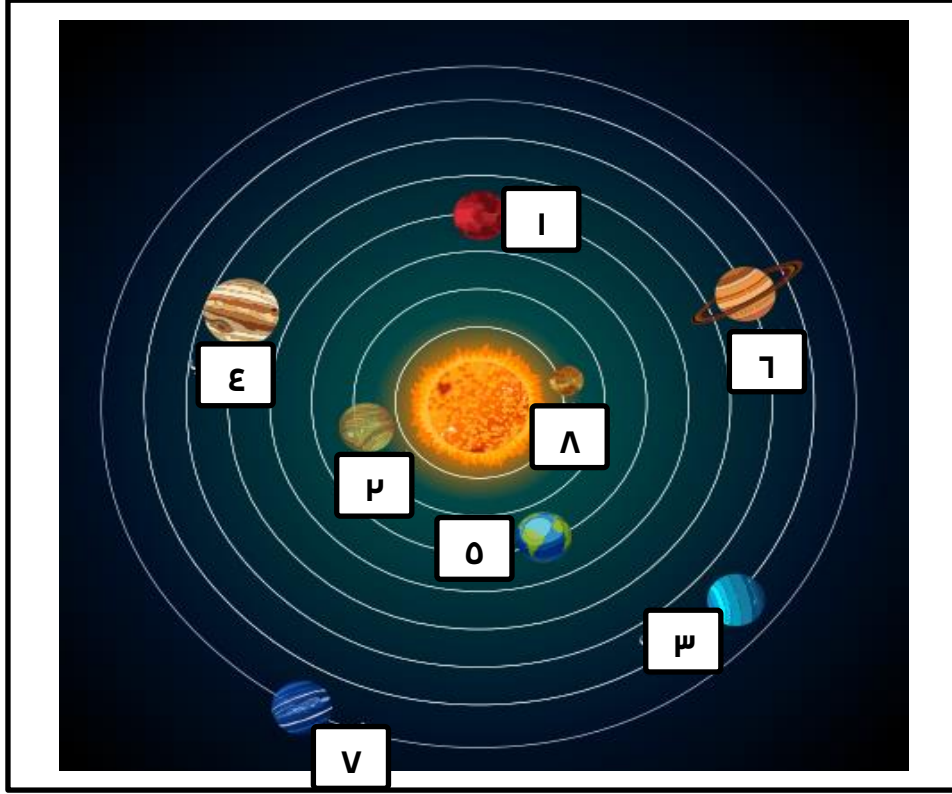
- ٧٠٪ ٧١٪ ٧٢٪

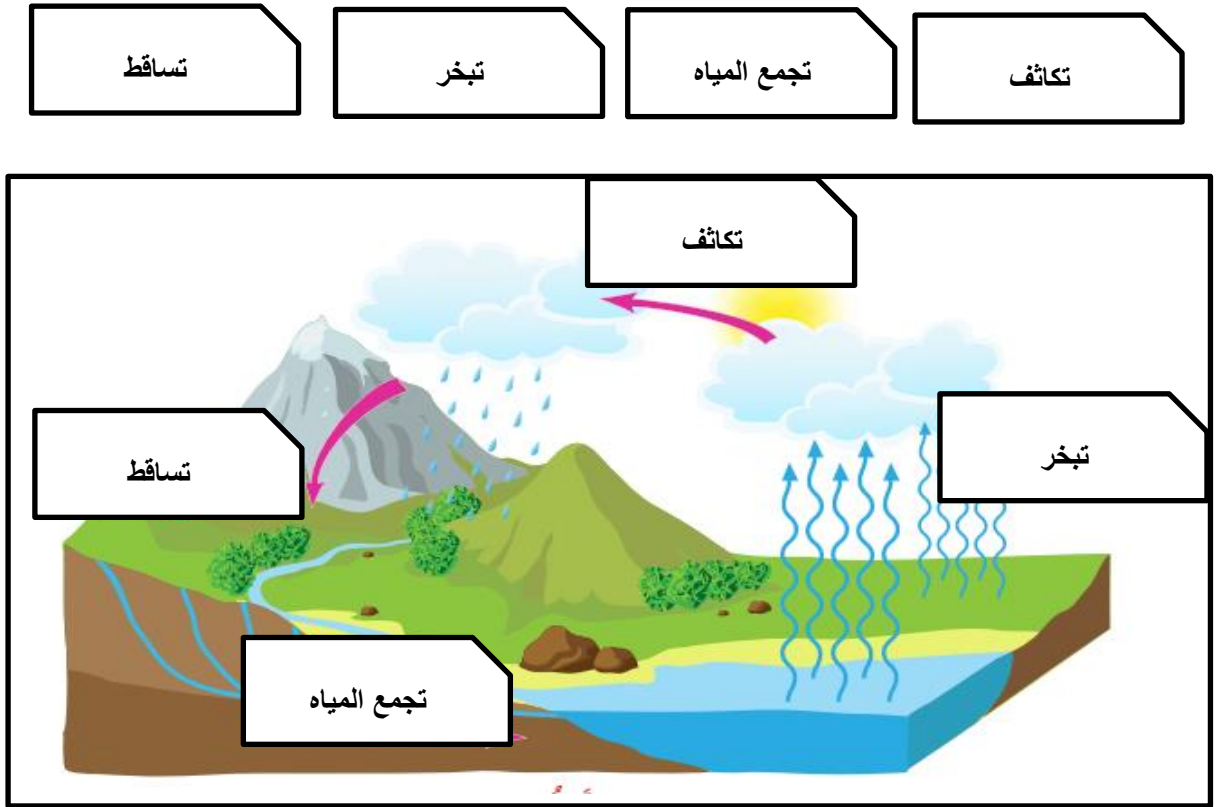

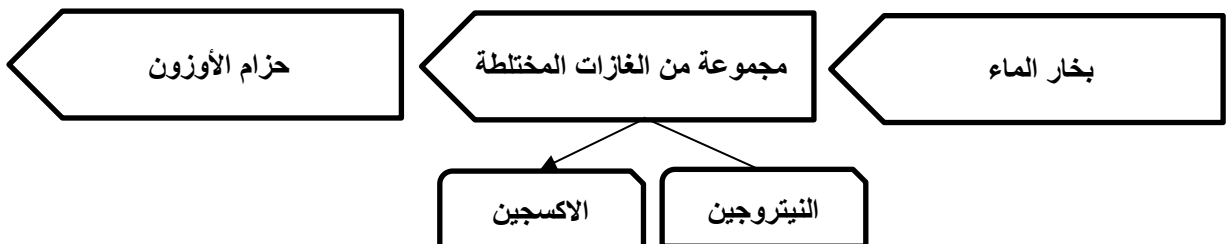
السؤال السابع : اكمل الشكل بكتابة إجابة الأسئلة التالية

| اسم الكوكب | العبرة | م |
|------------|---|---|
| عطارد | الكوكب الأقرب الى الشمس هو | ١ |
| المشتري | الكوكب الأكبر في المجموعة الشمسية هو | ٢ |
| الارض | الكوكب الثالث في ترتيب المجموعة الشمسية هو | ٣ |
| زحل | الكوكب الذي يتميز بوجود حلقات حوله هو | ٤ |

السؤال الثامن : ضع رقم الكوكب في مكانه الصحيح في الشكل التالي .

| | | | | | | | |
|---------|---|----------|---|--------|---|--------|---|
| المشتري | Ⓔ | اورانيوس | Ⓜ | الزهرة | Ⓟ | المريخ | Ⓛ |
| عطارد | ⓐ | نبتون | Ⓨ | زحل | ♄ | الأرض | Ⓚ |

**السؤال التاسع : اكتب في الشكل التالي اغلفة كوكب الأرض**

السؤال العاشر : اكتب داخل الشكل دورة الماء في الطبيعة**السؤال الحادي عشر : اكمل الشكل بكتابة اهم عناصر الغلاف الحيوي****السؤال الثاني عشر: اكمل الشكل بكتابة مكونات الغلاف الجوي :**

السؤال الثالث عشر : ضع اسم الغلاف المناسب امام المصطلح الدال عليها في العبارات التالية :**السؤال الرابع عشر: اجب عن الأسئلة التالية :**

س ١ : ما سبب تسمية كوكب الأرض بالكوكب المائي ؟

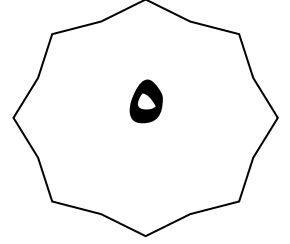
ج ١ : بسبب توفر كميات كبيرة من الماء على سطح الارض حيث نسبة الماء ٧٥٪ .

س ٢ : ما سبب البرودة الشديدة على كوكب نبتون ؟

ج ٢ : لسبب المسافة البعيدة عن الشمس ولأنه يتكون من الصخور والجليد .

س ٣ : كم عدد كواكب المجموعة الشمسية ؟

ج ٣ : ثمانية كواكب .



الفصل الدراسي الثاني

الوحدة الأولى

درس : اغلفة كومب الارض " المفهوم والمكونات "
(أسئلة)

٢٠٢٣-٢٠٢٤

٩٩٤٩٣٩٢٣

علي بن محمد الحسان

درس : اغلفة كوكب الأرض " المفهوم والمكونات "**السؤال الأول : ضع علامة (✓) أو (X) أمام العبارة المناسبة مع تصحيح ما تحته خط إذا كانت العبارة خطأ .**

- ١- () كوكب الأرض من كواكب النظام الشمسي ويتميز بعدم وجود حياة عليه .
- ٢- () خلق الله تعالى الأرض وهياً للإنسان العيش عليها فوهبها بخمسة اغلفة .
- ٣- () على الانسان المحافظة على المياه ولا نسرف في استخدامها .

السؤال الثاني : أكمل العبارات التالية بكلمات مناسبة من عندك .

- ١- تعد المجموعة الشمسية جزءا صغيرا من مجرة درب
- ٢- تعتبر هي مركز المجموعة الشمسية .
- ٣- يتكون الغلاف الجوي من مجموعة من الغازات المختلفة ببعضها أهمها النيتروجين و.....

السؤال الثالث : ضع دائرة حول الإجابة الصحيحة من بين البدائل المعطاة

- ١- يحتوي الغلاف الجوي على حزام (الأوزون - الامازون) الذي يحمي كوكب الأرض من الاشعة الضارة .
- ٢- تعد دورة (الهواء - الماء) في الطبيعة هي المسؤولة عن حركة المياه واستمرارها في النظام الأرضي .
- ٣- تغطي اليابسة حوالي (٢٩٪ - ٣٩٪) من مساحة سطح الأرض .

السؤال الرابع : اكتب امام العبارات التالية المصطلح الدال عليها .

- ١- () تجمع عدد كبير جدا من النجوم والسحب والغازات على شكل شريط حلزوني مضيء في السماء.
- ٢- () كل ما هو موجود في الطبيعة ويستفيد منه الانسان والكائنات الحية الأخرى .
- ٣- () حركة الماء من سطح الأرض الى الغلاف الجوي ثم عودته مرة أخرى .

السؤال الخامس : اكمل الشكل بكتابة اهم مكونات القشرة الأرضية :

السؤال السادس : ظلل الإجابة الصحيحة من بين البدائل المعطاة .

١- تدور حول الشمس ... كواكب منها كوكب الأرض

- أربعة ○ ستة ○ ثمانية

٢- تأسست الجمعية الفلكية العمانية عام

- ٢٠٠٨ ○ ٢٠٠٩ ○ ٢٠١٠

٣- تغطي المياه حوالي ... من مساحة سطح الأرض .

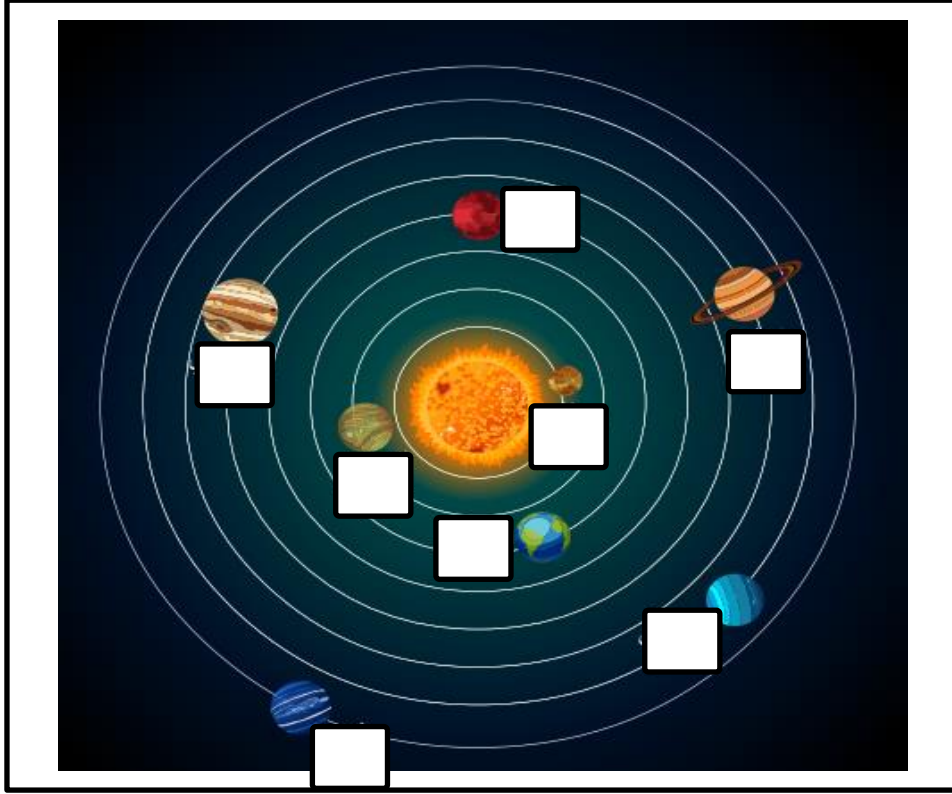

- ٧٠٪ ○ ٧١٪ ○ ٧٢٪

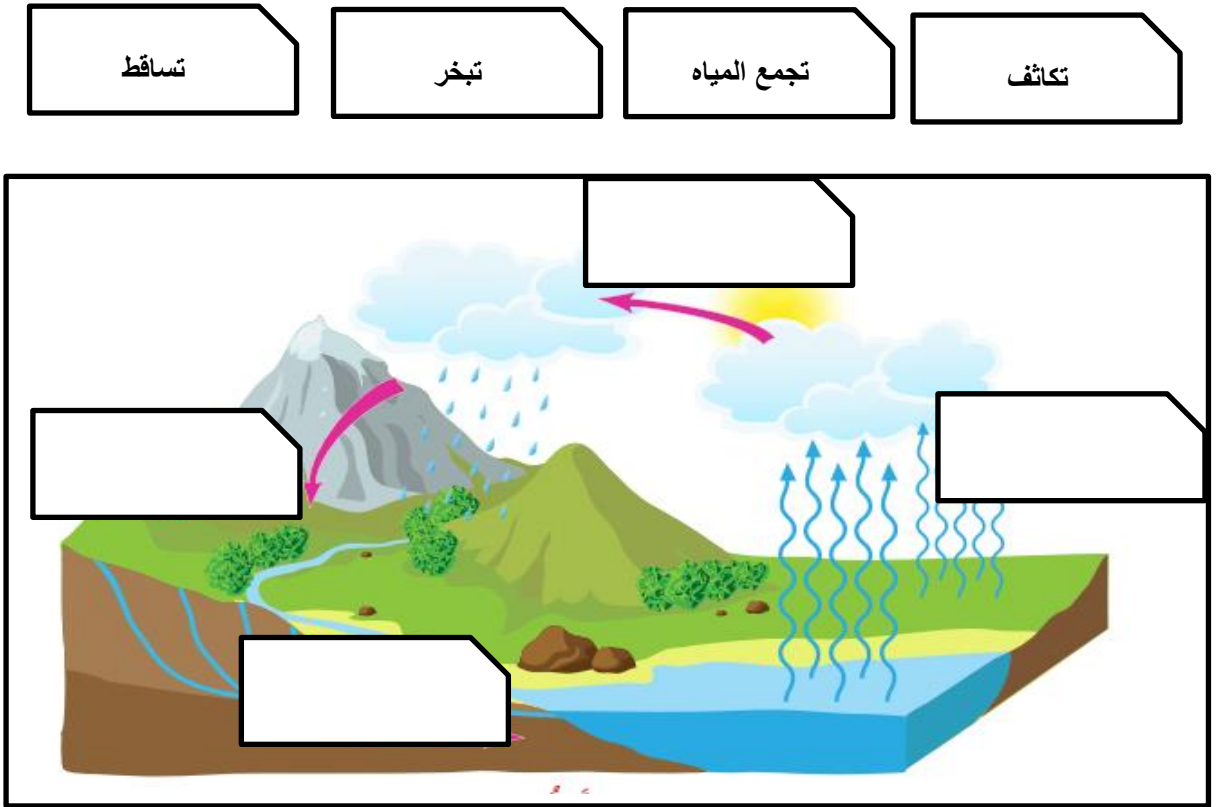

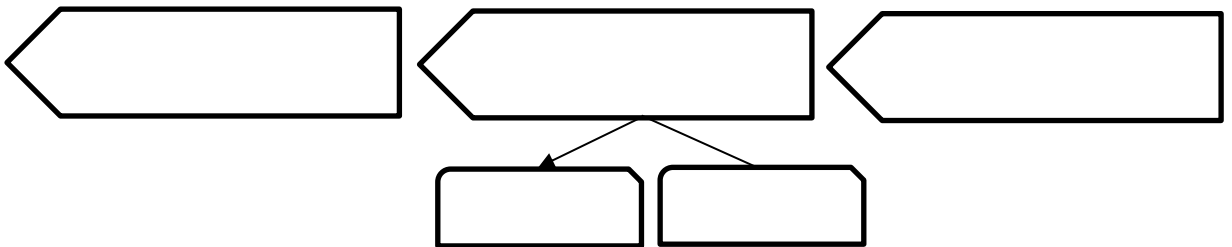
السؤال السابع : اكمل الشكل بكتابة إجابة الأسئلة التالية

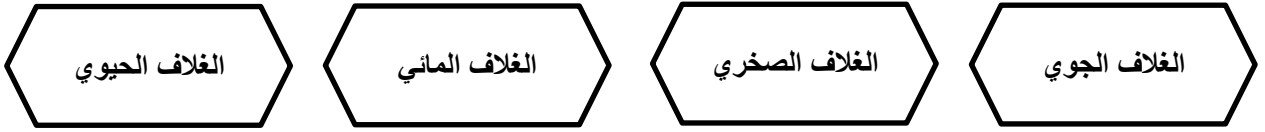
| اسم الكوكب | العبرة | م |
|------------|---|---|
| | الكوكب الأقرب الى الشمس هو | ١ |
| | الكوكب الأكبر في المجموعة الشمسية هو | ٢ |
| | الكوكب الثالث في ترتيب المجموعة الشمسية هو | ٣ |
| | الكوكب الذي يتميز بوجود حلقات حوله هو | ٤ |

السؤال الثامن : ضع رقم الكوكب في مكانه الصحيح في الشكل التالي .

| | | | | | | | |
|---------|---|----------|---|--------|---|--------|---|
| المشتري | ٤ | اورانيوس | ٣ | الزهرة | ٢ | المريخ | ١ |
| عطارد | ٨ | نبتون | ٧ | زحل | ٦ | الأرض | ٥ |

**السؤال التاسع : اكتب في الشكل التالي اغلفة كوكب الأرض**

السؤال العاشر : اكتب داخل الشكل دورة الماء في الطبيعة**السؤال الحادي عشر : اكمل الشكل بكتابة اهم عناصر الغلاف الحيوي****السؤال الثاني عشر: اكمل الشكل بكتابة مكونات الغلاف الجوي :**

السؤال الثالث عشر : ضع اسم الغلاف المناسب امام المصطلح الدال عليها في العبارات التالية :

- ١- يمثل الطبقة الخارجية للقشرة الأرضية ويرتبط ارتباطا وثيقا بالواهر الطبيعية كالبراكين والزلازل .
- ٢- يمثل البيئة التي تعيش وتنمو وتتكاثر فيها الكائنات الحية نظرا لتوافر الظروف الطبيعية الملائمة .
- ٣- يتمثل في الطبقة الغازية التي تحيط بكوكب الأرض احاطة تامة ويتكون من بخار الماء وغازات اخرى.
- ٤- يشمل جميع الموارد المائية في الكرة الأرضية بحالاتها الثلاث السائلة والصلبة والغازية .

السؤال الرابع عشر: اجب عن الأسئلة التالية :

س ١ : ما سبب تسمية كوكب الأرض بالكوكب المائي ؟

ج ١ :

س ٢ : ما سبب البرودة الشديدة على كوكب نبتون ؟

ج ٢ :

س ٣ : كم عدد كواكب المجموعة الشمسية ؟

ج ٣ :