


شكراً لتحميلك هذا الملف من موقع المناهج العمانية



## اختبار قصير

موقع المناهج ← المناهج العمانية ← الصف الخامس ← حاسوب ← الفصل الثاني ← الملف

## التواصل الاجتماعي بحسب الصف الخامس



## روابط مواد الصف الخامس على تلغرام

[الرياضيات](#)

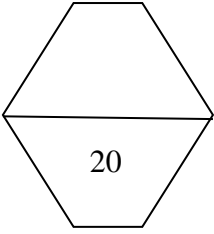
[اللغة الانجليزية](#)

[اللغة العربية](#)

[التربية الاسلامية](#)

## المزيد من الملفات بحسب الصف الخامس والمادة حاسوب في الفصل الثاني

<a href="#">اختبار قصير</a>	1
<a href="#">اختبار قصير</a>	2
<a href="#">اختبار قصير في وحدة الانترنت</a>	3
<a href="#">أسئلة الاختبار القصير</a>	4
<a href="#">ملخص تقنية المعلومات</a>	5



سلطنة عمان  
وزارة التربية والتعليم  
المديرية العامة للتربية والتعليم لمحافظة شمال الباطنة  
مدرسة أم سليم للتعليم الأساسي 5-10

اختبار قصير في مادة تقنية المعلومات للصف الخامس الأساسي الفصل الدراسي الثاني  
اسم الطالبة: ..... الصف: .....

السؤال الأول (موضوعي) 8 درجات

(أ) صل بين كل عبارة من العمود الأول وما يناسبها من العمود الثاني (4 درجات)

العمود الثاني

العمود الأول



1. أداة تستخدم لمسح أجزاء من الصورة وتأخذ عادة لون الخلفية .....
2. أداة تحديد اللون .....
3. هو برنامج يسمى الجداول الحسابية .....
4. تسمى أداة العصي السحرية .....

(ب) ضع علامة صح امام العبارة الصحيحة وعلامة خطأ امام العبارة  
الخاطئة (4 درجات)

1. برنامج الجذب وبرنامج مجاني متخصص في انتاج الصور النقطية ومعالجتها (.....).
2. من قائمة ملف او فايل يمكننا فتح ملف مرفق (.....).
3. في برنامج الأكسل الخلية هي عبارة عن التقاء صف مع صف اخر (.....).
4. تساعدنا أداة العصي السحرية للكتابة على الصورة (.....).

السؤال الثاني معرفه مقالتي 4 درجات:

فاطمة طالبة في الصف الخامس وارادت العمل في برنامج الأكل وظهرت لها الصورة التالية

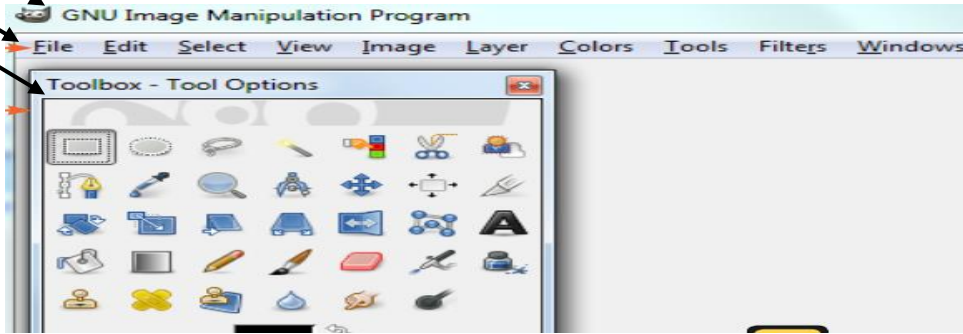


- ✓ ما اسم الخلية المشار اليها بالسهم رقم 1.....
- ✓ عرفني معنى الخلية.....
- ✓ ما أهمية الأداة المشار اليها بالرقم 2.....
- ✓ ما هي خطوات فرز البيانات تصاعدي وتنزلي في برنامج الأكل.....

alManahj.com/om

السؤال الثالث مقالتي 8 درجات:

من خلال دراستك لوحدة تطبيقات التلوين اجب عن الأسئلة التالية



1. من أي قائمة تستطيع زينب اظهار شريط الأدوات في برنامج الجمب؟.....
2. من أي قائمة تستطيع حفظ الملف في برنامج الجمب؟.....
3. ماذا نسمي الشريط رقم 1؟.....
4. ماذا نسمي الشريط رقم 2؟.....
5. ماذا نسمي الشريط رقم 3؟.....
6. ما أهمية أداة الدلو في برنامج الجمب؟.....

مع اطيب تمنياتي لكم بدوام التوفيق والنجاح

