

شكراً لتحميلك هذا الملف من موقع المناهج العمانية



كراسة أنشطة المادة

موقع المناهج ← المناهج العمانية ← الصف الخامس ← اجتماعيات ← الفصل الثاني ← الملف

تاريخ نشر الملف على موقع المناهج: 07:16:58 2024-02-17 | اسم المدرس: مريم أحمد السيد

التواصل الاجتماعي بحسب الصف الخامس



روابط مواد الصف الخامس على تلغرام

[الرياضيات](#)

[اللغة الانجليزية](#)


[اللغة العربية](#)

[التربية الاسلامية](#)

المزيد من الملفات بحسب الصف الخامس والمادة اجتماعيات في الفصل الثاني

كتيب أنشطة المادة	1
تحضير درس أغلفة كوكب الأرض	2
الكتيب المساند للمادة كراستي عطاء	3
أغلفة كوكب الأرض المفهوم والمكونات	4
كتاب المادة منهج جديد	5

كراس الدراسات الاجتماعية للفص الخامس



المقدمة

الحمد لله رب العالمين ، والصلاة والسلام على أشرف المرسلين ، سيدنا محمد وعلى آله وصحبه اجمعين
، ، ،

سعت وارة التربية والتعليم الى تطوير المنظومة التعليمية في جوانبها المختلفة ، لمواكبة التطورات المتسارعة في مجالي المعرفة والتقانة ، وتلبية متطلبات مؤسسات التعليم العالي ، واحتياجات المجتمع العماني وسوق العمل ، وهي بذلك تتوافق مع أهداف رؤية عمان 2040م وركائزها التي أكدت أهمية رفع جودة التعليم وتطوير المناهج الدراسية والبرامج التعليمية ، لاعداد متعلم معتز بهويته ، مبدع ومبتكر ، ومنافس عالميا في جميع المجالات .

ويمثل هذا الكراس ترجمة للمحتوى المعرفي والمهاري للمنهاج الدراسي ، الذي وضع ليستقي منه الطالب معلومات شاملة ومتنوعة ، وليكتسب منه مهارات تعليمية مختلفة ، لتحقيق ما تصبو اليه الوزارة من أهداف تربوية .

مخطط تقديمي في المادة

البداية



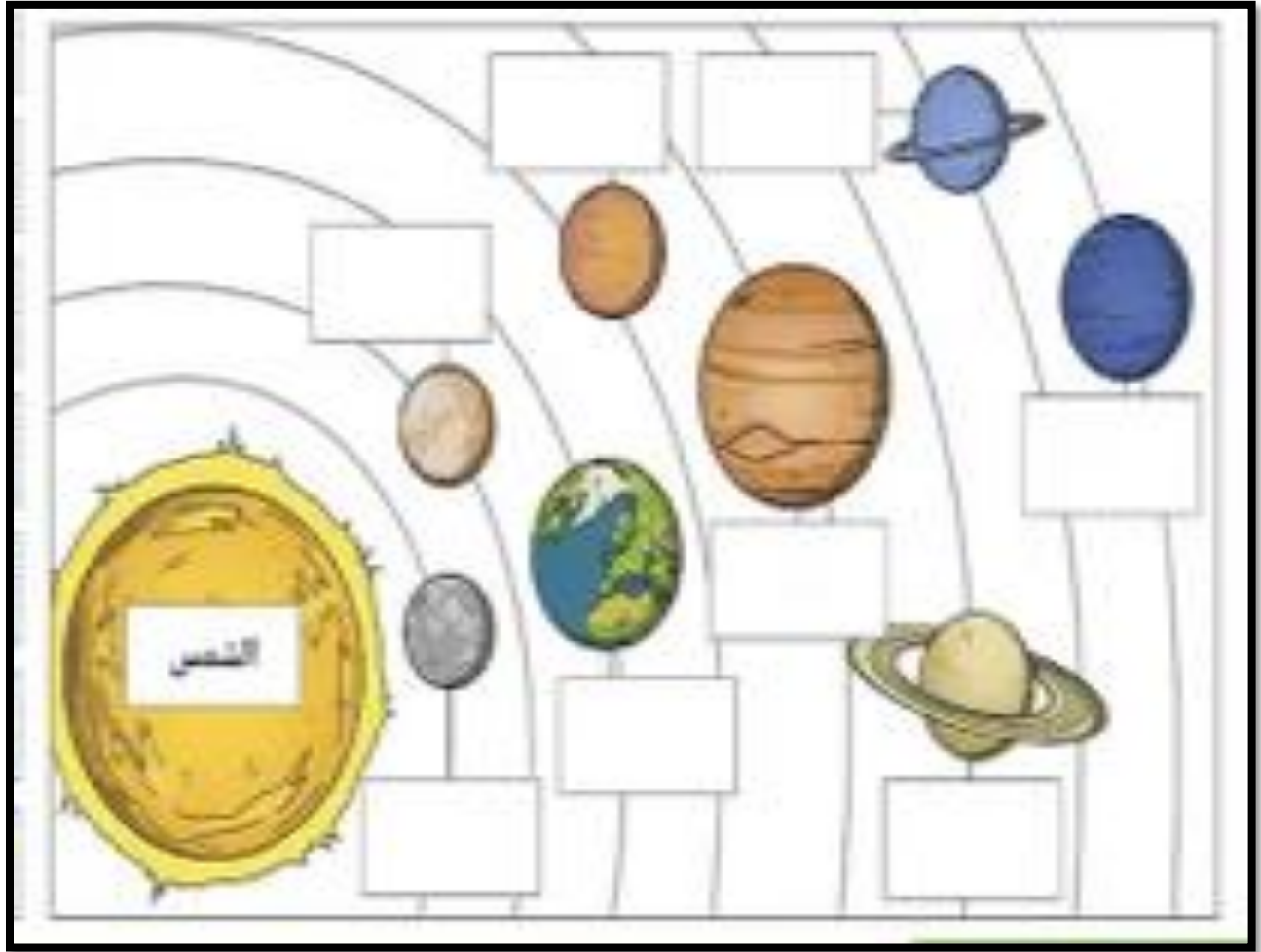
النهاية




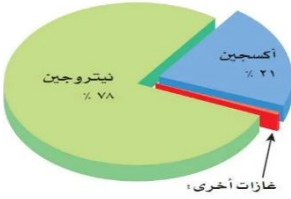


نشاط صفي

1- أمامك شكل يوضح كواكب المجموعة الشمسية ، ادرسه جيدا ومن ثم ضع أسماء الكواكب في مواقعها الصحيحة:
(المريخ - المشتري - الزهرة - الأرض - عطارد - المريخ - نبتون - اورانوس)



1- قارن بين الغلاف الجوي والغلاف الصخري من حيث : المفهوم والمكونات ؟

الغلاف الصخري	الغلاف الجوي	الإغلفة المقارنة								
	 <table border="1"><thead><tr><th>المكون</th><th>النسبة المئوية</th></tr></thead><tbody><tr><td>نيتروجين</td><td>78%</td></tr><tr><td>أكسجين</td><td>21%</td></tr><tr><td>غازات أخرى</td><td>1%</td></tr></tbody></table>	المكون	النسبة المئوية	نيتروجين	78%	أكسجين	21%	غازات أخرى	1%	المفهوم
المكون	النسبة المئوية									
نيتروجين	78%									
أكسجين	21%									
غازات أخرى	1%									
		المكونات								

1- يمثل الشكل التالي دورة الماء في الطبيعة ، ادرسه جيدا ومن ثم اكتب العملية المسؤولة عن حركة المياه واستمراريتها في الموقع الصحيح ؟



2- علل: يمثل الغلاف الحيوي البيئة التي تعيش وتنمو وتتكاثر فيها الكائنات الحية ؟

إعداد: أ. مريم أحمد السيد.

مراجعة على الدرس الأول (أغلفة كوكب الأرض)

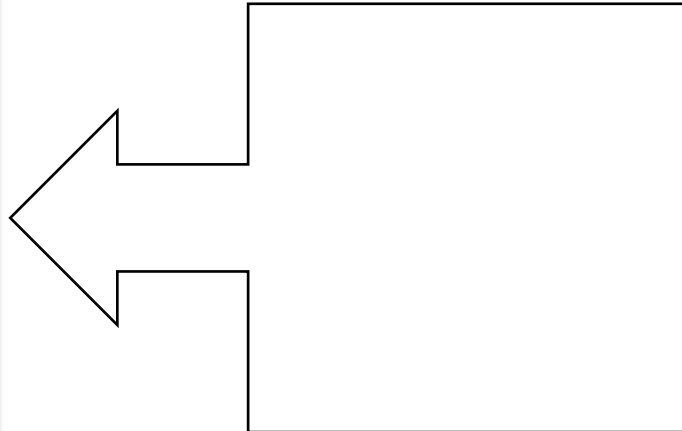
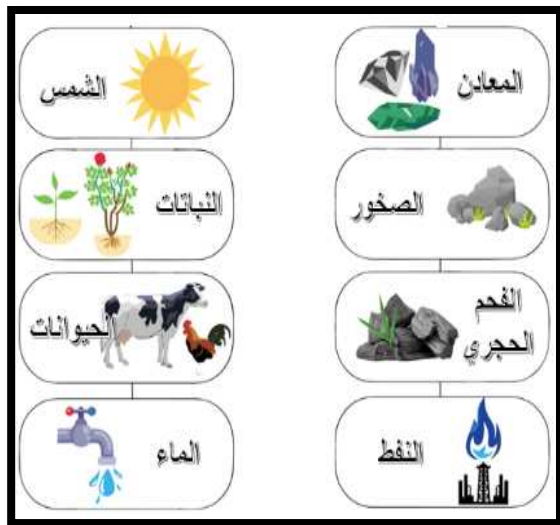
النشاط الصفّي

- 1- صنف في الجدول التالي الموارد الطبيعية حسب الغلاف الذي تنتمي إليه:
2-

(الامطار والثلوج – المعادن والنفط – الثروات البحرية – النباتات الطبيعية والحيوانات)

الموارد الطبيعية التي تحتويها	أغلفة النظام الأرضي
	الجوي
	الصخري
	المائي
	الحيوي

- 3- استنتج أهمية أغلفة كوكب الأرض من خلال الشكل التالي؟



النشاط الصفّي

أولا :


1- ما اسم الظاهرة ؟



2- يساهم في تكوين الظاهرة الموضحة في الصورة السابقة
غلافان هما :

(أ)
(ب)

ثانيا : أكمل




- تمتص جذور النباتات (الغلاف) ،
المعادن الموجودة في التربة التابعة (لـ)الغلاف
..... (لتساعدها على النمو

نشاط صفي :

1- يوضح المخطط التالي بعض المشكلات البيئية الناتجة عن الممارسات الخاطئة للانسان ادرسه جيدا واكتب اسم المشكلة الناتجة عن هذه الممارسات ؟

أهم المشكلات البيئية



2- علل/ تبنت هيئة البيئة مبادرة وطنية لزراعة 10 ملايين شجرة ؟

إعداد: أ. مريم أحمد السيد.

مراجعة على الدرس الثاني (أغلفة كوكب الأرض .. الأهمية والعلاقة التفاعلية)

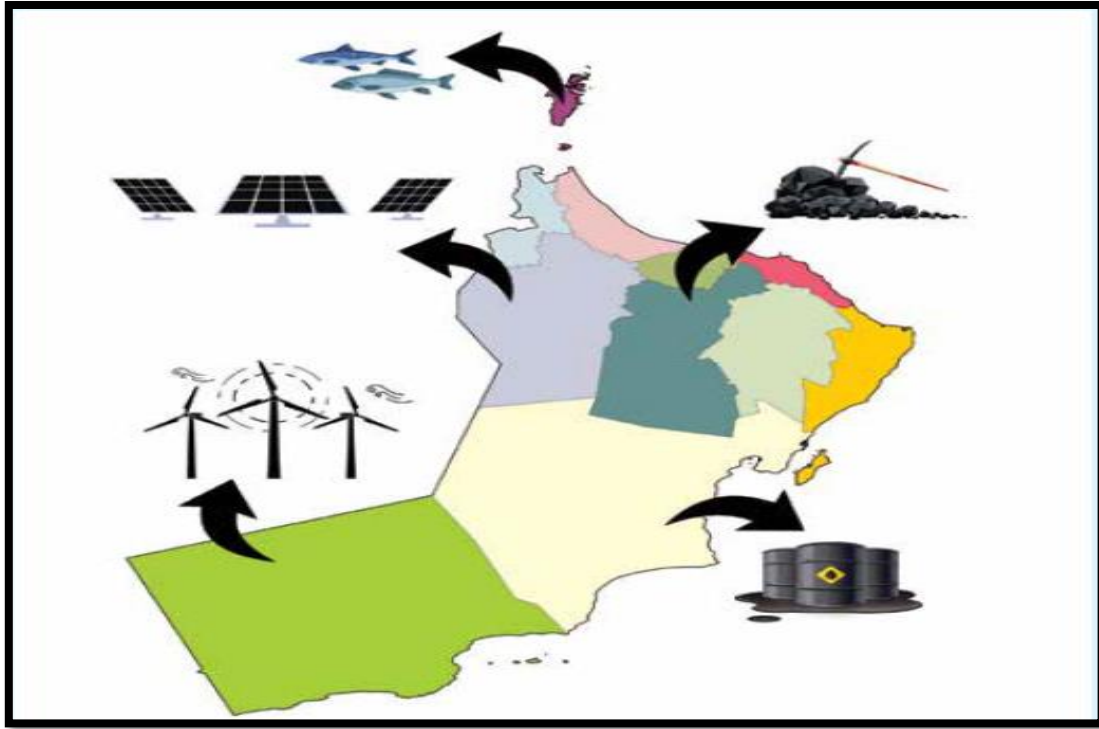
نشاط صفي :

1- قارن بين الموارد المتجددة والموارد الغير متجددة من حيث المفهوم والامثلة على كل منهما؟

الموارد الغير متجددة	الموارد المتجددة	
		المفهوم
		امثلة

نشاط صفي :

1- توضح الخريطة التالية بعض الموارد الطبيعية في سلطنة عمان ادرسها جيدا ثم أكمل الجدول الذي يليها:



المحافظة	اسم المورد	نوعه (متجدد- غير متجدد)
محافظة مسندم		
محافظة ظفار		
محافظة الوسطى		

نشاط صفي :

1- ارسم خريطة مفاهيمية للأهمية الاقتصادية للموارد الطبيعية ؟

نشاط صفي :

أولا :

1- الى ماذا تشير الصورة ؟



2- استنتج الهدف الذي ركزت عليه الصورة فيما يتعلق بالموارد الطبيعية ؟

3- اذكر خطط إدارة الموارد الطبيعية واستدامتها في سلطنة عمان ؟

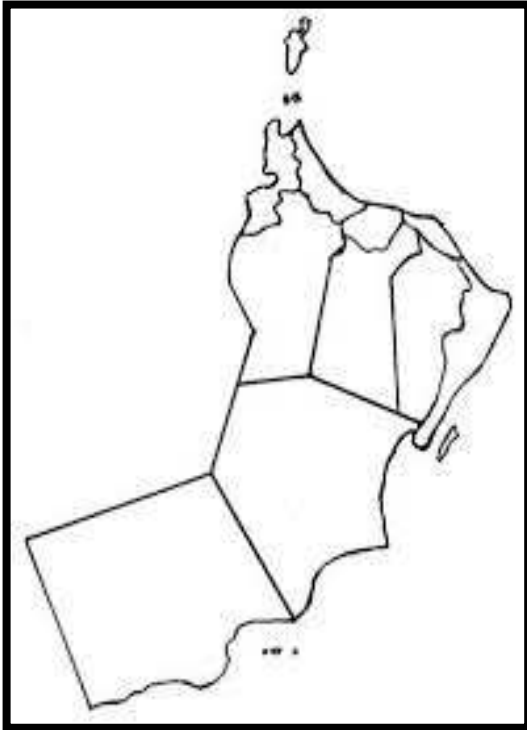
•
•

ثانيا :

1- امامك خريطة صماء لسلطنة عمان ، ادرسها جيدا ومن ثم وقع عليها كلا من :

(أ) محافظة استخدمت طاقة الرياح لتوليد الكهرباء في عام 2019م .


(ب) المحافظة التي يوجد بها سد وادي ضيقة .



إعداد: أ. مريم أحمد السيد.

مراجعة الدرس الثالث (الموارد الطبيعية .. الأنواع والاهمية)

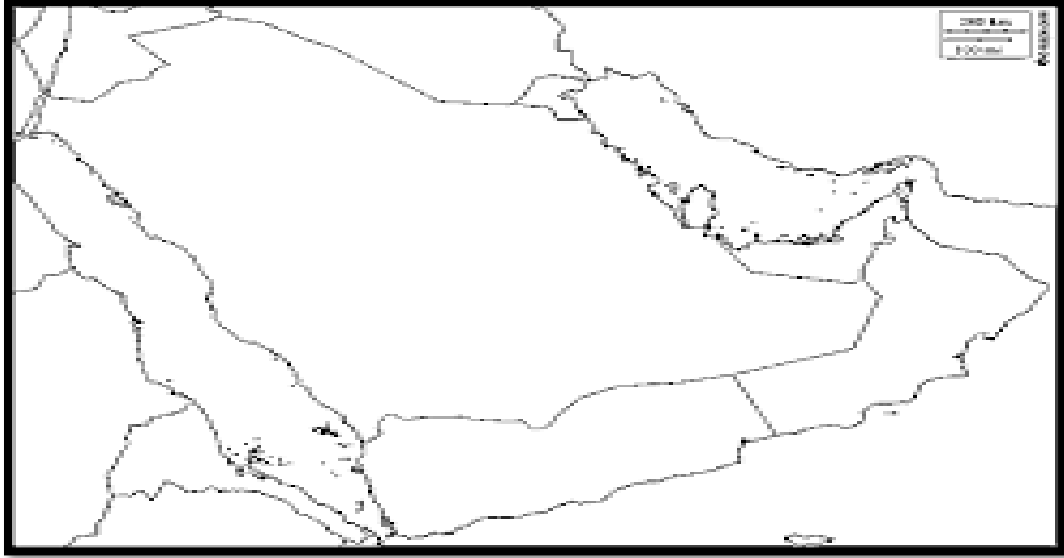
الوَخْدَةُ
الثَّانِيَّةُ



الدَّوْلَةُ الْإِسْلَامِيَّةُ
وَعُومَانُ فِي عَهْدِ
الرَّسُولِ مُحَمَّدٍ ﷺ

نشاط صفي :

1- أمامك خريطة صماء لشبه الجزيرة العربية ، ادرسها جيدا ومن ثم وقع عليها الاتي :




أ) مكة – المدينة .

ب) ارسم خط سير هجرة الرسول صلى الله عليه وسلم .

2- عدد أدوار المسجد في عهد الرسول محمد صلى الله عليه وسلم ؟

-
-

نشاط صفي :



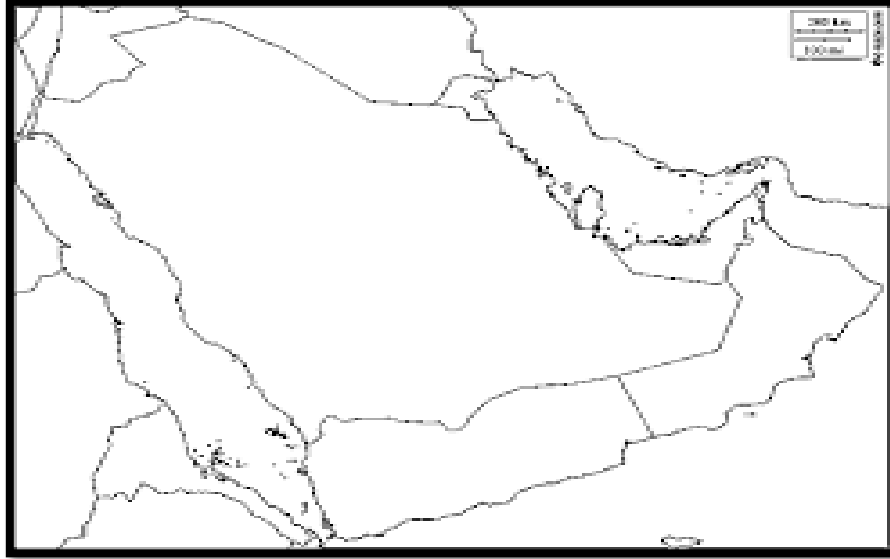
1- اذكر أهم البنود التي تضمنتها الصحيفة التي وضعها الرسول صلى الله عليه وسلم لتنظيم حياة المجتمع؟

-
-

2- " اهتم الرسول صلى الله عليه وسلم باستقرار مجتمع المدينة المنورة " . وضح ذلك؟

نشاط صفي :

1- أمامك خريطة صماء لشبه الجزيرة العربية ، ادرسها جيدا ومن ثم وقع عليها أهم المناطق التي شملتها الفتوحات الإسلامية في عهد الرسول صلى الله عليه وسلم ؟




2- أكمل العبارات التالية بما يناسبها :

- وقعت غزوة بدر في السنة
- آخر غزوة شارك فيها الرسول هي

إعداد: أ. مريم أحمد السيد.

مراجعة الدرس الأول (الدولة الإسلامية في عهد الرسول محمد صلى الله عليه وسلم)

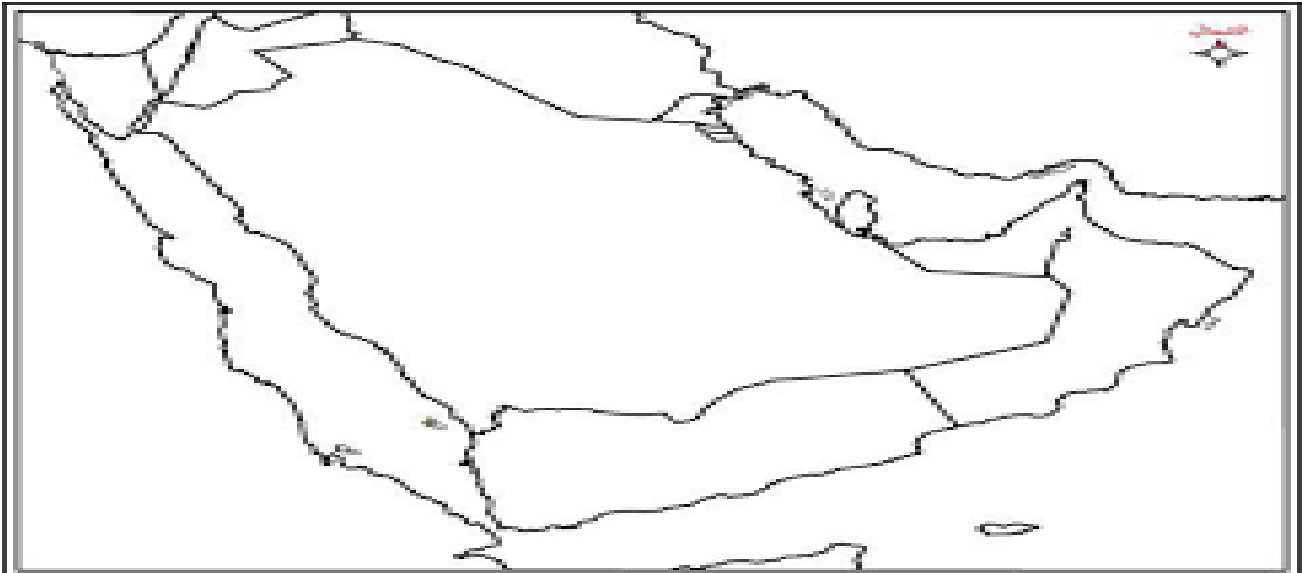
نشاط صفي :



1- أمامك صورة توضح رسالة الرسول صلى الله عليه وسلم الى اهل عمان ، ادرسها جيدا ومن ثم اجيب على الأسئلة التي تليها :

اسم ملكي عمان	
حامل رسالة الرسول لأهل عمان	
موقف أهل عمان من رسالة الرسول	

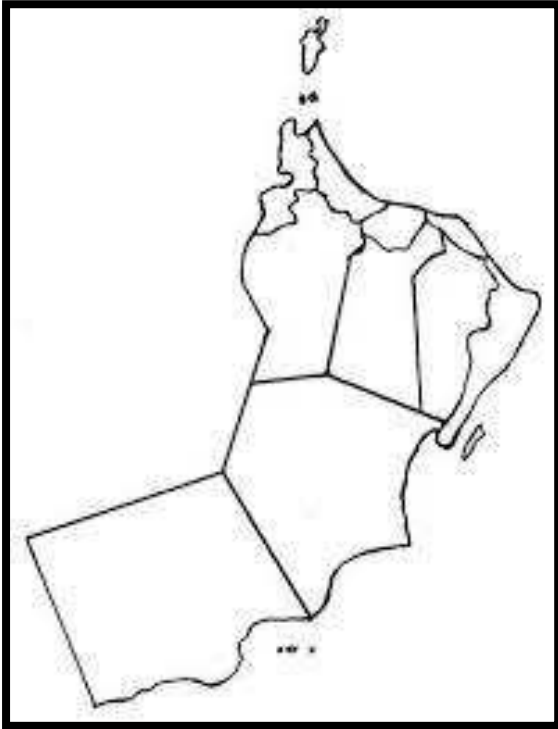
2- أمامك خريطة صماء لشبه الجزيرة العربية ، ادرسها جيدا ومن ثم وقع عليها التالي :



- (أ) عاصمة الدولة الإسلامية .
(ب) عاصمة عمان
(ت) خط سير عمرو بن العاص الى عمان.

نشاط صفي :

1- أمامك خريطة صماء لسلطنة عمان ، ادرسها جيدا ومن ثم اجيب على الأسئلة التي تليها :



(أ) وقع على الخريطة المدينة التي احتلها الفرس ؟

(ب) : ارسل جيفر برسالة الى الفرس يدعوهم الى الإسلام " ..

• ما موقف الفرس من رسالة الدعوة الى الإسلام ؟

• اشرح موقف أهل عمان من رد الفرس ؟

2- علل/ لمعت أسماء بعض المدن العمانية واشتهرت اقتصاديا ؟

نشاط صفي :



1- أمامك خريطة لسلطنة عمان ، ادرسها جيدا ومن ثم اكتب الرقم الدال على الإجابة :

أ) ينتمي اليها أول من أسلم من أهل عمان .

ت) كانت عاصمة عمان وهناك وصلت رسالة الرسول .

ج) كانت ميناءا رئيسيا في جنوب عمان .

د) سميت قديما بتوام وهي واحة زراعية .

2- اذكر أهم المساجد التي بناها العمانيون وكان لها دور في التعليم ؟

-
-

إعداد: أ. مريم أحمد السيد.

مراجعة درس (عمان في عهد الرسول محمد صلى الله عليه وسلم)

نشاط صفي :

1- قارن في الجدول التالي بين إسهامات وصفات كل من كعب بن برشة الطاحي وأبو صفرة العتكي

أبو صفرة العتكي	كعب بن برشة الطاحي	
		الإسهامات
		الصفات

نشاط صفي :

1- انسب الاعمال التالية للشخصية التي اشتهرت بها
(كان قارنا للكتب السماوية – اشتهر بفصاحة اللسان والشجاعة – رافق مازن بن غضويه
في رحلته الى المدينة المنورة - عرف بحبه للخير والمعرفة)

أبو صفرة العنكي	كعب بن برشة الطاحي	صالح بن المتوكل	سلمة بن عياذ الازدي

مراجعة دس (شخصيات عمانية في عهد الرسول محمد صلى الله عليه وسلم)

الوَحدة
الثالثة



وطنني عُمانُ..
الحقوقُ والواجباتُ

نشاط صفي :

1- صنف العبارات التالية الى حقوق وواجبات :
(الدفاع عن الوطن - التعليم - الصحة - الحفاظ على نظافة البيئة)

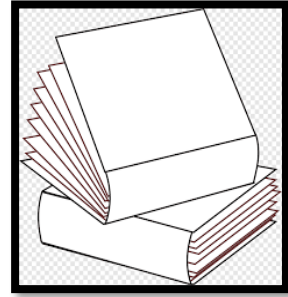
الواجبات	الحقوق

2- قارن بين مفهومي الحقوق والواجبات ؟

الواجبات	الحقوق

نشاط صفي :

1- توضح الصور التالية أمثلة على الحقوق التي تقدم للمواطن ، اكتب اسفل الصورة الحقوق التي نص عليها النظام الأساسي للدولة :



نشاط صفي :

1- صل بخط بين العمود (أ) وما يناسبه في العمود (ب) :



• مشاركة الاسرة في اعمالها .

• الالتزام بالأخلاق الحسنة.

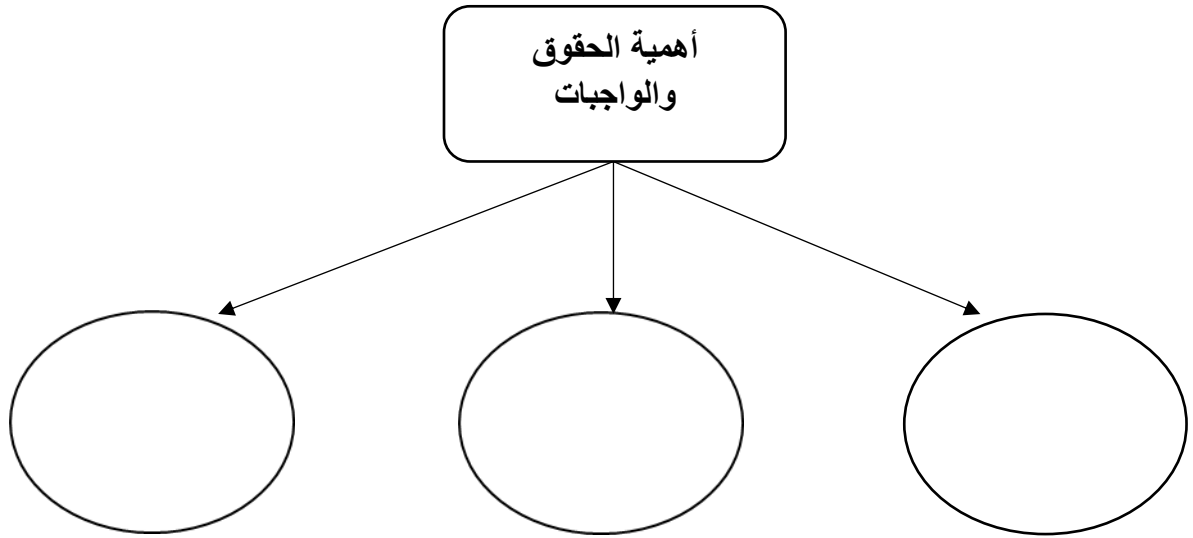
• احترام العادات والتقاليد



2- عرف مفهوم الواجبات ؟

نشاط صفي :

1- أكمل المخطط التالي والذي يوضح أهمية الحقوق والواجبات :



إعداد: أ. مريم أحمد السيد.

مراجعة درس (حقوق المواطن وواجباته)

نشاط صفي :

1- " أنشأت سلطنة عمان لمواطنيها مؤسسات تضمن لهم حقوقهم كاملة : ، في ضوء العبارة السابقة أجب على الأسئلة التالية :

أ) عدد اثنين من هذه المؤسسات ؟

-
-

ب) اذكر اختصاصات مؤسسة واحدة فقط ؟



2- وضح أهم الاعمال التي تقوم بها اللجنة العمانية لحقوق الانسان ؟

-
-



1- أمامك خريطة صماء لسلطنة عمان ،
ادرسها جيدا ومن ثم وقع عليها :

• موقع الجمعية العمانية للأشخاص
ذوي الإعاقة .

• العام الذي أنشئت فيه الجمعية ؟



2- توضح الصورة المقابلة الى شخصية عمانية وضعت منظومة
قيمية لحقوق الانسان..

أ) اذكر اسم الشخصية ؟

ب) عدد أهم الاعمال التي قام بها ؟

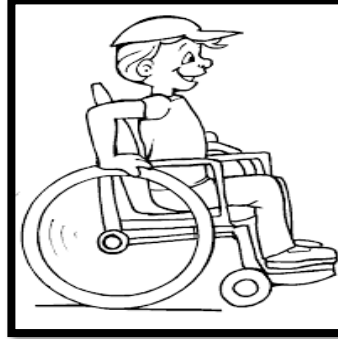
-
-

نشاط صفي :

1- أكمل العبارات التالية بما يناسبها :

- انضمت سلطنة عمان الى اتفاقية حقوق الطفل عام
- خصصت سلطنة عمان يوما للمرأة العمانية في يوم

2- أكتب أسفل كل صورة البند الذي تضمنته اتفاقية حقوق الطفل :



إعداد: أ. مريم أحمد السيد.

مراجعة درس (حقوق المواطن .. المؤسسات الوطنية والاتفاقيات الدولية)