

تم تحميل هذا الملف من موقع المناهج العُمانية



\*للحصول على أوراق عمل لجميع الصفوف وجميع المواد اضغط هنا

<https://almanahj.com/om>

\* للحصول على أوراق عمل لجميع مواد الصف الخامس اضغط هنا

<https://almanahj.com/om/5>

\* للحصول على جميع أوراق الصف الخامس في مادة اجتماعيات ولجميع الفصول, اضغط هنا

<https://almanahj.com/om/5social>

\* للحصول على أوراق عمل لجميع مواد الصف الخامس في مادة اجتماعيات الخاصة بـ الفصل الثاني اضغط هنا

<https://almanahj.com/om./5social2>

\* لتحميل كتب جميع المواد في جميع الفصول للـ الصف الخامس اضغط هنا

<https://almanahj.com/om./grade5>

للتحدث إلى بوت المناهج العمانية على تلغرام: اضغط هنا

[https://t.me/omcourse\\_bot](https://t.me/omcourse_bot)



المديرية العامة للتربية والتعليم بمحافظة شمال الشرقية  
دائرة التقويم التربوي  
قسم الاختبارات والمقاييس

الدرجة النهائية

امتحان الصف الخامس

للعام الدراسي ١٤٣٦-١٤٣٧هـ / ٢٠١٥ - ٢٠١٦م  
البور الثاني - الفصل الدراسي الثاني المادة: الدراسات الاجتماعية

- المادة: الدراسات الاجتماعية
- زمن الإجابة: ساعة ونصف
- عدد صفحات أسئلة الامتحان: ٦ صفحات
- الإجابة في نفس الورقة

### بيانات الممتحن

اسم الطالب:	
الصف:	اسم المدرسة:

### تصحيح الورقة الامتحانية

السؤال	الدرجة بالأرقام		الدرجة بالحروف	التوقيع (بالاسم)	
	آحاد	عشرات		المصحح (اللون الاحمر)	المدقق (باللون الاخضر)
١					
٢					
٣					
٤					
٥					
٦					
٧					
المجموع			جمعه (باللون الاحمر)	مراجعة الجمع والتنشيط (باللون الازرق)	

السؤال الأول:

اختر الإجابة الصحيحة من بين البدائل المعطاة بوضع دائرة حول رمز الإجابة الصحيحة:

١- السنة الهجرية التي قامت فيها الدولة الأموية:

د - ٤٣

ج- ٤٢

ب- ٤١

أ- ٤٠

٢- من الخلفاء الأقوياء في الدولة العباسية:


د-المستعين.

ج-المنتصر.

ب-المأمون.

أ-المتوكل.

٣- الصورة التي تشير إلى الموقع الأثري العماني:



٤- زيادة عدد السكان من سنة إلى أخرى بسبب الزيادة الطبيعية والهجرة:

ب-التعداد السكاني.

أ-النمو السكاني.

د-الهجرة السكانية.

ج-الكثافة السكانية.

٥- المصطلح الذي يدل عليه التعريف " إعطاء شيء إلى الآخرين مع الحاجة إليه".

د-الأخوة

ج-الإيثار

ب-التعاون

أ- الرحمة


امتحان الصف الخامس

للعام الدراسي ١٤٣٦-١٤٣٧ هـ / ٢٠١٥ - ٢٠١٦ م  
الدور الثاني - الفصل الدراسي الثاني المادة: الدراسات الاجتماعية

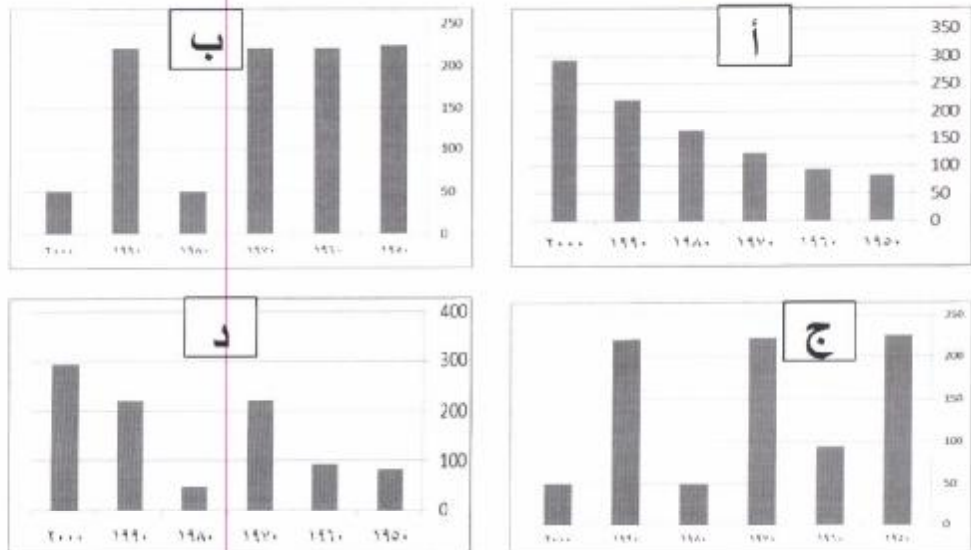
٦- الجدول الصحيح لقادة الجيوش الإسلامية في المشرق في العهد الأموي:

معاوية بن حديج	المهلب بن أبي صفرة	طارق بن زياد	عقبة بن نافع
حسان بن النعمان	قتيبة بن مسلم	موسى بن نصير	زهير بن قيس
عبدالرحمن الغافقي	محمد بن القاسم	الحجاج بن يوسف	موسى بن نصير
د	ج	ب	أ

٧- الصناعة التقليدية العمانية:



٨- الأعمدة البيانية الدالة على نمو السكان بالوطن العربي منذ ١٩٥٠ إلى ٢٠٠٠ م:



امتحان الصف الخامس

للعام الدراسي ١٤٣٦-١٤٣٧هـ / ٢٠١٥-٢٠١٦م  
المور الثاني - الفصل الدراسي الثاني المادة: الدراسات الاجتماعية

٨

السؤال الثاني:

أولاً: أ- اكتب المصطلح الصحيح أمام كل عبارة في الجدول التالي:

.....	المكان الذي يلتقي فيه العمانيون في مناسبات الفرح أو الحزن.
.....	رعاية ومساعدة أفراد المجتمع بعضهم بعضاً، ولاسيما فقراء الناس والضعفاء منهم كالأيتام والعجزة.

ب- فسر: اهتمام سلطنة عمان بالنشاط الزراعي.

.....  
.....

ثانياً: صنف الدواوين الإسلامية حسب الإقليم الذي تنتمي إليه (الزمام، الجند، الخراج، المظالم)

العباسي	الأموي	العصر
.....	.....	الدواوين

ثالثاً: أدرس الصورة التالية، ثم أجب عن الأسئلة التي تليها:



أ- صف السلوك الذي توضحه الصورة.

.....  
.....

ب- عبر عن رأيك عن السلوك الذي توضحه الصورة.

.....  
.....

ج- أكتب جملة تعبر فيها عن رفضك لمثل هذا السلوك.

.....  
.....

السؤال الثالث:

أولاً: أجب عما يأتي:

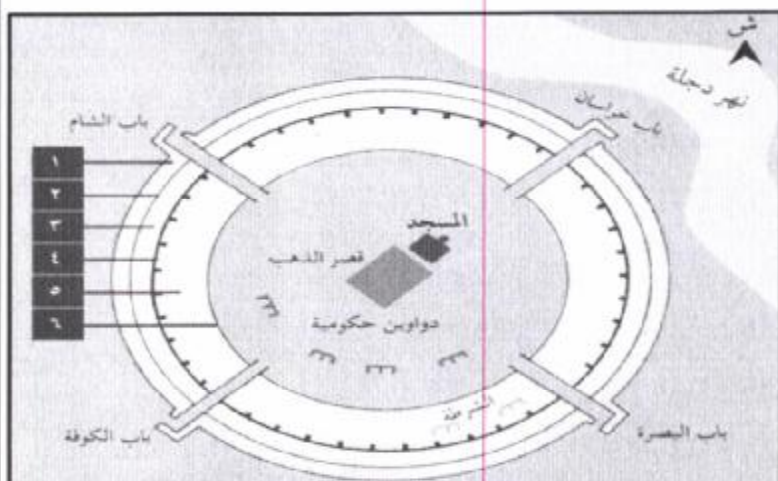
أ- ما المشكلات التي تعاني منها المدينة العربية؟

.....  
.....

ب- فسر: اجتماع الناس مع بعضهم البعض أمر ضروري.

.....  
.....

ثانياً: أمامك مخطط لمدينة بغداد في العصر العباسي أدرسه ثم أجب عن الأسئلة الآتية:



أ- ما الباب الذي يقع في الجهة الشمالية الغربية؟

.....

ب- أذكر نوعين من التحصينات التي تحمي المدينة من اقتحام العدو لها.

.....

.....

.....

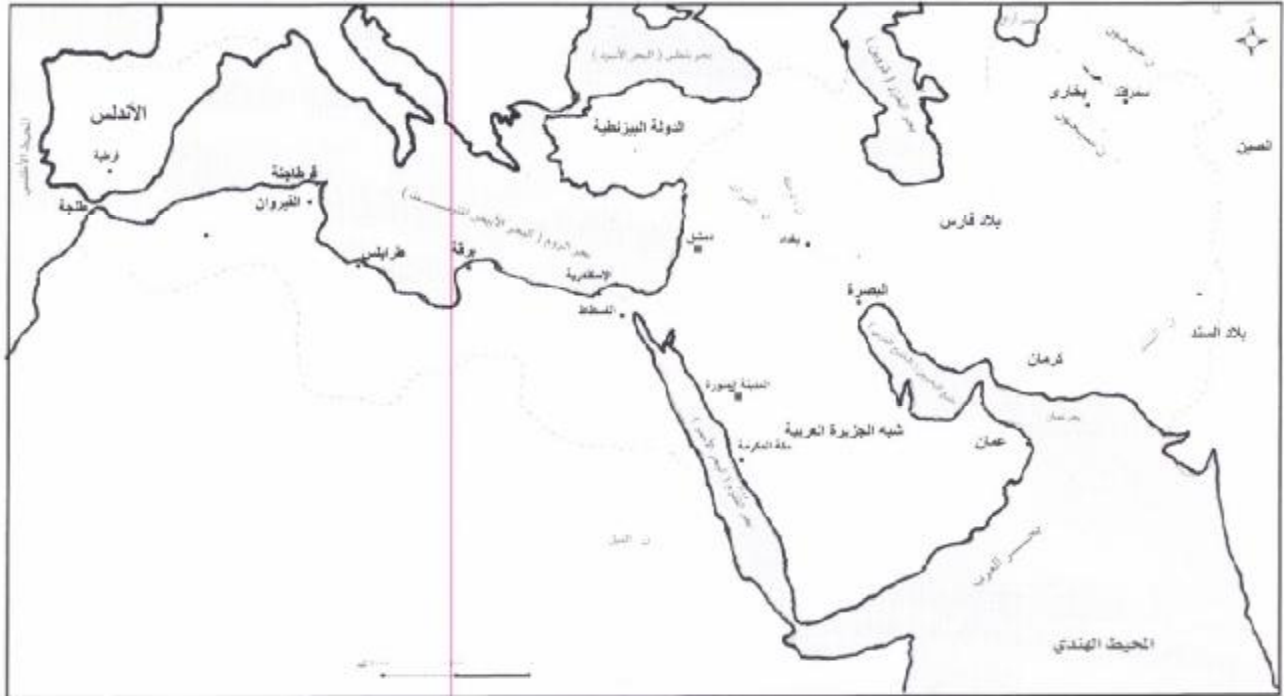
.....

ج- لماذا أقيمت المدينة بجانب نهر دجلة؟

.....

.....

ثالثاً: أنظر إلى الخريطة الآتية ثم أجب عن الأسئلة التي تليها:



أ - ظلل على الخريطة المناطق التي فتحها طارق بن زياد.

ب - الدولة التي تحدد الدولة الأموية من جهة الشرق.

ج- قال عقبة بن نافع (والله يارب لولا هذا البحر لمضيت مجاهداً في سبيلك))  
البحر الذي يعنيه عقبة في هذه المقالة .....

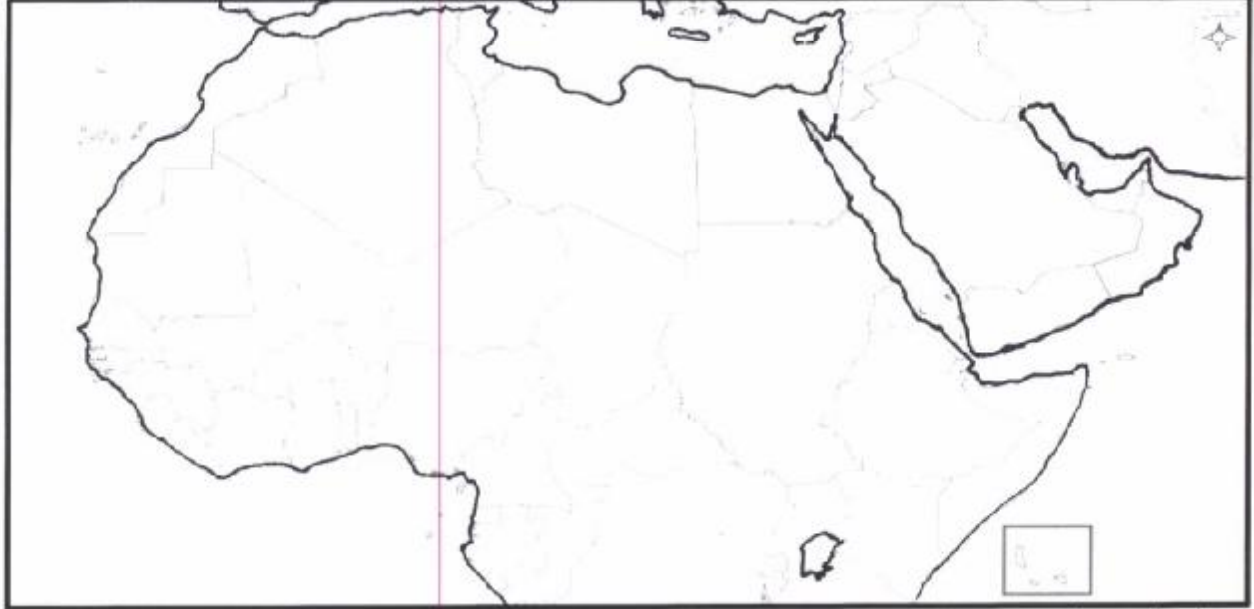
السؤال الرابع:

أولاً: أجب عما يأتي:

أ - أذكر مثالا على الأبنية العمرانية التي بناها الأمويون.

ب-علل: نشطت التجارة في العهد العباسي.

ثانياً: ادرس خريطة الوطن العربي ثم أجب عن الأسئلة التي تليها.



أ- أرسم مفتاح رسم للرموز التي في الجدول التالي.

ب- أنقل الرموز السياحية إلى موقعها الصحيح في الخريطة.

المعلم السياحي		الدولة
الأهرام	المناظر الطبيعية	
		السعودية
	◇	ليبيا
△		مصر

ثالثاً: أحد المستثمرين العمانيين أراد أن ينشئ مصنعاً للتعددين فأعطى موقعين ليختار أحدهما فطلب منك أن تساعد على اتخاذ القرار، ادرس الموقعين ثم أجب عن الأسئلة التي تليها:

الموقع	المواد الخام	القرب من الأسواق	مصادر الطاقة	طرق المواصلات
الموقع (أ)	يتوفر الحديد والنحاس	ميناء ومطار تبعد ١٠٠ كلم	توفر الغاز	طريق سريع
الموقع (ب)	تتوفر الأخشاب والقطن	تبعد عن الميناء ٢٠٠ كلم	يتوفر النفط	طريق سريع

- أي الموقعين الأفضل للاستثمار؟ ولماذا؟






نموذج اجابة امتحان الصف الخامس

للعام الدراسي: ١٤٣٥ / ١٤٣٦ هـ - ٢٠١٥ / ٢٠١٦ م

الدور الأول - الفصل الدراسي الثاني

المادة: الدراسات الاجتماعية	الدرجة الكلية: ٤٠ درجة
تنبيه: نموذج الاجابة في ( ٣ ) صفحات	
السؤال الأول	

المفردة	الإجابة	الدرجة	الصفحة
١	ب- ٤١	٢	١٠
٢	ب- المأمون .	٢	٢٥
٣		٢	٧٣
٤	أ- النمو السكاني.	٢	٤٠
٥	ج- الايثار	٢	٨٢
٦	المهلب بن أبي صفرة قتيبة بن مسلم محمد بن القاسم ج	٢	١٢
٧		٢	٦٣
٨		٢	٣٩


نموذج اجابة السؤال الثاني ( ٨ ) درجات

الجزئية	المفردة	الإجابة الصحيحة	الدرجة	الصفحة
أولاً: أ	١	السبلة	١	١٠٠
أولاً: أ	٢	التكافل الاجتماعي	١	٧٩

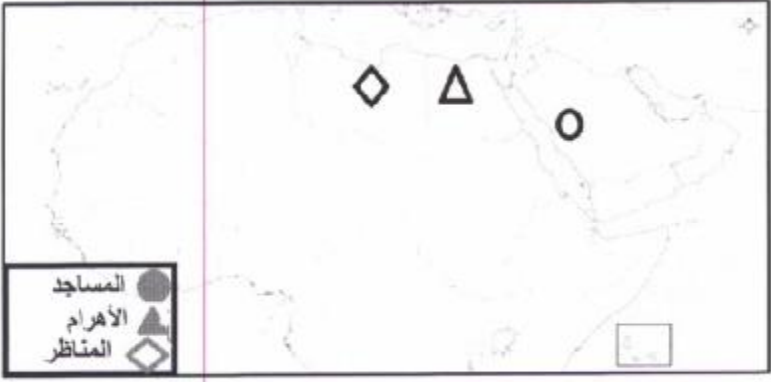
الصفحة	الدرجة	الإجابة الصحيحة	المفردة	الجزئية
٥٤	١	- توفر فرص عمل للسكان - توفر الغذاء - توفر المواد الخام للصناعة - مصدر مهم للدخل الوطني	-	أولاً: ب
		يعطى الطالب درجة إذا ذكر إحدى المفردات		المعيار
٢٨ ٢٠	٢	العصر الديوان الأموي الجند العباسي المظالم الخراج الزمام	-	ثانياً
		لكل مفردة نصف درجة = ٢		المعيار
٩٢	١	- قيام السائق بإيقاف سيارته في مكان مخصص للمعوقين	أ	ثالثاً:
٩٢	١	يقبل رأي الطالب ويراعي الأسلوب	ب	ثالثاً
٩٢	١	- يشترط في الجمل أن ترفض السلوك أو نصيحة	ج	ثالثاً
		يشترط كتابة الفترة		المعيار
٨		المجموع		

### نموذج إجابة السؤال الثالث ( ٨ ) درجات

الصفحة	الدرجة	الإجابة الصحيحة	المفردة	الجزئية
٤٨	١	- ارتفاع الكثافة السكانية (الازدحام) - الاختناقات المرور -نقص الخدمات -التلوث -عدم كفاية الإسكان -نقص المسطحات الخضراء	أ-	أولاً:
		يكتفى بإجابة واحدة		المعيار
٧٦	١	- الإنسان اجتماعي بطبعه لا يستطيع العيش في معزل عن الآخرين - اعتماده في حاجاته على الآخرين - لا يستطيع أن يوفر جميع حاجاته	ب	أولاً
		يكتفى بإجابة واحدة		المعيار
٣٠	١	- باب الشام	أ	ثانياً:
	١	- السور -الخنق	ب	
٤٦	١	- حيث تتوافر المياه والتربة الخصبة للزراعة / سهولة التنقل بالنهر	ج-	
		يكتفى بإجابة واحدة		المعيار
١٧	١		أ	ثالثاً:

				
	١		ب	ثالثا:
١٤	١		ج	ثالثا
	٨			المجموع

نموذج إجابة السؤال الرابع ( ٨ ) درجات

الصفحة	الدرجة	الإجابة الصحيحة	المفردة	الجزئية
٢١ - ٢٢	١	- قصر عمرة - قبة الصخرة - المسجد الأموي - المسجد الأقصى - قصر المشتى - قصر الرصافة	أ-	أولا:
٣٢	١	- تزايد عدد السكان وازدياد حاجاتهم - كثرة الأموال - تقدم الصناعة والزراعة - زيادة ثروة الدولة	ب-	
٦٢ ٧١	٣			ثانيا
		- رسم المفتاح له درجة ونصف لكل رمز في المفتاح نصف درجة - توزيع الرموز في أماكنها الصحيحة درجة ونصف لكل نصف درجة		المعيار
٦٢	١ ٢	- الموقع ( أ ) - لأنه تتوفر فيه المقومات ( مواد أولية - الموقع القريب - النقل - توفر الطاقة) أما الثاني فالمواد الخام غير مناسبة للتعددين والموقع بعيد	أ-	ثالثا
	٨			المجموع