

تم تحميل هذا الملف من موقع المناهج العمانية



نشاط فردي على درس شبه الجزيرة العربية وعمان قبل الإسلام

[موقع المناهج](#) ⇨ [المناهج العمانية](#) ⇨ [الصف الخامس](#) ⇨ [اجتماعيات](#) ⇨ [الفصل الأول](#) ⇨ [الملف](#)

تاريخ إضافة الملف على موقع المناهج: 2024-09-03 18:17:36

التواصل الاجتماعي بحسب الصف الخامس



اضغط هنا للحصول على جميع روابط "الصف الخامس"

روابط مواد الصف الخامس على تلغرام

[الرياضيات](#)

[اللغة الانجليزية](#)

[اللغة العربية](#)

[التربية الاسلامية](#)

المزيد من الملفات بحسب الصف الخامس والمادة اجتماعيات في الفصل الأول

<a href="#">كتاب المادة</a>	1
<a href="#">الامتحان النهائي الدور الأول الفترة المسائية لمحافظة شمال الباطنة</a>	2
<a href="#">الامتحان النهائي الدور الأول الفترة المسائية لمحافظة مسقط والداخلية</a>	3
<a href="#">اختبار نهائي رسمي في محافظة الظاهرة</a>	4
<a href="#">اختبار نهائي رسمي في محافظة شمال الشرقية</a>	5


---

المزيد من الملفات بحسب الصف الخامس والمادة اجتماعيات في الفصل الأول



## نشاط فردي على درس عمان وشبه الجزيرة العربية قبل الإسلام

اسم المتفوقة: ..... التاريخ: .....



﴿لَا يَلْبِسُ قُورَيْشٌ﴾ إِذْ لَمْ يَكُنْ فِيهِمْ رِحْلَةُ الشِّتَاءِ وَالصَّيْفِ ﴿١﴾ فَلْيَعْبُدُوا رَبَّ  
هَذَا الْبَيْتِ ﴿٢﴾ الَّذِي أَطْعَمَهُمْ مِنْ جُوعٍ وَآمَنَهُمْ مِنْ خَوْفٍ ﴿٣﴾ ﴿سورة قوريش﴾

- من ديانات شبه الجزيرة التي توضحها الصورة: -
  ١. الوثنية
  ٢. النصرانية
  ٣. اليهودية
  ٤. الحنيفية

- النشاط الذي مارسه العرب قديما وتوضحه الآية الكريمة هو
  ١. الرعي
  ٢. الزراعة
  ٣. الصناعة
  ٤. التجارة

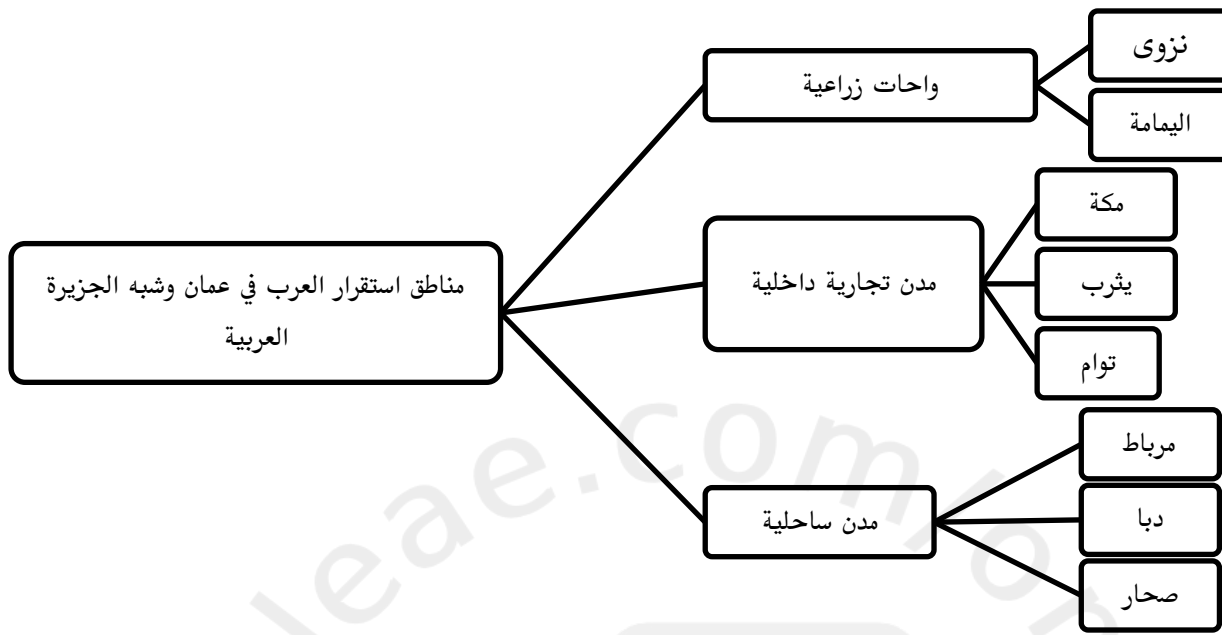
- المسطح المائي الذي يحد شبه الجزيرة من الغرب: -
  ١. أحر عمان
  ٢. البحر الأحمر
  ٣. الخليج العربي
  ٤. دبحر العرب

- الدولة التي تحد شبه الجزيرة من الشمال الشرقي وارتبطت بعلاقات معها: -
  ١. الفرس
  ٢. الروم
  ٣. عمان
  ٤. اليمن

2025

2024

موقع فايلانتي العماني



المقصود بالقبيلة وهي: جماعة من الناس تنتمي في الغالب إلى نسب واحد يرجع إلى جد أعلى وتكون من عدة بطون وعشائر، وغالبًا ما يسكن أفراد القبيلة منطقة مشتركة يعدونها وطنًا لهم، ويتحدثون لهجة مميزة، ولهم ثقافة متجانسة، وتضامن مشترك. أما المملكة فهي: نظام حكم حيث يكون الملك على رأس الدولة وتميز بأن الحكم غالبًا ما يكون لفترة طويلة، وعادة حتى وفاة الملك وينتقل بالوراثة إلى ولي عهده.

التواصل الحضاري بين عُمان وبقية مناطق شبه الجزيرة العربية والمناطق والمجاورة لها كبلاد فارس والروم في الشام ومصر والحبشة في إفريقيا، فقد كانت دولتا الروم وفارس أكبر الإمبراطوريات في تلك الفترة، وقد وصل نفوذهما إلى بعض المناطق في شبه الجزيرة العربية خاصة المناطق الساحلية منها.



أمامك خريطة توضح طرق النقل البرية والبحرية ادرسيها جيدا ثم اجيب عن الأسئلة :

- ضعي دائره على الميناء الذي يقع في أقصى جنوب شبه الجزيرة العربية
- خرج محمد وأحمد في تجاره من مرباط الى العراق سلك احمد الطريق البري وسلك محمد الطريق البحري تتبعي خط سير الرحلتين

- أ- رحلة محمد .....
- ب- رحلة أحمد .....
- ج- السلع التي حملوها ..... و .....
- خرج إبراهيم بقافلته جمال من عمان الى العراق المسار الصحيح للرحلة :-
  - ١. صحار ، اليمامة ، توام ، هجر ، العراق
  - ٢. مرباط ، عدن ، قنا ، مكة ، العراق
  - ٣. مرباط ، صحار ، دبا ، العراق
  - ٤. صحار ، توام ، اليمامة ، هجر ، العراق

أمامك خريطة شبه الجزيرة العربية والدول المحيطة قبيل الإسلام ادرسيها جيدا ثم اجيب عن الأسئلة :



- ١. يشار الى دولة الروم بالرقم .....
- ٢. اسم الدولة المشار اليها بالرقم (٢) .....
- ٣. المدينة رقم (٥) هي .....
- ٤. أكتبي البحر الأحمر في موقعه الصحيح

اجيب عن الاسئلة التالية :

- ١- فسري اعتنق سكان شبه الجزيرة العربية اليهودية والنصرانية .....
- ٢- علي مرور السفن التجارية القادمة من الهند والصين بعمان ؟ .....
- ٣- برأيك ماهي الصعوبات التي تواجه السفن التجارية والقوافل البرية في شبه الجزيرة العربية ؟ .....

• صنفي العبارات التالية الى الجانب الذي تنتمي اليه :

١- انقسم نظام الحكم الى قبائل وممالك.

٢- سكن الحضر البيوت الطينية.

٣- اشتغل سكان شبه الجزيرة العربية بالزراعة.

٤- اعتنق العرب قبل الإسلام الوثنية .

الحياة السياسية	الحياة الاقتصادية	الحياة الاجتماعية	الحياة الدينية

• أكتب المصطلح الدال على العبارة :

١. من الديانات في شبه الجزيرة العربية وهي ملة سيدنا إبراهيم (.....)

٢. يطلق على الجماعات الذين يعيشون حياه الترحال ويسكنون الخيام (.....)

٣. من الجماعات التي ظهرت بعد استقرار البدو ومارسوا الزراعة والتجارة (.....)

تأمل الصورة التالية ثم اجيب عن الاسئلة:

١- الصورة تصف الحياه (السياسية ، الدينية ، الاجتماعية) ..... اختاري

٢- يطلق على الجماعات التي تعيش فيها ب.....

٣- من صفات هذه الجماعات ..... و.....

٤- أكمل الجدول بالاستعانة بالصورة:



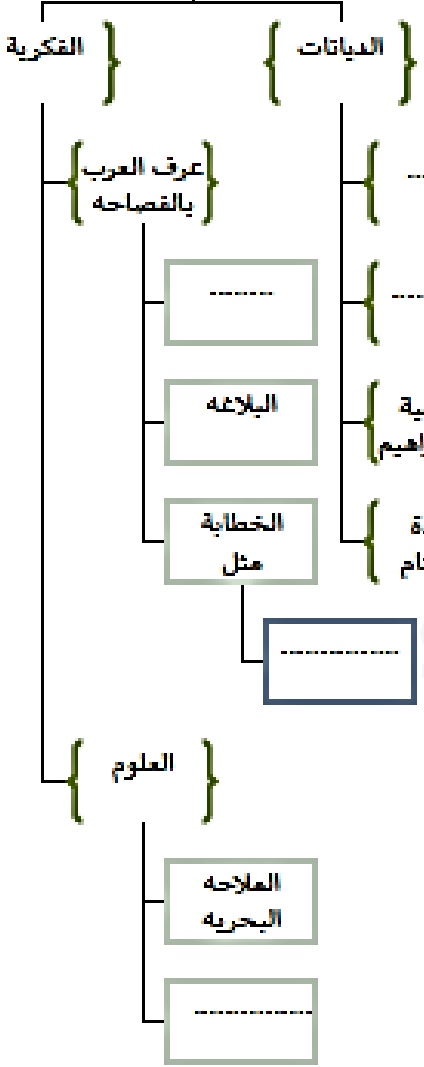
المسكن	
النشاط الاقتصادي	

• بالاستعانة بمفردات الجدول أكملني المخطط التالي :

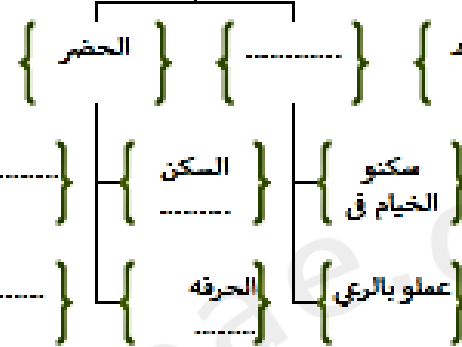
اللصوص	الحياة السياسية	البيوت الطينية	القبيلة	عدن	النصرانية	آل الجلندی
التغيرات المناخية	الحياة الاجتماعية	الزراعة	قريش	مرباط	البدو	مصقلة بن رغبة
الفلك	برية	اليمامة	الشعر	بحرية	اليهودية	حمير

العرب قبيل الإسلام

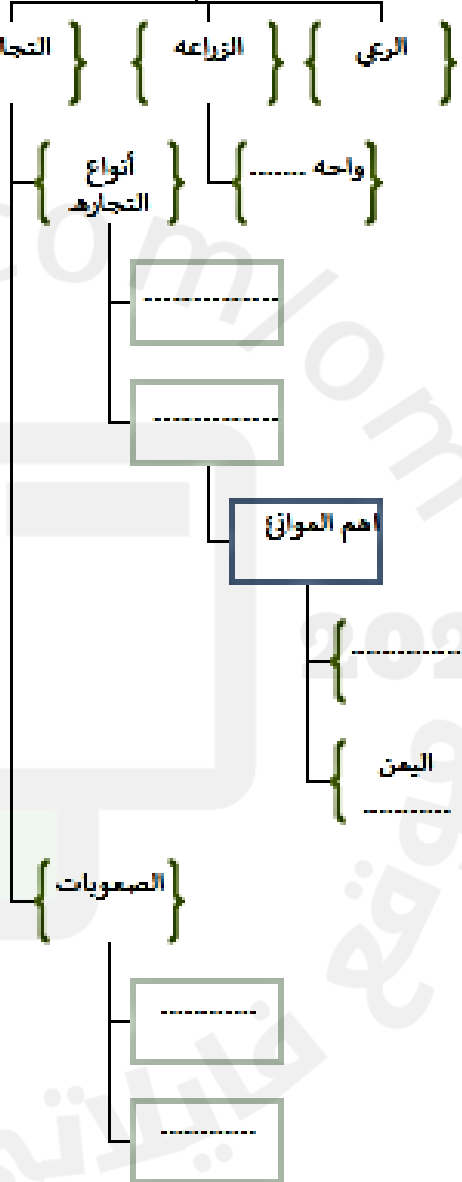
الدينية والفكرية



.....



الحياة الاقتصادية



.....

