

تم تحميل هذا الملف من موقع المناهج العمانية



الامتحان النهائي الرسمي الدور الأول الفترة الصباحية في محافظة جنوب الباطنة

[موقع المناهج](#) ⇨ [المناهج العمانية](#) ⇨ [الصف الخامس](#) ⇨ [اجتماعيات](#) ⇨ [الفصل الثاني](#) ⇨ [الملف](#)

تاريخ إضافة الملف على موقع المناهج: 09:20:51 2024-06-06

التواصل الاجتماعي بحسب الصف الخامس



اضغط هنا للحصول على جميع روابط "الصف الخامس"

روابط مواد الصف الخامس على تلغرام

[الرياضيات](#)

[اللغة الانجليزية](#)

[اللغة العربية](#)

[التربية الاسلامية](#)

المزيد من الملفات بحسب الصف الخامس والمادة اجتماعيات في الفصل الثاني

[الامتحان النهائي الرسمي الدور الأول الفترة الصباحية في محافظة ظفار](#)

1

[الامتحان النهائي الرسمي الدور الأول الفترة الصباحية في محافظة شمال الباطنة](#)

2

[الامتحان النهائي الرسمي الدور الأول الفترة الصباحية في محافظة جنوب الشرقية](#)

3

المزيد من الملفات بحسب الصف الخامس والمادة اجتماعيات في الفصل الثاني

الامتحان النهائي الرسمي الدور الأول الفترة الصباحية في المحافظات مسقط والداخلية والشرقية والوسطى	4
امتحان تحريبي نهائي مع نموذج الإجابة الدور الأول في محافظة ظفار	5

(١)

امتحان الصف: الخامس المادة: الدراسات الاجتماعية الفصل الثاني-الدور: الأول
للعام الدراسي ١٤٤٤ / ١٤٤٥ هـ - ٢٠٢٣ / ٢٠٢٤ م

أجب عن جميع الأسئلة:

السؤال الأول: ضع دائرة حول رمز الإجابة الصحيحة من بين البدائل:

١ - شخصية عُمانية في عهد الرسول ﷺ يمثل أعمالها الشكل الآتي:



ب - كعب بن برشة الطاحي
د - صحرار بن العباس العبدي

أ - أبو صفرة العتكي
ج - سلمة بن عياذ الأزدي

٢ - السنة الهجرية التي حدثت فيها أول غزوة في الإسلام وشارك فيها الرسول ﷺ:
أ - الأولى
ب - الثانية
ج - الثالثة
د - الرابعة

٣ - الغلاف الأرضي الذي تحدث فيه الظاهرة الطبيعية في الشكل المقابل:

ب - الحيوي

أ - الجوي

د - المائي

ج - الصخري



يتبع ٢

(٢)
امتحان الصف: الخامس المادة: الدراسات الاجتماعية الفصل الثاني-الدور: الأول
للعام الدراسي ١٤٤٤ هـ - ٢٣/٢٠٢٤ م

تابع / السؤال الأول:

٤ - المؤسسة التي تشرف على المبادرة الموضحة في الصورة المقابلة:

أ - وزارة التربية والتعليم ب - وزارة العمل

ج - الهيئة العامة للمياه د - هيئة البيئة

٥ - واجب يؤديه المواطن العماني ويعبر عن انتمائه للوطن:

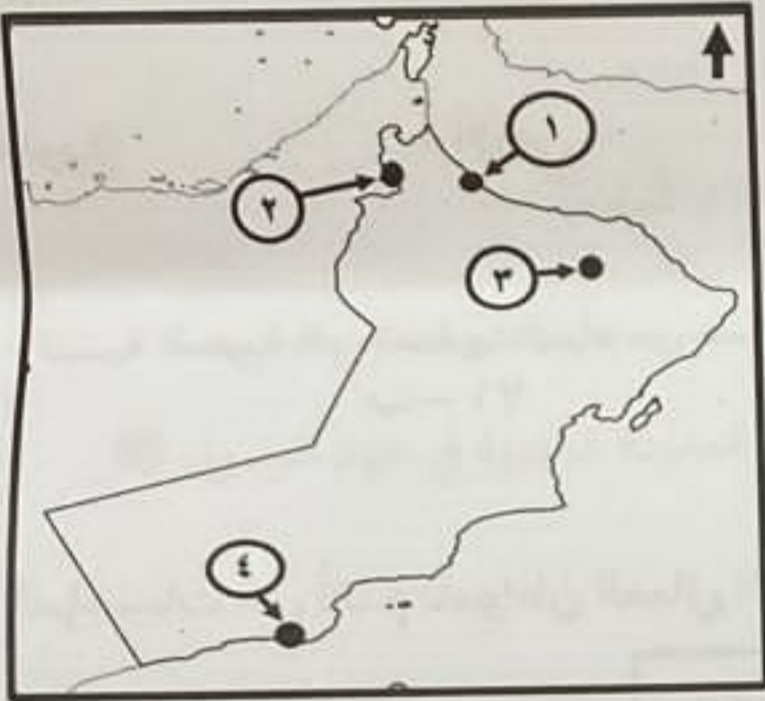
أ - الشعور بالأمن والأمان ب - التعبير عن الرأي

ج - احترام العادات والتقاليد د - الرعاية الصحية

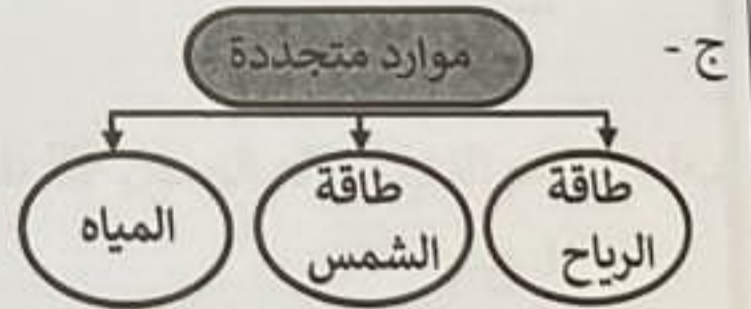
٦ - الرقم الذي يشير إلى موقع المدينة التي ينتمي إليها أول من أسلم من أهل عُمان في الخريطة المقابلة:

أ - ١ ب - ٢

ج - ٣ د - ٤



٧ - المخطط الصحيح الذي يوضح أمثلة الموارد الطبيعية المتجددة:



يتبع ٣

(٣)

امتحان الصف: الخامس المادة: الدراسات الاجتماعية الفصل الثاني-الدور: الأول
للعام الدراسي ١٤٤٤ هـ - ٢٣/٢٠٢٤ م

تابع السؤال الأول:

٨ - يُحتفى بيوم المرأة العمانية في سلطنة عُمان:
أ - ١٧ أكتوبر ب - ١٧ نوفمبر ج - ١٨ أكتوبر د - ١٨ نوفمبر

٩ - الولاية العمانية التي يوجد بها مسجد الشواذنة:
أ - صحار ب - سمائل ج - دبا د - نزوى

١٠ - الكوكب الذي تنطبق عليه المعلومات الواردة أمامك:

١ - الترتيب الثالث في النظام الشمسي
٢ - يطلق عليه الكوكب المائي
٣ - يتميز بوجود حياة

١ - عطارد ب - الزهرة
ج - المريخ د - الأرض

١١ - النسبة المئوية التي تغطيها المياه من مساحة الأرض:
أ - ٧٠ ب - ٧١ ج - ٧٢ د - ٧٣

١٢ - المؤسسات التي تُقدم للمواطن العماني الحقوق الموضحة في الشكل الآتي:



أ - القضائية ب - الأمنية ج - الخدمية د - الدينية

يتبع ٤

امتحان الصف: الخامس المادة: الدراسات الاجتماعية الفصل الثاني-الدور: الأول
للعام الدراسي ١٤٤٤ هـ - ٢٣/٢٠٢٣ - ٢٤/٢٠٢٣ م (٤)

السؤال الثاني:

١٢

أولاً: أ) اكتب اسم المصطلح الدال على العبارات الآتية:

المصطلح	العبرة	م
.....	كتاب أو وثيقة وضعها الرسول صلى الله عليه وسلم، وضح فيها الحقوق والواجبات لسكان المدينة المنورة.	١
.....	حركة الماء من سطح الأرض إلى الغلاف الجوي ثم عودته مرة أخرى.	٢

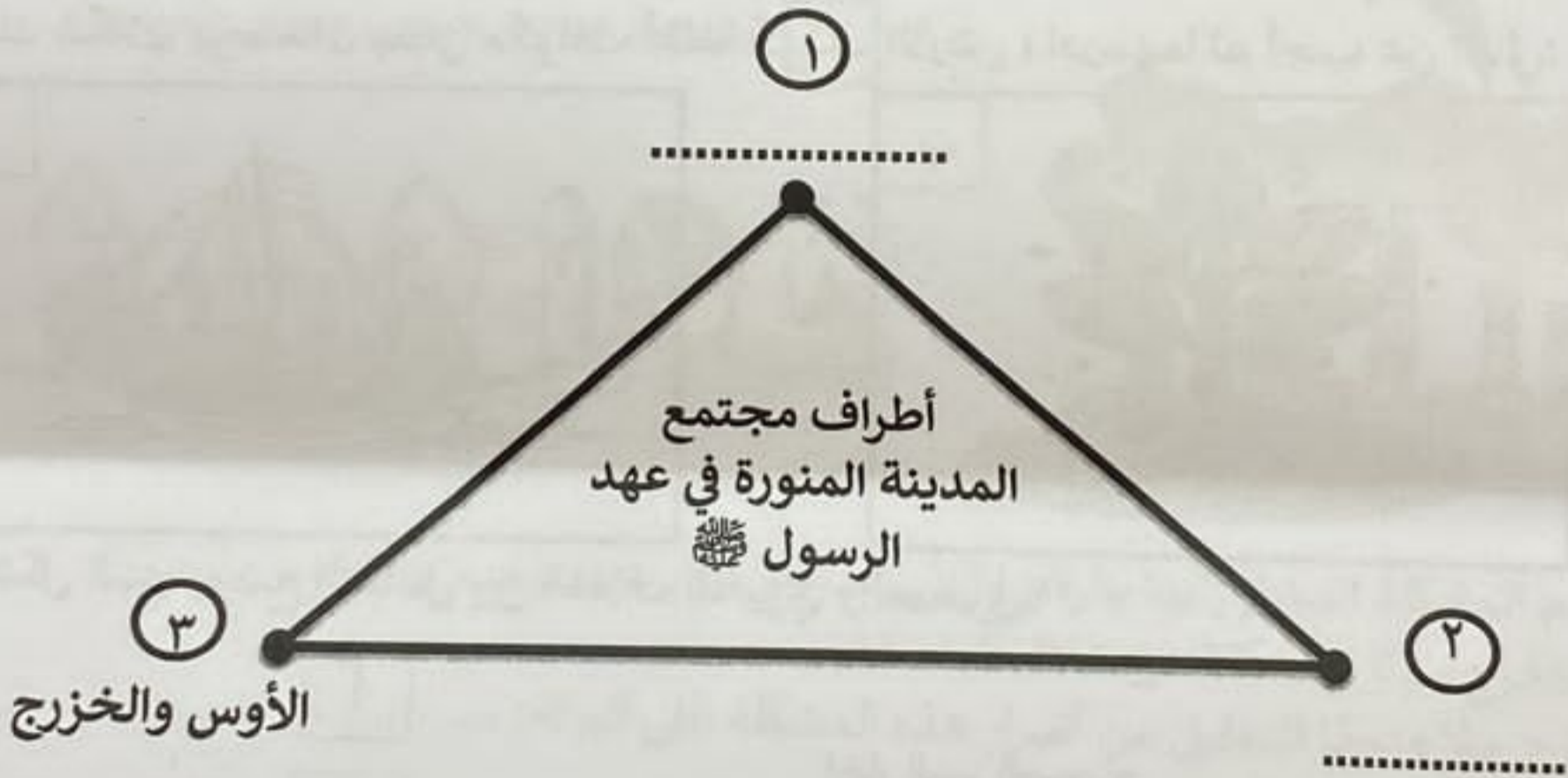
ب) عدد اثنين من الفوائد الاقتصادية للموارد الطبيعية:

-
-

ج) علل: أقر الرسول ﷺ جيفر و عبد أبناء الجلندي على ملك عُمان .

.....

ثانياً: أ) أكمل المخطط الآتي والذي يوضح أطراف مجتمع المدينة المنورة في عهد الرسول ﷺ.



ب) ما الاسم الذي أطلقه الرسول ﷺ للقبيلتين في الفئة (٣) بعد المؤاخاة بينها؟

يتبع ٥

(٥)

امتحان الصف: الخامس المادة: الدراسات الاجتماعية الفصل الثاني-الدور: الأول
للعام الدراسي ١٤٤٤ هـ - ٢٠٢٣/٢٠٢٤ م

السؤال الثالث:

أولاً: صنف العبارات التي تمثل أهمية أغلفة كوكب الأرض لما يناسبها:

٨


مصدر للمعادن - مصدر للأكسجين - مصدر للثروة الحيوانية - مصدر للمياه العذبة

الغلاف الجوي	الغلاف الحيوي	الغلاف الصخري	الغلاف المائي
.....

ثانياً: أكمل الشكل الآتي بكتابة الأدوار التي يؤديها المسجد في عهد الرسول ﷺ:



ثالثاً: أمامك شكلان يوضحان بعض مكونات أغلفة كوكب الأرض ، ادرسهما ثم أجب عن التالي:



ما الشكل الذي يوضح التفاعل بين الغلاف الحيوي والصخري؟

اختر الرمز الصحيح

أ

ب

علل إجابتك:

يتبع ٦

(٦)

امتحان الصف: الخامس المادة: الدراسات الاجتماعية الفصل الثاني-الدور: الأول
للعام الدراسي ١٤٤٤ هـ - ٢٠٢٣/٢٠٢٤ م

السؤال الرابع:

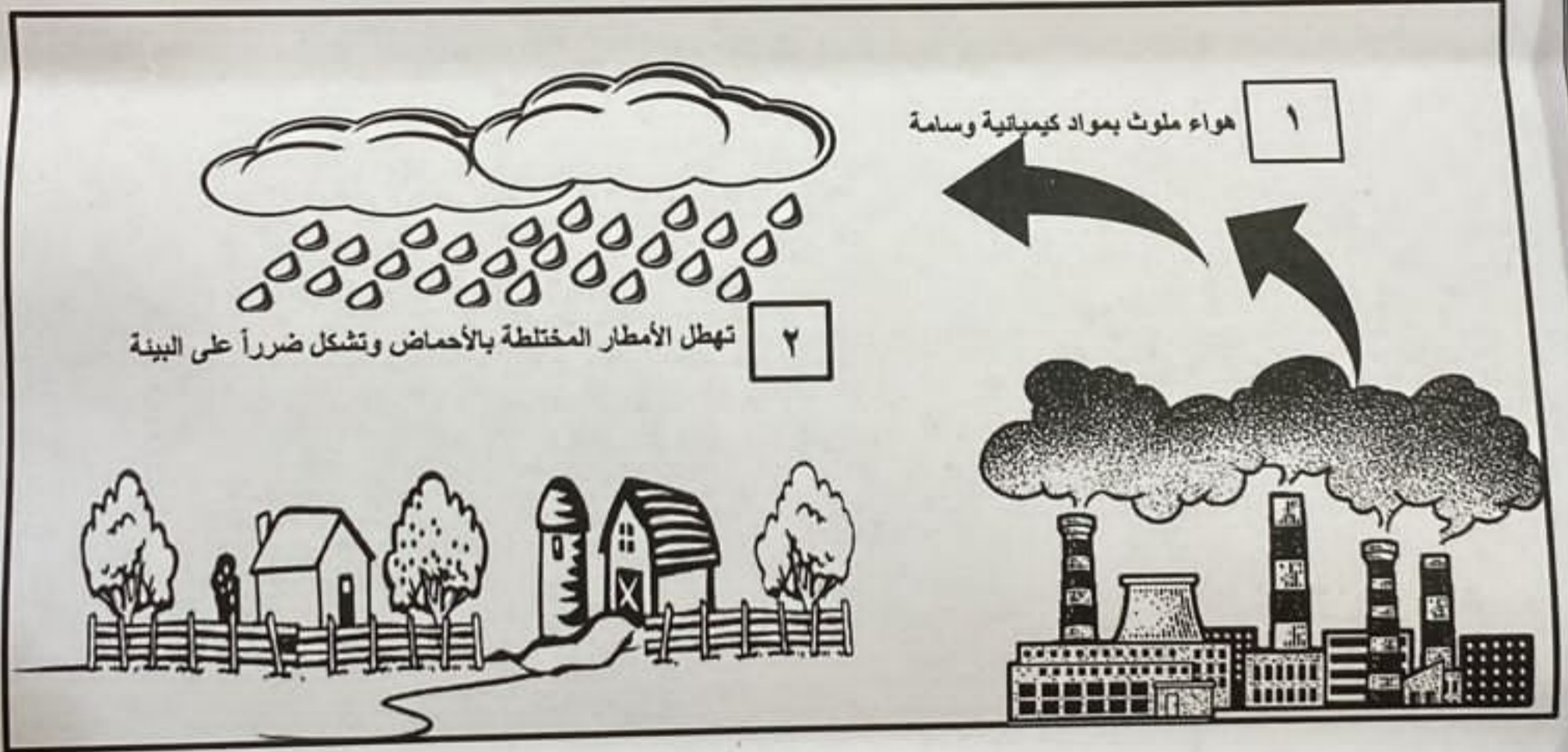
أولاً: أكتب أرقام ثلاث عبارات صحيحة فقط تنطبق على الجمعية المبين شعارها
في الصورة المقابلة:

- (١) تخدم جميع فئات المجتمع
- (٢) أنشئت عام ١٩٩٥ م
- (٣) تخدم ذوي الإعاقة
- (٤) مقرها في صلالة
- (٥) أنشئت عام ٢٠٠٥ م
- (٦) مقرها في مسقط



أرقام العبارات
الصحيحة

ثانياً: أمامك شكل يوضح إحدى المشكلات التي تحدث في أغلفة كوكب الأرض، ادرسه ثم أجب عن
الأسئلة التالية:



- ١- اسم المشكلة المشار إليها بالرقم (٢):
- ٢- استخراج سبباً للمشكلة من خلال الرقم (١)
- ٣- اقترح حلاً واحداً للتقليل من أضرار هذه المشكلة على البيئة:

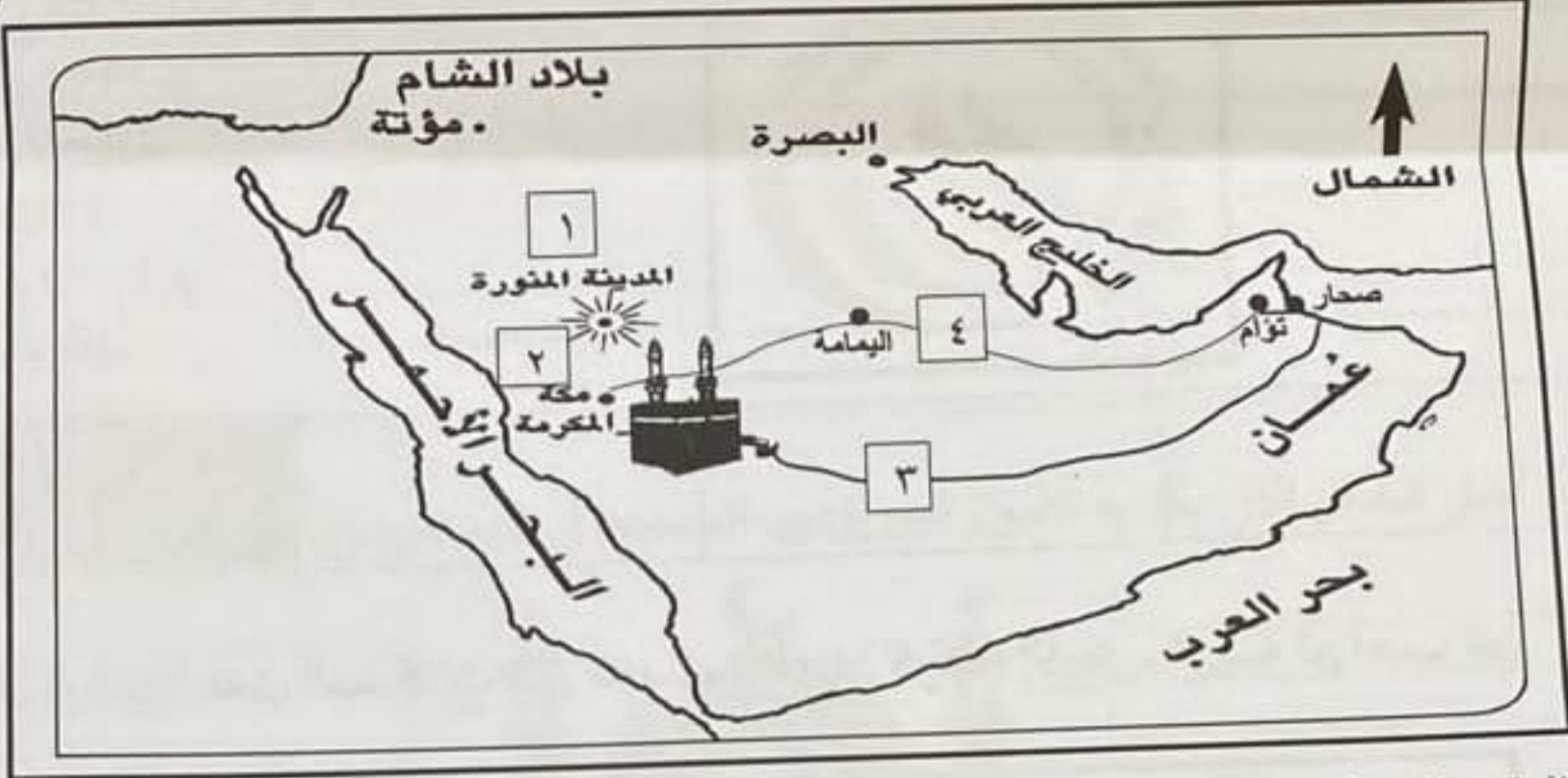
(٧)

امتحان الصف: الخامس المادة: الدراسات الاجتماعية الفصل الثاني-الدور: الأول
للعام الدراسي ١٤٤٤ هـ - ٢٠٢٣/٢٠٢٤ م

السؤال الخامس:

أولاً: استخرج من الخريطة الأرقام التي تُشير إلى ما يلي:

٦



- أ - الرقم الذي يُشير إلى عاصمة الدولة الإسلامية في عهد الرسول.....
ب - الرقم الذي يُشير إلى اسم المدينة التي هاجر منها الرسول ﷺ متجهاً إلى المدينة المنورة.....
ج - الرقم الذي يُشير إلى خط سير عمرو بن العاص لدعوة أهل عمان إلى الإسلام.....

ثانياً: ادرس الصور (١ و ٢) ثم أجب عن الأسئلة الآتية:



٢



١

- أ- ما الواجب الوطني الذي قام به الطالب في الصورة (١)؟
ب- ما رأيك في سلوكيات الطالب في الصورة (٢)؟
ج- ما النصيحة التي تقدمها للحد من هذا التصرف.....

"انتهت الأسئلة ... كل الأمنيات بالتوفيق والسداد"