

مراجعة دروس المنهج من سلسلة ملخصات تميز وتفوق



تم تحميل هذا الملف من موقع المناهج العمانية

موقع فايلاتي ← المناهج العمانية ← الصف الخامس ← اجتماعيات ← الفصل الثاني ← ملفات متنوعة ← الملف

تاريخ إضافة الملف على موقع المناهج: 21:10:03 2025-03-26

ملفات اكتب للمعلم اكتب للطالب الاختبارات الكترونية الاختبارات ا حلول ا عروض بوربوينت ا أوراق عمل
منهج انجليزي ا ملخصات وتقارير ا مذكرات وبنوك ا الامتحان النهائي للمدرس

المزيد من مادة
اجتماعيات:

إعداد: نور محمد الجحفي

التواصل الاجتماعي بحسب الصف الخامس



صفحة المناهج
العمانية على
فيسبوك

الرياضيات

اللغة الانجليزية

اللغة العربية

التربية الاسلامية

المواد على تلغرام

المزيد من الملفات بحسب الصف الخامس والمادة اجتماعيات في الفصل الثاني

بوربوينت ملخص شرح درس أغلفة كوكب الأرض المفهوم والمكونات

1

بوربوينت ملخص شرح درس أغلفة كوكب الأرض

2

بوربوينت ملخص شرح درس الموارد الطبيعية

3

تقرير عن الأمطار الحمضية

4

تقرير عن الموارد الطبيعية

5

بسم الله الرحمن الرحيم
" وقل رب زدني علما "
صدق الله العظيم

سلسلة ملخصات تميز وتفوق

مادة الدراسات الاجتماعية

الصف الخامس
الفصل الدراسي الثاني

رؤية واعداد وتقديم
الأستاذة / نور محمد الجحفي

معلمة مادة الدراسات الاجتماعية
مدرسة المروج للتعليم الأساسي

الوحدة الاولى : كوكب الأرض الاغلفة والموارد الطبيعية

الدرس الأول : اغلفة كوكب الأرض المفهوم والمكونات

السؤال الأول : اكمل ما يأتي

- ١- تعد المجموعة الشمسية جزءا صغيرا من
- ٢- تعتبر هي مركز المجموعة الشمسية
- ٣- تتجمع عدد كبير من النجوم والسحب والغازات علي شكل في السماء
- ٤- تدور حول الشمس كواكب
- ٥- الكوكب الأقرب الي الشمس هو
- ٦- الكوكب الأكبر في المجموعة الشمسية
- ٧- الكوكب الثالث في ترتيب المجموعة الشمسية
- ٨- الكوكب الذي يتميز بوجود حلقات حوله
- ٩- يطلق علي كوكب الأرض الكوكب
- ١٠- يتسم / يتميز كوكب بالبرودة الشديدة
- ١١- تأسست الجمعية الفلكية العمانية عام
- ١٢- وهب الله سبحانه وتعالى الأرض اغلفة
- ١٣- تغطي المياه حوالي من مساحة سطح الأرض بينما اليابسة تغطي نحو

ثانيا

- ١- عرف مفهوم مجرة درب التبانة
- ٢- الموارد الطبيعية

ثالثا : فسر

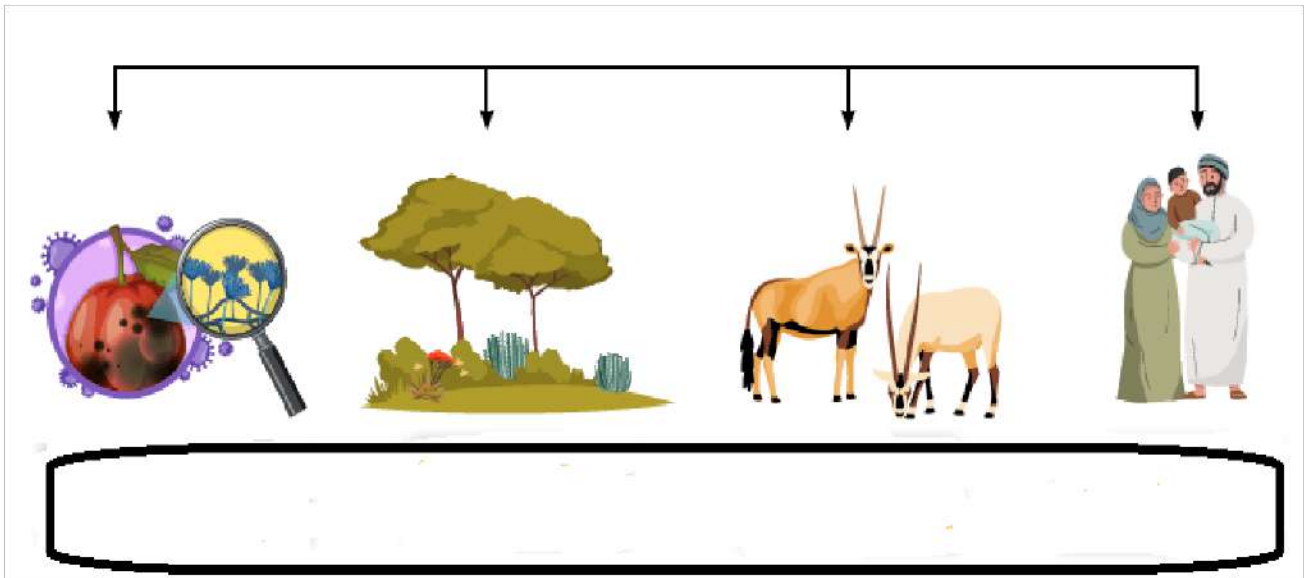
- ١- سبب تسمية كوكب الأرض بالكوكب المائي ؟
.....
- ٢- سبب البرودة الشديدة علي كوكب نبتون ؟
.....
- ٣- عدم اصطدام كواكب المجموعة الشمسية ببعضها رغم انها في حركة مستمرة ؟
.....
- ٤- أهمية اغلفة كوكب الأرض ؟
.....
- ٥- تناول بالشرح كيفية حدوث دورة المياه في الطبيعة ؟
.....
- ٦- استمرار المياه في النظام الأرضي ؟
.....
- ٧- أهمية الغلاف الجوي ؟
.....




- ١- علي ماذا تدل هذه الصورة
- ٢- في أي عام تأسست
- ٣- أذكر أهميتها ؟
.....

م	الغلاف	يتمثل في	المكونات	الأهمية
١	الجوي			
٢	الصخري			
٣	المائي			
٤	الحيوي			

اكمل المخطط التالي



ادرس الشكل التالي جيدا ثم اجب عن الأسئلة ؟



أولا : اكتب ما تشير اليه الأرقام ؟

١- ٢-

ثانيا وضح كيفية حدوث دورة المياه في الطبيعة ؟

.....

ثالثا : اذكر أهمية دورة المياه في الطبيعة ؟

.....

رابعا : ما مقترحاتك للمحافظة علي المياه ؟

.....

اكمل الجدول التالي بكتابة اسم الغلاف المناسب

اسم الغلاف	العنصر	م
	يتمثل في الطبقة الغازية التي تحيط بكوكب الأرض ويتكون من بخار الماء	١
	غلاف يتكون من الغازات المختلفة مثل النيتروجين والاكسجين	٢
	غلاف يحتوي علي حزام الأوزون ويحمي كوكب الأرض من الاشعة الضارة	٣
	غلاف يمثل الطبقة الخارجية للقشرة الأرضية وقيعان البحار والمحيطات	٤
	غلاف يرتبط ارتباط وثيق بالظواهر الطبيعية المختلفة مثل الزلازل والراكين	٥
	غلاف يمثل جميع الموارد المائية في الكرة الأرضية بحالاتها الثلاث	٦
	غلاف يمثل البيئة التي تعيش وتنمو وتتكاثر فيها الكائنات الحية	٧

س/ عدد مصادر المياه في محافظة ظفار ؟

.....

الدرس الثاني : أغلفة كوكب الأرض .. الأهمية والعلاقة التفاعلية

فسر أهمية اغلفة كوكب الأرض ؟

ما نتائج تمتع اغلفة كوكب الأرض بمخزون هائل من الموارد الطبيعية ؟

أهمية المخزون الهائل من الموارد الطبيعية في اغلفة كوكب الأرض ؟

في الجدول التالي دلل بمثال علي الموارد الطبيعية في اغلفة كوكب الأرض ؟

م	الغلاف	امثلة للموارد الطبيعية
١	الصخري	
٢	الجوي	
٣	الحيوي	
٤	المائي	

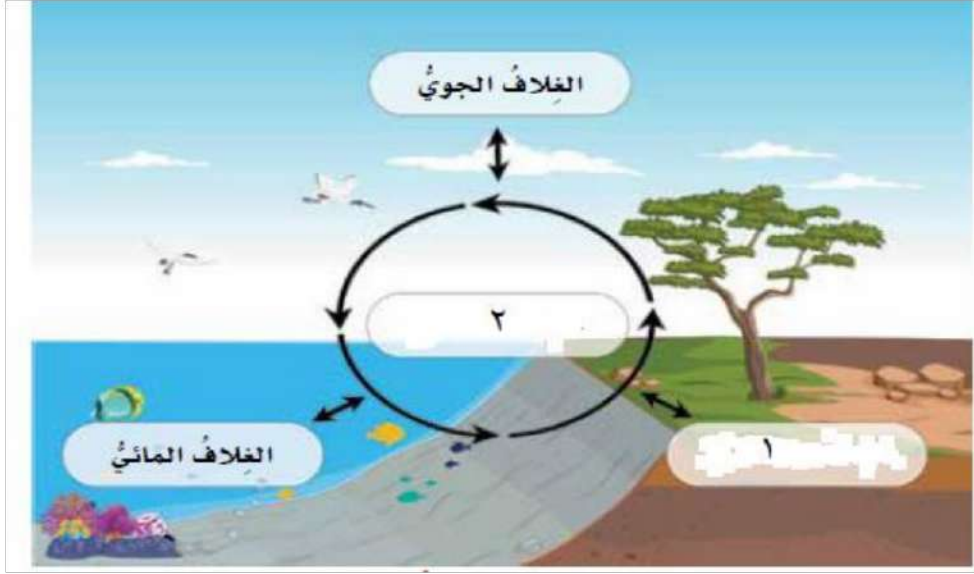
ماذا يحدث اذا لم يكن الغلاف الجوي موجودا ؟

دلل بأية قرآنية علي أهمية الماء ؟

في الجدول التالي امامك بعض امثلة الموارد اكتب اسم الغلاف الصحيح امام كل عبارة ؟

م	العبارة / المثال	اسم الغلاف
١	مصدر للمياه العذبة والمالحة
٢	مصدر للثروة الحيوانية والنباتية
٣	مصدر للاكسجين
٤	مصدر للمعادن والطاقة
٥	تحدث فيه مظاهر الطقس

الدرس الشكل التالي ثم اجب عن الأسئلة التي تليه ؟



أولا اكتب ما تشير اليه الأرقام ؟

١-
٢-

ثانيا : اكتب ما يشير اليه الشكل ؟

.....



١- نوع التفاعل في الشكل المقابل ؟

.....
٢- وضح كيفية حدوث التفاعل ؟

٣- اذكر نتيجة واحدة عن هذا التفاعل ؟

.....

١- تشير الصورة المقابلة الي

.....
٢- وضح كيفية حدوث التفاعل ؟

٣- ما نتيجة امتصاص جذور النباتات للمعادن الموجودة في التربة ؟

.....



وضح كيف يتفاعل الانسان مع اغلفة كوكب الأرض ؟

الطريق الي القمة

سبب تفاعل الانسان مع اغلفة كوكب الأرض ؟

عدد نتائج تفاعل الانسان مع اغلفة كوكب الأرض ؟

ما نتائج تزايد اعداد السكان واستهلاك الانسان للموارد ؟

عدد المشكلات البيئية الناجمة عن تزايد اعداد السكان وزيادة استهلاك الموارد ؟

في الجدول التالي اكتب بعض المشكلات البيئية الناجمة عن تفاعل الانسان مع البيئة ؟

م	الغلاف	بعض المشكلات البيئية
١	الصخري
٢	الحيوي
٣	المائي
٤	الجوي

ما المقصود بالامطار الحمضية ؟

اكمل العبارات التالية ؟

- ١- اسم الجهة التي تشرف علي المبادرة الوطنية لزراعة ١٠ مليون شجرة
 - ٢- حصلت سلطنة عمان علي جائزة مجلس التعاون الخليجي للبيئة والحياة الفطرية في مجال التوعية البيئية لعامي
- س/ اذكر الهدف من مبادرة السلطنة لزراعة ١٠ ملايين شجرة ؟

اقرأ العبارة التالية ثم اجب عن الأسئلة التي تليها ؟

« إِنَّ العنایةَ بالبیئةِ ومقدراتها مسؤولةٌ عالمیةٌ لا تحدُّها الحدودُ السیاسیةُ للدولِ ».

- ١- من قائل هذه العبارة ؟
.....
- ٢- ما المناسبة التي قيلت فيها ؟
.....
- ٣- ماذا تستنتج من هذه العبارة ؟
.....
- ٤- ما اسم الجائزة ومن أعلنها ؟
.....
- ٥- ما اسم المنظمة التي تشرف علي الجائزة ؟
.....

دلل علي تقدير مجلس التعاون الخليجي لجهود السلطنة في مجال التوعية البيئية ؟

.....

اذكر احد المشكلات البيئية التي تعاني منها محافظة ظفار ؟

.....

ما مقترحاتك لحل المشكلة ؟

.....

وضح كيف يكون تفاعل الانسان مع اغلفة كوكب الأرض تفاعل إيجابي ؟

.....

ما اثر تزايد اعداد السكان علي اغلفة كوكب الأرض ؟

.....

تدريب على الصور والأشكال في الدرس

امامك صور لبعض الموارد الطبيعية اكتب اسفل كل صورة اسم الغلاف الذي تشير اليه ؟



امامك صور لبعض المشكلات البيئية الناجمة عن تفاعل الانسان مع اغلفة كوكب الأرض اكتب اسم المشكلة البيئية واسم الغلاف لكل صورة ؟

م	شكل المشكلة البيئية	اسم المشكلة	نوع الغلاف
١	
٢	
٣	
٤	



١- ضع عنوان مناسب للصورة ؟

.....

٢- نوع العلاقة بين اغلفة كوكب الأرض ؟

.....

٣- من خلال دراستك لاغلفة كوكب الأرض والتفاعل بينها اجب عن المفردات أ و ب
أ - وضح كيفية حدوث تفاعل بين الغلاف المائي والغلاف الصخري ؟

.....
.....

ب- وضح كيفية حدوث التفاعل بين الغلاف الحيوي والغلاف الصخري ؟

.....
.....

الدرس الثالث : الموارد الطبيعية الأنواع والاهمية

في الجدول التالي امامك امثلة لبعض الموارد الطبيعية اكتب مقابل كل عبارة نوع المورد (متجددة - غير متجددة)

نوع المورد	مثال علي المورد	م
.....	طاقة الشمس	١
.....	النفط	٢
.....	الغاز	٣
.....	طاقة الرياح	٤
.....	النباتات الطبيعية	٥
.....	المعادن	٦
.....	الحيوانات	٧
.....	المياه	٨
.....	الفحم	٩

س/ ماذا يقصد بالموارد المتجددة ؟

.....

س / ماذا يقصد بالموارد غير متجددة ؟

.....

امامك امثلة لبعض الموارد المتجددة منها ما يحتاج لفترة زمنية قصيرة ومنها ما يحتاج لفترة زمنية طويلة حدد امام كل مورد الفترة التي يحتاجها ؟

الفترة الزمنية	مثال علي المورد المتجدد	م
	المياه الجوفية	١
	الثروة الحيوانية	٢
	الثروة السمكية	٣
	التربة	٤
	أشجار الغابات المقطوعة	٥

ادرس خريطة الموارد الطبيعية التالية ثم اجب عن الأسئلة التي تليها (خريطة الكتاب المدرسي صفحة ٣٨)



المحافظة	نوعه (متجدد - غير متجدد)	اسم المورد	م

دلل على الأهمية الاقتصادية للموارد الطبيعية ؟

.....







.....

وضح أهمية الموارد الطبيعية كمصدر دخل للفرد والمجتمع ؟

.....

.....

امامك خريطة سلطنة عمان صماء اكتب رمز كل صورة في موقع المحافظة الصحيح ؟

الخريطة	شكل المورد الطبيعي	م
		١
		٢
		٣
		٤
		٥

امامك صور للاهمية الاقتصادية للموارد الطبيعية اكتب اسفل كل صورة الأهمية ؟



س/ ما المقصود باستدامة الموارد الطبيعية ؟

.....

دلل علي اهتمام سلطنة عمان علي الاستخدام الأمثل للموارد الطبيعية ؟

.....

س/ ما هدف سلطنة عمان من الاستخدام الأمثل للموارد الطبيعية ؟

.....

عدد جهود وخطط السلطنة لاستدامة الموارد الطبيعية ؟

.....

.....

.....

س/ اكتب نبذة عن محطة ظفار لطاقة الرياح ؟

.....

.....

س/ اكتب نبذة عن محطة عبري للطاقة الشمسية ؟


.....

.....

تدريب علي الصور والاشكال في الوحدة الاولى



- ١- تشير الصورة الي
- ٢- نوع المورد الطبيعي
- ٣- الهدف منه
- ٤- افتتحت عام



- ١- تشير الصورة الي
- ٢- نوع المورد الطبيعي
- ٣- يقع في أي محافظة

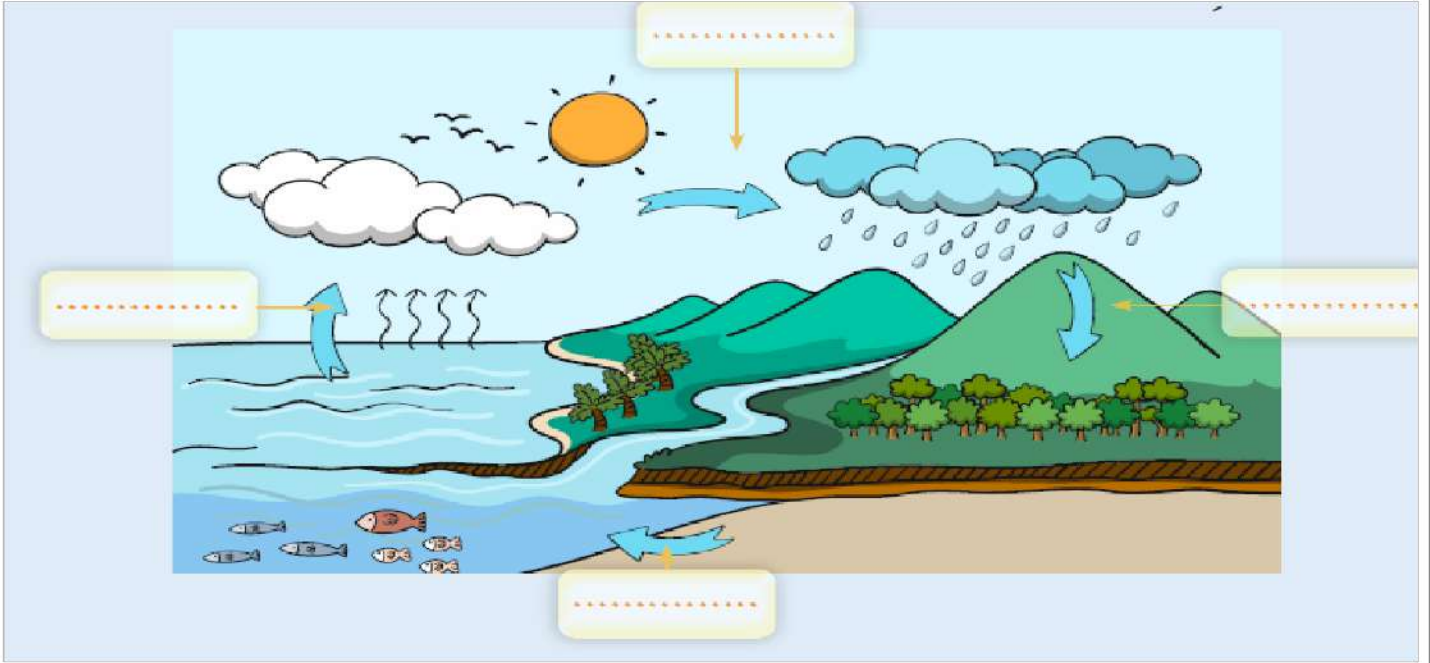


- ١- تشير الصورة الي
- ٢- يقع في ولاية
- ٣- يقع في محافظة
- ٤- نوع المورد الطبيعي
- ٥- ما الهدف منه ؟

من خلال دراستك لاغلفة كوكب الأرض اكمل الجدول التالي

المشكلات البيئية	الأهمية الاقتصادية	اهم مكوناته	اسم الغلاف

يوضح الشكل التالي مراحل دورة الماء في الطبيعة اكتب اسم كل مرحلة في مكانها المناسب



امامك جدول لتوزيع الموارد الطبيعية في مختلف محافظات سلطنة عمان اكتب امام كل محافظة اسم المورد الطبيعي ونوعه

نوع المورد	اسم المورد الطبيعي	المحافظة	م
		الوسطى	١
		ظفار	٢
		مسندم	٣
		الداخلية	٤
		الظاهرة	٥

امامك مجموعة صور تتضمن امثلة الموارد الطبيعية في سلطنة عمان استنتج كيفية الاستفادة منها اقتصاديا ؟



خريطة سلطنة عمان صماء للتدريب



الوحدة الثانية
الدولة الإسلامية وعمان في عهد الرسول محمد صلى الله عليه وسلم

الدرس الأول: الدولة الإسلامية في عهد الرسول محمد صلى الله عليه وسلم

س/ متي بدأت مرحلة تأسيس الدولة الإسلامية ؟

كانت عاصمة الدولة الإسلامية عهد الرسول ؟

عرف المهاجرين ؟

عدد أسباب بناء الدولة الإسلامية ؟
عدد أعمال الرسول لتأسيس الدولة الإسلامية ؟

اكمل الجدول التالي

.....	قام الرسول بالهجرة من
.....	قام الرسول بالهجرة اليها
.....	اتخذها الرسول عاصمة للدولة الإسلامية
.....	اتباع الرسول قاموا بالهجرة الي المدينة
.....	بلغت المسافة التي قطعها الرسول بالهجرة
.....	اول عمل قام به الرسول لتأسيس الدولة الإسلامية
.....	قام الرسول بالمواخاه بينهم
.....	وضعها الرسول لتنظيم العلاقة بين سكان المدينة

الدرس الخريطة التالية ثم اجب عن الأسئلة ؟



- حدد علي الخريطة عاصمة الدولة الإسلامية عهد الرسول باستخدام الرمز □
- حدد علي الخريطة موقع خروج الرسول للهجرة باستخدام الرمز ○
- اكتب ما يشير اليه الرقم ١
- اكتب سلطنة عمان في موقعها الصحيح

عدد أهمية بناء المسجد ؟

.....

ما هي الطريقة التي اختارها الرسول (ص) لتحديد موقع بناء المسجد ؟

.....

استنتج سبب استخدام الرسول لتلك الطريقة ؟

.....

تعتبر المواخاة احد أساليب الرسول لتأسيس الدولة الإسلامية وضح ما هي المواخاة وبين ممن ؟

.....

اذكر أهمية المواخاة في استقرار المجتمع الإسلامي ؟

.....

ما المقصود بصحيفة المدينة او دستور المدينة ؟

.....

اذكر اهم البنود التي اشتملت عليها الصحيفة ؟

.....

فسر / اضطرار المسلمون بقيادة الرسول الي خوض العديد من المعارك ؟

.....

اول غزو خاضها المسلمون وانتصروا فيها هي غزوة في العام

اخر غزوة شارك فيها الرسول هي غزوة عام

امامك مجموعه من الاعمال التي قام بها الرسول وضح نتائجها

النتيجة	الاعمال والاحداث	م
	بناء المسجد	١
	قيام الرسول بالمواخاة	٢
	انشاء صحيفة المدينة	٣
	قيام الرسول بحماية الدولة وخوض المعارك	٤
	قيام الرسول بارسال الرسائل الي ملوك الدول المجاورة	٥

ما المقصود بالفتوحات الإسلامية ؟

.....

اذكر كيف قام الرسول بنشر الإسلام ؟

.....

ادرس الخريطة التالية ثم اجب عن الأسئلة



- ١- ظلل علي الخريطة امتداد الدولة الإسلامية عند وفاة الرسول
- ٢- حدد باستخدام الرقم ٣ موقع عاصمة الدولة الاسمية عهد الرسول

٣- اكتب ما تشير اليه الأرقام

١- ٢-

الدرس الثاني عمان في عهد الرسول محمد

فسر / ما سبب قيام مازن بن غضوبة بكسر الصنم باجر؟

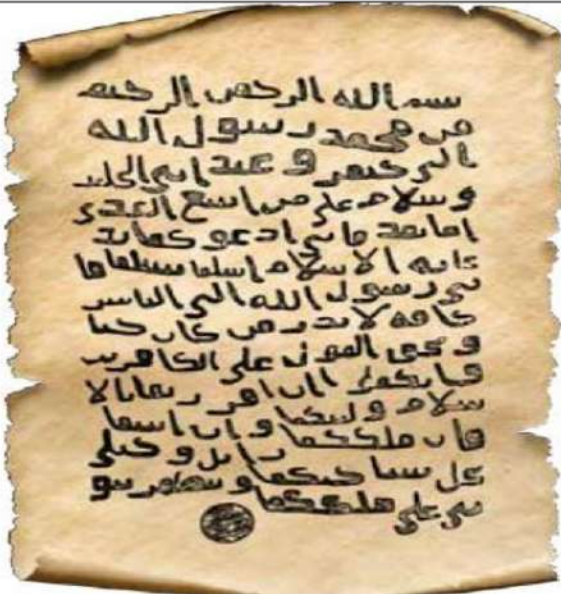
.....

ما سم المسجد الذي بناه مازن بن غضوبة ؟

.....

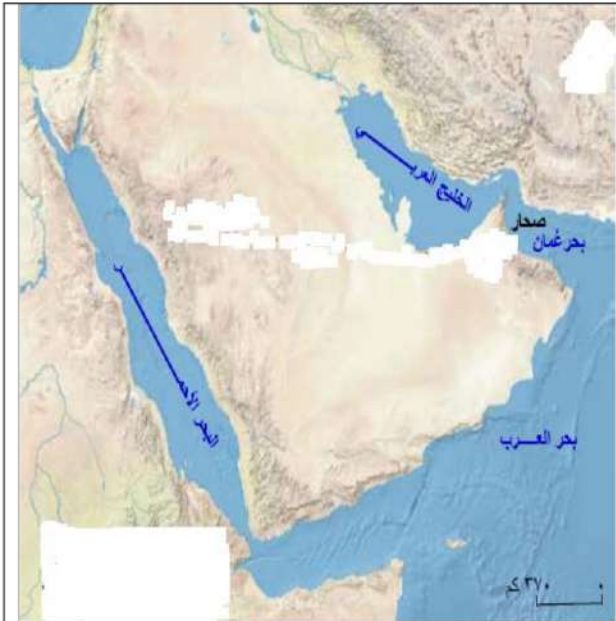
وضح كيف كان دخول العمانيين الإسلام ؟

.....



- ١- ما تشير اليه الصورة ؟
- ٢- من أرسلها ؟
- ٣- الي من ؟
- ٤- من قام بتوصيل الرسالة ؟
- ٥- عدد اثر استلام الرسالة ؟

ادرس الخريطة التالية ثم اجب عن الأسئلة ؟



- ١- ارسله الرسول الي ملكي عمان
-
- ٢- ترأس ابرز الوفود العمانية التي ذهبت لرؤية الرسول
-
- ٣- اكتب عاصمة الدولة الإسلامية عهد الرسول في مكانها الصحيح
- ٤- حدد علي الخريطة خط سير عمرو بن العاص وصولا الي عمان
- ٥- استخراج من تلخريطة عاصمة عمان وقت وصول رسالة الرسول
- ٦- حدد علي الخريطة اتجاه الشمال
- ٧- كان الفرس يقيمون في جزء منها

س/ وضح دور عمرو بن العاص في عمان بعد اعتناق أهلها الإسلام؟

استمر و يديران شئون عمان عهد الرسول .

سبب إقرار الرسول لجيفر وعبد ال جلندي علي ملك عمان؟

وضح موقف جيفر من الفرس بعد دخول اهل عمان الإسلام؟

ما نتائج الحرب بين جيفر والفرس في صحار؟

فسر / ازدهرت الأنشطة الاقتصادية في عمان عهد الرسول؟

فسر / لمعت او ازدهرت أسماء بعض العمانية عهد الرسول؟

علي ماذا يدل ارتداء الرسول ثوبين صحاريين اثناء خروجه لاداء حجة الوداع؟

اذكر واحدة من اهم الأنشطة الاقتصادية التي تتمتع بها محافظتك؟

دلل علي حرص العمانيين علي نشر الإسلام وتعلم العلوم؟

دلل علي حرص العمانيين علي انشاء المساجد؟

اكتب نبذة عن الصحابي صحار بن العباس العبيدي؟

اكمل الجدول التالي

المجال	المحافظة	الولاية	اسم الشكل	الشكل
.....	
.....	

س / اقترح بعض الطرق والأساليب التي من خلالها تستطيع نشر قيم ومبادئ الدين الإسلامي ؟

.....

دلل علي / اشتهرت عدة مدن عمانية عند ظهور الإسلام وكانت لها مكانة بارزة في مجالات مختلفة ؟

.....

دلل علي الاسئلة التالية ؟

١- نالت البريمي شهرة واسعة عند ظهور الإسلام ؟

.....

٢- نالت صحار شهرة واسعة عند ظهور الإسلام ؟

.....

٣- نالت سمائل شهرة واسعة عند ظهور الإسلام ؟

.....

٤- نالت مرباط شهرة واسعة عند ظهور الإسلام ؟

.....

صنف المدن العمانية التي ظهرت عهد الرسول حسب موقعها واهميتها ؟

المحافظة	الأهمية الثقافية	الأهمية السياسية	الأهمية الاقتصادية	تصنيف الموقع (داخلية - ساحلية)

امامك خريطة سلطنة عمان اكتب رقم كل عبارة في موقع المحافظة الصحيح ؟



- ١- كانت ميناء رئيسي في جنوب عمان ولها دور مهم في النشاط التجاري .
- ٢- كانت عاصمة عمان ووصلت لها رسالة الرسول
- ٣- ينتمي اليها اول من اسلم من عمان ولها دور في نشر الإسلام في عمان .
- ٤- سميت قديما بتوأم او توام وهي عبارة عن واحة زراعية
- ٥- تقع علي طريق التجارة البرية التي تربط عمان بشبه الجزيرة العربية
- ٦- محافظة عمانية يوجد بها مسجد المضمار
- ٧- محافظة عمانية يوجد بها مسجد الشواذنه
- ٨- محافظة عمانية كان الفرس يقيمون في احدي ولايتها

الدرس الثالث : شخصيات عمانية في عهد الرسول محمد (ص)

استعن بالكلمات بين القوسين لتتوصل إلى حل الألغاز الآتية، ثم استخدم الحرف الأول من كل إجابة لإيجاد كلمة السر.

(حليم، أمين، صادق، يوقر الكبير، بريء).

- مَنْ كَانَ كَلَامُهُ صَاحِبًا يوصفُ بِأَنَّهُ
- إِذَا كَتَمَ الْإِنْسَانُ غَضَبَهُ يوصفُ بِأَنَّهُ
- مَنْ يُعْطَى شَيْئًا فَيَحْتَفِظُ بِهِ حَتَّى يَرْجِعَهُ لِصَاحِبِهِ يُسَمَّى
- مَنْ يُتَهَمُ بِشَيْءٍ، ثُمَّ يَظْهَرُ بِأَنَّهُ غَيْرُ مُذْنِبٍ يُسَمَّى
- يَجِبُ عَلَى الصَّغِيرِ أَنْ

كلمة السر هي

دلل علي برزت عدة شخصيات عمانية عهد الرسول ؟

.....

وضح الدور البارز التي قامت به الشخصيات العمانية عهد الرسول ؟

.....

ما المقصود بالكتب السماوية ؟

.....

فسر سبب استشارة ملكي عمان كعب بن برشة في نبوة الرسول (ص) ؟

.....

ما المقصود بالوفود ؟

.....

لماذا كانت وفود العمانيين تتجه لرؤية الرسول محمد (ص) ؟

.....

اكتب اسم الشخصية العمانية امام كل عبارة في الجدول التالي ؟

م	العبارة
١	كان مستشارا لملكي عمان جيفر وعبد
٢	استشراه جيفر وعبد عندما وصلت رساله الرسول وصدق علي نبوة الرسول واسلم علي يديه
٣	كان يتحدث الفارسية وقارنا في الكتب السماوية
٤	وفد علي الرسول (ص) بالمدينة المنورة واسلم ويتصف بفصاحة اللسان والشجاعة
٥	كان في الوفد الذي ذهب الي المدينة المنورة عهد أبو بكر الصديق وشارك في الفتوحات الإسلامية
٦	والد القائد العماني المهلب بن ابي صفرة حيث كان قائدا مشهورا في الدولة الإسلامية
٧	وفد الي الرسول في جماعة من قومه واعلن اسلامه
٨	يتصف بشغف الاطلاع والبحث عن المعرفة وحب الخير لقومه
٩	رافق الصحابي مازن بن غضوبة في رحلته الي المدينة المنورة والتقي بالرسول وشارك في الفتوحات الإسلامية ويتصف بالاخلاص والشجاعة

برزت العديد من الشخصيات العمانية عهد الرسول امامك جدول بتلك الشخصيات اذكر اهم اعمالها والصفات التي تمتعت بها ؟

١- كعب بن برشة الطاحي

.....	الاعمال
.....	الصفات

٢- أبو صفرة العتكي

.....	الاعمال
.....	الصفات

٣- سلمة بن عياد الازدي

.....	الاعمال
.....	الصفات

٤- صالح بن المتوكل

.....	الاعمال
.....	الصفات

ادرس الخريطة التالية واكتب أسماء المدن في اماكنها الصحيحة
(صحار - مرباط - البريمي - سمائل)



الوحدة الثالثة .. وطني عمان الحقوق والواجبات

الدرس الأول .. حقوق المواطن وواجباته

ما مفهوم الحقوق ؟

.....

ما مفهوم الواجبات ؟

.....

ما النظام الأساسي للدولة ؟

.....

ماذا يحدث ان لم يقم كل فرد بدوره داخل الاسرة والمجتمع ؟

.....

ما هامية المساواة في الحقوق والواجبات العامة بين المواطنين ؟

.....

عدد بعض نماذج الحقوق العامة التي نص عليها القانون الأساسي للدولة للمواطنين ؟

.....

.....

.....

دل على اهتمام سلطنة عمان بحقوق الانسان ؟

.....

دل / يعتبر الامام الصلت بن مالك له دور في حماية حقوق الانسان ؟

.....



١- ما يشير اليه الشعار

.....

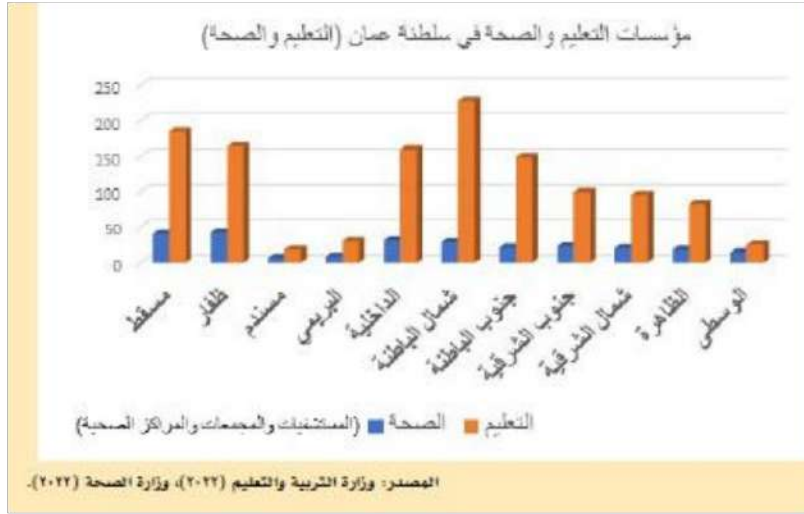
٢- ما الهدف منه او الدور الذي يقوم به ؟

.....

عدد بعض الحقوق التي يتمتع بها المواطن في المجالات الاتية

الحقوق	المجال
.....	التعليم
.....	الرعاية الصحية
.....	الامن والامن
.....	حرية الرأي والتعبير

ادرس الشكل التالي جيدا ثم اجب عن الأسئلة ؟



ما الحقوق التي تقدمها الدولة للمواطن كما يظهر في الشكل ؟

.....

استنتج أسباب تباين اعداد المؤسسات من محافظة الي اخري ؟

.....

اكثر المحافظات التي تتوفر فيها الخدمات التعليمية هي واقلها هي

اكثر المحافظات التي تتوفر فيها خدمات الرعاية الصحية هي واقلها هي

اذكر مصدر المخطط البياني الذي امامك عام

عدد بعض الواجبات التي علي المواطن اداؤها ؟

.....

.....

.....

اكتب تحت اسفل كل صورة ما تشير اليه من واجبات علي المواطن ؟



س / ما أثر تطبيق الحقوق والواجبات داخل المجتمع ؟

.....

عدد أهمية الحق والواجبات ؟

.....

.....

.....

اقرأ الفقرة التالية ثم اجب عن الأسئلة التي تليها ؟

خَرَجَتْ أُسْرَةٌ لِقَضَاءِ وَقْتٍ مُمْتَعٍ فِي إِحْدَى الْعِدَائِقِ الْعَامَّةِ فِي سُلْطَنَةِ
عُمَانَ، وَفِي أَثْنَاءِ جُلُوسِهِمْ قَامَ الْأَطْفَالُ بِقَطْفِ الْأَزْهَارِ.

١- ما رأيك في السلوك الذي قام به الأطفال؟ ولماذا ؟

.....

.....

٢- اقترح حلاً للحد من هذه التصرفات ؟

.....

.....

الدرس الثاني : حقوق المواطن
المؤسسات الوطنية والاتفاقيات الدولية

من خلال الشكل التالي اجب عن الأسئلة التي تقابله



١ - ماذا تسمى الفئة الواضحة امامك ؟

٢ - عدد الخدمات التي تقدم لهم من خلال المشهد امامك ؟

دلل / أنشأت سلطنة عمان لمواطنيها العديد من المؤسسات تضمن لهم حقوق دون نقصير ؟

امامك مجموعة صور ادرسها جيدا ثم اجب عن الأسئلة ؟

م	الشكل	الاسم / يشير الي	الدور / الهدف / الخدمات
١	
٢	
٣	
٤	

وضح دور المؤسسات القضائية لضمان حقوق المواطنين ؟

.....

وضح دور المؤسسات الأمنية لضمان حقوق المواطنين ؟

.....

وضح دور المؤسسات الخدمية لضمان حقوق المواطنين ؟

.....

وضح دور اللجنة العمالية لحقوق الانسان ؟

.....

عدد الخدمات التي تقدمها وزارة التربية والتعليم للطلبة ؟

.....

« قدعُمنا للقضاء واستقلاليتِه واجب التزمنا به، واحترامُ قراراتِه بلا محاباةٍ أمرٌ مضرٌّ منه فالكُلُّ سواسيةٌ أمام القانونِ.»
من خطاب السلطان قابوس -طيب الله ثراه-، بمناسبة الانعقاد السنوي لمجلس عُمان، ٢٠١١م.

من خلال قراءة الفقرة اجب

١- استنتج الأفكار الواردة في الفقرة ؟

.....

٢- علام تدل عبارة (الكل سواسية امام القانون) ؟

.....

اجب عن الأسئلة التالية ؟ (أسئلة مقالية)

١- صادقت سلطنة عمان علي العديد من الاتفاقيات الدولية لحقوق الانسان والمرأة والطفل ؟

.....

٢- صادقت سلطنة عمان علي العديد من الاتفاقيات التي تؤكد علي حفظ كرامة الانسان واحترام الاخرين ؟

.....

٣- اذكر أهمية انضمام سلطنة عمان الي الاتفاقيات الدولية المتعلقة بحقوق الانسان ؟

.....

٤- صادقت سلطنة عمان علي العديد من الاتفاقيات التي تؤكد علي حقوق الطفل ؟

.....

٥- ما الهدف من انضمام سلطنة عمان الي اتفاقية حقوق الطفل عام ١٩٩٦ ؟

.....

٦- عدد ما تتضمنه اتفاقية حقوق الطفل عام ١٩٩٦ ؟

.....

.....

.....

٧- صادقت سلطنة عمان على العديد من الاتفاقيات التي تؤكد على حماية حقوق المرأة ؟

.....

.....

٨- ماذا تعرف عن اتفاقية سيداو ؟

.....

.....

٩- دلل على اهتمام السلطنة بالمرأة العمانية والاحتفال بها ؟

.....

.....

١٠- أهمية العناية بحق المرأة في المجتمع العماني ؟

.....

.....



١- يشير الشكل الي ؟

.....

٢- الفئة التي تشملها الجمعية ؟

.....

٣- أنشئت عام ؟

.....

٤- مقرها في محافظة ؟

.....

٥- تشمل خدماتها ؟

.....



١- من صاحب الصورة المقابلة ؟

.....

٢- اكتب نبذه عنه ؟

.....

٣- اذكر امثلة لمنظمة حقوق الانسان التي اعنتي بها ؟

.....

.....

استخرج القيمة التي تحت عليها الآية الكريمة الآتية:
﴿يَتَأْتِيهَا النَّاسُ إِنَّا خَلَقْتُمْ مِّنْ ذَكَرٍ وَأُنثَىٰ وَجَعَلْنَاكُمْ شُعْرًا وَقَبَائِلَ لِتَعَارَفُوا إِنَّ أَكْرَمَكُمْ عِنْدَ اللَّهِ أَتَقْوَىٰ إِنَّ اللَّهَ عَلِيمٌ خَبِيرٌ ﴿١٣﴾﴾ . (الحجرات: ١٣).

استخرج القيمة التي تحت عليها الآية الكريمة ؟

.....

امامك مجموعة صور تدل علي حقوق الطفل اكتب اسفل كل صورة ما تشير اليه

		
.....

بوصفك مواطنا صالحا اكتب واجبك نحو ما يأتي

.....	العلم العماني
.....	النشيد الوطني
.....	الممتلكات العامة
.....	الزي العماني

صنف العبارات التالية بكتابة كلمة حقوق او كلمة واجبات

.....	تقديم الرعاية الاجتماعية للمواطن
.....	اتان الموظف العمل الذي يقوم به
.....	الالتزام بالانظمة والقوانين
.....	التعبير عن الرأي بما يخدم مصلحة الوطن

دلل علي اهتمام سلطنة عمان برعاية حقوق المواطنين دون تقصير؟

.....

فسر انضمام سلطنة عمان الي اتفاقية حقوق الطفل؟

.....

اذكر امثلة لمنظمة حقوق الانسان التي وضعها الامام سعيد بن عبدالله الرحيلي؟

.....

عرف اتفاقية سيداو؟

.....

مع اطيب تمنياتي بالنجاح والتفوق
تحياتي معلمة المادة الأستاذة / نور محمد الجحفلي
مدرسة المروج للتعليم الأساسي