


شكراً لتحميلك هذا الملف من موقع المناهج العمانية



اختبار قصير أول مع نموذج الإجابة

موقع المناهج ← المناهج العمانية ← الصف الخامس ← اجتماعيات ← الفصل الثاني ← الملف

التواصل الاجتماعي بحسب الصف الخامس



روابط مواد الصف الخامس على تلغرام

[الرياضيات](#)

[اللغة الانجليزية](#)

[اللغة العربية](#)

[التربية الاسلامية](#)

المزيد من الملفات بحسب الصف الخامس والمادة اجتماعيات في الفصل الثاني

كتاب المادة المنهج الجديد	1
نموذج إجابة الاختبار النهائي الرسمي في محافظة جنوب الباطنة	2
الاختبار النهائي الرسمي في محافظة جنوب الباطنة	3
نموذج إجابة الاختبار النهائي الرسمي في محافظة الداخلية	4
الامتحان الرسمي النهائي بمحافظة جنوب الباطنة	5



المديرية العامة للتربية والتعليم بمحافظة الوسطى
مدرسة الجوبة للتعليم الاساسي (1-10)

الاسم:

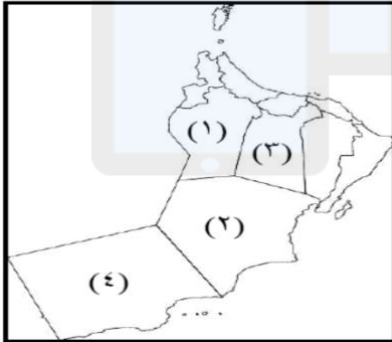
التاريخ:

الاختبار القصير 1 في مادة الدراسات الاجتماعية للصف الخامس الاساسي الفصل الدراسي الثاني
(2021-2022م) الدرجة الكلية: 15 / زمن الاختبار: حصة كاملة

السؤال الأول: اختاري الاجابة الصحيحة من بين البدائل المعطاة: الدرجة: 5 درجات

1- المصطلح الدال على (القوة المحركة للأشياء):
أ- الصناعة ب- الطاقة ج- مادة الخام د- البتروكيماويات

2- الرقم الذي يشير إلى المحافظة التي يوجد بها مشروع حقل خزان لإنتاج الغاز الطبيعي هو:
أ- (1) ب- (2) ج- (3) د- (4)



3- في عام 2009م وجه جلالة السلطان قابوس (طيب الله ثراه) بتنفيذ مشروع زراعة مليون شجرة من أشجار:
أ- الليمون ب- الموز ج- النارجيل د- النخيل

4- جميع مايلي من مصادر الطاقة المتجددة ماعدًا :

أ- الشمس ب- الماء ج- الفحم الحجري د- الرياح

5- الدولة العربية الأكثر إنتاجاً لمحصول القمح هي :

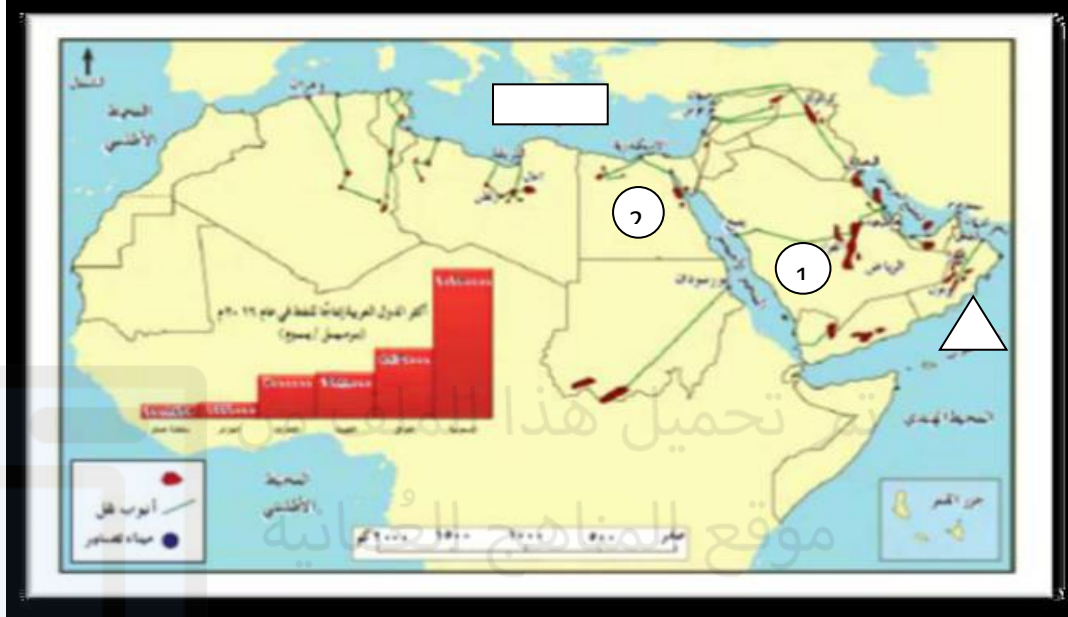
أ- تونس ب- سلطنة عمان ج- السودان د- السعودية

السؤال الثاني : 6 درجات

أولا / استبدلي العبارات الآتية بالاسم أو المصطلح الدال عليه:

- 1- يقصد بها المواد الطبيعية الزراعية أو الحيوانية أو المعدنية غير المصنعة والقابلة للتصنيع (.....)
- 2- هي التي توجد في الطبيعة بكميات محدودة فإذا نضبت لا يمكن تجديدها (.....)

ثانيا/أمامك خريطة الوطن العربي أدرسيها جيدا ثم أجبني عما يلي :



أ-استخرجي الرقم الذي يشير الى الدولة الأكثر إنتاجا للنفط عام 2016م (.....)

ب-ظلي على الخريطة رمز المسطح المائي الذي تطل عليه سلطنة عمان .

ج-سعي الدولة التي استغلت طاقة المياه في توليد الكهرباء

د-فسري إنشاء مشاريع الطاقة الشمسية في محافظة الوسطى ؟

السؤال الثالث : 4درجات

أولا/ صنفي في الجدول أدناه الصناعات التالية الى صناعات استخراجية وصناعات تحويلية :


(تعليب الأسماك-الرخام -الفوسفات-السيارات)

صناعات تحويلية	صناعات استخراجية
.....
.....

ثانيا/تأملي الصورة جيدا ثم أجبني عما يلي :

1-حددي عامل الجذب السياحي في الصورة ؟

2-ماواجبك تجاه المعلم السياحي عند زيارته ؟



انتهت الاسئلة مع تمنياتي للجميع بالتوفيق



المديرية العامة للتربية والتعليم بمحافظة الوسطى

مدرسة الجوبة للتعليم الأساسي (1-10).

نموذج اجابة الاختبار القصير 1 لمادة الدراسات الاجتماعية للصف الخامس الفصل الدراسي الثاني (2021-2022)م

الدرجة الكلية : 15 درجات

الدرجة :5درجات

اجابة السؤال الأول

المفردة	البديل الصحيح	الاجابة	الدرجة	الصفحة
1	ب	الطاقة	درجة	19
2	أ	1	درجة	22
3	د	التخيل	درجة	29
4	ج	الفحم الحجري	درجة	24
5	أ	تونس	درجة	28

الدرجة :6درجات

اجابة السؤال الثاني

الجزئية	الاجابة الصحيحة	الدرجة	الصفحة
أولا	1-مادة الخام	درجة	30
	2-الطاقة غير المتجددة	درجة	20
ثانيا	أ-1	درجة	21
	ب-تظلل المثلث	درجة	21
	ج-سوريا	درجة	24
	د-بسبب المناخ الصحراوي-ارتفاع درجات الحرارة	درجة	24


الدرجة :4درجات

إجابة السؤال الثالث

الجزئية	الاجابة الصحيحة	الدرجة	الصفحة
اولا	صناعات استخراجية	درجتين لكل مفردة نصف درجة	32
	صناعات تحويلية		
ثانيا	الرخام- الفوسفات	درجة	35
	1-الاثار التاريخية-قلاع – حصون) 2-الهدوء – المحافظة على نظافة المكان- الاعتزاز بالهوية الوطنية والتاريخية (او مايفيد فهم الطالبة)	درجة	37

--	--	--	--

انتهى نموذج الإجابة



تم تحميل هذا الملف من
موقع المناهج العُمانية

alManahj.com/om