

تم تحميل هذا الملف من موقع المناهج العُمانية



* للحصول على أوراق عمل لجميع الصفوف وجميع المواد اضغط هنا

<https://almanahj.com/om>

* للحصول على أوراق عمل لجميع مواد الصف الخامس اضغط هنا

<https://almanahj.com/om/5>

* للحصول على جميع أوراق الصف الخامس في مادة اجتماعيات ولجميع الفصول, اضغط هنا

<https://almanahj.com/om/5social>

* للحصول على أوراق عمل لجميع مواد الصف الخامس في مادة اجتماعيات الخاصة بالفصل الثاني اضغط هنا

<https://almanahj.com/om/5social2>

* لتحميل كتب جميع المواد في جميع الفصول للصف الخامس اضغط هنا

<https://almanahj.com/om/grade5>

* لتحميل جميع ملفات المدرس علي بن محمد الحسان اضغط هنا

للتحدث إلى بوت على تلغرام: اضغط هنا

https://t.me/omcourse_bot

وقل رب زدني علما

مذكرة إثرائية لمادة
الدراسات الاجتماعية

الصف الخامس

٢٠١٨ / ٢٠١٧

الفصل الدراسي الثاني

جغرافية الوطن العربي

(أسئلة وأجوبة)

إعداد :

علي بن محمد الحسان

للتواصل :

99493923

Ali 47536@moe.om

درس : " السكان في الوطن العربي "

السؤال الأول : ضع علامة (✓) أو (✗) أمام العبارة المناسبة مع تصحيح ماتحته خط إذا كانت العبارة خطأ :

- ١- (✗) يعد الوطن العربي من الأقاليم التي تتميز بانخفاض معدل النمو السكاني على مستوى العالم (١٢) . ارتفاع
- ٢- (✓) يتوزع السكان في الوطن العربي بشكل غير منتظم . (١٤)
- ٣- (✗) تم إجراء أول تعداد سكاني في سلطنة عمان عام ١٩٩٥ . (١٠) . ١٩٩٣

السؤال الثاني : أكمل مايلي بكلمات مناسبة من عندك :

- ١- المصدر الأساسي لبيانات السكان في سلطنة عمان هو المركز الوطني للإحصاء والمعلومات . (١١)
- ٢- الزيادة الناتجة عن الفرق بين عدد المواليد وعدد الوفيات تسمى الزيادة الطبيعية . (١٢)
- ٣- هناك عاملان يؤثران في توزيع السكان هما عوامل طبيعية وعوامل بشرية . (١٤)

السؤال الثالث : علل مايلي " أذكر السبب " :

س ١ : تسعى الدول العربية كبقية دول العالم إلى جمع البيانات السكانية ؟ (١٠)

ج١ : من أجل توفير الخدمات المختلفة للسكان وفق خطط مدروسة ومنظمة .

س ٢ : يتركز السكان بكثرة على ضفاف الأنهار الكبرى ؟ (١٤)

ج٢ : بسبب توفر المياه والتربة الخصبة الصالحة للزراعة .

س ٣ : هجرة السكان من الريف إلى المدن ؟ (١٧)

ج٣ : بسبب تركيز فرص العمل وارتفاع مستوى الخدمات في المدن .

س ٤ : زيادة عدد السكان من سنة لأخرى ؟ (١٢)

ج٤ : بسبب الزيادة الطبيعية أو الهجرة .

السؤال الرابع : عرف كل من :

س ١ : التعداد السكاني ؟ (١٠)

ج١ : هي عملية جمع وإعداد المعلومات السكانية والإقتصادية والاجتماعية المتعلقة بجميع الأفراد في دولة معينة في فترة معينة.

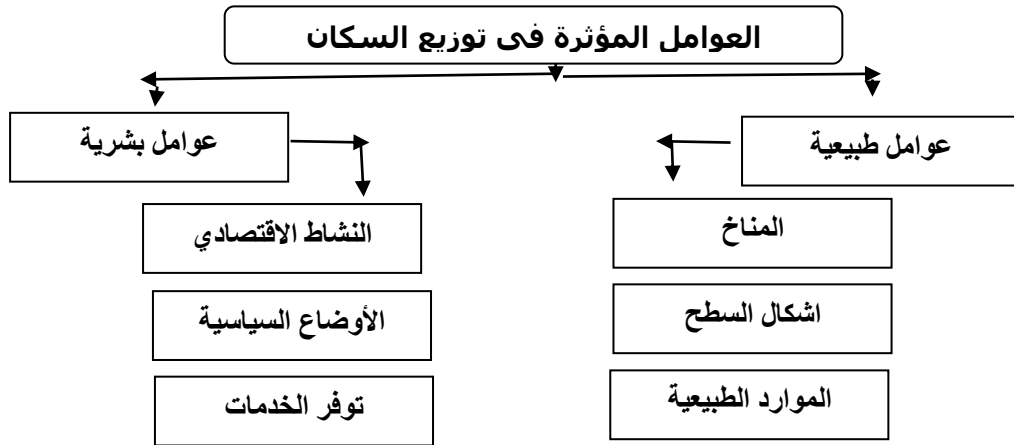
س ٢ : النمو السكاني ؟ (١٢)

ج٢ : هو زيادة عدد السكان من سنة الى أخرى .

س ٣ : التوزيع الجغرافي ؟ (١٤)

ج٣ : يقصد به إنتشار السكان في منطقة معينة .

السؤال الخامس : أكمل الشكل التالي : (١٤)



السؤال السادس : أجب عن الأسئلة التالية :

س١ : ماهي مصادر البيانات السكانية ؟ (١١)

- ج١ : ١ - سجلات المواليد والوفيات والهجرة .
٢ - التعداد .

س٢ : " يرتبط نمو السكان بعاملين أساسيين " ماهما ؟ (١٢)

- ج٢ : ١ - الزيادة الطبيعية .
٢ - الزيادة الغير طبيعية .

س٣ : " يمر الوطن العربي بتغيرات سكانية عديدة " أذكر ثلاث من التغيرات السكانية ؟ (١٧)

- ج٣ : ١ - ارتفاع معدلات المواليد .
٢ - انخفاض معدلات الوفيات .
٣ - هجرة السكان إلى المدن .

س٤ : " يمر الوطن العربي بتغيرات سكانية عديدة مما أدى إلى ظهور مشكلات سكانية " أذكر ثلاث من هذه المشكلات ؟ (١٧)

- ج٤ : ١ - الإختناقات المرورية .
٢ - التلوث .
٣ - الضغط على الخدمات .
٤ - نقص المساحات الخضراء .

درس : " مصادر الطاقة في الوطن العربي "

السؤال الأول : ضع علامة (✓) أو (X) أمام العبارة المناسبة مع تصحيح ماتحته خط إذا كانت العبارة خطأ :

- ١- (✓) الطاقة عنصر مهم في إحداث التقدم الحضاري وهي في كل مكان حولنا . (١٩)
- ٢- (X) تقع ولاية شليم وجزر الحلايبات بمحافظة الوسطى . (٢٤) . ظفار
- ٣- (X) من أهم مصادر الطاقة الغير متجددة في الوطن العربي مصدر الفحم الحجري . (٢٠) النفط

السؤال الثاني : أكمل مايلي بكلمات مناسبة من عندك :

- ١- تنقسم الطاقة إلى نوعين مصادر متجددة ومصادر غير متجددة . (٢٠)
- ٢- نفذت وزارة التربية والتعليم بالتعاون مع شركة شل للتنمية مشروعاً للطاقة الشمسية . (٢٥)
- ٣- أكبر الدول العربية إنتاجاً للنفط عام ٢٠١٦ كانت السعودية . (٢١)

السؤال الثالث : ضع دائرة حول الإجابة الصحيحة من بين البدائل المعطاه :

- ١- تتصدر دولة ... الدول العربية في إنتاج الغاز الطبيعي . (٢٢)
(سلطنة عمان - قطر - الكويت)
- ٢- يعتبر مشروع حقل ... في محافظة الظاهرة من أكبر مشاريع إنتاج الغاز الطبيعي في سلطنة عمان . (٢٢)
(خزان - وهران - ميزان)
- ٣- يعتبر مشروع بولاية شليم وجزر الحلايبات من المشاريع القائمة على الطاقة المتجددة . (٢٤)
(شمس - نور - مرآه)




السؤال الرابع : علل مايلي " أذكر السبب " :

- س ١ : تسمية الطاقة غير المتجددة بهذا الاسم ؟ (١٢)
ج١ : لأنها توجد في الطبيعة بكميات محدودة فإذا نضبت لا يمكن تجديدها . (٢٠)
- س ٢ : يعد الوطن العربي من المواقع الملائمة لإقامة مشاريع من الطاقة الشمسية ؟
ج٢ : لأن الوطن العربي يقع ضمن المنطقة الحارة على خط الاستواء

السؤال الخامس : أكمل الجدول التالي : (٢١)

| الدولة | حقل نفط | ميناء تصدير نفط |
|------------|--------------|-----------------|
| سلطنة عمان | فهود - مرمول | ميناء الفحل |
| العراق | كركوك | ميناء البصرة |
| ليبيا | أمال - زلطن | البريقة |

السؤال السادس : صل بخط بين الصورة في العمود الأول وإسمها في العمود الثاني :

| | |
|--|--|
| مشروع مرآة لتوليد البخار بالطاقة الشمسية |  |
| مشروع نور للطاقة الشمسية |  |
| مدينة مصدر للطاقة المتجددة |  |

السؤال السابع : أجب عن الأسئلة التالية :

س ١ : عرف الطاقة ؟ (١٩)

ج ١ : هي القوة المحركة للأشياء

س ٢ : أذكر أربعة من مصادر الطاقة في الوطن العربي ؟ (١٩)

ج ٢ : ١- الرياح ٢- الشمس ٣- المياه ٤- الطاقة النووية ٥- الغاز ٦- النفط ٧- الفحم الحجري .

س ٣ : ما الفرق بين الطاقة المتجددة والطاقة غير المتجددة ؟ (٢٠)

ج ٣ : ١- الطاقة المتجددة هي مصادر الطاقة التي لا تنضب وتتجدد تلقائياً في الطبيعة . (٢٤) .
٢- الطاقة غير المتجددة هي التي توجد في الطبيعة بكميات محدودة فإذا نضبت لا يمكن تجديدها ، (٢٠)

س ٤ : أذكر ثلاث من استخدامات الغاز الطبيعي ؟ (٢٣)

ج ٤ : ١- توليد الطاقة الكهربائية .
٢- تشغيل محطات تحلية مياه البحر .
٣- تعتبر مادة خام لبعض الصناعات .
٤- يعتبر وقود للطبخ والتدفئة .

درس : " الأنشطة الاقتصادية في الوطن العربي "

السؤال الأول : ضع علامة (✓) أو (X) أمام العبارة المناسبة مع تصحيح ماتحته خط إذا كانت العبارة خطأ :

- ١- (X) عرف السكان في الوطن العربي الزراعة منذ القدم على ضفاف البحار . (١٩) (الأتجار)
- ٢- (X) في إطار إهتمام السلطنة بالزراعة فقد وجه جلاله السلطان قابوس بتنفيذ مشروع الألف نخلة عام ٢٠٠٩ . (مليون) (٢٢)
- ٣- (✓) يقصد بالمواد الخام هي المواد الطبيعية (زراعية أو حيوانية أو معدنية) غير مصنعة وقابلة للتصنيع . (٣٠)
- ٤- (X) يعتبر استخراج النفط والغاز والتقيب عن المعادن من الصناعات التحويلية . (٣٢) الاستخراجية

السؤال الثاني : أكمل مايلي بكلمات مناسبة من عندك :

- ١- من أهم الأنشطة الاقتصادية التي يمارسها السكان في الوطن العربي الزراعة والصناعة والسياحة . (٢٧)
- ٢- ينتج الوطن العربي العديد من المحاصيل الزراعية مثل الحبوب الغذائية والخضروات والفواكة . (٢٨)
- ٣- ساعد توفر النفط والغاز الطبيعي في الوطن العربي على قيام الصناعات الحديثة مثل البتروكيماويات والأسمدة والألمنيوم . (٣١)
- ٤- البتروكيماويات هي المواد الكيماوية المستخرجة من النفط ومن الصناعات القائمة عليها صناعة البلاستيك ومواد التنظيف . (٣١)

السؤال الثالث : ضع دائرة حول الإجابة الصحيحة من بين القوسين :

- ١- من أكثر المحاصيل الزراعية إنتاجاً في سلطنة عمان (٢٨)
(الطماطم - التمور - الليمون)
- ٢- يطلق على تغير شكل وطبيعة المواد الخام إلى شكل آخر تلبية لحاجات الإنسان اسم . (٣٠)
(صناعة - زراعة - تجارة)
- ٣- إنشأت السلطنة عدداً من المناطق الصناعية وتعد إحدى المناطق المهمة للاستثمار المحلي والعالمي . (٣٢)
(نزوى - صلالة - صحار)
- ٤- حركة الأفراد والجماعات من أماكن إقامتهم إلى أماكن أخرى بغرض أداء مهمة معينة أو زيارة مكان أو بغرض الترفيه . (٣٣)
(التجارة - السياحة - الصناعة)

السؤال الرابع : اختر من بين القوسين الصناعة المناسبة وضعها في مكانها الصحيح في الجدول التالي (٣٠)

- (صناعة المنسوجات الصوفية - صناعة الذهب - صناعة الألبان - صناعة السكر -
صناعة الزيوت النباتية - صناعة الأسلاك الكهربائية)

| معدنية | حيوانية | زراعية |
|--------------------------|-------------------------|-----------------------|
| صناعة الذهب | صناعة المنسوجات الصوفية | صناعة السكر |
| صناعة الاسلاك الكهربائية | صناعة الألبان | صناعة الزيوت النباتية |

السؤال الخامس : صنف مابين القوسين إلى صناعات إستخراجية وصناعات تحويلية وضعها في الجدول التالي (٣٢)

(صيد الأسماك - صناعة البلاستيك - استخراج النفط والغاز - صناعة الزجاج - التنقيب عن المعادن -
تعليب الخضار والفواكة - صناعة الأثاث - استخراج اللؤلؤ)

| صناعات إستخراجية | صناعات تحويلية |
|----------------------|-----------------------|
| صيد الأسماك | صناعة البلاستيك |
| إستخراج النفط والغاز | صناعة الزجاج |
| التنقيب عن المعادن | تعليب الخضار والفواكه |
| استخراج اللؤلؤ | صناعة الأثاث |

السؤال السادس : من خلال الجدول أجب عن الأسئلة التالية : (٢٨)

| الإنتاج بالآلف طن (عام ٢٠١٤) | | | | | الدولة |
|------------------------------|--------|---------|---------|-------|------------|
| الليمون | التمور | الظماطم | البطاطس | القمح | |
| ٦ | ٣١٧ | ٧٥ | ٥ | ٣ | سلطنة عمان |
| ٢٦ | ١٠ | ٥٩٤ | ٣٦٦ | ٣٩ | الأردن |
| ٢٥٥ | ٤٤١ | ٥٦٧ | ٣٤٧ | ١٩٢ | السودان |
| ٤٤ | ١٩٥ | ١٢٠٠ | ٣٨٥ | ١٥١٣ | تونس |

- ١- أكثر المحاصيل الزراعية إنتاجاً في سلطنة عمان التمور وأقلها القمح .
- ٢- أكثر الدول العربية إنتاجاً للقمح تونس والليمون السودان .
- ٣- أقل الدول العربية إنتاجاً للبطاطس سلطنة عمان والتمور الأردن .
- ٤- ماعدد الأطنان للمحاصيل في الدول التالية : السودان (الظماطم) ٥٦٧ والأردن (البطاطس) ٣٩ تونس (الليمون) ٤٤ .

السؤال السابع : أجب عن الأسئلة التالية :

س ١ : " ساعدت عدة عوامل في تنوع الأنشطة الاقتصادية التي يمارسها السكان في الوطن العربي " أذكر هذه العوامل ؟ (٢٧)

ج ١ : ١- الموقع الجغرافي ٢- المناخ ٣- العوامل الطبيعية

س ٢ : تعد الزراعة من الأنشطة الاقتصادية المهمة في الوطن العربي لعدة أسباب " أذكر ثلاثة من هذه الأسباب ؟ (٢٧)

ج ٢ : ١- مصدر رئيس للغذاء . ٢- مصدر مهم للدخل الوطني ،
٣- توفر فرص عمل للسكان . ٤- توفر المواد الخام اللازمة للصناعة

س ٣ : " تعد السياحة من الأنشطة الاقتصادية المهمة في الوطن العربي " وضح ذلك ؟ (٣٣)

ج ٣ : ١- لأنها تشكل مصدراً مهماً للدخل . ٢- توفر فرص عمل لعدد كبير من السكان ،
٣- تنمي العلاقات والتبادل الثقافي بين الشعوب .

س ٤ : " هناك عدة عوامل للجذب السياحي في الوطن العربي " أذكر ثلاث من هذه العوامل ؟ (٣٣)

ج ٤ : ١- تنوع المناخ ٢- المحميات الطبيعية
٣- الخدمات السياحية ٤- المواقع الأثرية

س ٥ : " أهتمت الدول العربية بالسياحة حيث أنشأت الخدمات السياحية وتطويرها " أذكر ثلاث من هذه الخدمات ؟ (٣٤)

ج ٥ : ١- وفرت وسائل النقل ٢- أنشأت الفنادق والمطاعم ٣- إقامة المهرجانات المختلفة .
٤- إقامة المعارض ٥- أنشأت المتنزهات

س ٦ : " تزخر سلطنة عمان بمقومات سياحية عديدة جعلتها وجهة سياحية مهمة " وضح ذلك ؟ (٣٥)

ج ٦ : تتميز السلطنة بتنوع مناخها وبيئاتها الطبيعية كالجبال والصحاري والشواطئ والكهوف والأودية كذلك تتميز بقلعتها وحصونها وأسواقها المشاهدة على تاريخها العريق .