

## شكراً لتحميلك هذا الملف من موقع المناهج العمانية



## اختبار نهائي رسمي في محافظة مسقط والداخلية

[موقع المناهج](#) ← [المناهج العمانية](#) ← [الصف الخامس](#) ← [اجتماعيات](#) ← [الفصل الأول](#) ← [الملف](#)

تاريخ نشر الملف على موقع المناهج: 05:21:35 2024-01-04

## التواصل الاجتماعي بحسب الصف الخامس



## روابط مواد الصف الخامس على تلغرام

[الرياضيات](#)

[اللغة الانجليزية](#)

[اللغة العربية](#)

[التربية الاسلامية](#)

## المزيد من الملفات بحسب الصف الخامس والمادة اجتماعيات في الفصل الأول

[الامتحان النهائي الدور الأول الفترة الصباحية لمحافظة جنوب الباطنة](#)

1

[الامتحان النهائي الدور الأول الفترة الصباحية لمحافظة شمال الباطنة](#)

2

[اختبار تحريبي نهائي حديث مع نموذج الإجابة](#)

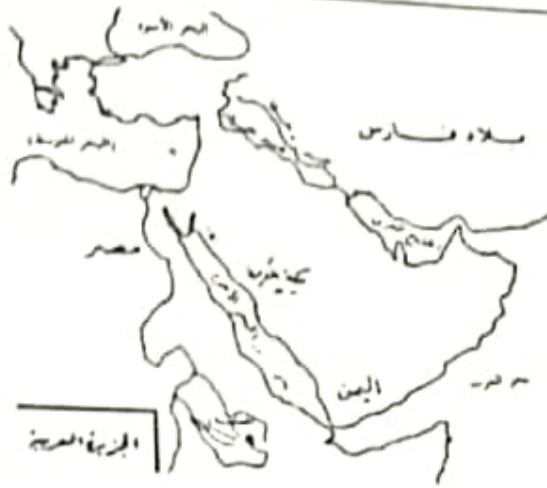
3

[اختبار قصير ثاني نموذج حديث](#)

4

[امتحان تحريبي نهائي حديث](#)

5



٧- حسب الخريطة امامك تقع مكة المكرمة  
بالنسبة للبحر الأحمر في جهة .....

- ا- الغرب      ب- الشرق  
ج- الشمال      د- الجنوب

٨- كان قلة من العرب قبل الإسلام على الحنفية وهي ملة سيدنا .....

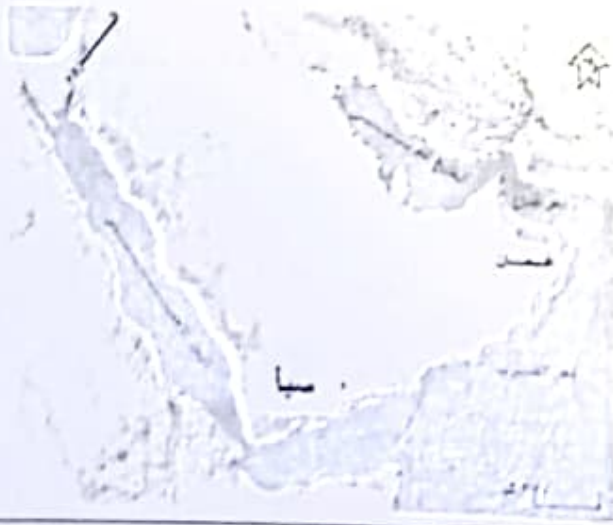
- ا- محمد      ب- موسى      ج- عيسى      د- إبراهيم

٩- ..... هو شعور الفرد بالحب تجاه وطنه فيعمل على خدمته وبناءه

- ا- الاسرة      ب- المدرسة      ج- المسجد      د- الولاء للوطن

١٠- الدفاع عن الوطن واجب وطني يؤديه .....

- ا- الطبيب      ب- المعلم      ج- المهندس      د- جميع افراد الوطن



١١- بعد ملاحظتك للخريطة امامك تقع  
مملكة سبأ بالنسبة لعمان في الجهة .....

- ا- الشمالية      ب- الجنوبية الغربية  
ج- الجنوبية      د- الجنوبية الشرقية

السؤال الأول: ضع دائرة حول رمز الإجابة الصحيحة لكل مفردة من المفردات الآتية (١٢ درجة لكل مفردة درجة واحدة)

- ١- ..... علم وفن يهتم برسم وصناعة الخرائط
- ا- علم الجغرافيا    ب- علم الخرائط    ج- علم الرياضيات    د- ضربية الأرض الزراعية
- ٢- رسم المصريون القدماء الخرائط علي .....
- ا- الصلصال المحروق    ب- الحجر    ج- الورق الشفاف    د- ورق البردي



- ٣- يحد سلطنة عمان حسب الخريطة امامك عدد ..... مسطحات
- ا- واحد    ب- ثلاثة
- ج- خمسة    د- سبعة

- ٤- ..... من علماء المسلمين الذين أسهموا في تطور علم الخرائط
- ا- الإدريسي    ب- الطبري    ج- القرطبي    د- البخاري



- ٥- المشار اليه بالسهم والذي يقع عند ٩٠ شمالا هو .....
- ا- القطب الجنوبي    ب- دائرة الاستواء
- ج- القطب الشمالي    د- مدار السرطان

- ٦- مارس سكان شبه الجزيرة العربية قبل الإسلام التجارة .....
- ا- البرية فقط    ب- البحرية فقط    ج- البرية والبحرية    د- الجوية

ثانيا : اءما المقصود بالموقع الفلكي ؟

٢- اءقرأ العبارة جيدا ولاحظ الخريطة واستنتج الإجابة

( تطل سلطنة عمان على العديد من المسطحات المائية وتطل كذلك على مضيق واحد فقط )



ا- ما اسم هذا المضيق ؟ .....

ب- اين يقع هذا المضيق بالنسبة للسلطنة ؟ .....

ثالثا : اءقرأ وافهم ثم اءجب

( قامت في بعض مناطق شبه الجزيرة العربية دول ومما قبيل الإسلام وقامت في هذه الدول العديد من الأنشطة الاقتصادية مثل الزراعة والتجارة والرعي )

١- اءذكر أسماء اثنين من هذه الدول والممالك ؟

٢- اءذكر اثنين من الأنشطة الاقتصادية التي مارسها السكان في هذه الدول والجزيرة العربية عموما

السؤال الثالث : اءجب عن الاسئلة الآتية ( ثماني درجات )

اولا : صل من عناصر المجموعة ( ا ) ما يناسبه من عناصر المجموعة ( ب )  
المجموعة ( ا )  
المجموعة ( ب )

١- عمان

ب- اليمن

ج- العدنانيون

د- فارس

١- دولة حكمها مالك بن فهم

٢- دولة قامت بها مملكة سبا

٣- دولة جاورت عمان من الشمال

٤- من اءقسام العرب الباقية



ثانيا : لاحظ الخريطة جيدا ثم اجب عن النقاط ( ١-٢-٣ ) من خلالها




١- اكتب الاتجاهات على الخريطة كما وضعها الادرسي

٢- اذكر ميزة واحدة تميزت بها خريطة الادرسي وخرائط المسلمين عن غيرها من خرائط الشعوب الأخرى

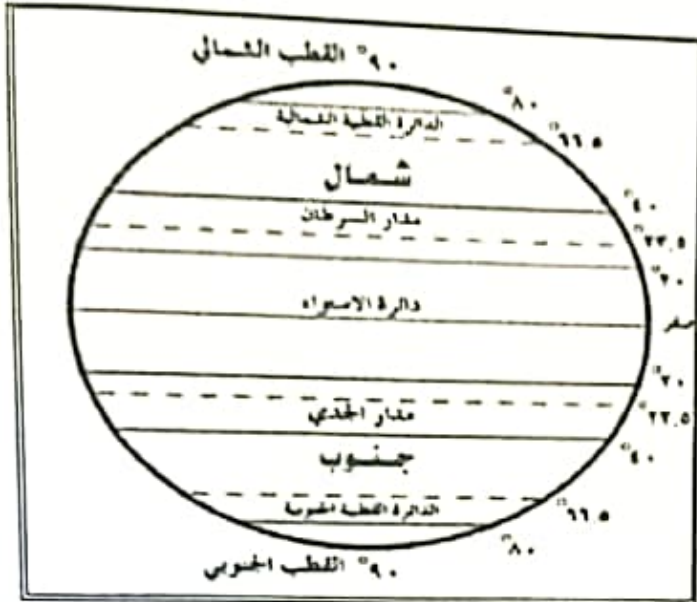
٣- ضع دائرة حول البحر الأحمر في خريطة الادرسي

ثالثا : اكتب ما تعبر عنه الصورة



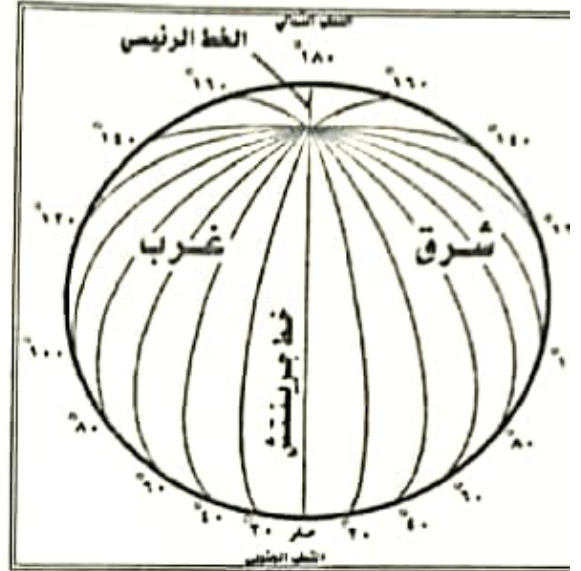
السؤال الرابع : اجب عن الاسئلة الآتية ( ست درجات )

الشكل ( ب )



( )

الشكل ( ا )



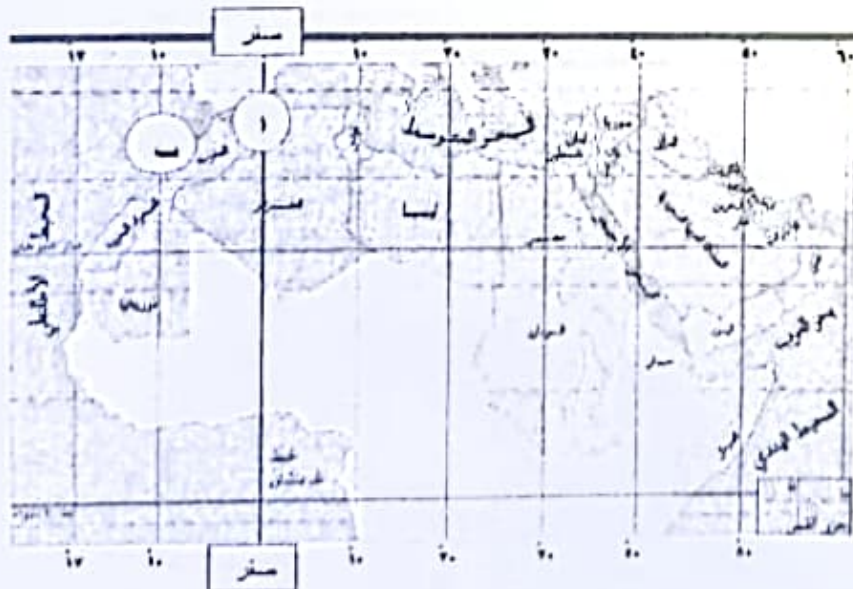
( )

١- ضع علامة ( ✓ ) تحت الشكل الذي به خطوط يتم من خلالها تحديد الزمن

٢- اكمل ا- عدد خطوط الطول .....

ب- عدد دوائر العرض .....

٣- احسب الفارق الزمني بين المنطقتين ( ا ) و ( ب ) الموجودتين علي الخريطة امامك



.....  
 .....  
 .....  
 .....  
 .....

ثالثاً: اقرأ الفقرة ثم اجب عن السؤال على الخريطة

في عهد هناة بن مالك بن فهم  
أرسل جيشاً لمساعدة أخيه  
سليمة الذي حكم كرمان

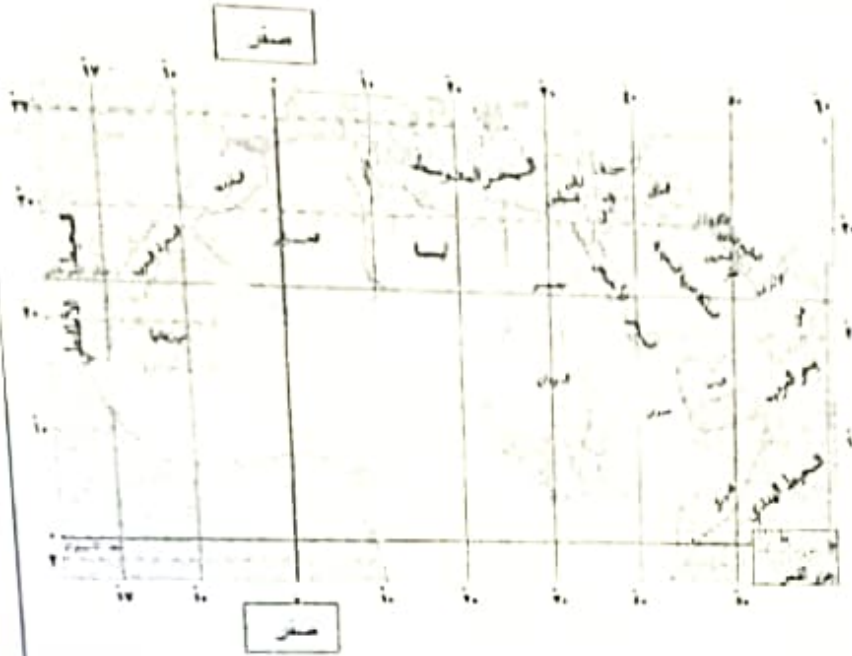
ارسم دائرة على الخريطة حول الحضارة التي تتبعها كرمان



انتهت الأسئلة مع تمنياتنا لكم بالتوفيق والنجاح



٥- لاحظ الخريطة جيدا ثم اجب



اذكر اسم دولة عربية

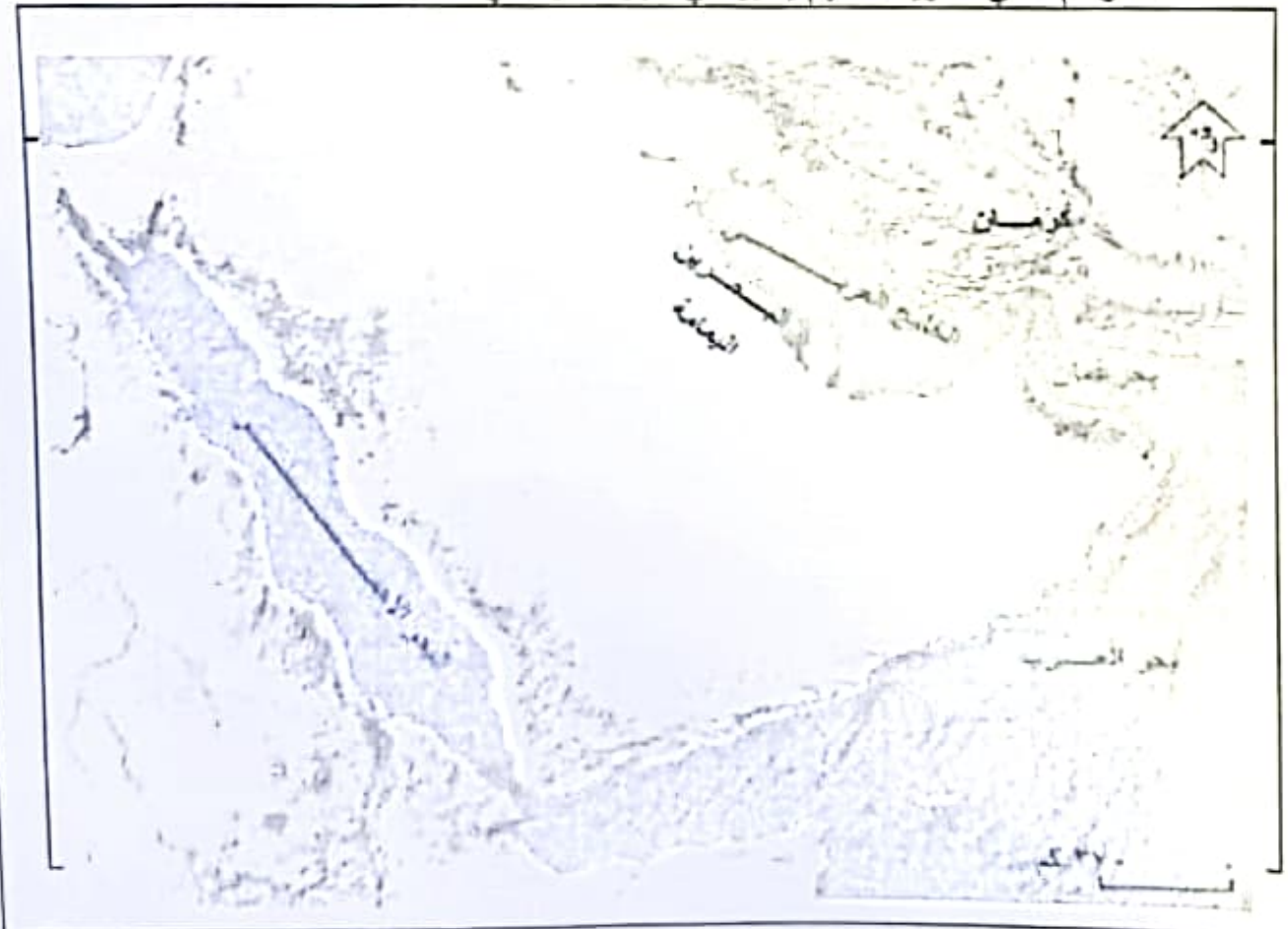
يمر بها خط جرينتش

.....

ثانيا : ١- عرف العرب البائدة

.....

٣- ارسم على الخريطة سهم يشير الي هجرة الازد الي عمان





ثانياً : اقرأ السورة ثم اجب عن النقطتين ( ١ - ٢ )

### سُورَةُ قُرَيْشٍ

بِسْمِ اللَّهِ الرَّحْمَنِ الرَّحِيمِ  
لِإِيلَافِ قُرَيْشٍ ①  
إِلَيْهِمْ رِحْلَةَ الْشِتَاءِ وَالصَّيْفِ  
فَلْيَعْبُدُوا رَبَّ هَذَا الْبَيْتِ ②  
الَّذِي أَطْعَمَهُمْ  
مِّنْ جُوعٍ وَءَامَنَهُمْ مِّنْ خَوْفٍ ④

- ١- القبيلة التي ذكر اسمها في السورة هي .....
- ٢- استنتج من السورة النشاط الاقتصادي الذي كانت تمارسه هذه القبيلة .....

السؤال الخامس: اجب عن الاسئلة الاتية ( ست درجات )

أولاً : ١- جهاز تحديد المواقع العالمي

( GPS ) لكي يحدد المواقع علي

سطح الأرض يجب استخدام .....

٤- اقرأ العبارة وافهمها جيداً ثم استنتج الإجابة

تمتد سلطنة عمان بين خطي طول ( ٥٢ شرقاً ) و ( ٥٠ ، ٥٩ شرقاً )

احسب عدد خطوط الطول التي تمتد عليهم السلطنة

.....