

شكراً لتحميلك هذا الملف من موقع المناهج العمانية



امتحان تجريبي نهائي جديد بمحافظة شمال الشرقية

موقع المناهج ← المناهج العمانية ← الصف الخامس ← اجتماعيات ← الفصل الثاني ← الملف

التواصل الاجتماعي بحسب الصف الخامس



روابط مواد الصف الخامس على تلغرام

[الرياضيات](#)

[اللغة الانجليزية](#)

[اللغة العربية](#)

[التربية الاسلامية](#)

المزيد من الملفات بحسب الصف الخامس والمادة اجتماعيات في الفصل الثاني

<a href="#">كتاب المادة المنهج الجديد</a>	1
<a href="#">نموذج إجابة الاختبار النهائي الرسمي في محافظة جنوب الباطنة</a>	2
<a href="#">الاختبار النهائي الرسمي في محافظة جنوب الباطنة</a>	3
<a href="#">نموذج إجابة الاختبار النهائي الرسمي في محافظة الداخلية</a>	4
<a href="#">الامتحان الرسمي النهائي بمحافظة جنوب الباطنة</a>	5



## امتحان تجريبي

لمادة : الدراسات الاجتماعية للصف : الخامس

للعام الدراسي ١٤٤٤ هـ - ٢٠٢٢/٢٠٢٣ م

الدور الأول - الفصل الدراسي الثاني

اعداد / أخصائي تقويم تاريخ أول .. زيانة البوسعيدية

(دائرة القياس والتقويم التربوي بمحافظة شمال الشرقية)

- زمن الامتحان: (ساعة ونصف) ● عدد صفحات أسئلة الامتحان: ( ٨ ) صفحات.
- الإجابة في الدفتر نفسه .

اسم الطالب	
الصف	المدرسة

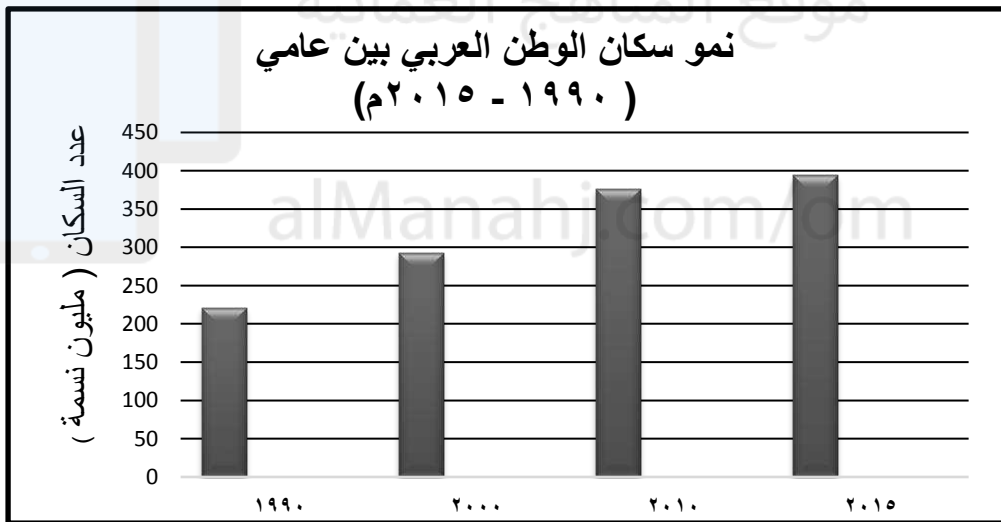
السؤال	الدرجة		التوقيع بالاسم	
	بالأرقام	بالحروف	المصحح الأول	المصحح الثاني
١				
٢				
٣				
٤				
٥				
المجموع			جمعه	مراجعة الجمع
المجموع الكلي				

أجب عن جميع الأسئلة الآتية

١٢

السؤال الأول: ضع دائرة حول رمز الإجابة الصحيحة لكل مفردة من المفردات الآتية:

- ١- الدولة التي تصدر الدول العربية في إنتاج الغاز الطبيعي هي:  
أ- السعودية ب- قطر ج- سلطنة عمان د- الكويت
- ٢- أمر جلالة السلطان قابوس - طيب الله ثراه - بتنفيذ مشروع المليون نخلة عام :  
أ- ٢٠٠٦ م ب- ٢٠٠٧ م ج- ٢٠٠٨ م د- ٢٠٠٩ م



- ٣- من خلال الرسم البياني بلغ عدد سكان الوطن العربي ٣٧٦ مليون نسمة في عام :  
أ- ١٩٩٠ م ب- ٢٠٠٠ م ج- ٢٠١٠ م د- ٢٠١٥ م
- ٤- الصورة التي أمامك توضح مشروع للطاقة الشمسية يسمى :



- أ- مشروع نور ب- مشروع مرآة  
ج- مشروع مدينة مصدر د- مشروع ضوء

(٢)

المادة: الدراسات الاجتماعية الصف: الخامس الدور الأول (تجريبي)  
الفصل الدراسي الثاني / العام الدراسي ٢٠٢٢/٢٠٢٣ م

تابع السؤال الأول:

٥) من العوامل الطبيعية المؤثرة في توزيع السكان في الوطن العربي :

النشاط الاقتصادي
الموارد الطبيعية
الأوضاع السياسية

ب-

أشكال السطح
توفر الخدمات
المناخ

أ-

توفر الخدمات
الأوضاع السياسية
النشاط الاقتصادي

د-

أشكال السطح
المناخ
الموارد الطبيعية

ج-

٦) قائد أموي كان له دور في توسيع الدولة إلى بلاد المغرب والأندلس هو :

أ- موسى بن نصير ب- طارق بن زياد ج- المهلب بن أبي صفرة د- كعب بن سور

٧) الصورة التي أمامك توضح أحد المنجزات الفكرية العمانية للعالم :



ب- أبو العباس المبرد

أ- ابن الذهبي

د- جابر بن زيد

ج- محمد بن جعفر الأزكوي

٨) لُقّب التاجر العماني عبدالله الصحاري بلقب ( جنرال الأخلاق الطيبة ) يدل ذلك :

أ- على دورة في حركة التجارة ب- دوره في نشر الإسلام في الصين.

ج- دوره في نشاط الملاحة البحرية د- دوره في تعليم اللغة العربية

٩) يطلق على فن إلقاء الشعر دون تنغيم أو غناء ويؤدى في المناسبات الوطنية والاجتماعية ب :

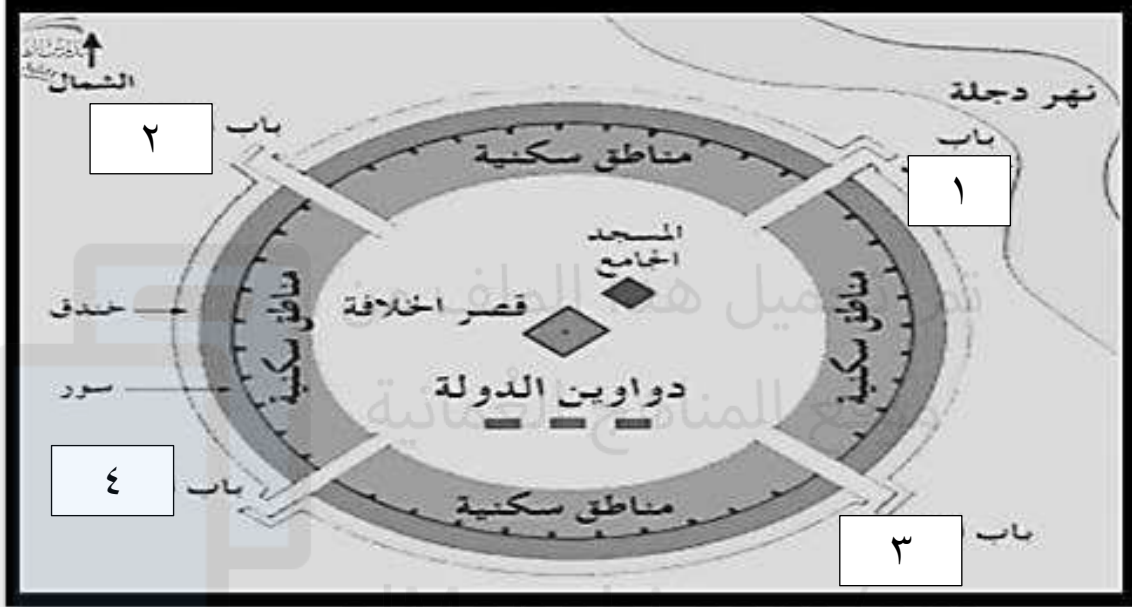
أ- العازي ب- الرزحة ج- العيالة د- الميدان

(٣)

المادة: الدراسات الاجتماعية الصف: الخامس الدور الأول (تجريبي)  
الفصل الدراسي الثاني / العام الدراسي ٢٠٢٢/٢٠٢٣ م

تابع السؤال الأول:

١٠) أمامك مخطط لمدينة بغداد التي بناها العباسيون أي من البدائل التالية صحيح :



الرقم	اسم الباب
١	باب خرسان
٢	باب الشام
٣	باب البصرة
٤	باب الكوفة

ب-

الرقم	اسم الباب
١	باب البصرة
٢	باب الكوفة
٣	باب خرسان
٤	باب الشام

أ-

الرقم	اسم الباب
١	باب الشام
٢	باب خرسان
٣	باب الكوفة
٤	باب البصرة

د-

الرقم	اسم الباب
١	الكوفة
٢	باب البصرة
٣	باب الشام
٤	باب خرسان

ج-

١١) خصصت منظمة الأمم المتحدة يوماً عالمياً للغة العربية هو يوم :

أ- ٢٠ ديسمبر

ب- ١٩ ديسمبر

ج- ١٨ ديسمبر

د- ١٧ ديسمبر

يتبع/٤

(٤)

المادة: الدراسات الاجتماعية الصف: الخامس الدور الأول (تجريبي)  
الفصل الدراسي الثاني / العام الدراسي ٢٠٢٢/٢٠٢٣ م

تابع السؤال الأول:

(١٢) الرقم الذي يشير إلى مقر جامعة الدول العربية :



د- (١)

ج- (٢)

ب- (٣)

أ- (٤)

السؤال الثاني :

٨

أولاً: (أ) اكتب المصطلح / المفهوم الدال على العبارة في الجدول التالي:

.....	١	زيادة عدد السكان من سنة إلى أخرى .
.....	٢	مواد طبيعية زراعية أو حيوانية أو معدنية غير مصنعة وقابلة للتصنيع

ثانياً :

(أ) علل ( تعد الزراعة من الأنشطة الاقتصادية المهمة في الوطن العربي )

.....  
.....

(ب) أنظر إلى الصورة جيداً ثم أجب عن الأسئلة التالية :



← ما اسم المشكلة؟ .....

← اذكر سبباً واحداً للمشكلة .

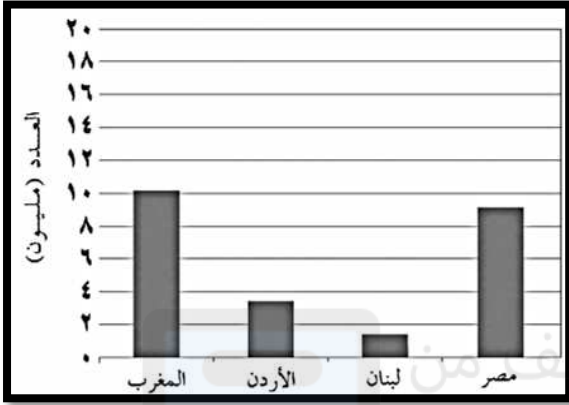
١- .....

(٥)

المادة : الدراسات الاجتماعية الصف : الخامس الدور الأول (تجريبي)  
الفصل الدراسي الثاني / العام الدراسي ٢٠٢٢/٢٠٢٣ م

تابع السؤال الثاني :

ثالثاً : أ) الشكل يوضح عدد السياح القادمين إلى بعض الدول عام ٢٠١٥ م ادرسه جيداً ثم أجب عن الأسئلة التي تليها :



١- أقل دولة استقبلت سياح هي .....

٢- فسر بلغ عدد السياح القادمين الى دولة المغرب عام ٢٠١٥ م ١٠ مليون سائح

.....  
.....

السؤال الثالث :

٨

أولاً: أ) اقرأ الفقرة التالية ثم أجب عن الأسئلة التي تليها :

( اهتمت دول الوطن العربي بتطوير قطاع الصناعات الغذائية التي تعتمد على الزراعة ومن أبرزها الألبان، تكرير السكر، تعليب الخضروات والفواكه، تغليف التمور. وقد ساعد توفر النفط والغاز الطبيعي على قيام صناعات حديثة مثل البتروكيماويات والأسمدة والألمنيوم ) .

١- فسر اهتمام دول الوطن العربي بتطوير قطاع الصناعات الغذائية المعتمد على الزراعة .

٢- عدد اثنين من الصناعات الحديثة المعتمدة على توفر النفط والغاز الطبيعي .

..... و .....

ثانياً: أ) عدد أهمية السياحة في الوطن العربي .

١-

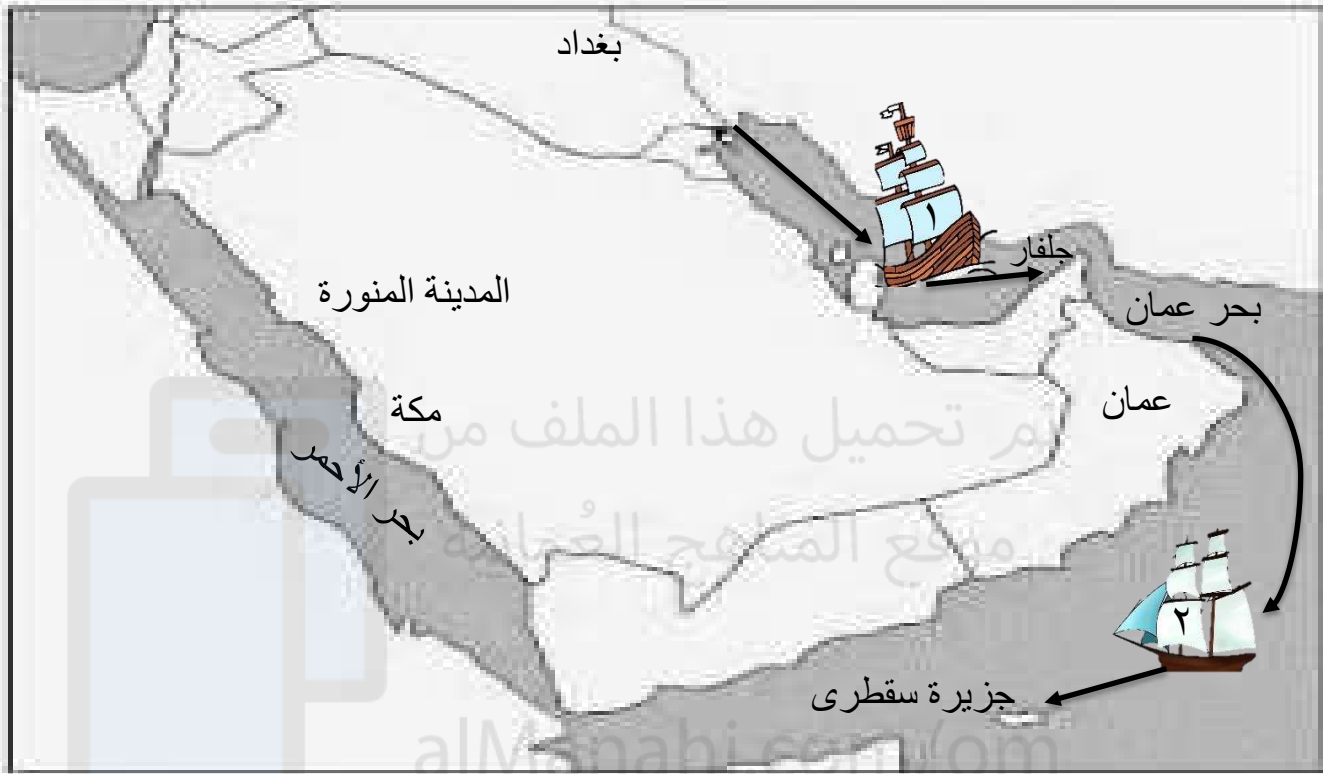
٢-

٣-

(٦)

المادة : الدراسات الاجتماعية الصف : الخامس الدور الأول ( تجريبي )  
الفصل الدراسي الثاني / العام الدراسي ٢٠٢٢ / ٢٠٢٣ م

ثالثا : أ ) ادرس الخريطة جيدا ثم أجب عن الأسئلة التالية :



- ١) ما المهمة التي نفذتها السفينة رقم (٢) .....
- ٢) ما اسم قائد السفينة رقم (١) .....
- ٣) ضع دائرة على عاصمة الدولة الإسلامية زمن الخلافة الراشدة.
- ٤) ظلل الدولة التي تقع فيها عاصمة الدولة العباسية .

السؤال الرابع :

٦

أولا : أ ) رتب الأحداث التاريخية التالية من الأقدم إلى الأحدث .

- استنطاق الخليفة عبد الملك بن مروان السيطرة على عمان .
- سقوط الخلافة العباسية على يد المغول .
- مبايعة العمانيين الإمام الجلندي بن مسعود بالإمامة .
- تولي معاوية بن سفيان الخلافة .

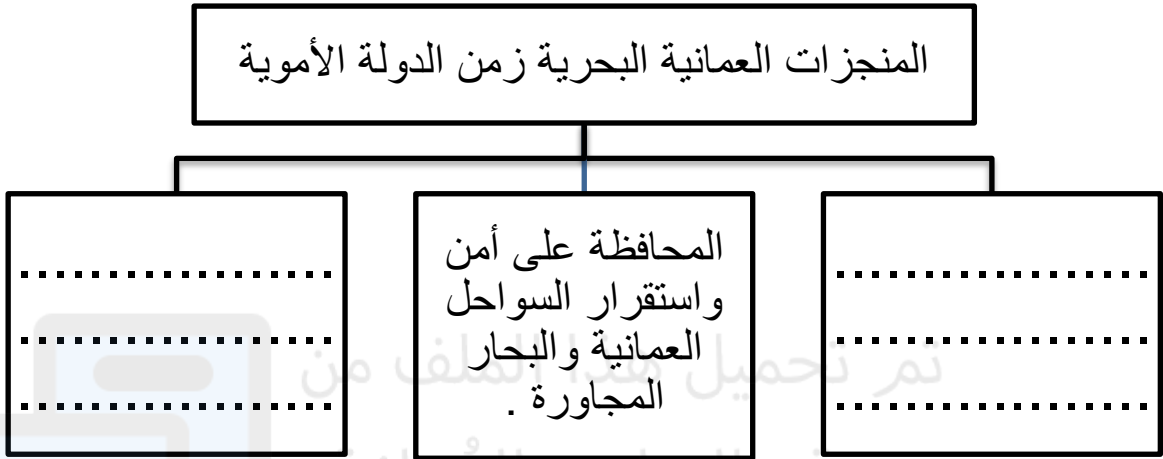
يتبع/٧



(٧)  
المادة : الدراسات الاجتماعية الصف : الخامس الدور الأول ( تجريبي )  
الفصل الدراسي الثاني / العام الدراسي ٢٠٢٢ / ٢٠٢٣ م

تابع السؤال الرابع :

ثانياً : (أ) أكمل خريطة المفاهيم التالية :



(ب) اذكر اثنين من المنجزات العمرانية للعمانيين زمن الدولة العباسية .

١- .....

٢- .....

السؤال الخامس:

أولاً :

(أ) عدد عوامل التكامل العربي :

.....

.....

(ب) ما واجبك تجاه العادات والتقاليد العمانية الأصيلة ؟

.....

.....


(٨)  
المادة : الدراسات الاجتماعية الصف : الخامس الدور الأول ( تجريبي )  
الفصل الدراسي الثاني / العام الدراسي ٢٠٢٢ / ٢٠٢٣ م

تابع السؤال الخامس :

ثانياً : أ) ادرس الصور جيداً ثم أجب عن الأسئلة التي تليها :



٢



١

- ١- متى انظمت سلطنة عمان للمنظمة التي يرمز لها بالشعار رقم (١) .....
- ٢- متى استضافت سلطنة عمان المؤتمر الذي يرمز له بالشعار رقم (٢) .....
- ٣- ما الهدف من تأسيس المنظمة التي يرمز لها بالشعار رقم (١) .....

انتهت الأسئلة مع الدعاء للجميع بالتوفيق والنجاح.