

## شكراً لتحميلك هذا الملف من موقع المناهج العمانية



## مراجعة درس فحص البيانات

[موقع المناهج](#) ← [المناهج العمانية](#) ← [الصف الخامس](#) ← [رياضيات](#) ← [الفصل الثاني](#) ← [الملف](#)

تاريخ نشر الملف على موقع المناهج: 2024-04-21 04:36:21

[إعداد: إخلاص الغافية](#)

## التواصل الاجتماعي بحسب الصف الخامس



[اضغط هنا للحصول على جميع روابط "الصف الخامس"](#)

## روابط مواد الصف الخامس على تلغرام

[الرياضيات](#)

[اللغة الانجليزية](#)

[اللغة العربية](#)

[التربية الاسلامية](#)

## المزيد من الملفات بحسب الصف الخامس والمادة رياضيات في الفصل الثاني

[مراجعة درس الاحتمال](#)

1

[مراجعة درس الأسئلة والاستبيانات](#)

2

[تمارين مراجعة المادة](#)

3

[كراسة أنشطة الطالب](#)

4

المزيد من الملفات بحسب الصف الخامس والمادة رياضيات في الفصل الثاني

[كراسة تدريبية في الدروس المقررة](#)

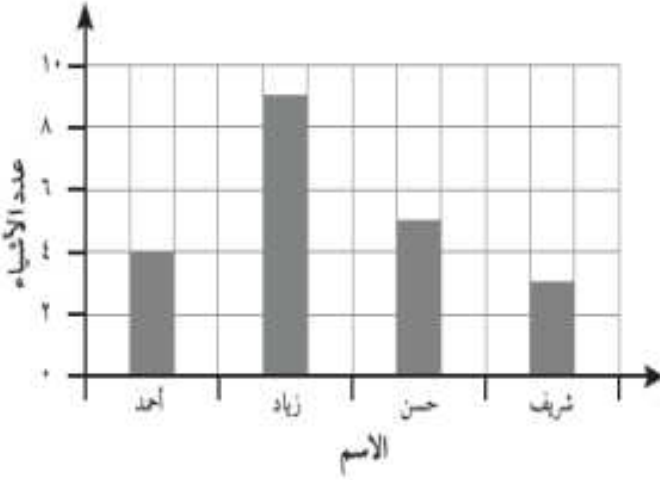
5

## درس: فحص البيانات



أستطيع أن اختار الطرق المناسبة لعرض البيانات.  
أستطيع أن أفسر مجموعة من الجداول والمخططات والرسوم البيانية.

**مثال (١):** ذهب كل من أحمد وزيد وحسن وشريف في رحلة للبحث عن كنز. يعرض الرسم البياني المقابل عدد الأشياء التي عثر عليها كل ولد. أجب عن الأسئلة التالية:

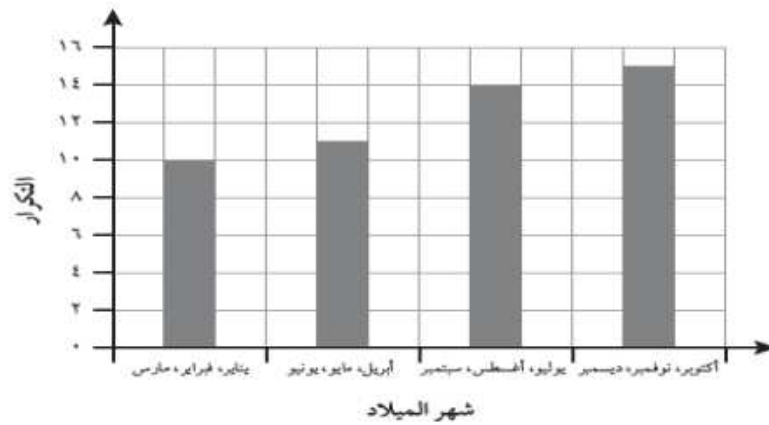


(أ) كم عدد الأشياء التي عثر عليها زيد؟  
.....

(ب) كم عدد الأشياء التي عثر عليها حسن وأحمد معاً؟  
.....

(ج) كم عدد الأشياء التي عثر عليها كل الأولاد معاً؟  
.....


**تمرين (١):** الرسم المقابل يعرض تواريخ ميلاد طلاب الصفين الخامس والسادس. أجب عن التالي:



(أ) كم يبلغ عدد الطلاب الموجودين في الصفين الخامس والسادس؟  
.....

(ب) عدد المواليد في شهر أكتوبر ونوفمبر وديسمبر متساوية، كم عدد المواليد في شهر ديسمبر؟  
.....

**تمرين (٢):** تعيش زينب وخديجة في سلطنة عمان، وقد أجرتا استبياناً على الفصول المفضلة لدى الطالبات. ثم سجلتا النتائج التي توصلتا إليها على رسم بياني عمودي، أجب عن الأسئلة التالية:



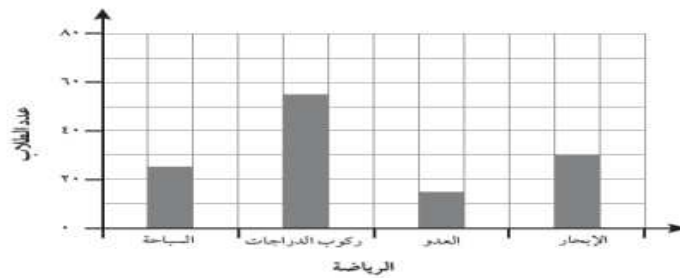
الاجابة: .....	ا) كم عدد الطالبات اللواتي فضلن الصيف على الشتاء؟
الاجابة: .....	ب) كم عدد الطالبات اللواتي فضلن فصل الربيع على فصل الخريف؟
الاجابة: .....	ج) أي الفصول أقل تفضيلاً؟

د) وصفت زينب النتائج التي توصلت إليها. فقالت (( إن عدد الطالبات اللاتي اخترن فصل الشتاء هو ضعف عدد الطالبات اللاتي اخترن فصل الخريف )) هل توافق على ذلك؟

لا  نعم

اشرح إجابتك؟ .....

**تمرين (٣):** يعرض الرسم البياني أدناه الرياضات لدى مجموعة من الطلاب. استخدم المعلومات الواردة في الإجابة عن الأسئلة الواردة:






صح	خطأ	العبارة
		أ) حوالي ٣٥ طالباً من الطلاب اختاروا رياضة السباحة.
		ب) إن عدد الطلاب الذين اختاروا رياضة ركوب الدراجات يقدر بحوالي ثلاثة أضعاف عدد الطلاب الذين اختاروا رياضة السباحة.
		ج) كل الرياضات تم اختيارها بواسطة أكثر من ٢٠ طالباً.
		د) عدد الطلاب الذين اختاروا رياضة الإبحار يقدر بحوالي ضعف عدد الطلاب الذين اختاروا رياضة العدو.

إعداد: أ. إخلص الغافرية

**تمرين (٤):** يصطاد سالم السمك لبيعه في السوق. يظهر الجدول التالي عدد الأسماك التي اصطادها في ثلاثة أيام.

( حيث  $6 =$  سمكات )

الأحد	
الاثنين	
الثلاثاء	

الاجابة: .....	ا) كم يبلغ عدد الاسماك التي صادها سالم يوم الاثنين؟
الاجابة: .....	ب) كم يبلغ عدد الاسماك التي صادها سالم يومي الأحد والاثنين .
الاجابة: .....	ج) كم يبلغ إجمالي عدد الاسماك التي صادها سالم خلال ثلاثة أيام .

د) يقول سالم :


إن عدد الأسماك التي اصطدتها يوم الثلاثاء تقل عن عدد الأسماك التي اصطدتها يوم الأحد بمقدار ٦ سمكات .

لا

نعم

فسر اجابتك ؟ .....


**تمرين (٥):** قام فارس بعمل استبيان حول نوع التمر المفضل من بين أربع أنواع معروضة في الاستبيان (الخلاص، الخنيزي، المبسلي، الفرض) لـ ٥٠٠ شخص، ثم مثل فارس النتائج بيانياً. أكمل الرسم؟



كم يبلغ عدد الأشخاص الذين يفضلون الخنيزي؟ .....

إعداد: أ. إخلص الغافرية

**مثال (٢):** ارسم رسماً بيانياً لعرض هذه المعلومات الخاصة بأحد استبانات مقاسات الأحذية بأفضل شكل.



التكرار	مقاس الحذاء
٥	٣٨
٨	٣٩
١١	٤٠
١٨	٤١
١٥	٤٢



تمرين: كتاب الطالب صفحة ١٦ رقم ١

تمرين: كتاب الطالب صفحة ١٧ رقم ٢

تمرين: كتاب الطالب صفحة ١٧ رقم ٣

الواجب المنزلي: كتاب الطالب صفحة ١٩ رقم ٦

### طرق عرض البيانات

