

شكراً لتحميلك هذا الملف من موقع المناهج العمانية



اختبار قصير أول

[موقع المناهج](#) ← [المناهج العمانية](#) ← [الصف الخامس](#) ← [اجتماعيات](#) ← [الفصل الثاني](#) ← [الملف](#)

تاريخ نشر الملف على موقع المناهج: 05:15:04 2023-03-29

التواصل الاجتماعي بحسب الصف الخامس



روابط مواد الصف الخامس على تلغرام

[الرياضيات](#)


[اللغة الانجليزية](#)

[اللغة العربية](#)

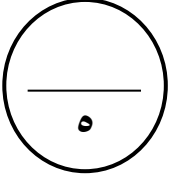
[التربية الاسلامية](#)

المزيد من الملفات بحسب الصف الخامس والمادة اجتماعيات في الفصل الثاني

كتاب المادة المنهج الجديد	1
نموذج إجابة الاختبار النهائي الرسمي في محافظة جنوب الباطنة	2
الاختبار النهائي الرسمي في محافظة جنوب الباطنة	3
نموذج إجابة الاختبار النهائي الرسمي في محافظة الداخلية	4
الامتحان الرسمي النهائي بمحافظة جنوب الباطنة	5



اختبار قصير رقم (١) في مادة الدراسات الاجتماعية للصف الخامس
للفصل الدراسي الثاني ٢٠٢٢-٢٠٢٣



السؤال الأول: ضع دائرة حول رمز الإجابة الصحيحة من بين البدائل المعطاة :



١- يميل السكان الي العيش في المناطق :

- (أ) الجبلية (ب) السهلية (ج) الصحراوية (د) الهضبية

٢- العامل البشري الذي يؤثر في توزيع السكان في الوطن العربي:

- (أ) التربة (ب) المناخ (ج) الهجرة (د) المياه

٣- الشكل الصحيح الذي يشير الى موارد الطاقة الغير متجددة :



(د)

(ج)

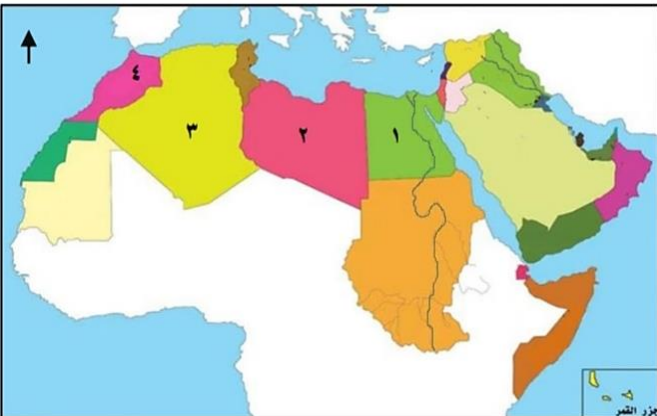
(ب)

(أ)

٤) الدولة العربية التي تعتمد على مياه السدود في توليد الطاقة الكهربائية :

- أ- قطر ب- السعودية ج- سوريا د- المغرب

٥) الرقم الذي يشير إلى الدولة العربية التي تضم مشروع نور للطاقة الشمسية في الخريطة المقابلة :



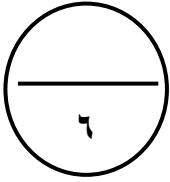
أ- ١

ب- ٢

ج- ٣

د- ٤

السؤال الثاني : أجب عن الاسئلة التالية :



١- صنف العوامل المؤثرة في توزيع السكان في الوطن العربي الى عوامل طبيعية و بشرية:
(الهجرة - المناخ - توفر الخدمات - الانشطة الاقتصادية- اشكال السطح - الموارد الطبيعية)

عوامل طبيعية	عوامل بشرية
_____	_____
_____	_____
_____	_____

٢- علل : يعد الوطن العربي بيئة ملائمة لإقامة مشاريع الطاقة الشمسية ؟

.....

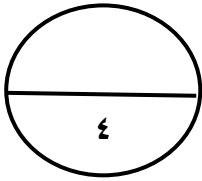
٣- ما الدولة التي تحتل المركز الأول في انتاج النفط عام ٢٠١٦

.....

٤- اذكر مصدر واحد تعتمد عليه الدولة للحصول على معلومات عن السكان ؟

.....

السؤال الثالث : أجب عن الأسئلة التالية



١- عددي اثنين من استخدامات الغاز الطبيعي ؟

.....



.....

٢- عرف الطاقة الغير متجددة ؟

.....

٣- ادرس الخريطة المقابلة ثم اجب :



أ) ضع رقم (١) على الدولة العربية التي تحتل المرتبة الاولى في انتاج النفط.

ضع رقم (٢) على الدولة التي تحتل المرتبة السادسة في انتاج الغاز الطبيعي في الوطن العربي.

٤- اقترح حلا واحداً لحل ازمة الاختناقات المرورية في المدن.

.....

انتهت الاسئلة ،،، تمنياتي لكم بالتوفيق