

تم تحميل هذا الملف من موقع المناهج العمانية



*للحصول على أوراق عمل لجميع الصفوف وجميع المواد اضغط هنا

<https://almanahj.com/om>

* للحصول على أوراق عمل لجميع مواد الصف الخامس اضغط هنا

<https://almanahj.com/om/5>

* للحصول على جميع أوراق الصف الخامس في مادة رياضيات ولجميع الفصول, اضغط هنا

<https://almanahj.com/om/5math>

* للحصول على أوراق عمل لجميع مواد الصف الخامس في مادة رياضيات الخاصة بـ الفصل الأول اضغط هنا

<https://almanahj.com/om/5math1>

* لتحميل كتب جميع المواد في جميع الفصول للـ الصف الخامس اضغط هنا

<https://almanahj.com/om/grade5>

* لتحميل جميع ملفات المدرس عائشة النعيمي اضغط هنا

للتحدث إلى بوت على تلغرام: اضغط هنا

https://t.me/omcourse_bot



المديرية العامة للتربية والتعليم
شمال الباطنة



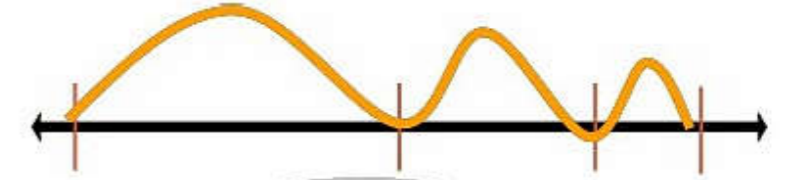
الجمع والطرحة (أ) جزي



استراتيجيات الجمع والطرح

$$\begin{array}{r} 800 \\ - 243 \\ \hline 557 \end{array}$$
$$\begin{array}{r} 478 \\ + 23 \\ \hline 501 \end{array}$$

$$\begin{array}{r} 800 \\ + 900 \\ \hline 1700 \end{array}$$
$$\begin{array}{r} 600 \\ + 700 \\ \hline 1300 \end{array}$$



القياسية


الأجزاء أو التجزئة
او المنازل

خط الأعداد

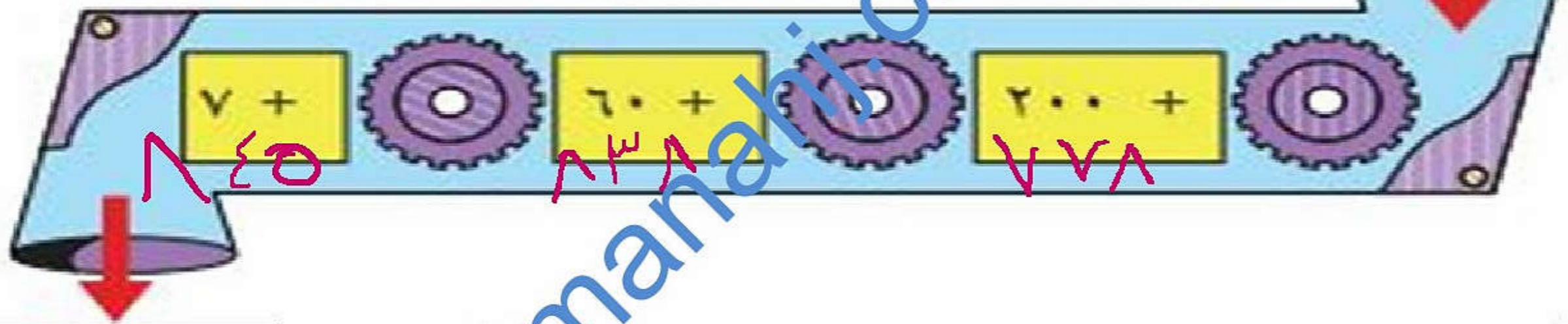
التحقق
من التعلم

كتاب
الطالب
ص ١٩

(٢) ضع ٥٧٨ في كل آلة من هذه الآلات واحسب القيمة التي ستخرج.



(أ)

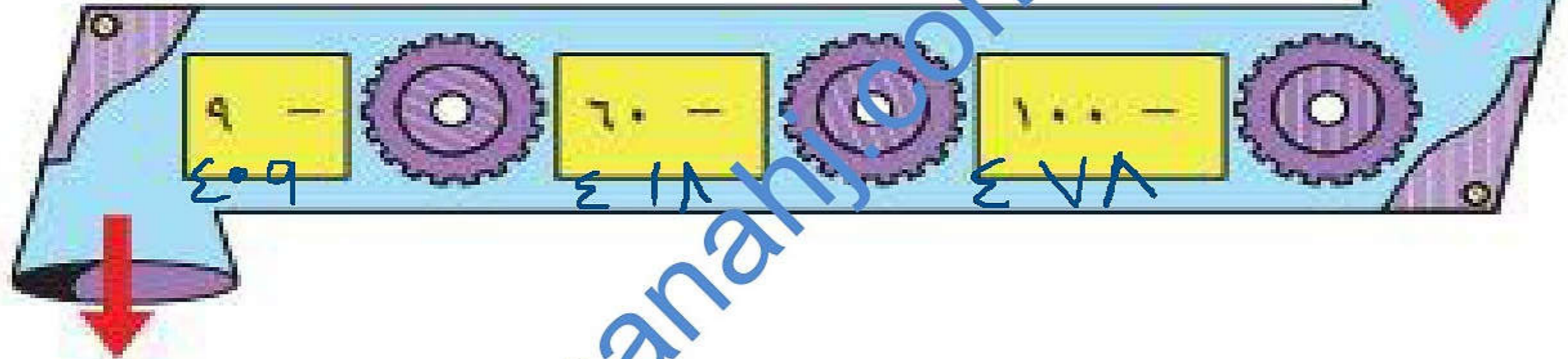


التحقق
من التعلم

كتاب
الطالب
ص ١٩

٥٧٨

ج

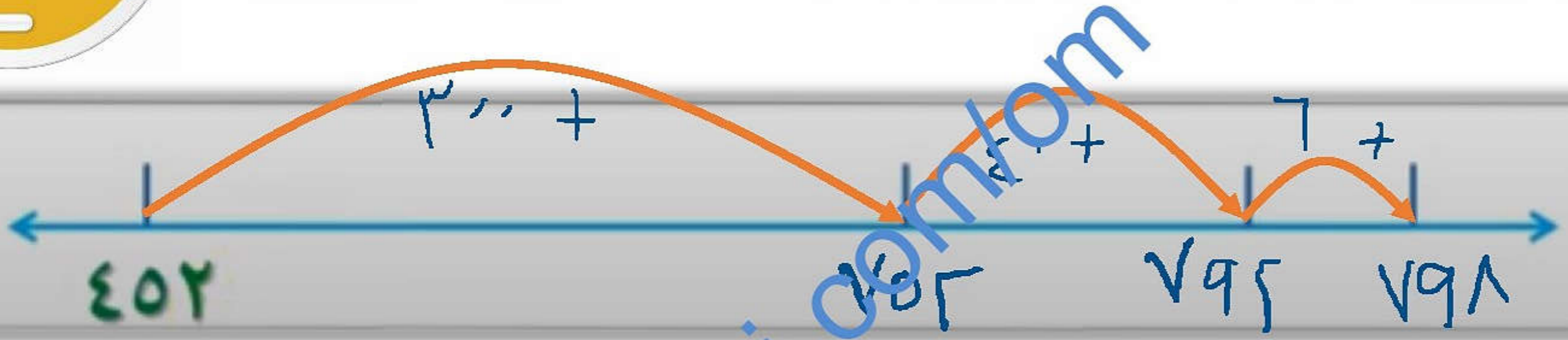


٤٠٩





اوجد ناتج جمع : $402 + 346$ ← $300 + 40 + 6 + 7$



التحقق : الأجزاء :

$$7 = 6 + 1$$


$$748 \leftarrow 90 = 40 + 50$$

$$700 = 300 + 400$$

الخط الصحيح
791
346
402



اوجد ناتج طرح : $975 - 342 = 633$



الخط الصحيح
القياسية

$$\begin{array}{r} 975 \\ - 342 \\ \hline 633 \end{array}$$

633

التحقق: الأجزاء

$$2 - 0 = 2$$

$$30 - 40 = 30 - 10 = 20$$

$$300 - 0 = 300$$

تعاريف فرديه

almanahi.com/lom

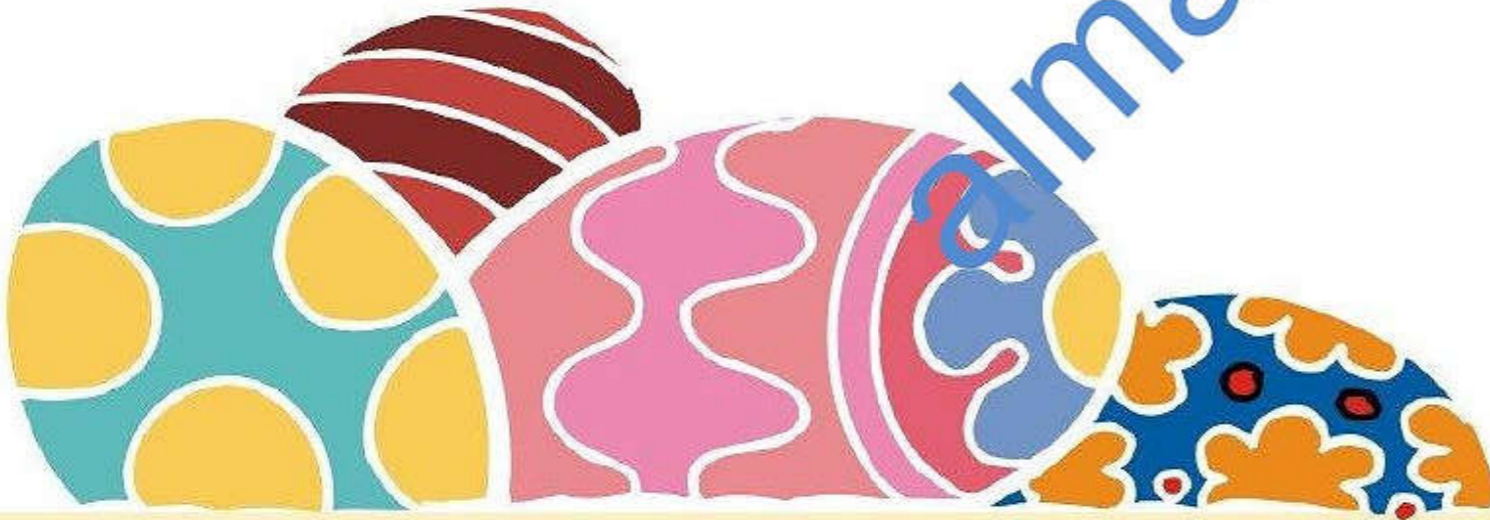




دقائق

لدى محمد ۲۳۴ ریالا ..
 اقترض منه صديقه  مبلغ ۱۳۴ ریالا ..
 فكم ریالا بقي مع محمد 

الباقى لدى محمد = ۲۳۴ - ۱۳۴ = ۱۰۰ ریاله



فردى

تمرين (٢):

من الصورة المرفقة اكتب العدد الناقص في العملية المكتوبة تحت خط الاعداد :



دقائق



$$\boxed{777} = \boxed{231} + 046$$

هيا بنا يا طالباتي المجتهدات:

نُكْعِبُ

وَنُتَعَلِمُ



لعبة

التحقق
من التعلم



دقائق

<https://wordwall.net/play/7617/720/197>

almanahj.com/om



-

$$\begin{array}{r} ٥٨ \\ ٣٠ \\ \hline ٢٨ \end{array}$$



+


$$\begin{array}{r} ٣٠٦ \\ ٢٨٢ \\ \hline ٥٨٨ \end{array}$$





التقويم الاجتهادي

الزمن : ٦ دقائق



<https://forms.gle/gWBwsoPEHuzn7rs17>

