

## شكراً لتحميلك هذا الملف من موقع المناهج العمانية



## الاختبار النهائي الرسمي في محافظة الظاهرة

[موقع المناهج](#) ⇨ [المناهج العمانية](#) ⇨ [الصف الخامس](#) ⇨ [اجتماعيات](#) ⇨ [الفصل الثاني](#) ⇨ [الملف](#)

تاريخ نشر الملف على موقع المناهج: 05:39:08 2023-05-18

## التواصل الاجتماعي بحسب الصف الخامس



## روابط مواد الصف الخامس على تلغرام

[الرياضيات](#)

[اللغة الانجليزية](#)

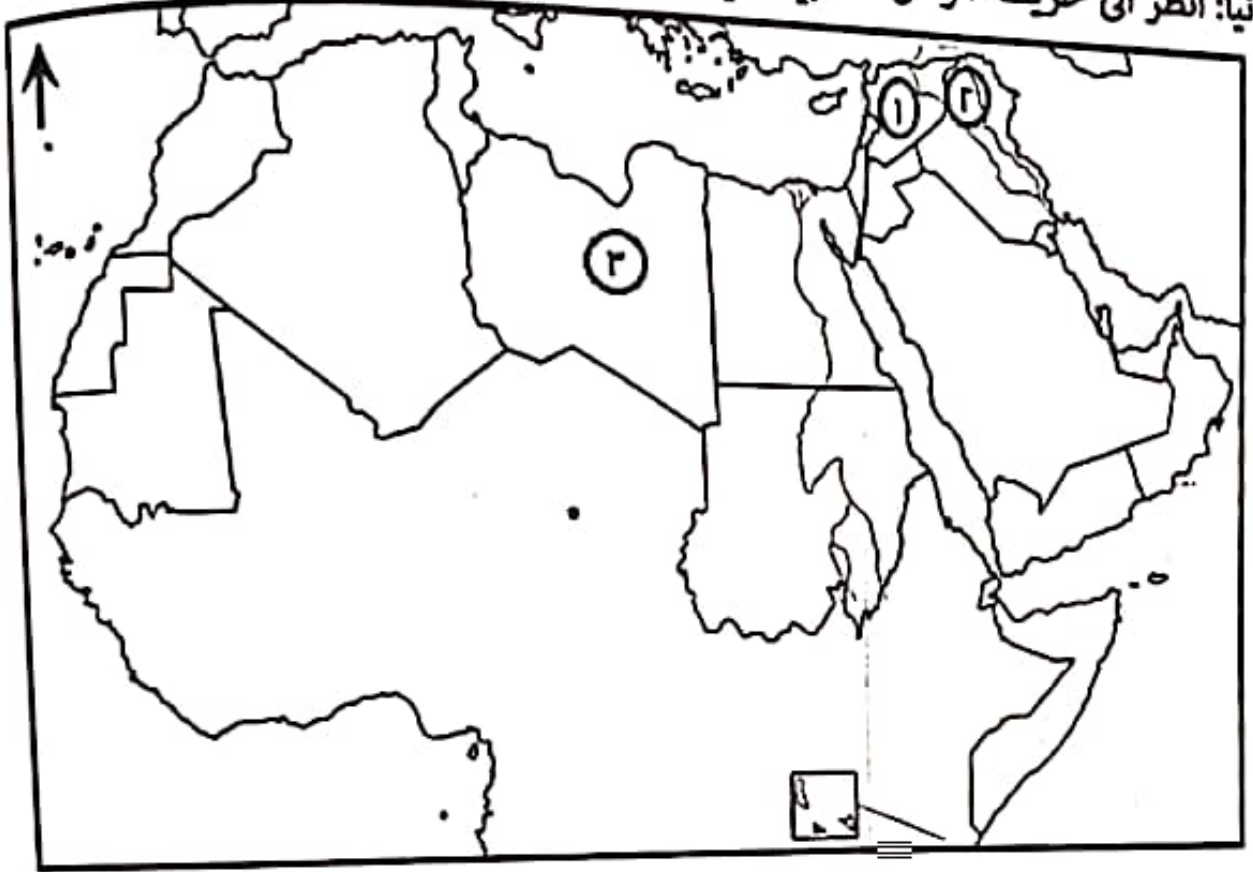
[اللغة العربية](#)

[التربية الاسلامية](#)

## المزيد من الملفات بحسب الصف الخامس والمادة اجتماعيات في الفصل الثاني

<a href="#">كتاب المادة المنهج الجديد</a>	1
<a href="#">نموذج إجابة الاختبار النهائي الرسمي في محافظة جنوب الباطنة</a>	2
<a href="#">الاختبار النهائي الرسمي في محافظة جنوب الباطنة</a>	3
<a href="#">نموذج إجابة الاختبار النهائي الرسمي في محافظة الداخلية</a>	4
<a href="#">الامتحان الرسمي النهائي بمحافظة جنوب الباطنة</a>	5

تابع السؤال الرابع : أجب عن الأسئلة التالية.  
ثانياً: انظر الى خريطة الوطن العربي التي أمامك، ثم أجب عن الأسئلة التي تليها.



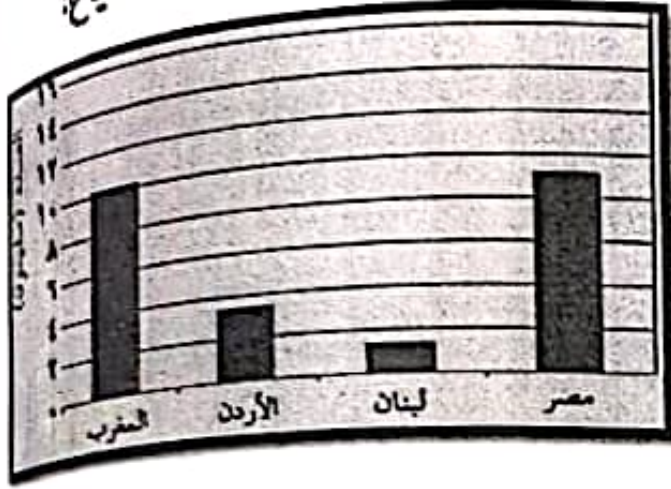
١- ظل على الخريطة الدولة التي يوجد بها مشروع (نور) للطاقة الشمسية.

٢- الرقم الذي يشير الى الدولة التي هاجر اليها العمانيون لطلب العلم ونشره في عهد الدولة العباسية .....

٣- الرقم الذي يشير الى عاصمة الدولة الأموية .....

٤- اكتب على الخريطة البحر الأحمر في مكانه الصحيح.

٨- من خلال الشكل المقابل الدولة العربية التي تحتل المرتبة الثانية في عدد السياح:



ب- لبنان

أ- مصر

د- المغرب

ج- الاردن

٩- أحد الفنون الشعبية العمانية تم إدراجه في قائمة التراث الثقافي في منظمة اليونسكو عام ٢٠١٢م:

د- الهبوت

ج- العازي

ب- الرزحة

أ- الميدان

١٠- العام الميلادي الذي انضمت سلطنة عمان لجامعة الدول العربية:

د- ١٩٧٣

ج- ١٩٧٢

ب- ١٩٧١

أ- ١٩٧٠

١١- الخليفة الذي أنشأ مكتبة بيت الحكمة:

أ- معاوية بن أبي سفيان

ج- عمر بن عبد العزيز

ب- عبد الملك بن مروان

د- هارون الرشيد

١٢- يقصد بالتبادل القائم بين الدول لتحقيق أهداف مشتركة:

أ- الثقافة

ب- التشاور

ج- التكامل

د- التفاعل العالمي

تابع السؤال الثالث : أجب عن الأسئلة التالية

ثالثاً: اذكر اثنين لكل من:

١- المنجزات العمانية البحرية في العصر الأموي.

٢- أسباب ضعف الدولة العباسية.

السؤال الرابع: أجب عن الأسئلة التالية. (٦ درجات)



أولاً: يمثل الشكل المقابل جزءاً من شعار منظمة إقليمية، ادرسه جيداً ثم أجب عن الأسئلة التي تليه.

١- ما اسم المنظمة التي ينتمي إليها هذا الشعار.

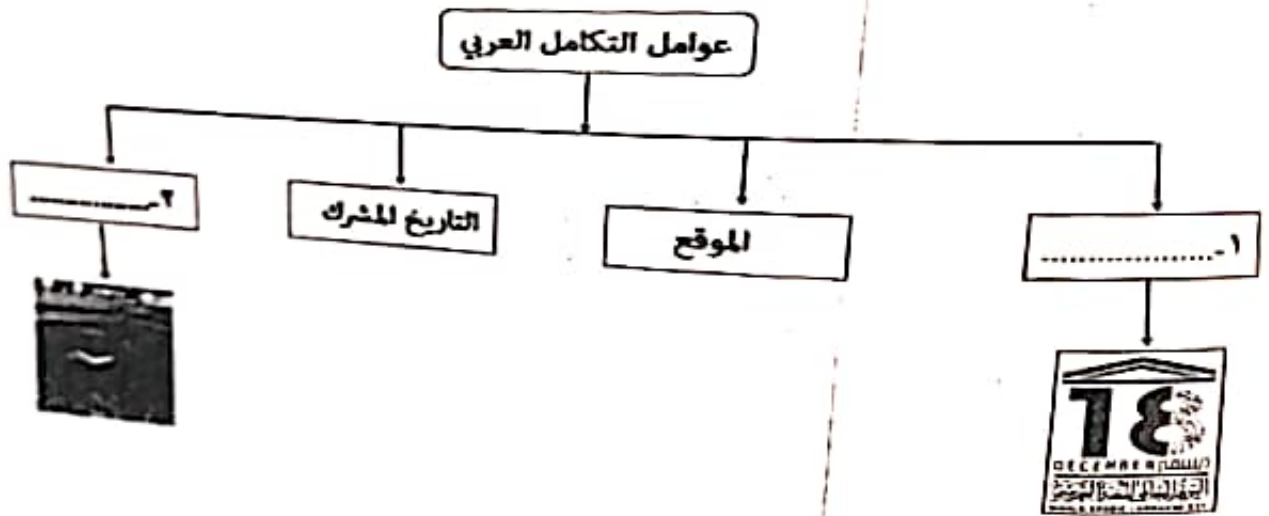
٢- اذكر دولتين من الدول الأعضاء في تلك المنظمة.

السؤال الخامس: أجب عن الأسئلة التالية. (6 درجات)

أولاً: اكتب المفهوم أو المصطلح الدال على العبارات التالية.

التعريف	المفهوم أو المصطلح
حركة الأفراد والجماعات من مكان إقامتهم إلى أماكن أخرى	.....
توجد في الطبيعة بكميات محدودة وإذا نضبت لا يمكن تجديدها	.....

ثانياً: مستعينا بالصور استنتج عوامل التكامل العربي وأكتبها في الخريطة الذهنية أدناه.



ثالثاً: انسب أسماء العلماء التالية أسمائهم إلى مؤلفاتهم في الجدول التالي.

المؤلف	اسم الكتاب
.....	الماء في الطب
.....	الكامل في اللغة والأدب

انتهت الأسئلة مع التمنيات للجميع بالنجاح

(٢)  
المادة : الدراسات الاجتماعية  
الدور الأول - الفصل الدراسي الثاني - العام الدراسي : ٢٠٢٢ / ٢٠٢٣ م  
الصف : الخامس

تابع السؤال الأول:

٥- طبيعة المادة الخام للصناعة الواضحة في الصورة المقابلة:



ب- معدنية

أ- زراعية

د- حيوانية

ج- نفطية

٦- أمر جلالة السلطان قابوس بن سعيد -طيب الله ثراه- بزراعة مليون شجرة من أشجار:  
أ- المانجو      ب- النخيل      ج- الليمون      د- الزيتون

٧- تمثل الصورة المقابلة أحد مصادر الطاقة المتجددة الذي لا ينضب :



ب- المياه

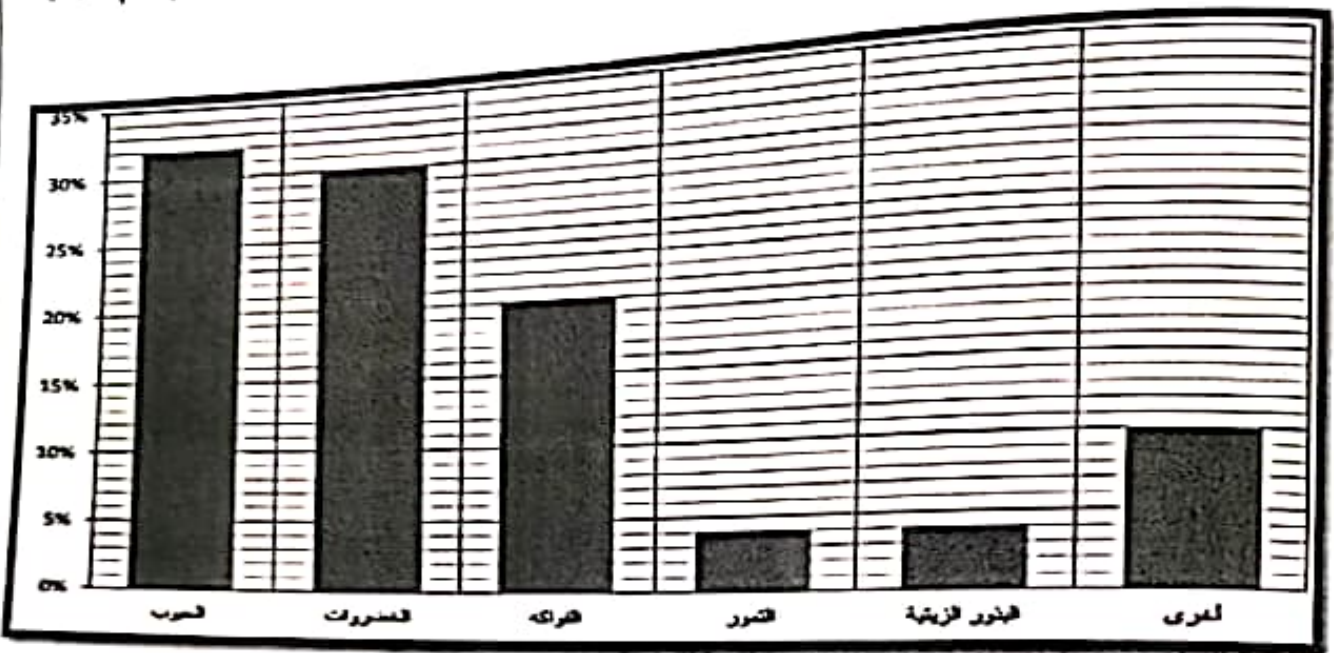
أ- الرياح

د- النفط

ج- الشمس

السؤال الثاني: أجب علي الأسئلة التالية  
أولاً: ادرس الشكل التالي الذي يمثل الإنتاج الزراعي للوطن العربي لعام ٢٠١٤م، ثم أجب  
عن الأسئلة التي تليه:

(٨ درجات)



1- ما أكثر المحاصيل الزراعية إنتاجا في الوطن العربي.

.....

2- كم بلغت نسبة إنتاج الفواكه.

.....

3- علل: تعد الزراعة من الأنشطة الاقتصادية المهمة في الوطن العربي. (يكتفي بذكر اثنين)

.....  
.....

ثانياً: صنف الصناعات بين القوسين وفقاً للجدول أدناه: (صيد الأسماك، تعليب الأسماك)

الصناعات التحويلية	الصناعات الاستخراجية	نوع الصناعة
.....	.....	الصناعات

### أجب عن جميع الأسئلة الآتية

السؤال الأول: ضع دائرة حول رمز الإجابة الصحيحة: ( ١٢ درجة )

١- يعتبر حقل خزان في محافظة الظاهرة من أكبر مشاريع إنتاج:  
أ- الفحم الحجري      ب- النفط      ج- الغاز الطبيعي      د- الحديد

٢- القائد الأموي الذي كان له دور في توسع الدولة الأموية الي بلاد المغرب والأندلس:  
أ- موسى بن نصير      ب- زياد بن المهلب      ج- كعب بن معديان      د- عيسى بن جعفر

٣- رقم المدينة العمانية التي كانت تنتج ثياب منمقة بالحريز لا ينتج مثلها في بلاد العرب:



أ- ١      ب- ٢

ج- ٣      د- ٤

٤- استمرت الدولة العباسية حوالي:

أ- أربعة قرون      ب- خمسة قرون      ج- ستة قرون      د- سبعة قرون



تابع السؤال الثاني: أجب عن الأسئلة التالية.

ثالثاً: علل ما يأتي:

١-تركز السكان بكثرة على ضفاف الأنهار.

٢-حرص سلطنة عمان على توثيق علاقاتها بالدول العربية.

(٨ درجات)


السؤال الثالث: أجب عن الأسئلة التالية

أولاً: قارن بين الدولة الأموية والدولة العباسية من حيث:

الدولة العباسية	الدولة الأموية	
.....	.....	نسبها
.....	.....	عاصمتها

ثانياً: انظر الى الصورة التي تمثل أحد المشكلات السكانية في الوطن العربي

ثم أجب عن الأسئلة التالية.



١- ما اسم المشكلة التي تمثلها الصورة.

.....

٢- اقترح حلاً لمعالجة هذه المشكلة.

.....