

تم تحميل هذا الملف من موقع المناهج العُمانية



*للحصول على أوراق عمل لجميع الصفوف وجميع المواد اضغط هنا

<https://almanahj.com/om>

* للحصول على أوراق عمل لجميع مواد الصف الخامس اضغط هنا

<https://almanahj.com/om/5>

* للحصول على جميع أوراق الصف الخامس في مادة اجتماعيات ولجميع الفصول, اضغط هنا

<https://almanahj.com/om/5social>

* للحصول على أوراق عمل لجميع مواد الصف الخامس في مادة اجتماعيات الخاصة بـ الفصل الثاني اضغط هنا

<https://almanahj.com/om/5social2>

* لتحميل كتب جميع المواد في جميع الفصول للـ الصف الخامس اضغط هنا

<https://almanahj.com/om/grade5>

* لتحميل جميع ملفات المدرس ليلي الرمضانية اضغط هنا


للتحدث إلى بوت على تلغرام: اضغط هنا

https://t.me/omcourse_bot



سلطنة عُمان
وزارة التربية والتعليم
المديرية العامة للتربية والتعليم
بمحافظة الداخلية
مكتب الاشراف التربوي بسمازل
مدرسة نصراء بنت الامام ناصر اليعربية
للتعليم الاساسي (5-6)

كراسة الدراسات الاجتماعية للفيف الخامس الفصل الدراسي الثاني



أنا المتألقة /
المقيمة بالفيف الخامس ()

ساملاً الدنيا سعادة بتميزي

الدراسات الاجتماعية عالمنا المجتمع



صغيرة

ولكن قدراتي غير

إعداد / أليلى الرضائية



اسئلة تحاورني من ص ١٠ و ص ١١

أولاً . اكمل العبارات التالية

- ١- تهتم جغرافية السكان بدراسة
- ٢- تسعى دول العالم إلى جمع البيانات السكانية بهدف
- ٣- مصادر البيانات السكانية هي و.....
- ٤- عملية جمع وإعداد المعلومات السكانية والاقتصادية والاجتماعية المتعلقة بجميع السكان في دولة معينة وفي فترة معينة هو تعريف
- ٥- تم إجراء أول تعداد سكاني في سلطنة عمان عام

ثانياً : اجيبي على الاسئلة التالية :

١- عرفني كلامن:

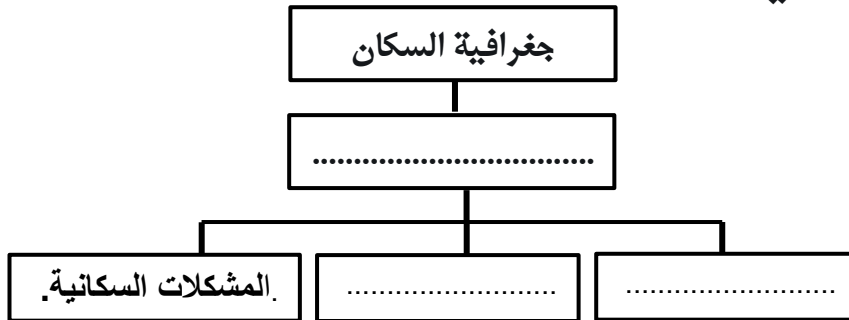
أ- جغرافية السكان

ب- التعداد

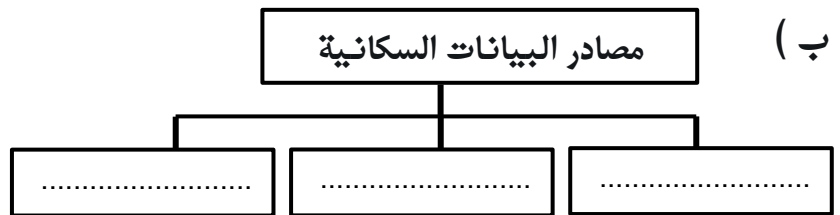
٢- عللي العبارة التالية: تهتم الدول بجمع البيانات السكانية؟

.....

٣- أكمل المخطط التالي
(أ)




(ب) مصادر البيانات السكانية



اسئلة تحاورني من ص ١٢ و ص ١٣

١. اكمل العبارات التالية

١. العوامل المؤثرة في نمو السكان و.....
٢. زيادة عدد السكان في سنة إلى أخرى هو تعريف
٣. يعد الوطن العربي من الأقاليم التي تمتاز بارتفاع
٤. الزيادة الناتجة عن الفرق بين عدد المواليد وعدد الوفيات هو تعريف
٥. الزيادة الغير طبيعية هي الزيادة الناتجة عن
٦. وصل اعداد السكان حسب بيانات المركز الوطني للإحصاء و المعلومات عام ٢٠١٧م حوالي.....
٧. تمثل الصورة أحد العوامل المؤثرة في زيادة السكان في الوطن العربي المتمثلة في 

ثانياً : اجيبي على الاسئلة التالية :

اولاً : عرفني كلاً من :-

- أ- النمو السكاني :
- ب- الزيادة الطبيعية :
- ج- الزيادة غير طبيعية:.....

٢. اكمل المخطط:



٣. ضعني إشارة (✓) اسفل المعلومة الصحيحة في الجدول .

يكون النمو السكاني في الوطن العربي	
مرتفع	منخفض

أ.

السنة	عدد السكان (مليون نسمة)
١٩٧٠	١٢٢
١٩٨٠	١٦٤
١٩٩٠	٢٢١
٢٠٠٠	٢٩٣
٢٠١٠	٣٧٦
٢٠١٥	٣٩٤

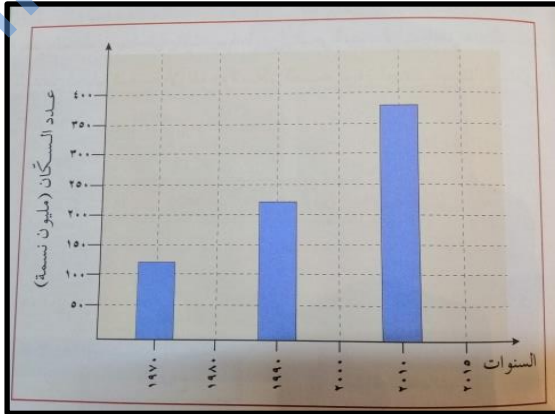
٤- ادرسي الجدول الذي أمامك ثم اجيبي

١- بلغ عدد السكان عام ١٩٧٠ حوالي

وعام ١٩٩٠

٢- بلغت معدل الزيادة في إعداد السكان

بين ١٩٧٠ و ٢٠١٥ حوالي



٣- ارسمي في الشكل الذي أمامك معدل نمو السكان عام ٢٠١٥ بناء على الجدول الذي أمامك .

٤- عللي العبارة التالية : ارتفاع معدلات النمو السكاني في سلطنة عمان ؟

.....

اسئلة تحورني من ص ١٤ و ص ١٥

أولاً . اكلمي العبارات التالية :-

١- انتشار السكان في منطقة معينة هو تعريف

٢- يتوزع السكان في الوطن العربي بشكل

٣- العوامل المؤثرة في توزيع السكان هي

٤- يكون اعداد السكان في المنطقة التي تمثلها  التي تمثلها

الصورة

٥- يكون اعداد السكان في المنطقة التي تمثلها الصورة

٦- تعد من العوامل الطبيعية المؤثرة في توزيع السكان

..... و..... و.....

٧- يرتفع اعداد السكان على ضفاف الأنهار الكبيرة بسبب

ثانياً : اجيبي على الاسئلة التالية :

١- عرفي التوزيع الجغرافي للسكان ؟

٢- عللي العبارات التالية :

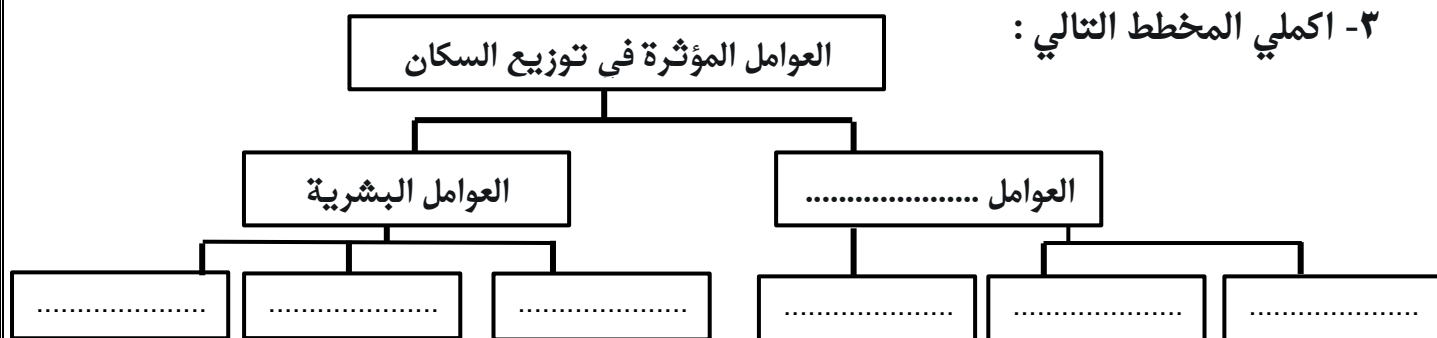
أ. يتوزع السكان في الوطن العربي بشكل غير منتظم؟

.....

ب. ارتفاع اعداد السكان على ضفاف الأنهار الكبرى؟

.....

٣- اكلمي المخطط التالي :



٤- ضعي إشارة (√) مع توضيح السبب

يكون أعداد السكان على ضفاف الانهار	
كثير	قليل
	السبب

يكون أعداد السكان في المناطق الجبلية	
كثير	قليل
	السبب

٥- لوني الاصابع التي تمثل العوامل الطبيعية المؤثرة في توزيع السكان بالون

الأحمر و العوامل البشرية باللون الأخضر



اسئلة تحاورني من ص ١٦

المحافظة	عدد السكان
مسقط	١٣٩٥٤١٢
شمال الباطنة	٧١٩٣٠٩
الوسطى	٤٣٣٥٠
مسندم	٤٢٨٥٤
ظفار	٢٤٠٨٣٦

بالاستعانة بالجدول اجيبي على الأسئلة

١- رتبي المحافظات ترتيباً تنازلياً من حيث عدد السكان.

.....

.....

٢- المحافظة التي تحتل المرتبة الثالثة من حيث عدد

السكان هي محافظة

٣- تحتل المحافظة المشار لها بالرقم (١) المرتبة من



حيث عدد السكان

٤- عللي العبارات التالية

أ- ارتفاع عدد السكان في محافظة مسقط؟

.....

ب- انخفاض عدد السكان في محافظة الوسطى ؟

.....

اسئلة تحاورني من ص ١٧ و ص ١٨

أولاً : أكمل العبارات التالية :-

١- من التغيرات السكانية التي يمر بها الوطن العربي و..... و.....

٢- تعد من الأسباب التي تدفع السكان للهجرة إلى المدن و.....

٣- ظهرت المشكلات السكانية في المدن بسبب.....

٤- تعد من التغيرات السكانية التي يمر بها الوطن العربي المتمثلة في.....



٥- تعد من المشكلات التي ظهرت في المدن و المتمثلة في.....



٦- تعد من المشكلات التي ظهرت في المدن و المتمثلة في.....

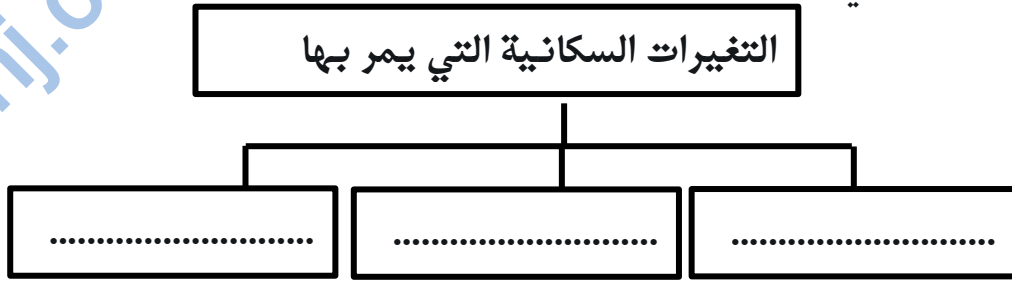


٧- تعد من المشكلات التي ظهرت في المدن و المتمثلة في.....



السؤال الثاني : اجيبي على الاسئلة التالية

١. أكمل المخطط التالي



٢- علف العبارات التالية:

أ- تزايد هجرة السكان إلى المدن؟

.....

ب- ظهور العديد المشكلات في المدن؟

.....



ثالثا: ادرسي الصورة التي أمامك ثم اجيبي

١- سمي المشكلة التي تمثلها الصورة

.....

٢- ما السبب في حدوث هذه المشكلة

.....

٣- اذكر نتيجة مترتبة على حدوث المشكلة

.....

.....

.....

٤- قدمي مقترحات لحل المشكلة

.....

.....

.....





كان أدائي في حل أسئلة الدرس





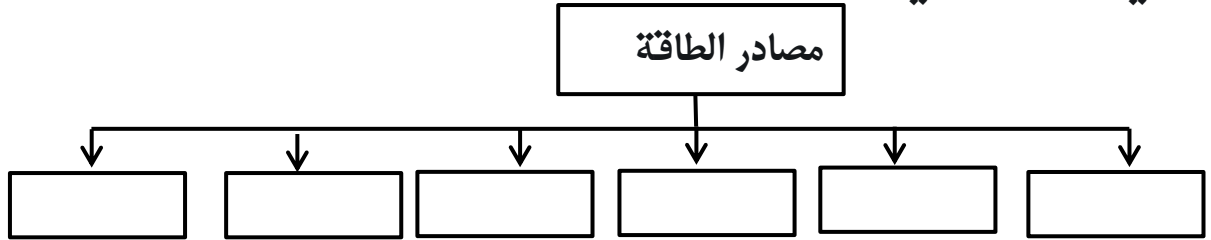
اسئلة تحاورني من ص ١٩

السؤال الأول : أكمل العبارات التالية

- ١- القوة المحركة للأشياء هو تعريف.....
- ٢-  تعد من مصادر الطاقة والمتمثلة في
- ٣-  تعد من مصادر الطاقة والمتمثلة في
- ٤- من مصادر الطاقة في الطبيعة
.....و.....و.....و.....و.....و.....و.....

السؤال الثاني : اجيب على الاسئلة التالية :

- ١- عرف الطاقة ؟
- ٢- أكمل المخطط التالي



اسئلة تحاورني من ص ١٩

السؤال الأول : أكمل العبارات التالية

- ١- تنقسم مصادر الطاقة إلىو.....
- ٢- يعد النفط أحد مصادر الطاقة
- ٣- الطاقة التي توجد بكميات محدودة لا تتجدد إذا نفقت تسمى
- ٤- أكثر الدول إنتاجا للنفط هي
- ٥- المرتبة التي تحتلها سلطنة عمان في إنتاج النفط عام ٢٠١٦ م هي المرتبة
- ٦- تحتل الدولة المشار لها بالرقم (١) في إنتاج النفط عام ٢٠١٦ المرتبة.....



٧- الدولة التي تحتل المرتبة الأولى في إنتاج الغاز الطبيعي هي

٨- من الدول التي أنشأت مصانع لتسييل الغاز الطبيعي وتصديره

هي و.....

٩- يتواجد في المحافظة المسار لها بالرقم (١) على أكبر مشاريع إنتاج الغاز

الطبيعي وهو مشروع



١٠- من استخدامات الغاز الطبيعي و..... و..... و.....

السؤال الثاني : اجيبي على الاسئلة التالية :

١- عرفني كلا من :

١- الطاقة الغير متجددة /

٢- حقل خزان /

٢- عللي العبارات التالية :

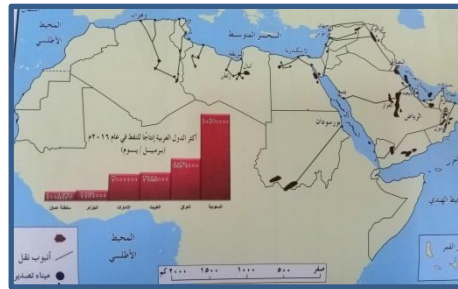
١- تسمية مصادر الطاقة الغير متجددة بهذا الاسم ؟

.....

٢- يعد الغاز الطبيعي من مصادر الطاقة المهمة في الوطن العربي؟

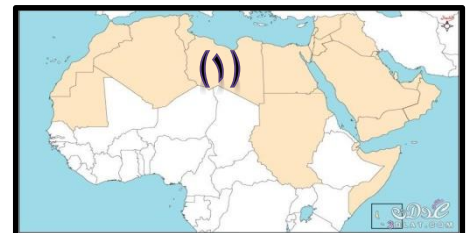
.....

٣- ادربي الخريطة التي أمامك ثم اجيبي



الدولة	حقل نفط	مبداً مصادر نفط
سلطنة عُمان		
العراق		
ليبيا		

٤- حددي المشاريع المقامة في كلاً من:

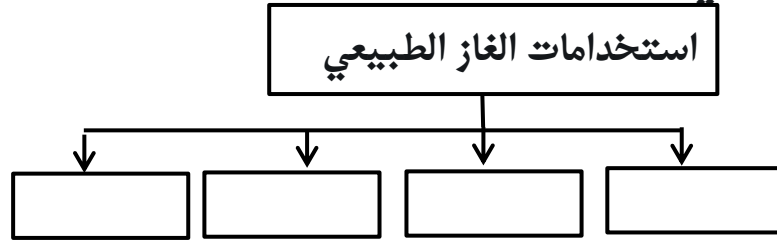


١-



٢-

٥- أكمل المخطط التالي



أسئلة تحاوروني من ص ٢٤ الى ص ٢٤

السؤال الأول : أكمل العبارات التالية :


١- يطلق على الطاقة التي لا تنضب وتتجدد تلقائياً بالطاقة

٢- من مصادر الطاقة المتجددة.....و.....

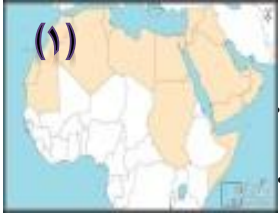
٣- استغلت بعض الدول العربية مصادر الطاقة المتجددة في(١).....

٤- تمثل الصورة التي أمامك 

٥- أقيم المشروع الذي أمامك في 

٦- يسمى المشروع الذي أمامك مشروع 

٧- يسمى المشروع المقام في الدولة المشار لها بالرقم (١) بمشروع



السؤال الثاني : اجيب على الاسئلة التالية :

١- عرفني كلاً من :

١- الطاقة المتجددة :

٢- مشروع نور :

٣- مشروع مرآة :

٢- عللي العبارات التالية :

١- يعد الوطن العربي من المواقع الملائمة لإقامة مشاريع الاستفادة من الطاقة الشمسية ؟

.....

٢- أهمية تحول الدول العربية للطاقة المتجددة ؟

.....

٣- إقامة سلطنة عمان مشروع مرآة بولاية شليم وجزر الحلايبات؟

٣- اكمل الجدول التالية

المشروع	الدولة التي يتواجد بها
مشروع مرآة	
	المغرب
مدينة مصدر	

٤- ادرسي الصورة التي امامك ثم اجيبي



اسم المشروع	
الدولة التي يتواجد بها	
الهدف من المشروع	

٥- صنف مصاد الطاقة التالية في الجدول

(النفط - الماء - الرياح - الغاز الطبيعي - الشمس)

الطاقة المتجددة	الطاقة الغير متجددة

٦- ضعي علامة (√) مع التعليل

أيهما أفضل الاعتماد علي

الطاقة المتجددة	الطاقة الغير متجددة
التعليل	



كان أدائي في حل أسئلة الدرس





أسئلة تحاوروني من ص ٢٧ إلى ص ٢٩

السؤال الأول : أكمل العبارات التالية

- ١- العوامل المؤثرة في تنوع الأنشطة الاقتصاديةو.....و.....
- ٢-  تعد من الأنشطة الاقتصادية الممارسة في الوطن العربي وهي
- ٣- أهم الأنشطة الاقتصادية الممارسة في الوطن العربيو.....و.....
- ٤- تعد من فوائد الزراعة في الوطن العربيو.....و.....
- ٥- من المحاصيل الزراعية التي ينتجها الوطن العربي.....و.....
- ٦- أكثر المحاصيل إنتاجا في الوطن العربي
- ٧- أكثر المحاصيل إنتاجا في سلطنة عمان هي
- ٨- تم تنفيذ مشروع المليون نخلة في عمان عام.....
- ٩-  يحتل المحصول الذي أمامك في سلطنة عمان بين إنتاج المحاصيل الزراعية المرتبة

السؤال الثاني : اجيب على الاسئلة التالية :

- ١- علي العبارات التالية:
١. تنوع المحاصيل الزراعية في الوطن العربي؟
.....
٢. تعد الزراعة من الأنشطة الاقتصادية الهامة في الوطن العربي ؟
.....
٣. تعد التمور من اكثر المحاصيل إنتاجا في سلطنة عمان ؟
.....
- ٢ - اذكر اثنين لكلا من :
١. الأنشطة الاقتصادية الممارسة في الوطن العربي
أ.

ب.

٢. فوائد وأهمية الزراعة في الوطن العربي

أ.

ب.

٣. أهم المحاصيل الزراعية انتاجا في سلطنة عمان

أ.

ب.

الإنتاج بالألف طن (عام ٢٠١٤م)					الدولة
الليمون	التمور	الطماطم	البطاطس	القمح	
٦	٣١٧	٧٥	٥	٣	سلطنة عُمان
٢٦	١٠	٥٩٤	٣٦٦	٣٩	الأردن
٢٥٥	٤٤١	٥٦٧	٣٤٧	١٩٢	السودان
٤٤	١٩٥	١٢٠٠	٣٨٥	١٥١٣	تونس

٣- ادرسي الجدول الذي امامك ثم اجيبي

١- اكثر المحاصيل انتاجا في عمان

٢- استخرجي الدول العربية الأكثر انتاجا لمحاصيل

القمح :..... البطاطس :

٣- رتبي المحاصيل التالية يتم انتاجها في عمان ترتيبا تنازليا



.....

٤- ضع علامه (✓) مع التعليل /

ايهما أكثر انتاجا في عمان

التمور	الليمون
	التعليل



٥- دللي على صحة العبارة التالية

أ- اهتمام سلطنة عمان بزراعة النخيل

.....

أسئلة تحاوروني من ص ٣٠ إلى ص ٣٢

السؤال الأول : أكمل العبارات التالية

- ١ - تغير شكل وطبيعة المواد الخام إلى شكل آخر تلبية لحاجات الانسان هو تعريف
- ٢ - تعد الصناعة من الأنشطة الاقتصادية المهمة في الوطن العربي بسبب
- ٣ - مواد طبيعية زراعية أو حيوانية أو معدنية غير مصنفة قابلة للتصنيع هو تعريف
- ٤ - من الصناعات الغذائية الموجودة في الوطن العربي و..... و.....
- ٥ - من الصناعات التي تعتمد على النفط و الغاز الطبيعي و.....
- ٦ - الصناعة التي تمثلها الصورة صناعة 
- ٧ - تعد الصناعة التي امامك من الصناعات 
- ٨ - من المناطق الصناعية التي أنشأت في عُمان منطقة

السؤال الثاني : اجيب على الاسئلة التالية :

أولاً: عرفني كلاً من /

- ١ - الصناعة :
- ٢ - المواد الخام :
- ٣ - البتروكيماويات:

٢. أصنف في الجدول أدناه الصناعات الآتية حسب طبيعة المادة الخام

(صناعة المنسوجات الصوفية ، صناعة الذهب ، صناعات الألبان ، صناعة السكر ، صناعة الزيوت النباتية ، صناعة الاسلاك الكهربائية)



معدنية	حيوانية	زراعية

٣. تصنف الصناعات إلى عدة أنواع منها الصناعات التحويلية والصناعات الاستخراجية. صنف الصناعات المعطاة إلى : صناعات استخراجية وصناعات تحويلية (صيد الأسماك – صناعة البلاستيك – استخراج النفط والغاز – صناعة الزجاج – التنقيب عن المعادن – تعليب الخضار والفواكه – صناعة الاثاث – استخراج اللؤلؤ)

صناعات تحويلية	صناعات استخراجية

أسئلة تحاوروني من ص ٣٣ إلى ص ٣٧

السؤال الأول: اكمل العبارات التالية

- ١- حركة الافراد والجماعات من أماكن اقامتهم إلى أماكن أخرى بفرض أداء مهمة معينة أو زيارة مكان بفرض الترفيه هو تعريف.....
- ٢- تعد السياحة من الأنشطة الهامة في الوطن العربي بسبب.....و.....و.....
- ٣- عامل الجذب السياحي التي تمثله الصورة.....

- ٤- تهتم الدول بتطوير قطاع السياحة من خلال.....و.....و.....
- ٥- من المقومات السياحة الموجودة في سلطنة عمان.....
- ٦- تعد من عوامل الجذب السياحي في عمان والمتمثلة في.....


السؤال الثاني : اجيب على الاسئلة التالية :

- ١- عرف السياحة :
- ٢- علي العبارات التالية :
أ. تعد السياحة من الأنشطة الاقتصادية الهامة في الوطن العربي
.....
ب. تعد سلطنة عمان من الوجهات السياحية الهامة في الوطن العربي
.....
- ٣- اكمل المخططات التالية :

أ-

العوامل الجذب السياحي في الوطن العربي

Four empty rectangular boxes for listing factors.

ب.

المقومات السياحة في عمان

Six empty rectangular boxes for listing tourism facilities in Oman.

٤-دلي على صحة العبارات التالية:

أ. اهتمام السلطنة بالقطاع السياحي ؟

.....

ب. يتوافر في السلطنة العديد من المقومات السياحية ؟

.....



كان أدائي في حل أسئلة الدرس





وتعلو همتي .. سأتميز في الإجابة .. الدرس الأول : الاموية والعباسية



اسئلة تحاورني من ص ٤٠ إلى ص ٤٢

اولاً . اكمل العبارات التالية

- ١- امتد عصر النبوة الى العام الهجري.....
- ٢- امتد عصر الخلافة الراشدة الى العام الهجري.....
- ٣- امتد عصر الدولة الاموية الى العام الهجري.....
- ٤- ينتسب الأمويون الى جدهم.....
- ٥- بلغ عدد خلفاء الدولة الأموية.....
- ٦- أول خلفاء الدولة الأموية.....
- ٧- عاصمة الدولة الأموية مدينة.....
- ٨- انتشر الإسلام في العديد من المناطق بسبب.....و.....
- ٩- القائد الذي كان له دور كبير في توسع الدولة الى بلاد المغرب والاندلس هو القائد.....
- ١٠- تقع خرسان في قارة.....

السؤال الثاني : اجبني على الاسئلة التالية :

عصر الدول الأموية

عصر الخلافة الراشدة

عصر النبوة

١- اكمل المسطرة الزمنية التالية:

٢- اكمل البطاقة التعريفية التالية عن الدولة الاموية

نسب الدولة	
عدد الخلفاء	
مؤس الدولة	
الفترة الزمنية	
عاصمة الدولة	

٣-علي العبارات التالية:

١-انتشار الإسلام في عهد الدولة الاموية؟

٢- تسمية الدولة الاموية بهذا الاسم؟

٤- ادرسي الخريطة التي أمامك ثم اجيبي

١- ضعي دائرة حول عاصمة الدولة الاموية

٢- استخرجي دولة توسعت فيها الدولة الاموية

وضمنتها الى نفوذها في قارة أوروبا.....



أسئلة تحاوروني من ص ٤٣ الى ص ٤٤

اولاً: اكلمي العبارات التالية:

١- أول من نقش على النقود باللغة العربية هو الخليفة

٢- كانت السجلات تكتب في الدولة قبل دعم الدولة الاموية باللغتين

.....و.....

٣- اللغة التي استخدمها الامويين في إدارة الدولة عي اللغة

٤- يقع مسجد قبة الصخرة في

٥- انشأ مسجد قبة الصخرة في عهد الدولة

٦- يقع قصر عمرة في

٧- تقع مدينة القيروان في

٨- القصر الذي انشأ في عهد الدولة الاموية ويقع في الاردن هو قصر

.....

٩- يقع المسجد الذي أمامك في

١٠- يسمى القصر الذي أمامك بقصر

١١- توجد بها مدينة القيروان في

١٢- سقطت الدولة الاموية عام



السؤال الثاني : اجبني على الاسئلة التالية :

١- عددي إنجازات الدولة الاموية :

أ.....

ب.....

٢- دلي على صحة العبارة التالية :

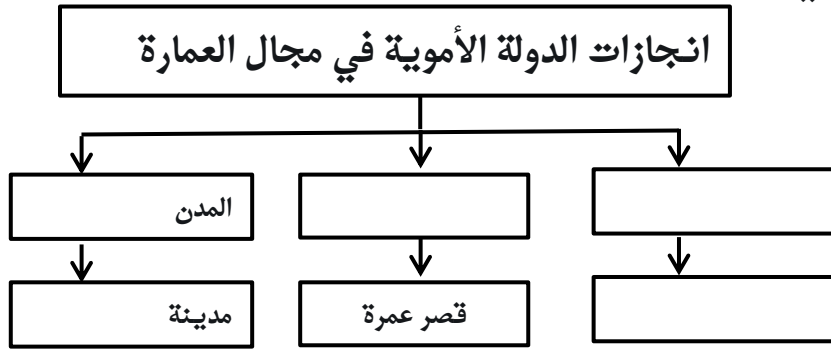
١- اهتمام الدولة الاموية بالعمارة الإسلامية ؟

.....



٢- استخدام الامويين اللغة العربية في إدارة الدولة ؟

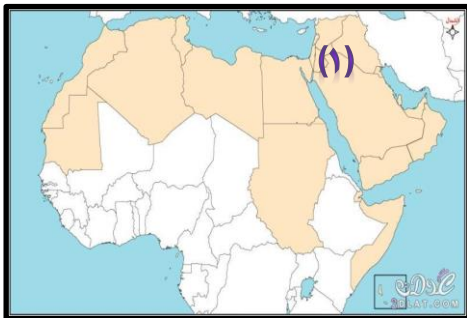
.....

٣- اكلمي المخطط التالية



٤- اكلمي الجدول الذي أمامك

		وجه المقارنة
		الاسم
		المكان



٥- ادرسي الخريطة ثم اجبني

١- ضعي دائرة حول الدولة التي يقع بها مسجد قبة الصخرة

٢- ما اسم القصر الذي شيده الامويين في الدولة المشار

لها بالرقم ١

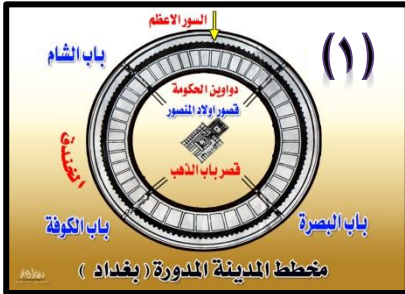
٣- ارسمي 😊 في الدولة التي تقع بها مدينة القيروان
٦- علي العبارة التالية

أ. سقوط الدولة الاموية

أسئلة تحاوروني من ص ٤٤ الى ص ٤٥

أولاً: اكمل العبارات التالية

- ١- ينتسب العباسيون الى جدتهم.....
- ٢- استمرت الدولة العباسية حوالي
- ٣- عاصمة الدولة العباسية.....
- ٤- أنشأ هارون الرشيد مكتبة.....
- ٥- المناصب الإدارية التي أنشأها العباسيين.....و.....
- ٦- تمثلت المنجزات العمرانية التي أنشأها العباسيين في بناء مدينتي
- ٧- تأخذ مدينة بغداد الشكل
- ٨- يقع قصر الخلافة في مدينة بغداد في.....
- ٩- يقع بالقرب مدينة بغداد
- ١٠- يطلق على الباب المشار له بالرقم (١) بباب.....



السؤال الثاني: اجيبي على الأسئلة التالية

١- اكمل البطاقة التعريفية التالية عن الدولة العباسية

	سبب التسمية
	الفترة الزمنية
	العاصمة

٢- اذكر اثنتين لكلا من :

أ. إنجازات الدولة العباسية في مجال العمران



١.

٢.

ب. الانجازات الفكرية للدولة العباسية

١.

٢.

٣- ادرسي الصورة التي أمامك ثم اجيبي

١- ما اسم المدينة التي تمثلها الصورة.....

٢- بنيت هذه المدينة في عهد الدولة.....

٣- برأيك: لماذا تم بناء الخندق حول المدينة

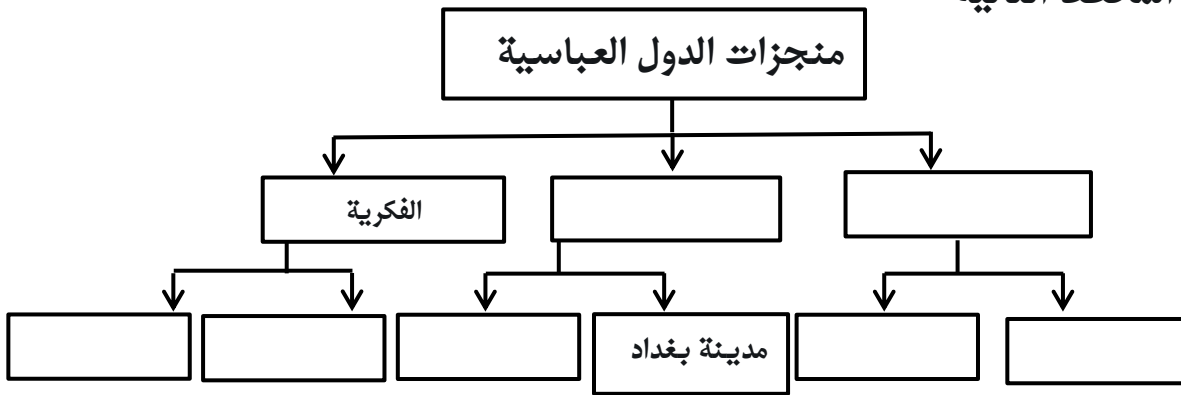
.....

٤- ماذا يوجد في المكان المشار له بالرقم (١).....

٥- ما الشكل الهندسي للمدينة.....

٦- كم باباً في المدينة.....

٧- ٤- اكمل المخطط التالية



أسئلة تحاوروني من ص ٤٦ وص ٤٧

اولاً: اكمل العبارات التالية :

١- ضعفت الدولة العباسية بسبب.....و.....و.....

٢- سقطت الدولة العباسية عام.....

٣- الموطن الأصلي للمغول هي مدينة.....

السؤال الثاني: اجبني على الأسئلة التالية

١- علي ضعفت الدولة العباسية .

.....

٢- اكملني جدول المقارنة التالية

وجه المقارنة	الدولة الاموية	الدولة العباسية
العاصمة		
الفترة الزمنية		
أبرز الانجازات		

كان أدائي في حل أسئلة الدرس





وتعلو همتي .. سأتميز في الإجابة .. الدرس الثاني : عُمان في العصر الأموي



اسئلة تحاورني من ص ٤٨ إلى ص ٤٩

السؤال الأول : اكمل العبارات التالية:-

- ١- خضعت عمان لسيطرة الدولة الاموية في عهد الخليفة.....
- ٢- سيطرة الخليفة عبدالملك بن مروان على عمان عام.....
- ٣- الوالي الذي عينه الامويين لولاية عمان هو.....
- ٤- العوامل التي دفعت الامويين للسيطرة على عمان
- ٥- تقع عمان بالنسبة لمدينة دمشق في الجهة.....

السؤال الثاني: اجيبي على الأسئلة التالية

- ١-علي: رغبة الامويين السيطرة على عمان؟

.....

اسئلة تحاورني من ص ٤٨ إلى ص ٤٩

السؤال الأول : اكمل العبارات التالية:-

- ١- اهم العلوم التي اهتم بها العمانيون في العصر الاموي.....
- ٢- المدينة التي قصدتها العمانيين لطلب العلم هي مدينة.....
- ٣- من أوائل الائمة الذين الغوا في علم الفقه هو الامام.....
- ٤- شاعر وخطيب عماني اعجب به الخليفة عمر بن عبدالعزيز لفصاحته وبلاغته هو الشاعر.....
- ٥- من المنجزات البحرية التي حققها العمانيين في كلاً من فارس والهند وشرقي افريقيا هي.....
- ٦- حقق الاسطول العماني تبادلات تجارية مع المناطق المطلية على المحيط.....

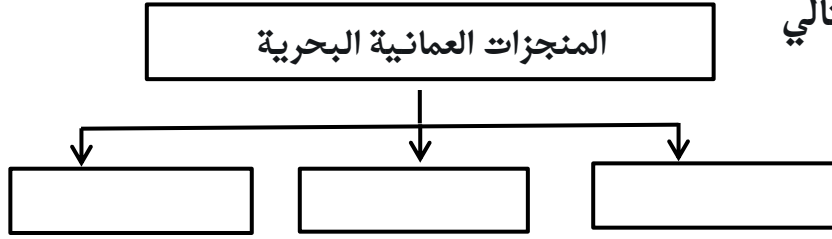
السؤال الثاني: اجيبي على الأسئلة التالية

١- اذكر اثنين من المنجزات الحضارية للعمانيين في عهد الدولة الاموية

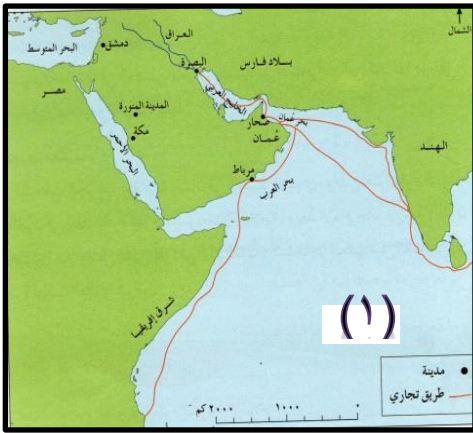
أ.

ب.

٢- اكمل المخطط التالي



٣- ادرسي الخريطة التي أمامك ثم اجيبي



١- استخرجي من الخريطة المناطق التي وصل اليها الاسطول

العماني في العصر الاموي

١.

٢.

٣.

٢. ما اسم المسطح المائي المشار له بالرقم (١).....

كان أدائي في حل أسئلة الدرس





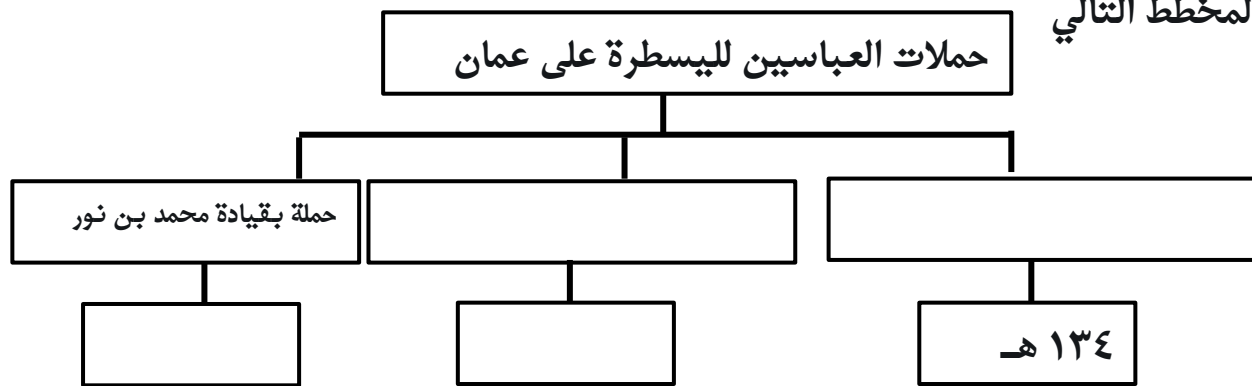
اسئلة تحاورني من ص ٥٣ إلى ص ٥٤

أولاً: اكمل العبارات التالية

- ١- بايع العمانيين الامام الجندى بن مسعود اماماً لعُمان عام.....
- ٢- ارسل العباسيين حملة للسيطرة على عمان عام ١٣٤هـ بقيادة.....
- ٣- قائد حملة السيطرة على عمان عام ٢٨٠هـ هو.....
- ٤- قائد الحملة التي توجهت للسيطرة على عمان عام ١٨٩هـ وتمكن العمانيين من هزيمتها هو
- ٥- تمكن القائد محمد بن نور من دخول مدينة.....
- ٦- الحملة الثانية التي أرسلها العباسيين للسيطرة على عمان كانت بقيادة.....

السؤال الثاني : اجيب على الأسئلة التالية

١- اكمل المخطط التالي



٢- رتب الحملات العباسية للسيطرة على عمان من الاقدم الى الاحدث

حملة بقيادة عيسى ابن جعفر

حملة بقيادة حازم بن خزيمه

حملة بقيادة محمد بن نور

.....

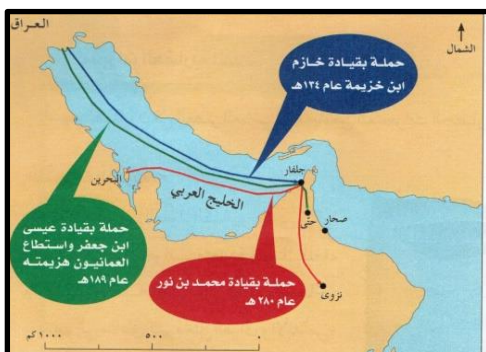
.....

.....

٣- ادرسي الخريطة التي أمامك ثم اجيب

- ١- خرجت الحملة التي قادها حازم بن خزيمه للسيطرة على عمان من
- ٢- خرجت حملة محمد بن نور من الى

اسئلة تحاورني من ص ٥٤ إلى ص ٥٥



أولاً: اكملّي العبارات التالية

- ١- لقبّت نزوى في العصر العباسي
- ٢- لقبّت نزوى ببيضة الإسلام بسبب.....
- ٣- من المناطق التي هاجر اليها العمانيّين لطلب العلمو.....
- ٤- مؤلف كتاب الكامل هو
- ٥- ألف ابن الذهبي كتاب.....
- ٦- المجال الذي اشتهر فيه محمد بن جعفر الازكوي
- ٧- مؤلف كتاب الجامع في الفقه هو.....

ثانياً: اجيبي على الأسئلة التالية

- ١- عرفني كلاً من :
 ١. بيضة الإسلام /
 ٢. أبو العباس المبرد /
 ٣. كتاب الماء /.....
- ٢- عللي العبارات التالية
 ١. اطلق على نزوى بيضة الإسلام ؟
.....
 ٢. هاجر بعض العمانيّين الى الاندلس والعراق ؟
.....
- ٣- اكملّي الجدول التالي :

ابن الذهبي	أبو العباس المبرد	وجه المقارنة
		المجال
		الكتاب

اسئلة تحاورني من ص ٥٦ إلى ص ٥٧

أولاً: اكملّي العبارات التالية



- ١- من الاسوار التي شيدها العمانيّين في الدولة العباسية سور مدينة.....

- ٢- يقع مسجد جناح في
- ٣- تقع مدينة البليد في
- ٤- تمثل الصورة آثار مدينة.....



ثانيا : اجيبي على الأسئلة التالية

١- حدد أماكن وجود كلا من :



- ٢- ادرسي الصورة التي أمامك ثم اجيبي
- ١- ما اسم الموقع الذي تمثله الصورة
- ٢- أين يتواجد هذا الموقع الاثري.....
- ٣- ما واجباتك تجاه هذه الموقع الاثري :
-



- ٣- ادرسي الخريطة التي أمامك ثم اجيبي
- ١- ضعي دائرة حول المدينة التي يقع مسجد جناح
- ٢- ارسمي 😊 في المحافظة التي يتواجد بها آثار البليد

اسئلة تحاورني من ص ٥٨ إلى ص ٦٠

أولاً: اكمل العبارات التالية

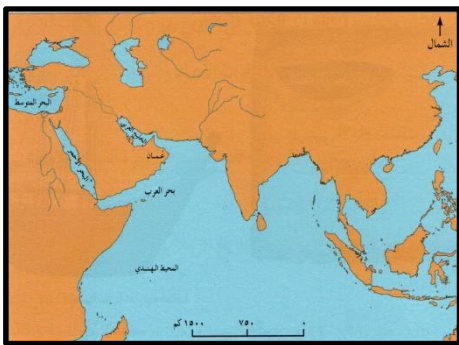
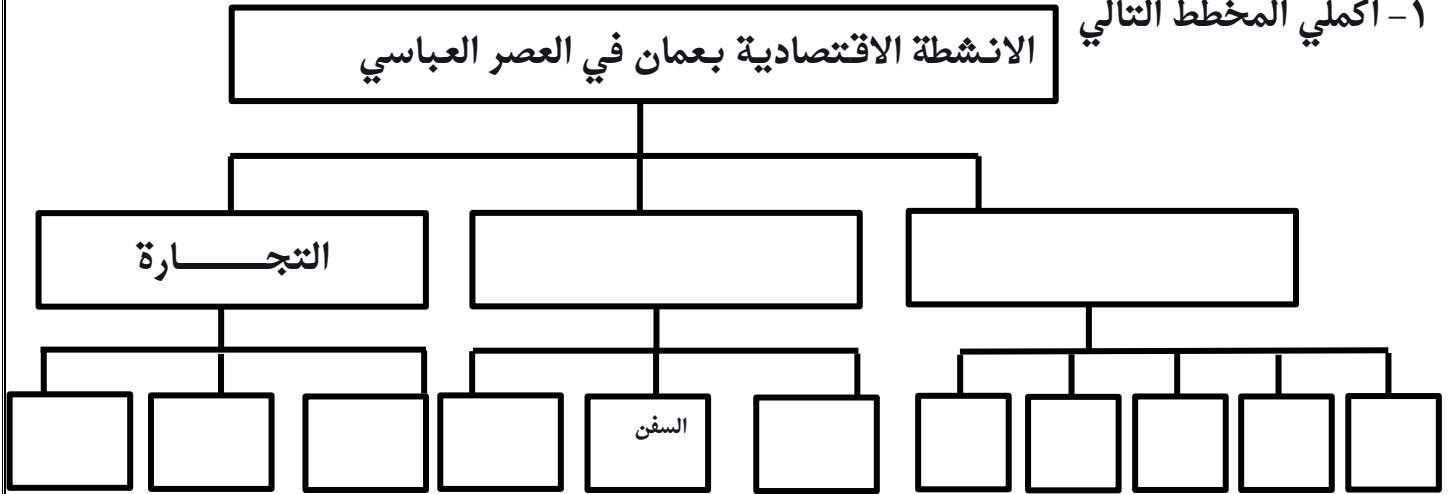
- ١- من الأنشطة الاقتصادية الممارسة في عمان في العصر العباسي
- ٢- من البضائع التي تاجر بها العمانيين في العصر العباسي.....
- ٣- من أهم المراكز التجارية العمانية في العصر العباسي.....

- ٤- من أهم المنتجات الصناعية العمانية في العصر العباسي.....و.....و.....
- ٥- الدول التي ارتبطت بها عمان بعلاقات تجارية في العصر العباسي.....و.....و.....
- ٦- اسم الدولة المشار لها بالرقم (١) والتي ارتبطت بها عمان تجارياً هي دولة.....
- ٧- مدينة عمانية اشتهرت بصناعة السفن في العصر العباسي هي مدينة.....
- ٨- تعد من الصناعات التي تميز بها العمانيين في العصر العباسي هي صناعة.....
- ٩- لعب الاسطول العماني دوراً بارزاً في العصر العباسي متمثل في.....و.....و.....
- ١٠- أرسل الامام الصلت بن مالك الاسطول العماني لتحرير جزيرة.....



ثانياً: اجيبي على الأسئلة التالية

١- اكمل المخطط التالي



٢- وقي على الخريطة التي أمامك المناطق التي ارتبطت بها عمان بعلاقات تجارية

٣- ادرسي الخريطة التي أمامك ثم اجيبي

١. ضعي دائرة حول المدينة التي اشتهرت بصناعة السفن



٤- وضح أهمية كلاً من في الازدهار الاقتصادي في العصر العباسي

ولاية السيب	ولاية صلالة	مدينة صحار	المدينة

٥-دلي على إنجازات الاسطول العماني في العصر العباسي

.....

.....

.....

كان أدائي في حل أسئلة الدرس





وتعلو همتي .. سأتميز في الإجابة .. الدرس الأول : عوامل التكامل العربي

اسئلة تحاورني من ص ٦٤ إلى ص ٦٥

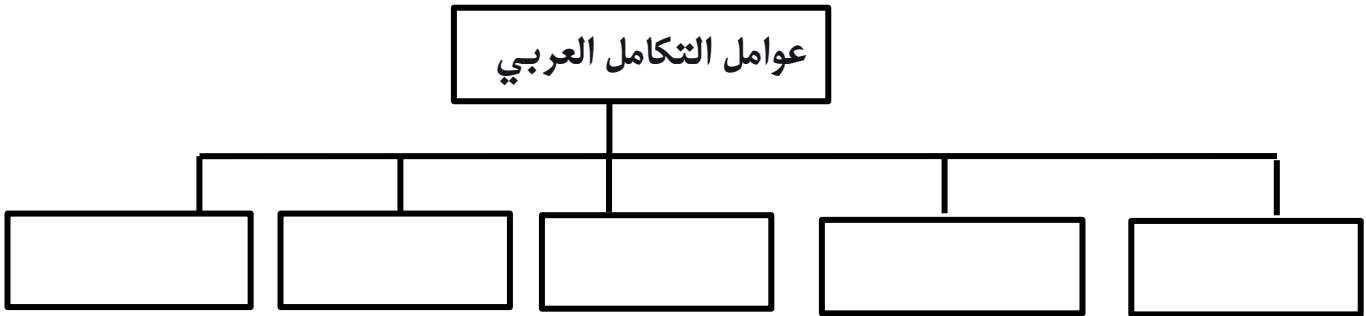
أولاً: اكمل العبارات التالية

- ١- التبادل القائم بين الدول لتحقيق أهداف مشتركة هو تعريف.....
- ٢- من أمثلة التكامل القائم بين الدول التبادل في المنتجات.....و.....
- ٣- من عوامل التكامل العربي.....و.....و.....
- ٤- يقع الوطن العربي على ملتقى ثلاث.....
- ٥- من المسطحات المائية التي يطل عليها الوطن العربي المحيط.....
- ٦- يسمى المضيق المشار له بالرقم (١) بمضيق.....
- ٧- تتنوع التضاريس في الوطن العربي بسبب.....



السؤال الثاني: اجبني على الأسئلة التالية :

- ١- عرفني المقصود بالتكامل:.....
- ٢- اكمل المخطط التالي :



٣- ادربي الخريطة التي أمامك ثم اجبني

١- استخرجي ابرز المسطحات المائية الي يطل عليها الوطن العربي



٢- يربط مضيق هرمز بينو.....

٣- ما اسم المسطح المائي المشار له بالرقم (١)

٣- علي العبارات التالية :

١. تنوع التضاريس في الوطن العربي؟

.....

٢. تعدد مناخات الوطن العربي؟

.....

٣. سهولة التنقل بين دول الوطن العربي؟

.....

اسئلة تحاورني من ص ٦٧ إلى ص ٧٠

أولاً: اكمل العبارات التالية

١- يحثنا الدين الإسلامي على نشر.....و.....و.....

٢- اللغة التي يتحدث بها معظم سكان الوطن العربي هي اللغة.....

٣- خصصت منظمة الأمم المتحدة يوم ١٨ ديسمبر يوماً.....

٤- تم تخصيص ١٨ ديسمبر يوماً للغة العربية بسبب.....

٥- من الحضارات التي قامت في الوطن العربي.....و.....

٦- قامت حضارة مجان في.....

٧- الحضارة المصرية قامت في.....

٨- الحضارة التي قامت في الدولة المشار لها بالرقم (١) هي حضارة.....

٩- ابرز الاخلاق التي يتشابه فيها العربو.....

١٠- تمثل الصورة احد الفنون الشعبية العمانية وهو فن.....

١١- تم ادراك فن العازي في قائمة التراث الثقافي لمنظمة الأمم المتحدة عام.....



السؤال الثاني: اجيبي على الأسئلة التالية :

١- ادرسي الصورة ثم اجيبي :

أ. متى يتم الاحتفال باليوم العالمي للغة العربية

.....



ب. ما السبب في تخصص هذا اليوم؟

.....

ج. ما واجبك تجاه لغتك العربية

.....
.....



٢- ادرسي الصورة التي أمامك ثم اجيبي

١- ما اسم الفن الذي تمثله الصورة

.....

٢- متى يؤدي هذا الفن

.....

٣- متى تم ادراج هذا الفن في قائمة التراث الثقافي لمنظمة الأمم

المتحدة.....

٤- ما واجبك تجاه العادات والتقاليد العمانية الاصيلة.....

كان أدائي في حل أسئلة الدرس





وتعلو همتي . سأتميز في الإجابة .. الدرس الثاني : علاقات طيبة وتعاون دائم



اسئلة تحاورني من ص ٧١ إلى ص ٧٤

أولاً: اكمل العبارات التالية

- ١- انظمت سلطنة عمان لجامعة الدول العربية عام.....
- ٢- أنشئت جامعة الدول العربية عام
- ٣- الهدف من انشاء جامعة الدول العربية
- ٤- المقر الرئيسي لجامعة الدول العربية هي مدينة
- ٥- تحرص سلطنة عمان على توثيق علاقاتها بالدول العربية من خلالو.....

السؤال الثاني: اجيبي على الأسئلة التالية :

١- حددي الحدث الذي تم في التواريخ التالية :

١٩٤٥

١٩٧١

.....

.....



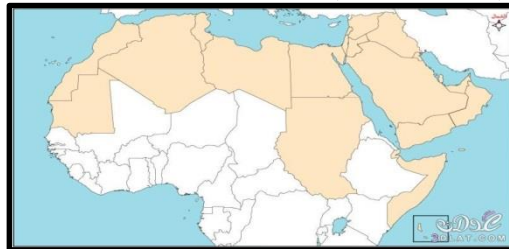
٢- ادرسي الصورة الي أمامك ثم اجيبي

١. ماذا تمثل الصورة التي أمامك

٢. متى أنشأت

٣. وضح الهدف من انشائها

٤. ارسمي في الدول التي يتواجد بها مقر هذه المؤسسة



٣-دلي على حرص صاحب الجلالة توثيق علاقة عمان مع الدول العربية ؟

.....

أسئلة تحاوروني من ص ٧٥ الى ص ٧٧

أولاً: اكمل العبارات التالية:

- ١- تحرص سلطنة عمان إلى تحقيق التكامل الاقتصادي مع الدول العربية من خلال.....
- ٢- تسعى سلطنة عمان الى تعزيز التعاون الثقافي والرياضي مع جميع الدول العربية من خلال.....و.....
- ٣- تم استضافة المؤتمر الكشفي في سلطنة عمان عام.....

كان أدائي في حل أسئلة الدرس

