

شكراً لتحميلك هذا الملف من موقع المناهج العمانية



اختبار نهائي رسمي في محافظة الظاهرة

[موقع المناهج](#) ⇨ [المناهج العمانية](#) ⇨ [الصف الخامس](#) ⇨ [اجتماعيات](#) ⇨ [الفصل الأول](#) ⇨ [الملف](#)

تاريخ نشر الملف على موقع المناهج: 05:31:23 2024-01-04

التواصل الاجتماعي بحسب الصف الخامس



روابط مواد الصف الخامس على تلغرام

[الرياضيات](#)

[اللغة الانجليزية](#)

[اللغة العربية](#)

[التربية الاسلامية](#)

المزيد من الملفات بحسب الصف الخامس والمادة اجتماعيات في الفصل الأول

[اختبار نهائي رسمي في محافظة شمال الشرقية](#)

1

[اختبار نهائي رسمي في محافظة مسقط والداخلية](#)

2

[الامتحان النهائي الدور الأول الفترة الصباحية لمحافظة جنوب الباطنة](#)

3

[الامتحان النهائي الدور الأول الفترة الصباحية لمحافظة شمال الباطنة](#)

4

[اختبار تحريبي نهائي حديث مع نموذج الإجابة](#)

5

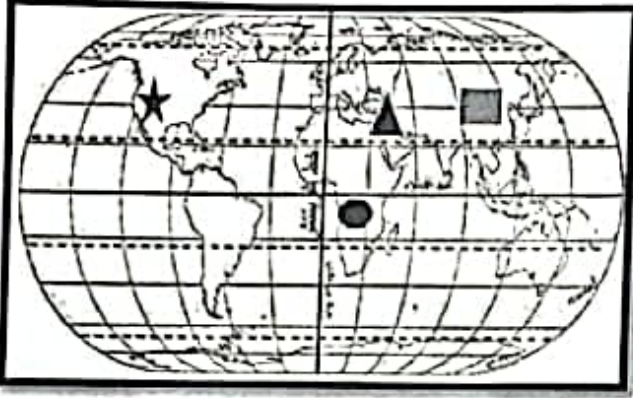
(٢)

الدور الأول - الفصل الدراسي الأول

الصف: الخامس

المادة: دراسات اجتماعية

العام الدراسي ٢٠٢٣/٢٠٢٤ م



٨- الرمز الذي يشير إلى المدينة المتقدمة في التوقيت عن بقية المدن في الخريطة المقابلة:

(ب) ★

(أ) □

(د) ▲

(ج) ○

٩- العِلْم الذي تميز و برع فيه ابن حديم:

(ب) الشعر

(أ) النثر

(ج) الخطابة

(د) الطب

١٠- أحد القادة في معركة سلّوت، و تولى حكم عُمان بعد وفاة أبيه :

(د) جواس بن حيان

(ج) معولة بن شمس

(ب) دارا بن دارا

(أ) هناة بن مالك بن فهم

١١- يُطلق على الطريقة المعمول بها لشراء السلع التجارية قديماً:

(د) التصدير

(ج) الاستيراد

(ب) المساومة

(أ) الفرضة

١٢- العِلْم الذي يهتم بفن رسم الخرائط وصناعتها يُعرف ب:

(د) الفلك

(ج) الخرائط

(ب) الجغرافيا

(أ) التاريخ

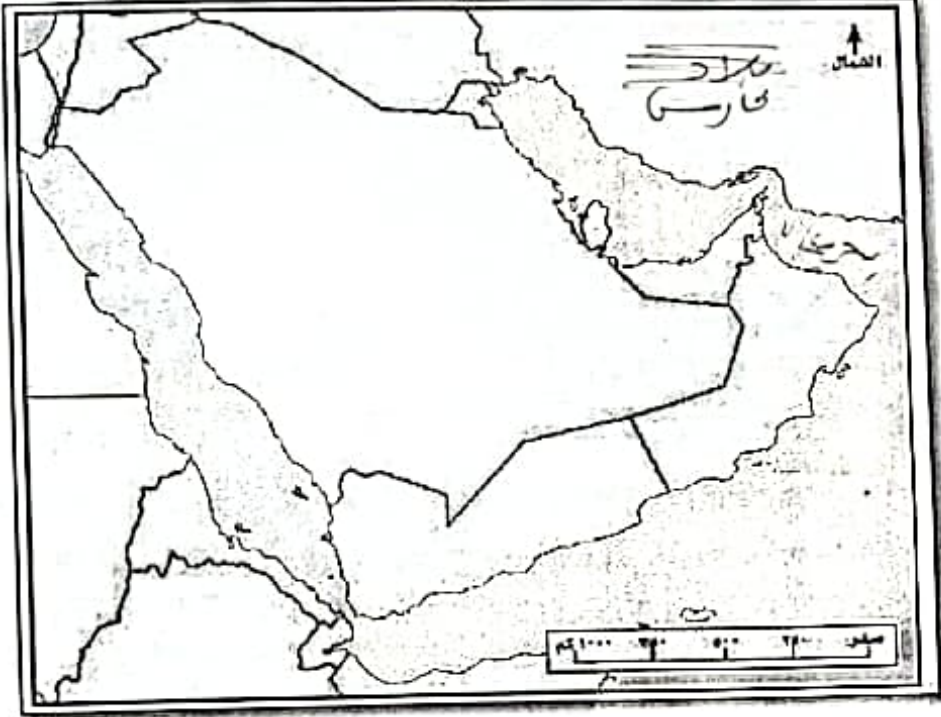
السؤال الثاني: (٨ درجات) :

أولاً: علل كلاً مما يلي:

(أ) لم يتم العثور على نماذج من الخرائط التي رسمها المصريون قديماً:

(ب) حجّ القبائل العربية إلى مكة قبل الإسلام:

ثانياً: انظر إلى خريطة شبه الجزيرة العربية أدناه ثم أجب عن الأسئلة التي تليها:



- أ- ظلل على الخريطة بقلم الرصاص (بلاد فارس).
 ب- اكتب على الخريطة (بحر عُمان) في مكانه الصحيح.
 ج- ارسم على الخريطة خط سير هجرة قبائل الأزد إلى عُمان.

ثالثاً: اكتب ما تمثله العبارات التالية:

(أ) من المؤسسات الخيرية في سلطنة عُمان، تدعم العمل المجتمعي والإنساني لخدمة المستنئين والأيتام . (.....)

(ب) صرح شامخ يسعى لتعزيز الانتماء و الاعتزاز الوطني ، تم افتتاحه عام ٢٠٢٣ م .
 (.....)

(ج) الوسيلة التي استخدمها الإنسان قديماً لمعرفة المواقع والاتجاهات .
 (.....)

السؤال الثالث: (٨ درجات):

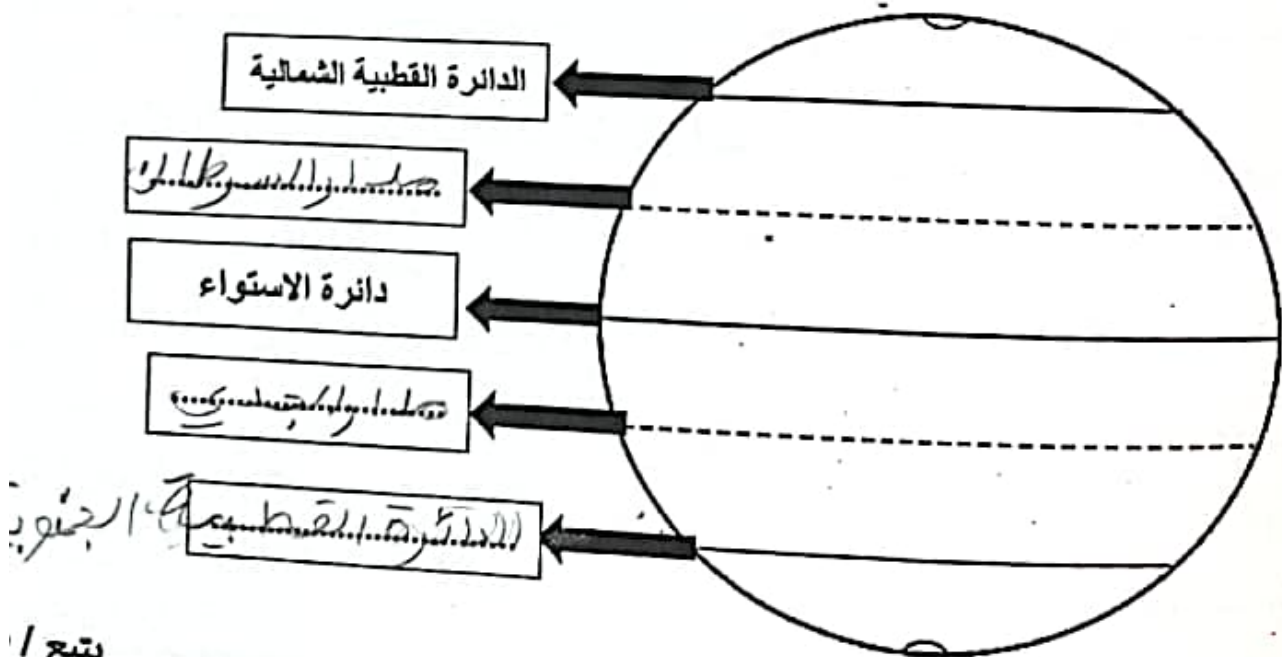
٨

أولاً: قيم السلوكيات التالية بكتابة (سلوك صحيح) على السلوك الدال على مظاهر الولاء والانتماء للوطن، و (سلوك خاطئ) على السلوك الذي يخالفه:

السلوكيات:	التقييم:
أ- الاجتهاد في طلب العلم.	سلوك صحيح
ب- تدمير الممتلكات العامة وعدم المحافظة عليها.	سلوك خاطئ
ج- مخالفة الأنظمة والقوانين في الدولة.	سلوك خاطئ
د- تقديم العون والمساعدة للآخرين.	سلوك صحيح

ثانياً:

(أ) أكمل بيانات الشكل التالي بكتابة دوائر العرض الرئيسية التالية في مكانها المناسب في الفراغات :
(مدار السرطان - الدائرة القطبية الجنوبية - مدار الجدي)



يتبع /

(١)

الدور الأول - الفصل الدراسي الأول

الصف: الخامس

المادة: دراسات اجتماعية

العام الدراسي ٢٠٢٣/٢٠٢٤ م

أجب عن جميع الأسئلة الآتية

السؤال الأول: ضع دائرة حول رمز الإجابة الصحيحة لكل مفردة من المفردات الآتية:

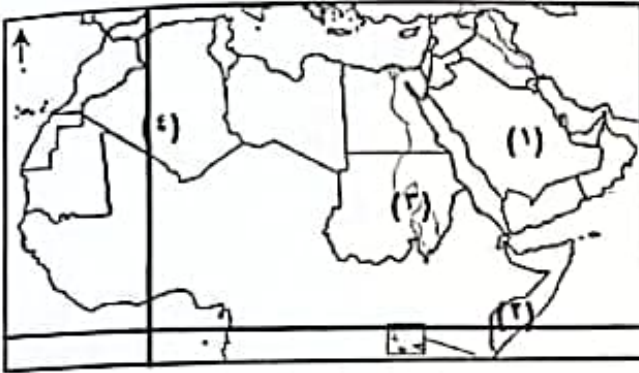

١٢

١- الشعب الذي اشتملت خرائطهم على رسم قارات العالم في تلك الفترة:
(أ) الرومان (ب) البابليون (ج) الإغريق (د) المصريون٢- المفهوم الذي تعبر عنه الآية الكريمة: (فَمَنْ قَطَعَ حَبْرًا فَهُوَ حَبْرٌ لَّهُ) (سورة البقرة: ١٨٤)
(أ) العمل التطوعي (ب) احترام القوانين (ج) الدفاع عن الوطن (د) الاجتهاد في طلب العلم

٣- الرقم الذي يشير إلى الدولة العربية التي تمر عليها دائرة الاستواء في الخريطة المقابلة:

(أ) (١) (ب) (٢)

(ج) (٣) (د) (٤)

٤- المرتبة التي تحتلها عمان من حيث مساحتها بالنسبة لشبه الجزيرة العربية:
(أ) الأولى (ب) الثانية (ج) الثالثة (د) الرابعة٥- المنظمة العالمية التي قامت بإدراج شخصيات عمانية ضمن الشخصيات المؤثرة عالمياً:
(أ) اليونسكو (ب) الفاو (ج) الجات (د) اليونيسيف٦- أحد الموانئ الشهيرة قديماً في محافظة ظفار، اهتمت حكومة سلطنة عمان بموقعه الأثري:
(أ) دبا (ب) مسقط (ج) صحار (د) سمهرم

٧- الصورة المقابلة تعبر عن مظهر من مظاهر الانتماء والولاء للوطن:

(أ) المشاركة في الأعمال التطوعية
(ب) الاجتهاد في طلب العلم
(ج) الدفاع عن الوطن
(د) تنظيف ساحة المدرسة