

شكراً لتحميلك هذا الملف من موقع المناهج العمانية



مراجعة درس الأسئلة والاستبيانات

[موقع المناهج](#) ← [المناهج العمانية](#) ← [الصف الخامس](#) ← [رياضيات](#) ← [الفصل الثاني](#) ← [الملف](#)

تاريخ نشر الملف على موقع المناهج: 2024-04-21 04:24:51

[إعداد: إخلاص الغافية](#)

التواصل الاجتماعي بحسب الصف الخامس



[اضغط هنا للحصول على جميع روابط "الصف الخامس"](#)

روابط مواد الصف الخامس على تلغرام

[الرياضيات](#)

[اللغة الانجليزية](#)

[اللغة العربية](#)

[التربية الاسلامية](#)

المزيد من الملفات بحسب الصف الخامس والمادة رياضيات في الفصل الثاني

[تمارين مراجعة المادة](#)

1

[كراسة أنشطة الطالب](#)

2

[كراسة تدريبية في الدروس المقررة](#)

3

[مذكرة أسئلة اختبارات سابقة](#)

4

المزيد من الملفات بحسب الصف الخامس والمادة رياضيات في الفصل الثاني

[المراجعة النهائية للمادة](#)

5

درس: الأسئلة والاستبانات

أستطيع أن أجيب على الأسئلة من خلال البيانات.
أستطيع أن أتوصل إلى الاستنتاجات من البيانات.



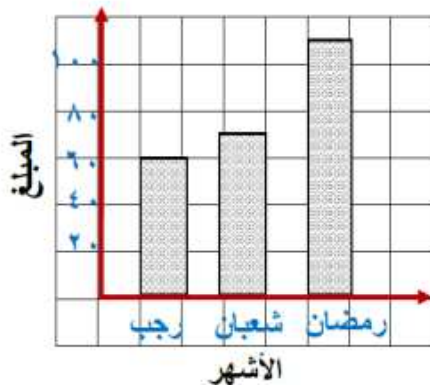
مثال (1): الجدول التالي يوضح المواد التي ذاكرها ثلاث طلاب في عطلة نهاية الأسبوع:

اللغة العربية	دراسات اجتماعية	الرياضيات	التربية الاسلامية	اللغة انجليزية	العلوم	الطالب / المادة
	✓	✓	✓		✓	سالم
✓			✓	✓		مجاهد
✓	✓	✓			✓	راشد

ضع علامة (✓) في المربع الصحيح بجانب كل عبارة:

خطأ	صح	العبارة
		أ) البيانات غير كافية لمعرفة عدد الساعات التي ذاكر فيها سالم مادة العلوم.
		ب) ذاكر سالم اللغة الانجليزية والرياضيات.
		ج) ذاكر مجاهد اللغة الانجليزية والتربية الاسلامية واللغة العربية.
		د) البيانات في الجدول توضح عدد المواد التي تم مذاكرتها يوم الجمعة.
		هـ) ذاكر كل من سالم وراشد أربع مواد.

تمرين (1): الرسم المقابل يعرض المبالغ التي ادخرها خالد وسعد بالريال العماني خلال ٣ أشهر:



أ) مجموع المبالغ التي ادخرها في الشهور الثلاثة تساوي:

الاجابة:

ب) يزيد المبلغ الذي ادخره خالد وسعد في شهر رمضان على ما ادخره في شهر رجب بمقدار:

الاجابة:

جمعت في شهر رجب
نصف ما جمع صديقي خالد

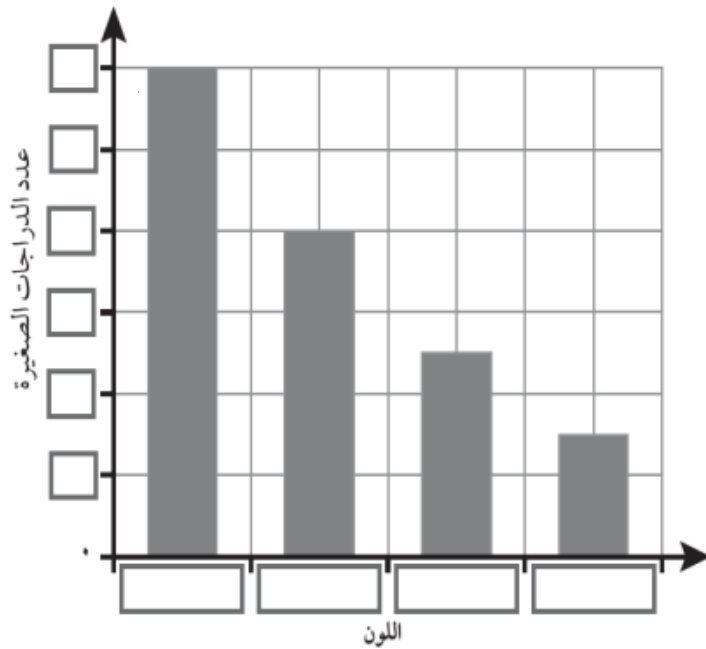


ج) من الرسم السابق يقول سعد: جمعت في شهر رجب نصف ما جمع صديقي خالد.
أكتب ما جمعه كلا من خالد وسعد في شهر رجب.

الاجابة:

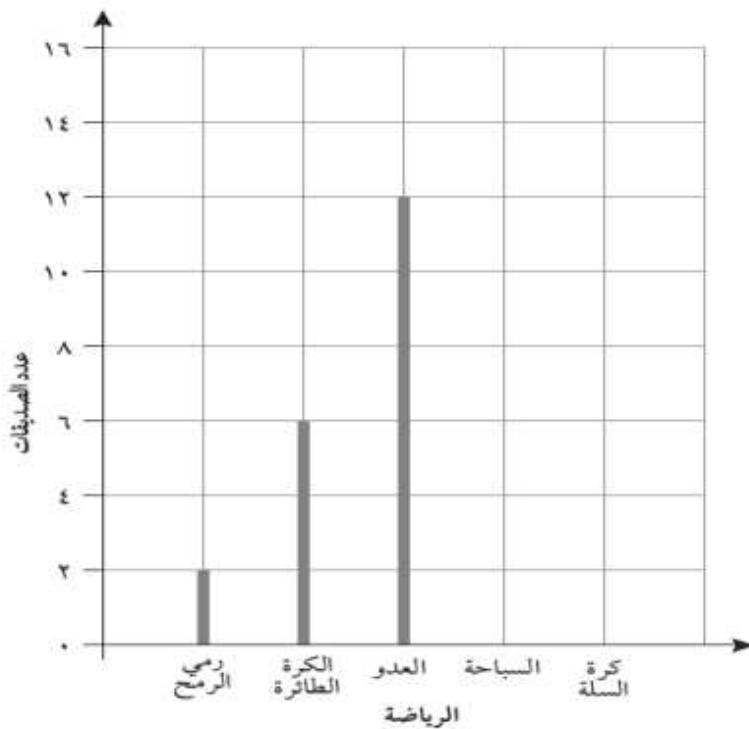
إعداد: أ. إخلاص الغافرية

تمرين (٢): جمع يوسف معلومات حول ألوان الدراجات الصغيرة. تعرض البيانات المقابلة المعلومات وفقاً للجدول الخاص بيوسف، اكتب كل المسميات المفقودة:



اللون	عدد الدراجات الصغيرة
أحمر	٨
أزرق	١٢
أخضر	٥
أسود	٣

تمرين (٣): جمعت فاطمة معلومات حول عدد الرياضات التي تمارسها بعض صديقاتها. ثم رسمت فاطمة جدولاً لعرض النتائج التي توصلت إليها، ارسم خطين إضافيين لاستكمال الرسم البياني العمودي:



الرياضة	عدد الصديقات
رمي الرمح	٢
الكرة الطائرة	٦
العُدو	١٢
السباحة	١٥
كرة السلة	٨

إعداد: أ. إخلص الغافرية