

شكراً لتحميلك هذا الملف من موقع المناهج العمانية



نموذج امتحان نهاية الدور الأول نسخة جديدة

[موقع المناهج](#) ⇨ [المناهج العمانية](#) ⇨ [الصف الخامس](#) ⇨ [اجتماعيات](#) ⇨ [الفصل الأول](#) ⇨ [الملف](#)

تاريخ نشر الملف على موقع المناهج: 2023-01-12 06:13:40

التواصل الاجتماعي بحسب الصف الخامس



روابط مواد الصف الخامس على تلغرام

[الرياضيات](#)

[اللغة الانجليزية](#)

[اللغة العربية](#)

[التربية الاسلامية](#)

المزيد من الملفات بحسب الصف الخامس والمادة اجتماعيات في الفصل الأول

[نموذج امتحان نهاية الدور الأول نسخة جديدة](#)

1

[نموذج امتحان نهاية الدور الأول نسخة جديدة](#)

2

[أسئلة الاختبار الرسمي مسقط](#)

3

[أسئلة الاختبار الرسمي جنوب الشرقية](#)

4

[أسئلة الاختبار الرسمي الداخلية](#)

5



امتحان الصف الخامس

الدور الاول

للعام الدراسي ١٤٤٣/١٤٤٤هـ - ٢٠٢٢/٢٠٢٣م

المادة: الدراسات الاجتماعية

- زمن الامتحان : (ساعة ونصف) ● عدد صفحات أسئلة الامتحان: (٦) صفحات.
- الإجابة في الدفتر نفسه.

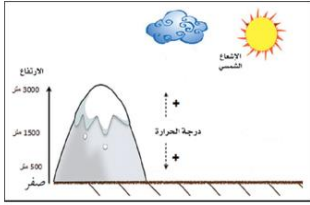
			اسم الطالب
	الصف		المدرسة

التوقيع بالاسم		الدرجة		السؤال
المصحح الثاني	المصحح الأول	بالحروف	بالأرقام	
				١
				٢
				٣
				٤
				٥
مراجعة الجمع	جمعه			المجموع
				المجموع الكلي

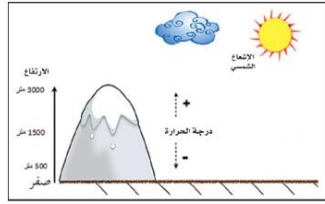
(١)

المادة: الدراسات الاجتماعية الصف: الخامس الدور الأول- الفصل الدراسي الأول العام الدراسي ٢٠٢٢/٢٠٢٣ م

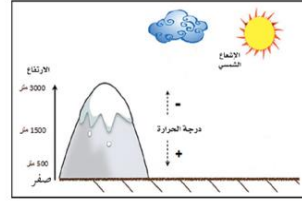
أجب عن جميع الأسئلة الآتية
السؤال الأول: ضع دائرة حول رمز الإجابة الصحيحة لكل مفردة من المفردات الآتية:
١- الشكل الصحيح الذي يوضح العلاقة بين عامل الارتفاع ودرجة الحرارة:



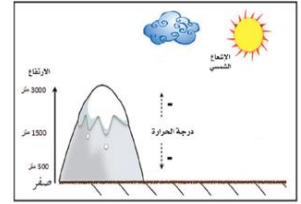
د



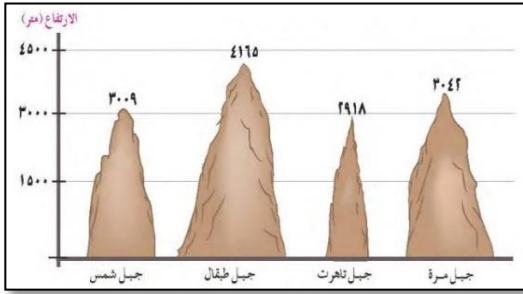
ج



ب



أ

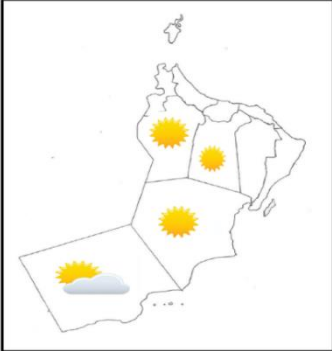


د-شمس

٢- الجبل الذي يحتل المرتبة الثالثة من حيث الارتفاع :
أ- أمرة ب- تاهرت ج- طبقال د- شمس

٣- الشخصية العمانية التي تولت القضاة في مدينة البصرة في عهد الخليفة عمر بن الخطاب :

أ- زهير بن قرضم ب- كعب بن سور ج- كعب بن برشة د- عمرو بن العاص



٤- الرمز المستخدم الذي يصف الحالة الجوية لمحافظة ظفار حسب الرمز الموضح في الخريطة المقابلة :

أ- ممطر ب- غائم كليا ج- غائم جزئيا د- صحو

٥- الشهر الذي بلغت فيه درجة الحرارة ٤٠ في فهود حسب الجدول التالي :

الشهر	يناير	فبراير	مارس	أبريل	مايو	يونيو	يوليو	أغسطس	سبتمبر	أكتوبر	نوفمبر	ديسمبر
متوسط درجات الحرارة (س)	٢٥	٢٦	٢٩,٥	٣٤,٧	٣٩,٦	٤٠	٣٨	٣٥,٦	٣٥,٦	٣٤,٦	٣٠,٣	٢٦,٨
الأمطار (مليمترات)	١٣,٢	١٤	١٦,٤	١١,٣	٠	١٠,٩	٣,٤	١,٦	٠	٠,٨	١,٦	١٦,٥

أ- يناير ب- فبراير ج- أبريل د- يونيو

٦- الصورة التي توضح مشكلة الرعي الجائر التي تتعرض لها النباتات الطبيعية:



د



ج



ب



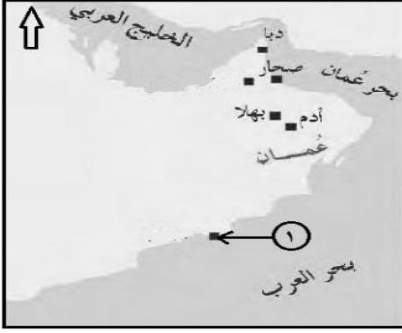
أ

يتبع/٢

تابع السؤال الأول:

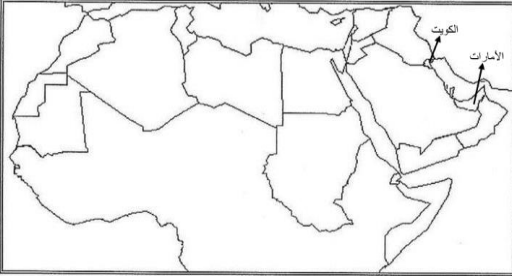
٧-التجارة التي كانت تنشط في فترة ظهور الإسلام بالميناء المشار إليه بالرقم (١) على الخريطة الآتية :

أ-الزيتون ب- العاج ج- اللبان د-الذهب



٨-المسطح المائي الذي سيعبره خالد في رحلته البحرية من دولة الإمارات إلى دولة الكويت :

أ-بحر عمان ج-البحر المتوسط ب- الخليج العربي د-بحر العرب



٩-المجال الذي يرمز إليه شعار جائزة السلطان قابوس طيب الله ثراه الموضح في الصورة المقابلة :

أ-الثقافة والعلوم ج-العمل التطوعي ب-حماية البيئة د-الإجادة الحرفية



١٠-الجهة الحكومية التي تعمل على صرف معاش شهري لفئات معينة من المواطنين : أ-الصحة ب-التنمية الاجتماعية ج-التربية والتعليم د-الإسكان



١١-مظهر العمل الاجتماعي الموضح في الصورة المقابلة :

أ-العرس العماني ب-موسم الحصاد ج-السبلة العمانية د-التعاون

بطاقة تعريفية عن مدينة عمانية

- تقع في محافظة البريمي
- تميزت بأنها واحة زراعية
- تقع على طرق التجارة البرية
- عرفت ببوابة عمان الشمالية

١٢- المدينة العمانية التي ورد ذكرها في البطاقة التعريفية:

أ-صحار ج-دبا ب- البريمي د- مرباط

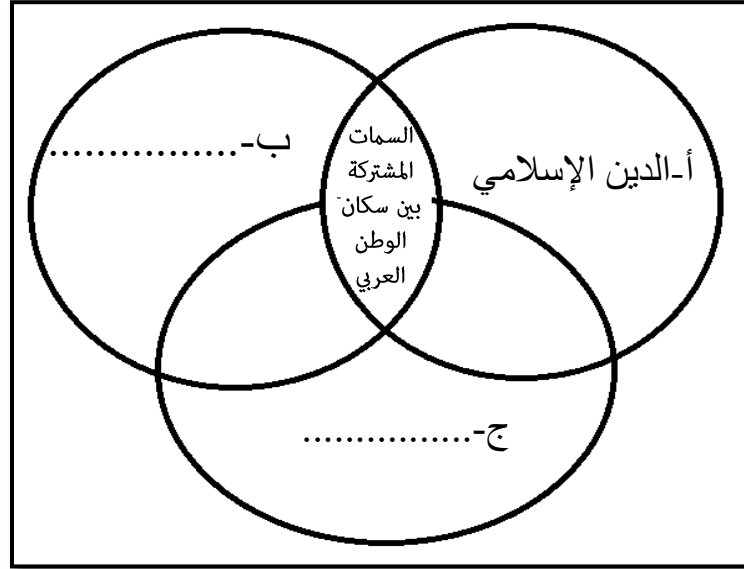
السؤال الثاني/ اجب عن الأسئلة الآتية:

أولا: ١- اكتب اسم المصطلح الصحيح أمام كل عبارة من العبارات في الجدول الآتي :

(الانجراف - تدهور خصوبة التربة - الدلتا)

أ-	تكوينات فيضيه تترسب عند مصبات الأنهار
ب-	نقل التربة من مكان إلى آخر بفعل جريان المياه السطحية

٢- ضع السمات المشتركة بين سكان الوطن العربي في المخطط التالي :



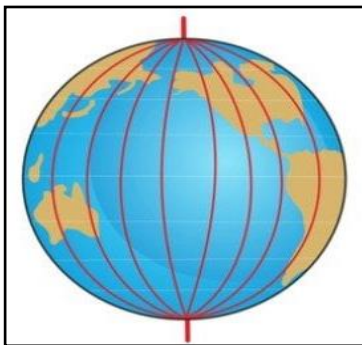
ثانيا: ١- ميز خصائص التربة التالية حسب نوع التربة التي تنتمي إليها بوضع علامة ✓ () :

الخصائص	تربة البحر المتوسط	التربة الصحراوية	التربة الفيضية
تفتقر للعناصر الغذائية			
غنية بالمواد العضوية والمعدنية			
تنتشر على منحدرات الجبال			
تنتشر فيها زراعة النخيل			

٢- صنف مظاهر العمل الاجتماعي التالية إلى أعمال على مستوى المجتمع المحلي وأعمال دولية:

(المساعدة في تنظيف القرية - مساعدة حكومة السلطنة للهند عند حدوث فيضانات)

أعمال مجتمعية	أعمال دولية
أ-.....	ب-.....



ثالثا: ادرس الشكل المقابل ثم اجب عن الأسئلة الآتية:

اسم الشبكة	أ-.....
الأهمية	ب-.....

السؤال الثالث/ اجب عن الأسئلة الآتية:

أولاً: قال تعالى { وَتَعَاوَنُوا عَلَى الْبِرِّ وَالتَّقْوَىٰ وَلَا تَعَاوَنُوا عَلَى الْإِثْمِ وَالْعُدْوَانِ } سورة المائدة:٢ بعد قراءتك للآية القرآنية أجب عن الأسئلة الآتية:

أ-عرف المقصود بالتعاون؟

ب-وضح أهمية التعاون ؟

ج- من خلال الآية القرآنية أيهما تشجع زملائك عليه :

() التعاون على البر والتقوى () التعاون على الإثم والعدوان اختر الإجابة الصحيحة

فسر إجابتك:

ثانياً: ١-أمامك خريطة توضح طرق النقل البحرية والبرية لمدينة عمانية ادرسها جيدا ثم اجب عن الأسئلة الآتية :




أ-ضع دائرة على عاصمة عمان في فترة ظهور الإسلام؟

ب-ارتبطت العاصمة بمدينة توأم بطريق :

() بري () بحري / اختر الإجابة الصحيحة

ج-أكتب على الخريطة بحر عمان؟

د-يشير الرمز  في مفتاح الخريطة إلى

٢-قام طلبة الصف الخامس بحملة لتنظيف الشواطئ ما نوع العمل الذي قام به الطلبة؟

ثالثاً: أذكر اثنين لكل من:.

أ-الديانات التي أعتنقها سكان شبه الجزيرة العربية قبيل الإسلام؟

١-..... ٢-.....

ب-خدمات الرعاية والتنمية الاجتماعية المقدمة لفئات المجتمع العماني من قبل وزارة التنمية الاجتماعية؟

١-..... ٢-.....

السؤال الرابع/ اجب عن الأسئلة الآتية:

أولاً: ١- انسب الصفات التالية للشخصيات العمانية الواردة بين القوسين في الجدول التالي:

(كعب بن برشه الطاحي - زهير بن قرضم المهري - كعب بن سور الأزدي - مصقلة بن رقة)

م	الصفة	الشخصية العمانية
أ	متحدث باللغة الفارسية	
ب	اشتهر بالخطابة والفصاحة والبلاغة	
ج	حب الاستطلاع والبحث عن المعرفة	
د	اشتهر بالشجاعة والعدل والدعوة إلى السلم	



ثانياً: ادرس الصورة التي امامك ثم اجب عن الأسئلة الآتية :

أ- سم المظهر الاجتماعي الموضح في الصورة

ب- وضح دور كلا من الرجال والنساء في هذا المظهر :

الرجال	الأطفال والنساء

ثالثاً: ١- من خلال دراستك لأنواع النباتات الطبيعية قارن بين النوعين الواضحين في الصورة في الجدول التالي :

وجه المقارنة	الشكل (أ) شجرة السنديان	الشكل (ب) الغاف
النوع	أ_	ب_
الخصائص	ج_	د_

٦

السؤال الخامس/ اجب عن الأسئلة الآتية:

أولاً:١- (يعاني الوطن العربي من مشكلة نقص المياه)
في ضوء العبارة السابقة أجب عن الأسئلة الآتية:
أ-سبب المشكلة ؟

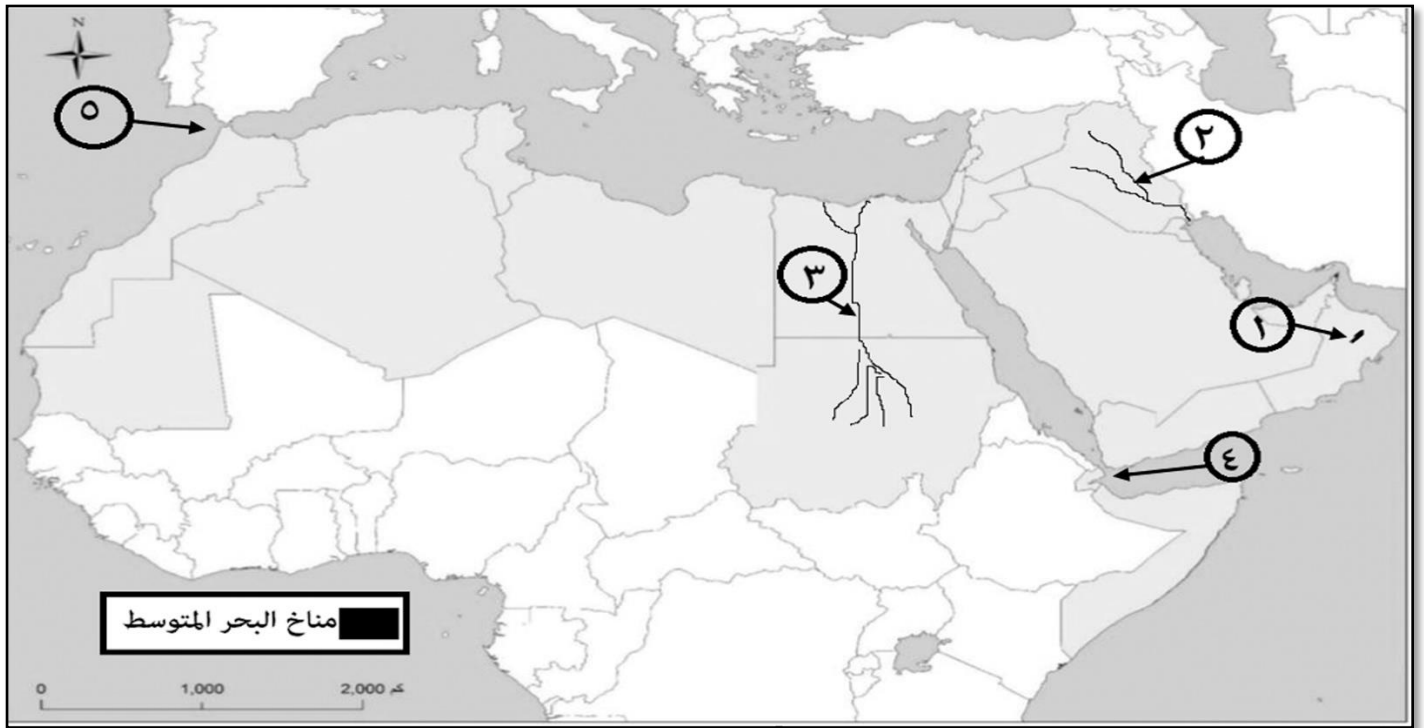
ب-الحلول المتبعة للحد من المشكلة ؟

ج-واجبك كمواطن اتجاه المشكلة والحد منها ؟

ثانياً:

١-ما النتيجة المترتبة على كثرة استخدام الإنسان للأسمدة الكيماوية والمبيدات الحشرية على التربة ؟

ثالثاً: ادرس خريطة الوطن العربي الصماء التي أمامك جيداً ثم اجب عن الأسئلة الآتية:



أ-الرقم الدال على الدولة التي يظهر فيها مناخ البحر المتوسط.....

ب-خرج محمد من ميناء السلطان قابوس في رحلة بحرية متجه إلى جمهورية مصر المضيقي المائي الذي سيعبره يشار إليه بالرقم

ج-أكتب على الخريطة البحر المتوسط في مكانه الصحيح ؟

د-نوع السهل المشار إليه بالرقم (٣)

انتهت الأسئلة مع الدعاء للجميع بالتوفيق والنجاح.