

تم تحميل هذا الملف من موقع المناهج العُمانية



* للحصول على أوراق عمل لجميع الصفوف وجميع المواد اضغط هنا

<https://almanahj.com/om>

* للحصول على أوراق عمل لجميع مواد الصف الخامس اضغط هنا

<https://almanahj.com/om/5>

* للحصول على جميع أوراق الصف الخامس في مادة اجتماعيات ولجميع الفصول, اضغط هنا

<https://almanahj.com/om/5social>

* للحصول على أوراق عمل لجميع مواد الصف الخامس في مادة اجتماعيات الخاصة بـ الفصل الأول اضغط هنا

<https://almanahj.com/om/5social1>

* لتحميل كتب جميع المواد في جميع الفصول للـ الصف الخامس اضغط هنا

<https://almanahj.com/om/grade5>

* لتحميل جميع ملفات المدرس عمر العزري اضغط هنا

للتحدث إلى بوت على تلغرام: اضغط هنا

https://t.me/omcourse_bot



امتحان الصف الخامس
للعام الدراسي ١٤٣٨/١٤٣٩ هـ - ٢٠١٧/٢٠١٨ م
الدور الأول - الفصل الدراسي الأول

موقع المناهج العمانية almanahj.com/om

- المادة: الدراسات الاجتماعية.
- زمن الإجابة: ساعة ونصف.
- عدد صفحات أسئلة الامتحان: (٧) صفحات.
- الإجابة في الورقة نفسها.

		اسم الطالب
الصف		المدرسة

التوقيع بالاسم		الدرجة		السؤال
المصحح الثاني	المصحح الأول	بالحروف	بالأرقام	
				١
				٢
				٣
				٤
مراجعة الجمع	جمعه			المجموع
				المجموع الكلي

(١)

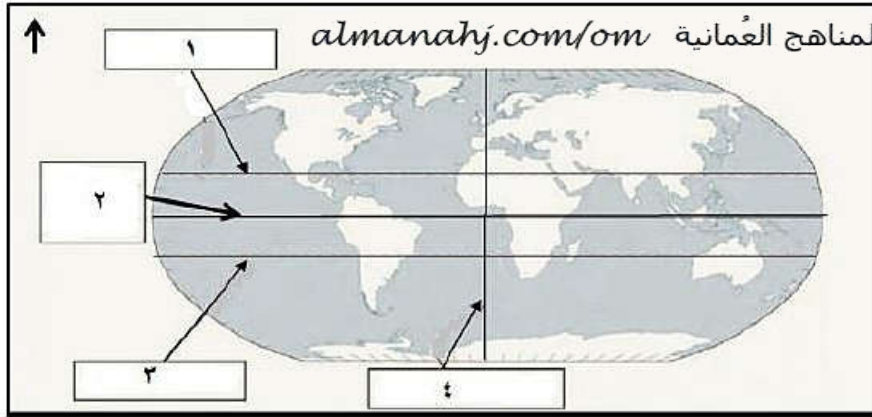
المادة: الدراسات الاجتماعية- الصف: الخامس- الدور الأول - الفصل الدراسي الأول -
العام الدراسي ٢٠١٧/٢٠١٨م

أجب عن جميع الأسئلة الآتية

السؤال الأول: ضع دائرة حول رمز الإجابة الصحيحة لكل مفردة من المفردات الآتية:

١- الوزارة التي يتبعها معهد عمر بن الخطاب للمكوفين بولاية السيب:
(أ) التعليم العالي. (ب) التربية والتعليم. (ج) الصحة. (د) الاسكان.

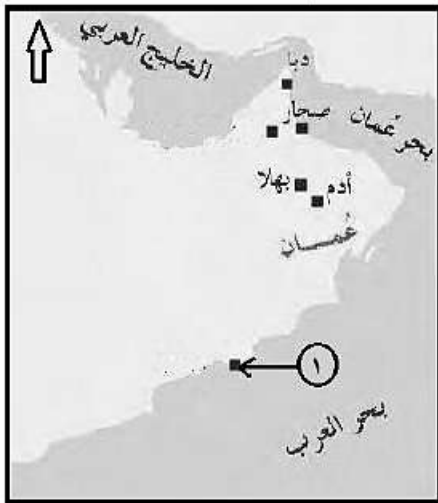
٢- الرقم الذي يشير إلى دائرة الاستواء في الخريطة الآتية:



- (أ) ١
(ب) ٢
(ج) ٣
(د) ٤

٣- المدينة التي نشأ فيها التابعي كعب بن سور الأزدي :
(أ) دبا. (ب) صحار. (ج) مرباط. (د) البريمي.

٤- التجارة التي كانت تنشط في فترة ظهور الاسلام بالميناء المشار اليه



بالرقم (١) على الخريطة الآتية:

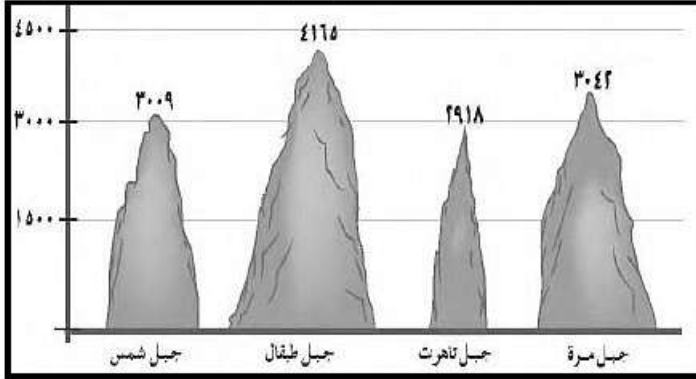
- (أ) الزيتون.
(ب) العاج.
(ج) الخيول.
(د) الذهب.

(٢)

المادة: الدراسات الاجتماعية- الصف: الخامس- الدور الأول - الفصل الدراسي الأول -
العام الدراسي ٢٠١٧/٢٠١٨ م

تابع السؤال الأول:

٥- الترتيب الصحيح لارتفاع الجبال تنازلياً كما هو واضح في الشكل التالي:



موقع المناهج العُمانية almanahj.com/om

٦- تعدّ من الأشجار الضارة بالبيئة العُمانية:

- (أ) السدر. (ب) السمر. (ج) المسكيت. (د) الغاف.

٧- خطيب عماني عاش قبيل الإسلام، واشتهر بالفصاحة والبلاغة:

- أ- زهير بن قرظم المهري.
ب- مصقلة بن رقية.
ج- المهلب بن أبي صفرة.
د- كعب بن برشة الطاحي.

٨- يرمز الشعار الذي في الصورة الموضحة إلى جائزة السلطان قابوس في مجال:



- (أ) الثقافة والعلوم.
(ب) حماية البيئة.
(ج) العمل التطوعي.
(د) الإجابة الحرفية.

(٣)

المادة: الدراسات الاجتماعية- الصف: الخامس- الدور الأول - الفصل الدراسي الأول -
العام الدراسي ٢٠١٧/٢٠١٨ م

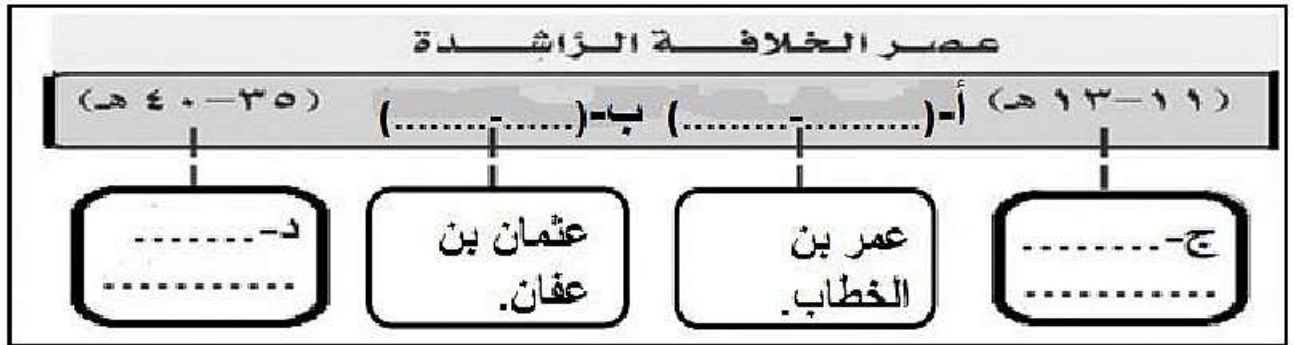
السؤال الثاني: أجب عن الأسئلة الآتية:

أولاً: - أكتب بين القوسين المصطلح الصحيح لكل عبارة مما يأتي :-
أ- (.....) الفرد الذي يشعر بانتمائه لوطنه ويسهم في خدمته.

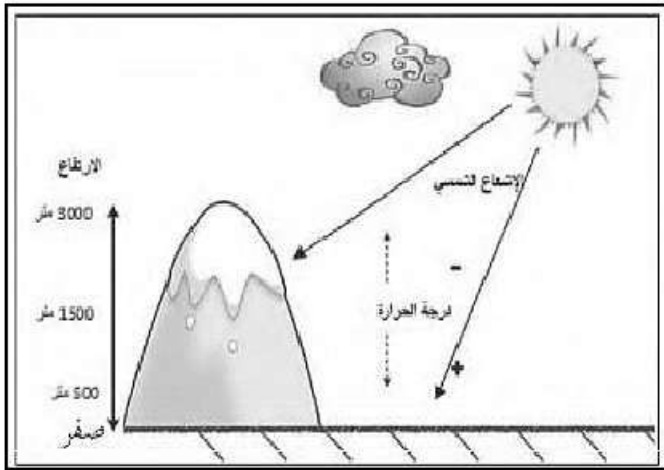
ب- (.....) إحدى مكونات التربة، ويرجع أصلها إلى

بقايا نباتية أو حيوانية موقع المناهج العمانية almanahj.com/om

ثانياً: أكمل بيانات المسطرة الزمنية التي تبين فترات حكم الخلفاء الراشدين:



ثالثاً : استنتج من خلال الشكل المقابل العلاقة بين درجات الحرارة والارتفاع عن مستوى سطح البحر.



.....
.....
.....
.....

(٤)

المادة: الدراسات الاجتماعية- الصف: الخامس- الدور الأول - الفصل الدراسي الأول -
العام الدراسي ٢٠١٧/٢٠١٨ م

السؤال الثالث: أجب عن الأسئلة الآتية:

أولاً: - اذكر اثنين لكل من :
أ- الأسس التي تقوم عليها الأسرة في الإسلام.

موقع المناهج العمانية almanahj.com/om

ب- المشكلات التي تواجه النباتات الطبيعية في الوطن العربي.

ثانياً: أدرس الخريطة التي توضح مجرى نهر النيل، ثم أكمل البيانات في
الجدول التالي:



النهر	المصب	الدول العربية التي يجري فيها
النيل.	(أ)	السودان. (ب)

(٥)

المادة: الدراسات الاجتماعية- الصف: الخامس- الدور الأول - الفصل الدراسي الأول -
العام الدراسي ٢٠١٧/٢٠١٨ م

تابع السؤال الثالث:-

ثالثاً : أكتب نوع السهل للأمثلة في الجدول الآتي:

نوع السهل	الأمثلة
أ-	دلتا نهر النيل.
ب-	سهل الباطنة.
موقع المناهج العُمانية almanahj.com/om	

السؤال الرابع: أجب عن الأسئلة الآتية:

أولاً: أ- "يعدّ موسم الجداد من مظاهر العمل الاجتماعي في المجتمع العماني " وضح هذه العبارة.

ب- "يعاني الوطن العربي من مشكلة نقص المياه" في ضوء هذه العبارة اقترح حلولاً لمعالجة تلك المشكلة.



(٦)

المادة: الدراسات الاجتماعية- الصف: الخامس- الدور الأول - الفصل الدراسي الأول -
العام الدراسي ٢٠١٧/٢٠١٨ م

تابع السؤال الرابع:

ثانياً: انظر إلى الصورتين، ثم قارن في الجدول ادناه بين الحياة البدوية والحياة الحضرية:

موقع المناهج العُمانية almanahj.com/om



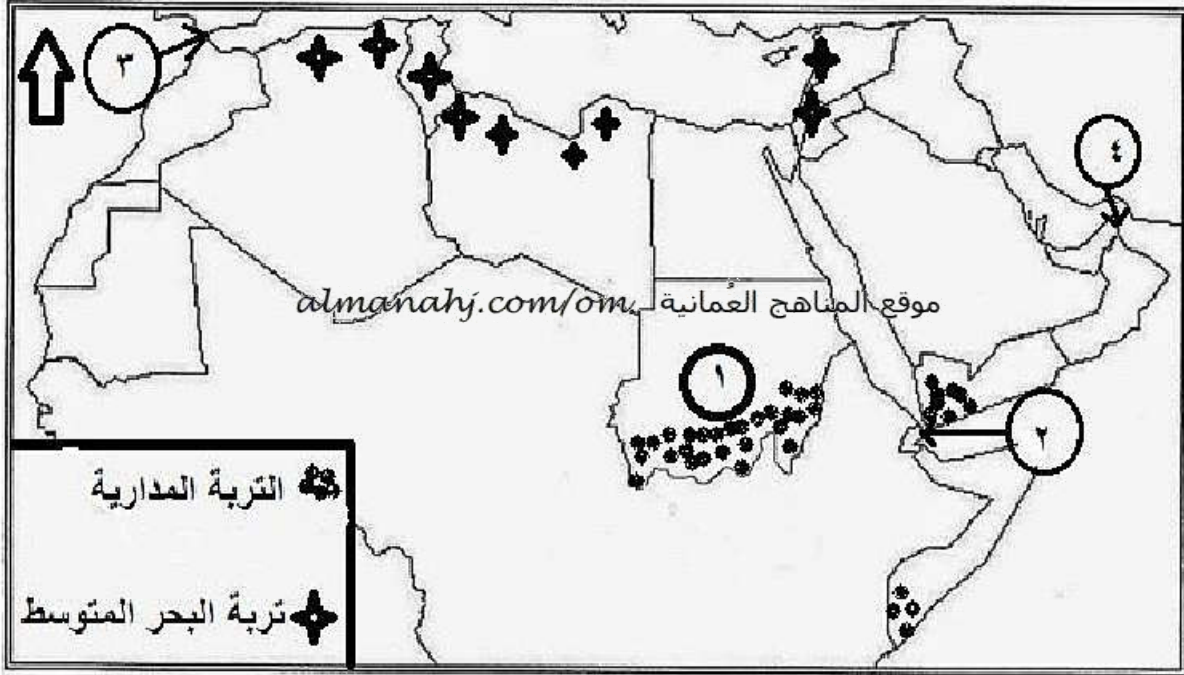
أوجه المقارنة	الحياة البدوية	الحياة الحضرية
المسكن	أ-	ب-
النشاط الاقتصادي	ج-	د-

(٧)

المادة: الدراسات الاجتماعية- الصف: الخامس- الدور الأول - الفصل الدراسي الأول -
العام الدراسي ٢٠١٧/٢٠١٨ م

تابع السؤال الرابع:

ثالثاً: أدرس خريطة الوطن العربي ثم أجب عن الأسئلة التي تليها:



أ- سمّ نوع التربة التي تتركز في الدولة المشار إليها بالرقم (١).

ب- ظلل على الخريطة مناطق تواجد التربة الفيضية في الوطن العربي.

ج- ما الرقم الذي يشير إلى مضيق هرمز؟

انتهت الأسئلة مع الدعاء للجميع بالتوفيق والنجاح.



امتحان الصف الخامس
للعام الدراسي ١٤٣٨/١٤٣٩ هـ - ٢٠١٧/٢٠١٨ م
الدور الأول - الفصل الدراسي الأول

موقع المناهج العمانية almanahj.com/om

- المادة: الدراسات الاجتماعية.
- زمن الإجابة: ساعة ونصف.
- عدد صفحات أسئلة الامتحان: (٧) صفحات.
- الإجابة في الورقة نفسها.

		اسم الطالب
الصف		المدرسة

التوقيع بالاسم		الدرجة		السؤال
المصحح الثاني	المصحح الأول	بالحروف	بالأرقام	
				١
				٢
				٣
				٤
مراجعة الجمع	جمعه			المجموع
				المجموع الكلي

(١)

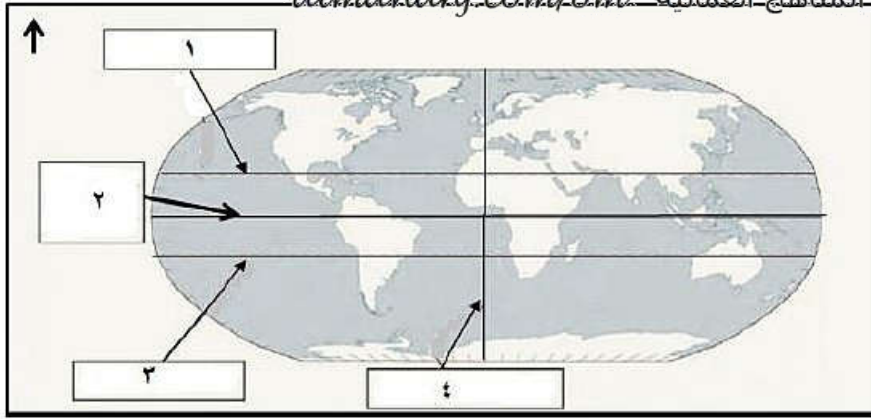
المادة: الدراسات الاجتماعية- الصف: الخامس- الدور الأول - الفصل الدراسي الأول -
العام الدراسي ٢٠١٧/٢٠١٨ م

أجب عن جميع الأسئلة الآتية

السؤال الأول: ضع دائرة حول رمز الإجابة الصحيحة لكل مفردة من المفردات الآتية:

١- الوزارة التي يتبعها معهد عمر بن الخطاب للمكوفين بولاية السيب:
(أ) التعليم العالي. (ب) التربية والتعليم. (ج) الصحة. (د) الإسكان.

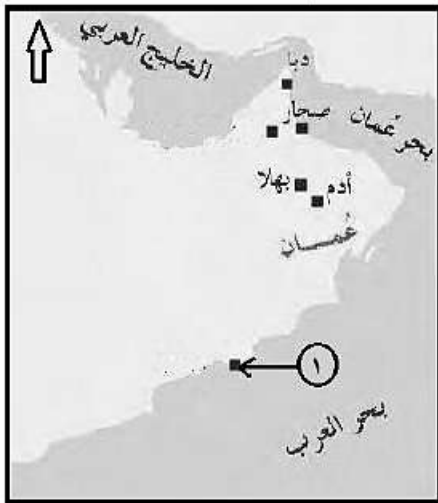
٢- الرقم الذي يشير إلى دائرة الاستواء في الخريطة الآتية:
موقع المناهج العمانية - almanahj.com/om



- (أ) ١
(ب) ٢
(ج) ٣
(د) ٤

٣- المدينة التي نشأ فيها التابعي كعب بن سور الأزدي :
(أ) دبا. (ب) صحار. (ج) مرباط. (د) البريمي.

٤- التجارة التي كانت تنشط في فترة ظهور الاسلام بالميناء المشار اليه



بالرقم (١) على الخريطة الآتية:


- (أ) الزيتون.
(ب) العاج.
(ج) الخيول.
(د) الذهب.

(٢)

المادة: الدراسات الاجتماعية- الصف: الخامس- الدور الأول - الفصل الدراسي الأول -
العام الدراسي ٢٠١٧/٢٠١٨ م

تابع السؤال الأول:

٥- الترتيب الصحيح لارتفاع الجبال تنازلياً كما هو واضح في الشكل التالي:



موقع المناهج العمانية

- (أ) مرة- تاهرت- طبقال- شمس.
(ب) طبقال - مرة- شمس- تاهرت.
(ج) تاهرت- شمس- مرة- طبقال.
(د) طبقال- شمس- مرة- تاهرت.

٦ - تعدّ من الأشجار الضارة بالبيئة العُمانية:

- (أ) السدر. (ب) السمر. (ج) المسكيت. (د) الغاف.

٧- خطيب عماني عاش قبيل الإسلام، واشتهر بالفصاحة والبلاغة:

- أ- زهير بن قرظم المهري.
ب- مصقلة بن رقة.
ج- المهلب بن أبي صفرة.
د- كعب بن برشة الطاحي.

٨- يرمز الشعار الذي في الصورة الموضحة إلى جائزة السلطان قابوس في مجال:



- (أ) الثقافة والعلوم.
(ب) حماية البيئة.
(ج) العمل التطوعي.
(د) الإجابة الحرفية.

(٣)

المادة: الدراسات الاجتماعية- الصف: الخامس- الدور الأول - الفصل الدراسي الأول -
العام الدراسي ٢٠١٧/٢٠١٨ م

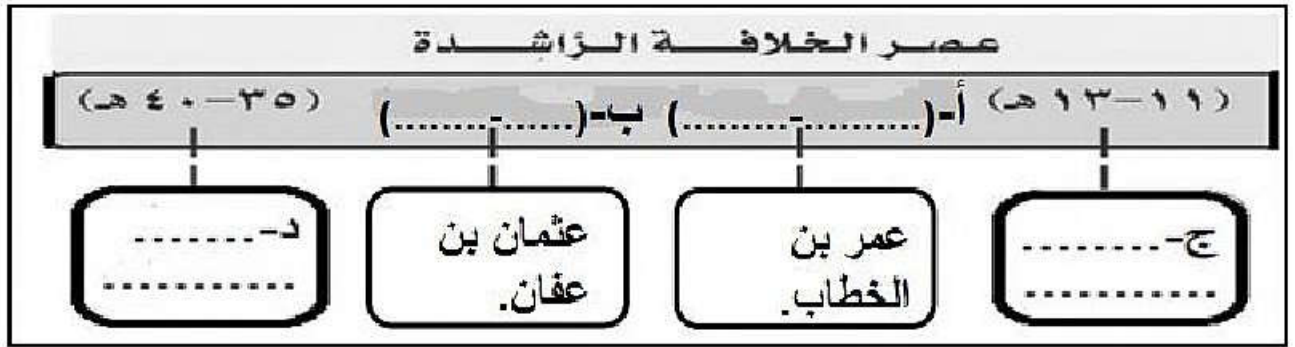
السؤال الثاني: أجب عن الأسئلة الآتية:

أولاً: - أكتب بين القوسين المصطلح الصحيح لكل عبارة مما يأتي :-
أ- (.....) الفرد الذي يشعر بانتمائه لوطنه ويسهم في خدمته.

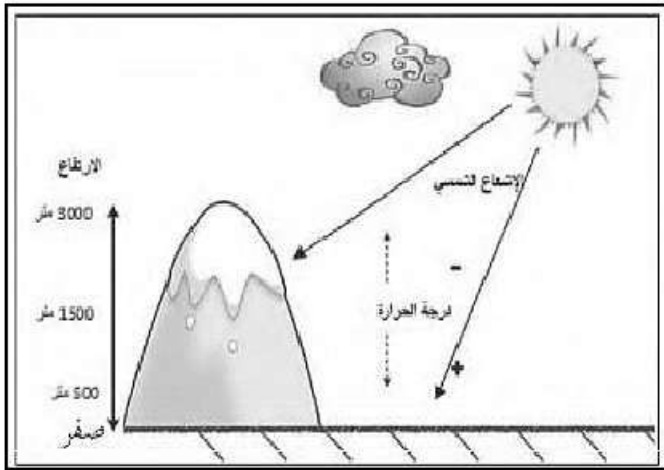
ب- (.....) إحدى مكونات التربة، ويرجع أصلها إلى

بقايا نباتية أو حيوانية موقع المناهج العمانية almanahj.com/om

ثانياً: أكمل بيانات المسطرة الزمنية التي تبين فترات حكم الخلفاء الراشدين:



ثالثاً : استنتج من خلال الشكل المقابل العلاقة بين درجات الحرارة والارتفاع عن مستوى سطح البحر.



.....
.....
.....
.....

(٤)

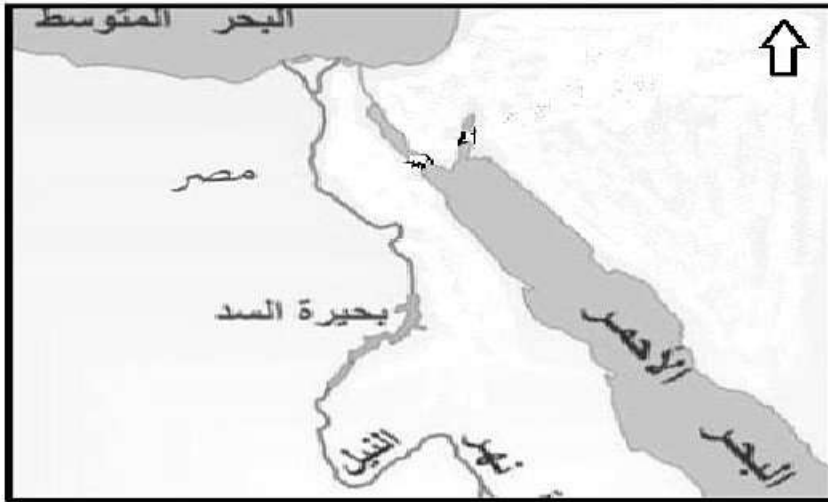
المادة: الدراسات الاجتماعية- الصف: الخامس- الدور الأول - الفصل الدراسي الأول -
العام الدراسي ٢٠١٧/٢٠١٨ م

السؤال الثالث: أجب عن الأسئلة الآتية:

أولاً: - اذكر اثنين لكل من :
أ- الأسس التي تقوم عليها الأسرة في الإسلام.

ب- المشكلات التي تواجه النباتات الطبيعية في الوطن العربي.
موقع المناهج العُمانية almanahj.com/om

ثانياً: أدرس الخريطة التي توضح مجرى نهر النيل، ثم أكمل البيانات في
الجدول التالي:



النهر	المصب	الدول العربية التي يجري فيها
النيل.	(أ)	السودان. (ب)

(٥)

المادة: الدراسات الاجتماعية- الصف: الخامس- الدور الأول - الفصل الدراسي الأول -
العام الدراسي ٢٠١٧/٢٠١٨ م

تابع السؤال الثالث:-

ثالثاً : أكتب نوع السهل للأمثلة في الجدول الآتي:

نوع السهل	الأمثلة
أ-	دلتا نهر النيل.
ب- موقع المناهج العُمانية almanahj.com/om	سهل الباطنة.

السؤال الرابع: أجب عن الأسئلة الآتية:

أولاً: أ- "يعدّ موسم الجداد من مظاهر العمل الاجتماعي في المجتمع العماني " وضح هذه العبارة.

ب- "يعاني الوطن العربي من مشكلة نقص المياه" في ضوء هذه العبارة اقترح حلولاً لمعالجة تلك المشكلة.

(٦)

المادة: الدراسات الاجتماعية- الصف: الخامس- الدور الأول - الفصل الدراسي الأول -
العام الدراسي ٢٠١٧/٢٠١٨ م

تابع السؤال الرابع:

ثانياً: انظر إلى الصورتين، ثم قارن في الجدول ادناه بين الحياة البدوية والحياة الحضرية:



موقع المناهج العمانية almanahj.com/om

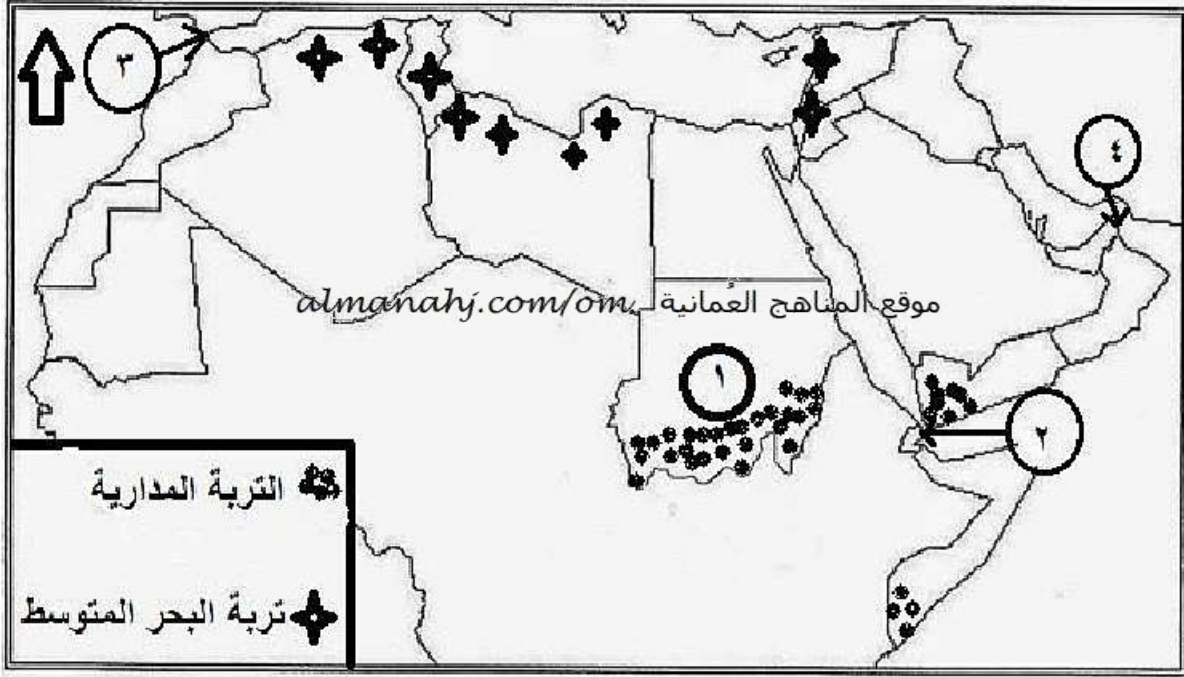
أوجه المقارنة	الحياة البدوية	الحياة الحضرية
المسكن	أ-	ب-
النشاط الاقتصادي	ج-	د-

(٧)

المادة: الدراسات الاجتماعية- الصف: الخامس- الدور الأول - الفصل الدراسي الأول -
العام الدراسي ٢٠١٧/٢٠١٨ م

تابع السؤال الرابع:

ثالثاً: أدرس خريطة الوطن العربي ثم أجب عن الأسئلة التي تليها:



أ- سمّ نوع التربة التي تتركز في الدولة المشار إليها بالرقم (١).

ب- ظلل على الخريطة مناطق تواجد التربة الفيضية في الوطن العربي.

ج- ما الرقم الذي يشير إلى مضيق هرمز؟

انتهت الأسئلة مع الدعاء للجميع بالتوفيق والنجاح.



امتحان الصف الخامس

للعام الدراسي ١٤٣٨/١٤٣٩ هـ - ٢٠١٧/٢٠١٨ م

الدور الثاني - الفصل الدراسي الأول

موقع المناهج العمانية almanahj.com/om

- المادة: الدراسات الاجتماعية.
- زمن الإجابة: ساعة ونصف.
- عدد صفحات أسئلة الامتحان: (٨) صفحات.
- الإجابة في الورقة نفسها.

		اسم الطالب
الصف		المدرسة

التوقيع بالاسم		الدرجة		السؤال
المصحح الثاني	المصحح الأول	بالحروف	بالأرقام	
				١
				٢
				٣
				٤
مراجعة الجمع	جمعه			المجموع
				المجموع الكلي

(١)


المادة: الدراسات الاجتماعية. الصف: الخامس- الدور الثاني - الفصل الدراسي الأول -
العام الدراسي ٢٠١٧/٢٠١٨ م

أجب عن جميع الأسئلة الآتية

السؤال الأول: ضع دائرة حول رمز الإجابة الصحيحة لكل مفردة من المفردات الآتية:

١- الوزارة المسؤولة عن صرف معاش شهري لفئة الضمان الاجتماعي :
(أ) الصحة. (ب) التربية والتعليم. (ج) الإسكان. (د) التنمية الاجتماعية.

٢- الرسالة الموضحة في الصورة التي أمامك موجهة لحكام:



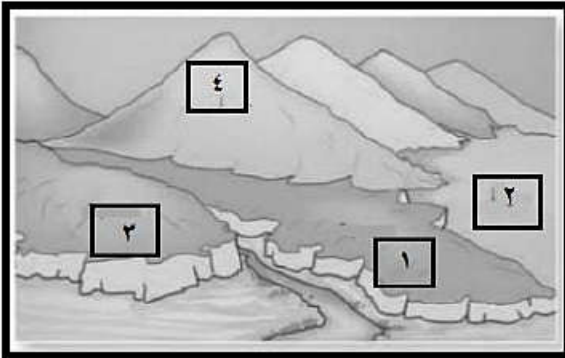
موقع المناهج العُمانية almanahj.com/om

- (أ) البحرين.
(ب) الحبشة.
(ج) عُمان.
(د) مصر.

٣- الخليفة الراشدي الذي تولى في عهده التابعي العماني كعب بن سور الأزدي قضاء البصرة:

- (أ) أبوبكر الصديق
(ب) عمر بن الخطاب.
(ج) عثمان بن عفان.
(د) علي بن أبي طالب.

٤- الرقم الدال على الجبل في الشكل المقابل:



- (أ) ١
(ب) ٢
(ج) ٣
(د) ٤

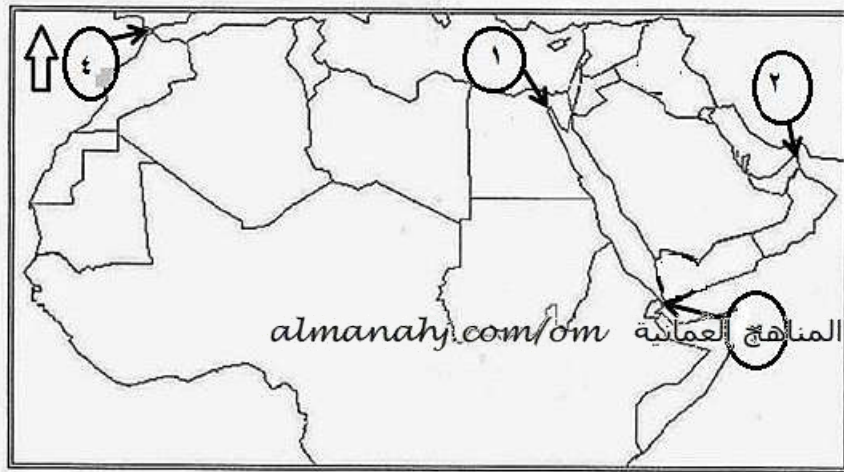
٥- الولاية العُمانية التي يوجد بها معهد عمر بن الخطاب للمكفوفين:
(أ) العامرات. (ب) بوشر. (ج) السيب. (د) مطرح.

(٢)

المادة: الدراسات الاجتماعية. الصف: الخامس- الدور الثاني - الفصل الدراسي الأول -
العام الدراسي ٢٠١٧/٢٠١٨ م

تابع السؤال الأول:

٦- الرقم الذي يشير إلى قناة السويس في الخريطة الآتية:



- أ) ١
- ب) ٢
- ج) ٣
- د) ٤

٧- المدينة التي حكمتها قبيلة قريش بنظام الحكم القبلي قبيل الاسلام:
أ) مكة. ب) يثرب. ج) اليمامة. د) هجر.

٨- مناخ يتميز به الجبل الأخضر في سلطنة عُمان:

- أ) الصحراوي.
- ب) الاستوائي.
- ج) البحر المتوسط.
- د) الموسمي.

(٣)

المادة: الدراسات الاجتماعية. الصف: الخامس- الدور الثاني - الفصل الدراسي الأول -
العام الدراسي ٢٠١٧/٢٠١٨ م

السؤال الثاني: أجب عن الأسئلة الآتية:

أولاً: أكتب بين القوسين المصطلح الصحيح لكل عبارة مما يأتي :-

أ- (.....) رعاية ومساعدة أفراد المجتمع بعضهم

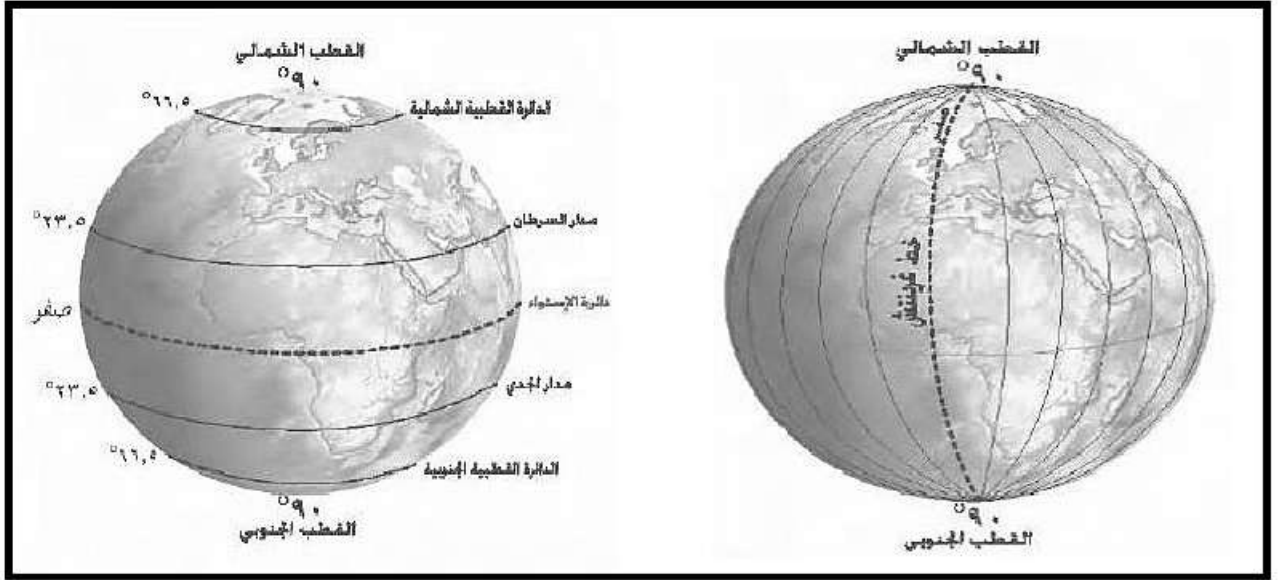
بعضاً لا سيما الفقراء، والأيتام، وكبار السن، والأشخاص ذوي الإعاقة.

ب- (.....) متوسط حالة الجو في فترة زمنية طويلة

قد تكون شهراً، أو فصلاً، أو سنة، أو أكثر.

موقع المناهج العُمانية almanahj.com/om

ثانياً: أدرس الشكلين الآتيين، ثم قارن بين خطوط الطول ودوائر العرض كما في الجدول الذي يليهما:



وجه المقارنة	خطوط الطول	دوائر العرض
اسم الخط الرئيسي. (الدائرة)	أ-	ب-
الفائدة. (الأهمية)	ج-	د-

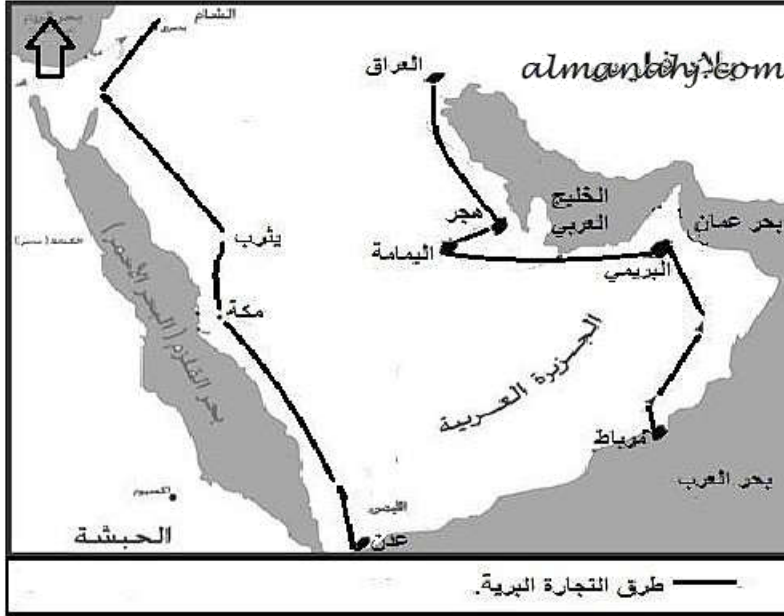
يتبع/٤

(٤)

المادة: الدراسات الاجتماعية. الصف: الخامس- الدور الثاني - الفصل الدراسي الأول -
العام الدراسي ٢٠١٧/٢٠١٨م

تابع السؤال الثاني:

ثالثاً: أدرس الخريطة التي توضح حركة التجارة قبيل الاسلام، ثم أجب عن
الأسئلة التالية:



أ- استخرج من الخريطة اسم البحر الذي يشرف عليه ميناء مرباط.

ب- تتبع على الخريطة خط سير التجارة البرية من مرباط إلى العراق
واكتبه في المستطيل الآتي .

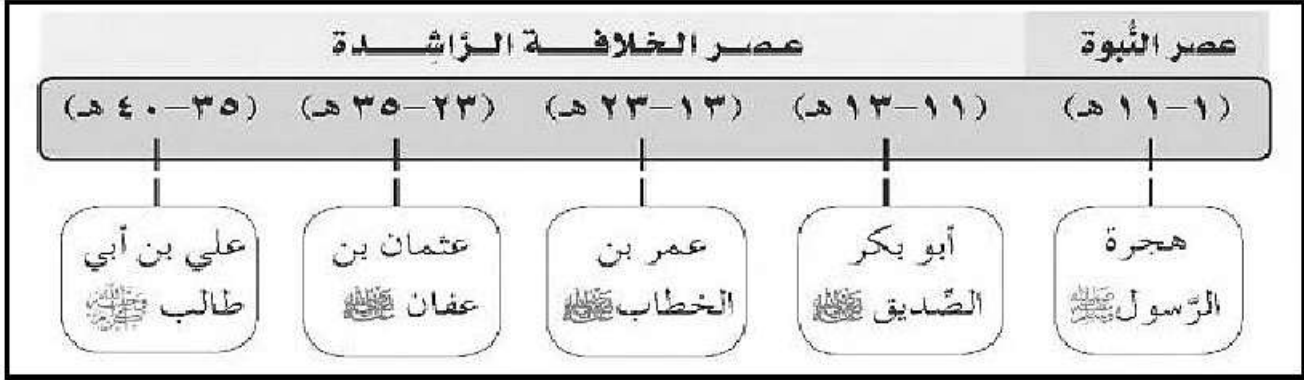
- مرباط. ← ← ← العراق.

ج- ما اسم الحضارة التي تقع شمال عمان؟

(٥)

المادة: الدراسات الاجتماعية. الصف: الخامس- الدور الثاني - الفصل الدراسي الأول -
العام الدراسي ٢٠١٧/٢٠١٨ م

السؤال الثالث: أجب عن الأسئلة الآتية:
أولاً: أدرس المسطرة الزمنية الآتية، ثم أجب عن الأسئلة التي تليها:



أ- اذكر الخليفة الأول بعد وفاة الرسول صلى الله عليه وسلم.

موقع المناهج العمانية almanahj.com/om

ب- سمّ الخليفة الذي حكم أطول فترة زمنية من الخلفاء الراشدين.

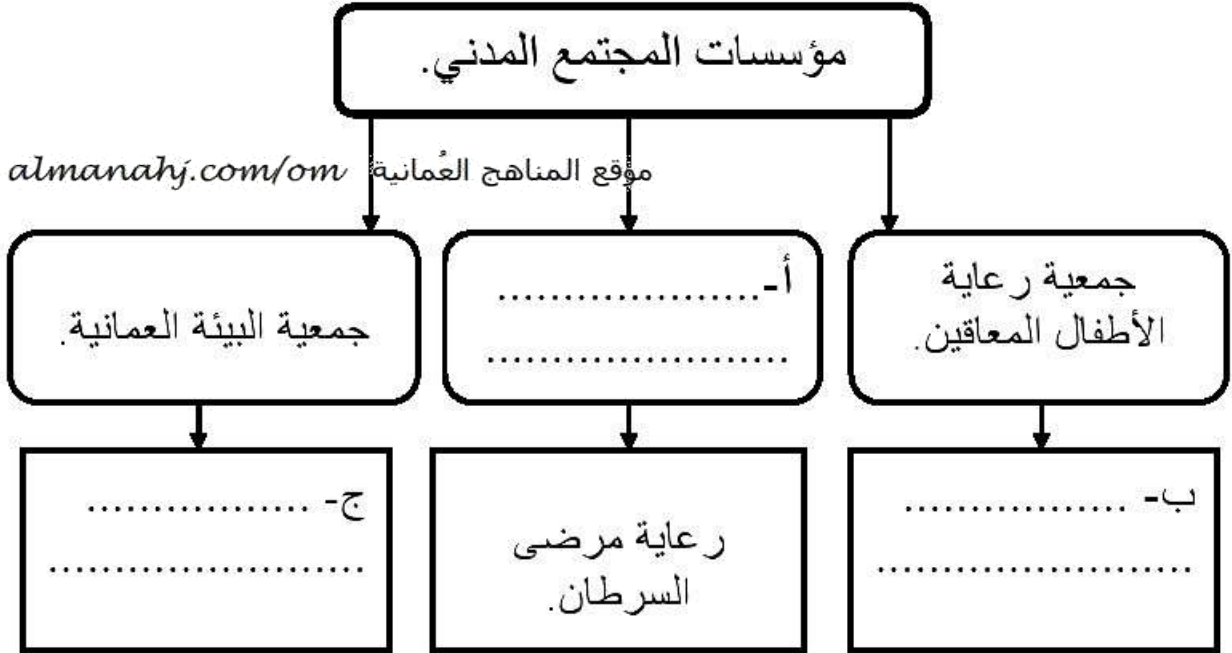
ج- ما العام الهجري الذي بدأ فيه عصر الخلافة الراشدة؟

(٦)

المادة: الدراسات الاجتماعية. الصف: الخامس- الدور الثاني - الفصل الدراسي الأول -
العام الدراسي ٢٠١٧/٢٠١٨ م

تابع السؤال الثالث:

ثانيًا: أكمل الخريطة المفاهيمية الآتية:



ثالثًا: أذكر واحدًا لكل من:

أ- العامل الطبيعي الذي يؤثر في شكل الكثبان الرملية وأحجامها.

.....

ب- الأنشطة الاقتصادية التي يمارسها سكان الجبال في الوطن العربي.

.....

(٧)

المادة: الدراسات الاجتماعية. الصف: الخامس- الدور الثاني - الفصل الدراسي الأول -
العام الدراسي ٢٠١٧/٢٠١٨ م

السؤال الرابع: أجب عن جميع الأسئلة الآتية:
أولاً: أكمل جدول المقارنة الآتي الذي يمثل بعض أنواع التربة في الوطن العربي:

نوع التربة.	خصائصها.	مثال واحد على
موقع المناهج العمانية almanahj.com/om مناطق وجودها.		
أ- تربة البحر المتوسط.	بلاد الشام والمغرب.
ب-	تفتقر للعناصر الغذائية بسبب ارتفاع نسبة الملوحة.	تغطي معظم أجزاء الوطن العربي.
التربة الفيضية.	ج- تربة تنتشر بالقرب من الأنهار.

يتبع ٨

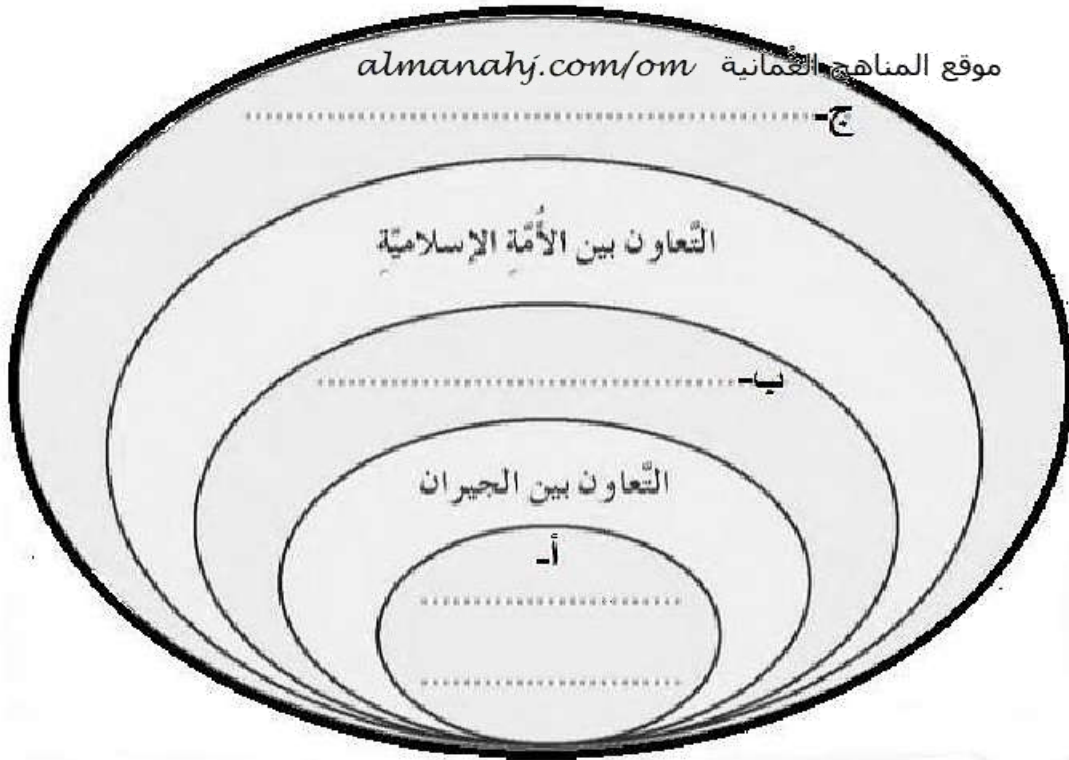
(٨)

المادة: الدراسات الاجتماعية. الصف: الخامس- الدور الثاني - الفصل الدراسي الأول -
العام الدراسي ٢٠١٧/٢٠١٨ م

تابع السؤال الرابع:

ثانيًا: أكمل ترتيب مستويات التعاون الآتية بكتابتها حسب مكانها الصحيح في الشكل التالي:

- التعاون بين أفراد الأسرة والأقارب.
- التعاون بين دول وشعوب العالم.
- التعاون بين المواطنين في الدولة.



ثالثًا: أكتب بين القوسين أسماء المدن العمانية بجوار ما يناسبه من العبارات التالية:

- أ- (.....) مدينة قديمة لها ميناء مشهور منذ فترة قبل الاسلام ومن أبرز شخصياتها التاريخية المهلب بن أبي صفرة.
- ب- (.....) عاصمة عمان في فترة ظهور الإسلام وكانت من أسواق العرب المعروفة آنذاك.

انتهت الأسئلة مع الدعاء للجميع بالتوفيق والنجاح.



نموذج إجابة امتحان الصف الخامس
للعام الدراسي ١٤٣٨/١٤٣٩ هـ - ٢٠١٧/٢٠١٨ م
الدور الثاني - الفصل الدراسي الأول.

المادة: الدراسات الاجتماعية .
الدرجة الكلية: (٤٠) درجة.
تنبيهه: نموذج الإجابة في (٤) صفحات. موقع المناهج العُمانية almanahj.com/om

أولاً: إجابة السؤال الموضوعي:

الدرجة الكلية: ١٦		إجابة السؤال الأول		
الصفحة	الدرجة	الإجابة	البديل الصحيح	المفردة
٩٦	٢	التنمية الاجتماعية.	د	١
٦٦	٢	عمان.	ج	٢
٧٤	٢	عمر بن الخطاب.	ب	٣
٢٧	٢	٤	د	٤
٩٧	٢	السيب.	ج	٥
١٣	٢	١	أ	٦
٥٨	٢	مكة.	أ	٧
٣٧	٢	البحر المتوسط.	ج	٨
١٦		المجموع		

(٢)

تابع نموذج إجابة امتحان الصف الخامس للعام الدراسي ١٤٣٨/١٤٣٩ هـ - ٢٠١٧/٢٠١٨ م
الدور الثاني - الفصل الدراسي الأول المادة : الدراسات الاجتماعية
ثانياً: إجابة الأسئلة المقالية:

الدرجة الكلية: (٨) درجات		إجابة السؤال الثاني				
الصفحة	الدرجة	الإجابة الصحيحة			المفردة	الجزئية
٨١	درجة واحدة	التكافل الاجتماعي.			(أ)	أولاً
٣١	درجة واحدة	المناخ. موقع المناهج العُمانية almanahj.com/om			(ب)	
١٣	درجة (لكل جزئية نصف)	دوائر العرض	خطوط الطول	وجه المقارنة	---	ثانياً
	درجتان (لكل جزئية درجة)	ب- دائرة الاستواء	أ- خط غرينتش	اسم الخط الرئيسي (الدائرة)		
		د- معرفة المناخ	ج- تحديد الوقت	الفائدة (الأهمية)		
٦١	درجة واحدة	بحر العرب.			(أ)	ثالثاً
	درجة ونصف (لكل جزئية نصف)	البريمي (توأم) ← اليمامة ← هجر.			(ب)	
	نصف درجة	الحضارة الفارسية / بلاد فارس / فارس.			(ج)	
٨ درجات		المجموع				

يتبع ٣/

(٣)

تابع نموذج إجابة امتحان الصف الخامس للعام الدراسي ١٤٣٨/١٤٣٩ هـ - ٢٠١٧/٢٠١٨ م
الدور الثاني - الفصل الدراسي الأول - المادة : الدراسات الاجتماعية

الدرجة الكلية: (٨) درجات		إجابة السؤال الثالث		
الصفحة	الدرجة	الإجابة الصحيحة	المفردة	الجزئية
٧١	درجة واحدة	أبو بكر الصديق.	(أ)	أولاً
	درجة واحدة	عثمان بن عفان .	(ب)	
	درجة واحدة	١١١- موقع المناهج العمانية almanahj.com/om	(ج)	
١٠١	درجة واحدة	الجمعية العمانية للسرطان.	(أ)	ثانياً
	درجة واحدة	رعاية الأشخاص والأطفال ذوي الإعاقة.	(ب)	
	درجة واحدة	تنظيف والمحافظة على البيئة .	(ج)	
٢٦	درجة واحدة	الرياح.	(أ)	ثالثاً
٢٩	درجة واحدة	ممارسة الزراعة / الرعي / السياحة. (يكتفي بذكر واحد)	(ب)	
٨ درجات		المجموع		

يتبع / ٤

(٤)

تابع نموذج إجابة امتحان الصف الخامس للعام الدراسي ١٤٣٨/١٤٣٩ هـ - ٢٠١٧/٢٠١٨ م
الدور الثاني - الفصل الدراسي الأول - المادة : الدراسات الاجتماعية

الدرجة الكلية: (٨) درجات		إجابة السؤال الرابع		
الصفحة	الدرجة	الإجابة الصحيحة	المفردة	الجزئية
٤٩	درجة واحدة	تنتشر على منحدرات الجبال / تربة خصبة.	(أ)	أولاً
	درجة واحدة	التربة الصحراوية موقع المناخ العُمانيه almanahj.com/om	(ب)	
	درجة واحدة	مصر (نهر النيل) / العراق (نهري دجله والفرات).	(ج)	
٩٤	درجة واحدة	التعاون بين الأسرة والأقارب.	(أ)	ثانياً
	درجة واحدة	التعاون بين المواطنين في الدولة.	(ب)	
	درجة واحدة	التعاون بين دول وشعوب العالم .	(ج)	
٦٩	درجة واحدة	مدينة دبا.	(أ)	ثالثاً
٦٩	درجة واحدة	مدينة صحار.	(ب)	
٨ درجات		المجموع		

نهاية نموذج الإجابة