

تم تحميل هذا الملف من موقع المناهج العُمانية



* للحصول على أوراق عمل لجميع الصفوف وجميع المواد اضغط هنا

<https://almanahj.com/om>

* للحصول على أوراق عمل لجميع مواد الصف الخامس اضغط هنا

<https://almanahj.com/om/5>

* للحصول على جميع أوراق الصف الخامس في مادة اجتماعيات ولجميع الفصول, اضغط هنا

<https://almanahj.com/om/5social>

* للحصول على أوراق عمل لجميع مواد الصف الخامس في مادة اجتماعيات الخاصة بالفصل الثاني اضغط هنا

<https://almanahj.com/om/5social2>

* لتحميل كتب جميع المواد في جميع الفصول للصف الخامس اضغط هنا

<https://almanahj.com/om/grade5>

* لتحميل جميع ملفات المدرس فاطمة راشد البلوشي، وموزة راشد المخمري، ونادية المعمرى، ومريم العلوي اضغط هنا

للتحدث إلى بوت على تلغرام: اضغط هنا

https://t.me/omcourse_bot

سلطنة عمان
وزارة التربية والتعليم
المديرية العامة للتربية والتعليم لمحافظة الباطنة شمال
مدرسه بدر الكبرى للتعليم الأساسي (5-9)

الدراسة المساندة لمنهج الدراسات الاجتماعية للصف الخامس

اعداد : فاطمه راشد البلوشي
موزه راشد المخمري
اشراف المعلمه الأولى : نادية المعمرى
مديره المدرسه : مريم العلوي



حصاد درس السكان في الوطن العربي

سلطنة عمان

وزارة التربية والتعليم

المديرية العامة للتربية والتعليم الباطنة شمال

مدرسه بدر الكبرى للتعليم الاساسي

الصف / الخامس

العام الدراسي 2018/2017 المادة / الدراسات الاجتماعية

الصف :

الاسم :

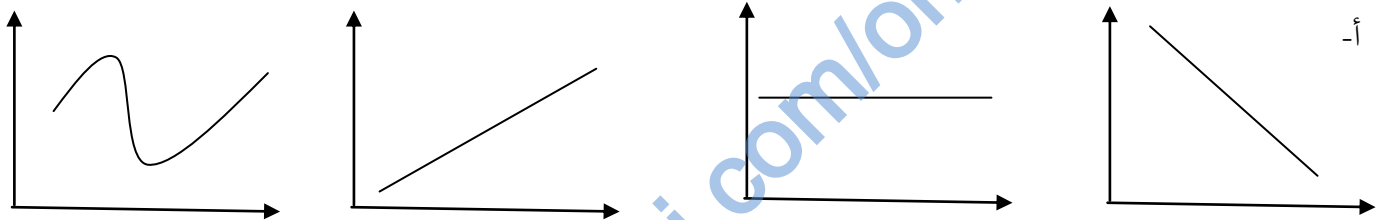
السؤال الأول: أختَر الإجابة الصحيحة من بين البدائل المعطاة:

1- يطلق على العلم الذي يهتم بدراسة السكان وخصائصهم الجغرافية والمشكلات السكانية:
أ-جغرافية السكان ب-الجغرافيا السياسية ج-الجغرافيا الاقتصادية د-الجغرافيا الطبيعية

2- تم اجراء أول تعداد في سلطنة عمان عام :

أ-1990 ب-1991 ج-1992 د-1993

3- الشكل البياني الذي يعبر عن النمو السكاني في الوطن العربي:



4- أحد العبارات تصف مفهوم التوزيع السكاني:

أ- الزيادة في عدد السكان من سنة لأخرى.
ب- ج-الفرق بين عدد المواليد والوفيات.
ب-انتشار السكان في منطقه معينه.
د-انتقال السكان من مكان لأخر.

5-الرقم الدال على المحافظة الأقل تركيز للسكان في سلطنة عمان :

أ- 2 ب- 3
ج- 6 د- 11



6-بالاستعانة بالجدول: بلغت الزيادة السكانية (بالمليون نسمة) في عام 1980 مقارنة بعام 1970:

أ- 42 ب- 43
ج- 44 د- 45

السنة	عدد السكان (مليون نسمة)
1970	122
1980	164
1990	221
2000	293
2010	376
2015	394

الجدول (1) نمو سُكان الوطن العربي بين عامي (1970-2015م)

7- الجهة التي تمثل المصدر الأساسي في البيانات السكانية في سلطنة عمان هي :

- أ-المركز الوطني للإحصاء والمعلومات
ب-وزارة الصحة
ج-وزارة التنمية الاجتماعية.
د-وزارة الاقتصاد الوطني.

8- بلغ عدد سكان سلطنة عمان (العُمانيين وغير العُمانيين) في عام 2017 بالمليون نسمة :
أ- 2.5 ب-3 مليون ج- 3.5 د- 4.2

9-العوامل المؤثرة في الزيادة الطبيعية:
أ- المواليد والوفيات ب-المواليد والهجرة ج-الوفيات والهجرة. د-الهجرة.

10- يتوزع السكان في مناطق الوطن العربي بصورة غير منتظمة ويقل عددهم في :
أ- ضفاف الأنهار ب-الصحاري ج-السهول د-السواحل

11- جميع ما يلي عوامل طبيعية مؤثرة على توزيع السكان في الوطن العربي عدا :
أ- المناخ ب- الاوضاع السياسية ج-اشكال السطح د- مواد طبيعية

12-الصورة التي أمامك توضح مشكله سكانية هي :



- أ- الاختناقات المرورية
ب- التلوث البيئي
ب-الضغط على الخدمات
د-نقص المسطحات الخضراء

13 - بالاستعانة بالشكل المحافظة التي تحتل المركز الثاني في سلطنة عمان من حيث عدد السكان هي:

- أ- شمال الباطنة
ب-ظفار
ج-الوسطى
د-مسقط

المحافظة	عدد السكان
مسقط	١٣٩٥٤١٢
شمال الباطنة	٧١٩٣٠٩
الوسطى	٤٣٣٥٠
مستدام	٤٢٨٥٤
ظفار	٢٤٠٨٣٦

14- إذا كان معدل المواليد 1000 نسمة والوفيات 800 نسمة فان معدل الزيادة الطبيعية يساوي :
أ- 100 ب-200 ج-300 د-400

السؤال الثاني :

أولاً: عرّف المصطلحات التالية:

- أ- التعداد:
- ب- الزيادة الطبيعية
- ج- عددي المشكلات التي ظهرت في المدن الكبرى؟

ثانياً - اذكر نتيجة لكل مما يلي :

1- الاختناقات المرورية في محافظة مسقط .

2- زياده الخدمات في محافظه مسقط .

3.. اكتشاف حقول النفط في الوسطى .

ثالثاً: عللي : تسعى الدول الى جمع البيانات السكانية ؟

1- فسري زياده عدد السكان ما بين 1970 – 2010 ؟

2- دللي على تأثر توزيع السكان بالموارد الطبيعية؟

السؤال الثالث :

أولاً: صنفى العوامل المؤثرة على توزيع السكان الى عوامل طبيعية وبشريه :

العوامل الطبيعية	العوامل البشرية

1-المناخ

2-الأوضاع السياسية

3- توافر الخدمات

4-توافر الموارد الطبيعية.

ثانياً : أكمل الجدول التالي بالاستعانة بالمفردات :

(التلوث، الاختناقات المرورية، توسيع الطرق، تركّز الخدمات، زياده اعداد السيارات، انتشار الامراض، بناء المصانع بعيد عن السكان، توزيع الخدمات على المحافظات)

المشكلة	الاسباب	النتائج	الحلول
.....	زيادة عدد المصانع		
الضغط على الخدمات	تدني مستوى الخدمات	
.....	الازدحام والتأخير على العمل	



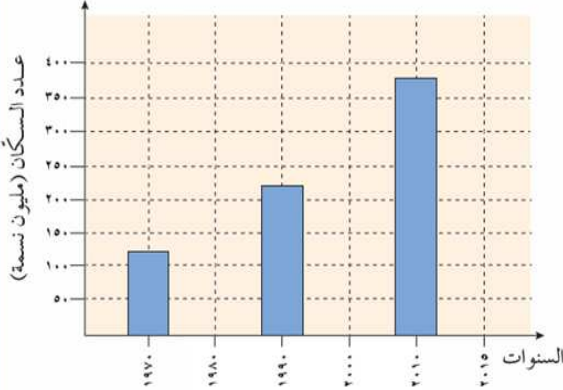
ثالثا : تأمل الصورة التالية التي توضح أحد مشكلات المدن ثم اجيب عن الاسئلة

- 1- اسم المشكلة
- 2- اذكر المتغيرات التي أدت الى المشكلة
- 3- تظهر المشكلة في سلطنة عمان في محافظه
- 4- اقترحي حلا للمشكلة

السؤال الرابع :

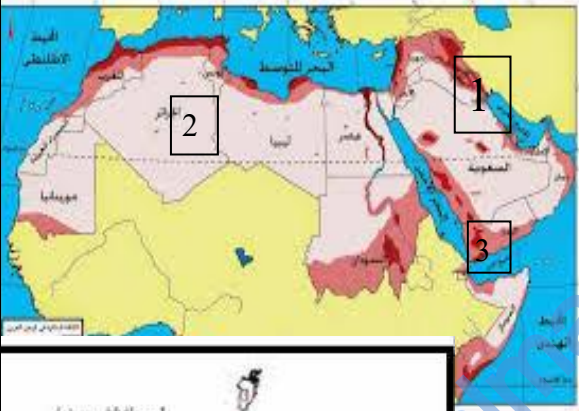
أولا : أمامك مخطط بياني ادرسه جيدا ثم اجبي عن الاسئلة :

- 1- بلغ عدد السكان عام 1990 نسمة..... نسمة
- 2- يطلق على زياد السكان من عام 1970 الى 2015 ب(اختاري)
 - أ- الزيادة الطبيعية ب-التوزيع السكاني ج-النمو السكاني
- 3- برأيك مااسباب زيادة اعدد السكان عام 2015 ؟
- 4- مثلي على المخطط عدد السكان عام 2015 حيث بلغ عدد السكان 394 نسمة ؟



ثانيا : أمامك خريطة توضح توزيع السكان في الوطن العربي ادرسيها جيدا ثم اجيب عن الاسئلة :

- 1- العامل الطبيعي الذي أسهم في تركيز السكان في المنطقة 1 هو
- 2- المنطقة التي تتميز بانخفاض الكثافة السكانية هي (1) ، (2) ، (3) اختاري الإجابة؟

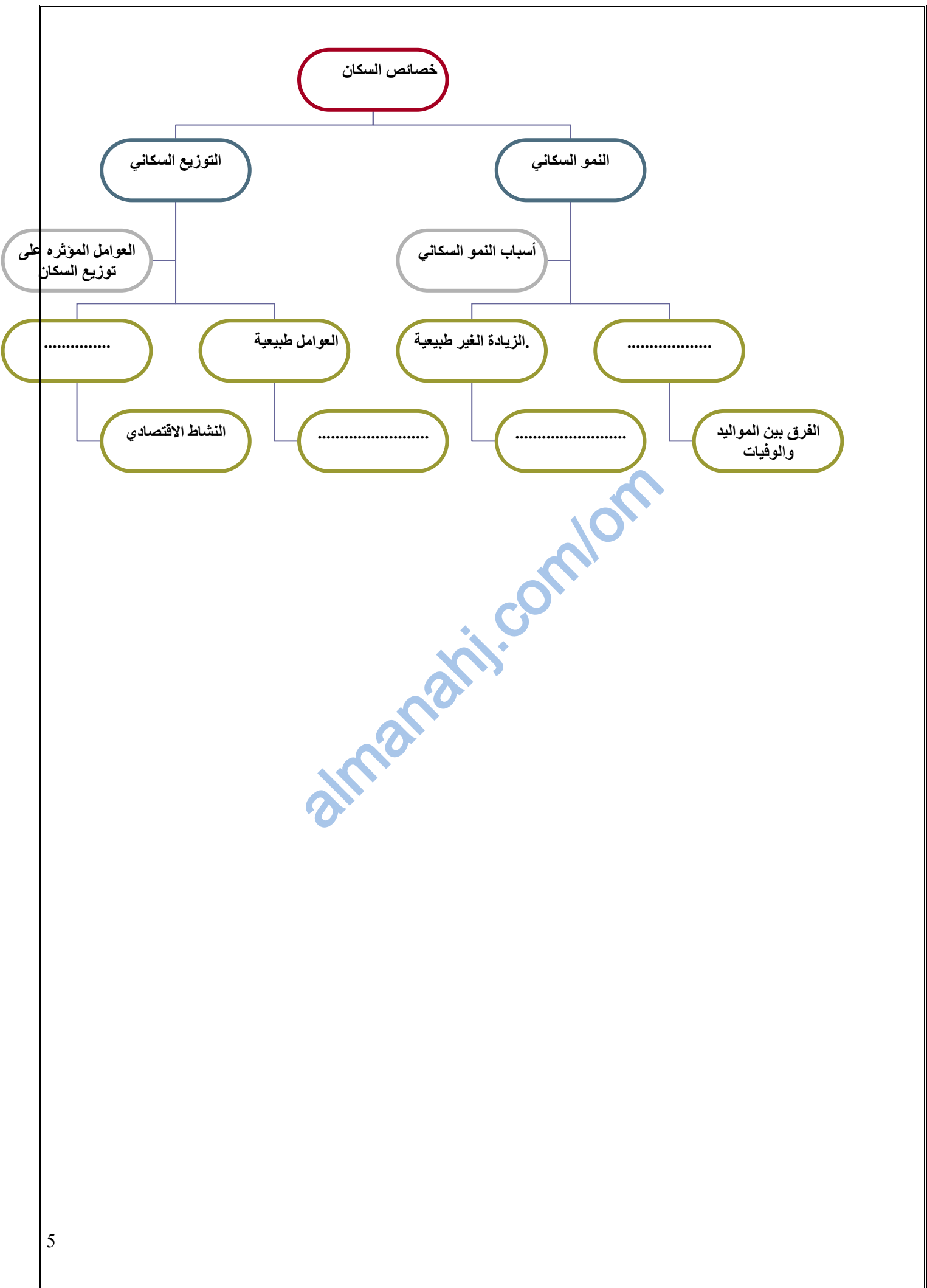


ثالثا : أمامك خريطة سلطنة عمان تأملها جيدا ثم اجبي عن الأسئلة التالية :

- 1- ضللي المحافظة التي تظهر فيها مشكلة الضغط على الخدمات
- 2- الرقم الذي يشير الى محافظة ساحليه يتركز فيها السكان
- 3- العامل الطبيعي الذي أثر في توزيع السكان في المحافظة رقم 11



رابعا : أكمل المخطط التالي بالاستعانة بالمفردات (العوامل البشرية، الزيادة الطبيعية، المناخ، أشكال السطح)



الصف / الخامس
المادة / الدراسات الاجتماعية
الصف :

حصاد الدرس (مصادر الطاقة في الوطن العربي)
الاسم :
العام الدراسي 2018/2017
الاسم :

سلطنة عمان
وزارة التربية والتعليم
المديرية العامة للتربية والتعليم الباطنة شمال
مدرسه بدر الكبرى للتعليم الاساسي

السؤال الأول: اختاري الإجابة الصحيحة من بين البدائل المعطاه :

١- الشكل الذي يشير إلى مورد الطاقة الغير متجددة هو :



د-



ج-



ب-



أ-

2- جميع ماذكر من مصادر الطاقة المتجددة ماعدا :

أ- الرياح ب-المياه ج-النفط د-الشمس

3- الطاقة التي توجد بكميات محدوده ولايمكن تجديدها :

أ- الطاقة المتجددة ب-الطاقة ج-الطاقة الغيرمتجددة د- القوة

4-الأولى في انتاج الغاز الطبيعي عربيا هي :

أ-قطر ب-سلطنة عمان ج-ليبيا د-السعودية

5-يقع مشروع خزان حقل في سلطنه عمان في محافظة :

أ-الباطنة ب-مسقط ج-ظفار د-الظاهرة

6-الدولة العربية التي تحتل المركز الثاني في انتاج النفط :

أ- السعودية ب- ليبيا ج- العراق د- سلطنة عمان

7-يعتبر ميناء وهران من الموانئ النفطية ويقع في :

أ- المغرب ب-ليبيا ج-العراق د-الجزائر

8-نفذت دول الوطن العربي مشاريع الاستفادة من الطاقة الغير متجدده منها مشروع :

أ- مرآه ب-خزان ج-مصدر د- نور

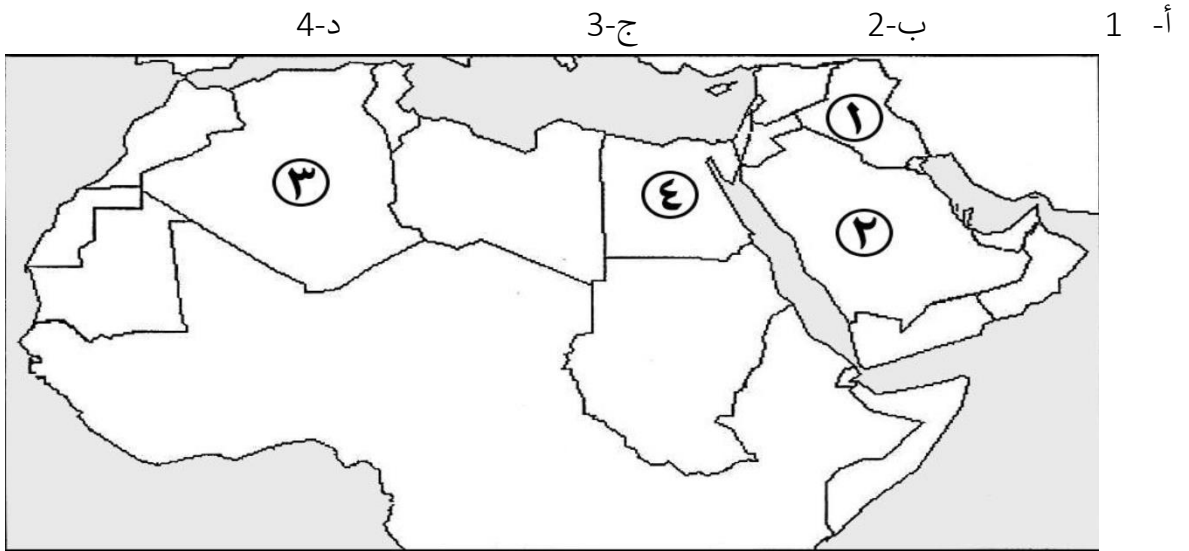
9-يقع مشروع مرآه في سلطنة عمان في محافظة :

أ- الباطنة ب-الظاهرة ج-الباطنه د-ظفار

10-احدى الصور توضح مشروع نور للطاقة الشمسية :



11- من موانئ تصدير النفط ميناء ينبع ويقع في الدولة المشار اليه بالرقم :



12- من حقول النفط في العراق حقل :

أ- كركوك ب- زلطن ج- الغوار د- مرمول

13- رقم المحافظة التي يوجد بها أكبر مشروع لانتاج الغاز الطبيعي في سلطنة عمان :

أ- 9 ب- 10
ج- 11 د- 12

14 - الشكل يوضح توليد الطاقة الكهربائية باستخدام طاقه :

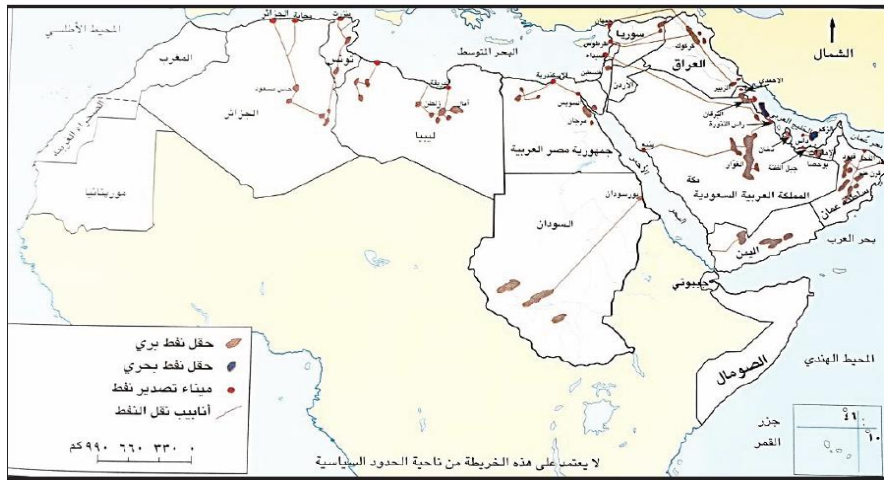
أ- الرياح ب- الأمواج
ج- المساقط المائيه د- الشمسية

15 - الشركة التي تعاونت مع وزارة التربية والتعليم للاستفادة من الطاقة الشمسية :

أ- المها ب- شل ج- بي بي د- اوربك



- حقل نفطي بري يوجد في العراق. مستعينا بالخريطة التي امامك:



- أ- كركوك
- ب- الغوار
- ج- آمل
- د- مرجان

السؤال الثاني:

اجيبي عن الاسئلة التالية :

1- عرفي المصطلحات التالية :

- أ - الطاقة :
- ب- الطاقة الغير متجدده
- ج- مشروع نور.....
- 2- عللي تسعي الدول لتطوير مشاريع الطاقة المتجدده ؟
.....
- 3-فسري أنشاء مشاريع الطاقة الشمسية الوسطى ؟
.....

1- صنفى مصادر الطاقة التالية الى المتجدده وغير المتجدده

(النفط - المياه - الغاز الطبيعي - الرياح - الفحم الحجري - الطاقة الشمسية)

مصادر الطاقة الغير متجدده	مصادر الطاقة المتجدده

2- قارني في جدول بين الطاقة المتجددة والغير متجدده من حيث المفهوم مع ذكر مثالين :

الطاقة الغير متجدده	الطاقة المتجددة	
		المفهوم
		مثالين



- ١- اجبني عن الأسئلة التالية
أ/ الصورة التي أمامك يشير الى مشروع
- ٢- حقل خزان () ومشروع مرآه () اختاري الاجابة ؟
٢- يقع المشروع في محافظة
- ٣- الهدف من انشاءه

السؤال الثالث :1- امامك خريطة الوطن العربي تاملها واجبني عن الأسئلة التالية :



- أ- ضعي دائرة على الميناء الذي يقع شرق البحر المتوسط ؟
- ب- أكتبي على الخريطة الدولة الأكثر انتاجا للنفط ؟
- ت- استخرجي من الخريطة الدولة الاولى في انتاج الغاز الطبيعي ؟

3- أكمل الجدول التالي بالاستعانة بالخريطة :

الدولة	حقل نفط	ميناء
العراق		
عمان		
ليبيا		

3- صنف الحقول البرية والموانئ البحرية التالية في الجدول :

الحقل / ميناء	الدولة	ميناء البحري	حقل بري
كركوك	العراق		
الاسكندرية	مصر		
الفحل	سلطنة عمان		
الغوار	السعودية		

السؤال الأول : اختاري الاجابة الصحيحة من بين البدائل المعطاه :

١- تصل نسبة الوطن العربي في انتاج الحبوب :

- أ- 10% ب- 20% ج- 30% د- ٣٢%

٣- النشاط الاقتصادي الذي يعد مصدر رئيسي للغذاء والمواد الخام :

- أ- الزراعة ب- الصناعة ج- التجاره د- السياحه

٤- أكثر الدول العربية انتاجا لمحصول القمح:

- أ- قطر ب- سلطنة عمان ج- ليبيا د- تونس

٥- تم تنفيذ مشروع المليون نخلة عام :

- أ- ٢٠٠٩ ب- ٢٠١٠ ج- ٢٠١١ د- ٢٠١٢

٦- جميع مايلي من مواد الخام النباتية ما عدا :

- أ- الخشب ب- المطاط ج- الحبوب د- الصوف

٧- أعلن عام ١٩٨٨م عاما :

- أ- الزراعة ب- الصناعة ج- الشباب د- التجاره

٨- أحد الصناعات التاليه صناعه استخراجيه :

- أ- البتروكيمياويات ب- تغليف التمور ج- تكرير السكر د- الزجاج

٩- ظهرت في الوقت الحاضر الصناعات التحويلية منها :

- أ- استخراج اللؤلؤ ب- صيد الاسماك ج- استخراج النفط د- تعلي الخضار

١٠- من الصناعات الحديثه في الوطن العربي:

- أ- البتروكيميايات ب- تغليف التمور ج- تكرير السكر د- صناعه الزجاج

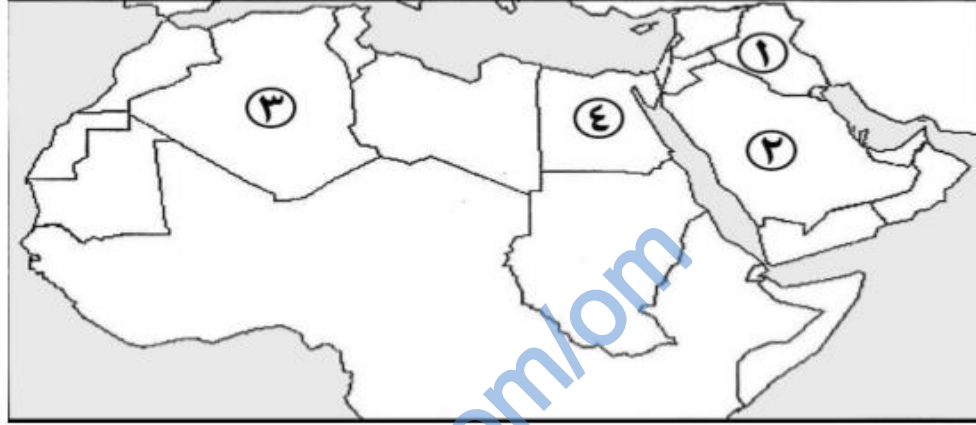


١١- نوع الصناعة التي يشير اليها الشكل المقابل :

أ-بتروكيميايات ب-استخراجيه ج-تقليديه ج-بتروليه

١٢- عرفت الزراعة منذ القدم عند الأنهار وتركزت في المناطق :

أ) ٢-١ ب) ٣-١ ج) ٤-١ د) ٤-٢



١٣- رقم المحافظة التي توجد بها منطقة صحار الصناعية في سلطنة عمان :

أ- ٥ ب- ٦ ج- ٨ د- ١٠

١٤- الشكل الذي يوضح احد مقومات الجذب السياحي في سلطنة عمان :

أ- المحميات الطبيعية ب- الخدمات السياحية
ب- مواقع اثرية د) التنوع المناخي



السؤال الثاني :

أولا : اكتبى المصطلح المناسب في المكان المناسب :

- (١) تغيير شكل وطبيعية المواد الخام الى شكل آخر لتلبية حاجات الانسان
- (٢) حركة الافراد والجماعات من أماكن اقامتهم الى أماكن أخرى بغرض الترفيه

ثانيا :على مايلي :

- ١- تنوع المحاصيل في الوطن العربي؟
- ٢- أقامه المعارض والمهرجانات في بعض الدول العربية؟
- ٣- فسري ضعف الاقبال على العمل في النشاط الزراعي؟

ثالثا :اذكري اثنين لكل من :

- ١- المقومات السياحيه في سلطنة عمان؟
- ٢- عوامل الجذب السياحي في الوطن العربي؟
- ٣-دليلي على اهتمام سلطنة عمان بالزراعة؟
- ٤-وضحي أهمية الزراعة في الوطن العربي؟

السؤال الثالث :

أولا :أكملى الجدول التالى :

السبب	النتيجه
توجيه السلطان قابوس بزراعه مليون نخله	تحقيق الاكتفاء الذاتى
اهتمام اماره دبي بالمعارض والمهرجات وتوفير الخدمات السياحيه
.....	ظهرت صناعه البتروكيمياات والاسمده

ثانيا :صنفي الصناعات التالية الى تحويلية واستخراجية :

(الأسمده - صيد الأسماك -صناعه البلاستيك -استخراج اللؤلؤ -قطع الاخشاب
-الملابس -المحاجر)

صناعه تحويلية	صناعه استخراجية

ثالثا : أكمل الجدول التالي بالماده الخام التي تدخل في الصناعات التاليه :

البلاستيك	المنسوجات	الالبان

السؤال الرابع : امامك صوره تأملها واجبي عن الأسئلة التاليه :



١- عامل الجذب السياحي في الصورة ؟

.....

٢- ما اسم المحافظة التي ينتمي اليها المعلم السياحي ؟

.....

٣- ما واجبك تجاه المعلم السياحي ؟

.....

ثانيا : ادرسي الصورة التي توضح أحد المقومات السياحية في سلطنة عمان ثم اجب عن الاسئلة التاليه :



١- ما المقومات السياحية التي توضحها الصورة ؟

.....

٢- اقترحي مشاريع لتنمية الموقع السياحي ؟

.....

٣- وضح المقصود بالسياحة ؟

.....

حصاد الدرس الدولتان الأموية والعباسية

سلطنة عمان

الصف / الخامس

وزارة التربية والتعليم الاسم :

المادة / الدراسات الاجتماعية

العام الدراسي 2018/2017

المديرية العامة للتربية والتعليم الباطنة شمال

الصف:

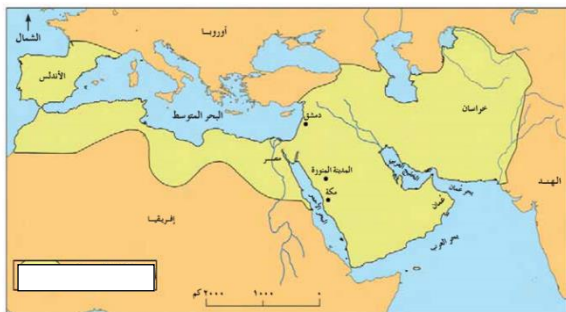
مدرسه بدر الكبرى للتعليم الاساسي الاسم :

السؤال الأول: اختاري الاجابة الصحيحة من بين البدائل المعطاة:

- 1- مؤسس الدولة الأموية الخليفة الاموي:
أ- معاوية بن ابي سفيان ب- أميه بن عبد شمس ج- يزيد بن معاوية د- عبد الملك بن مروان
- 2- دامت سنوات الخلافة الأموية:
أ- 10 ب- 30 ج- 91 د- 524
- 3- موسى بن نصير أحد قادة الدولة الأموية توسع الي:
أ- سمرقند ب- خراسان ج- دمشق د- الأندلس
- 4- توسعت الدولة الإسلامية في عصر الخلافة الأموية وصلت شرقا الي:
أ- خراسان ب- شبه الجزيرة العربية ج- بلاد المغرب د- الأندلس
- 5- تقع الأندلس اليوم في قارة:
أ- آسيا ب- أفريقيا ج- أوروبا د- أمريكا
- 6- قامت الدولة الأموية في العام الهجري:
أ- 41 ب- 132 ج- 123 د- 656
- 7- أطول فترة زمنية للخلافة في الدولة الاسلامية في عهد:
أ- النبوة ب- الراشدة ج- الأموية د- العباسية
- 8- عاصمة الدولة العباسية يشار اليها في الخريطة بالرقم:
أ- 1 ب- 2 ج- 3 د- 4
- 9- الخليفة الذي نقش على النقود بالعربية هو:
أ- معاوية بن ابي سفيان ب- أمية ابن عبد شمس ج- عبد الملك بن مروان د- هارون الرشيد



- 10- اهتم الامويون بالعمارة وبنو المساجد والقصور مثل قصر عمره في
أ- فلسطين ب- سوريا ج- الأردن د- تونس



- 11- توضح الخريطة امتداد أحد الدول الإسلامية في عصر:
أ- النبوة ب- الراشدة ج- الأموية د- العباسية

- 12- تعددت إنجازات الدولة الأموية منها:
أ- مسجد قبة الصخرة ومدينة بغداد ب- بناء مدينة سامراء والقيروان ج- بيت الحكمة قصر عمره د- قصره عمره ومدينة القيروان

13- امتدت الدولة العباسية قرابة:
أ- 200 سنة ب- 300 سنة ج- 400 سنة د- 500 سنة

14- الخليفة الذي بنى بيت الحكمة:
أ- عبد الملك بن مروان ب- السفاح ج- معاوية بن ابي سفيان د- هارون الرشيد

15- الباب الذي يطل على نهر دجلة:
أ- باب خرسان ب- باب الشام ج- باب الكوفة د- باب البصرة



16- يشار الى مدينة القيروان التي بنتها الدولة الأموية بالرقم:

أ- 1 ب- 2 ج- 3 د- 4

17- نسب العباسيون الى:
أ- امية بن عبد شمس ب- أبو جعفر المنصور
ج- العباس بن عبد المطلب د- هارون الرشيد



18- الصورة تشير منجزات الدولة الاموية:

أ- مسجد قبة الصخرة ب- المسجد الأقصى
ج- المسجد الاميري د- المسجد الحرام

19- تمكن العباسيين من القضاء على الحكم الاموي في السنة الهجرية:

أ- 130 ب- 131 ج- 132 د- 133

20- حسب مخطط مدينة بغداد في الشكل المقابل يقع نهر دجلة في الجهة:

أ- الجنوبية ج- الشمالية الغربية
ب- الغربية د- الشمالية الشرقية

21- يؤدي باب خرسان في مدينة بغداد الموضحة بالشكل الى نهر:

أ- الفرات ب- السند ج- دجلة د- سيجون

22- بلغ عدد الذين حكموا من الأسرة الأموية خليفة:

أ- 14 ب- 41 ج- 140 د- 42

23- بنت مدينة سامراء في:

أ- ليبيا ب- العراق ج- المغرب د- الجزائر



السؤال الثاني:

أولاً: عللي ما يلي:

1- واجهت الدولة الأموية في دمشق صعوبات في اداره الدولة؟

.....

2- تسميه الدولة العباسية بهذا الاسم؟

.....

3- تعريب النظام الإداري في الدولة الأموية؟

.....

ثانياً: اذكرني اثنين لكل من:

1- منجزات الدولة الأموية في العمارة؟

.....

2- المدن التي بنيت في عهد الدولة العباسية؟

.....

3- خلفاء الدولة الأموية؟

.....

ثالثاً: دللي بلغت النهضة الفكرية ذروتها في العصر العباسي؟

.....

السؤال الثالث:

أولاً: رتب الاحداث التالية ترتيباً تصاعدياً بالأرقام:

() قيام الدولة العباسية

() خلفه عبد الملك بن مروان

() سقوط الدولة العباسية

() خلفه هارون الرشيد

() سقوط الدولة الأموية

ثانياً: اختاري من بين القوسين المعلم العمراني واكتبه في الجدول امام المدينة التي تقع فيها: مسجد قبة الصخرة، قصر عمره، مكتبه بيت الحكمة

المعلم العمراني	المدينة
	القدس
	الأردن
	بغداد

ثالثاً: احسب فتره امتداد الخلافة العباسية علماً بأنها قامت عام 132 وانتهت 656 هـ

السؤال الرابع:

أولاً: قارني بين الدولة العباسية والأموية من حيث المؤسس والفترة الزمنية والعاصمة أحد خلفاءها.

الدولة الأموية	الدولة العباسية
المؤسس	
الفترة الزمنية	
العاصمة	
أحد خلفاءها	

ثانياً: قارني بين شخصيه عبد الملك بن مروان وهارون الرشيد من حيث الدولة التي ينتمي اليها، اهم إنجازاته.

عبد الملك بن مروان	هارون الرشيد
الدولة التي ينتمي اليها	
اهم الإنجازات	

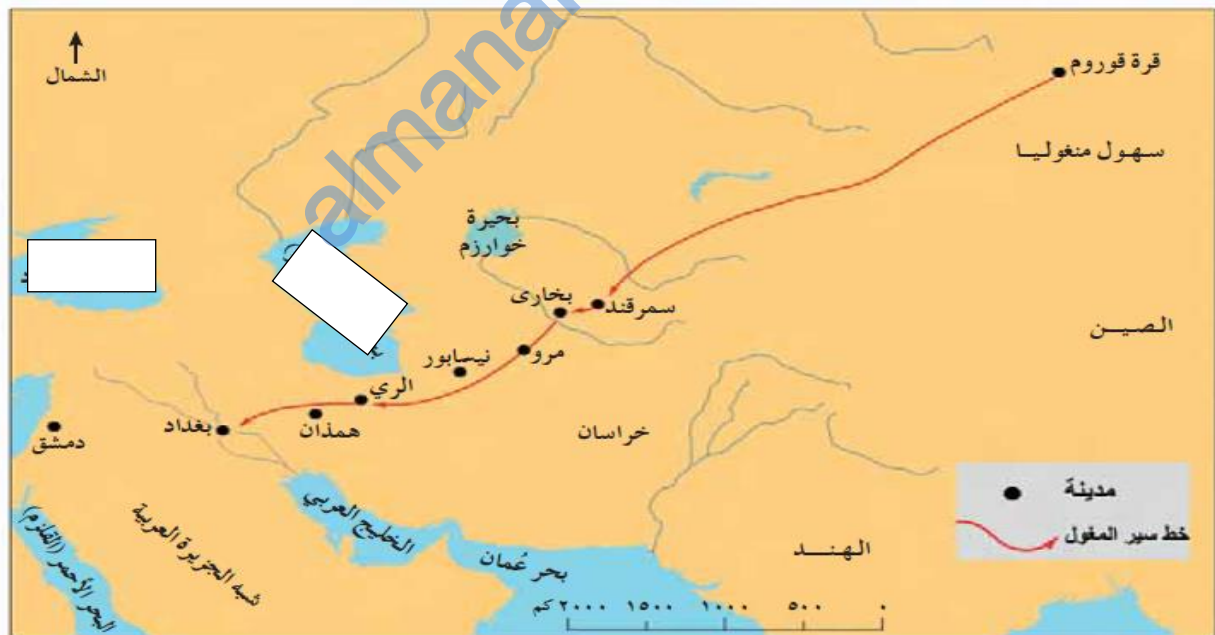
ثالثاً: صنفى الإنجازات التالية الى الدولة الأموية والدولة العباسية:

بناء مدينة سامراء، بناء قصر عمره، بناء مدينة بغداد، تعريب السجلات، مكتبه بيت الحكمة، مدينة القيروان، قاضي القضاة

الدولة الأموية	الدولة العباسية

السؤال الخامس:

أولاً: أمامك خريطة تأملها جيداً ثم اجيب عن الأسئلة:



- 1- اذكرى ثلاث مدن مر بها المغول اثنا طريقه لبغداد
- 2- أكتب على الخريطة بحر قزوين في موقعه الصحيح.
- 3- ضعي دائرة على موقع المدينة التي دخلها المسلمون بالقوة

ثانيا: امامك خريطة تأملها جيدا ثم أجبني عن الاسئلة :



أ1- كتب ما تشير اليه الأرقام

- 1- البحر.....
- 2- المدينة.....
- 3- ضعي دائرة على الدولة التي وصلت اليها الدولة الأموية في أوربا
- 4- وقي في المكان الصحيح عاصمه الدولة العباسية؟

ثالثا: انظر الى المخطط المدينة العربية واجيب عن الأسئلة:



- 1- ما اسم المدينة العربية التي يمثلها المخطط؟.....
- 2- الأجزاء التي تمثل حماية للمدينة من الأعداء؟.....
- 3- في أي جهة من الجهات الأربع تقع دواوين الدولة؟.....
- 4- ما اسم النهر الذي يمر بالقرب من باب خراسان؟.....

حصاد الدرس (عمان في العصر الأموي)

سلطنة عمان

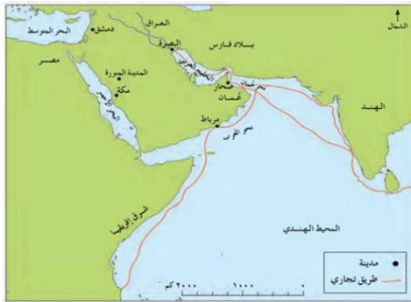
الصف / الخامس
المادة / الدراسات الاجتماعية
الصف :

الاسم :
العام الدراسي 2018/2017
الاسم :

وزارة التربية والتعليم
المديرية العامة للتربية والتعليم الباطنة شمال
مدرسه بدر الكبرى للتعليم الاساسي

السؤال الأول: اختاري الإجابة الصحيحة من بين البدائل المعطاه :

- 1- تطلع الخليفة الاموي عبد الملك بن مروان السيطرة على عمان في العام الهجري:
أ- 81 ب- 82 ج- 83 د- 84
- 2- عينه الأمويين واليا على عمان في العصر الاموي :
أ- المهلب بن ابي صفرة ب- زياد بن المهلب بن ابي صفرة ج- جابر بن زيد د- كعب بن معدان
- 3- عاش الامام جابر بن زيد في القرنالهجري :
أ- الأول ب- الثاني ج- الثالث د-الرابع
- 4- نبغ الامام جابر بن زيد في علم :
أ- الادب ب-الفقه ج-اللغه د-الخطابه
- 5- المدينة التي قصدها العمانيون لطلب العلم :
أ- البصرة ب-دمشق ج- الكوفة د-خراسان
- 6- نبغ العالم العماني كعب بن معدان الازدي في علم :
أ- التجويد ب-الفقه ج-الخطابة والشعر د-الحساب
- 7- الخليفة الأموي الذي عاصره كعب بن معدان الازدي :
أ- عمر بن الخطاب ب- أبو بكر الصديق ج-عمر بن عبدالعزيز د- عثمان بن عفان
- 8- أحد المنجزات العمانية البحرية نشر الإسلام على سواحل فارس والهندو
أ- شرقي افريقيا ب- بلاد المغرب ج-الاندلس د-شبه الجزيرة العربية



السؤال الثاني:

أولا :علي مايلي :

- 1- تطلع الامويين للسيطرة على عمان ؟.....
- 2- هاجر عدد كبير من العمانيين الى البصرة ؟.....
- 3- فسري ازدهار النشاط البحري في العصر الاموي ؟.....

ثانيا :اذكري اثنين لكل من :

- 1- المناطق التي وصل اليها العمانيين لنشر الإسلام؟.....،.....
- 2- جوانب المنجزات العمانية الحضارية في العصر الأموي ؟.....،.....

ثالثا : نشر العمانيون الإسلام في فارس والهند وشرقي افريقيا وفي الوقت نفسه ازدهر النشاط التجاري مع الدول المطلة على المحيط الهندي .

- 1- هل تؤيدون العبارة السابقة ؟ نعم / لا اختاري
2- براك ما لعوامل التي أسهمت في ذلك ؟

السؤال الثالث :

أولا :صنفي الاعمال التأليه الى المنجزات الحضارية الفكرية والبحرية :
(نشر الإسلام – تطور علم الفقه – الاسطول – ظهور الشعراء)

المنجزات الفكرية	المنجزات البحرية

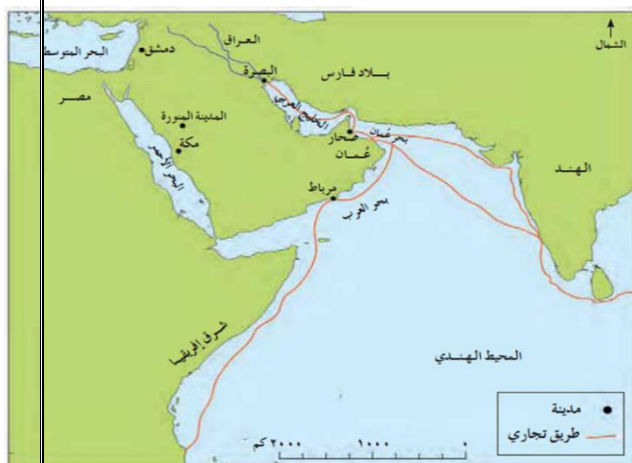
ثالثا : أكمل المسطره التاليه بما يناسبها من المفردات :

شاعر وخطيبا ،والي عمان في العصر الاموي ،جابر بن زيد ،عبد الملك بن مروان

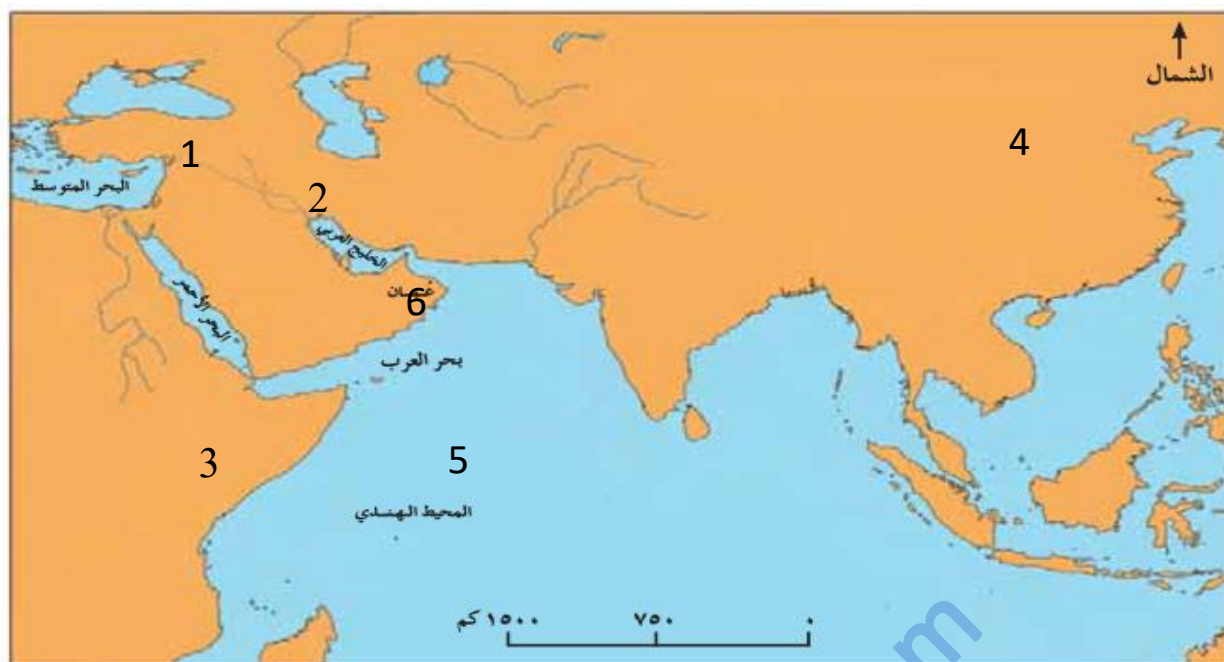
تطلع السيطره على عمان	اول من ألف في الفقه
↓	↓	↓	↓
.....	زيد بن المهلب بن ابي صفره	كعب بن معدان الازدي

السؤال الرابع : أمامك خريطة تأملها واجبي عن الأسئلة :

- 1- أكتبي بالاستعانة بمفتاح الخريطة ثلاث مدن تمر بها السفن من شرقي أفريقيا الى دمشق
.....و.....و.....
2- وقي على الخريطة عاصمه الدولة الأموية؟
3- ظللي على الخريطة البلد التي ينتمي اليها كعب بن معدان الازدي ؟
4- خرجت سفينه متجه من عمان الى شرقي افريقيا أي الاتجاهات تسلك

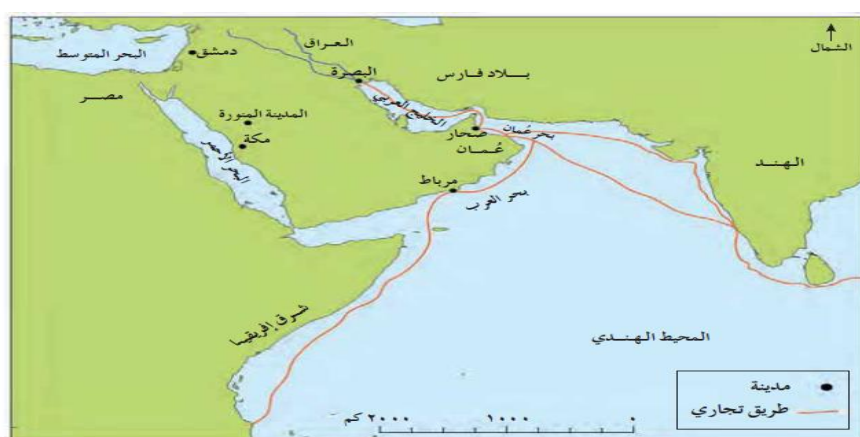


ثانيا: أمامك خريطة ادرسيها جيدا ثم اکتبي ما تشير اليه الأرقام :



- 1- المدينة التي قصدتها العمانيون لطلب العلم ()
- 2- عاصمه الدولة الأموية ()
- 3- وصلت السفن شرقا الى الدولة رقم ()
- 4- المسطح المائي الذي تمر به الطرق التجارية ()
- 5- مدينه عمانية ساحليه تطل على بحر العرب ()
- 6- الطريق الذي يتجه الى شرق افريقيا ()

ثالثا: أمامك خريطة تأملها جيدا ثم اجيب عن الأسئلة :

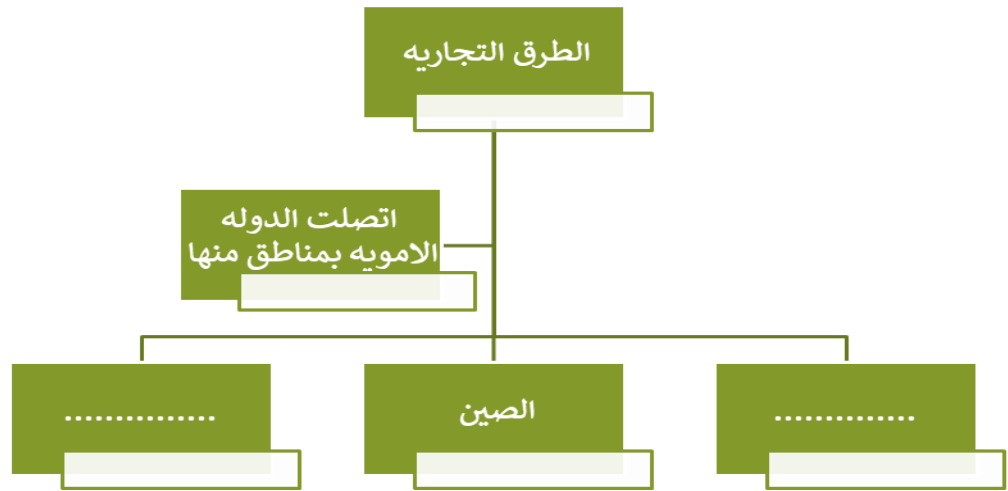


1- اذكر اهم المدن في سلطنة عمان ؟.....

2- ضعي دائره على المحيط الذي تسير فيه السفن المتجه الى دمشق ؟

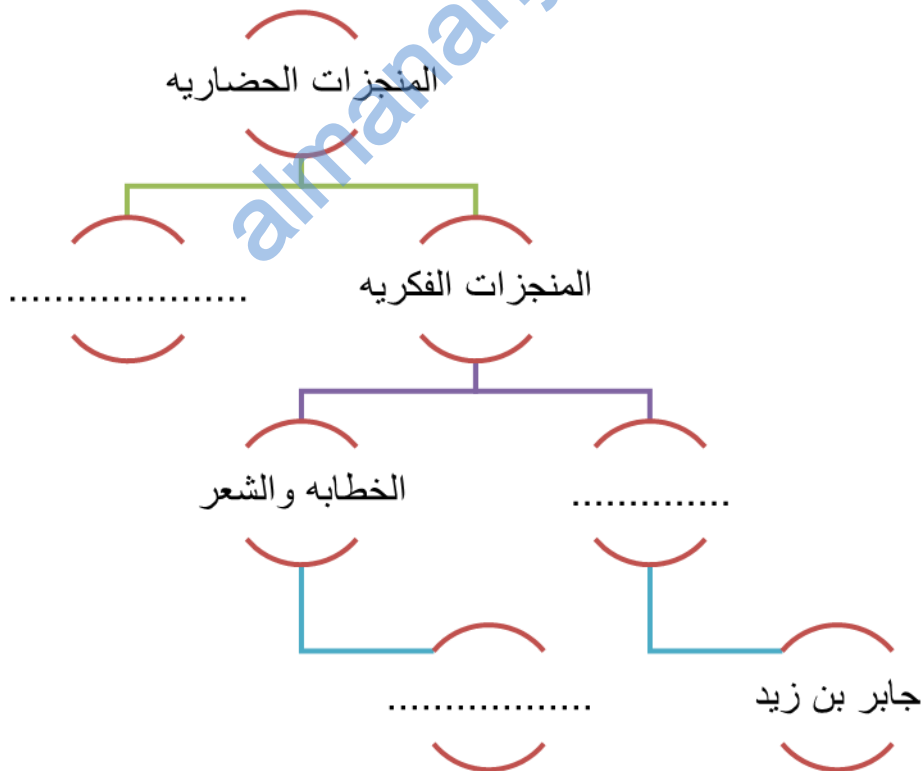
3- ارسمي الطريق البري من الخليج العربي الى دمشق ؟

أكملي المخطط بالاستعانة الخريطة :



رابعا : أكملي المخطط بالاستعانة بالمفردات

علوم الشريعة ، المنجزات البحرية ، كعب بن معدن الازدي



سلطنة عمان

وزارة التربية والتعليم

المديرية العامة للتربية والتعليم الباطنة شمال
مدرسه بدر الكبرى للتعليم الاساسي

حصاد الدرس (عمان في العصر العباسي)

الاسم :

العام الدراسي 2018/2017

الاسم :

الصف / الخامس

المادة / الدراسات الاجتماعية

الصف :

السؤال الأول: اختاري الإجابة الصحيحة من بين البدائل المعطاه :

- 9- بويح الامام الجلندي بن مسعود اماما على عمان في العام الهجري:
- 10- 132 ب-133 ج-134 د-135
- 11- قائد الحملة العسكرية التي خرجت من البحرين الى عمان في عام 280 هـ :
- أ- موسى بن نصير ب- خازم بن خزيمة ج- محمد بن نور د- عيسى بن جعفر
- 12- المدينة العمانية التي سميت ببيضة الإسلام هي :
- ب- جلفار ب- صحار ج- نزوى د- مرباط
- 13- الشخصية العمانية الذي ألف كتاب معجم الماء في الطب هو :
- ب- أبو العباس المبرد ب- ابن الذهبي ج- الازكوي د- جابر بن زيد
- 14- أهم المنجزات الفكرية العمانية في العصر العباسي كتاب الكامل للمبرد في مجال : :
- ت- الطب ب- الفقه ج- الفلك د- اللغة
- 15- تقع اثار مدينة البليد في سلطنه عمان في محافظه :
- ب- مسندم ب- مسقط ج- الداخليه د- ظفار
- 16- أهم المنجزات العمرانية في العصر العباسي في صحار :
- ب- مسجد جناح ب- اثار البليد ج- جامع القلعه د- جامع السلطان قابوس
- 17- جميع مايلي منتجات عمانيه صنايعيه في العصر العباسي عدا :
- أ- النسيج ب- السفن ج- التمور د- الفضيات
- 10- ارتبطت عمان في العصر العباسي بعلاقات تجاريه مع :
- أ- الهند والصين وشرقي افريقيا ب- الهند والمغرب وشرقي افريقيا
- ج- الصين والاندلس وشرقي افريقيا د- شرقي افريقيا والهند والاندلس
- 18- المدينه العمانيه التي اشتهرت بصناعه السفن في العصر العباسي هي مدينه :
- أ- صور ب- نزوى ج- صحار د- مرباط
- 19- جميع مايلي مواد مستخدمه في البناء قديما عدا :
- أ- الطين ب- جذوع النخيل ج- السعف د- الاسمنت
- 20- العبارة (لا تنتج في شيء من بلاد العرب مثلها) تصف مدينه :
- أ- صور ب- صلاله ج- صحار د- نزوى

21- الجزيرة التي ارسل الامام الصلت بن مالك الاسطول العماني لتحريرها هي :

أ- سقطرى ب- مصيره ج- الحلانيات د- مدغشقر

14 - (كانت نزوى تنتج نوعا من الثياب منمقه بالحريز جيده فائقة لاينتج في شي من بلاد العرب مثلها) صاحب العبارة السابقة هو :

أ- جابر بن زيد ب- المبرد ج- ابن الذهبي د- ياقوت الحموي

بالاستعانة بالخريطه اجيبي عن (15- 16)

15 - الحملة المشار اليها بالرقم (1) بقياده :

أ- خازم بن خزيمة ب- محمد بن نور

ج- عيسى بن جعفر د-زياد بن المهلب

16 - الحملة رقم 2 بقياده محمد بن نور وصلت الى مدينه

أ- حتى ب- جلفار

ج- صحار د- نزوى

17 - المسطح المائي الذي مرت به كافة الحملات

العسكريه الى عمان هو :

أ- الخليج العربي ب- بحر عمان ج- بحر العرب د-

المحيط الهندي

18 - تقع مدينه حتى بالنسبه لعمان في جهة :

أ- الشمال ب- الجنوب ج- الشرق د- الغرب

19 - الشخصية التي الفت الكتاب المقابل هو

أ-أبو العباس المبرد ب-ابن الذهبي

ج- محمد الازكوي د- جابر بن زيد

20 - الصورة التاليه تشير الى معلم عمراي

يطلق عليه :

أ- اثار البليد

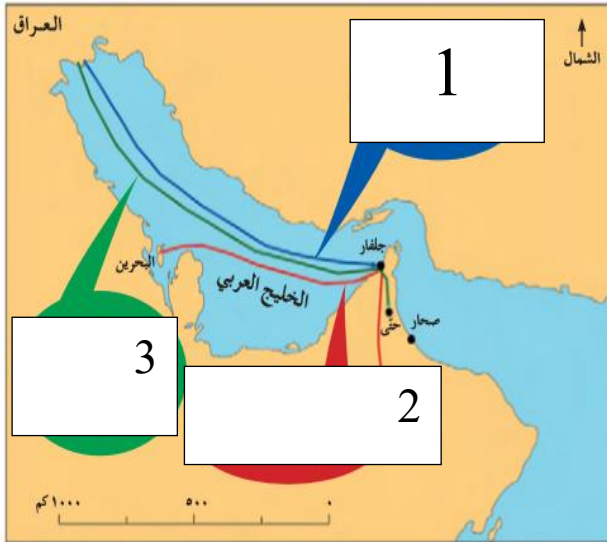
مقبره بات

ج- جامع القلعه

21 يشير الرمز في الخريطه الى ميناء عماني في العصر العباسي وهو ميناء :

أ- ريسوت ب- الفحل

ب- ج- قابوس د- دما



ب-

د- مسجد جناح



22- التاجر العماني الذي عاش في القرن 5 هـ ولقب بجنرال الاخلاق الطيبه :

أ- عبدالله الصحاري ب- زياد بن المهلب ج- كعب بن معدان د- جابر بن زيد

23- الامام العماني الذي حرر جزيره سقطرى هو :

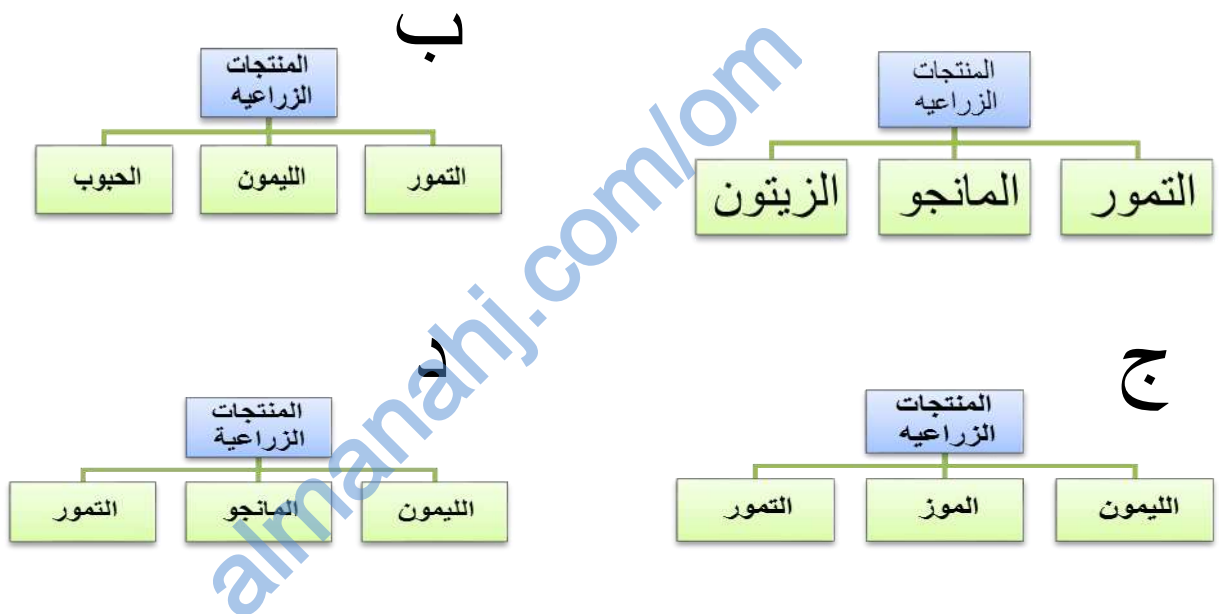
أ- الصلت بن مالك ب- المهلب بن اب صفره ج- الجلندي بن مسعود د- عبد بن الجلندي

24 نشر التاجر العماني عبدالله الصحاري الإسلام في البلاد المشار اليها بالرقم :



أ- 1 ب- 2
ج- 3 د- 4

25 - المخطط الذي يشير الى المحاصيل الزراعية التي ازدهرت في العصر العباسي :



بالاستعانة بالخريطة (26-27)



26 - الرقم الذي يشير الى ميناء ريسوت التجاري هو

- أ- 1 ب- 2 ج- 3 د- 4

27 - الرقم الذي يشير الى المدينة التي وصلت اليها حملة محمد بن نور

- أ- 1 ب- 2 ج- 3 د- 4

28 - الترتيب الزمني الصحيح للأحداث من الاقدام الى الأحدث هو :

أ	حملة محمد بن نور	حملة خازم بن خزيمة	حملة عيسى بن ابي جعفر	امامه الجلندي بن مسعود
---	------------------	--------------------	-----------------------	------------------------

ب	حملة خازم بن خزيمة	حملة محمد بن نور	امامه الجلندي بن مسعود	حملة عيسى بن ابي جعفر
---	--------------------	------------------	------------------------	-----------------------

ج	امامه الجلندي بن مسعود	حملة خازم بن خزيمة	حملة عيسى بن ابي جعفر	حملة محمد بن نور
---	------------------------	--------------------	-----------------------	------------------

د	حملة عيسى بن ابي جعفر	حملة خازم بن خزيمة	حملة محمد بن نور	امامه الجلندي بن مسعود
---	-----------------------	--------------------	------------------	------------------------

29- الخريطة التي تعبر عن مسار الحملة التي استطاع العمانيون هزيمتها عام 189 هـ:



ب



أ



ج



السؤال الثاني :

أولا /عرفي المصطلحات التالية :بيضة الإسلام:

القراصنه

الاسطول

ثانيا / اذكرى اثنين من :

- 1- الحملات العباسية للسيطرة على عمان و.....
 - 2- محاصيل عمانية ازدهرت في العصر العباسي و.....
 - 3- منجزات فكرية عمانية و.....
- ثالثا / 1- علي تطوع الدولة العباسية للسيطرة على عمان ؟
- 2- فسري لقب عبدالله الصحاري بجنرال الاخلاق الطيبه؟
- 3- تنوعت الأنشطة الاقتصادية في عمان في العصر العباسي فقد ازدهرت الزراعة والتجارة والصناعة مما ساعد على الازدهار الاقتصادي تطور صناعة السفن في هذه الفتره .في ضوء هذه العبارة اجبي :

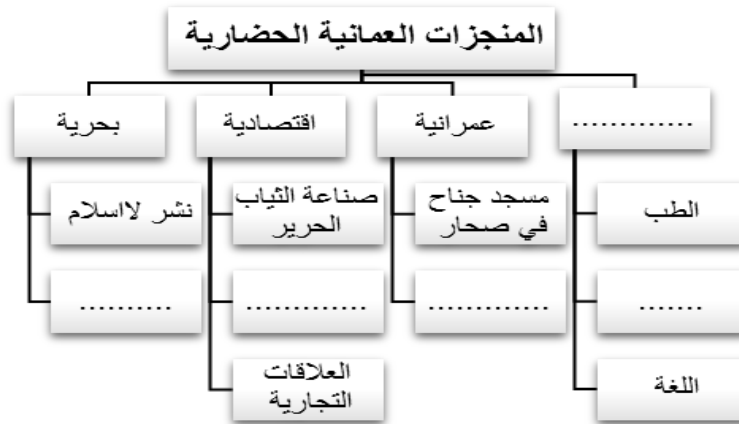
- 1- اذكرى اثنين من الأنشطة الاقتصادية في عمان و.....
- 2- المدينة العمانية التي اشتهرت بصناعة السفن ؟
- 3- من المراكز التجارية التي اشتهرت خلال تلك الفتره ؟

رابعا / رتبي الاحداث التالية من الاقدم الى الحدث :

- () حملة عيسى ابن جعفر
- () حملة محمد بن نور على نزوى
- () تولى الجلندى بن مسعود الإمامة
- () حملة خازم بن خزيمة

ثانيا :اكملى الخريطة الذهنية التالية :

(حماية خطوط الملاحة من القرصنة ، صناعة السفن ، فكرية ، أثار البليد ، الفقة)



ثالثا: صنفى المنجزات الحضارية التالية :

(ازدهار المراكز التجارية ، كتاب الكامل في اللغة ، جامع القلعة ، قيام الاسطول العماني في حماية خطوط الملاحة)

فكرية	عمرانية	اقتصادية	بحرية

رابعا : من خلال الشكل التالي اجيبي عن الأسئلة :



- 1- اسم المعلم العمراني في الصورة ؟
- 2- يطلق عليه حاليا اسم ؟
- 3- ما واجبنا اتجاه المعالم الاثرية في بلادنا ؟

السؤال الرابع :

أولا / من خلال الخريطة التي امامك اجيبي عن الاسئلة :

- 1- تتبعي خط سير حملة عيسى بن جعفر .
- 2- وقيعي على الخريطة المسطح المائي الذي مرت بها كافة الحملات العسكرية .
- 3- ضعي دائرة حول المدينة العمانية التي وصلت اليها حملة محمد بن نور .
- 4- تقع جلفار بالنسبة لعُمان في أي جهة ؟




ثانيا / تأملي خريطة سلطنة عمان واكتبي الرقم الدال على الاجابه



- 1- المدينة العمانية التي سميت ببيضة الاسلام. ()
- 2 - ميناء تجاري في جنوب عمان في ولاية صلالة. ()
- 3- المدينة التي وصلت اليها حملة عيسى ابن جعفر على عمان. ()
- 4- المدينة التي اشتهرت بصناعة السفن ()
- 5- المدينة التي يوجد بها ميناء دما التجاري. ()

ثالثا / من خلال الصورة التالية اجيبي :



- 1- ما الصناعة التي اشتهرت بها مدينة صحار ؟
- 2- من المناطق التي وصل اليها الاسطول العماني و و اكملني.
- 3- برأيك ما الدور الذي قام به الاسطول العماني ؟

.....

ثانيا : أمامك خريطة ادرسيها جيدا ثم اجيب عن الأسئلة

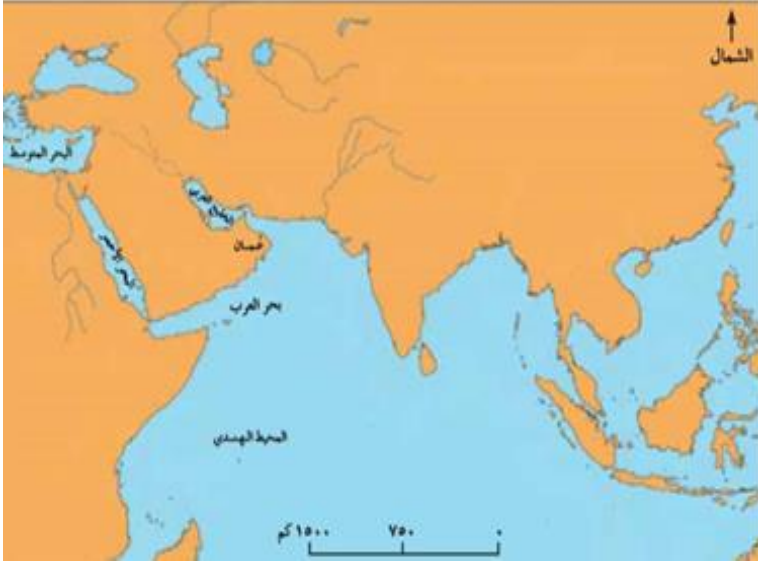
- *1- وقي على الخريطة موقع جلفار التي وصلت اليها الحملات العباسية .
- 2- ارسمي الطريق التجاري من عاصمه الدوله العباسيه الى شرقي افريقيا ؟
- 3- ضعي دائرة على الجزيرة التي حررها الصلت بن مالك ؟



امامك خريطة تأملها جيدا ثم اجيبي عن التالي:

- 1- ضعي دائرة على الجزيرة التي حررها الامام الصلت بن مالك ؟
- 2- ظللي الدولة التي تحد عمان من جهة الجنوب الغربي ؟
- 3- يطلق على بلاد فارس اليوم اسم اكملني ؟

4- وقعي المنطقة التي هاجر اليها العلماء العمانيين في العصر العباسي لطلب العلم ونشره ؟



امامك خريطة تأملها جيدا ثم اجيبي عن التالي:
ارسمي على الخريطة خطوط التجاره من عمان الى
الخارج مع كتابه اسماء المناطق التي وصلو اليها ؟

almanahj.com/om

السؤال الأول : أختَر الإجابة الصحيحة من بين البدائل المعطاة

1- يعرف التبادل القائم بين الدول لتحقيق أهداف مشتركة ب :

أ- التكامل ب- التعاون ج- التكافل د- الاخوه

2- يقع الوطن العربي على ملتقىقارات :

أ- 2 ب- 3 ج- 4 د- 5

3- قال تعالى : تدل الايه على عامل من عوامل التكامل وهو :

﴿ وَأَعْتَصِمُوا بِحَبْلِ اللَّهِ جَمِيعًا وَلَا تَفَرَّقُوا وَاذْكُرُوا نِعْمَتَ اللَّهِ عَلَيْكُمْ إِذْ كُنْتُمْ أَعْدَاءً فَأَلَّفَ بَيْنَ قُلُوبِكُمْ فَأَصْبَحْتُمْ بِنِعْمَتِهِ إِخْوَانًا ﴾
سورة آل عمران، الآية (١٠٣)

أ- الدين الإسلامي ب- العادات والتقاليد ج- اللغة العربية د- التاريخ المشترك

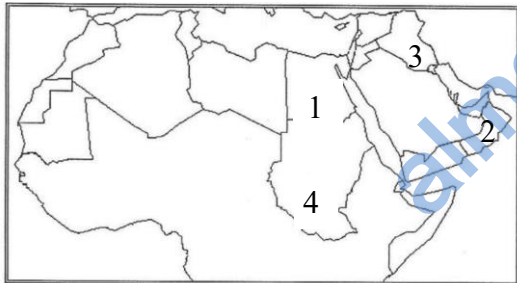
4- نظرا لأهمية اللغة العربية خصصت الأمم المتحدة يوم عالمي يصادف :

18 سبتمبر ب- 18 أكتوبر ج- 18 نوفمبر د- 18 ديسمبر

6- جميع المناسبات التالية دينية عدا :

أ- المولد النبوي ب- الاسراء والمعراج ج- العيد الوطني د- عيد الأضحى

7- الرقم الذي يشير الى حضارة مجان :



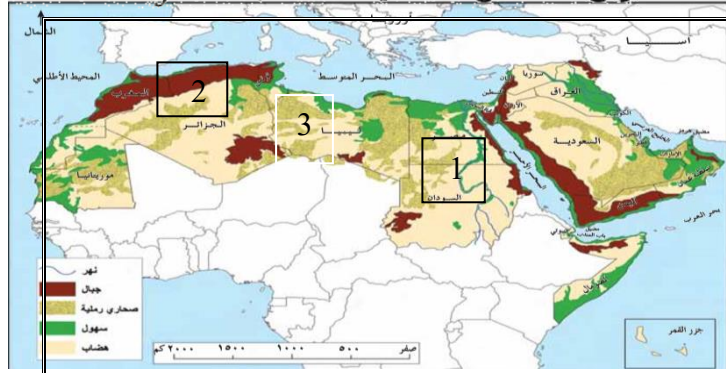
أ- 1 ب- 2 ج- 3 د- 4

8- قامت عدد من الحضارات في الوطن العربي منها حضارة الفراعنة في :

أ- اليمن ب- عمان ج- بلاد الشام د- مصر

9- الحضاره التي قامت في عمان قديما هي :

أ- مجان ب- ام النار ج- الفرعونه د- السومريه



- 10 - تشير الأرقام 1-2-3 على التوالي الى تضاريس الوطن العربي :
 أ) نهر النيل - جبال الاطلس - الصحراء الكبرى
 ب) نهر النيل - جبال الاطلس - سهل الباطنه
 ج- جبال الاطلس - الصحراء الكبرى - سهل الباطنه
 د) صحراء الربع الخالي - جبال الحجر - نهر النيل



- 11- الصورة تشير الى عامل من عوامل التكامل العربي وهو :

- أ- العادات والتقاليد
 ب- اللغة العربية
 ج- التاريخ المشترك
 د- الدين الإسلامي



- 12 - الصورة تشير الى فن عماني وهو :
 أ- البرعه
 ب- العازي
 ج- الرزحه
 د- اليوله

- 13 - فن الالقاء الشعري دون تنغيم او غناء شعري في المناسبات الاجتماعية هو :
 أ- العازي
 ب- الربوبه
 ج- الرزحه
 د- اليوله

- 14 - تم ادراج فن العازي ضمن قائمه التراث الغير مادي في منظمه الأمم المتحده عام :
 أ- 2009
 ب- 2010
 ج- 2011
 د- 2012

- 15 - يطلق على منظمه الأمم المتحده للتربيه والثقافه والعلوم
 أ- اليونسكو
 ب- اليونسيف
 ج- الفاو
 د- العمل الدولية

السؤال الثاني :

أولا : عرفي المصطلحات التاليه :

- 1- التكامل :
 2- فن العازي :
 ثانيا -

- 3- فسري تنوع المناخ في الوطن العربي ؟

- 4- عللي للعرب تاريخ مشترك ؟

- 5- دللي على اهتمام الأمم المتحده باللغه العربية ؟

- 4- برأيك ماهي العادات والتقاليد المشتركه في الوطن العربي ؟

ثالثا : اذكرى اثنين لكل من مايلي :

- 1- عوامل التكامل العربي
 2- المسطحات المائية التي يشرف عليها الوطن العربيو.....
 السؤال الثالث
 أولا : اكمل الجدول التالي :

السبب	النتيجة
تميز الوطن العربي بسهوله الاتصال
.....	تنوع المناخ والتضاريس

ثانيا : تأمل الصورالتالية ثم اجيب عن الاسئلة



- 5- أكتبى اسفل الصورة اسم عامل التكامل العربي الـ<ي تنتمي اليها
 2 - المنظمه المسؤله عن شعار الصورة 1؟.....

3-برايك مااهميه عامل التكامل في الصورة الثانيه

4-اذكرى عوامل أخرى للتكامل العربي ؟

ثالثا : تتشابه العادات والتقاليد في الدول العربيه ومن العادات الفنون الشعبيه التي تمارس في المناسبات المتنوعه كالاعياد والمناسبات لاجتماعيه

في ضوء ذلك

- 1-اذكرى اثنين من الفنون العمانيه ؟.....و.....
 2) ماواجبك تجاه العادات والتقاليد ؟

السؤال الرابع :

أولا: صنفني العبارات التالية الى الجانب الذي تنتمي اليه :

- 1- يقع الوطن العربي على ملتقى ثلاث قارات
- 6- قامت في الوطن العربي حضارات
- 7- فن العازي من فنون الالقاء العمانيه
- 8- خصص 18 ديسمبر يوم خاص للاحتفال بها .

اللغة العربية	العادات والتقاليد	التاريخ المشترك	الموقع الجغرافي

رابعا : أمامك خريطة تأملها جيدا ثم اجبني عن الأسئلة :



- 1- أحد الأرقام يشير الى مضيق هرمز هو؟؟
- 2- ظللي الدولة التي قامت بها حضارة الفراعنة ؟
- 3- وقعي الدولة التي يشتهر بفن العازي في المناسبات الاجتماعية والوطنية ؟

رابعا : أمامك خريطة تأملها جيدا ثم اجبني عن الأسئلة :



- 1 اسم المسطح المائي المشار اليه بـ
.....
- 2 اسم القناة المائية المشار اليها بـ
.....
- 3 اسم النهر المشار اليه بـ
.....

اسم الحضارة المشار اليها بالسهم
.....
.....

اخترى الاجابة الصحيحة من بين البدائل المعطاة:

1-انظمت سلطنة عمان لجامعة الدول العربية في العام الميلادي :

أ-1970 ب-1971 ج-1972 د-1973

2- أنشئت جامعة الدول العربية عام 1945م ومقرها مدينة-

أ-القاهرة ب-بغداد ج-الرياض د-مسقط

3-استضافة السلطنة لبطولة

كأس العرب لكرة الطاولة في الام الميلادي

أ-2015 ب-2016 ج-2017 د-2018

4- شاركت سلطنة عمان ضمن المجال الثقافي في المسابقة العربية عام 2017م :

أ-للبرمجة ب-لكرة القدم ج-للرماية د-للقراءة

5-أنشئت جامعة الدول العربية في العام الميلادي :

أ-1942 ب-1943 ج-1944 د-1945

6-الصورة التالية تشير الى التعاون والتكامل بين سلطنة عمان والدول العربية في مجال :

أ-السياسي ب-الثقافي

ج-الرياضي د-الاقتصادي

7-بلغ عدد الدول الاعضاء بجامعة الدول العربيةدولة :

أ-22دولة ب-23دولة ج-24دولة د-25دولة

الصورة التي تشير الى شعار جامعة الدول العربية :



8-من الأدلة على حرص سلطنة عمان في توثيق العلاقات السياسية بالدول العربية :

أ-تبادل السلع والبضائع ب-تبادل الزيارات بين القادة الدول العربية

ج-حضور الندوات العلمية د-المشاركة في المسابقات الرياضية

9-من السلع المنتجة في الأسواق العمانية جميع مايلي عدا :

أ-اللبن ب-التمور ج-الاسماك د-القطن والحبر



السؤال الثاني :

عددي اثنين لكلا من :

أولا :

-مجالات التعاون والتكامل العربي في سلطنة عمان والدول العربية ؟؟

.....،.....

-المنتجات العربية في أسواق السلطنة ؟

.....،.....

ثانيا :

اجيبي عن الاسئلة التالية :

1-متى انشئت جامعة الدول العربية؟.....

2-أين مقرها؟.....

3-ما الهدف من أنشأها ؟



السؤال الثالث :

اجيبي عن الاسئلة التالية :

صنفي جهود السلطنة عمان في تعزيز التعاون والتكامل العربي حسب الجدول التالي :

(تبادل السلع والبضائع، تبادل الزيارات بين قادة الدول العربية ،المشاركة في المشاريع والفعاليات الاقتصادية ،مشاركة السلطنة في المسابقة العربية للبرمجة ، استضافة السلطنة لبطولة كأس العرب لكرة الطاولة)

المجال السياسي	المجال الاقتصادي	المجال الرياضي	المجال الثقافي

ثانيا:

من خلال الخطاب السامي اجيبي عن الاسئلة التالية:

«إن سلطنة عُمان منذ انضمامها لعضوية جامعة الدول العربية تعمل حسب قناعتها الصريحة والواضحة المعروفة لدعم جهود العمل العربي المشترك».

-العام الميلادي الذي ألقى فيه الخطاب؟

-المناسبة التي ذكر فيها الخطاب؟

-الهدف من انضمام السلطنة لجامعة الدول العربية؟



ثالثا : أمامك صورت تأملها جيدا ثم اجيب عن الأسئلة .

1-اذكري شعار المؤتمر الكشفي العربي الثامن العشرون ؟

2-متى عقد المؤتمر الكشفي؟

3-الجهة الحكومية المنظمة للمؤتمر في السلطنة؟

رابعا :

اجيبي عن الاسئلة التالية من خلال الصور التالية:



اسم المجال	اسم المجال
دور السلطنة :	دور السلطنة :

ملخص المجالات :

المجال	السياسي	الاقتصادي	الثقافي والرياضي
دور السلطنة على المستوى العربي	- انضمام السلطنة لجامعه الدول العربية 1971 - تسهم السلطنة في التكامل العربي من خلال التشاور وحل المشكلات	تحقيق التكامل من خلال : 1- تبادل البضائع 2- المشاريع المشتركة	1- المشاركة في المؤتمرات 2- تبادل الخبرات 3- استضافه الانشطه المتنوعه
مثال	الزيارات المتبادله مع رؤساء الدول للتشاور	المشاركه في معرض المنتجات في الجزائر	مسابقه البرمجه 2017 استضافه مباريات كره الطاولة 2017 استضافه المؤتمر الكشفي نوفمبر 2017