


شكراً لتحميلك هذا الملف من موقع المناهج العمانية



امتحان تجريبي نهائي حديث

موقع المناهج ← المناهج العمانية ← الصف الخامس ← اجتماعيات ← الفصل الأول ← الملف

تاريخ نشر الملف على موقع المناهج: 19-12-2023 05:38:30 | اسم المدرس: رحمة المالكية

التواصل الاجتماعي بحسب الصف الخامس



روابط مواد الصف الخامس على تلغرام

[الرياضيات](#)

[اللغة الانجليزية](#)

[اللغة العربية](#)

[التربية الاسلامية](#)

المزيد من الملفات بحسب الصف الخامس والمادة اجتماعيات في الفصل الأول

[اختبار تجريبي نهائي حديث مع نموذج الإجابة](#)

1

[اختبار قصير ثاني نموذج حديث](#)

2

[امتحان تجريبي نهائي حديث](#)

3

[مراجعة درس الانتماء والولاء للوطن](#)

4

[اختبار قصير ثاني حديث نموذج رابع](#)

5



امتحان تجريبي الصف الخامس
الفصل الدراسي الأول
للعام الدراسي 1444 / 1445 هـ - 2023 / 2024 م
المادة : الدراسات الاجتماعية

- زمن الإجابة: (ساعة ونصف) ● عدد صفحات أسئلة الامتحان: (7) صفحات.
- الإجابة في دفتر نفسه

		اسم الطالب
الصف		المدرسة

التوقيع بالاسم		الدرجة		السؤال
المصحح الثاني	المصحح الأول	بالحروف	بالأرقام	
				1
				2
				3
				4
				5
مراجعة الجمع	جمعه			المجموع
				المجموع الكلي

إعداد الأستاذة : رحمة المالكية
مدرسة سيح المحامد للتعليم الأساسي للصفوف (5-9)


(1)

المادة: الدراسات الاجتماعية الصف : الخامس اختبار تجريبي-الفصل الدراسي الأول - العام
الدراسي 2024/2023م

أجب عن جميع الأسئلة الآتية

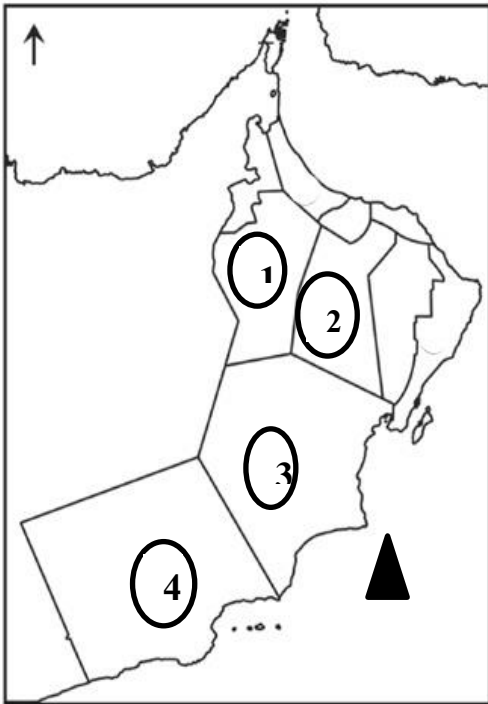
١٢

السؤال الأول: ضع دائرة حول رمز الإجابة الصحيحة لكل مفردة من المفردات الآتية:-



1- الديانة التي انتشرت بين سكان شبه الجزيرة العربية قبل الإسلام
الواضحة في الصورة أمامك:
أ-اليهودية ب-النصرانية ج-الحنيفية د-عبادة الأوثان

استعن بخريطة سلطنة عُمان التي أمامك للإجابة عن المفردتين (2، 3)



2- الرقم الذي يشير إلى المحافظة العُمانية التي حدثت فيها

موقعة سلوت بين الأزد والفرس :

أ- 1 ب- 2 ج- 3 د- 4


3- المسطح المائي الذي يرمز له الرمز (▲) هو:

أ-بحر عُمان ب-الخليج العربي
ج- بحر العرب د- المحيط الهندي

4-الخط الرئيسي الذي يقسم الكرة الأرضية إلى نصف شرقي
ونصف غربي:

أ- الاستواء ب- السرطان
ج- الجدي د- غرينتش

5- النشاط الاقتصادي الذي كان يمارسه سكان الحياة البدوية:



(د)



(ج)



(ب)



(أ)

6- الحضارة التي رسمت على خرائطها خطوط الطول ودوائر العرض:

أ- الرومان ب- الإغريق ج- المسلمون د-البابليون

يتبع/2

(2)

المادة: الدراسات الاجتماعية الصف: الخامس اختبار تجريبي - الفصل الدراسي الأول - العام الدراسي 2024/2023م

7- إذا كانت الساعة الخامسة مساءً على خط جرينتش، فستكون الساعة في مسقط والتي تبعد 60 خطاً شرق خط جرينتش:

أ- 6 مساءً ب- 7 مساءً ج- 8 مساءً د- 9 مساءً


8- العام الميلادي الذي تم فيه افتتاح متحف عمان عبر الزمان:

أ- 2020 ب- 2021 ج- 2022 د- 2023

9- الصورة الصحيحة التي تمثل التصرف الصحيح من بين المواقف التالية:



(د)



(ج)



(ب)



(أ)

10- المظهر الذي توضحه الصورة أمامك من مظاهر الانتماء والولاء للوطن:



أ- المشاركة في الأعمال التطوعية.

ب- الالتزام بالقوانين والأنظمة.

ج- الدفاع عن الوطن.

د- الاهتمام بمنجزات الوطن.

(3)

المادة: الدراسات الاجتماعية الصف: الخامس اختبار تجريبي - الفصل الدراسي الأول - العام الدراسي 2024/2023م

11- الوسيلة التي استخدمها الإنسان قديماً لمعرفة المواقع والاتجاهات والتي وردت في الآية الكريمة قال تعالى: (وَهُوَ الَّذِي جَعَلَ لَكُمُ النُّجُومَ لِتَهْتَدُوا بِهَا فِي ظُلُمَاتِ الْبَرِّ وَالْبَحْرِ):

أ-الكواكب ب-النجوم ج-القمر د-الشمس

12- الطبيب العربي الذي كان مضرياً للمثل في الطب قبل الإسلام:

أ- ابن حذيم ب-مصقلة بن رقة ج-معولة بن شمس د-مالك بن فهم

السؤال الثاني: أجب عن الأسئلة الآتية:

٨

أولاً: (أ) عرف ما يلي:
1) الموقع الفلكي:

(2) العرب البائدة:

(ب) وضح أهم القيم الأخلاقية الحميدة التي انتشرت عند العرب قبل الإسلام؟ (يكتفى باثنين)

ثانياً: أمامك نمطين من أنماط الحياة عند العرب، ادرسها جيداً، ثم صنفها في جدول العبارات التالية حسب خصائص كل نمط: (ممارسة النشاط الزراعي / السكن في الخيام المتنقلة / الاستقرار في القرى والمدن / الانتقال من مكان لآخر):



ب	أ
.....(1)(1)
.....(2)(2)

(4)

المادة: الدراسات الاجتماعية الصف: الخامس اختبار تجريبي - الفصل الدراسي الأول - العام
الدراسي 2024/2023 م

تابع: السؤال الثاني:

ثالثا: قارن بين خطوط الطول، ودوائر العرض، من حيث ذكر الفائدة مستعينا بالصور:

دوائر العرض	خطوط الطول	أوجه المقارنة
.....  	الفائدة / الأهمية

السؤال الثالث: أجب عن الاسئلة الآتية:

أولا: صنف العبارات الآتية حسب الحضارة في الجدول الآتي وذلك بوضع إشارة (v):

٨

العبارات	المصرية	البابلية	الرومان	الإسلامية
أ- رسمت خرائطها على أسس دقيقة.				
ب- رسم شعبها خرائطه على الصلصال المحروق.				
ج- استخدموا الألوان والأشكال الهندسية.				
د- رسموا خرائط للمناجم والطرق المؤدية إليها.				

ثانياً: رتب الأحداث التاريخية الآتية من الأقدم إلى الأحدث بالأرقام من (1-4):

- () ارسال الملك دارا بن دارا المساعدة لجيش الفرس في صحار.
 () طلب الفرس الصلح من مالك بن فهم.
 () انتصار الأزد وطرد الفرس نهائياً من عمان.
 () انتصار العمانيين في معركة سلوت.



ثالثاً: 1) ادرس الصورة المقابلة، ثم أجب عن الأسئلة الآتية:
 أ_ هل توافق على سلوك هذه العائلة؟

.....
 ب_ ما دورك اتجاه المواقع السياحية في بلدك؟

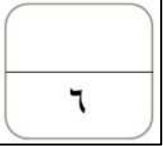
يتبع/5

(5)

المادة: الدراسات الاجتماعية الصف: الخامس اختبار تجريبي - الفصل الدراسي الأول - العام الدراسي 2024/2023م

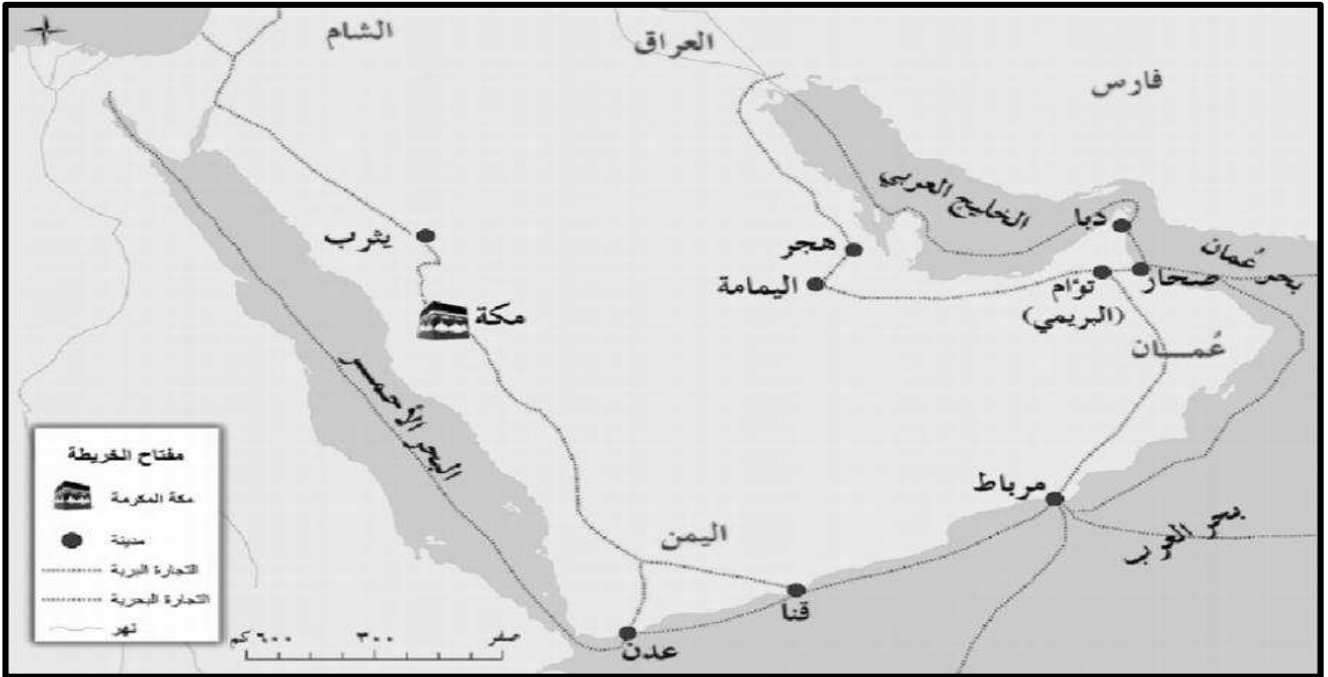
تابع / السؤال الثالث:

ثالثاً: (2) بما تفسر: تسمية عمان بهذا الاسم؟



السؤال الرابع: أجب عن الأسئلة الآتية:

أولاً: ادرس خريطة شبه الجزيرة العربية جيداً ثم أجب عن الأسئلة التي تليها:



(1) استخراج من الخريطة المسطح المائي الذي تطل عليه مدينة صحار؟

(2) ضع دائرة على المدينة التي كانت تحكمها قبيلة قريش.

(6)

المادة: الدراسات الاجتماعية الصف: الخامس اختبار التجريبي - الفصل الدراسي الأول - العام الدراسي 2024/2023م

تابع السؤال الرابع:

ثانيًا: انظر إلى الصورة المقابلة، ثم أكمل البطاقة التعريفية المتعلقة بجهاز تحديد المواقع العالمي:



.....	1- الدولة التي أطلقته.
<input type="checkbox"/> العسكري <input type="checkbox"/> المدني	2- نوع الاستخدام في بداية إطلاقه.
اختر الإجابة الصحيحة	

ثالثًا: انسب أرقام العبارات التالية إلى نوع الحياة (الدينية والفكرية - الاقتصادية - السياسية) عند العرب قبل الإسلام والتي تنتمي إليها:

- 1- قامت عدد من الممالك في اليمن مثل سبأ.
- 2- اعتنق بعض العرب الديانة النصرانية.
- 3- مارست قبيلة قريش التجارة.
- 4- حكم آل الجلندی عمان.

الحياة الاقتصادية	الحياة السياسية	الحياة الدينية والفكرية
.....
.....

(7)

المادة: الدراسات الاجتماعية الصف: الخامس اختبار تجريبي - الفصل الدراسي الأول - العام الدراسي 2024/2023م

٦

السؤال الخامس: أجب عن الأسئلة الآتية:

أولاً: أ) اذكر كلا من:

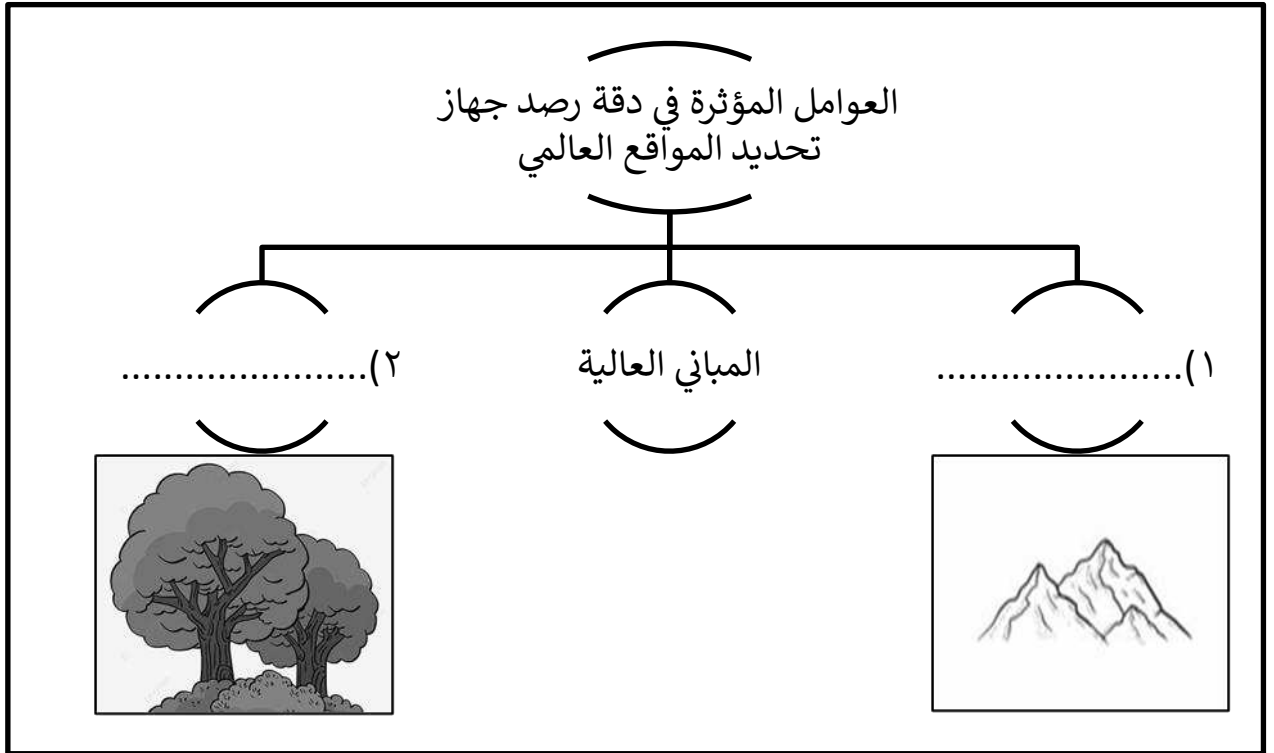
1) اثنين من الدول المجاورة لشبه الجزيرة العربية قبل الإسلام.

-
-

2) صاحب كتاب (الفوائد في أصول علم البحر والقواعد).

.....

ثانياً: 1- اكمل المخطط الآتي الذي يوضح العوامل المؤثرة في دقة رصد جهاز تحديد المواقع العالمي مستعيناً بالصورة.



2- فسر عدم العثور على نماذج من خرائط العالم التي رسمها المصريون القدماء.

.....

انتهت الأسئلة مع الدعاء للجميع بالتوفيق والنجاح