

شكراً لتحميلك هذا الملف من موقع المناهج العمانية



اختبار قصير ثاني نموذج حديث

[موقع المناهج](#) ← [المناهج العمانية](#) ← [الصف الخامس](#) ← [اجتماعيات](#) ← [الفصل الأول](#) ← [الملف](#)

تاريخ نشر الملف على موقع المناهج: 19-12-2023 07:03:26 | اسم المدرس: مريم الدرعي

التواصل الاجتماعي بحسب الصف الخامس



روابط مواد الصف الخامس على تلغرام

[الرياضيات](#)

[اللغة الانجليزية](#)

[اللغة العربية](#)

[التربية الاسلامية](#)

المزيد من الملفات بحسب الصف الخامس والمادة اجتماعيات في الفصل الأول

[امتحان تحريبي نهائي حديث](#)

1

[مراجعة درس الانتماء والولاء للوطن](#)

2

[اختبار قصير ثاني حديث نموذج رابع](#)

3

[اختبار قصير ثاني حديث نموذج ثالث](#)

4

[اختبار قصير ثاني حديث نموذج ثاني](#)

5

اسم المبدعة:.....

الصف:.....

الأختبار القصير (2) في مادة الدراسات الاجتماعية للصف الخامس الفصل الدراسي الأول للعام الدراسي 2024/2023م

السؤال الأول: اختاري الإجابة الصحيحة من البدائل المعطاة: (5 درجات)

1. من أطباء العرب المشهورين قبل الإسلام:
 أ. مصقلة بن ربيعة ب. ابن حذيم
 ج. معولة بن شمس د. جواس بن حيان
2. عاصمة عمان في عهد مالك بن فهم:
 أ. صحار ب. سلوت
 ج. منح د. قلهاث



3. الديانة التي تمثلها الصورة المقابلة:

- أ. اليهودية ب. الوثنية
 ج. الحنيفية د. النصرانية

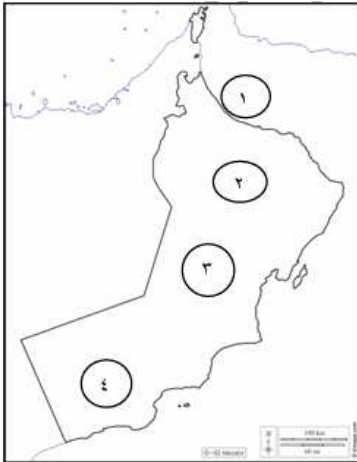
4. الشكل الصحيح الذي يمثل أقسام العرب الباندة:

د. العدنانيون / طسم

ج. العماليق / طسم

ب. القحطانيون / العماليق

أ. القحطانيون / العدنانيون



5. الرقم الذي يشير إلى الموقع الذي وقعت فيه معركة سلوت:

- أ. 1 ب. 2
 ج. 3 د. 4

السؤال الثاني: أجب عن الأسئلة التالية (6 درجات)

أولاً: فسري: تسمية عمان بهذا الاسم (درجة)

.....



ثانياً: (أ) دلل على قوة العمانيين في مواجهة الفرس (درجة)

.....

(ب) اذكر اثنتان من العلوم التي برع فيها العرب قبل الإسلام (درجتان)

أ..... ب.....

ثالثاً: من خلال الصورتين التاليتين (حياة البدو/ حياة الحضر)، صنفى العبارات التالية (الرعي – بيوت من الطين- الخيام- الزراعة) في مكانها المناسب. (درجتان)

		وجه المقارنة
.....	نوع المسكن
.....	النشاط الاقتصادي

السؤال الثالث: ادرسي الخريطة التالية، ثم أجبى عن الأسئلة التالية (4 درجات)



1. الرقم الذي يشير إلى موقع مكة المكرمة:.....(درجة)
2. اكتب على الخريطة بلاد فارس في موقعها الصحيح.(درجة)
3. ارسم سهماً ← على الخريطة يوضح مسار هجرة القبائل الأزدية.(درجة)
4. استخرج من الخريطة الدولة المجاورة لشبه الجزيرة العربية من جهة الشمال الغربي:.....(درجة)

أنار الله دربك ووفقك لما يحب ويرضاه

معلمة المادة: أ.مريم الدرعي

