

تم تحميل هذا الملف من موقع المناهج العُمانية



\* للحصول على أوراق عمل لجميع الصفوف وجميع المواد اضغط هنا

<https://almanahj.com/om>

\* للحصول على أوراق عمل لجميع مواد الصف الخامس اضغط هنا

<https://almanahj.com/om/5>

\* للحصول على جميع أوراق الصف الخامس في مادة اجتماعيات ولجميع الفصول, اضغط هنا

<https://almanahj.com/om/5social>

\* للحصول على أوراق عمل لجميع مواد الصف الخامس في مادة اجتماعيات الخاصة بـ الفصل الأول اضغط هنا

<https://almanahj.com/om/5social1>

\* لتحميل كتب جميع المواد في جميع الفصول للـ الصف الخامس اضغط هنا

<https://almanahj.com/om/grade5>

\* لتحميل جميع ملفات المدرس عمر العزري اضغط هنا

للتحدث إلى بوت على تلغرام: اضغط هنا

[https://t.me/omcourse\\_bot](https://t.me/omcourse_bot)



المديرية العامة للتربية والتعليم بمحافظة جنوب الباطنة

دائرة التقويم التربوي

قسم مراقبة وتقويم التحصيل الدراسي

امتحان تدريبي مادة : الدراسات الاجتماعية

للف : الخامس

للعام الدراسي ١٤٣٩/١٤٤٠هـ - ٢٠١٨/٢٠١٩م

الدور الأول - الفصل الدراسي الأول

موقع المناهج العُمانية [almanahj.com/om](http://almanahj.com/om)

● زمن الامتحان: (ساعة ونصف ) ● عدد صفحات أسئلة الامتحان: ( ٨ ) صفحات.

● الإجابة في الدفتر نفسه .

اسم الطالب	
الصف	المدرسة

التوقيع بالاسم		الدرجة		السؤال
المصحح الثاني	المصحح الأول	بالحروف	بالأرقام	
				١
				٢
				٣
				٤
				٥
مراجعة الجمع	جمعه			المجموع
				المجموع الكلي


أحب عن جمع الأسئلة الآتية

السؤال الأول: ضع دائرة حول رمز الإجابة الصحيحة لكل مفردة من المفردات الآتية:

١- مؤسسة التنشئة الاجتماعية العمانية التي ترعى الأطفال منذ الطفولة المبكرة:

( أ ) الأسرة (ب)السبلة (ج) جمعية الأطفال أولا (د) جمعيات المرأة العمانية

٢- الشكل الذي يمثل العمل الاجتماعي الإيجابي الذي يقوم به الفرد في خدمة المجتمع:



( ب )



( أ )



( د )




( ج )

٣- الوزارة التي تشرف على معهد عمر بن الخطاب للمكفوفين في سلطنة عمان:

( أ ) الصحة (ب) التنمية الاجتماعية (ج) التربية والتعليم (د) الإسكان

٤- المدينة العمانية التي استقبلت الرسالة الموضحة في الشكل المقابل:



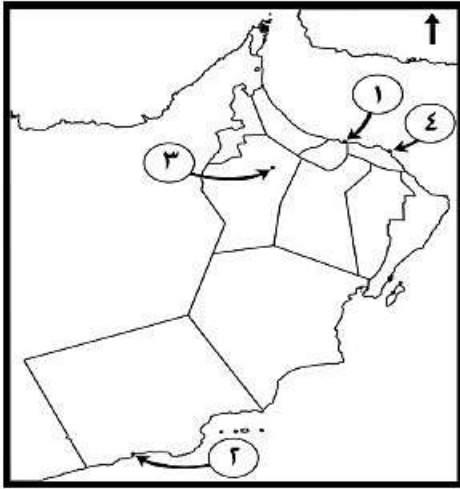
( ب ) مرباط

( أ ) البريمي

( د ) صحار

( ج ) دبا

## تابع السؤال الأول:

٥- الرقم الذي يشير إلى الميناء الذي عرف قديماً بشحر عمان في الخريطة المقابلة:

(ب) ٢

(أ) ١

موقع المناهج العمانية [almanahj.com/om](http://almanahj.com/om)

(د) ٤

(ج) ٣

٦- المقارنة الصحيحة بين شخصية كعب بن برشة الطاحي وبين شخصية كعب بن سور الأزدي:

وجه المقارنة	كعب بن برشة الطاحي	كعب بن سور الأزدي
المدينة التي ينتمي إليها	دبا	صحار
أهم الأعمال التي قام بها	تولى قضاء مدينة البصرة	داعية لأهل عمان

(أ)

وجه المقارنة	كعب بن برشة الطاحي	كعب بن سور الأزدي
المدينة التي ينتمي إليها	البريمي	صحار
أهم الأعمال التي قام بها	داعية لأهل عمان	تولى قضاء مدينة البصرة

(ب)

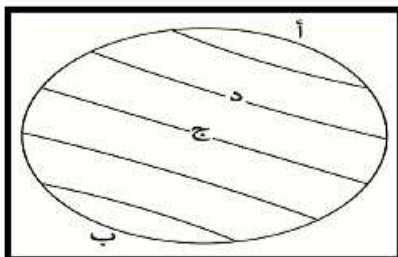
وجه المقارنة	كعب بن برشة الطاحي	كعب بن سور الأزدي
المدينة التي ينتمي إليها	صحار	دبا
أهم الأعمال التي قام بها	داعية لأهل عمان	تولى قضاء مدينة البصرة

(ج)

وجه المقارنة	كعب بن برشة الطاحي	كعب بن سور الأزدي
المدينة التي ينتمي إليها	صحار	البريمي
أهم الأعمال التي قام بها	تولى قضاء مدينة البصرة	داعية لأهل عمان

(د)

٧- يطلق على دائرة العرض التي يشير إليها الحرف ( ج ) في الشكل المقابل:



ب- الاستواء

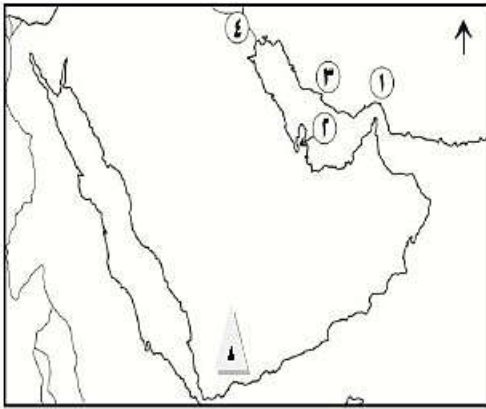
أ- الجدي

د- السرطان

ج- جرينتش

## تابع السؤال الأول

٨- من الممالك العربية القديمة التي تقع في المنطقة المشار إليها بالرمز (▲) في الخريطة المقابلة:



ب- اليمامة

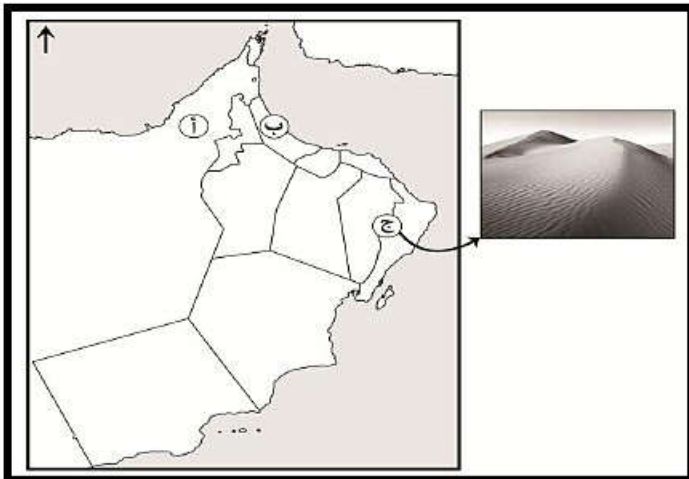
أ- يثرب

د- مكة

ج- حمير

موقع المناهج العُمانية [almanahj.com/om](http://almanahj.com/om)

٩- الشكل التضاريسي الذي يظهر في المنطقة الجغرافية المشار إليها بالحرف (ج) على الخريطة:



ب- كثبان رملية

أ- سلسلة جبلية

د- دلتا نهريّة

ج- سهول ساحلية

١٠- المورد المائي الذي يظهر في الصورة المقابلة:



ب- عين مائية

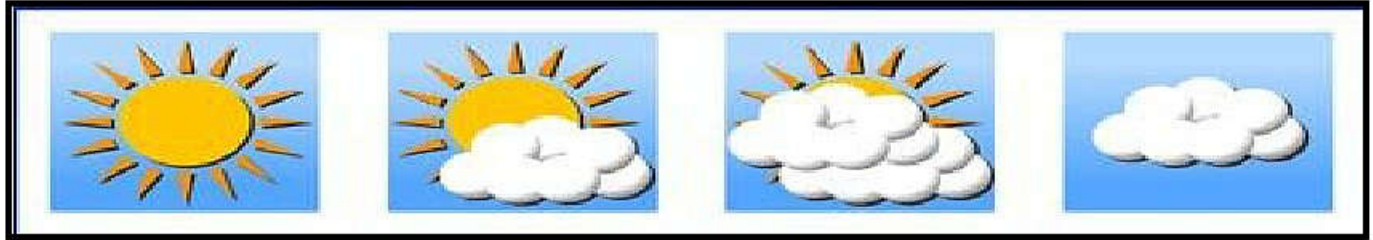
أ- فلج

د- بحيرة

ج- وادي فيضي

تابع: السؤال الأول:

١١- الرمز الذي يعبر عن حالة الجو الغائم في خرائط الطقس:



(د)

(ج)

(ب)

(أ)

١٢- المنطقة الجغرافية التي يظهر فيها مناخ البحر المتوسط في سلطنة عمان:  
 أ- فهود      ب- مرمول      ج- الجبل الأخضر      د- سهل الباطنة

موقع المناهج العمانية [almanahj.com/om](http://almanahj.com/om)السؤال الثاني: أجب عن الاسئلة الآتية :-

أ- عرف المفاهيم/ المصطلحات الآتية:

١- الدلتا: .....

.....

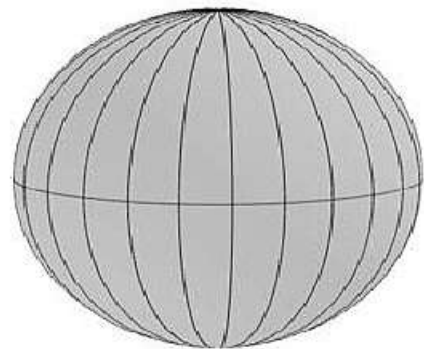
٢- المناخ: .....

.....

ب- أكتب (خطوط الطول ودوائر العرض) امام الشكل الصحيح :



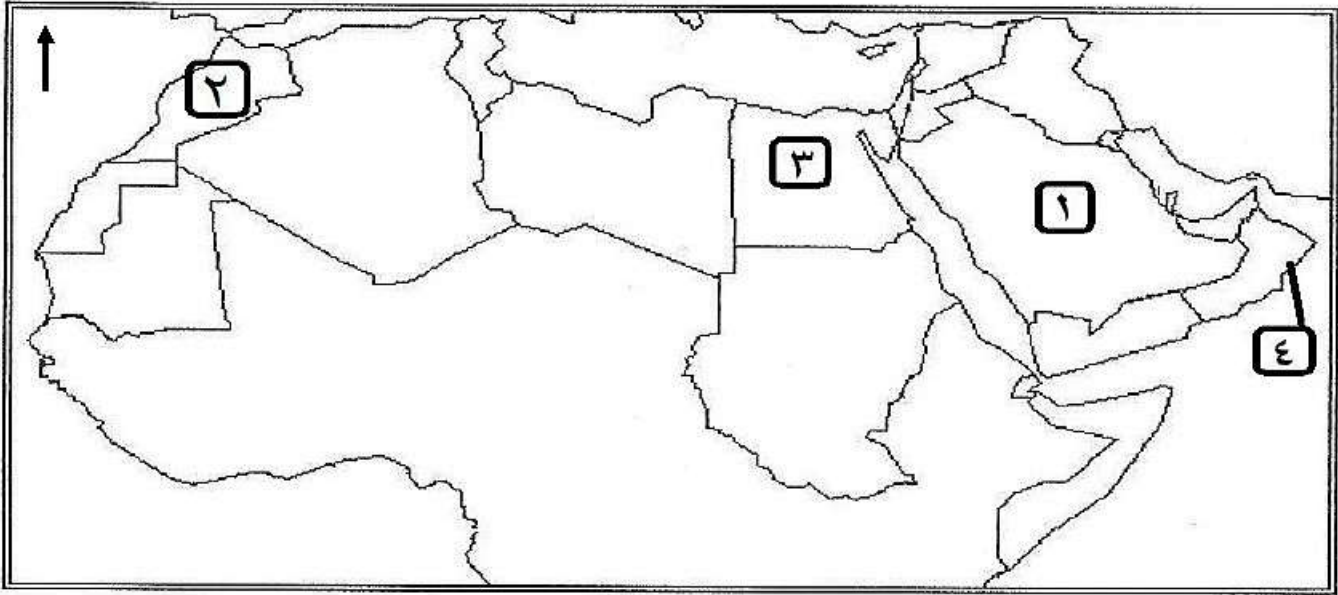
(.....)



(.....)

تابع: السؤال الثاني:

ج- ادرس خريطة الوطن العربي الصماء التي أمامك ، ثم أجب عن الاسئلة التالية :-



موقع المناهج العُمانية [almanahj.com/om](http://almanahj.com/om)

١- الرقم الذي يشير الى الدولة العربية التي توجد بها صحراء النفود ( )

٢- أكتب الدولة العربية التي بها دلتا نهري الدجلة والفرات في موقعها الصحيح على الخريطة .

٣- اسم الجبل الذي يزيد ارتفاعه عن ٤٠٠٠ متر عن مستوى سطح البحر في الدولة المشار اليها بالرقم (٢) (.....)

٤- سمي الدولة المشار اليها بالرقم (٤) (.....)

السؤال الثالث:- أجب عن الاسئلة الاتية :-

أ- صف القيمة الاجتماعية التي تمثلها الصور بكتابة اسمها امامها ؟



ب- أذكر نتيجة واحدة مترتبة على كلا من :-

١- اعتدال درجة الحرارة في الجبل الاخضر بسلطنة عُمان صيفا

٢- سقوط الامطار الفجائية في الاراضي الصحراوية .

ج- "تعد شبة الجزيرة العربية موطن العرب الأول ،واتسمت حياتهم قبيل الاسلام بالتنوع في مظاهرها السياسية والاقتصادية والاجتماعية والفكرية " صنف العبارات الاتية الى المظهر المناسب لها ؟

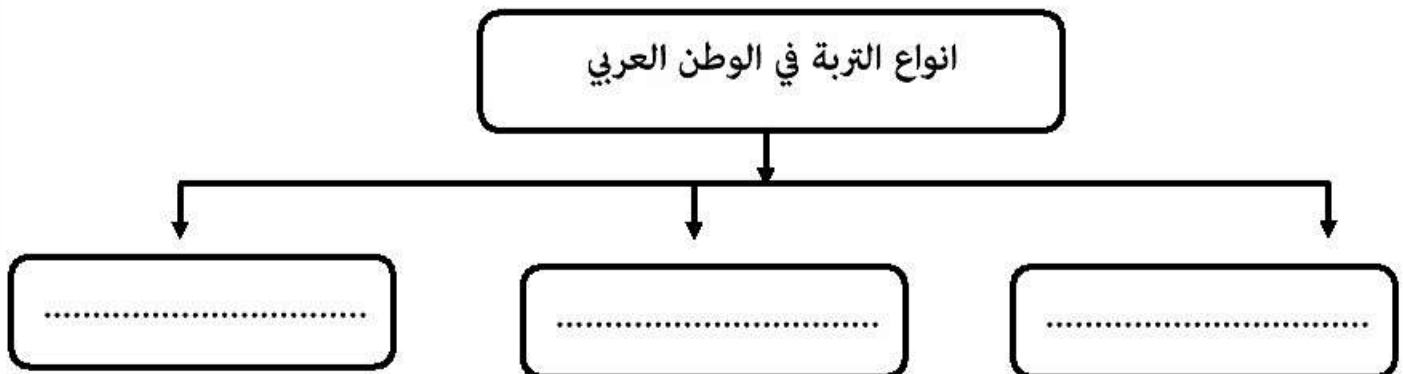
موقع المناهج العُمانية [almanahj.com/om](http://almanahj.com/om)

المظهر	العبرة	
	عرف العرب قديما بالفصاحة فقد نبغوا في الشعر والخطابة والبلاغة	١
	انتشار قيم الشجاعة والكرم والتعاون ونصرة المظلوم	٢
	كانت القبيلة أحد أنظمة الحكم والإدارة مع انتشار دول وممالك	٣

السؤال الرابع :- أجب عن الاسئلة الاتية :-

أ- أكمل الخريطة الذهنية الاتية :-

انواع التربة في الوطن العربي





تابع السؤال الرابع :-

ب- ما الدور الذي تقدمه مؤسسات المجتمع المدني الآتية :-



الشكل ( ٢ )



الشكل ( ١ )

موقع المناهج العُمانية [almanahj.com/om](http://almanahj.com/om)

الدور الذي تقدمه	المقارنة
	الشكل ( ١ )
	الشكل ( ٢ )

ج- قال رسول الله صلى الله عليه وسلم " لو أن أهل عمان أتيت ما سبوك ولا ضربوك " على ماذا يدل حديث الرسول (ص) السابق ؟

.....

.....

السؤال الخامس :- أجب عن الاسئلة الآتية :-

أ- قارن بين المشكلات التي تواجه التربة والنباتات الطبيعية في الوطن العربي في الجدول الآتي :

المشكلات	المقارنة
	التربة
	النباتات الطبيعية

تابع السؤال الخامس :-

محطة تحلية مياه البحر

ب- ادرس الصورة المقابلة ثم أجب عن الاسئلة الآتية:-

١- ما هي المشكلة التي يعالجها هذا المشروع ؟

.....  
.....

٢- ما أسباب بناء المشروع في الصورة ؟

.....  
.....

٣- اذكر مثالا واحدا لهذا المشروع في سلطنة عُمان ؟

.....  
موقع المناهج العمانية [almanahj.com/om](http://almanahj.com/om)

ج- أيهما افضل للزراعة والتجارة الخارجية ( أختار الاجابة )

السهول الساحلية

السهول الداخلية

فسر أجابتك ؟

.....  
.....  
انتهت الاسئلة مع تمنياتنا لكم بالتوفيق والنجاح




نموذج إجابة امتحان تجريبي للصف الخامس  
للعام الدراسي ١٤٤٠/١٤٣٩ هـ - ٢٠١٨/٢٠١٩ م  
الدور الاول - الفصل الدراسي الاول

المادة: الدراسات الاجتماعية  
تنبيهه: نموذج الإجابة في ( ٦ ) صفحات.  
الدرجة الكلية: ( ٤٠ ) درجة.

أولاً: إجابة السؤال الموضوعي: موقع المناهج العُمانية [almanahj.com/om](http://almanahj.com/om)

إجابة السؤال الأول

المفردة	البديل الصحيح	الإجابة	الدرجة	الصفحة	المخرج التعليمي	المستوى المعرفي									
١	أ	الاسرة	١	٩٩											
٢	أ		١	٨٨											
٣	ج	التربية والتعليم	١	٩٧											
٤	د	صحار	١	٦٦											
٥	ب	٢	١	٦٨											
٦	ج	<table border="1"> <tr> <td>كعب بن برشة الطاحي</td> <td>كعب بن س</td> <td></td> </tr> <tr> <td>صحار</td> <td>دبا</td> <td>ها</td> </tr> <tr> <td>داعية لأهل عمان</td> <td>تولى قضاء مد</td> <td>ها</td> </tr> </table>	كعب بن برشة الطاحي	كعب بن س		صحار	دبا	ها	داعية لأهل عمان	تولى قضاء مد	ها	١	٧٤-٧٢		
كعب بن برشة الطاحي	كعب بن س														
صحار	دبا	ها													
داعية لأهل عمان	تولى قضاء مد	ها													

		١٣	١	الاستواء	ب.	٧
		٥٩	١	حمير	ج.	٨
		٢٥	١		ب.	٩
		٤٦	١	عين مائية	ب.	١٠
		٣٢	١		أ	١١
		٣٧	١	الجبيل الاخضر موقع المناهج العُمانية <a href="http://almanahj.com/om">almanahj.com/om</a>	ج	١٢
		١٢ درجة		المجموع		

(٣)

تابع نموذج إجابة امتحان تجريبي الصف الخامس  
للعام الدراسي ١٤٣٩/١٤٤٠ هـ - ٢٠١٨/٢٠١٩ م  
الدور الاول - الفصل الدراسي الاول  
المادة : الدراسات الاجتماعية

الدرجة الكلية: ( ٨ ) درجات

إجابة السؤال الثاني

المستوى المعرفي	المخرج التعليمي	الصفحة	الدرجة	الإجابة الصحيحة	المفردة	الجزئية
		٢٣	١	الدلتا/ تكوينات فيضية تترسب عند مصبات الانهار	١	أ
		٣١	١	المناخ/ متوسط حالة الجو لفترة زمنية طويلة قد تكون شهرا او فصلا او سنة او اكثر	٢	
		١٣	٢	 <p>دوائر العرض      خطوط الطول</p> <p>موقع المناهج العُمانية <a href="http://almanahj.com/om">almanahj.com/om</a></p>		ب
			١	الرقم (١)	١	ج
			١	يكتب كلمة العراق في موقعها الصحيح	٢	
			١	طبقال	٣	
			١	سلطنة عُمان	٤	
			٨	المجموع		


(٤)

تابع نموذج إجابة امتحان تجريبي الصف الخامس  
للعام الدراسي ١٤٣٩/١٤٤٠ هـ - ٢٠١٨/٢٠١٩ م  
الدور الاول - الفصل الدراسي الاول  
المادة : الدراسات الاجتماعية

الدرجة الكلية: ( ٨ ) درجة						إجابة السؤال الثالث
المستوى المعرفي	المخرج التعليمي	الصفحة	الدرجة	الإجابة الصحيحة	المفردة	الجزئية
			٣ لكل مفردة درجة	<p>المؤمن للمؤمن كالبيتان ، يشد بعضه بعضا</p> <p>التكافل الاجتماعي</p> <p>التطوع</p> <p>تعاون</p> <p>موقع المناهج العمانية <a href="http://almanahj.com/om">almanahj.com/om</a></p>		أ
			١	بسبب الارتفاع عن سطح الارض واعتدال درجة الحرارة صيفا	١	ب
		٣٨	١	لأنها تسقط بغزارة ولفترة زمنية من الزمن	٢	
			٣	١- فكري ٢- اجتماعي ٣- سياسي		ج
			٨	المجموع		

(٥)

تابع نموذج إجابة امتحان تجريبي الصف الخامس  
للعام الدراسي ١٤٤٠/١٤٣٩ هـ - ٢٠١٨/٢٠١٩ م  
الدور الاول - الفصل الدراسي الاول  
المادة : الدراسات الاجتماعية

الدرجة الكلية: ( ٦ ) درجة						إجابة السؤال الرابع
المستوى المعرفي	المخرج التعليمي	الصفحة	الدرجة	الإجابة الصحيحة	المفردة	الجزئية
			٣	 <p>تربة البحر المتوسط      تربة الصحراوية      التربة الفيضية</p> <p>موقع المناهج العُمانية <a href="http://almanahj.com/om">almanahj.com/om</a></p>		أ
			٢ لكل جزئية درجة	<p>الشكل ١ ( الحفاظ على البيئة - تنظيم العمل التطوعي في مجال البيئة - نشر الوعي بالبيئة )</p> <p>الشكل ٢ ( الاهتمام بطفولة وحقوق الطفل )</p> <p>( تقدر الاجابة من قبل المعلم بما يفيد المعنى والمطلوب )</p>		ب
			١	يدل على اخلاق اهل عمان		ج
			٦	<u>المجموع</u>		

(٦)

تابع نموذج إجابة امتحان تجريبي الصف الخامس  
للعام الدراسي ١٤٣٩/١٤٤٠ هـ - ٢٠١٨/٢٠١٩ م  
الدور الاول - الفصل الدراسي الاول  
المادة : الدراسات الاجتماعية

الدرجة الكلية: (٦) درجة				إجابة السؤال الخامس		
المستوى المعرفي	المخرج التعليمي	الصفحة	الدرجة	الإجابة الصحيحة	المفردة	الجزئية
			٢	التربة ( الانجراف - التملح - تدهور خصوبة التربة ) النباتات الطبيعية ( الرعي الجائر - قطع الاشجار والشجيرات - الحرائق ) موقع المناهج العُمانية <a href="http://almanahj.com/om">almanahj.com/om</a>		أ
			٣	مشكلة نقص المياه	١	ب
				المناخ الصحراوي وزيادة استهلاك المياه	٢	
				محطة تحلية بركاء	٣	
			١	السهول الساحلية التفسير / لانها قريبة من الموافي لامكانية تصديرها		ج
			٦	المجموع		