

## شكراً لتحميلك هذا الملف من موقع المناهج العمانية



## مراجعة الاختبار الثاني

[موقع المناهج](#) ← [المناهج العمانية](#) ← [الصف الخامس](#) ← [رياضيات](#) ← [الفصل الثاني](#) ← [الملف](#)

تاريخ نشر الملف على موقع المناهج: 21:57:07 2023-05-03

## التواصل الاجتماعي بحسب الصف الخامس



## روابط مواد الصف الخامس على تلغرام

[الرياضيات](#)

[اللغة الانجليزية](#)

[اللغة العربية](#)

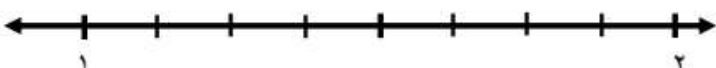
[التربية الاسلامية](#)

## المزيد من الملفات بحسب الصف الخامس والمادة رياضيات في الفصل الثاني

<a href="#">الاختبار النهائي الرسمي في محافظة شمال الباطنة مسائي</a>	1
<a href="#">نموذج إجابة الامتحان النهائي الرسمي بمحافظة جنوب الباطنة</a>	2
<a href="#">نموذج إجابة الامتحان الرسمي النهائي الفترة الصباحية</a>	3
<a href="#">الاختبار النهائي الرسمي في محافظة شمال الشرقية</a>	4
<a href="#">الاختبار النهائي الرسمي في محافظة الداخلية</a>	5



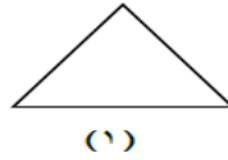
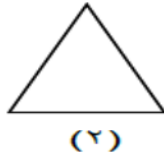
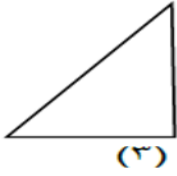
مدرسة الإدرسي للتعليم الأساسي  
مراجعة الاختبار الثاني للصف الخامس

السؤال	رقم السؤال
حول الي كسر غير اعتيادي $= 2\frac{1}{3}$ $= 1\frac{3}{4}$ $= 3\frac{1}{5}$	١
اكتب الكسر غير الاعتيادي على صورة عدد كسري $\frac{\square}{\square} = \frac{26}{3}$ $1\frac{\square}{4} = \frac{7}{4}$ ..... = $\frac{11}{4}$	٢
اكتب العددين التاليين في الموقع المناسب على خط الأعداد: $1\frac{1}{4}$ ، $1\frac{5}{8}$	٣
	
أكتب الكسر غير الاعتيادي والعدد الكسري للمخطط التالي : الكسر غير الاعتيادي هو : $\frac{1}{7} \frac{1}{7}$ العدد الكسري هو : $\frac{1}{7} \frac{1}{7} \frac{1}{7} \frac{1}{7} \frac{1}{7} \frac{1}{7} \frac{1}{7}$	٤
لدي عمر ١٨,٥٠٠ ريال اشترى أدوات مدرسية بما قيمته ١٢,٦٥٠ ريال كم تبقي معه ؟ ريال .....	٥

<p>٦</p> <p>لدي محمود مبلغ قدرة ٣,٢٣٥ ريال لدي زياد ١٢,٥٠٠ ريال احسب مجموع ما لديهما.</p>	<p>..... ريال</p>
<p>٧</p> <p>مع مروة ١٤,٢٠٠ ريال انفقت ٧,٩٠٠ ريال كم تبقي لديها؟</p>	<p>..... ريال</p>
<p>٨</p> <p>اكمل  (أ) <math>11,02 - 15,43 =</math> <input type="text"/></p> <p>(ب) <math>12,37 + 31,54 =</math> <input type="text"/></p>	
<p>٩</p> <p>اكمل الفراغات:-</p> $\begin{array}{r} \square \square , 8 \square \\ 3 \quad 3 , 4 \quad 5 + \\ \hline 9 \quad 4 , \square 2 \end{array}$	
<p>١٠</p> <p>تم تقطيع ٥ تفاحات الى ارباع . احسب عدد القطع .</p>	<p>..... قطعة</p>
<p>١١</p> <p>لدينا ١١ تفاحة نريد تقسيمها على ٤ اشخاص بالتساوي اكتب نصيب كل شخص على صورة عدد كسري.</p>	<p>.....</p>
<p>١٢</p> <p>تباع الاكواب البلاستيكية في عبوات تحتوي كل منها على ٨ أكواب فقط. تحتاج حنان إلى ٢٨ كوبًا . فكم عدد العبوات التي يجب أن تشتريها حنان؟</p>	

أنظر للمثلثات الآتية ثم أكتب الرقم الدال على نوع المثلث في الجدول :

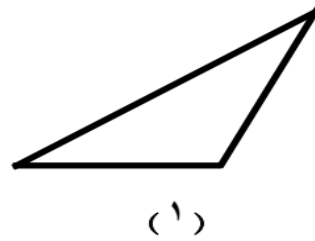
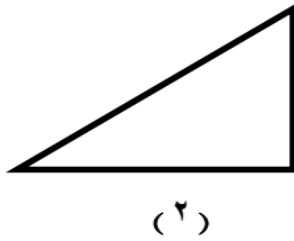
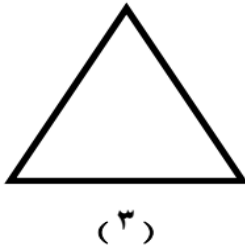
١٣



.....	مثلث متطابق الضلعين	أ)
.....	مثلث مختلف الأضلاع	ب)
.....	مثلث متطابق الأضلاع	ج)

أنظر للمثلثات الآتية ثم أكتب الرقم الدال على نوع المثلث في الجدول :

١٤



.....	مثلث حاد الزاوية	أ)
.....	مثلث منفرج الزاوية	ب)
.....	مثلث قائم الزاوية	ج)

بأستخدام البطاقات التالية أكمل الجمل التالية :

١٥

منفرج الزاوية


قائم الزاوية

حاد الزوايا

.....	المثلث الذي به قياس زاويتين ٣٠ و ٤٠ هو مثلث :	أ)
.....	المثلث المتطابق الأضلاع هو مثلث :	ب)
.....	المثلث الذي به زاويتان قياسهما ٤٥ هو مثلث :	ج)

حوط الشكل الذي له أكبر عدد من خطوط التماثل الانعكاسي

١٦



حوط على مرتبة التماثل الدوراني للشكل المنتظم المقابل :

١٧

٨

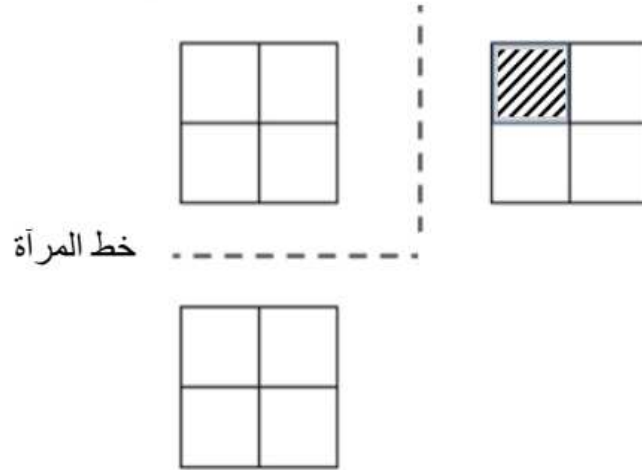
٦

٤

٢

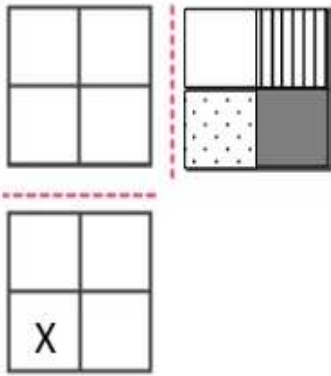
		أكمل هذا الجدول
مربع	مثلث متطابق الأضلاع	
		عدد خطوط التماثل
		مرتبة التماثل الدوراني

ظل مربعين إضافيين حتى يصبح التصميم متماثلاً حول خطي المرآة.



خط المرآة -----

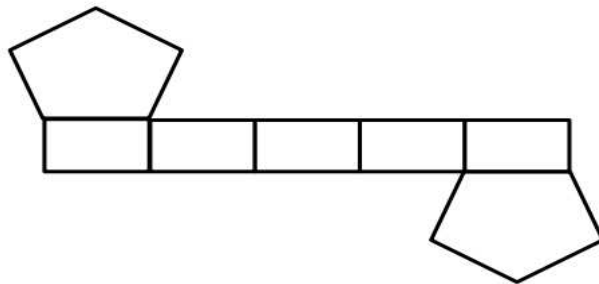
سيتم عكس نمط البلاطة في خطوط المرآة.



حوظ على شكل المربع الموضوع عليه علامة "X"



٦ ما الشكل الثلاثي الأبعاد الذي يمكن أن تكونه الشبكة المقابلة ؟ .....



٦ حوظ الإجابة الصحيحة فيما يأتي

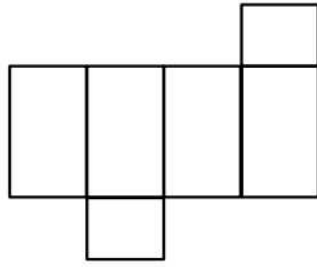
الشبكة المقابلة يمكن طيها لتكوين .....



هرم ثلاثي      هرم رباعي      منشور ثلاثي      مكعب

٢٣

حوط اسم الشكل ثلاثي الأبعاد الذي تمثله الشبكة التالية.



منشور رباعي

هرم خماسي

منشور خماسي

هرم رباعي

٢٤

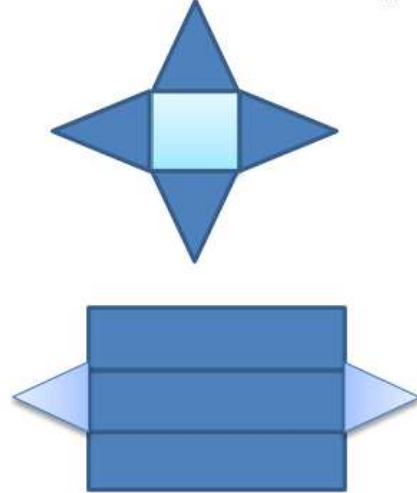
صلي من العمود / مايناسب العمود

منشور ثلاثي

منشور رباعي

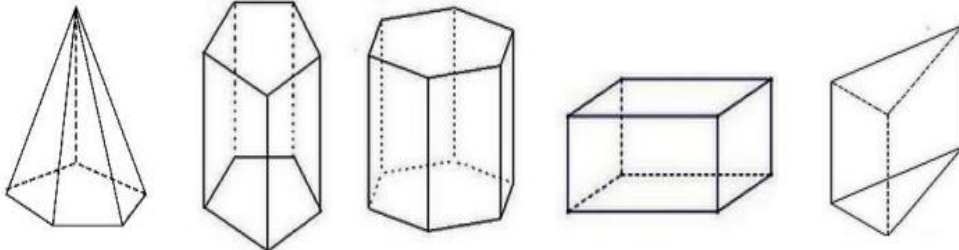
هرم ثلاثي

هرم رباعي



٢٥

حوط على المنشور الخماسي من بين المجسمات التالية :



٢٦

بدأت والد خالد في طهي الطعام الساعة ١٢:١١ ص وانتهت من اعداد الطعام الساعة ١٠:٠٧ م كم المدة التي استغرقت في اعداد الطعام؟

٢٧

اكتب الساعة التي امامك بالكلمات



.....