

تم تحميل هذا الملف من موقع المناهج العُمانية



* للحصول على أوراق عمل لجميع الصفوف وجميع المواد اضغط هنا

<https://almanahj.com/om>

* للحصول على أوراق عمل لجميع مواد الصف الخامس اضغط هنا

<https://almanahj.com/om/5>

* للحصول على جميع أوراق الصف الخامس في مادة رياضيات ولجميع الفصول, اضغط هنا

<https://almanahj.com/om/5math>

* للحصول على أوراق عمل لجميع مواد الصف الخامس في مادة رياضيات الخاصة بالفصل الثاني اضغط هنا

<https://almanahj.com/om/5math2>

* لتحميل كتب جميع المواد في جميع الفصول للصف الخامس اضغط هنا

<https://almanahj.com/om/grade5>

* لتحميل جميع ملفات المدرس نادية المعمرية و زينب العجمية اضغط هنا

للتحدث إلى بوت على تلغرام: اضغط هنا

https://t.me/omcourse_bot

الاسم:.....

الصف:.....



سلطنة عمان

وزارة التربية والتعليم

المديرية العامة لمحافظة شمال الباطنة





١٠



حصاد الاسبوع (٤) للفصل الدراسي الثاني للصف الخامس في مادة الرياضيات

يمنع استخدام الآلة الحاسبة

الزمن: ١٥ دقائق

أجب عن جميع الأسئلة في المكان المخصص للإجابة.

	<p>أكمل الكسور المتكافئة التالية:</p> $\frac{\square}{20} = \frac{3}{5}$	١
[١]	<p>اكتب هذه الأعداد بالترتيب من الأصغر إلى الأكبر</p> <p>٠,٣ ، $\frac{2}{5}$ ، ٢٠%</p> <p><input type="text"/> ، <input type="text"/> ، <input type="text"/></p> <p>الأصغر الأكبر</p>	٢
[١]	<p>اكتب الكسر الغير اعتيادي والعدد الكسري للمخطط التالي:</p> <p>$\frac{1}{5}$ $\frac{1}{5}$ $\frac{1}{5}$ $\frac{1}{5}$ $\frac{1}{5}$ $\frac{1}{5}$ $\frac{1}{5}$</p> <p>العدد الكسري هو</p> <p>الكسر الغير اعتيادي هو</p>	٣
[١]	<p>حدد موقع الكسر $\frac{3}{4}$ على خط الأعداد</p>	٤
[١]	<p>اشترت سعاد السلع التالية من المتجر .</p> <div style="display: flex; justify-content: space-around; align-items: flex-end;"> <div style="text-align: center;">  <p>ريال ٣,٥٠٠</p> </div> <div style="text-align: center;">  <p>ريال ٥,٧٥٠</p> </div> <div style="text-align: center;">  <p>ريال ٣,١٢٥</p> </div> <div style="text-align: center;">  <p>ريال ٤,٦٥٠</p> </div> </div> <p>ما إجمالي قيمة السلع التي اشترتها سعاد؟</p> <p>الإجابة:.....[١]</p>	٥

	<p>أوجد قيمة $\frac{3}{4}$ العدد ٢٤</p> <p>الاجابة.....[١]</p>	٦
	<p>أوجد ناتج (١٤ - ١١) ÷ ٣</p> <p>الاجابة.....[١]</p>	٧
	<p>يفكر فيصل في عدد</p> <p>إذا أضفت لهذا العدد ٧ ثم قسمته على ٣ كانت الاجابة ٣</p> <p>العدد الذي يفكر فيه فيصل هو[١]</p>	٨
	<p>لدى عمار ٤ دبابيس حمراء و ٨ دبابيس خضراء</p> <p>١. ما تناسب الدبابيس الخضراء؟</p> <p>٢. ما نسبة الدبابيس الحمراء إلى الدبابيس الخضراء؟</p> <p>[٢]</p>	٩

(مدرسة أمية بنت قيس)

ب/ زينب العجمية

إعداد: أ/ نادية المعمرية