

تم تحميل هذا الملف من موقع المناهج العُمانية



*للحصول على أوراق عمل لجميع الصفوف وجميع المواد اضغط هنا

<https://almanahj.com/om>

* للحصول على أوراق عمل لجميع مواد الصف الخامس اضغط هنا

<https://almanahj.com/om/5>

* للحصول على جميع أوراق الصف الخامس في مادة اجتماعيات ولجميع الفصول, اضغط هنا

<https://almanahj.com/om/5social>

* للحصول على أوراق عمل لجميع مواد الصف الخامس في مادة اجتماعيات الخاصة بـ الفصل الثاني اضغط هنا

<https://almanahj.com/om./5social2>

* لتحميل كتب جميع المواد في جميع الفصول للـ الصف الخامس اضغط هنا

<https://almanahj.com/om./grade5>

للتحدث إلى بوت المناهج العمانية على تلغرام: اضغط هنا

https://t.me/omcourse_bot



سلطنة عمان

وزارة التربية والتعليم

ادارة التربية والتعليم بمحافظة الوسطى

امتحان الصف الخامس

للعام الدراسي ٢٠١٥/٢٠١٦

الفصل الدراسي الثاني - الدور الثاني

الدرجة الكلية

٤٠

اسم الطالب :

المادة : الدراسات الاجتماعية	العام الدراسي : ٢٠١٥/٢٠١٦
الزمن / ساعة ونصف	تنبيه : الاسئلة في (٤) ورقات

السؤال الأول : (١٦) درجة

١- بلغ عدد الذين حكموا من الأسرة الأموية خليفة :

(أ) ١٤ (ب) ٤١ (ج) ٤٢ (د) ٢٤

٢- إحدى الصناعات التالية تعد صناعة تحويلية :

(أ) استخراج اللؤلؤ (ب) استخراج النفط (ج) صيد الأسماك (د) تعليب الأسماك

٣- المعركة التي استشهد فيها عبد الرحمن الغافقي عند حدود الفرنجة (فرنسا) :

(أ) بلاط الشهداء (ب) شريش (ج) صفين (د) ذات الصواري

٤- الجهة الإدارية التي تقوم بمهمة النظر في الأسواق ومراقبة الأسعار والموازنين :

(أ) الوالي (ب) الحسبة (ج) القاضي (د) الوزير

٥- توجد واحة دم في:

(أ) مصر (ب) سلطنة عمان (ج) السعودية (د) الإمارات

٦- يتركز السكان على سواحل الخليج العربي بسبب توافر

(أ) المناخ المعتدل (ب) المياه (ج) النفط والغاز (د) التربة الخصب

٧- من أهدافها تدارس قضايا المجتمع واستقبال الضيف :

(أ) مراكز الوفاء الاجتماعي

(ب) المدارس

(ج) جمعية المرأة العمانية

(د) السبلة

٨- يتركز سكان سلطنة عمان في :

(أ) الجبلية الوعرة

(ب) سهل الباطنة و محافظة مسقط

(ج) الصحراوية

(د) الهضاب الداخلية الجافة

السؤال الثاني (٨ درجات)

أولاً:- أجب عن الأسئلة التالية:-

١- (كان عدد سكان سلطنة عمان في عام ١٩٩٣ م حوالي ١،٧٨١،٥٨٨ مليون نسمة ، وفي عام ٢٠٠٣ م أصبح عددهم ٢،٣٣١،٣٩١ مليون نسمة)
أجيب على الأسئلة التالية بالاستعانة بالكلمات الواردة في الشكل

التعداد

النمو السكاني

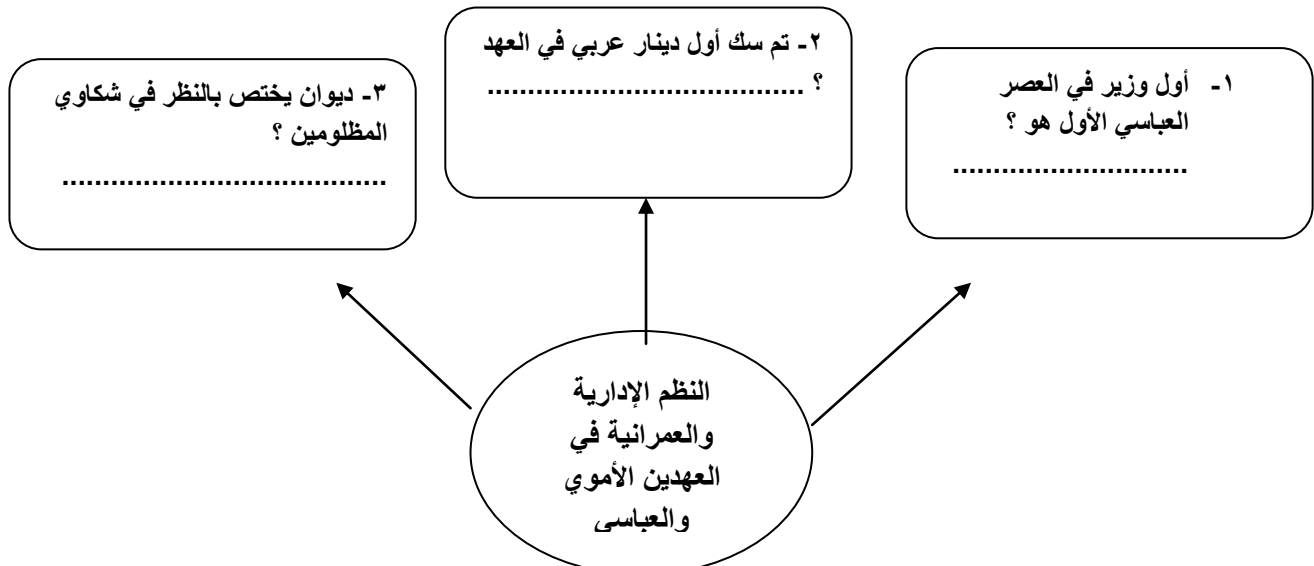
الزيادة الطبيعية والهجرة

(أ) ما العملية التي يتم بها معرفه عدد السكان في اي دولة ؟

(ب) ما الذي حدث لسكان سلطنة عمان خلال هذه الفترة ؟

(ت) ما السبب في هذا التغيير؟

ثانيا : أكمل المخطط المفاهيم الآتي :



ثالثا :

١- علل : قيام العرب المسلمين بالفتوحات؟

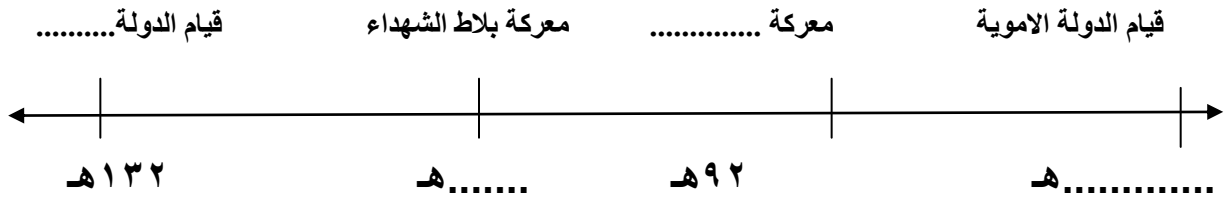
.....
.....

٢- اهتمام الدول العربية باستخدام الآلات الحديثة في الصناعة؟

.....
.....

السؤال الثالث : ٨ درجات

أولا : ١- أكمل المسطرة الزمنية الآتية :

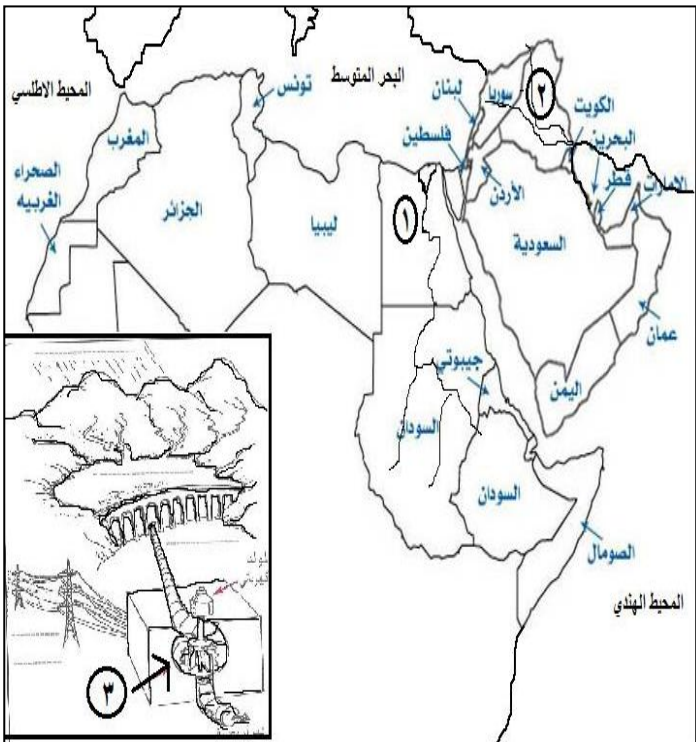


ثانيا : عدد اثنين من مصادر المياه الرئيسية في الوطن العربي؟

١- ٢-

ثالثا : تمعن في الخريطة الآتية والتي توضح الأنهار في الوطن العربي ثم اجب

عما يليها من أسئلة



١) يشير الرقم (١) إلى

٢) يشير الرقم (٢) إلى

٣) في هذه الدول يتم توليد الطاقة

الكهربائية حسب ما

يشير إليه الرقم ٣ من مياه :

أ)

ب) مثل :

السؤال الرابع : ٨ درجات

أولا : (من خلال الجدول الذي أمامك ، وحسب العادات والتقاليد العمانية المتوارثة)
- اكتب المناسبة التي تقال فيها العبارات التالية :

م	العبرة التي أقولها	المناسبة
١	عساكم من عواده	
٢	عظم الله أجركم ف الفقيد /الفقيدة	
٣	نسأل الله لكم الشفاء العاجل	
٤	بارك الله لك وبارك عليك وجمع بينكما على خير	

ثانيا : صنف العوامل المؤثرة في توزيع سكان الوطن العربي إلى عوامل طبيعية وبشرية :

(الهجرة ، التربة ، الخدمات ، أشكال السطح)

عوامل طبيعية	عوامل بشرية

ثالثا :

أ-أكمل الفراغات الآتية بالكلمات المناسبة:-

تضم شبه جزيرة ايبريا دولتي

.....و..... حاليا .

ب- ما معنى الجراب ؟

.....

انتهت الاسئلة مع اطيب الامنيات بالتوفيق



سلطنة عمان
وزارة التربية والتعليم
إدارة التربية والتعليم بمحافظة الوسطى

نموذج إجابة اختبار نهاية الفصل الدراسي الثاني - الدور الثاني للصف الخامس الأساسي للعام الدراسي
٢٠١٥ / ٢٠١٦ م

إجابة السؤال الأول : ١٦ درجة (لكل مفردة درجتان)				
المفردة	البديل الصحيح	الدرجة	الصفحة	
١	أ	٢	١٠	
٢	د	٢	٦٤	
٣	أ	٢	١٦	
٤	ب	٢	٢٩	
٥	ب	٢	٥٥	
٦	ج	٢	٤٥	
٧	د	٢	١٠١	
٨	ب	٢	٤٦	

إجابة السؤال الثاني ٨ درجات				
الجزئية	المفردة	الإجابة الصحيحة	الدرجة	الصفحة
أولاً	أ	التعداد	١	٣٨
	ب	النمو السكاني	١	٤٠
	ت	الزيادة الطبيعية والهجرة	١	٤٠
ثانياً	١	جعفر البرمكي	١	٢٨
	٢	الأموي	١	١٩
	٣	ديوان المظالم	١	٢٨
ثالثاً	١	من أجل نشر الدعوة الإسلامية.	١	١٢
	٢	للازدهار الصناعة وزيادة الإنتاج وجودته	١	٦٣

إجابة السؤال الثالث : ٨ درجات				
الجزئية	المفردة	الإجابة الصحيحة	الدرجة	الصفحة
أولا	١	قيام الدولة الأموية ٤١ هـ / معركة شريش ٩٢ هـ / معركة بلاط الشهداء ١١٤ هـ / قيام الدولة العباسية ١٣٢ هـ	٤ درجات لكل حدث درجة	١٦ / ١٠ ٢٤ / ١٦
ثانيا	١	الأمطار ، الأنهار ، المياه الجوفية . يكتفى بذكر إجابتان لكل نصف درجة .	١	٥٥
ثالثا	١	رقم (١) نهر النيل	١	٥٥
	٢	رقم (٢) نهر دجلة والفرات	١	٥٥
	٣	أ) يتم توليد الكهرباء من مياه السدود	نصف درجة	٦٩
		ب) مثال السد العالي بمصر / سد الفرات يكتفى بذكر احداها .	نصف درجة	٦٩

إجابة السؤال الرابع : ٨ درجات				
المفردة	الجزئية	الإجابة الصحيحة	الدرجة	الصفحة
أولا	١	العيد	٤ درجات لكل مفردة درجة	٩٩
	٢	العزاء		٩٩
	٣	زيارة المريض		٩٩
	٤	تهنئة الزواج		٩٩
ثانيا	١	عوامل طبيعية : التربة وأشكال السطح عوامل بشرية : الهجرة والخدمات	درجتان لكل مفردة نصف درجة	٤٥
ثالثا	أ	اسبانيا البرتغال	درجة لكل مفردة نصف درجة	١٦
	ب	هو كيس مصنوع من سعف النخيل مستطيل الشكل يعبأ فيه التمر .	درجة	٩٨