

شكراً لتحميلك هذا الملف من موقع المناهج العمانية



الاختبار النهائي الرسمي في محافظة مسقط

[موقع المناهج](#) ⇨ [المناهج العمانية](#) ⇨ [الصف الخامس](#) ⇨ [اجتماعيات](#) ⇨ [الفصل الثاني](#) ⇨ [الملف](#)

تاريخ نشر الملف على موقع المناهج: 05:45:54 2023-05-18

التواصل الاجتماعي بحسب الصف الخامس



روابط مواد الصف الخامس على تلغرام

[الرياضيات](#)

[اللغة الانجليزية](#)

[اللغة العربية](#)

[التربية الاسلامية](#)

المزيد من الملفات بحسب الصف الخامس والمادة اجتماعيات في الفصل الثاني

| | |
|----------------------------------------------------------------------------|---|
| كتاب المادة المنهج الجديد | 1 |
| نموذج إجابة الاختبار النهائي الرسمي في محافظة جنوب الباطنة | 2 |
| الاختبار النهائي الرسمي في محافظة جنوب الباطنة | 3 |
| نموذج إجابة الاختبار النهائي الرسمي في محافظة الداخلية | 4 |
| الامتحان الرسمي النهائي بمحافظه جنوب الباطنة | 5 |

(٣)

المادة: الدراسات الاجتماعية الفترة الصباحية الصف: الخامس الدور الأول- الفصل الدراسي الثاني العام الدراسي ٢٠٢٢-٢٠٢٣

السؤال الثاني: أجب عن الأسئلة الآتية:

أولا: اكتب اسم المفهوم الصحيح أمام كل عبارة في الجدول التالي:

| المفهوم | العبارة | م |
|---------|---------------------------------------------------------------------|----|
| | تغيير شكل وطبيعة المواد الخام إلى شكل آخر تلبية لحاجات الإنسان . | أ- |
| | فن من الفنون الشعبية العمانية في الإلقاء الشعري دون تنغيم أو غناء . | ب- |
| | زيادة عدد السكان من سنة إلى أخرى . | ج- |

ثانيا: علل بواحد لكل من :

أ- هجرة العمانيين في العصر العباسي إلى العراق وبلاد الأندلس .

.....

ب- رغبة الدولة الأموية للسيطرة على عُمان .

.....

ثالثا: رتب الحملات العباسية للسيطرة على عُمان في الجدول الآتي من الأقدم إلى الأحدث بوضع الأرقام (١ . ٢ . ٣) :

| الترتيب | الحملات العباسية |
|---------|--------------------|
| | حملة عيسى ابن جعفر |
| | حملة محمد بن نور |
| | حملة خازم بن خزيمه |

(١)

المادة: الدراسات الاجتماعية-الفترة الصباحية الصف: الخامس الدور الأول- الفصل الدراسي الثاني العام الدراسي ٢٠٢٢/٢٠٢٣ م

أجب عن جميع الأسئلة الآتية

السؤال الأول: ضع دائرة حول رمز الإجابة الصحيحة لكل مفردة من المفردات الآتية:
١- صاحب كتاب (الكامل في اللغة والادب):

- أ- أبو العباس المبرد ب- ابن الذهبي ج- محمد بن جعفر د- محمد بن نور

٢- الجدول الصحيح الذي يمثل عوامل التكامل العربي والمثال المرتبط به:

| | | |
|-----------------|----------------------------|----|
| التاريخ المشترك | تنوع التضاريس والمناخ | أ- |
| الموقع الجغرافي | قامت على أرضه حضارات عريقة | |


| | | |
|-----------------|----------------------------|----|
| الموقع الجغرافي | تنوع التضاريس والمناخ | ب- |
| التاريخ المشترك | قامت على أرضه حضارات عريقة | |

| | | |
|---------------|----------------------------|----|
| اللغة العربية | تنوع التضاريس والمناخ | ج- |
| اللغة العربية | قامت على أرضه حضارات عريقة | |

| | | |
|-----------------|----------------------------|----|
| اللغة العربية | تنوع التضاريس والمناخ | د- |
| التاريخ المشترك | قامت على أرضه حضارات عريقة | |

٣- المحصول الزراعي الذي بلغ إنتاجه ٣٢٪ من إجمالي إنتاج الوطن العربي لعام ٢٠١٤ م في الشكل المقابل:

- أ- الحبوب ب- الفواكه
ج- الخضروات د- التمور



٤- عامل التكامل العربي الذي تشير إليه الآية القرآنية (وَأَعْتَصِمُوا بِحَبْلِ اللَّهِ

جَمِيعًا وَلَا تَفَرَّقُوا وَاذْكُرُوا نِعْمَتَ اللَّهِ عَلَيْكُمْ إِذْ كُنْتُمْ أَعْدَاءَ قَائِلٍ بَيْنَ قُلُوبِكُمْ فَاصْبَحْتُمْ بِنِعْمَتِهِ إِخْوَانًا ﴿١٠٣﴾ سورة آل عمران:
أ- اللغة العربية ب- الدين الإسلامي ج- التاريخ المشترك د- العادات والتقاليد

٥- الشجرة التي وجه جلاله السلطان قابوس بن سعيد -طيب الله ثراه- بزراعة مليون شجرة منها:
أ- النارجيل ب- الليمون ج- الموز د- النخيل

تابع السؤال الأول:


٦- الطاقة التي استفادت منها عدد من مدارس السلطنة بالتعاون مع شركة شل للتنمية:




د-



ج-



ب-



أ-

٧- إنشاء مكتبة بيت الحكمة يعتبر أحد منجزات الدولة العباسية:

د-الاقتصادية

ج-الإدارية

ب-الفكرية

أ-العمرانية

٨-الرقم الدال على المحافظة العمانية التي يوجد بها مشروع حقل خزان لإنتاج الغاز الطبيعي:

د-٤

ج-٣

ب-٢

أ-١



٩-العام الميلادي الذي أنشئت فيه جامعة الدول العربية:

د-١٩٤٥

ج-١٩٤٤

ب-١٩٤٣

أ-١٩٤٢

١٠-العامل الطبيعي المؤثر في توزيع السكان في الوطن العربي:

د-النشاط الاقتصادي

ج-الأوضاع السياسية

ب-المناخ

أ-توفر الخدمات

١١-المدينة العمانية التي سميت ببيضة الإسلام في العصر العباسي :

د- مسقط

ج- نزوى

ب- صور

أ-صحار

١٢-الرقم الدال على الدولة التي يوجد بها مقر جامعة الدول العربية:

د-٤

ج-٣

ب-٢

أ-١



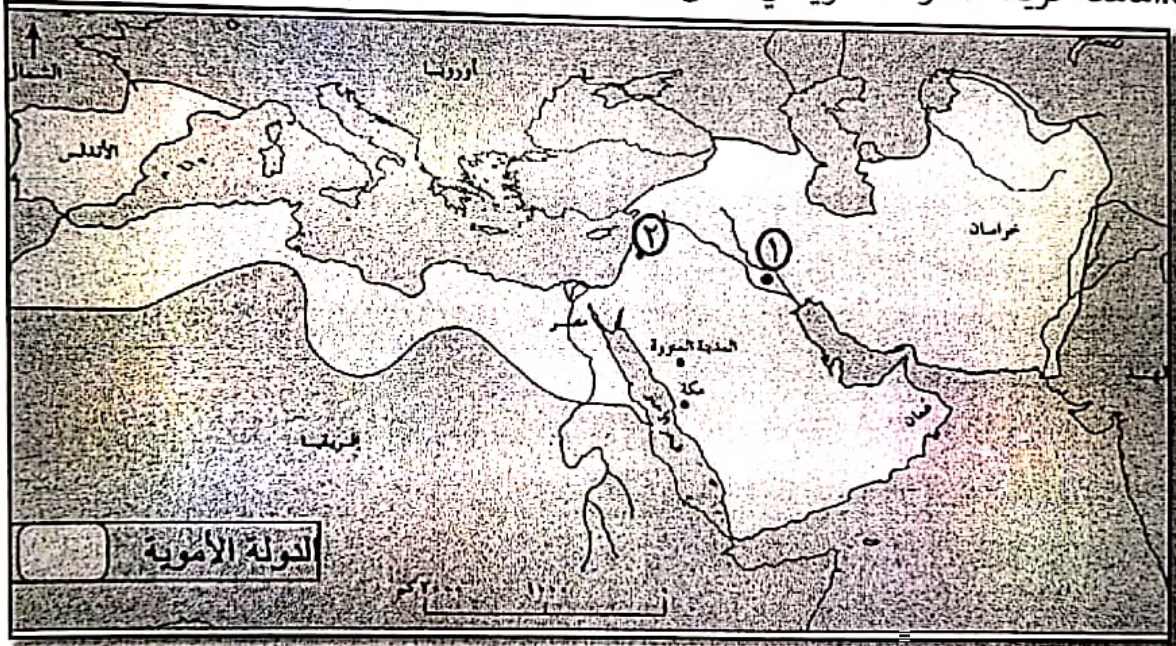
السؤال الرابع: أجب عن الأسئلة الآتية:

أولاً: علل بواحد لكل من:

أ- أهمية الصناعة في الوطن العربي .

ب- يتركز السكان بكثرة على ضفاف الأنهار الكبرى .

ثانياً: أمامك خريطة الدولة الأموية في أقصى امتدادها ادرسها جيد ثم أجب عن الأسئلة الآتية:



أ- الرقم الذي يشير إلى عاصمة الدولة الأموية ()

ب- اكتب على الخريطة البحر المتوسط في موقعه الصحيح .

ج- استخرج من الخريطة البلاد التي امتد إليها حكم الدولة الأموية في قارة أوروبا.....

ثالثاً: عرف المقصود بالتكامل العربي ؟

(٤)

مادة: الدراسات الاجتماعية-الفترة الصباحية الصف: الخامس الدور الأول- الفصل الدراسي الثاني العام الدراسي ٢٠٢٢/٢٠٢٣ م


سؤال الثالث: أجب عن الأسئلة الآتية:

لأ: أذكر واحداً لكل من .:

-مصادر البيانات السكانية .

-الصفات الحميدة التي عرف بها العرب منذ القدم .

انيا: اكتب أسفل كل صورة مجال التعاون والتكامل العربي الذي تنتمي إليه:



ب- (.....)



أ- (.....)

ثالثا: ١- صنف الصور التالية حسب المشكلة السكانية التي تمثلها وذلك بكتابة رمز الصورة في الجدول الآتي:



ب-



أ-

| المشكلة | الاختناقات المرورية | التلوث البيئي |
|---------|---------------------|---------------|
| الرمز | | |

٢- قارن بين مصادر الطاقة المتجددة ومصادر الطاقة غير المتجددة من حيث المفهوم في الجدول التالي:

| وجه المقارنة | مصادر الطاقة المتجددة | مصادر الطاقة غير المتجددة |
|--------------|-----------------------|---------------------------|
| المفهوم | | |

(٦)

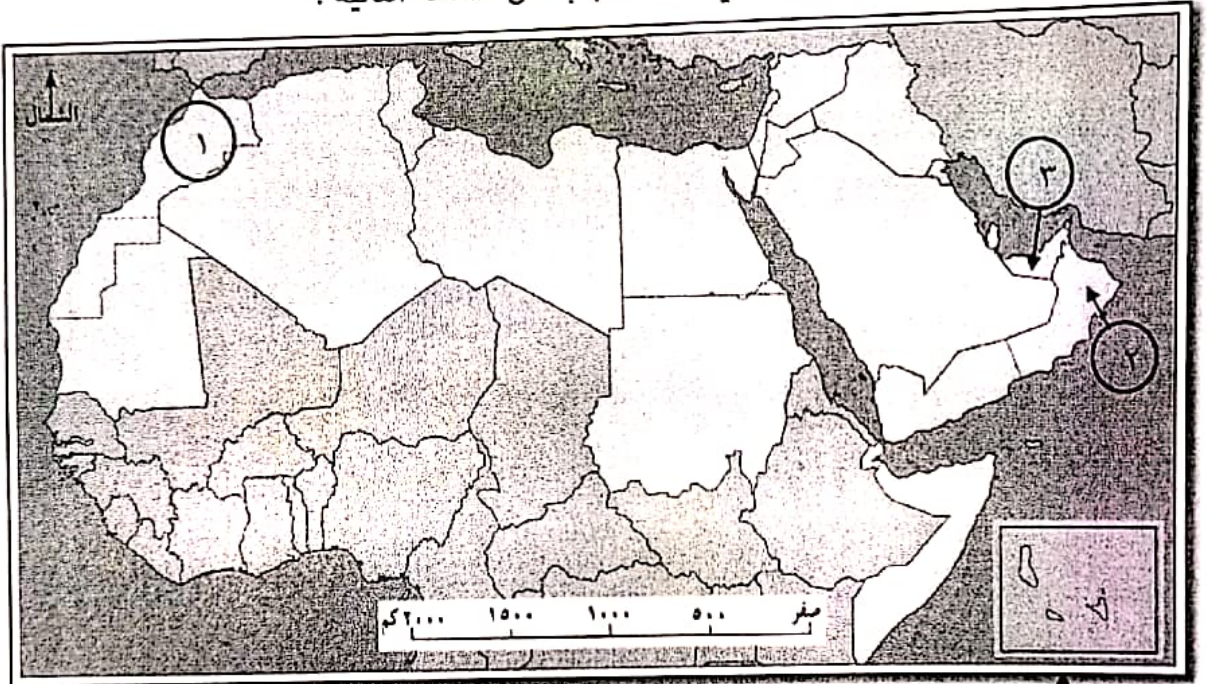
المادة: الدراسات الاجتماعية-الفترة الصباحية الصف: الخامس الدور الأول- الفصل الدراسي الثاني العام الدراسي ٢٠٢٢/٢٠٢٣ م

السؤال الخامس: أجب عن الأسئلة الآتية:

أولاً: اكتب اسم الشخصية التاريخية العمانية التي قامت بالأعمال الموضحة في الجدول التالي:

| م | العمل الذي قامت به |
|---|-------------------------------------------|
| أ | أرسل الأسطول العماني لتحرير جزيرة سقطرى . |
| ب | عينه الأمويون والياً على عمان . |
| | اسم الشخصية |
| | |
| | |

ثانياً: من خلال خريطة الوطن العربي التي أمامك أجب عن الأسئلة التالية :



أ- ضع الرمز ▲ على الدولة العربية التي احتلت المرتبة الأولى في إنتاج النفط لعام ٢٠١٦ م

ب- اكتب على الخريطة المحيط الهندي في مكانه الصحيح .

ج- الرقم الذي يشير إلى الدولة التي يوجد بها مشروع نور للطاقة الشمسية ()

د- اذكر واحداً من عوامل الجذب السياحي في الوطن العربي ؟

.....

انتهت الأسئلة مع الدعاء للجميع بالتوفيق والنجاح.