

## شكراً لتحميلك هذا الملف من موقع المناهج العمانية



## الاختبار النهائي الرسمي في محافظة ظفار

[موقع المناهج](#) ⇨ [المناهج العمانية](#) ⇨ [الصف الخامس](#) ⇨ [اجتماعيات](#) ⇨ [الفصل الثاني](#) ⇨ [الملف](#)

تاريخ نشر الملف على موقع المناهج: 2023-05-16 06:27:02

## التواصل الاجتماعي بحسب الصف الخامس



## روابط مواد الصف الخامس على تلغرام

[الرياضيات](#)

[اللغة الانجليزية](#)

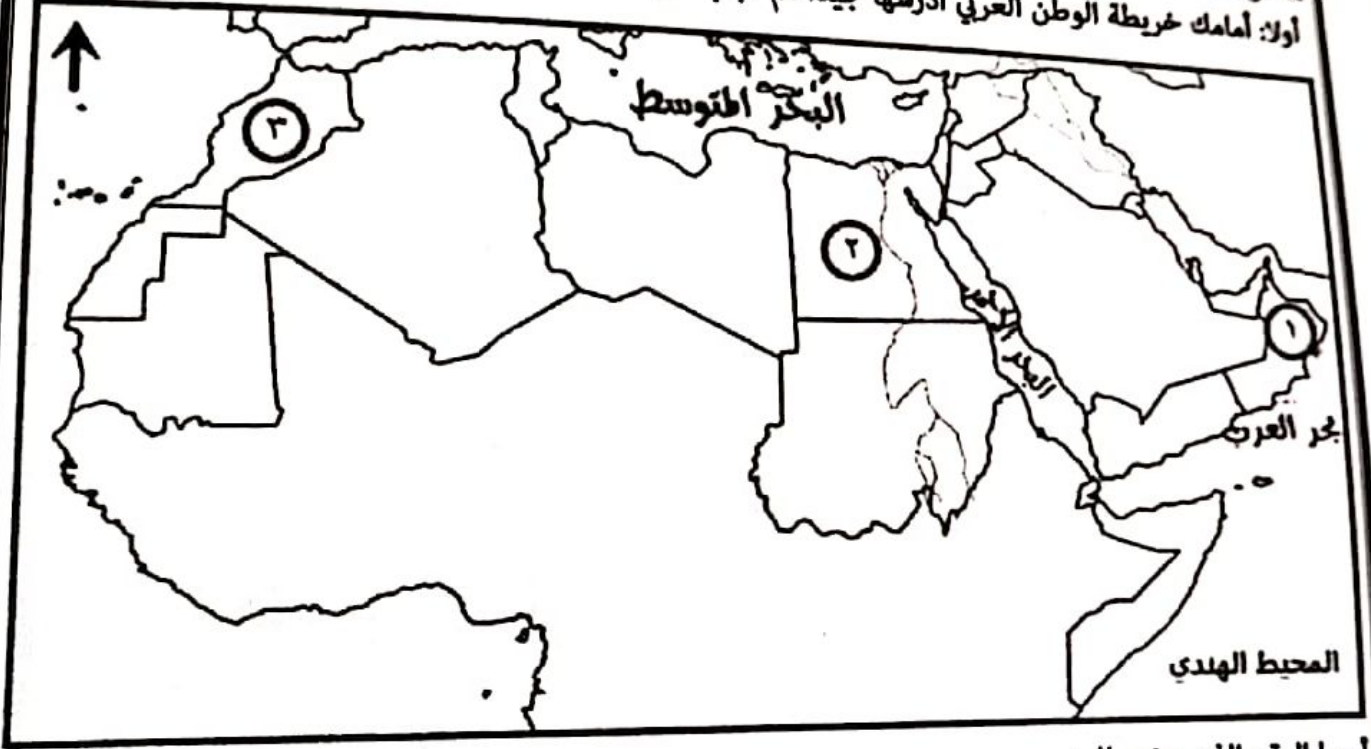
[اللغة العربية](#)

[التربية الاسلامية](#)

## المزيد من الملفات بحسب الصف الخامس والمادة اجتماعيات في الفصل الثاني

<a href="#">كتاب المادة المنهج الجديد</a>	1
<a href="#">نموذج إجابة الاختبار النهائي الرسمي في محافظة جنوب الباطنة</a>	2
<a href="#">الاختبار النهائي الرسمي في محافظة جنوب الباطنة</a>	3
<a href="#">نموذج إجابة الاختبار النهائي الرسمي في محافظة الداخلية</a>	4
<a href="#">الامتحان الرسمي النهائي بمحافظة جنوب الباطنة</a>	5

السؤال الخامس: أجب عن الأسئلة التالية:  
أولا: أمامك خريطة الوطن العربي ادرسها جيدا ثم أجب عن الأسئلة الآتية:



١- ما الرقم الذي يشير إلى:

( ) الدولة العربية التي يوجد فيها مشروع نور للطاقة الشمسية .

( ) الدولة التي نفذت مشروع المليون نخلة .

ب- وقع على الخريطة الدولة التي تقع فيها عاصمة الدولة العباسية . (.....)

ج- ضع دائرة على المحيط الذي نشطت فيه التجارة البحرية العمانية في عهد الدولة الأموية .

ثانيا - أجب عن الأسئلة التالية :

أ- علل : تسمية نزوى ببيضة الإسلام ؟

ب- أذكر إحدى الحضارات التي قامت في الوطن العربي ؟

٦

انتهت الأسئلة مع الدعاء للجميع بالتوفيق والنجاح

السؤال الرابع: أجب عن الأسئلة التالية:

أولاً:

- ١- واجهت الخلافة الإسلامية العديد من الصعوبات في إدارة شؤون الدولة وذلك لعدة عوامل أهمها: اتساع الدولة وصعوبة الإتصال بين أجزائها ومعارضة الحكم مما أدى إلى سقوطها، في ضوء العبارة السابقة أجب عما يأتي:
- أ- استنتج اسم الدولة الإسلامية التي يشير إليها النص السابق؟  
ب- وضح إحدى الصعوبات التي أدت إلى سقوط هذه الدولة؟

- ٢- صنف الصناعات التالية الى صناعات استخراجية وصناعات تحويلية بوضع إشارة (✓) أمام العبارة التي تناسبها:

وجه المقارنة	صناعات استخراجية	صناعات تحويلية
صيد الأسماك		
صناعة الزجاج		
استخراج النفط والغاز		
تعليب الخضار والفواكه		

ثانياً : أجب عن الأسئلة التالية :

- أ- علل: تعد الزراعة من الأنشطة الاقتصادية المهمة في الوطن العربي؟

- ب- فسر: تسمية الدولة الأموية بهذا الاسم؟

## أجب عن جميع الأسئلة الآتية

السؤال الأول: ضع دائرة حول رمز الإجابة الصحيحة لكل مفردة من المفردات الآتية:

١ - بلغ عدد خلفاء الدولة الأموية :

د- ١٥

ج- ١٤

ب- ١٣

أ- ١٢


٢- تشير صورة الكتاب المقابلة إلى أحد المنجزات الفكرية العمانية في مجال:

ب- الطب

أ- الفقه

د- الجغرافيا

ج- الفلك



٣- المحصول الزراعي الذي يحتل المرتبة الأولى

في الإنتاج الزراعي في الوطن العربي كما يوضحه

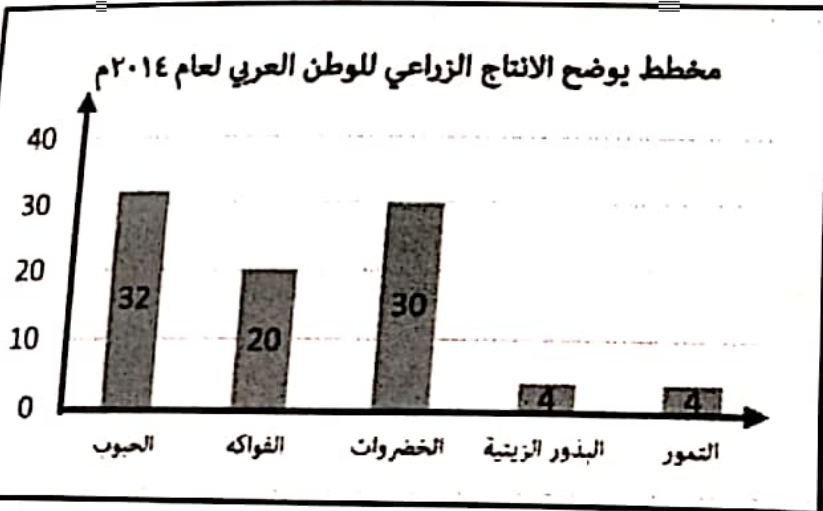
شكل المقابل:

ب- الخضروات

أ- الحبوب

د- البذور الزيتية

ج- التمور



لعام الميلادي الذي تم فيه إجراء أول تعداد سكاني في سلطنة عمان:

د- ١٩٩٣

ج- ١٩٩٢

ب- ١٩٩١

أ- ١٩٩٠

ل تعالی: (وَاعْتَصِمُوا بِحَبْلِ اللَّهِ جَمِيعًا وَلَا تَفَرَّقُوا) القيمة الاجتماعية التي نستنتجها من هذه الآية:

د- الحرب

ج- التعاون

ب- الأمانة

أ- التفرقة

(٢)

الصف : الخامس

٢٠٢٢/٢٠٢٣ م

المادة : الدراسات الاجتماعية  
الدور الأول - الفصل الدراسي الثاني - العام الدراسي ٢٠٢٢/٢٠٢٣ م

تابع السؤال الأول:

٦- الدولة الخليجية التي تصدر إنتاج النفط على مستوى الوطن العربي :

د- البحرين

ج- الامارات

ب- الكويت

أ- السعودية

د- الموارد الطبيعية

ج- توفر الخدمات

٧- العامل البشري المؤثر في توزيع السكان في الوطن العربي:

ب- التضاريس

أ- المناخ

٨- الترتيب الصحيح لحملات السيطرة العباسية على عمان من الأقدم إلى الأحدث:

أ- ( محمد بن نور - خازم ابن خزيمه - عيسى ابن جعفر )

ب- ( عيسى ابن جعفر - محمد بن نور - خازم ابن خزيمه )

ج- ( محمد بن نور - عيسى ابن جعفر - خازم ابن خزيمه )

د- ( خازم ابن خزيمه - عيسى ابن جعفر - محمد بن نور )

٩- يرمز الشعار المقابل لمنظمة إقليمية يقع مقرها في مدينة:

د- دمشق

ج- بغداد

ب- القاهرة

أ- مسقط

١٠- يطلق على زيادة عدد السكان من سنة إلى أخرى اسم :

د- التعداد السكاني

ج- النمو السكاني

ب- الهجرة السكانية

أ- الكثافة السكانية

١١- شخصية عمانية تولت ولاية عمان زمن الدولة الأموية :

د- زهير بن قرضم

ج- كعب بن سور

ب- زياد بن المهلب

أ- كعب بن برشة

١٢- الصورة التي أمامك تشير إلى إحدى أشكال المجال الثقافي والرياضي الذي أقيم في سلطنة عمان هو:

ب- جامعة الدول العربية

د- معرض الكتاب العربي

أ- مجلس التعاون الخليجي  
ج- المؤتمر الكشفي العربي ٢٨

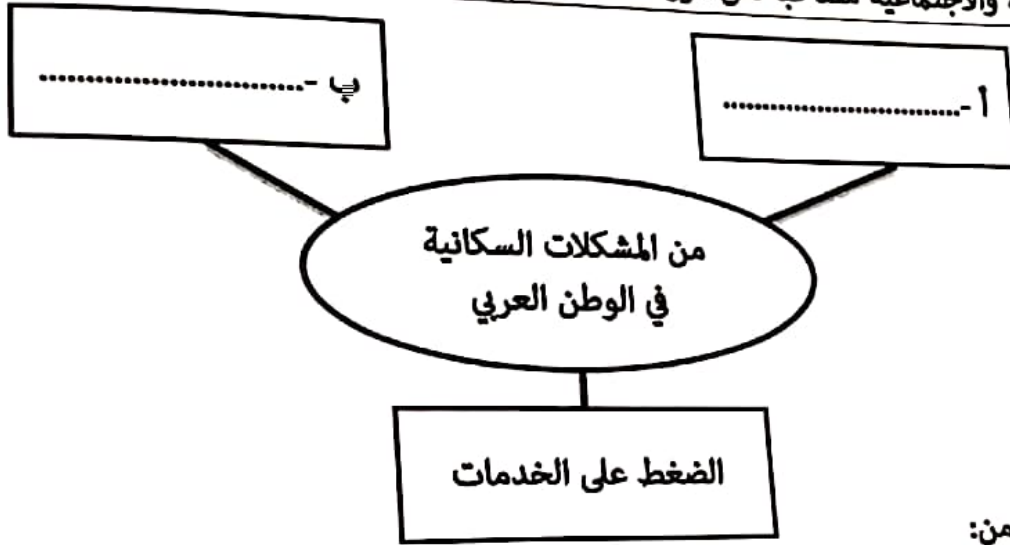


السؤال الثالث: أجب عن الأسئلة التالية:

أولاً: ١- أكتب مقابل كل عبارة في الجدول الآتي المصطلح الدال عليها:

المفهوم	العبارة	م
.....	التبادل القائم بين الدول لتحقيق أهداف مشتركة .	أ
.....	فن الإلقاء الشعري دون تنغيم أو غناء ، ويؤدى في المناسبات الوطنية والاجتماعية مصاحبا لفن الرزحة.	ب

٢- أكمل الشكل التالي:



ثانياً: ١- أذكر مثال واحد لكل من:

أ- المحاصيل الزراعية التي اشتهرت بها عمان في العصر العباسي؟

ب- اهتمام السلطنة لتحقيق التكامل العربي بين الدول العربية في المجال الاقتصادي؟

٢- صنف الصور التالية إلى أنواع الطاقة (طاقة متجددة- طاقة غير متجددة) :



ب-.....

أ-.....

.....

السؤال الثاني: أجب عن الأسئلة التالية:  
أولاً: اذكر اثنين لكل من :

أ- استخدامات الغاز الطبيعي في الوطن العربي .

- .....
- .....

ب- المنجزات العمرانية للدولة العباسية .

- .....
- .....

ثانياً : ١- ادرس الشكل التالي جيداً ثم أجب عن الأسئلة التالية :

أ- تشير الصورة إلى أحد عوامل التكامل العربي هي ؟


.....

ب- كيف اهتمت منظمة الأمم المتحدة بهذا العامل؟

٢- قارن بين الصورة رقم ( أ ) والصورة رقم ( ب ) حسب الجدول التالي :



الصورة ( ب )



الصورة ( أ )

الصورة ( ب )	الصورة ( أ )	أوجه المقارنة
.....	.....	عامل الجذب السياحي

٨