

شكراً لتحميلك هذا الملف من موقع المناهج العمانية



اختبار قصير أول نموذج حديث

[موقع المناهج](#) ⇨ [المناهج العمانية](#) ⇨ [الصف الخامس](#) ⇨ [اجتماعيات](#) ⇨ [الفصل الأول](#) ⇨ [الملف](#)

تاريخ نشر الملف على موقع المناهج: 04:17:08 2023-10-31 | اسم المدرس: محمود الخاطري

التواصل الاجتماعي بحسب الصف الخامس



روابط مواد الصف الخامس على تلغرام

[الرياضيات](#)

[اللغة الانجليزية](#)

[اللغة العربية](#)

[التربية الاسلامية](#)

المزيد من الملفات بحسب الصف الخامس والمادة اجتماعيات في الفصل الأول

[نموذج امتحان نهاية الدور الأول نسخة جديدة](#)

1

[نموذج امتحان نهاية الدور الأول نسخة جديدة](#)

2

[أسئلة الاختبار الرسمي مسقط](#)

3

[أسئلة الاختبار الرسمي جنوب الشرقية](#)

4

[أسئلة الاختبار الرسمي الداخلية](#)

5



اسم الطالب:

الدرجة: 15 درجات
زمن الإجابة: 20 دقائق
التاريخ: 5/ 10/ 2023م

السلطنة عمان
وزارة التربية والتعليم
المديرية العامة للتربية والتعليم/الداخلية
مدرسة محمد بن اسماعيل للحاضر للتعليم الاساسي(5-10)

اختبار قصير (1) للصف الخامس لمادة الدراسات الاجتماعية

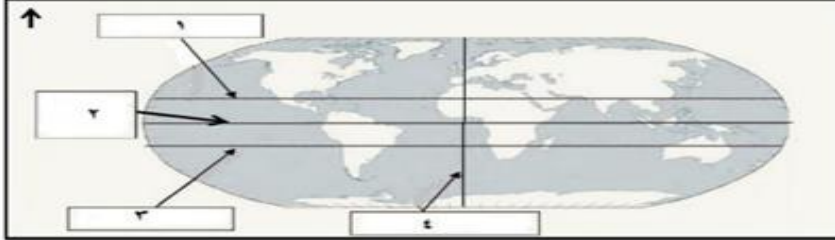
* السؤال الاول : ضع دائرة حول الإجابة الصحيحة من بين البدائل المعطاة:



1- الخريطة التي أمامك تمثل خريطة العالم التي رسمها :

- أ- المسعودي
ب- أحمد بن ماجد
ب- الإدريسي
ج- الاصطخري

٢- الرقم الذي يشير إلى دائرة الاستواء في الخريطة الآتية:



- أ (١)
ب (٢)
ج (٣)
د (٤)

3- جميع الخصائص التالية تنتمي الى الشكل الذي أمامك ماعدا :

- أ- عددها 360 خطا
ب- أنصاف دوائر
ج- الخط الرئيسي جرينتش
د- عددها 180 دائرة



4- الصورة التي أمامك للملاح العماني الشهير الذي قام بوضع كتاب:

- أ- نزهة المشتاق في اختراق الأفاق
ب- معجم البلدان
ج- الفوائد في أصول علم البحر والقواعد
د- لسان العرب



5- الحضارة التي رسمت خرائطها على أسس علمية دقيقة :



- أ- الإغريق
ب- المسلمون
ج- البابليون
د- المصريون

السؤال الثاني: أجب عن الأسئلة التالية:

1- أذكر اثنين من عوامل تطور علم الخرائط عند المسلمين؟

أ-
ب-

2- قارن في الجدول التالي بين خرائط الحضارات الموضحة أمامك :

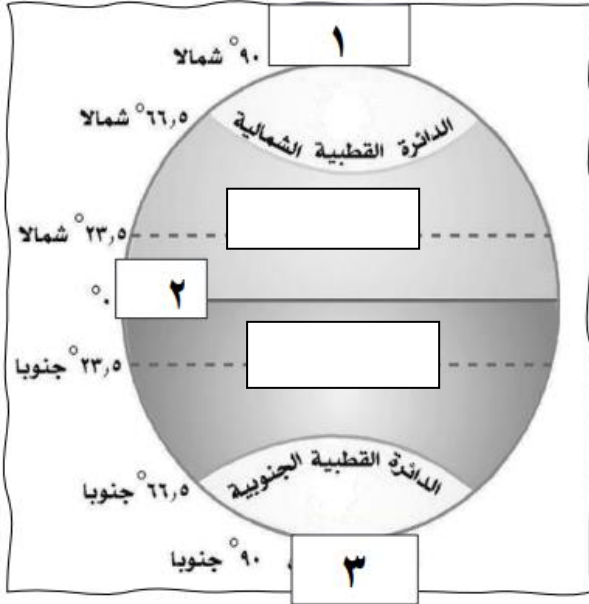
الصورة	وجه المقارنة
	اسم المادة التي استخدمت لنقش أو رسم الخرائط
	اسم الحضارة أو الشعب التي رسمها

3- علل ما يلي:

أ- يعد البابليون من أوائل الشعوب الذين قاموا برسم الخرائط التفصيلية؟

ب- لم يعثر على نماذج من خرائط العالم التي رسمها المصريون قديما؟

4- إذا كانت الساعة 6 صباحا على خط جرينتش فكم الساعة في الاسكندرية والتي تبعد 30 خط شرق جرينتش؟



السؤال الثالث: أجب عن الأسئلة التالية:

أولا: ادرس الشكل الذي أمامك ثم أجب عن الأسئلة التي تليها:

1- ما الرقم الذي يشير في الشكل الى القطب الشمالي (.....)

2- حدد بالكتابة على الشكل (مدار الجدي - مدار السرطان)

3- ما الرقم الدال على المنطقة الحارة (.....).

خطوط الطول
دوائر العرض

أ | محمود الخاطري

تمنياتي للجميع بالتفوق والنجاح