

تم تحميل هذا الملف من موقع المناهج العمانية



اختبار قصير ثاني من الإجابة

موقع فايلاتي ⇨ المناهج العمانية ⇨ الصف الخامس ⇨ اجتماعيات ⇨ الفصل الأول ⇨ اختبارات ⇨ الملف

تاريخ إضافة الملف على موقع المناهج: 2024-12-21 10:45:13

ملفات اكتب للمعلم اكتب للطالب | الاختبارات الالكترونية | اختبارات | حلول | عروض بوربوينت | أوراق عمل
منهج انجليزي | ملخصات وتقارير | مذكرات وبنوك | الامتحان النهائي للمدرس

المزيد من مادة
اجتماعيات:

التواصل الاجتماعي بحسب الصف الخامس



صفحة المناهج
العمانية على
فيسبوك

الرياضيات

اللغة الانجليزية

اللغة العربية

التربية الاسلامية

المواد على تلغرام

المزيد من الملفات بحسب الصف الخامس والمادة اجتماعيات في الفصل الأول

بنك الأسئلة الموضوعية للمنهج مصحوبة بنموذج الإجابة

1

حل أنشطة دفتر الطالب

2

حل أنشطة الكتاب للوحدة الثانية

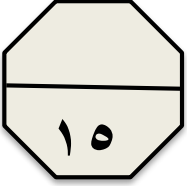
3

حصاد درس عمان قبل الإسلام

4

مذكرة إثرائية سؤال وجواب في الوحدة الثانية (شبه الجزيرة العربية وعمان قبل الإسلام)

5



الاختبار القصير الثاني في مادة الدراسات الاجتماعية للصف السادس (الفصل الدراسي الأول)

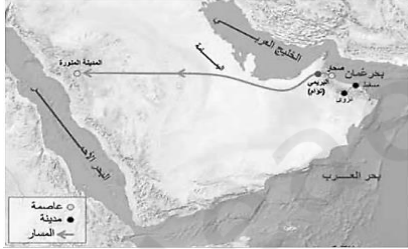
اسم الطالب / الصف : سادس / الرقم ()

• أولا : الأسئلة الموضوعية : ضع دائرة حول الإجابة الصحيحة لكل مفردة من المفردات التالية :

١ - الإسم الذي أطلق على جماعة الناس الذين رجعوا عن الإسلام وأنكروا بعض أركانه بعد وفاة النبي (ص) :

- أ- المرتدين ب- المنافقين ج- الصحابة د- المسلمين

٢ - عاصمة عمان في عهد الخلافة الراشدة مستعينا بالخريطة المقابلة:



- أ - البريمي ب- المدينة المنورة
ج- نزوى د- صحار

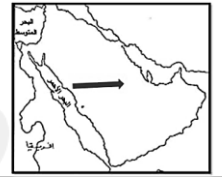
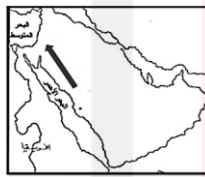
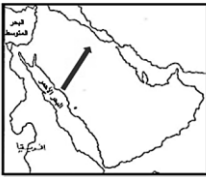
٣ - عدد سنوات عصر الخلافة الراشدة :

- أ- ٢٧ ب- ٢٨ ج- ٢٩ د- ٣٠

٤ - ممثل حاكم الدولة في ولاية من الولايات يعرف ب :

- أ- الخليفة ب- الوالي ج- الإمام د- القائد

٥ - الخريطة التي توضح مسار جيش عبد بن الجندى لمواجهة آل جفنة :



• ثانيا: الأسئلة المقالية : أجب عن الأسئلة التالية :

٦- صنف الشخصيات التالية حسب الأعمال التي قاموا بها :

- (أ- عبد بن الجندى / ب- حذيفة بن محصن / ج- عقبة بن النعمان العنكي)

الأعمال	رمز الشخصية
والي عمان في عهد الخليفة أبو بكر الصديق	
شاعر من أهل عمان ثبت على الإسلام بعد وفاة النبي (ص)	
تمكن من مواجهة الغساسنة المرتدين من قبيلة آل جفنة	

٧- عدد اثنين من منجزات الخلفاء الراشدين .

درجتان

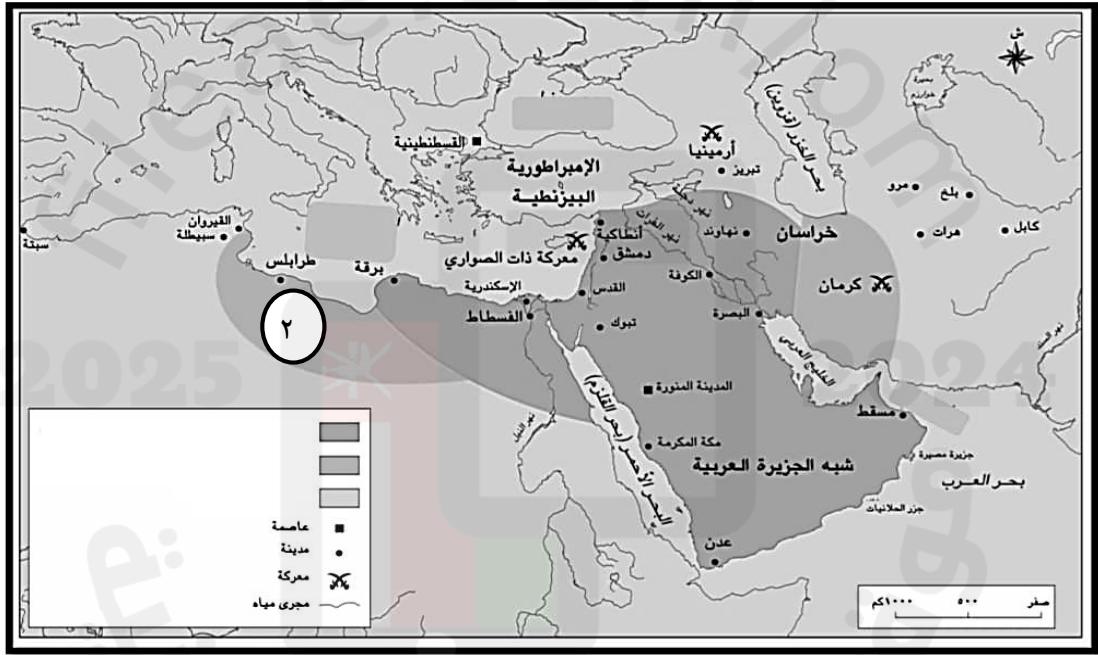
/٢

٨- قارن بين انتقال الحكم بين الخلفاء الراشدين من خلال الجدول الآتي :

درجتان

طريقة الاختيار	الفترة الزمنية	
		أبو بكر الصديق
		علي بن أبي طالب

٩- ادرس خريطة الفتوحات الإسلامية في عصر الخلفاء الراشدين ، ثم أجب عن الأسئلة التي تليها :



درجة

أ- ظلل اسم الخليفة الراشدي الذي يمثل الرقم (٢) على الخريطة امتداد الدولة الإسلامية في عهده:

عمر بن الخطاب

عثمان بن عفان

درجة

ب- ضع دائرة حول عاصمة الدولة الإسلامية في عهد الخلفاء الراشدين.

درجة

ج- (هناك مناطق لم تكن ضمن الدولة الإسلامية في عهد الخلفاء الراشدين) اذكر منطقة واحدة فقط.