

تم تحميل هذا الملف من موقع المناهج العُمانية



\*للحصول على أوراق عمل لجميع الصفوف وجميع المواد اضغط هنا

<https://almanahj.com/om>

\* للحصول على أوراق عمل لجميع مواد الصف الخامس اضغط هنا

<https://almanahj.com/om/5>

\* للحصول على جميع أوراق الصف الخامس في مادة اجتماعيات ولجميع الفصول, اضغط هنا

<https://almanahj.com/om/5social>

\* للحصول على أوراق عمل لجميع مواد الصف الخامس في مادة اجتماعيات الخاصة بـ الفصل الثاني اضغط هنا

<https://almanahj.com/om/5social2>

\* لتحميل كتب جميع المواد في جميع الفصول للـ الصف الخامس اضغط هنا

<https://almanahj.com/om/grade5>

\* لتحميل جميع ملفات المدرس مريم القائدي اضغط هنا

للتحدث إلى بوت على تلغرام: اضغط هنا

[https://t.me/omcourse\\_bot](https://t.me/omcourse_bot)



سلطنة عمان

وزارة التربية والتعليم

المديرية العامة للتربية والتعليم

مدرسة ام كلثوم بنت عقبة لتعليم الاساسي

# كراسة التميز لمادة الدراسات الاجتماعية لصف الخامس



اعداد الاستاذة : مريم القائدي

## السكان في الوطن العربي



مفاهيم و مصطلحات :-

اكتب على الاوراق المصطلحات للمفاهيم التالية :-

عملية جمع و إعداد المعلومات السكانية و الاقتصادية و الاجتماعية المتعلقة بجميع الأفراد في دولة معينة و في فترة زمنية محددة


زيادة عدد السكان من سنة الى أخرى

انتشار السكان في منطقة معينة

الزيادة الناتجة عن الهجرة



علم يهتم بدراسة خصائص السكان مثل النمو السكاني و التوزيع الجغرافي و المشكلات السكانية

الزيادة الناتجة عن الفرق بين عدد المواليد و عدد الوفيات



ادرس الصور ثم استنتج ما تمثله كل صور لاحد خصائص جغرافية السكان ( المشكلات السكانية ) ؟ -

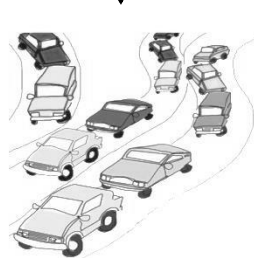
المتغيرات السكانية التي يمر بها سكان الوطن العربي



أسباب الهجرة

..... و .....

المشكلات الناتجة عن الهجرة



.....

.....

.....

.....

أكمل الخريطة المفاهيمية التالية التي تبين خصائص جغرافية السكان .

التعريف جغرافية السكان

يهتم بدراسة ثلاث جوانب

التوزيع الجغرافي

التعريف

التعريف

يرتبط النمو السكاني بعاملين هما :-

العوامل البشرية

( ..... / الموارد الطبيعية / ..... )

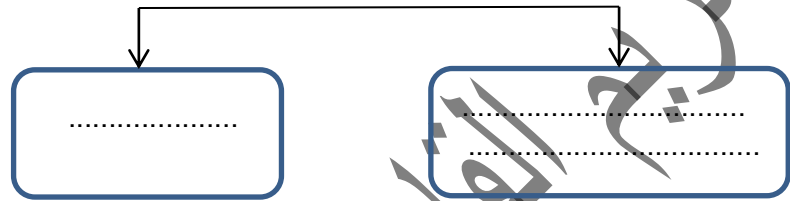
( ..... / الأوضاع السياسية / ..... )

الأسئلة المقالية لدرس الأول :-

١/ فسر تهتم الدول العربية بجمع المعلومات السكانية كبقية دول العالم .

٢/ فسر ارتفاع معدلات النمو السكاني في سلطنة عمان .

٣/ أكمل المخطط التالي لمصادر البيانات السكانية ؟



٤/ وضح نتائج هجرة السكان من الريف الى الحضر ؟

مهارة التعامل مع الخرائط ( خريطة سلطنة عمان )

ادرس الجدول و الخريطة التي يبين عدد السكان في محافظات السلطنة التي امامك ثم اجب عن الاسئلة التي تليها :-

المحافظة	عدد السكان
مسقط	١٣٩٥٤١٢
شمال الباطنة	٧١٩٣٠٩
الوسطى	٤٣٣٥٠
مسندم	٤٢٨٥٤
ظفار	٢٤٠٨٣٦

١/ ظلل على الخريطة المحافظة التي تحتل المرتبة الأولى

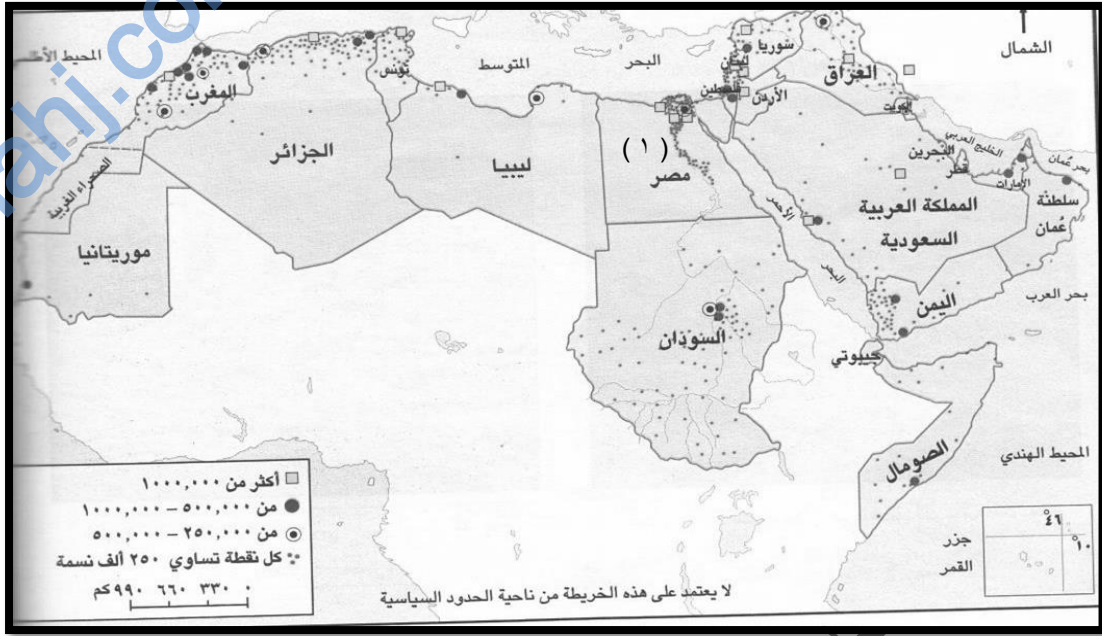
من حيث عدد السكان ؟

٢/ فسر انخفاض عدد السكان في المحافظة المشار لها بالرقم ( ١ ) .

٣/ رتب المحافظات ترتيبا تصاعديا من حيث عدد السكان ؟



ادرس خريطة الوطن العربي التي توضح توزيع السكان في الوطن العربي ثم اجب عن الاسئلة التالية :-



١/ فسر يتركز السكان في المنطقة المشار لها بالرقم ( ١ ) ؟

٢/ استنتج العوامل التي ساعدت على تركيز السكان في شمال دولة الجزائر و المغرب ؟

٣/ برأيك ما اسباب انخفاض عدد السكان في جنوب ليبيا و الجزائر ؟

٤/ برأيك ما أسباب تباين توزيع السكان في الوطن العربي ؟

اسئلة الاختياري :-

١/ تم إجراء أول تعداد سكاني في سلطنة عمان سنة :-

١٩٩٠ - ١٩٩١ - ١٩٩٢ - ١٩٩٣ -

٢/ يصنف النمو السكاني في الوطن العربي من معدلات النمو :-

- المرتفع - المنخفض - المتوسط - المعتدل

٣/ يصل عدد السكان عام ٢٠١٧م حسب بيانات المركز الوطني للإحصاء و المعلومات :-

- ٢.٥ مليون نسمة - ٣.٤ مليون نسمة - ٤.٦ مليون نسمة - ٥.٥ مليون نسمة

ثانيا : - ١ / ادرسي الصور التي أمامك ثم أجب عن الاسئلة التي تليها :-



٢



١

أ/ رقم الصورة التي توضح تركيز السكان بشكل كبير ؟

اختر الاجابة


٢

١

ب/ فسر اجابتك : .....

٢ / ادرس الصورة جيدا ثم اجب عن الاسئلة التي تليها :

أ) ما المشكلة السكانية التي توضحها الصورة ؟



ب) برأيك ما اسباب المشكلة السكانية ؟

ج) اقترحي حلول للحد من هذه المشكلة ؟


ج



# مصادر الطاقة في الوطن العربي



صنفي مصادر الطاقة الى طاقة ( متجددة أو غير متجددة ) أمام كل صورة من الصور الموضحة



.....

.....

أهمية  
الطاقة

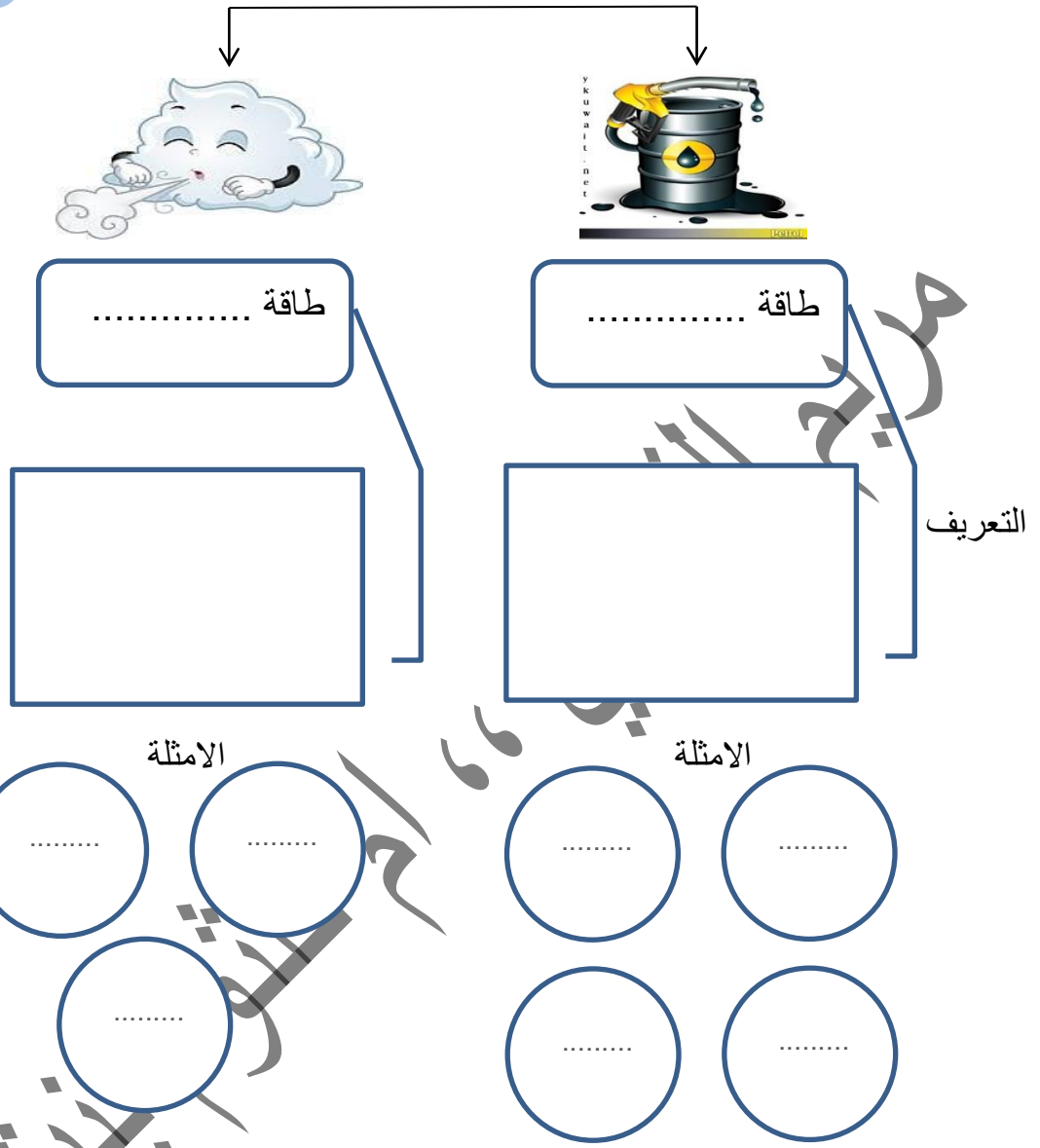


عرف مفهوم الطاقة ؟

.....

عقبه

أكمل الخريطة المفاهيمية التي توضح مصادر الطاقة ؟



اسئلة الاختياري :-

١/ أكثر دولة عربية انتاجا للنفط في عام ٢٠١٦ م :-

- السعودية - العراق - الكويت - الامارات

٢/ اسم المشروع في دولة المغرب لانتاج الطاقة الشمسية :-

- مرآة - مدينة مصدر - نور - طاقة



٢/ ظلل على الخريطة الدول التي اقامت مشروع مدينة مصدر للطاقة الشمسية .




٣/ بالرجوع الى الخريطة اكتب الارقام المناسب لاهم المشاريع في بعض الدول العربية ؟

اسم المشروع	رقم الدولة
مشروع مرآة	
مشروع نور	
مشروع حقل خزان	

اسئلة مقالية :

١/ فسر بعد الغاز الطبيعي من مصادر الطاقة المهمة في الوطن العربي .

٢/ ادرس الصور ثم استنتج اهم الاستخدامات للغاز الطبيعي ؟



## الانشطة الاقتصادية في الوطن العربي



اختر الاجابة الصحيحة من بين البدائل المعطاة :-

(١) أكثر المحاصيل الزراعية انتاجا في الوطن العربي :-



(د)



(ج)



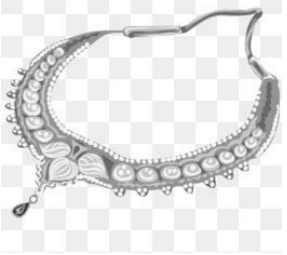
(ب)



(أ)

(٢) العام الذي تم تنفيذ فيه مشروع مليون نخلة حسب توجيهات جلال السلطان قابوس المعظم :-  
أ- ٢٠٠٨ م      ب- ٢٠٠٩ م      ج- ٢٠١٠ م      د- ٢٠١١ م


(٣) الصورة التي توضح المادة الخام النباتية :-




(د)



(ج)



(ب)



(أ)

(٤) تغير شكل وطبيعة المواد الخام الى شكل آخر تلبية لحاجات الانسان :-

د- الصناعة

ج- السياحة

ب- المادة الخام

أ- الطاقة

السؤال الثاني :- أجب عن الاسئلة التالية :-

١/ فسر العبارات التالية : أ- تعد السياحة من الانشطة الاقتصادية المهمة في الوطن العربي .

ب- تتنوع المقومات السياحية في سلطنة عمان .

٢/ دلل على اهتمام جلال السلطان قابوس بن سعيد المعظم بالزراعة ؟

- أ- .....
- ب- .....

٣/ ادرس الجدول الذي يوضح المحاصيل الزراعية في بعض دول الوطن العربي :-

الإنتاج بالألف طن (عام ٢٠١٤م)					الدولة
الليمون	التمور	الطماطم	البطاطس	القمح	
٦	٣١٧	٧٥	٥	٣	سلطنة عُمان
٢٦	١٠	٥٩٤	٣٦٦	٣٩	الأردن
٢٥٥	٤٤١	٥٦٧	٣٤٧	١٩٢	السودان
٤٤	١٩٥	١٢٠٠	٣٨٥	١٥١٣	تونس

أ- استخراج من الجدول أكثر المحاصيل انتاجا في الدول التالية :-

- سلطنة عمان ..... الاردن .....
- السودان ..... تونس .....

ب- رتب ترتيبا تنازليا الدول الاكثر انتاجا لمحصول الطماطم ؟

- ١/ ..... / ٢ ..... / ٣ ..... / ٤ .....

ج- استنتج اسباب تنوع المحاصيل الزراعية في الوطن العربي ؟

.....

٤/ ادرس الصورة التي توضح احد المقومات السياحية في سلطنة عمان ثم اجب عن الاسئلة التي تليها :-

أ/ ما المقومات السياحية التي توضحها الصورة ؟

.....

ب/ اقترح مشاريع لتنمية الموقع السياحي ؟

.....

.....

ج/ وضح المقصود بالسياحة ؟

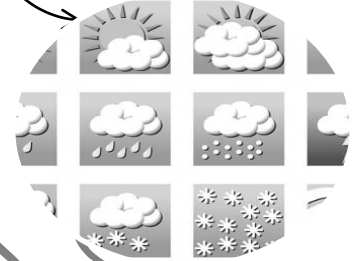

.....




السؤال الثالث : أستنتج من خلال الصور ما يلي :-

(أ)

عوامل الجذب السياحي في  
الوطن العربي




(ب)



أهمية الزراعة في الوطن العربي





١ / استنتج من خلال الصورة مفهوم المادة الخام ؟

.....  
.....  
.....

٢ / وضح المقصود بالصناعات البتروكيمياويات ؟

.....

٣ / صنف الصناعات التالية الى صناعات استخراجية وصناعات تحويلية ( تعليب الاسماك ، استخراج اللؤلؤ ، التنقيب عن النحاس ، صناعة الملابس ، ابواب المنازل ) .

صناعات تحويلية	صناعات استخراجية

٤ / عدد أهم الصناعات في الوطن العربي ؟

.....  
.....