

تم تحميل هذا الملف من موقع المناهج العُمانية



\* للحصول على أوراق عمل لجميع الصفوف وجميع المواد اضغط هنا

<https://almanahj.com/om>

\* للحصول على أوراق عمل لجميع مواد الصف الخامس اضغط هنا

<https://almanahj.com/om/5>

\* للحصول على جميع أوراق الصف الخامس في مادة اجتماعيات ولجميع الفصول, اضغط هنا

<https://almanahj.com/om/5social>

\* للحصول على أوراق عمل لجميع مواد الصف الخامس في مادة اجتماعيات الخاصة بـ الفصل الأول اضغط هنا

<https://almanahj.com/om/5social1>

\* لتحميل كتب جميع المواد في جميع الفصول للـ الصف الخامس اضغط هنا

<https://almanahj.com/om/grade5>

\* لتحميل جميع ملفات المدرس علي بن محمد الحسان اضغط هنا

للتحدث إلى بوت على تلغرام: اضغط هنا

[https://t.me/omcourse\\_bot](https://t.me/omcourse_bot)

**درس : موقع للوطن العربي****السؤال الأول : ضع علامة (✓) أو (X) أمام العبارة المناسبة مع تصحيح ما تحته خط إذا كانت العبارة خطأ .**

- ١- ( X ) دوائر العرض وخطوط الطول هي خطوط حقيقية . " وهمية " (١٢)
- ٢- ( X ) تقع سلطنة عمان من الوطن العربي في أقصى الشمال . (١٧) الشرق
- ٣- ( X ) تشرف سلطنة عمان على مدخل الخليج العربي عبر مضيق باب المنذب . (١٧) " هرمز "
- ٤- ( ✓ ) يمر بسلطنة عمان مدار السرطان . (١٧)

**السؤال الثاني : ضع دائرة حول الإجابة الصحيحة من بين البدائل المعطاه .**

- ١- تبلغ مساحة الوطن العربي حوالي (١١)  
( ١٣,٥ - ١٤,٥ - ١٥,٥ ) مليون كم ٢
- ٢- يضم الوطن العربي ..... دولة عربية . (١١)  
( ٢٠ - ٢١ - ٢٢ ) دولة عربية
- ٣- دوائر العرض هي دوائر مكتملة يبلغ عددها (١٣)  
( ١٨٠ - ١٦٠ - ١٤٠ )
- ٤- خطوط الطول عبارة عن أنصاف دوائر يبلغ عددها (١٣)  
( ٣٨٠ - ٣٦٠ - ٣٤٠ )
- ٥- درجة دائرة الإستواء وخط غرينتش هو (١٣)  
( صفر - ١٠ - ٢٠ )

**السؤال الثالث " أكمل مايلي بعبارات مناسبة من عندك .**

- ١- يعيش العرب على مساحة واسعة من الأرض تعرف بـ الوطن العربي (١٠)
- ٢- تقسم دائرة العرض الرئيسية " الإستواء " الكرة الأرضية إلى نصفين هما ١- نصف الكره الشمالي (١٣)  
٢- نصف الكرة الجنوبي
- ٣- يقسم خط الطول الرئيسي " غرينتش " الكرة الأرضية إلى قسمين هما ١- نصف الكرة الشرقي (١٣)  
٢- نصف الكرة الغربي
- ٤- المحيطان اللذان يطل عليهما الوطن العربي هما المحيط الأطلسي والمحيط الهندي . (١٠)
- ٥- البحار التي يطل عليها الوطن العربي بحر عمان وبحر العرب والبحر الأحمر والبحر المتوسط .
- ٦- المضائق والممرات التي يشرف عليها الوطن العربي مضيق هرمز ومضيق باب المنذب ومضيق جبل طارق .

**السؤال الرابع : اجب عن الأسئلة التالية :**

س ١ : ماهى القارات التى يقع فيها الوطن العربى ؟ (١٠)

ج ١ : قارة آسيا وإفريقيا

س ٢ : ما الفرق بين الموقع الجغرافى والموقع الفلكى ؟ (١٠-١٢)

ج ٢ : الموقع الجغرافى = يقصد به موقع المكان بالنسبة لليابس والماء .

الموقع الفلكى = يقصد به موقع المكان بالنسبة لخطوط الطول ودوائر العرض .

س ٣ : فى ماذا تفيدنا معرفة دوائر العرض وخطوط الطول ؟ (١٣)

ج ٣ : دوائر العرض تفيدنا فى تحديد المواقع

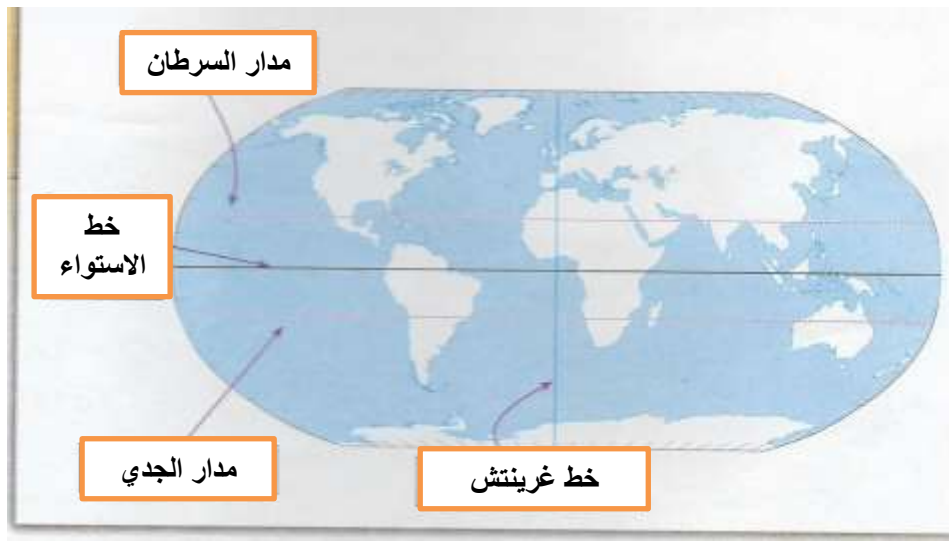
وخطوط الطول تفيدنا فى معرفة التوقيت

**السؤال الخامس : ( لموقع الوطن العربى أهمية كبيرة ) : أكمل الجدول التالى : (١٨)**

أهمية موقع الوطن		
جغرافيا	اقتصاديا	حضاريا
يعتبر الوطن العربى حلقة وصل بين قارات آسيا وأوروبا وإفريقيا	ساعد موقع الوطن العربى على إقامة العلاقات التجارية مع العالم	سهل موقع الوطن العربى التواصل بين حضارات الوطن العربى والحضارات الأخرى فى العالم

**السؤال السادس : من خلال الخريطة التى أمامك ضع البيانات التالية فى أماكنها الصحيحة**

( دائرة الإستواء - مدار السرطان - مدار الجدي - خط غرينتش )



**درس : تضاريس الوطن العربي****السؤال الأول : ضع علامة (✓) أو (X) أمام العبارة المناسبة مع تصحيح ما تحته خط إذا كانت العبارة خطأ.**

- ١- ( X ) تغطي الصحاري مساحات متوسطة من أراضي الوطن العربي . ( ٢٥ ) كبيرة
- ٢- ( X ) يستخرج النفط في الوقت الحاضر في سلطنة عمان من هضاب محافظة مسقط . ( ٢٧ ) الوسطى
- ٣- ( ✓ ) يختلف نمط حياة السكان في المناطق الجبلية عنه في المناطق السهلية أو المنخفضة . ( ٢٩ )
- ٤- ( ✓ ) بعض الجبال يزيد ارتفاعها عن ٤٠٠٠ متر مثل جبل طبقال في المغرب . ( ٢٨ )

**السؤال الثاني : ضع دائرة حول الإجابة الصحيحة من بين البدائل المعطاه**

- ١- من أشهر السهول الساحلية في سلطنة عمان سهل ( ٢١ )  
( الباطنة - جريبب - مسقط )
- ٢- تستغل السهول الساحلية منذ القدم في . ( ٢٢ )  
( الصناعة - الزراعة - التجارة )
- ٣- الأراضي المنبسطة الواسعة المساحة وقليلة الانحدار يطلق عليها ( ٢١ )  
( السهول - الهضاب - الجبال )
- ٤- عبارة عن تكوينات فيضية تترسب عند مصبات الأنهار ( ٢٣ )  
( السهول - الدلتا - الهضاب )
- ٥- من أبرز أنواع الصحاري إنتشاراً في الوطن العربي مايسمى بالصحاري ( ٢٥ )  
( الحجرية - الحصوية - الرملية )
- ٦- الذي يؤثر في شكل الكثبان الرملية وأحجامها هي ( ٢٦ )  
( الامطار - الانهار - الرياح )

**السؤال الثالث : أكمل مايلي بكلمات مناسبة من عندك**

- ١- تتنوع التضاريس في الوطن العربي لأسباب عدة منها موقعه الجغرافي وإتساع مساحته . ( ٢٠ )
- ٢- يدل اللون الأخضر في الخريطة على السهول . ( ٢٠ )
- ٣- يعبر عن الجبال في الخريطة باللون البني . ( ٢٠ )
- ٤- من أشهر الدلتا في الوطن العربي دلتا نهر النيل على ساحل البحر المتوسط ودلتا نهر دجلة والفرات على ساحل الخليج العربي ( ٢٣ )
- ٥- من أشهر السهول الداخلية في سلطنة عمان توجد في محافظتي الظاهرة والداخلية . ( ٢٤ )
- ٦- من أبرز أنواع الصحاري إنتشاراً في الوطن العربي صحراء الربع الخالي في شبه الجزيرة العربية والصحراء الكبرى في شمالي إفريقيا. ( ٢٥ )
- ٧- تنتشر الصحاري الرملية في أنحاء مختلفة من سلطنة عمان أهمها الربع الخالي ورمال الشرقية . ( ٢٥ )
- ٨- من أهم الأشكال الرملية التي تظهر في الصحاري العربية الكثبان الهلالية والكثبان الطولية . ( ٢٦ )
- ٩- يمارس السكان في هضبة اليمن الزراعة والرعي . ( ٢٧ )
- ١٠- من أشهر السلاسل الجبلية في سلطنة عمان سلسلة جبال ظفار وجبال الحجر . ( ٢٨ )
- ١١- استخدم سكان المناطق الجبلية المدرجات الزراعية مثل المدرجات الزراعية في اليمن ومدرجات الجبل الأخضر في سلطنة عمان. ( ٢٩ )

**السؤال الرابع : أكمل الفراغ بالكلمات المناسبة لها من بين القوسين :**

( الواحات الزراعية - النفط - الزراعة والرعي ) ( ٢٧ )

من الهضاب في الوطن العربي هضبة حضرموت التي يمارس السكان فيها الزراعة والرعي وهضبة نجد وتنتشر فيها الواحات الزراعية وهضاب محافظة الوسطى في سلطنة عمان التي يستخرج منها النفط .

**السؤال الخامس : علل " أذكر السبب "**

س ١ : " استغلت السهول الساحلية منذ القدم في الزراعة " ؟ ( ٢٢ )  
ج ١ : بسبب خصوبة تربتها

س ٢ : تركز السكان في الوطن العربي على ضفاف الأنهار ومناطق الدلتا ؟ ( ٢٣ )  
ج ٢ : بسبب خصوبة التربة ووفرة المياه

س ٣ : " تتميز السهول الداخلية عموماً بإنخفاض عدد السكان " ( ٢٤ )  
ج ٣ : بسبب الجفاف وقلة الأمطار

**السؤال السادس : اجب عن الأسئلة التالية :**

س ١ : ماهي أشكال التضاريس الرئيسية في الوطن العربي ؟ ( ٢٠ )  
ج ١ : السهول - الجبال - الصحاري - الهضاب - الأنهار

س ٢ : " يوجد في الوطن العربي عدة أنواع من السهول " أذكر أهم ثلاثة سهول ؟ ( ٢١ )  
ج ٢ : ١- السهول الساحلية ٢- السهول الرسوبية ( الفيضية ) ٣- السهول الداخلية

س ٣ : مم تتكون السهول الساحلية في الوطن العربي ؟ ( ٢٢ )  
ج ٣ : تتكون أما من مواد حصوية أو رملية أو طينية ترسبها البحار والأودية والأنهار الكبرى .

س ٤ : عرف الهضاب ؟ ( ٢٧ )  
ج ٤ : هي أراضي منبسطة " قليلة الإنحدار " ترتفع عما يجاورها من أراضي .

**درس : " مناخ الوطن العربي "****السؤال الأول : ضع علامة (✓) أو (X) أمام العبارة المناسبة مع تصحيح ما تحته خط إذا كانت العبارة خطأ.**

- ١- ( ✓ ) تعد المديرية العامة للأرصاد الجوية بالهيئة العامة للطيران المدني هي المسؤولة عن متابعة حالة الجو في السلطنة.
- ٢- ( ✓ ) يعد الجبل الأخضر في سلطنة عمان مثلاً واضحاً لمناخ البحر المتوسط . (٣٧)
- ٣- ( X ) عند سقوط الامطار في المناطق الصحراوية تكون غزيرة ولمدة طويلة من الزمن . (٣٨) قصيرة
- ٤- ( ✓ ) يطلق إسم النباتات الطبيعية على النباتات التي تنمو من تلقاء نفسها . (٥٢)
- ٥- ( ✓ ) تعد شجرة المسكيت من الأشجار الضارة بالبيئة حيث تقوم وزارة الزراعة بالتخلص منها . (٥٣)

**السؤال الثاني : ضع دائرة حول الإجابة الصحيحة من بين البدائل المعطاه**

- ١- متوسط حالة الجو لفترة زمنية طويلة قد تكون شهراً أو فصلاً أو سنةً أو أكثر ( الطقس - المناخ ) ( ٣١ )
- ٢- حالة الجو لفترة زمنية قصيرة لا تتجاوز عدة أيام فقط ( الطقس - المناخ ) . ( ٣١ )
- ٣- تقع المساحة الكبرى من الوطن العربي في المنطقة ( الحارة - المعتدلة ) ( ٣٢ )
- ٤- تقع سلطنة عمان في المنطقة ( الحارة - المعتدلة ) من العالم . ( ٣٢ )
- ٥- تتميز المناطق الجبلية بأنها ( أقل - أكثر ) حرارة من المناطق السهلية . ( ٣٣ )
- ٦- تتميز المناطق الساحلية صيفاً بأنها ( أقل - أكثر ) حرارة من المناطق الداخلية . ( ٣٣ )
- ٧- تعتبر الدول المطلة على البحر المتوسط مناطق ( طرد - جذب ) سياعي في فصل الصيف ( ٣٥ )
- ٨- يغطي المناخ الصحراوي مساحات ( كبيرة - صغيرة ) من أراضي الوطن العربي . ( ٣٨ )
- ٩- تسقط الأمطار في المناطق الموسمية في فصل ( الصيف - الشتاء ) . ( ٤٠ )
- ١٠ - أكثر المناطق الجبلية مطراً في فصل الصيف في سلطنة عمان ( الجبل الأخضر - جبال ظفار ) ( ٤١ )
- ١١ - يسمى موسم هطول الأمطار صيفاً على جبال محافظة ظفار محلياً باسم ( الخريف - الربيع ) ( ٤١ )

**السؤال الثالث : أكمل مايلي بكلمات مناسبة من عندك**

- ١- يساعد القرب من المسطحات المائية على تلطيف درجة حرارة الجو في المناطق الساحلية صيفاً . ( ٣٣ )
- ٢- المناطق المرتفعة تتميز باعتدال درجات الحرارة في فصل الصيف . ( ٣٣ )
- ٣- يتميز مناخ البحر المتوسط بأنه حار وجاف صيفاً ومعتدل ممطر شتاءً . ( ٣٥ )
- ٤- يتركز المناخ الصحراوي في الوطن العربي حول مدار السرطان . ( ٣٨ )
- ٥- يتميز المناخ الصحراوي بارتفاع درجات الحرارة ومعدلات التبخر في فصل الصيف . ( ٣٨ )
- ٦- ينتج من سقوط الأمطار الفجائية في الصحراء تكون أودية جارفة و فيضانات مدمرة . ( ٣٨ )
- ٧- تسقط الأمطار في المناطق الموسمية بين شهري يوليو و أغسطس . ( ٤٠ )
- ٨- يوجد المناخ الموسمي في سلطنة عمان في جبال ظفار . ( ٤٠ )

**السؤال الرابع : علل " اذكر السبب " :**

س ١ : تنشط السياحة في دول البحر المتوسط في فصل الصيف . ( ٣٥ )  
 ج ١ : نتيجة لأعتدال درجات الحرارة ومناخها اللطيف .

س ١ : تسمية مناخ البحر المتوسط بهذا الإسم . ( ٣٥ )  
 ج ١ : لأن دوله تطل على البحر المتوسط .

**السؤال الخامس : اجب عن الأسئلة التالية :**

س ١ : " يمكن متابعة حالة الطقس عن طريق عدة وسائل " أذكر ثلاث من هذه الوسائل ؟ ( ٣١ )  
 ج ١ : ١ - وسائل الإعلام ٢ - وسائل التواصل الاجتماعي ٣ - بعض تطبيقات التواصل الاجتماعي .

س ٢ : ماهي العوامل التي يتأثر بها المناخ في الوطن العربي . ( ٣٢ )  
 ج ٢ : الموقع الفلكي - توزيع اليابس والماء - التضاريس

س ٣ : يسود في الوطن العربي عدة أنواع من المناخ " أذكر أنواع المناخ في الوطن العربي ؟ ( ٣٥ )  
 ج ٣ : مناخ البحر المتوسط - المناخ الصحراوي - المناخ الموسمي

س ٤ : " يظهر المناخ الموسمي في مناطق محدودة من الوطن العربي " أذكر هذه المناطق ؟ ( ٤٠ )  
 ج ٤ : جبال ظفار في سلطنة عمان - هضبة اليمن - جبال عسير بالسعودية

**درس : " الموارد الطبيعية في الوطن العربي "****السؤال الأول : ضع علامة (✓) أو (X) أمام العبارة المناسبة مع تصحيح ما تحته خط إذا كانت العبارة خطأ.**

- ١- ( X ) معظم المجاري المائية السطحية في الوطن العربي دائمة الجريان . (٤٤) مؤقتة
- ٢- ( ✓ ) يطلق على المجاري المائية مؤقتة الجريان إسم الأودية . (٤٤)
- ٣- ( ✓ ) تتكون الموارد المائية الطبيعية من المياه السطحية والمياه الجوفية . (٤٤)
- ٤- ( ✓ ) الطبقة المفتتة من قشرة الأرض التي ينمو فيها النبات تسمى التربة . (٤٨)

**السؤال الثاني : ضع دائرة حول الإجابة الصحيحة من بين البدائل المعطاه**

- ١- يعاني الوطن العربي من ( وفرة - نقص ) في الموارد المائية . (٤٧)
- ٢- تمثل المياه ( الجوفية - السطحية ) مصدراً مهماً للمياه في الوطن العربي . (٤٦)
- ٣- تعتبر تربة الواحات من أفضل أنواع التربة الصحراوية حيث تنتشر فيها زراعة ( النارجيل - النخيل ) . (٤٩)

**السؤال الثالث : أكمل ماييلي بكلمات مناسبة من عندك**




- ١- يوجد في الوطن العربي مجاري مائية دائمة الجريان كنهر النيل في مصر ونهر دجلة والفرات في العراق . (٤٤)
- ٢- من الموارد المائية الجوفية في سلطنة عمان فلج الخطين بولاية نزوى وعين الكسفة بولاية الرستاق . (٤٦)
- ٣- تختلف خصائص التربة من مكان لآخر بسبب اختلاف المواد الصخرية والمواد العضوية التي تدخل في تكوينها . (٤٨)

**السؤال الرابع : صل بخط بين ماييلي :****١- صل بخط بين العمود الأول ومايناسبه من العمود الثاني**

العمود الأول	العمود الثاني
الإنجراف	فقدان التربة لخصوبتها بسبب كثرة إستخدامها في الزراعة
المادة العضوية	هي إحدى مكونات التربة ويرجع أصلها إلى بقايا نباتية أو حيوانية
تدهور خصوبة التربة	نقل التربة من مكان إلى آخر بفعل جريان المياه السطحية



**٢- صل بخط بين نوع التربة في العمود الأول وصورتها في العمود الثاني :**

الصورة	نوع التربة
	التربة الصحراوية
	تربة البحر المتوسط
	التربة الفيضية

٣- ضع الرقم المناسب من الكلمات التالية تحت الصورة الدالة عليه ( مثال : السد العالي )

١	السد العالي في مصر	٣	تدهور خصوبة التربة	٥	شجرة الصنوبر
٢	عين الكسفة في الرستاق	٤	انجراف التربة بفعل المياه	٦	حشائش السافانا

		
١	٥	٣

		
٢	٤	٦

**السؤال الخامس : علل " أذكر السبب "**

١- أقيمت السدود على الإنهار والأودية . (٤٤)  
من أجل إستغلال مياهها في فترات الجفاف للزراعة والتوسع الصناعي

٢- يعاني الوطن العربي من مشكلة نقص المياه ؟ (٤٧)  
١- سيادة المناخ الصحراوي ٢- زيادة الإستهلاك

٣- تفتقر التربة الصحراوية للعناصر الغذائية ؟ (٤٩)  
بسبب ارتفاع نسبة الأملاح فيها

٤- تعتبر التربة الفيضية تربة خصبة صالحة للزراعة ؟ (٤٩)  
لأنها غنية بالمواد العضوية والمعدنية

٥: تسمم النباتات الطبيعية بهذا الاسم ؟ (٥٢)  
لأنها تنمو على سطح الأرض من تلقاء نفسها .

٦- تختلف النباتات الطبيعية في الوطن العربي من منطقة لأخرى ؟ (٥٢)  
حسب المناخ السائد وخصائص التربة

٧- تتميز النباتات المدارية بغاباتها الكثيفة وأعشابها الطويلة ؟ (٥٣)  
بسبب ارتفاع معدلات سقوط الأمطار

**السؤال السادس : اجب عن الأسئلة التالية :**

س ١: " السد العالي هو سد مائي على نهر النيل في جنوب مصر " لماذا أنشئ هذا السد (٤٥)  
ج ١: أنشئ هذا السد للتحكم في فيضان النهر ولتوليد الطاقة الكهربائية .

س ٢: ماذا فعلت دول الخليج العربي لسد نقص المياه لديها ؟ (٤٧)  
ج ٢: ١- تحلية مياه البحر ٢- معالجة مياه الصرف الصحي

س ٣: " تتعرض التربة في الوطن العربي للعديد من المشكلات " أذكر ثلاث من هذه المشكلات ؟ (٥١-٥٠)  
ج ٣: ١- الإنجراف ٢- التملح ٣- تدهور خصوبة التربة

س ٤: تصنف النباتات الطبيعية في الوطن العربي إلى ثلاث أنواع رئيسية أذكرها ؟ (٥٣-٥٢)  
ج ٤: ١- نباتات البحر المتوسط ٢- النباتات الصحراوية ٣- النباتات المدارية

س ٥: " تتعرض النباتات الطبيعية في الوطن العربي للعديد من المشكلات " أذكر ثلاث من هذه المشكلات ؟ (٥٤)  
ج ٥: الحرائق - الرعي الجائر - الزراعة غير المنظمة - قطع الأشجار والشجيرات

س ٦: ماهي أسباب ارتفاع نسبة الأملاح في التربة ؟ (٥١)  
ج ٦: بسبب : ١- ارتفاع معدلات التبخر ٢- قلة الأمطار ٣- زيادة الإستهلاك

رسوم وتوضيحات مهمة

